

Шифр

10	-	6																	
----	---	---	--	--	--	--	--	--	--	--	--	--	--	--	--	--	--	--	--

**Всероссийская олимпиада школьников по географии
школьный этап 2022-2023 учебный год
10 класс**

ЛИСТ ОТВЕТОВ

Участник олимпиады	
Фамилия	Орлин
Имя	Александр
Отчество	Дмитриевич

Баллы

№ задания	1	2	3	4	Тесты
Количество баллов	8	3	8,5	3	16,5
Подпись члена жюри					
Сумма баллов и подпись председателя					

Шифр

10	-	6																	
----	---	---	--	--	--	--	--	--	--	--	--	--	--	--	--	--	--	--	--

**Всероссийская олимпиада школьников по географии
школьный этап 2022-2023 учебный год**

10 класс

Бланк ответов учащегося для заданий тестового тура

№ вопроса	Правильный ответ (элементы ответа)	
1.	А-3 Б-2 В-4 Г-1 территория, мексика, малаккский пролив	15
2.	А-3 Б-2 В-4 Г-1	2
3.	В	+
4.	Б	+
5.	Г	+
6.	Б	+
7.	В	+
8.	В	-
9.	В	+
10.	Б	+
11.	Б	-
12.	А	-
13.	Б	-
14.	Б	-
15.	А	+
16.	В	+
17.	Б	-
18.	Г	+
19.	А + + + + +	+
20.	1-А 2-Б 3-Д 4-В 5-Г	2,5

Тайфуш

16,5

Шифр

10	-	6																
----	---	---	--	--	--	--	--	--	--	--	--	--	--	--	--	--	--	--

Теоретический тур

Задание № 1. «Родина футбольных клубов»

№	Ответ	
	Клуб	Город
1.	«Шинник»	Красноярск Ярославль
2.	«Арсенал»	ТУЛА
3	«Нефтехимик»	Набережные Челны
4	«Уралмаш»	Екатеринбург
5	«Океан»	НАХОДКА
6	«Металлург»	Магнитогорск
7	«Самотлор»	Кинешевартовск
8	«КамАЗ»	Нижнекамск
9	«Енисей»	Красноярск
10	«Алания»	Владикавказ

85

Шифр

10	-	6																	
----	---	---	--	--	--	--	--	--	--	--	--	--	--	--	--	--	--	--	--

Задание № 2. «Историческая география»





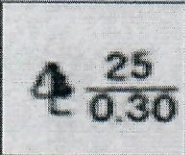
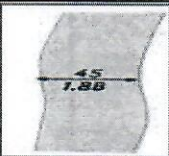

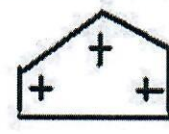
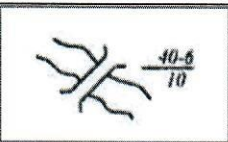

№		Ответ
1.	<i>Запишите имя натуралиста, о котором говорится в Указе президента РФ?</i>	Гренев
2.	<i>Какую горную систему на территории Хабаровского края изучал путешественник?</i>	Соломс-Линь
3	<i>В качестве кого совершил первые свои экспедиции по югу Дальнего Востока?</i>	Исследователя
4	<i>Кто был кумиром путешественника, очерки которого были первыми настольными книгами об Уссурийском крае?</i>	Пржевальский
5	<i>Чтобы сохранить муку в тайге от сырости нужно мешок с мукой ...</i>	

3

Шифр

10	-	6																
----	---	---	--	--	--	--	--	--	--	--	--	--	--	--	--	--	--	--

Задание № 3. «Топографическое»

Условный знак на топографической карте	Название условного знака (цифровые обозначения)	Номер объекта на Рисунке (если обозначен)
	лес хвойный	0,5
	мошса	—
	Рассыпанная лиственная	—
	Церковь	2 1
	гребень (дерёзка)	1
	Речка 45-ширина 1,88-ср. глубина	4 20
	лука	3 1
		
	мост 40- длина ^{длина} 6-ширина 10-пропускная способность	5 2,5
	Отдельное стоящее дерево (хвойное)	1,5 0,5

8,5

Шифр

10	-	6																
----	---	---	--	--	--	--	--	--	--	--	--	--	--	--	--	--	--	--

Задание № 4. «Путешествие по Транссибу»

№	Город	Реки	Природная зона	Субъект РФ	Экономический район
1.	Белово		Смешанные леса		Центральный
2.	Дзержинск Ижевск		Смешанные леса		Западный
3.	Тюмень		Тайга		Восточный
4.	Новосибирск		Лесостепь	Новосибирская область	Восточный
5.	Улан-Удэ		Тайга	Республика Бурятия	Восточный
6.	Казань	Амур	Тайга	Казанский край	Дальний Восток

+ + + + +

3