

Шифр

9	-	6																	
---	---	---	--	--	--	--	--	--	--	--	--	--	--	--	--	--	--	--	--

**Всероссийская олимпиада школьников по географии
школьный этап 2022-2023 учебный год**

9 класс

ЛИСТ ОТВЕТОВ

Участник олимпиады	
Фамилия	<i>Мильо</i>
Имя	<i>Виктор</i>
Отчество	<i>Владимирович</i>

№ задания	Баллы				Тесты
	1	2	3	4	
Количество баллов	<i>5</i>	<i>6</i>	<i>3,25</i>	<i>3,5</i>	<i>18</i>
Подпись члена жюри					
Сумма баллов и подпись председателя					<i>52%</i>

33,75%

Шифр

9	-	6																
---	---	---	--	--	--	--	--	--	--	--	--	--	--	--	--	--	--	--

**Всероссийская олимпиада школьников по географии
школьный этап 2022-2023 учебный год
9 класс**

**Лист ответов
Тестовый тур**

№	Ответ
1	В В 10.
2	Б 10.
3	В 10.
4	Б 0,5.
5	Г 10.
6	Б 10.
7	Г 0,5.
8	А 10.
9	Г 10.
10	Г 0,5.
11	Г 10.
12	А 10.
13	1-А 2-В 3-Г 4-Б 5-Б А 0,5
14	1- ^{0,5} А; 2- ^{0,5} В; 3- ⁰ А; 4- ⁰ Г; 5- ^{0,5} Б 1,50.
15	В 0,5.
16	А Г Б В А 0,5
17	А Б Г А А В Б Г 2,50.

Шифр

9	-	6																	
---	---	---	--	--	--	--	--	--	--	--	--	--	--	--	--	--	--	--	--

18	1- <u>II</u> ^{0,5}	2- ⁰ N	3- ⁰ V	4- <u>III</u> ⁰	5- ^{0,5} I	18.
19	1- BA ^{0,5}	2- ^{0,5} A	3- ^{0,5} Г	4- ^{0,5} B	5- ^{0,5} Б	2,5
20	BA - ^{0,5} 3-	⁰ <u>V</u>	B- ^{0,5} 5-	^{0,5} IV	Г- ^{0,5} Б - <u>II</u>	1,5

A - 1 - III

Теоретический тур






Задание № 1. «Космический снимок»

№	Вопрос	Ответ
1	Как называется этот искусственный гидрографический объект?	Суэцкий канал 10.
2	Какие части света он разъединяет?	Африку и Азию 0.
3	Какие водные объекты он соединяет?	Атлантический и Индийский Средиземное море и Индийский океан Красное море 10.
4	Какие города расположены на берегу объекта?	Суэц и Каир 0
5	На территории какого государства расположен этот гидрографический объект?	Египет 1
6	Столица государства, на территории которого расположен этот гидрографический объект?	Каир 10.
7	Почему этот объект без шлюзов?	Уровень бассейна Красного моря почти не ниже среднего уровня моря 10.

Шифр

9	-	6																	
---	---	---	--	--	--	--	--	--	--	--	--	--	--	--	--	--	--	--	--

Задание № 2. «Картографическое»

Контур озера	Название	Материк	Происхождение	Сведения
10 А 	Каспийское море 0,5	Евразия	Остаточное 0,5	Уровень озера находится ниже уровня Мирового океана. Оно расположено преимущественно в зонах полупустынь и пустынь внутренней области материка
0,5 Б 	Виктория 0,5	Юж. Америка 0	Остаточное 0	На территории озера находятся знаменитые заповедники и национальные парки. Наиболее интересен национальный парк острова Рубондо.
10 В 	Фрэнсис 0,5	Евразия 0,5	Остаточное	В течение своей истории оно неоднократно претерпело трансгрессии и регрессии — увеличения и последующие усыхания
0,5 Г 	Танганьика ТАНГАНЬИКА 0	Африка	Лептотермическая 0,5	В Республике Малави, которой принадлежит большая часть побережья, оно официально называется Малави, по названию страны и этнической группы. В Танзании и Мозамбике используется географическое название.
	0	0	0	Пятое по величине озеро материка. Оно

Шифр

9	-	6																		
---	---	---	--	--	--	--	--	--	--	--	--	--	--	--	--	--	--	--	--	--

0,5 Д	Онтарио	Сев. Америка 0,5	механический 0	связано с оз. Эри рекой, на которой находится знаменитый водопад
0,5 Е	0	Европа 0,5	Ледниково-тектоническое	С сентября 1941г. по март 1943г. действовала «Дорога жизни». Она связывала находящийся в блокаде г. Ленинград с остальной территорией страны.

№	Вопрос	Ответ
1.	Берега каких пяти стран омывает озеро А?	Россия, Турция, Украина, Венгрия, Абхазия 0,5
2.	В честь кого названо озеро Б?	в честь королевы Виктории 0,5
3.	Какая деятельность человека ускорило усыхание озера В?	выращивание хлопка
4.	Какое озеро мира называют сестрой озера Г?	Байкал 0,5
5.	Назовите водопад на реке, которая связывает оз. Д и оз. Эри?	0
6.	Как назывался водный путь, проходящий по озеру Е из Скандинавии через Восточную Европу в Византию с IX века?	Восточный путь Варяги в Греки 0,5

Шифр



9	-	6																
---	---	---	--	--	--	--	--	--	--	--	--	--	--	--	--	--	--	--

Задание № 3. «Топографическое»

Условный знак на топографической карте	Название условного знака	Номер объекта на Рисунке (если обозначен)	Расшифровка текстовых подписей условных знаков
	лес	1	лес, лес ^{0,5}
	мост	5	мост ⁰
	болото		0
	дорожная мельница		0
			0
	река ^{0,5} ширина реки	^{0,5} 4	0,25 ^{1,25} ширина реки
	края ⁰ каменисто- голея (края)	3 ^{0,5}	края - ^{0,5}
	деревь	2	деревь ⁰

Шифр

9	-	6																	
---	---	---	--	--	--	--	--	--	--	--	--	--	--	--	--	--	--	--	--

	Москва 25	505	
	березы ^{мало} мелк ^{много}		

Ореховое
дерево

Задание № 4. «Историческая география»

Вопрос	Ответ
1. Назовите имя натуралиста, о котором говорится в Указе президента РФ?	Аренев 10.
2. В качестве кого совершил первые свои экспедиции по югу Дальнего Востока?	Военный Военный 10.
3. Перед вами памятник на сопке Увальной. В каком городе он возведен?	Аренев 10.
4. Какие книги написал путешественник, в честь которого разработан фирменный знак, и с какой целью?	Василий Семенович Майн 25
5. Запишите фамилию норвежского путешественника	Осен 0