

Шифр

9	-	9																	
---	---	---	--	--	--	--	--	--	--	--	--	--	--	--	--	--	--	--	--

Всероссийская олимпиада школьников по географии
школьный этап 2022-2023 учебный год

9 класс

ЛИСТ ОТВЕТОВ

Участник олимпиады	
Фамилия	Линан
Имя	Виктор
Отчество	Жукалович

№ задания	Баллы				Тесты
	1	2	3	4	
Количество баллов	6,5	8,5	4,5	4	20,75
Подпись члена жюри					
Сумма баллов и подпись председателя	44,25 169%				

Шифр

9	-	9																	
---	---	---	--	--	--	--	--	--	--	--	--	--	--	--	--	--	--	--	--

**Всероссийская олимпиада школьников по географии
школьный этап 2022-2023 учебный год**

9 класс

**Лист ответов
Тестовый тур**

№	Ответ
1	B 1.
2	Б 1.
3	B 1.
4	Б 0
5	Г 1.
6	Б 1.
7	Г 0
8	A 1.
9	Г 1.
10	Г 0
11	Г 1.
12	A 1
13	A 0
14	1-Д ; 2-Б ; 3-Г ; 4-А ; 5-Б
15	Д 0,5
16	А В Б Г 0
17	А А В Б Г 2,5

Шифр

9	-	0																		
18	$7-6-11; 2-12-13-14; 4-5-III; 5-A-I$ <small>0,5 0,5 0,25 0,25 0,5</small>																			
19	$7-A; 2-12; 3-5; 4-B; 5-6$ <small>2,5</small>																			
20	$A-2-I; B-5-14; 5; 7-4-II; 7-7-II$ <small>0,5 0,5 0,5 0,25</small> <small>1,75</small>																			

Шифр


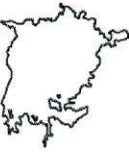



9	-	9																	
---	---	---	--	--	--	--	--	--	--	--	--	--	--	--	--	--	--	--	--

Теоретический тур


Задание № 1. «Космический снимок»

№	Вопрос	Ответ
1	Как называется этот искусственный гидрографический объект?	Суэцкий канал 1
2	Какие части света он разъединяет?	Африку и Евразию (Азию) 1
3	Какие водные объекты он соединяет?	Красное море и Средиземное 1
4	Какие города расположены на берегу объекта?	Суэц, Канр 0,5
5	На территории какого государства расположен этот гидрографический объект?	Египет 1
6	Столица государства, на территории которого расположен этот гидрографический объект?	Канр 1
7	Почему этот объект без шлюзов?	Уровни Красного и Средиземного моря равны 1

Задание № 2. «Картографическое»

Контур озера	Название	Материк	Происхождение	Сведения
 А	Каспийское 0,5	Евразия	Остаточное 0,5	Уровень озера находится ниже уровня Мирового океана. Оно расположено преимущественно в зонах полупустынь и пустынь внутренней области материка
 Б	Виктория 0,5	Африка 0,5	Остаточное 0	На территории озера находятся знаменитые заповедники и национальные парки. Наиболее интересен национальный парк острова Рубондо.
 В	Аральское 0,5	Евразия 0,5	Остаточное	В течение своей истории оно неоднократно претерпевало трансгрессии и регрессии — увеличения и последующие усыхания
 Г	Танганьика 0	Африка	Тектоническая 0,5	В Республике Малави, которой принадлежит большая часть побережья, оно официально называется Малави, по названию страны и этнической группы. В Танзании и Мозамбике используется географическое название.
				Пятое по величине озеро материка. Оно

Шифр





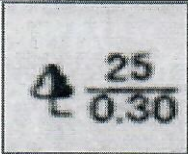
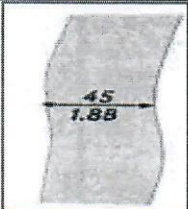

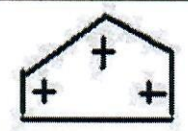
9	-	9																		
Д	Онтарио	Северная Америка 0,5	Ледниково-Тектоническое 0	связано с оз. Эри рекой, на которой находится знаменитый водопад																
Е	 Ладига-скел 0,5	Евразия 0,5	Ледниково-тектоническое	С сентября 1941г. по март 1943г. действовала «Дорога жизни». Она связывала находящийся в блокаде г. Ленинград с остальной территорией страны.																

№	Вопрос	Ответ
1.	Берега каких пяти стран омывает озеро А?	Казахстан, Россия, Азербайджан, Иран, Туркменистан 0,5
2.	В честь кого названо озеро Б?	В честь водопада Виктория 0
3.	Какая деятельность человека ускорило усыхание озера В?	Выращивание хлопчатника (ирригация) 0,5
4.	Какое озеро мира называют сестрой озера Г?	
5.	Назовите водопад на реке, которая связывает оз. Д и оз. Эри?	
6.	Как назывался водный путь, проходящий по озеру Е из Скандинавии через Восточную Европу в Византию с IX века?	Из Варяг в Греки 0,5



Шифр

9	-	9																
---	---	---	--	--	--	--	--	--	--	--	--	--	--	--	--	--	--	--

Задание № 3. «Топографическое»

Условный знак на топографической карте	Название условного знака	Номер объекта на Рисунке (если обозначен)	Расшифровка текстовых подписей условных знаков
	Несколько хвойных деревьев 0,5		хвойный лес
	Мост 0	1	мост
	Ферма 0		Ферма
	Мельница 0		мельница
	Одиночное стальное дерево 0,5	7 0,5	одиночное стальное дерево 0
	река 0,5	4 0,5	Река
	поле 0	3 0,5	поле
	Церковь 0	2	Церковь

Шифр

9	-	9																	
		мост 0,5		5 0,5		мост													
		одностовая лиственничное деревцо 0,5				одностовое хвойное деревцо													

Задание № 4. «Историческая география»

Вопрос	Ответ
1. Назовите имя натуралиста, о котором говорится в Указе президента РФ?	Арсеньев 1
2. В качестве кого совершил первые свои экспедиции по югу Дальнего Востока?	Военный сапёр 0
3. Перед вами памятник на сопке Увальной. В каком городе он возведен?	Арсеньев 1
4. Какие книги написал путешественник, в честь которого разработан фирменный знак, и с какой целью?	В джунгли Сибирской тайги уссурийской тайги Деревцо Деревцо Увала 2
5. Запишите фамилию норвежского путешественника	Т. Ам 0