

Шифр

9	-	8																	
---	---	---	--	--	--	--	--	--	--	--	--	--	--	--	--	--	--	--	--

**Всероссийская олимпиада школьников по географии  
школьный этап 2022-2023 учебный год**

**9 класс**

**ЛИСТ ОТВЕТОВ**

Участник олимпиады	
<b>Фамилия</b>	Горбунова
<b>Имя</b>	Арина
<b>Отчество</b>	Александровна

**Баллы**

№ задания	1	2	3	4	Тесты
<b>Количество баллов</b>	6,5	3	4	0	20,25
<b>Подпись члена жюри</b>					
<b>Сумма баллов и подпись председателя</b>	33,75 / 52%				

Шифр

9	-	8																	
---	---	---	--	--	--	--	--	--	--	--	--	--	--	--	--	--	--	--	--

**Всероссийская олимпиада школьников по географии  
школьный этап 2022-2023 учебный год**

**9 класс**

**Лист ответов**

**Тестовый тур**

№	Ответ	
1	В) 1.	
2	Б) 1.	
3	Б) 0	
4	В) 1.	
5	А) 0	
6	Б) 1.	
7	В) 0	
8	Б) 0	
9	Г) 1.	
10	Г) 0	
11	Г) 1.	
12	А) 1.	
13	А) 0	
14	1-А 2-В 3-Г 4-А 5-Б	2,5
15	А; А	1
16	АГВБА	1,5
17	ААВБГ	2,5



## Теоретический тур






## Задание № 1. «Космический снимок»

№	Вопрос	Ответ
1	Как называется этот искусственный гидрографический объект?	Суэцкий канал, 1
2	Какие части света он разъединяет?	Африка и Европа Азия 0,5
3	Какие водные объекты он соединяет?	Средиземное море и Красное море 1
4	Какие города расположены на берегу объекта?	порты: порт-Саид; порт Суэц города: Каир, Эр-Рияд 1.
5	На территории какого государства расположен этот гидрографический объект?	Египет 1
6	Столица государства, на территории которого расположен этот гидрографический объект?	Каир 1
7	Почему этот объект без шлюзов?	1. потому что шлюзы будут мешать проходу водного транспорта 1


Шифр

9	-	8																
---	---	---	--	--	--	--	--	--	--	--	--	--	--	--	--	--	--	--

## Задание № 2. «Картографическое»

Контур озера	Название	Материк	Происхождение	Сведения
 А	Каспийское 0,5	Евразия	тектоническое 0	Уровень озера находится ниже уровня Мирового океана. Оно расположено преимущественно в зонах полупустынь и пустынь внутренней области материка
 Б		Южная Америка 0	ледниково-тектонич. 0	На территории озера находятся знаменитые заповедники и национальные парки. Наиболее интересен национальный парк острова Рубондо.
 В		Евразия 0,5	Остаточное	В течение своей истории оно неоднократно претерпело трансгрессии и регрессии — увеличения и последующие усыхания
 Г	Виктория 0	Африка	<del>остаточное</del> тектоническое 0,5	В Республике Малави, которой принадлежит большая часть побережья, оно официально называется Малави, по названию страны и этнической группы. В Танзании и Мозамбике используется географическое название.
				Пятое по величине озеро материка. Оно

Шифр





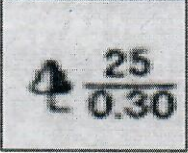
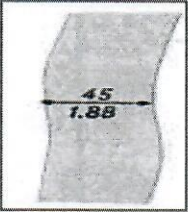

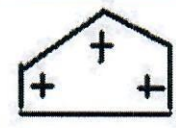
9	-	8																
Д		Онтарио	Северная Америка 0,5	Остаточное 0	связано с оз. Эри рекой, на которой находится знаменитый водопад													
 Е		Онежское 0	Евразия 0,5	Ледниково-тектоническое	С сентября 1941г. по март 1943г. действовала «Дорога жизни». Она связывала находящийся в блокаде г. Ленинград с остальной территорией страны.													

№	Вопрос	Ответ
1.	Берега каких пяти стран омывает озеро А?	Украина, Белоруссия, Польша, Норвегия, <u>Россия</u> , Франция, Италия, Чехия, Португалия, Нидерланды, Швеция <span style="float: right;">0,5</span>
2.	В честь кого названо озеро Б?	В честь человека знаменитого —
3.	Какая деятельность человека ускорило усыхание озера В?	добыча полезн. ископаемых, мёртви —
4.	Какое озеро мира называют сестрой озера Г?	Елена —
5.	Назовите водопад на реке, которая связывает оз. Д и оз. Эри?	Виктория —
6.	Как назывался водный путь, проходящий по озеру Е из Скандинавии через Восточную Европу в Византию с IX века?	путь «Спасение» —



Шифр

9	-	8																
---	---	---	--	--	--	--	--	--	--	--	--	--	--	--	--	--	--	--

## Задание № 3. «Топографическое»

Условный знак на топографической карте	Название условного знака	Номер объекта на Рисунке (если обозначен)	Расшифровка текстовых подписей условных знаков
	хвойное <sup>0,5</sup> деревья, лес	—	
	дорога	5	
	верблюжьи деревья <sup>0,5</sup>	—	
	мельница 0	—	
	лиственный лес —	1 <sup>0,5</sup>	
	ширина реки, глубина <sup>0,5</sup>	4 <sup>0,5</sup>	✓
	куз <sup>0,5</sup>	3 <sup>0,5</sup>	
	церковь 0	2	

Шифр

9	-	8																
			мост 95															
			метельное дерево															

**Задание № 4. «Историческая география»**

Вопрос	Ответ
1. Назовите имя натуралиста, о котором говорится в Указе президента РФ?	
2. В качестве кого совершил первые свои экспедиции по югу Дальнего Востока?	Полководцу 0
3. Перед вами памятник на сопке Увальной. В каком городе он возведен?	Комсомольск-на-Амуре 0
4. Какие книги написал путешественник, в честь которого разработан фирменный знак, и с какой целью?	
5. Запишите фамилию норвежского путешественника	