

Шифр

10	-	8																	
----	---	---	--	--	--	--	--	--	--	--	--	--	--	--	--	--	--	--	--

**Всероссийская олимпиада школьников по географии  
школьный этап 2022-2023 учебный год  
10 класс**

**ЛИСТ ОТВЕТОВ**

Участник олимпиады	
<b>Фамилия</b>	Гончарова
<b>Имя</b>	Марияна
<b>Отчество</b>	Сергеевна

**Баллы**

№ задания	1	2	3	4	Тесты
<b>Количество баллов</b>	7	4,5	8	4,5	17
<b>Подпись члена жюри</b>					
<b>Сумма баллов и подпись председателя</b>					

Шифр

10	-	8																	
----	---	---	--	--	--	--	--	--	--	--	--	--	--	--	--	--	--	--	--

**Всероссийская олимпиада школьников по географии  
школьный этап 2022-2023 учебный год**

**10 класс**

**Бланк ответов учащегося для заданий тестового тура**

№ вопроса	Правильный ответ (элементы ответа)
1.	термокарст, <sup>+</sup> Астурит, <sup>-</sup> малые реки, <sup>-</sup> плато Борж <sup>фьорд</sup>
2.	A-3 B-2 B-4 Г-1 <span style="float: right;">2</span>
3.	B +
4.	B +
5.	A +
6.	B +
7.	B +
8.	A -
9.	B +
10.	B +
11.	Г +
12.	B +
13.	B +
14.	B -
15.	A +
16.	B +
17.	B -
18.	Г +
19.	A +
20.	1-А, 2-В, 3-В, 4-Г, 5-А <span style="float: right;">0,5</span>

+

17

Шифр

10	-	8																
----	---	---	--	--	--	--	--	--	--	--	--	--	--	--	--	--	--	--

## Теоретический тур

## Задание № 1. «Родина футбольных клубов»

№	Ответ	
	Клуб	Город
1.	«Шинник»	Ярославль 1
2.	«Арсенал»	<del>Лондон</del> Тула 1
3	«Нефтехимик»	Нижнекамск 1
4	«Уралмаш»	Екатеринбург 1
5	«Океан»	Находка 1
6	«Металлург»	Магнитогорск 1
7	«Самотлор»	Красноярск 1
8	«КамАЗ»	Ижевск 1
9	«Енисей»	Кабардинск 1
10	«Алания»	Челны 1

75

Шифр

10	-	8																	
----	---	---	--	--	--	--	--	--	--	--	--	--	--	--	--	--	--	--	--

**Задание № 2. «Историческая география»**






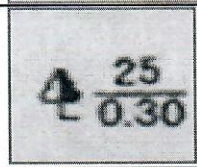


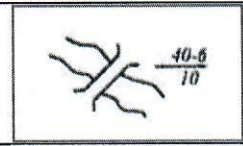
№		Ответ
1.	Запишите имя натуралиста, о котором говорится в Указе президента РФ?	Муромов Амурский -
2.	Какую горную систему на территории Хабаровского края изучал путешественник?	Сихотэ - Алин +
3.	В качестве кого совершил первые свои экспедиции по югу Дальнего Востока?	первопроходца -
4.	Кто был кумиром путешественника, очерки которого были первыми настольными книгами об Уссурийском крае?	<del>Край Зана</del>
5.	Чтобы сохранить муку в тайге от сырости нужно мешок с мукой ....	повесить на дереве, в мешке на дереве, далеко от земли.

15

Шифр

10	-	8																	
----	---	---	--	--	--	--	--	--	--	--	--	--	--	--	--	--	--	--	--

## Задание № 3. «Топографическое»

Условный знак на топографической карте	Название условного знака (цифровые обозначения)	Номер объекта на Рисунке (если обозначен)
	Хвойный лес	0,5
	<del>мост</del> дорога	—
	растительность показана, тип огород, музтрава	 —
	церковь?	2 15
	высота деревьев и расстояние на котором они стоят —	0,15
	ширина и глубина реки	4 25
	<del>булыжник</del> муз	3 1
	церковный двор? —	
	мост, длина, ширина, и сколько выдерживает	5 2,5
	одиночно стоящее дерево	7 0,5

8

Шифр

10	-	7																	
----	---	---	--	--	--	--	--	--	--	--	--	--	--	--	--	--	--	--	--

Задание № 4. «Путешествие по Трансибу»

№	Город	Реки	Природная зона	Субъект РФ	Экономический район
1.	<del>Новосибирск</del> Ярославль	Енисей	Тайга	Ярославский край	ЮЗ. Урал
2.	Белгородск	Волга	Тайга	Белгородский край	ЮЗ. Урал
3.	<del>Ярославль</del> Пермь	Кама и Чусовая	Тайга	Пермский край	ЮЗ. РР
4.	<del>Улан-Удэ</del> Новосибирск	Обь	Тайга	Новосибирск край	ЮЗ РР
5.	<del>Новосибирск</del> Улан-Удэ	Удн	Тайга	<del>Новосибирский край</del> Бурятия	Сибурв.
6.	Хабаровск	Амур.	Тайга	Хаб. край	Дальневосточный

45