

Материалы
для подготовки к тестированию по истории 10 класс М-6 (базовый уровень)
Тема: «Россия и мир во Второй мировой войне».

1. Начальный период Второй мировой войны. СССР накануне ВОВ. Начало ВОВ.
 2. Первый период войны (22 июня – ноябрь 1942 г).
 3. Поражения и победы 1942 г. Предпосылки коренного перелома.
 4. Человек и война: единство фронта и тыла. Дальний Восток в годы Вов.
 5. Второй период Великой Отечественной войны. Коренной перелом (1942-1943 г.)
 - 6-7. Третий период войны. Победа СССР в Великой Отечественной войне. Окончание Второй мировой войны.
- Дальний Восток в годы Вов.
8. История Второй мировой войны на картах. Практическая работа.
 9. История Второй мировой войны в документах. Практическая работа.
 10. Итоговое тестирование.

Понятия и термины:

Ленд-лиз, генеральный план «Ост», план «Барбаросса». ГКО, СМЕРШ, «остарбайтеры», коллаборационисты, «власовцы». Партизаны. Тегеранская конференция, Ялтинская конференция, Потсдамская конференция, «второй фронт», встреча союзников на Эльбе, депортация, Холокост, интернированные лица, военнопленные.

Персоналии:

Сталин И.В., Молотов В.М., Микоян А.И., Гастелло Н.Ф., Талалихин В.В., Покрышкин А.И., Кожедуб И.Н., Жуков Г.К., Рокоссовский К.К., Василевский А.М., Конев И.С., Чуйков В.И., Тимошенко С.К., Ковпак С.А., Ватутин Н.Ф., Баграмян И.Х., Сталин И.В., Молотов В.М., Микоян А.И., Матросов А.М., Космодемьянская З.А., Шостакович Д.Д., Симонов К.С., Русланова Л.А., Твардовский А.Т., Берггольц О.Ф., Зорге Р., Левитан Ю.Б.

События/даты:

Конфликт на оз. Хасан –24 июля –11 августа 1938 г.
Конфликт на р. Халхин-Гол –11 мая –16 сентября 1939 г.
Советско-германский договор о ненападении –23 августа 1939 г.
Начало Второй мировой войны –1 сентября 1939 г.
Советско-финская («зимняя») война –30 ноября 1939 г. –13 марта 1940 г.
Великая Отечественная война –22 июня 1941 г. –9 мая 1945 г.
Битва за Москву –30 сентября 1941 г.–20 апреля 1942 г.
Блокада Ленинграда –8 сентября 1941 г.–27 января 1944 г.
Сталинградская битва –17 июля 1942г. –2 февраля 1943 г.
Курская битва –5 июля–23 августа 1943 г.
Открытие союзниками «второго фронта» в Европе –июнь 1944 г.
Наступательные операции советской армии 1944 -1945 гг.
Освобождение территории СССР от врага –1944 г.
Битва за Берлин –16 апреля–8 мая 1945 г.
2 сентября 1945 г. –капитуляция Японии. Окончание Второй мировой войны

Банк заданий

Задание №1

Укажите наименование операции советских партизан, о которой идёт речь.

Кодовое наименование операции советских партизан, проводившейся в августе – сентябре 1943 г. на оккупированной территории РСФСР, Белоруссии и част УССР

Ответ запишите со строчной буквы без пробелов.

Запишите ответ:

1)

Ответ:

Задание №2

Напишите сокращённое название (аббревиатуру) органа, о котором идёт речь.

Орган созданный во время Великой Отечественной войны чрезвычайный орган управления, обладавший всей полнотой военной, политической и хозяйственной власти в СССР.

Ответ запишите со строчной буквы, без пробелов

Запишите ответ:

1)

Ответ:

Задание №3

Напишите пропущенный термин.

Военно-политический союз государств, сложившийся в период Второй мировой войны против государств-агрессоров – Германии, Японии, Италии и их союзников, имел название _____

Ответ запишите без пробелов со строчной буквы, без пробелов и др знаков, в им.п

Запишите ответ:

1)

Ответ:

Задание №4

Напишите пропущенное слово.

_____ - радикальное изменение сил в ходе Великой Отечественной войны, характеризующееся переходом инициативы в руки СССР и советской армии, а также резким ростом военно-экономического положения Советского Союза.

Ответ запишите со строчной буквы, без пробелов

Запишите ответ:

1)

Ответ:

Задание №5

Запишите пропущенное слово.

_____ - осознанное, добровольное и умышленное сотрудничество с врагом, в его интересах и в ущерб своему государству. Термин чаще применяется в более узком смысле: сотрудничество с оккупантами.

Ответ запишите со строчной буквы.

Запишите ответ:

1)

Ответ:

Задание №6

Запишите пропущенное слово.

_____ - преследование и массовое уничтожение нацистами представителей различных этнических и социальных групп (советских военнопленных, поляков, евреев, цыган, гомосексуальных мужчин, масонов, безнадежно больных и инвалидов и др...

Ответ запишите со строчной буквы.

Запишите ответ:

1)

Ответ:

Задание №7

Новый порядок, устанавливаемый фашистами в государствах Европы, предполагал

Выберите один из 4 вариантов ответа:

1)

ликвидацию рыночных отношений

2)

быструю модернизацию промышленности

3)

фактическую ликвидацию суверенитета завоёванных государств

4)

создание на оккупированных странах культурно-национальных автономий

Задание №8

Новый порядок, устанавливаемый фашистами в государствах Европы, предполагал

Выберите один из 4 вариантов ответа:

1)

демилитаризацию экономики

2)

развитие местного самоуправления

3)

расовую дискриминацию и геноцид

4)

развитие общеевропейской интеграции

Задание №9

Итог военных действий к лету 1941 г

Выберите один из 4 вариантов ответа:

1)

вступление в войну США

2)

уничтожение военно-морского флота Великобритании

3)

установление контроля Германии над значительной частью Европы

4)

восстановление демократических режимов в Восточной Европе

Задание №10

На третьем этапе Второй мировой войны, в отличие от начального

Выберите один из 4 вариантов ответа:

1)

стратегическая инициатива перешла в руки антигитлеровской коалиции

2)

основные военные действия велись за Британские острова

3)

война со стороны антигитлеровской коалиции носила освободительный характер

4)	военно-техническое превосходство было на стороне Антикоминтерновского пакта
----	---

Задание №11

На втором этапе Второй мировой войны, в отличие от начального

Выберите один из 4 вариантов ответа:

1)	стратегическая инициатива перешла в руки Антикоминтерновского пакта
2)	основные военные действия разворачивались на Восточном фронте
3)	война со стороны участников Антикоминтерновского пакта носила захватнический характер
4)	военные действия вышли за пределы Европы

Задание №12

Результатом второй мировой войны стала ликвидация

Выберите один из 4 вариантов ответа:

1)	фашизма
2)	колониализма
3)	военных союзов
4)	коммунистических движений

Задание №13

Пёрл - Харбор - это

Выберите один из 4 вариантов ответа:

1)	английская военно-морская крепость, оказавшая упорное сопротивление японским войскам
2)	бухта, где состоялось морское сражение, ставшее переломным моментом в войне на Тихом океане
3)	американская военно-морская база на Филиппинах, ставшая первым объектом японской агрессии на Тихом океане
4)	американская военно-морская база на Гавайях, ставшая первым объектом японской агрессии на Тихом океане

Задание №14

Ленд-лиз -это:

Выберите один из 3 вариантов ответа:

1)	продажа Соединённым Штатам вооружения и снаряжения своим союзникам в период второй мировой войны
2)	предоставление Соединёнными Штатами вооружения и снаряжения займы или в аренду тем странам, оборона которых являлась жизненно важной для США в период второй мировой войны
3)	предоставление Соединёнными Штатами своей территории в аренду для военных баз и военных складов тем странам, оборона которых являлась жизненно важной для США в период второй мировой войны

Задание №15

Какие три из перечисленных территорий вошли в состав СССР по итогам Второй мировой войны? Соответствующие цифры запишите в ответ.

- 1) Кёнигсбергская (Калининградская) область
- 2) Уссурийский край
- 3) Нахичиваньская область
- 4) Южный Сахалин
- 5) Курильские острова
- 6) Приднестровье

Ответ запишите цифрами в порядке возрастания.

Запишите число:

1)

Ответ:

Задание №16

Какие три из перечисленных событий относятся к 1939—1940 гг.? Соответствующие цифры запишите в ответ.

- 1) советско-финляндская война
- 2) принятие СССР в Лигу Наций
- 3) ввод советских войск в Эстонию
- 4) дипломатическое признание СССР со стороны США
- 5) участие советских представителей в Генуэзской конференции
- 6) советско-англо-французские переговоры о совместной защите стран Восточной Европы

Ответ запишите цифрами в порядке возрастания.

Запишите число:

1)

Ответ:

Задание №17

Выберите два ответа и запишите цифры, под которыми они указаны.

Причины катастрофических поражений Красной Армии в первой половине 1942г. заключались в следующем:

- 1) многократное превосходство немецкой армии по численности войск и боевой технике
- 2) техническое превосходство вооружения немецкой армии
- 3) перевес немецкой армии в силах и средствах над Красной Армией
- 4) переоценка собственных сил и недооценка возможностей противника
- 5) единоличные решения Сталина

Запишите число:

1)

Ответ:

Задание №18

Выберите два ответа и запишите цифры, под которыми они указаны.

Основные положения плана советского контрнаступления под Сталинградом заключались в следующем:

- 1) переход во фронтальное наступление войск, оборонявших Сталинград
- 2) переход в крупное наступление на Кавказе с целью оттянуть немецкие войска от Сталинграда и подготовить условия для окружения сталинградской группировки противника
- 3) ударами Юго-Западного и Сталинградского фронтов разгромить войска, прикрывавшие фланги сталинградской группировки
- 4) окружить и уничтожить главные силы вермахта, действовавшие на Сталинградском направлении

Запишите число:

1)

Ответ:

Задание №19

Выберите три ответа и запишите цифры, под которыми они указаны.

Причины катастрофических поражений Красной Армии в первой половине 1942г. заключались в следующем:

- 1) неблагоприятные географические и климатические условия
- 2) распыление сил из-за попытки наступать на всех важнейших направлениях
- 3) неправильная оценка Сталиным направления генерального наступления противника
- 4) незавершенность перестройки тыла на военный лад
- 5) превосходство немецкой армии над советской по боевому духу
- 6) внутренний кризис советского режима

Запишите число:

1)

Ответ:

Задание №20

Выберите три ответа и запишите цифры, под которыми они указаны.

Понятие "коренной перелом в ходе второй мировой войны" включает в себя:

- 1) окончательный переход стратегической инициативы к странам антигитлеровской коалиции
- 2) переход вооруженных сил антигитлеровской коалиции в наступление
- 3) достижение превосходства военной экономики стран антигитлеровской коалиции над Германией и ее союзниками
- 4) приостановление наступательных действий Германии и ее союзников
- 5) исчерпанность людских и сырьевых ресурсов Германии и ее союзников
- 6) достижение странами антигитлеровской коалиции численного превосходства в живой силе и военной технике на всех театрах военных действий

Запишите число:

1)

Ответ:

Задание №21

Выберите три ответа и запишите цифры, под которыми они указаны.

Значение победы советских войск в Сталинградской битве заключалось в следующем:

- 1) битва сыграла решающую роль в осуществлении коренного перелома в ходе ВОВ
- 2) победа СССР вынудила союзников немедленно открыть второй фронт
- 3) подрыв морального духа армии и населения Германии
- 4) Германия была вынуждена отвести свои войска за Днепр
- 5) победа СССР вызвала новый мощный подъем движения Сопротивления
- 6) полное снятие блокады Ленинграда

Запишите число:

1)

Ответ:

Задание №22

Выберите три ответа и запишите цифры, под которыми они указаны.

Значение победы советских войск в Сталинградской битве заключалось в следующем:

- 1) Германия была вынуждена отвести свои силы с Кавказа
- 2) Япония отказалась от планов нападения на СССР
- 3) окончательный срыв плана "молниеносной войны"
- 4) развал Антикоминтерновского пакта
- 5) Италия вышла из войны

б) переход Красной Армии в наступление на юго-западном направлении, приведшее к освобождению Крыма

Запишите число:

1)

Ответ:

Задание №23

Выберите три ответа и запишите цифры, под которыми они указаны.

Значение победы советских войск в Курской битве заключалось в следующем:

1. окончательный переход стратегической инициативы в руки советского командования
2. провал последней попытки вермахта провести крупное стратегическое наступление
3. окончательное завоевание советской авиацией стратегического господства в воздухе
4. Красная Армия временно завладела стратегической инициативой
5. вступление Турции в войну на стороне антигитлеровской коалиции
6. полное снятие блокады Ленинграда

Запишите число:

1)

Ответ:

Задание №24

Выберите три ответа и запишите цифры, под которыми они указаны.

Значение победы советских войск в Курской битве заключалось в следующем:

7. вермахт понес огромные потери в людях и боевой технике
8. окончательный срыв плана «молниеносной войны»
9. Германия была вынуждена отвести свои силы с Кавказа
10. созданы условия для освобождения Левобережной Украины и выхода к Днепру
11. активизация движения Сопротивления
12. развал Антикоминтерновского пакта
13. Сталин передал реальное руководство военными действиями группе талантливых военачальников

Запишите число:

1)

Ответ:

Задание №25

Выберите два ответа и запишите цифры, под которыми они указаны.

Причины коренного перелома во второй мировой войне заключались в следующем:

14. удлинение линий фронтов и протяженности коммуникаций стран германского блока по мере расширения масштабов их агрессии
15. открытие второго фронта в Европе
16. бездарность немецкого и японского военного командования
17. значительное превосходство экономического потенциала стран антигитлеровской коалиции
18. основная военно-производственная база стран антигитлеровской коалиции оказалась вне досягаемости противников
19. основные военно-производственные базы стран фашистского блока оказались объектами бомбардировок уже в 1942 г.

Запишите число:

1)

Ответ:

Задание №26

Выберите два ответа и запишите цифры, под которыми они указаны.

Причины коренного перелома во второй мировой войне заключались в следующем:

20. превосходство стран антигитлеровской коалиции в военном производстве
21. значительное превосходство стран антигитлеровской коалиции по людским ресурсам
22. качественное превосходство стран антигитлеровской коалиции в военной технике и вооружениях
23. государственный переворот в Японии
24. свержение режима Муссолини в Италии
25. внутренний кризис в странах фашистского блока

Запишите число:

1)

Ответ:

Задание №27

Выберите три ответа и запишите цифры, под которыми они указаны.

СССР вступил в войну с Японией на следующих условиях:

26. установление в Китае коммунистического режима
27. установление коммунистического режима в Корее
28. передача СССР Южного Сахалина
29. передача СССР Курильских островов
30. передача СССР крупных территорий в Приамурье
31. передача СССР арендных прав на Порт-Артур как военно-морскую базу

Запишите число:

1)

Ответ:

Задание №28

Выберите три ответа и запишите цифры, под которыми они указаны.

СССР вступил в войну с Японией на следующих условиях:

32. обеспечение преимущественных интересов СССР в порту Дайрен
33. вступление СССР в войну с Японией сразу после капитуляции Германии
34. передача СССР ряда территорий на Японских островах для создания военно-морских баз
35. вступление СССР в войну с Японией через 2—3 месяца после капитуляции Германии
36. вступление СССР в войну с Японией одновременно с высадкой американского десанта на Японских островах
37. вступление СССР в войну с Японией сразу после применения американцами атомной бомбы

Запишите число:

1)

Ответ:

Задание №29

Заполните пропуски в данных предложениях, используя приведённый ниже список пропущенных элементов: для каждого предложения, обозначенного буквой и содержащего пропуск, выберите номер нужного элемента.

А) _____ конференция «Большой тройки» проходила в 1943 г.

Б) Первый таран в ночном воздушном бою произвёл советский лётчик _____, сбивший на подступах к Москве вражеский бомбардировщик.

В) В ходе Курской битвы произошло крупнейшее танковое сражение у _____.

Пропущенные элементы:

- 1) Ялтинская (Крымская)
- 2) Н. Ф. Гастелло
- 3) станция Прохоровка
- 4) Тегеранская
- 5) В. В. Талалихин
- 6) разъезд Дубосеково

Запишите в ответ цифры, расположив их в порядке, соответствующем буквам.

Запишите число:

1)

Ответ:

Задание №30

Заполните пропуски в данных предложениях, используя приведённый ниже список пропущенных элементов: для каждого предложения, обозначенного буквой и содержащего пропуск, выберите номер нужного элемента.

А) _____ впервые произвёл таран в ночном воздушном бою, сбив на подступах к Москве вражеский бомбардировщик.

Б) В годы Великой Отечественной войны немцы 900 дней осаждали город _____.

В) Курская битва была в _____.

Пропущенные элементы:

- 1) В. В. Талалихин
- 2) Н. Ф. Гастелло
- 3) 1942 г.
- 4) 1943 г.
- 5) Сталинград
- 6) Ленинград

Запишите в ответ цифры, расположив их в порядке, соответствующем буквам:

Запишите число:

1)

Ответ:

Задание №31

Заполните пропуски в данных предложениях, используя приведённый ниже список пропущенных элементов: для каждого предложения, обозначенного буквой и содержащего пропуск, выберите номер нужного элемента.

А) Героиня обороны Москвы, Герой Российской Федерации _____ была повешена немцами 29 ноября 1941 в совхозе Головково Наро-Фоминского района.

Б) Первый артиллерийский салют в Москве, в честь освобождения Орла и Белгорода, был дан в _____ году.

В) Встреча наших войск с союзниками произошла на реке _____.

Пропущенные элементы:

- 1) Эльба
- 2) Висла
- 3) Зоя Космодемьянская
- 4) Вера Волошина
- 5) 1945 г.
- 6) 1943 г.

Запишите в ответ цифры, расположив их в порядке, соответствующем буквам

Запишите число:

1)

Ответ:

Задание №32

Заполните пропуски в данных предложениях, используя приведённый ниже список пропущенных элементов: для каждого предложения, обозначенного буквой и содержащего пропуск, выберите номер нужного элемента.

А) Летчик-герой, трижды герой Советского Союза, сбивший наибольшее количество самолетов противника, в годы Великой Отечественной войны _____.

Б) Василий Чуйков прославился при обороне г. _____.

В) Варшава была освобождена в _____ г.

Пропущенные элементы:

- 1) 1944 г.
- 2) А. Маресьев
- 3) 1945 г.
- 4) Москва
- 5) И. Кожедуб
- 6) Сталинград

Запишите в ответ цифры, расположив их в порядке, соответствующем буквам.

Запишите число:

1)

Ответ:

Задание №33

Заполните пропуски в данных предложениях, используя приведённый ниже список пропущенных элементов: для каждого предложения, обозначенного буквой и содержащего пропуск, выберите номер нужного элемента.

А) Снайпер, прославившийся в дни Сталинградской битвы _____.

Б) 250 дней героически держался в осаде г. _____.

В) Сталинградская битва завершилась в _____.

Пропущенные элементы:

- 1) 1944 г.
- 2) В. Зайцев
- 3) 1943 г.
- 4) Киев
- 5) И. Кожедуб
- 6) Севастополь

Запишите в ответ цифры, расположив их в порядке, соответствующем буквам.

Запишите число:

1)

Ответ:

Задание №34

Заполните пропуски в данных предложениях, используя приведённый ниже список пропущенных элементов: для каждого предложения, обозначенного буквой и содержащего пропуск, выберите номер нужного элемента.

- А) _____ герои-партизаны, командиры крупных партизанских соединений, действовавших в тылу врага на оккупированной фашистами территории
- Б) Операция «Багратион» проводилась в _____ г.
- В) 9 мая 1945г. советские войска освободили г. _____.

Пропущенные элементы:

- 1) 1944 г.
- 2) Сидор Ковпак, Алексей Федоров
- 3) Климент Ворошилов, Семен Буденный
- 4) 1945 г.
- 5) Берлин
- 6) Прага

Запишите в ответ цифры, расположив их в порядке, соответствующем буквам.

Запишите число:

1)

Ответ:

Задание №35

Заполните пропуски в данных предложениях, используя приведённый ниже список пропущенных элементов: для каждого предложения, обозначенного буквой и содержащего пропуск, выберите номер нужного элемента.

- А) _____ был дважды удостоен высшего полководческого ордена «Победа».
- Б) _____ был командующим Центральным фронтом во время Курской битвы.
- В) _____ был командующим Волховским фронтом, отличился в прорыве блокады Ленинграда в ходе операции «Искра».

Пропущенные элементы:

- 1) К. Е. Ворошилов
- 2) К. К. Рокоссовский
- 3) Г. К. Жуков
- 4) Ф. С. Октябрьский

5) К. А. Мерецков

6) Л. З. Мехлис

Запишите в ответ цифры, расположив их в порядке, соответствующем буквам.

Запишите число:

1)

Ответ:

Задание №36

Заполните пропуски в данных предложениях, используя приведённый ниже список пропущенных элементов: для каждого предложения, обозначенного буквой и содержащего пропуск, выберите номер нужного элемента.

А) _____ битва началась с наступления германских войск, согласно подготовленной немецким командованием операции «Цитадель» .

Б) _____ конференция проходила в 1943 г., в ходе переговоров обсуждались вопросы открытия второго фронта.

В) _____ операция советских войск носила кодовое название «Багратион».

Пропущенные элементы:

1) Тегеранская

2) Белорусская

3) Ржевская

4) Московская

5) Сталинградская

6) Курская

Запишите в ответ цифры, расположив их в порядке, соответствующем буквам.

Запишите число:

1)

Ответ:

Задание №37

Заполните пропуски в данных предложениях, используя приведённый ниже список пропущенных элементов: для каждого предложения, обозначенного буквой и содержащего пропуск, выберите номер нужного элемента.

А) К. К. Рокоссовский, А. И. Еременко, Н. Ф. Ватутин командовали фронтами во время операции _____.

Б) Операция, согласно которой немецкие войска должны были захватить Москву, называлась _____.

В) Операция советских войск по освобождению Белоруссии имела кодовое название _____.

Пропущенные элементы:

1) «Багратион»

2) полководец П. А. Румянцев

3) «Уран»

4) «Цитадель»

5) «Тайфун»

6) Берлинская

Запишите в ответ цифры, расположив их в порядке, соответствующем буквам.

Запишите число:

1)

Ответ:

Задание №38

Заполните пропуски в данных предложениях, используя приведённый ниже список пропущенных элементов: для каждого предложения, обозначенного буквой и содержащего пропуск, выберите номер нужного элемента.

А) 18 декабря 1940 года Гитлер подписал директиву № 21 о нападении на СССР, известную как План «_____».

Б) В ходе боя у деревни Чернушки красноармеец _____ закрыл собой амбразуру вражеской огневой точки, чем дал время товарищам атаковать и уничтожить противника.

В) 9 апреля 1945 г. советские войска штурмом взяли главный город Восточной Пруссии _____.

Пропущенные элементы:

1) Александр Матросов

2) «Цитадель»

3) Кюстрин

4) «Барбаросса»

5) Кёнигсберг

6) Николай Гастелло

Запишите в ответ цифры, расположив их в порядке, соответствующем буквам.

Запишите число:

1)

Ответ:

Задание №39

Прочтите отрывок из воспоминаний и укажите о какой битве идет речь.

Ответ запишите со строчной буквы без пробелов.

«Перебрав все возможные варианты, мы решили предложить И. В. Сталину следующий план действий: первое — активной обороной продолжать изматывать противника, второе — приступить к подготовке контрнаступлениями, чтобы нанести противнику... такой удар, который резко изменил стратегическую обстановку на юге в нашу пользу...

При оценке противника мы исходили из того, что фашистская Германия уже не в состоянии выполнить свой стратегический план 1942 года. Тех сил и средств, которыми к осени 1942 года располагала Германия, не хватит для завершения задач ни на Северном Кавказе, ни в районе Дона и Волги...

Генеральный штаб на основе данных фронтов изучил сильные и слабые стороны немецких, венгерских, итальянских и румынских войск. Войска сателлитов по сравнению с немецкими были хуже вооружены, менее опытные, недостаточно боеспособны даже в обороне. И самое главное — их солдаты, да и многие офицеры не хотели умирать за чужие интересы на далеких полях России...

Положение противника усугублялось ещё и тем, что... у него было очень мало войск в оперативном резерве, не более шести дивизий, да и те были разбросаны на широком фронте... Нам благоприятствовала и оперативная конфигурация всего фронта противника: наши войска занимали охватывающее положение...»

Запишите ответ:

1)

Ответ:

Задание №40

Прочтите отрывок из речи государственного деятеля и укажите фамилию автора.

Ответ запишите со строчной буквы.

«Граждане и гражданки Советского Союза! Советское правительство и его глава тов. Сталин поручили мне сделать следующее заявление.

Сегодня, 22 июня в 4 часа утра, без предъявления каких-либо претензий к Советскому Союзу, без объявления войны, германские войска напали на нашу страну, атаковали наши границы во многих местах и подвергли бомбежке со своих самолетов наши города — Житомир, Киев, Севастополь, Каунас и некоторые другие, причем убито и ранено более двухсот человек. Налеты вражеских самолетов и артиллерийский обстрел были совершены также с румынской и финляндской территорий.

Это неслыханное нападение на нашу страну является беспримерным в истории цивилизованных народов вероломством... Вся ответственность за это разбойничье нападение на Советский Союз целиком и полностью падает на германских фашистских правителей.

Уже после совершившегося нападения германский посол в Москве Шуленбург в 5 часов 30 минут утра сделал мне как Народному Комиссару Иностранных Дел заявление от имени своего правительства о том, что германское правительство решило выступить с войной против СССР в связи с сосредоточением частей Красной Армии у восточной германской границы...Наше дело правое. Враг будет разбит. Победа будет за нами».

Запишите ответ:

1)

Ответ:

Задание №41

Прочитайте отрывок из воспоминаний маршала Г. К. Жукова и назовите город, вблизи которого разворачивались события, которые описывает автор.

Ответ запишите со строчной буквы.

«Сообщение с Большой землей могло осуществляться только через Ладожское озеро и по воздуху, под прикрытием нашей авиации. Начались бомбежки и варварские артиллерийские обстрелы города. Фашистские войска нажимали со всех сторон. Особенно крупная группировка танковых и моторизованных соединений противника концентрировалась на подступах к Урицку, Пулковским высотам и Слуцку. Все говорило о том, что враг готовится к решительному штурму. Обстановка становилась день ото дня напряженнее».

Запишите ответ:

1)

Ответ:

Задание №42

Прочтите отрывок из выступления и укажите название страны, пропущенное в тексте.

Ответ запишите со строчной буквы.

«Нельзя ли было обойтись без войны? Мне кажется, что нельзя было. Невозможно было обойтись без войны. Война была необходима, так как мирные переговоры с _____ не дали результатов, а безопасность Ленинграда надо было обеспечить безусловно, ибо его безопасность есть безопасность нашего Отечества. Не только потому, что Ленинград представляет процентов 30-35 оборонной промышленности нашей страны, но и потому, что Ленинград есть вторая столица нашей страны. ...Ясно, что, коль скоро переговоры мирные не привели к результатам, надо было объявить войну, чтобы при помощи военной силы организовать, утвердить и закрепить безопасность Ленинграда и, стало быть, безопасность нашей страны».

Запишите ответ:

1)

Ответ:

Задание №43

Заполните пустые ячейки таблицы, используя представленные в приведённом ниже списке данные. Для каждой ячейки, обозначенной буквами, выберите номер нужного элемента.

Событие	Дата	Участник(-и)
Наступательная операция «Оверлорд»	_____ (А)	Д. Эйзенхауэр, Б. Монтгомери
Сталинградская битва	_____ (Б)	_____ (В)
_____ (Г)	Август–декабрь 1943 г.	Г. К. Жуков, К. К. Рокоссовский, И. С. Конев
Битва за Москву	_____ (Д)	_____ (Е)

Пропущенные элементы:

- 1) М. А. Егоров, М. В. Кантария
- 2) сентябрь 1941 г. – январь 1942 г.
- 3) Я. Ф. Павлов
- 4) битва на Курской дуге

- 5) битва за Днепр
- 6) июнь–август 1944 г.
- 7) июль 1942 г. – февраль 1943 г.
- 8) И. В. Панфилов
- 9) май 1942 г.

Запишите в ответ цифры, расположив их в порядке, соответствующем буквам.

Запишите число:

1) Ответ:

Задание №44

Заполните пустые ячейки таблицы, используя представленные в приведённом ниже списке данные. Для каждой ячейки, обозначенной буквами, выберите номер нужного элемента.

Событие	Дата	Участник(-и)
Сталинградская битва	_____ (А)	В. И. Чуйков
Тегеранская конференция	_____ (Б)	_____ (В)
_____ (Г)	январь—февраль 1945 г.	Г. К. Жуков
штурм Берлина	_____ (Д)	_____ (Е)

Пропущенные элементы:

- 1) ноябрь—декабрь 1943 г.
- 2) Висло-Одерская операция
- 3) июль 1942 г.—2 февраля 1943 г.
- 4) апрель;—май 1945 г.
- 5) И. В. Сталин, Ф. Д. Рузвельт, У. Черчилль
- 6) июнь—август 1944 г.
- 7) 9 августа—2 сентября 1945 г.
- 8) И. С. Конев
- 9) Яско-Кишинёвская операция

Запишите в ответ цифры, расположив их в порядке, соответствующем буквам.

Запишите число:

1) Ответ:

Задание №45

Заполните пустые ячейки таблицы, используя представленные в приведённом ниже списке данные. Для каждой ячейки, обозначенной буквами, выберите номер нужного элемента.

Событие	Дата	Участник(-и)
Операция «Рельсовая война»	_____ (А)	Федоров, Ковпак
операция "Оверлорд"	_____ (Б)	_____ (В)
_____ (Г)	август—декабрь 1943 г.	Г. К. Жуков, И. С. Конев

		К. К. Рокоссовский
Битва за Москву	_____ (Д)	_____ (Е)

Пропущенные элементы:

- 1) М. А. Егоров, М. В. Кантария
- 2) сентябрь 1941 г. — январь 1942 г.
- 3) Д. Эйзенхауэр
- 4) битва на Курской дуге
- 5) битва за Днепр
- 6) август-сентябрь 1943 г.
- 7) июнь 1944 г. — август 1944 г.
- 8) И. В. Панфилов
- 9) май 1942 г.

Запишите в ответ цифры, расположив их в порядке, соответствующем буквам.

Запишите число:

1)	Ответ:	
----	--------	--

Задание №46

Заполните пустые ячейки таблицы, используя представленные в приведённом ниже списке данные. Для каждой ячейки, обозначенной буквами, выберите номер нужного элемента.

Событие	Название населённого пункта (территории)	Год
_____ (А)	д. Прохоровка	_____ (Б)
_____ (В)	г. Сталинград	1942 г.
Первый воздушный ночной таран в период Великий Отечественный войны	_____ (Г)	_____ (Д)
Первая встреча советских и американских войск в период Великой Отечественной войны	_____ (Е)	1945 г.

- 1) г. Торгау
- 2) 1943 г.
- 3) г. Москва и Московская область
- 4) г. Будапешт
- 5) окружение 6-й германской армии под командованием Ф. Паулюса
- 6) первая встреча лидеров стран «Большой тройки»
- 7) 1941г.
- 8) крупнейшее танковое сражение в период Великой Отечественной войны
- 9) 1944 г.

Запишите в ответ цифры, расположив их в порядке, соответствующем буквам.

Запишите число:

1)	Ответ:	
----	--------	--

Задание №47

Установите соответствие между процессами (явлениями, событиями) и фактами, относящимися к этим процессам.

Процессы (события, явления)	Факты
А) курская битва	1) начало функционирования «дороги жизни»
Б) битва за Москву	2) начало операции «Кутузов»
В) блокада Ленинграда	3) самое массовое награждение званием Героя Советского Союза за всю историю страны
Г) Сталинградская битва	4) бои в районе Волоколамска
	5) бои за Мамаев курган
	6) гибель генерала И. Черняховского

Запишите число:

1)

Ответ:

Задание №48

Установите соответствие между событиями и итогами.

Название операции	Итоги операции
А) Багратион	1) Прорыв блокады Ленинграда
Б) Уран	2) Освобождение Ленинграда от вражеской блокады
В) Искра	3) Контрнаступление Советских войск в ходе Сталинградской битвы
Г) «Январский гром»	4) Освобождение Белоруссии
	5) Немецкая наступательная операция в районе Курской дуги.

Запишите число:

1)

Ответ:

Задание №49

Установите соответствие между событиями и датами.

Событие	Даты
А) наступательный период Сталинградской битвы	1) 5 июля—23 августа 1943 г
Б) битва за Днепр	2) 23 октября 1942 г. — 13 мая 1943 г
В) Курская битва	3) 28 ноября 1943 г. —1 декабря 1943 г.
Г) наступление союзников в Северной Африке	4) 26 августа —22 декабря 1943 г.
Д) битва за Гуадалканал	5) 19 ноября 1942 г. —2 февраля 1943 г.
Е) Тегеранская конференция	6) 12—15 ноября 1942г.

Запишите число:

1) Ответ:

Задание №50

Соотнесите конференцию и дату ее проведения

Конференция	Дата
А) Ялтинская (Крымская) конференция	1) 28 ноября— 1 декабря 1943 г
Б) Потсдамская (Берлинская) конференция	2) 17 июля— 2 августа 1945 г.
В) Тегеранская конференция	3) 4-11 февраля 1945 г.

Запишите число:

1) Ответ:

Задание №51

Соотнесите конференцию и принятые решения

Глава государства	Конференция
А) открытие второго фронта в Европе в начале мая 1944 г.	1) Тегеранская конференция
Б) согласование принципов безоговорочной капитуляции Германии	2) Ялтинская (Крымская) конференция
В) раздел Германии на зоны оккупации между СССР, США, Англией и Францией	3) Потсдамская (Берлинская) конференция
Г) решение о создании репарационной комиссии	

Запишите число:

1) Ответ:

Задание №52

Соотнесите период с произошедшими событиями

События	Период
А) немецкое контрнаступление в Арденнах	1) 1939 — 21 июня 1941 г.
Б) битва за Кавказ	2) 22 июня 1941 — 1943 г.
В) советско-финляндская война	3) 1944—1945 гг.

Запишите число:

1) Ответ:

Задание №53

Рассмотрите схему событий одного из периодов Великой Отечественной войны и выполните задание

Укажите название города, обозначенного на схеме цифрой «1».

Ответ запишите со строчной буквы.



Запишите ответ:

1) Ответ:

Задание №54

Рассмотрите схему событий одного из периодов Великой Отечественной войны и выполните задание

Укажите название периода в ходе войны, начало которому положили события, обозначенные на схеме.

Ответ запишите со строчной буквы без пробелов.



Запишите ответ:

1)

Ответ:

Задание №55

Рассмотрите схему событий одного из периодов Великой Отечественной войны и выполните задание

Укажите название города, обозначенного на схеме цифрой «1».

Ответ запишите со строчной буквы.



Запишите ответ:

1)

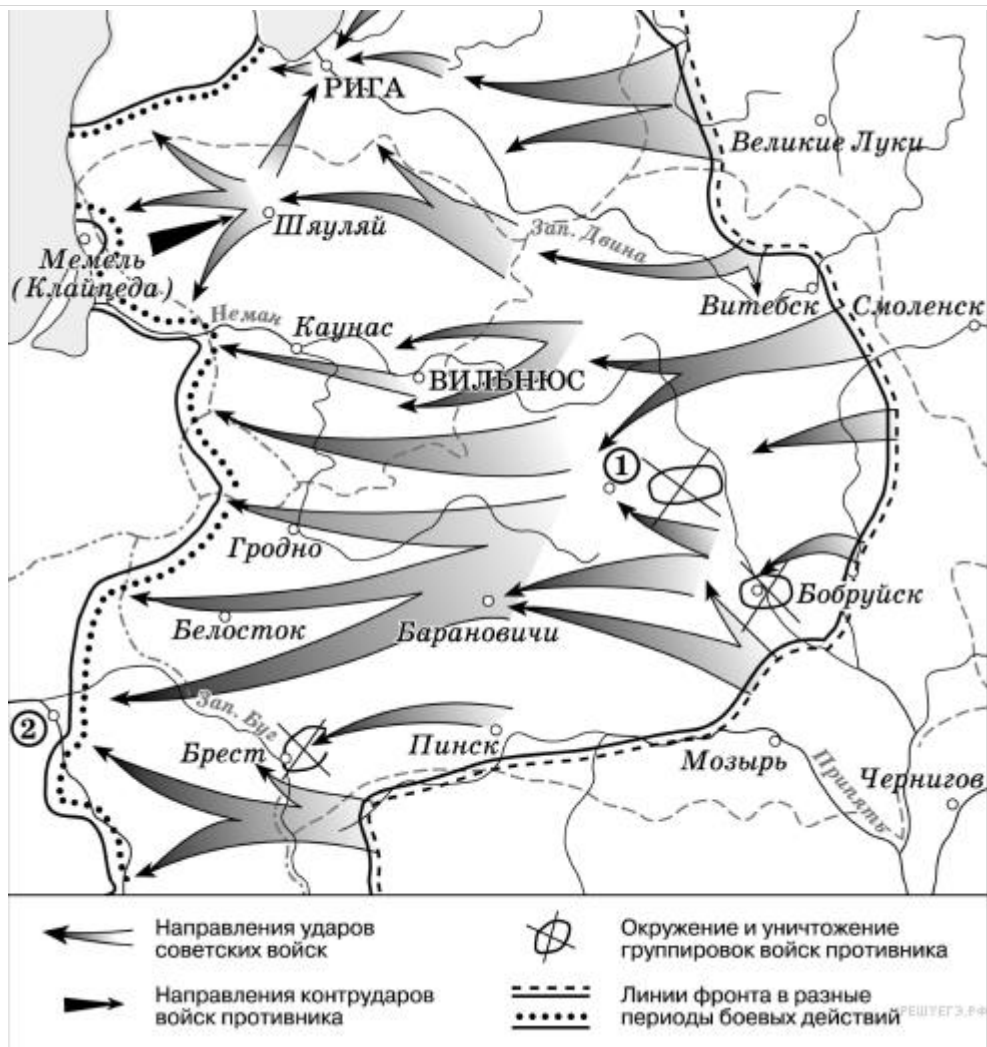
Ответ:

Задание №56

Рассмотрите схему событий одного из периодов Великой Отечественной войны и выполните задание

Продолжите фразу: «События, обозначенные на схеме стрелками, начались в тысяча девятьсот _____ году».

Ответ запишите со строчной буквы без пробелов.



Запишите ответ:

1)

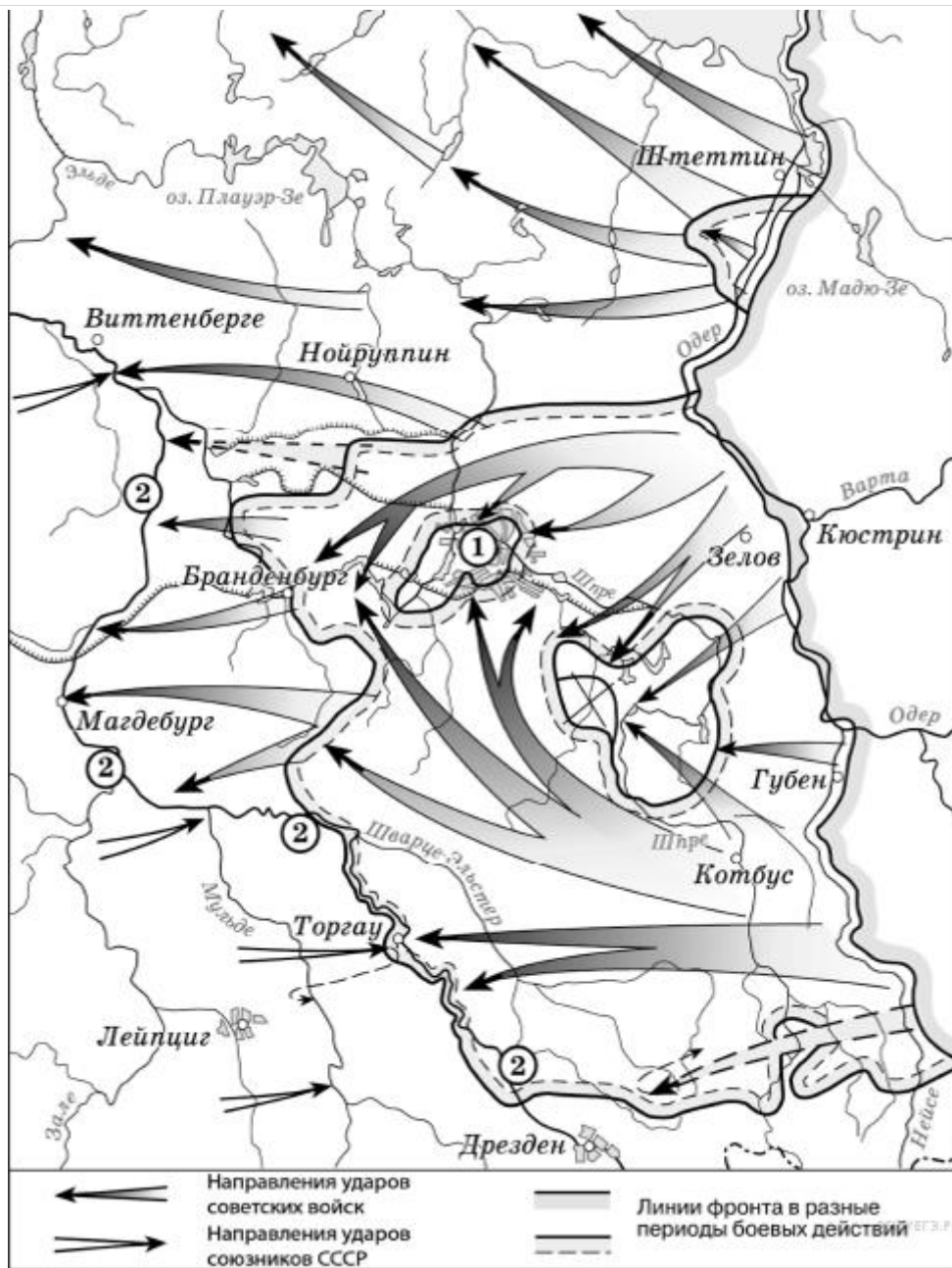
Ответ:

Задание №57

Рассмотрите схему событий одного из периодов Великой Отечественной войны и выполните задание.

Назовите месяц 1945 г., когда начались боевые действия, обозначенные на карте стрелками.

Ответ запишите со строчной буквы.



Запишите ответ:

1)

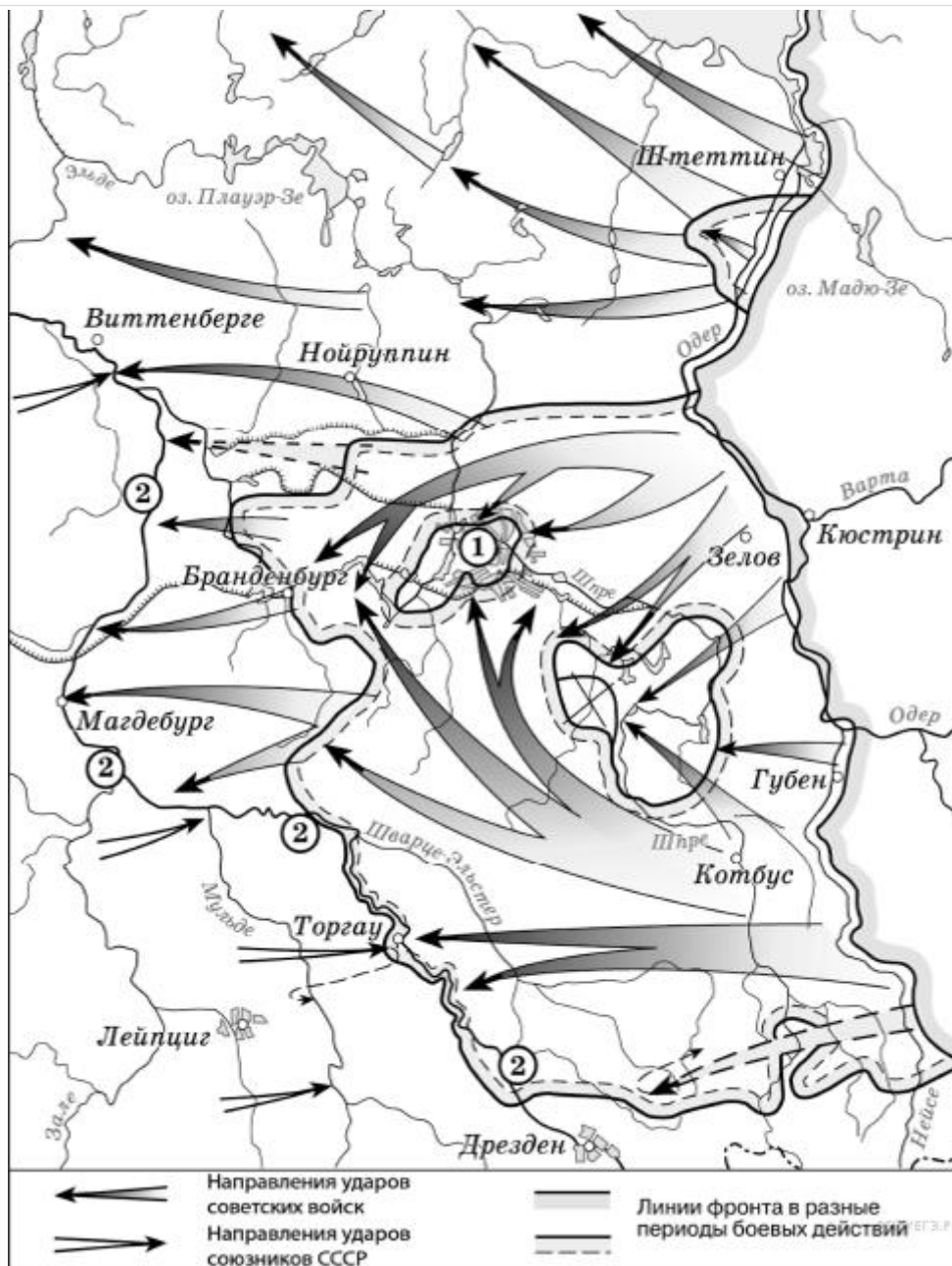
Ответ:

Задание №58

Рассмотрите схему событий одного из периодов Великой Отечественной войны и выполните задание.

Укажите название города, обозначенного на схеме цифрой «1».

Ответ запишите со строчной буквы без пробелов.



Запишите ответ:

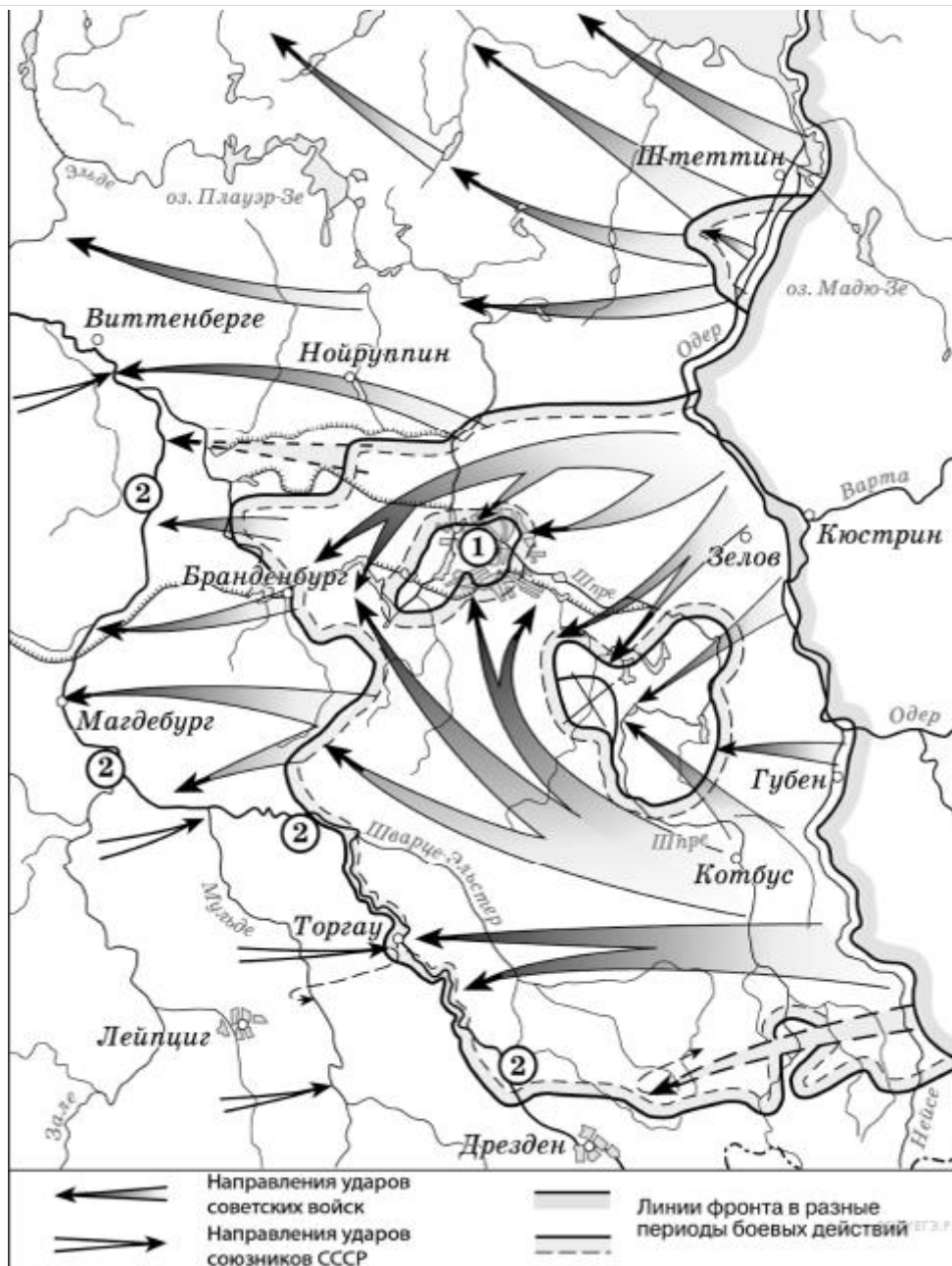
1) Ответ:

Задание №59

Рассмотрите схему событий одного из периодов Великой Отечественной войны и выполните задание.

Укажите название реки, обозначенной на схеме цифрами «2».

Ответ запишите со строчной буквы.



Запишите ответ:

1) Ответ:

Задание №60

Рассмотрите изображение и выполните задание

Какие суждения о данном изображении являются верными? Выберите два суждения из пяти предложенных. Запишите цифры, под которыми они указаны, расположив в порядке возрастания

- 1) Непосредственным участником события, которому посвящена карикатура, являлся Ф. Рузвельт.
- 2) Данная карикатура создана в 1935 г.
- 3) Событие, которому посвящена карикатура, оказало значительное влияние на смену внешнеполитического курса СССР.
- 4) Событие, которому посвящена карикатура, произошло в Берлине.
- 5) На данной карикатуре изображены представители Англии и Франции.



Запишите число:

1)

Ответ:

Задание №61

Рассмотрите изображение и выполните задание

Какие суждения о данной карикатуре являются верными? Выберите два суждения из пяти предложенных. *Запишите цифры, под которыми они указаны расположив в порядке возрастания*

1) Данная карикатура создана в первой половине 1930-х гг.

2) В момент, когда произошло событие, которому посвящена карикатура, СССР вёл войну с Финляндией.

3) Карикатура была создана в СССР и опубликована в печати в тот же год, когда произошло событие, которому она посвящена.

4) Карикатура посвящена нарушению международного договора одной из стран.

5) Событие, которому посвящена карикатура, означало начало Великой Отечественной войны.



Запишите число:

1)

Ответ:

Задание №62

Расположите в хронологической последовательности исторические события.

Укажите порядок следования всех 3 вариантов ответа:

1)		образование Государственного Комитета Обороны
2)		освобождение Севастополя
3)		частичный прорыв блокады Ленинграда

Задание №63

Восстановите хронологическую последовательность событий на Тихом океане в конце 1941 -первой половине 1942 г.

Укажите порядок следования всех 3 вариантов ответа:

1)		объявление Германии и Италии войны США
2)		объявление США войны Японии
3)		нападении Японии на Пёрл - Харбор

Задание №64

Расположите в хронологической последовательности исторические события.

Укажите порядок следования всех 3 вариантов ответа:

1)		Потсдамская конференция
2)		бомбардировка США Хиросимы и Нагасаки
3)		окончание Второй мировой войны

Задание №65

Расположите в хронологической последовательности исторические события.

Укажите порядок следования всех 3 вариантов ответа:

1)		Московская битва
2)		открытие второго фронта
3)		Курская дуга

Задание №66

Рассмотрите схему и выполните задание

Назовите страну, против которой были направлены указанные на схеме военные действия СССР.

Ответ запишите со строчной буквы в И.П.



Запишите ответ:

1)

Ответ:

Задание №67

Рассмотрите схему и выполните задание

Напишите фамилию руководителя СССР в период событий, указанных на схеме.

Ответ запишите со строчной буквы в И.П.



Запишите ответ:

1)

Ответ:

Задание №68

Рассмотрите схему и выполните задание

Укажите название указанной под цифрой 3 военно-морской базы, полученной в аренду СССР по итогам данной войны.

Ответ запишите со строчной буквы в И.П.



Запишите ответ:

1)

Ответ:

Задание №69

Какие операции, из перечисленных ниже, относятся к 1943 году?

Выберите несколько из 6 вариантов ответа:

- | | |
|----|-----------------------|
| 1) | "Кутузов" |
| 2) | "Багратион" |
| 3) | "Цитадель" |
| 4) | "Полководец Румянцев" |
| 5) | "Тайфун" |
| 6) | "Барбаросса" |

Задание №70

Какие военные операции, из ниже перечисленных, относятся к 1945 году?

Выберите несколько из 6 вариантов ответа:

- | | |
|----|-------------------------|
| 1) | Корсунь - Шевченковская |
| 2) | Висло - Одерская |
| 3) | Берлинская |

4)		Тепсамо - Киркинеская
5)		Восточно - Прусская
6)		Крымская

Задание №71

Кто из перечисленных ниже военачальников руководил обороной Сталинграда?

Выберите несколько из 6 вариантов ответа:

1)		В.И. Чуйков
2)		С.М. Будённый
3)		И.Д. Черняховский
4)		М.С. Шумилов
5)		А.И. Родимцев
6)		И.С. Конев

Задание №72

Какие события из перечисленных ниже относятся к к периоду Великой Отечественной войны?

Выберите несколько из 6 вариантов ответа:

1)		создание ГКО
2)		план Маршалла
3)		Тегеранская конференция
4)		"Рельсовая война"
5)		Брусилловский прорыв
6)		Мюнхенское соглашение

Часть 2.

Прочтите отрывок из мемуаров Г.К. Жукова и кратко ответьте на вопросы 1-2. Ответы предполагают использование информации из источника, а также применение исторических знаний по курсу истории соответствующего периода.

«В воздух взметнулись тысячи разноцветных ракет. По этому сигналу вспыхнули 140 прожекторов, расположенных через каждые 200 метров. Более 100 миллиардов свечей освещали поле боя, ослепляя противника и выхватывая из темноты объекты атаки для наших танков и пехоты. Это была картина огромной впечатляющей силы...

Гитлеровские войска были буквально потоплены в сплошном море огня и металла. Сплошная стена пыли и дыма висела в воздухе, и местами даже мощные лучи зенитных прожекторов не могли её пробить.

Наша авиация шла над полем боя волнами... Однако противник, придя в себя, начал оказывать противодействие со стороны Зееловских высот своей артиллерией, миномётами... появилась группа бомбардировщиков... И чем ближе подходили наши войска к Зееловским высотам, тем сильнее нарастало сопротивление врага...

20 апреля, на пятый день операции, дальнобойная артиллерия открыла огонь... Начался исторический штурм...»

- 1. О какой военной операции вспоминает маршал? В каком году она осуществлялась?*
- 2. Используя текст и знания по курсу истории, назовите не менее двух особенностей этой операции. Кто из советских военачальников отличился в этом сражении?*