

**Материал**  
**для подготовки к тестированию по истории России 8 класс М-4 базовый уровень**  
**Тема «Россия во второй половине XVIII века».**

№	Тема	Содержание
1.	Внутренняя политика Екатерины II, социально-экономическое развитие России во второй половине XVIII века.	Екатерина II – правительница России. «Просвещенный абсолютизм». Реформы Екатерины II. Развитие сельского хозяйства. Развитие промышленности. Развитие торговли
2.	Положение народных масс во второй половине XVIII века. Восстание под предводительством Е. Пугачёва	«Золотой век» дворянства. «Крестьянское житие». «Среднего рода люди». Причины восстания Е. Пугачёва. Пугачёв и его программа. Основные этапы восстания. Расправа над восставшими. Значение восстания.
3.	Международная система во второй половине XVIII века. Роль России в мировых событиях	Основные направления внешней политики. Русско-турецкая война 1768-1774 гг. Русско-турецкие отношения. Георгиевский трактат. Русско-турецкая война 1787-1791 гг. Греческий проект Екатерины II. Участие России в разделах Речи Посполитой. Война со Швецией. Политика «вооружённого нейтралитета». Борьба Екатерины II с революционной Францией. Результаты внешней политики Екатерины II.
4.	Внутренняя и внешняя политика Павла I.	Изменение порядка престолонаследия, преобразования Павла I в армии, управлении государством, решение крестьянского вопроса, политика в отношении дворянства. Покровительство России Мальтийскому ордену. Итальянский и Швейцарский походы А.В.Суворова.
5.	Культура России в XVIII веке.	Образование в России в XVIII веке. Развитие науки и техники. Архитектура, живопись и скульптура, музыкальное и театральное искусство.

**Понятия:** Буферное государство, месячина, коалиция, месячина, модернизация, «Просвещенный абсолютизм», каторга, межевание, секуляризация. Уложенная комиссия. Предводитель дворянства. Гильдия. Вооруженный нейтралитет.

**Персоналии:** Пётр III, Екатерина II, А.Н. Радищев, П. А. Румянцев, Г. А., Потёмкин, А. Г. Орлов, Г. А. Спиридов, А. В. Суворов, Девлет-Гирей, М. И. Кутузов, Ф.Ф. Ушаков, Павел I, Е.И. Пугачёв. Салават Юлаев.

*Ученые:* И.П.Кулибин, М.В.Ломоносов, А.И.Нартов, И.И.Ползунов.

*Писатели:* Н.М.Карамзин, Н.И.Новиков, А.Н.Радищев, В.Н.Татищев, Д.И.Фонвизин.

*Архитекторы:* В.И.Баженов, М.Ф.Казаков, В.В.Растрелли.

*Художники:* В.Л.Боровиковский, Д.Г.Левицкий, Ф.С.Рокотов.

*Скульпторы:* Ф.И.Шубин.

*Музыкальное и театральное искусство:* Д.С.Бортнянский, Ф.Г.Волков.

*Путешественники:* В.Беринг.

**Литература, пособия:**

Лекции

История России. 8 класс: учебник, часть 2, глава III-IV.

**Даты:**

1762-1796 – правление Екатерины II

1769-1774 – русско-турецкая война

1770, 26 июня – победа русского флота в Чесменском сражении

1770, 21 июля – победа русской армии в сражении при Кагуле

1773-1775 –восстание (крестьянская война) Емельяна Пугачёва  
 1774 – Кючук-Кайнарджийский мир с Османской империей  
 1775 – начало губернской реформы  
 1783 – присоединение Крыма к России  
 1785 – жалованные грамоты дворянству и городам  
 1787-1791 – Русско-турецкая война  
 1788-1790 – Русско-шведская война  
 1790, 11 декабря - взятие Измаила  
 1791 – Ясский мир с Османской империей  
 1772, 1793, 1795 – разделы Речи Посполитой  
 1799 г- Итальянский и Швейцарский походы А.В.Суворова.  
 1796-1801 гг- правление Павла I.  
 11 марта 1801 г- заговор и свержение Павла I.

Для получения допуска к тестированию необходимо иметь записи лекций, во время картографического практикума овладеть навыком чтения, разбора карт по изучаемому периоду, уметь показывать направление движения войск, знать места сражений, города, где были подписаны итоговые соглашения; важно совершенствовать умение работы с историческими текстами, их анализа и грамотного ответа на вопросы по тексту.

На заключительное семинарское занятие выносятся тема:

#### Банк заданий

##### Задание №1

Жалованная грамота дворянству была принята в

Выберите один из 4 вариантов ответа:

1)	1785 году
2)	1786 году
3)	1875 году
4)	1876 году

##### Задание №2

В каком году началась работа Уложенной комиссии, которая должна была, по мнению Екатерины II, составить новое Соборное уложение?

Выберите один из 4 вариантов ответа:

1)	1762 г.
2)	1765 г.
3)	1767 г.
4)	1770 г.

##### Задание №3

Укажите даты восстания Е.И.Пугачева

Выберите один из 4 вариантов ответа:

1)	1771-1777 годах
2)	1773-1775 годах
3)	1773-1777 годах
4)	1772-1775 годах

##### Задание №4

В каком году был издан Манифест о свободе предпринимательства, который разрешил открывать промышленные предприятия представителям всех сословий?

Выберите один из 4 вариантов ответа:

1)	1762 г.
2)	1775 г.
3)	1785 г.
4)	1796 г.

#### Задание №5

Жалованная грамота городам была принята в

Выберите один из 4 вариантов ответа:

1)	1785 году
2)	1786 году
3)	1875 году
4)	1876 году

#### Задание №6

Предводитель восстания Емельян Пугачёв выдавал себя за

Выберите один из 4 вариантов ответа:

1)	сына Петра II
2)	внука Петра I
3)	Ивана Антоновича
4)	Павла I

#### Задание №7

Во время восстания 1773-1775 годов во главе восставших башкир стоял

Выберите один из 4 вариантов ответа:

1)	Е. Пугачев
2)	С. Юлаев
3)	А. Овчинников
4)	А.И. Бибиков

#### Задание №8

Турецкую эскадру в Чесменской бухте уничтожила русская эскадра под командованием

Выберите один из 4 вариантов ответа:

1)	А.Г. Орлова и Г.А. Спиридова
2)	А.В. Суворова и А.Г. Орлова
3)	А.В. Суворова и Г.А. Спиридова
4)	А.В. Суворова и Г.А. Потемкина

#### Задание №9

Организатором дворцового переворота 1801 г. был:

Выберите один из 4 вариантов ответа:

1)		Г. Г. Орлов
2)		П. А. Пален
3)		А. А. Безбородко
4)		Н. И. Панин

#### Задание №10

Российским Черноморским флотом в Средиземном море в 1798—1800 гг. командовал:

Выберите один из 4 вариантов ответа:

1)		Г. А. Спиридов
2)		А. Г. Орлов
3)		Ф. Ф. Ушаков
4)		В. М. Долгорукий

#### Задание №11

Русской армией в Италии в 1799 г. командовал:

Выберите один из 4 вариантов ответа:

1)		А. В. Суворов
2)		П. А. Румянцев
3)		С. Ф. Апраксин
4)		П. С. Салтыков

#### Задание №12

Создателем первого русского профессионального театра был

Выберите один из 4 вариантов ответа:

1)		Д.И.Фонвизин
2)		Ф.П.Шубин
3)		Ф.Г.Волков
4)		В.И.Баженов

#### Задание №13

Издателем сатирических журналов "Трутень", "Живописец" был(а):

Выберите один из 4 вариантов ответа:

1)		Екатерина II
2)		Е.Р.Дашкова
3)		А.Н.Радищев
4)		Н.И.Новиков

#### Задание №14

Инициатором основания Московского университета являлся

Выберите один из 4 вариантов ответа:

1)		Ф.И.Янкович
2)		М.В.Ломоносов
3)		И.П.Кулибин
4)		Ф.Г.Волков

#### Задание №15

Укажите русского писателя, который первым в художественной форме поставил проблему ликвидации самодержавия и крепостничества

Выберите один из 4 вариантов ответа:

1)		А.П.Волынский
2)		Г.Р.Державин
3)		А.Н.Радищев
4)		Д.И.Фонвизин

#### Задание №16

Автором первого научного исторического труда "История Российская" является

Выберите один из 4 вариантов ответа:

1)		В.Н.Татищев
2)		М.М.Щербатов
3)		Н.М.Карамзин
4)		М.В.Ломоносов

#### Задание №17

Запишите понятие о котором идет речь.  
Обращение государством церковной собственности в светскую.

Запишите понятие со строчной буквы в им.п, ед.ч.

Запишите ответ:

1)	Ответ:	
----	--------	--

#### Задание №18

Запишите понятие о котором идет речь.  
Политика абсолютизма в ряде европейских стран второй половины XVIII века, которая выражалась в преобразовании наиболее устаревших сторон жизни общества по инициативе монарха-реформатора.

Понятие запишите со строчной буквы, без пробелов, в им.п, ед.ч.

Запишите ответ:

1)	Ответ:	
----	--------	--

#### Задание №19

Запишите понятие о котором идет речь.  
Временный коллегиальный орган в истории России XVIII века, создаваемый для кодификации законов, вступивших в силу после Соборного уложения 1649 года.

Запишите понятие со строчной буквы, без пробелов, в им.п, ед.ч.

Запишите ответ:

1) Ответ:

### Задание №20

Месячина- это

Выберите один из 4 вариантов ответа:

- |    |  |
|----|--|
| 1) | расчетная, вспомогательная денежная единица Российской империи XVIII века                          |
| 2) | содержание, получаемое натурой от помещика за работу на поле безземельными крепостными крестьянами |
| 3) | работы крестьян в хозяйстве феодала за пользование господской землей                               |
| 4) | плата крестьян 1/10 части урожая церкви  |

### Задание №21

"Прелестные грамоты" -это

Выберите один из 4 вариантов ответа:

- |    |   |
|----|---|
| 1) | документ Е. Пугачева, в котором он обещал свободу восставшим    |
| 2) | документ Екатерины II, в котором она обещала свободу восставшим |
| 3) | документ, который отменял крепостное право                      |
| 4) | документ, который ограничивал крепостное право                  |

### Задание №22

Небольшое или зависимое государство, расположенное между двумя или несколькими крупными странами и вынужденное маневрировать между ними - это

Выберите один из 4 вариантов ответа:

- |    |                      |
|----|----------------------|
| 1) | буферное государство |
| 2) | коалиция             |
| 3) | нейтралитет          |
| 4) | колония              |

### Задание №23

"Союз" - другими словами - это

Выберите один из 4 вариантов ответа:

- |    |                      |
|----|----------------------|
| 1) | буферное государство |
| 2) | коалиция             |
| 3) | нейтралитет          |
| 4) | колония              |

### Задание №24

Прочитайте отрывок из исторического документа и определите, о ком идет речь.

"\_\_\_\_\_ занимает особое место в истории нашей страны как один из величайших ее полководцев. ....начал службу в армии с 18 лет. ...Его талант был признан во всех европейских столицах.....в своей книге "Наука побеждать" сущность применяемой им тактики в известной триаде: глазомер, быстрота, натиск"

Выберите один из 4 вариантов ответа:

1)		А.В. Суворов
2)		Г.А. Потемкин
3)		Г.А. Спиридов
4)		Салават Юлаев

#### Задание №25

Прочитайте отрывок из исторического документа и определите, о ком идет речь.

*"----- можно считать автором "Крымского проекта Екатерины II. ...В особой записке " О Крыме", поданной императрице, он начертал план овладения Крымом, который и был успешно осуществлен в течение 1776- 1783 годов..."*

Выберите один из 4 вариантов ответа:

1)		А.В. Суворов
2)		Г.А. Потемкин
3)		Г.А. Спиридов
4)		Давлет IV Гирей

#### Задание №26

Одним из последствий восстания под предводительством Е. И. Пугачёва стало

Выберите один из 4 вариантов ответа:

1)		прекращение деятельности Уложенной комиссии
2)		проведение губернской реформы
3)		введение бессрочного сыска беглых крестьян
4)		проведение секуляризации церковных земель

#### Задание №27

К причинам поражения выступления народа под предводительством Е. Пугачева можно отнести

Выберите один из 4 вариантов ответа:

1)		стихийный характер
2)		относительная локальность
3)		социальные противоречия в лагере восставших
4)		все верно

#### Задание №28

К значению выступления народа под предводительством Е. Пугачева можно отнести

Выберите один из 4 вариантов ответа:

1)		самое крупное народное выступление в России
2)		соединение антикрепостнического и национального движения
3)		поражение восстания, которое привело к репрессивному характеру внутренней политики властей по отношению к податному сословию
4)		все верно

#### Задание №29

В России первые известия о Французской революции восприняли как

Выберите один из 4 вариантов ответа:

1)	бунт голодной черни
2)	угрозу российской монархии
3)	катастрофу
4)	событие, не имеющее большого значения

### Задание №30

Установите соответствие между событиями и датами

Укажите соответствие для всех 4 вариантов ответа:

1)	Манифест о свободе предпринимательства	1)	1762 г.
2)	Манифест о вольности дворянства	2)	1769 г.
3)	выпуск первых ассигнаций	3)	1775 г.
4)	Жалованная грамота дворянству	4)	1785 г.

### Задание №31

Установите соответствие между событиями и датами

Укажите соответствие для всех 4 вариантов ответа:

1)	Манифест о свободе предпринимательства	1)	1765 г.
2)	учреждение в Москве и Петербурге Ассигнационных банков	2)	1766 г.
3)	создание Вольного экономического общества	3)	1775 г.
4)	начало генерального межевания	4)	1769 г.

### Задание №32

Какие права предоставляла Жалованная грамота дворянству 1785 г.? Выберите из списка ТРИ верных ответа

Выберите несколько из 6 вариантов ответа:

1)	право составлять жалобы и ходатайства губернатору
2)	право избирать в губерниях и уездах дворянские собрания
3)	право избирать постоянных представителей в Государственную думу
4)	право получать мануфактуры от промышленников, если это соответствует интересам дворянина
5)	право избирать губернских и уездных предводителей дворянства
6)	право отказа от обязательной государственной службы

### Задание №33

Какие ТРИ положения вводила Жалованная грамота городам, изданная в 1785 г.?

Выберите несколько из 6 вариантов ответа:

1)	избрание городского головы и городской думы
2)	полное освобождение от всех налогов жителей города
3)	предоставление избирательного права всем жителям города
4)	передача вопросов благоустройства города городскому самоуправлению



5)		контроль за санитарным состоянием города органами городского самоуправления
6)		освобождение городских жителей от телесных наказаний

#### Задание №34

Какие права получили дворяне по Жалованной грамоте дворянству 1785 г.? Выберите ТРИ верных ответа.

Выберите несколько из 6 вариантов ответа:

1)		право избирать губернских и уездных предводителей дворянства
2)		право избирать государя
3)		право формировать регулярный парламент
4)		право собственности на недра и леса
5)		освобождение от пыток и телесных наказаний
6)		право самостоятельно судить своих крепостных

#### Задание №35

Какие права и привилегии вводила Жалованная грамота дворянству? Выберите из списка ТРИ верных ответа

Выберите несколько из 6 вариантов ответа:

1)		создание дворянского самоуправления
2)		ограниченный срок службы - 25 лет
3)		освобождение дворян от пыток и телесных наказаний
4)		лишение дворянского звания из-за жалоб крестьян
5)		запрещение конфискации наследственных имений
6)		избрание губернских и уездных предводителей в Сенат

#### Задание №36

Назовите ТРИ причины восстания под предводительством Е. Пугачёва.

Выберите несколько из 6 вариантов ответа:

1)		расширение привилегий крестьян
2)		написание трактатов в поддержку отмены крепостного права
3)		усиление произвола со стороны помещиков
4)		расширение прав дворянства распоряжаться своими крестьянами
5)		несправедливая национальная политика
6)		запрет привлекать крестьян для работы на мануфактурах

#### Задание №37

Назовите ТРИ причины восстания под предводительством Е.И. Пугачёва.

Выберите несколько из 6 вариантов ответа:

1)		бесправие крепостных
2)		расширение вольностей крестьян
3)		тяжелое положение рабочих на мануфактурах
4)		увеличение вольнонаёмного труда на мануфактурах
5)		отношение к представителям национальных окраин, как к людям "второго сорта"
6)		ослабление крепостного права в России

**Задание №38**

Установите соответствие между событиями и датами, когда они произошли

Укажите соответствие для всех 3 вариантов ответа:

1)	Проведение губернской реформы Екатериной II	1)	1772 г
2)	Присоединение Крыма к России	2)	1775 г
3)	Подписание Ясского мирного договора между Османской империей и Россией	3)	1783 г
		4)	1785 г
		5)	1791 г

**Задание №39**

Установите соответствие между событиями и датами, когда они произошли

Укажите соответствие для всех 3 вариантов ответа:

1)	Чесменское сражение	1)	1770 г
2)	Подписание Кючук-Кайнарджийского мирного договора	2)	1774 г
3)	Третий раздел Речи Посполитой	3)	1783 г
		4)	1785 г
		5)	1795 г

**Задание №40**

Расположите в хронологической последовательности следующие события.

Укажите порядок следования всех 4 вариантов ответа:

1)	издание "Манифеста о вольности дворянской"
2)	основание в Петербурге Института благородных девиц
3)	основание Вольного экономического общества
4)	написание Екатериной специального "Наказа" для Уложенной комиссии

**Задание №41**

Расположите в хронологической последовательности следующие события.

Укажите порядок следования всех 4 вариантов ответа:

1)	Указ о запрете крестьянам писать на имя императрицы жалобы на своих помещиков
2)	Учреждение Ассигнационных банков в Москве и Петербурге
3)	Чумной бунт в Москве
4)	Начало полугодовой осады Оренбурга пугачевцами

**Задание №42**

Расположите в хронологической последовательности следующие события.

Укажите порядок следования всех 4 вариантов ответа:

1)	основание Севастополя в Крыму
2)	путешествие Екатерины II в Крым

3)	арест издателя, журналиста Н.И. Новикова и приговор его к 15-летнему тюремному сроку
4)	основание Императорской публичной библиотеки в Петербурге повелением Екатерины II

#### Задание №43

Расположите события в хронологической последовательности

Укажите порядок следования всех 4 вариантов ответа:

1)	Второй раздел Речи Посполитой
2)	Сражение русской армии с турками у реки Кагул
3)	Взятие крепости Измаил русскими войсками
4)	Подписание Кючук-Кайнарджийского мирного договора

#### Задание №44

Установите соответствие между понятием и определением:

Укажите соответствие для всех 4 вариантов ответа:

1)	секуляризация	1)	вид наказания, предполагавший лишение свободы, строгий режим содержания и привлечение к тяжелому физическому труду
2)	каторга	2)	обращение государством церковной земельной собственности в светскую
3)	межевание	3)	монархическая власть, не ограниченная каким-либо выборным органом
4)	абсолютизм	4)	определение на местности и оформление границ земельных владений

#### Задание №45

Установите соответствие между понятием и его определением:

Укажите соответствие для всех 4 вариантов ответа:

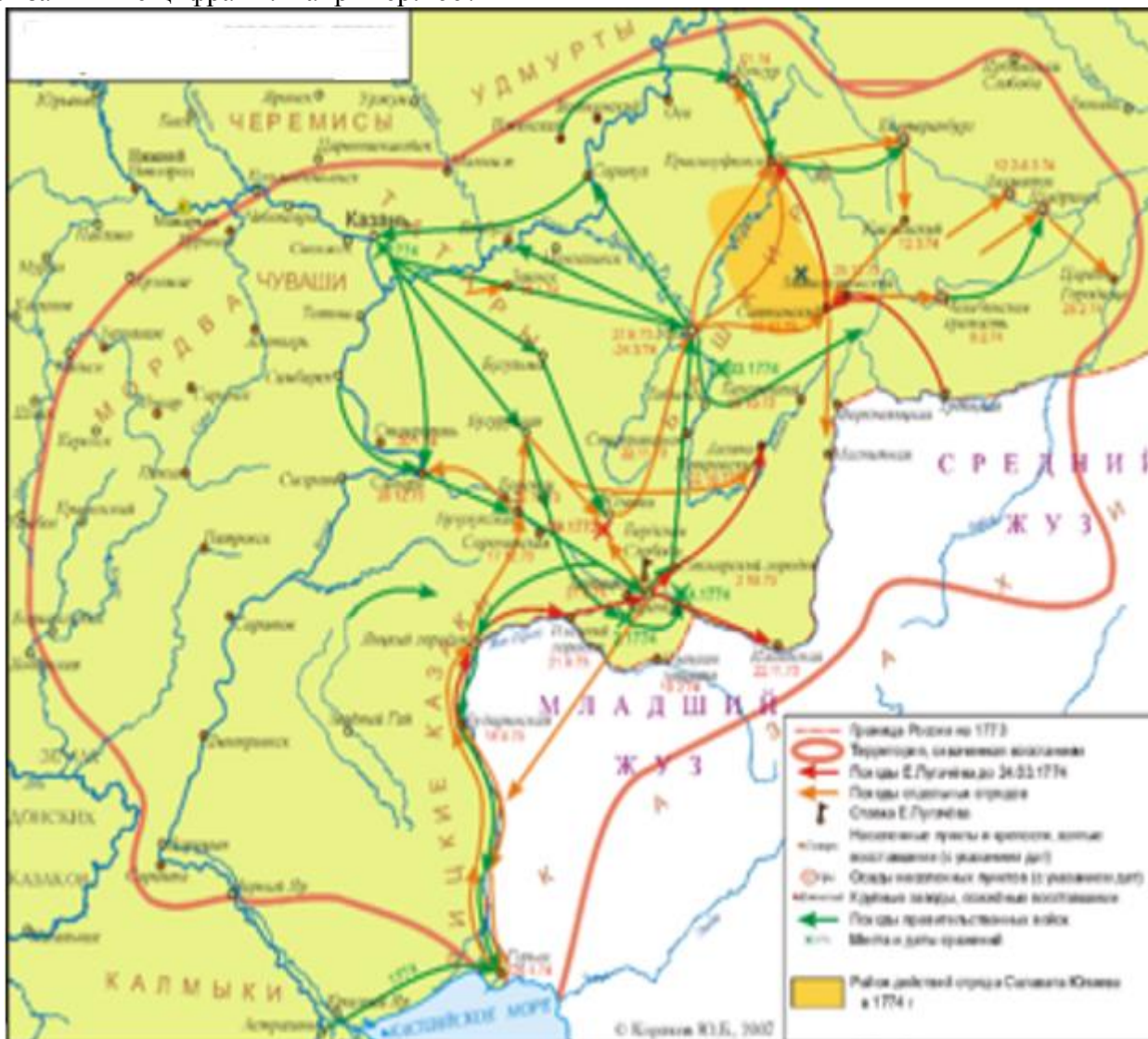
1)	коалиция	1)	выдвинутое Россией понятие, означающее право нейтральных стран защищать силой оружия свободу морской торговли с воюющими государствами во время войны
2)	месячина	2)	обновление основных сторон жизни общества
3)	модернизация	3)	политический или военный союз государств для совместных действий
4)	военный нейтралитет	4)	содержание, получаемое крестьянами от помещиков натурой (одежда и еда) на месяц.

#### Задание №46

Рассмотрите карту и выполните задание.

Укажите дату начала события, отраженного на карте.

Ответ запишите цифрами. Например:1667



Запишите число:

1)

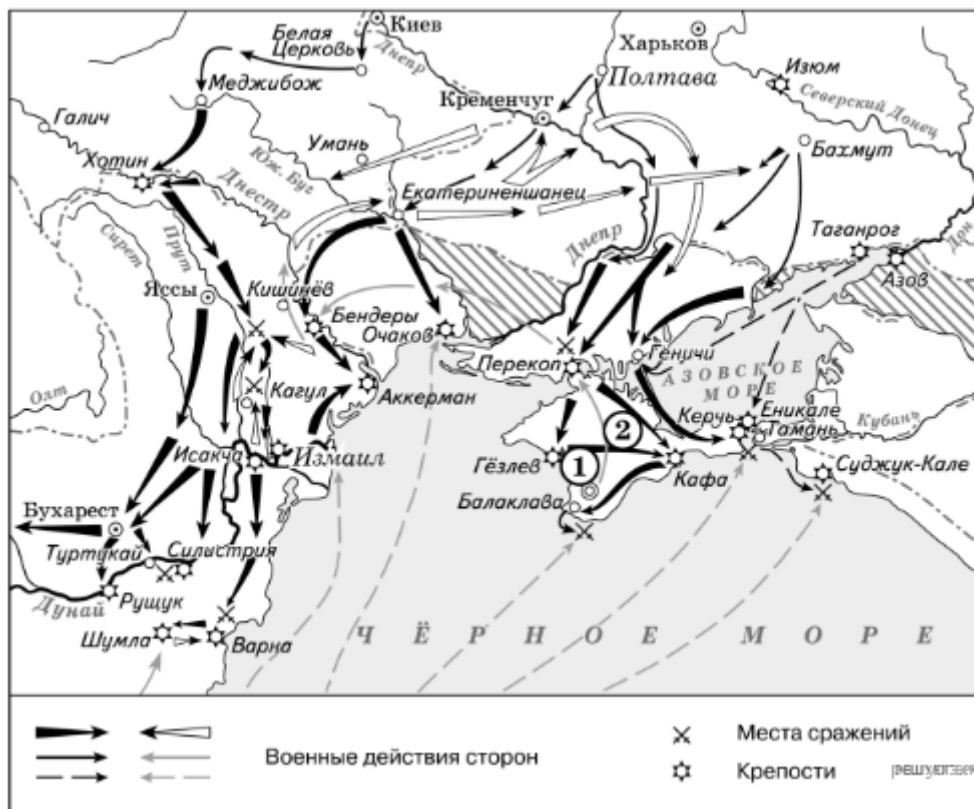
Ответ:

### Задание №47

Рассмотрите карту и выполните задание.

Укажите дату начала события, изображенного на карте.

Ответ запишите цифрами. Например:1667



Запишите число:

1)

Ответ:

### Задание №48

Рассмотрите карту и выполните задание.

Напишите название города, обозначенного на карте цифрой "3".

Ответ запишите со строчной буквы.



Запишите ответ:

1)

Ответ:

### Задание №49

Рассмотрите карту и выполните задание.

Напишите название города, обозначенного на карте цифрой "2".

Ответ запишите со строчной буквы.



Запишите ответ:

1)

Ответ:

### Задание №50

Рассмотрите иллюстрацию и выполните задание

Напишите фамилию полководца, изображенного на картинке

Запишите фамилию со строчной буквы



Запишите ответ:

1)

Ответ:

### Задание №51

Рассмотрите изображение и выполните задание

Напишите фамилию знаменитого мореплавателя, адмирала, изображенного на иллюстрации

Запишите фамилию со строчной буквы



Запишите ответ:

1)

Ответ:

### Задание №52

Рассмотрите иллюстрацию и выполните задание.

Напишите год, когда произошло изображенное событие

Ответ запишите арабскими цифрами (например, 1893)



Запишите число:

1)

Ответ:

### Задание №53

Рассмотрите иллюстрацию и выполните задание

Напишите год, когда произошло изображенное событие

Ответ запишите арабскими цифрами (например, 1893)



Запишите число:

1)

Ответ:



### Задание №54

Рассмотрите иллюстрацию и выполните задание.

Назовите событие, которому посвящена картина.

Ответ запишите со строчной буквы без пробелов, например: войнамировая.



Запишите ответ:

1)

Ответ:

### Задание №55

Рассмотрите иллюстрацию и выполните задание

Назовите событие, которому посвящена картина

Ответ запишите со строчной буквы без пробелов, например:  
войнамировая.



Запишите ответ:

1)	Ответ:	
----	--------	--

### Задание №56

Письменное задание №1, проверяется и оценивается учителем в 3 балла.

Для продолжения тестирования наберите 1.

Запишите число:

1)	Ответ:	
----	--------	--

### Задание №57

Политика Павла I в отношении крестьянства включала в себя:

Выберите несколько из 5 вариантов ответа:

1)		отмену правила, запрещающего крестьянам жаловаться на своих хозяев
2)		установление права помещика ссылать крестьян в Сибирь и на каторгу
3)		наделение помещиков правом применять к крестьянам любые карательные меры
4)		замену хлебной подати денежным сбором
5)		массовую раздачу государственных крестьян в частные руки

### Задание №58

Политика Павла I в отношении крестьянства включала в себя:

Выберите несколько из 5 вариантов ответа:

1)		массовую раздачу государственных крестьян в частные руки
2)		установление права помещика по-своему усмотрению увеличивать барщину
3)		ограничение барщины тремя днями
4)		освобождение крестьян от крепостной зависимости за выкуп
5)		запрет на продажу дворовых людей и крестьян без земли

### Задание №59

Мероприятия Павла I в отношении дворянства:

Выберите несколько из 5 вариантов ответа:

1)		введение налога на дворян для содержания местной администрации
2)		ограничение «свободы дворянских собраний»
3)		подтверждение права дворян создавать дворянские общества в губерниях и уездах
4)		отмена права дворян обращаться с просьбами и жалобами к самодержцу
5)		применение к дворянам телесных наказаний

### Задание №60

Мероприятия Павла I в отношении дворянства:

Выберите несколько из 5 вариантов ответа:

1)		восстановление указа Петра I о единонаследии
2)		запрет на свободный переход из армейской службы в гражданскую без особого разрешения

3)		восстановление обязательной службы дворян
4)		отмена указа Екатерины II, по которому дворяне объявлялись собственниками не только земли, но и ее недр
5)		разрешение помещикам ссылать своих крестьян на каторгу в Сибирь

### Задание №61

Укажите о ком идет речь в тексте.

Кому А. С. Пушкин посвятил эти строчки: «Соединяя необыкновенную силу воли с необыкновенной силой понятий обнял все отрасли просвещения. Жажда науки была сильнейшей страстью сей души, исполненной страстей. Историк, ритор, механик, химик, минералог, художник и стихотворец, он все испытал и все проник ...»

(Ответ запишите со строчной буквы, только фамилию)

Запишите ответ:

1)	Ответ:	
----	--------	--

### Задание №62

Укажите о ком идет речь в тексте.

Механик-самоучка, которого Г. Р. Державин назвал «Архимедом наших» дней». Екатерина II назначила его механиком при Академии наук. Под его руководством в механической мастерской изготавливались различные станки, приборы, инструменты. Особенно много сделал он для царского двора. Так, поразительное зрелище представляют его часы «яичной фигуры», которые хранятся в петербургском Эрмитаже. Механизм часов до сих пор исправлен.

(Ответ запишите со строчной буквы, только фамилию)

Запишите ответ:

1)	Ответ:	
----	--------	--

### Задание №63

Установите соответствие между деятелями и направлением искусства, к которому они относятся

Деятели

Направление искусства

Укажите соответствие для всех 4 вариантов ответа:

1)		Ломоносов М.В.	1)	театр
2)		Волков Ф.Г.	2)	наука
3)		Боровиковский В.Л.	3)	архитектура
4)		Растрелли В.В.	4)	техника
			5)	живопись

### Задание №64

Установите соответствие между деятелями науки, искусства и видами искусства, к которым они относятся

Деятели искусства

Вид искусства

Укажите соответствие для всех 4 вариантов ответа:

1)		Державин Г.Р.	1)	театр
2)		Рокотов Ф.С.	2)	живопись

3)		Баженов В.И.	3)	техника
4)		Ползунов И.И.	4)	литература
			5)	архитектура

### Задание №65

Установите соответствие между деятелями искусства и их произведениями

Деятель искусства

Произведение

Укажите соответствие для всех 4 вариантов ответа:

1)		Татищев В.Н.	1)	«Путешествие из Петербурга в Москву»
2)		Радищев А.Н.	2)	«История Российская»
3)		Левицкий Д.Г.	3)	Картина «Екатерина-законодательница»
4)		Баженов В.И.	4)	комедия «Недоросль»
			5)	дом Пашкова

### Задание №66

Установите соответствие между архитекторами и их творениями

Архитектор

Памятник архитектуры

Укажите соответствие для всех 4 вариантов ответа:

1)		В.И.Баженов	1)	Зимний дворец
2)		В.В.Растрелли	2)	Таврический дворец
3)		И. Е.Старов	3)	Дом Пашкова
4)		М.Ф.Казаков	4)	Екатерининский дворец в Царском селе
			5)	Московский Государственный Университет

### Задание №67

Какие суждения о данном изображении являются верными? Выберите два суждения из пяти предложенных. Запишите цифры, под которыми они указаны.



Выберите несколько из 5 вариантов ответа:

1)	Данный памятник является образцом реалистического направления в искусстве.
2)	Данный памятник установлен по повелению императрицы Екатерины II.
3)	Император, которому установлен памятник, правил во второй четверти XVIII в.
4)	Данный памятник известен под названием «Медный всадник»
5)	Автором данного памятника является Ф.И. Шубин.

### Задание №68

Какие суждения о данном изображении являются верными? Выберите два суждения из пяти предложенных. Запишите цифры, под которыми они указаны.



Выберите несколько из 5 вариантов ответа:


1)	Данный памятник зодчества был создан в XVIII в.
2)	На фото представлено изображение дома Пашкова, автором которого был зодчий В.И. Баженов.
3)	Создание этого памятника архитектуры относится к XIX в.
4)	Этот памятник зодчества создал архитектор И.Е. Старов.
5)	Этот памятник зодчества находится в г. Санкт-Петербурге.

### Задание №69

Какие из приведённых памятников культуры были созданы во второй половине XVIII в.? Выберите два памятника культуры и запишите цифры, под которыми они указаны

- 1) «Путешествие из Петербурга в Москву»;
- 2) «Повесть об Азовском осадном сидении»;
- 3) «Новый летописец»

Ответ запишите цифрами в порядке возрастания.



Запишите число:


1) Ответ:

### Задание №70

Какие из приведённых памятников культуры были созданы в XVIII в.? Выберите два памятника культуры и запишите цифры, под которыми они указаны.

- 1) «Слово о полку Игореве»
- 2) Роман «Бесы»
- 3) «Путешествие из Петербурга в Москву»

Ответ запишите цифрами в порядке возрастания.



Запишите число:

1) Ответ:

Примерное задание формирующее функциональную грамотность:

*Прочитайте сочинение историка и выполните задание:*

**Из сочинения историка**

«Император был человеком капризным, легко менял свои привязанности и к тому же отличался болезненной подозрительностью. Эти черты, несомненно, наложили свой отпечаток на его внутреннюю политику. Внешняя политика императора отличалась такой же экстравагантностью, как и внутренняя.

Во главе русско-австрийских войск Суворов совершил поход в Северную Италию, где в сражениях на реках Адде, Требии, а также при Нови одержал победы над французскими войсками. Одновременно с сухопутными войсками русская эскадра Ф. Ф. Ушакова побеждала в Средиземном море, изгоняя французов из Ионического архипелага, где под протекторатом России возникла республика — первое независимое от турок греческое государство. После этого император довольно неожиданно порвал союз с Англией, запретил ввоз и вывоз английских товаров и начал сближаться с Наполеоном, который к этому времени упрочил свою власть во Франции. В стремлении помочь новому другу император внезапно предписал русской армии (40 казачьих полков) выступить в поход на завоевание Британской Индии.

В то же время император со свойственным ему жаром и интересом к игре в рыцари так увлёкся судьбой Мальты, что после бегства в 1798 г. с острова гротмейстера ордена неожиданно для всех принял титул его главы, хотя европейские державы не поддержали его претензий. Некоторые историки считают, что император находился в плену идеи удушения Французской революции путём объединения в Мальтийском ордене под его руководством дворян всей Европы».

1. Назовите императора, о котором идёт речь в данном отрывке, и укажите годы его правления.
2. Как автор оценивает внешнюю политику Павла I. Укажите два факта, приведённые в подтверждение этого положения.