

**Материалы**  
**для подготовки к тестированию по истории 6 класс М-5 базовый уровень**  
**по теме: «Московская Русь и события мировой истории в XIV- XV веках»**

Тема	Содержание
Кризис XIV столетия в Европе.	Экономическое и социальное развитие европейских стран. Столетняя война; Жанна д'Арк. Обострение социальных противоречий в XIV в. (Жакерия, восстание Уотта Тайлера).
Политическая карта Европы и русских земель в начале XV	Борьба Литовского и Московского княжеств за объединение русских земель. Распад Золотой Орды и его влияние на политическое развитие русских земель. Большая Орда, Крымское, Казанское, Сибирское ханства, Ногайская Орда и их отношения с Московским государством
Московская Русь в XIV в.	Причины и основные этапы объединения русских земель. Москва и Тверь: борьба за великое княжение. Возвышение Москвы. Московские князья и их политика. Княжеская власть и церковь. Дмитрий Донской и Сергей Радонежский. Куликовская битва, ее значение.
Формирование единого русского государства	Междоусобная война в Московском княжестве во второй четверти XV в. Василий Тёмный. Новгород и Псков в XV в. Иван III.
Страны Азии в период средневековья	Османская империя: завоевания турок - османов, управление империей. Китай: империи, правители и подданные, борьба против завоевателей. Япония в Средние века. Индия: раздробленность индийских княжеств, вторжение мусульман. Делийский султанат.

**Понятия:** Кормление. Царь. Государственная символика. Герб. Поместье.

**Персоналии:** Даниил Московский. Михаил Ярославич Тверской. Юрий Данилович. Иван Калита, Семён гордый, Иван Красный, Даниил Заточник. Сергей Радонежский, митрополит Пётр, Алексей, Иона. Софья Витовтовна. Ольгерд Ягайло. Витовт. Узбек. Мамай. Тохтамыш. Едигей. Тимур. Дмитрий Донской, Дмитрий Боброк, Пересвет, Чолубей, Василий Тёмный. Иван III. Юрий Дмитриевич. Дмитрий Шемяка. Марфа Борецкая. София (Зоя) Палеолог. Филипп IV Красивый. Карл VII. Жанна д'Арк, Уотт Тайлер, Гильом Каль. Роджер Бэкон, Кретьен де Труа. Иоганн Гутенберг, Данте Алигьери, Мазаччо, Боттичели. Мехмед II,

**Даты:**

- 1206 – образование Делийского султаната в Индии
- 1325-1340 – княжение Ивана Калиты.
- 1327 – антиордынское восстание в Твери
- 1337-1453- Столетняя война
- 1347 – 1350 – эпидемия чумы – «Чёрная смерть»
- 1356- битва при Пуатье
- 1358- Жакерия
- 1359-1389 – княжение Дмитрия Донского
- 1381- восстание Уотта Тайлера
- 1378, 11 августа – битва на р. Воже
- 1380, 8 сентября – Куликовская битва
- 1382 – разорение Москвы Тохтамышем
- 1383-1389 – закрепление великого княжения Владимирского за московским княжеским домом
- 1389 – 1425 – княжение Василия I
- 1395 – разгром Золотой Орды Тимуром
- 1445- первая печатная книга И. Гутенберга
- 1453 – завоевание Константинополя турками-османами
- 1425-1453 – междоусобная война в Московском княжестве
- 1425-1462 – княжение Василия II

- 1448 – установление автокефалии Русской церкви
- 1462-1505 – княжение Ивана III
- 1472 – прекращение выплаты дани в Орду
- 1478 – присоединение Новгородской земли к Москве
- 1480 – «стояние» на р. Угре
- 1485 – присоединение Тверского великого княжества к Москве
- 1487-1503 – присоединение Чернигово-Северской и части Смоленской земель
- 1497 – принятие общерусского Судебника

**Материал для подготовки:**

Искровская Л.В. Всеобщая история. История средних веков: 6 класс: § 21,22,25,27,28,29,30,32  
 История России. 6 класс. Часть 2 §20,21,23,24,25,26

Для того, чтобы получить допуск к тесту учащийся должен выполнить следующие виды работ:

- оформить лекционную тетрадь;
- работа с документом;
- картографический практикум (контурная карта);
- исторический диктант;

Выполнение каждого вида работ подтверждается отметкой учителя в зачётном листе и допуском к итоговому тесту.

Банк заданий

**Задание №1**

Отметьте даты правления Ивана Калиты

Выберите один из 4 вариантов ответа:

1)	1303-1325 гг.
2)	1325-1340 гг.
3)	1340-1353 гг.
4)	1353-1359 гг.

**Задание №2**

Взятие Константинополя турками- османами произошло в

Выберите один из 4 вариантов ответа:

1)	1352 году
2)	1386 году
3)	1445 году
4)	1453 году

**Задание №3**

Сражение, в котором "сошлись грозно обе силы великие... на поле Куликовом" произошло в

Выберите один из 4 вариантов ответа:

1)	1223 году
2)	1242 году
3)	1380 году
4)	1480 году

**Задание №4**

Восстание Уотта Тайлера произошло в Англии в

Выберите один из 4 вариантов ответа:

1)	1381 г.
----	---------

2)		1358 г.
3)		1345 г.
4)		1302 г.

#### Задание №5

В 1358 г. произошло

Выберите один из 4 вариантов ответа:

1)		восстание Уотта Тайлера в Англии
2)		восстание Жакерия во Франции
3)		гуситские войны в Чехии
4)		начало Столетней войны

#### Задание №6

Столетняя война произошла

Выберите один из 4 вариантов ответа:

1)		в 1337-1437 гг.
2)		в 1337-1453 гг.
3)		в 1337- 1471 гг.
4)		в 1328-1428 гг.

#### Задание №7

Монгольская империя окончательно распалась в

Выберите один из 4 вариантов ответа:

1)		XIII в.
2)		XIV в.
3)		XV в.
4)		XVI в.

#### Задание №8

В каком году закончилась междоусобная война за московский престол между наследниками Дмитрия Донского?

Выберите один из 4 вариантов ответа:

1)		1425 г.
2)		1433 г.
3)		1453 г.
4)		1462 г.

#### Задание №9

Укажите даты правления Ивана III Великого

Выберите один из 4 вариантов ответа:

1)		1389-1425 гг.
2)		1425-1462 гг.
3)		1462-1505 гг.
4)		1505-1533 гг.

#### Задание №10

Укажите дату события, которое вошло в историю под названием «стояние на Угре»

Выберите один из 4 вариантов ответа:

1)		1380 г.
2)		1408 г.

3)		1480 г.
4)		1511 г.

### Задание №11

Когда был принят первый свод законов единого государства — Судебник?

Выберите один из 4 вариантов ответа:

1)		1480 г.
2)		1497 г.
3)		1505 г.
4)		1520 г.

### Задание №12

Восстание в Твери против родственника хана Чолхана и его отряда

Выберите один из 4 вариантов ответа:

1)		распространилось по всем русским землям и переросло в общенациональное восстание
2)		привело к смене власти в Орде
3)		подавлено Иваном Калитой
4)		подавлено польскими войсками

### Задание №13

Столетняя война (1337-1453 годов)- это война

Выберите один из 4 вариантов ответа:

1)		между Швецией и Англией
2)		между Францией и Англией
3)		между Францией и Данией
4)		между Индией и Китаем

### Задание №14

Какие сооружения стали строиться в индийских городах после образования Делийского султаната?

Выберите один из 4 вариантов ответа:

1)		пагоды
2)		мечети и мавзолеи
3)		индуистские храмы
4)		христианские храмы

### Задание №15

Какое событие XIV века современники называли "чёрной смертью"?

Выберите один из 4 вариантов ответа:

1)		эпидемию чумы в Западной Европе
2)		Столетнюю войну
3)		османское завоевание в Европе
4)		нашествие монголов

### Задание №16

В состав какого государства в начале XV в. входили Черниговское, Турово-Пинское и Смоленское княжества?

Выберите один из 4 вариантов ответа:

1)		Московского княжества
2)		Монгольской империи
3)		Киевского княжества

4)	Великого Литовского княжества
----	-------------------------------

### Задание №17

В мировой истории в XIV-XV вв. происходили глобальные изменения. Какие торговые пути стали складываться в этот период?

Выберите один из 4 вариантов ответа:

1)	к берегам Австралии
2)	к берегам Антарктиды
3)	пути, соединяющие Европу, Индию и Китай
4)	пути, соединяющие Европу, Австралию и Океанию

### Задание №18

Соперник Московского княжества в объединении Русских земель в XV в.

Выберите один из 4 вариантов ответа:

1)	Рязанское княжество
2)	Черниговское княжество
3)	Великое княжество Литовское
4)	Новгородская земля

### Задание №19

Каким событием прекратилась междоусобная война русских князей в XV в.?

Выберите один из 4 вариантов ответа:

1)	ордынским походом на Русь
2)	смертью Дмитрия Шемяки в Новгороде
3)	изгнанием Василия II с московского престола
4)	смертью Василия Косого

### Задание №20

Территория, присоединённая к Московскому княжеству в правление Ивана III, где были отменены вечевые порядки, а вечевой колокол увезён в Москву, — это

Выберите один из 4 вариантов ответа:

1)	Ростовское княжество
2)	Новгородская земля
3)	Смоленское княжество
4)	Ярославское княжество

### Задание №21

Какое княжество — давний соперник Москвы в борьбе за ярлык — перешло под власть Москвы в правление Ивана III, что можно расценивать как создание единого Русского государства?

Выберите один из 4 вариантов ответа:

1)	Ростовское княжество
2)	Тверское княжество
3)	Псковское княжество
4)	Великое Литовское княжество

### Задание №22

Иван III после женитьбы на греческой царевне Софье Палеолог стал считать себя преемником династии

Выберите один из 4 вариантов ответа:

1)	французской
2)	византийской
3)	монгольской

4)		литовской
----	--	-----------

### Задание №23

С каким из данных событий (процессов) связано слово «судебник»?

Выберите один из 4 вариантов ответа:

1)		Крестовые походы
2)		процесс создания централизованного Русского государства
3)		нашествие Батыя на Русь
4)		феодалная раздробленность на Руси

### Задание №24

С каким из данных событий (процессов) связано слово «турки-османы»?

Выберите один из 4 вариантов ответа:

1)		падение Византийской империи
2)		формирование Древнерусского государства
3)		политическое развитие Северо-Восточной Руси во второй половине XII в.
4)		защита русских земель от вторжений с северо-запада в XIII в.

### Задание №25

С каким из данных событий (процессов) связано слово «Жакерия»?

Выберите один из 4 вариантов ответа:

1)		распространение христианской веры в государстве Русь в XI в.
2)		внутренняя политика князей государства Русь (882–972 гг.)
3)		оборона северо-западных границ русских земель в XIII в.
4)		участие Франции в Столетней войне

### Задание №26

Первый князь Московского княжества — Даниил — был сыном князя

Выберите один из 4 вариантов ответа:

1)		Юрия Долгорукого
2)		Михаила Тверского
3)		Александра Невского
4)		Владимира Святого

### Задание №27

Московский князь Юрий Данилович вступил в конфликт по поводу ярлыка на великое княжение владимирское с князем

Выберите один из 4 вариантов ответа:

1)		Александром Невским
2)		Михаилом Ярославичем Тверским
3)		Иваном Калитой
4)		Дмитрием Донским

### Задание №28

Современником князя Дмитрия Ивановича был церковный деятель

Выберите один из 4 вариантов ответа:

1)		патриарх Иов
2)		патриарх Адриан
3)		преподобный Сергий Радонежский
4)		патриарх Никон

### Задание №29

Засадный полк русских войск, который решил исход Куликовской битвы, возглавили

Выберите один из 4 вариантов ответа:

1)	князь Дмитрий Боброк и князь Владимир Андреевич
2)	князь Дмитрий Иванович и монах Ослябя
3)	митрополит Алексей и князь Дмитрий Иванович
4)	князь рязанский Олег и польский король Ягайло

### Задание №30

Во второй половине XIV в. власть в Орде захватил

Выберите один из 4 вариантов ответа:

1)	польский король Ягайло
2)	военачальник Мамай
3)	китайский император Цин
4)	новгородский посадник Дмитр

### Задание №31

Руководителем крестьянского восстания против феодалов является:

Выберите один из 4 вариантов ответа:

1)	Карл VII
2)	Уотт Тайлер
3)	Жанна д'Арк
4)	Жак- простак

### Задание №32

Орлеанской девой была названа

Выберите один из 4 вариантов ответа:

1)	Алионора Аквитанская
2)	Жанна д Арк
3)	Изабелла Кастильская
4)	Анна Ярославовна

### Задание №33

Своё прозвище Тёмный князь Василий II получил, потому что

Выберите один из 4 вариантов ответа:

1)	был неграмотным
2)	носил тёмную одежду
3)	имел тёмные волосы
4)	был ослеплён

### Задание №34

Отметьте имя князя, который впервые передал своему наследнику Московское княжество и владимирский престол без разрешения хана

Выберите один из 4 вариантов ответа:

1)	Иван Калита
2)	Дмитрий Донской
3)	Василий I
4)	Василий II

### Задание №35

Как звали хана Большой Орды, который выступил против Ивана III и возглавил ордынские войска в «стоянии на Угре»?

Выберите один из 4 вариантов ответа:

1)	Мамай
2)	Тохтамыш
3)	Угедей
4)	Ахмат

### Задание №36

При каком основном условии князь давал своим подданным поместья?

Выберите один из 4 вариантов ответа:

1)	при соответствующем титуле подчинённого
2)	при условии несения службы
3)	по требованию митрополита
4)	по требованию монгольского хана

### Задание №37

В чём состояла одна из особенностей вотчинного владения?

Выберите один из 4 вариантов ответа:

1)	владение выдавалось на время службы
2)	владение можно было передавать по наследству
3)	территория вотчины всегда принадлежала церкви
4)	вопрос о выдаче вотчины решали ордынцы

### Задание №38

Герб с двуглавым орлом, появившийся на печатях московского князя, символизировал

Выберите один из 4 вариантов ответа:

1)	императорскую власть
2)	власть над миром
3)	власть во всех землях Руси и стран Востока
4)	любую монархическую власть

### Задание №39

Какой документ, представляющий основы законодательства Русского государства, был принят в 1497 г.?

Выберите один из 4 вариантов ответа:

1)	Русская Правда
2)	Судебник
3)	Законник
4)	Основные законы России

### Задание №40

Какой новый титул принял Иван III?

Запишите ответ:

1)	Ответ:	
----	--------	--

### Задание №41

Запишите термин, о котором идёт речь.

Земельное владение, которое выдавалось за военную или государственную службу без права передачи, обмена, наследования, — это \_\_\_\_\_

Запишите ответ:

1)	Ответ:	
----	--------	--

### Задание №42



Запишите термин, о котором идёт речь.

Крупное земельное владение, передававшееся по наследству, — это \_\_\_\_\_

Запишите ответ:

1)

Ответ:

### Задание №43

Одна из важнейших причин Столетней войны – это

Выберите один из 4 вариантов ответа:

1)

династический кризис во Франции

2)

завершение процесса централизации в Англии

3)

конфликт из-за юго-западных земель Франции, принадлежавших английскому королю

4)

развитие экономических связей внутри Франции

### Задание №44

В результате Куликовской битвы

Выберите один из 4 вариантов ответа:

1)

Русь полностью освободилась от ордынского владычества

2)

Золотая Орда попала в зависимость от Руси

3)

усилилась роль Москвы как центра объединения русских земель

4)

Русь попала еще в большую зависимость от Золотой Орды

### Задание №45

Среди причин Столетней войны отмечают:

Выберите один из 4 вариантов ответа:

1)

стремление Франции к территориальным приобретениям в Англии

2)

стремление Англии сохранить свои владения в центре Франции

3)

противоречия между странами по поводу городов во Фландрии

4)

претензии французского короля на английский престол.

### Задание №46

Что случилось после взятия турками- османами Константинополя?

Выберите один из 4 вариантов ответа:

1)

город был переименован в Стамбул и объявлен османской столицей

2)

городские стены и укрепления были разрушены

3)

были закрыты все христианские храмы

4)

византийский император стал наместником турецкого султана

### Задание №47

Присоединение какой территории в 1470-е гг. имело особое значение для развития Московского княжества?

Выберите один из 4 вариантов ответа:

1)

Смоленского княжества

2)

Великого Литовского княжества

3)

Новгородской земли

4)

Псковской земли

### Задание №48

В результате какого события прекратилась зависимость Русских земель от Орды?

Выберите один из 4 вариантов ответа:

1)

Куликовской битвы

2)

междоусобной войны русских князей первой половины XV в.

3)		нашествия Тохтамыша
4)		«стояния на реке Угре»

### Задание №49

Установите соответствие между историческими личностями и их деятельностью

Укажите соответствие для всех 4 вариантов ответа:

1)		Пересвет	1)	хан Золотой Орды, захвативший власть после гибели Мамаю
2)		Челубей	2)	монах, сразившийся, по преданию, в поединке перед Куликовской битвой
3)		Тохтамыш	3)	основатель Троицкого монастыря
4)		Сергий Радонежский	4)	ордынский богатырь, по преданию, сразившийся перед Куликовской битвой

### Задание №50

Установите соответствие между историческими личностями и событиями, в которых они участвовали

Укажите соответствие для всех 4 вариантов ответа:

1)		Мамай	1)	митрополит, глава московского правительства в первые годы правления Дмитрия Ивановича
2)		Пересвет	2)	основатель Троицкого монастыря
3)		Алексей	3)	монах, сразившийся, по преданию, перед Куликовской битвой с ордынским воином
4)		Сергий Радонежский	4)	командовал ордынским войском в Куликовской битве

### Задание №51

Установите соответствие между именами московских князей и годами их правления

Укажите соответствие для всех 3 вариантов ответа:

1)		Юрий Данилович	1)	1359-1389 гг.
2)		Иван Калита	2)	1303-1325 гг.
3)		Дмитрий Донской	3)	1325-1340 гг.

### Задание №52

Установите соответствие между именами князей и датами их правления

Укажите соответствие для всех 4 вариантов ответа:

1)		Василий I	1)	1359-1389 гг.
2)		Василий II	2)	1325-1340 гг.
3)		Дмитрий Донской	3)	1389-1425 гг.
4)		Иван Калита	4)	1425-1462 гг.

### Задание №53

Установите соответствие между термином и его значением

Укажите соответствие для всех 4 вариантов ответа:

1)		воевода	1)	порядок замещения высших должностей в зависимости от знатности рода
2)		кормление	2)	обязательные платежи населения, установленные государством

3)	местничество	3)	военачальник, наместник-управитель в уездах
4)	налоги	4)	система содержания должностных лиц за счёт местного населения

### Задание №54

Выберите ТРИ последствия Куликовской битвы

Выберите несколько из 6 вариантов ответа:

1)	полное поражение русских князей, окончательное признание власти Орды
2)	освобождение от монгольской зависимости
3)	возвышение Москвы, усиление политического влияния московского князя
4)	народный подъём, воодушевление, развитие патриотизма
5)	осознание необходимости объединения Русской земли
6)	усиление влияния ислама в русских землях

### Задание №55

Выберите из списка ТРИ положения, относящиеся к правлению Ивана Калиты

Выберите несколько из 6 вариантов ответа:

1)	Иван Калита получил право сбора дани с русских земель для Орды
2)	Иван Калита поддерживал антиордынские восстания в своих землях
3)	Иван Калита выделил специальные слободы для выходцев из других городов
4)	в правление Ивана Калиты территория Московского княжества сократилась
5)	в правление Ивана Калиты митрополит перенёс свою кафедру в Москву
6)	Иван Калита получил корону от папы римского

### Задание №56

Выберите из списка ТРИ государства, которые сформировались после распада Золотой Орды в XV в.

Выберите несколько из 6 вариантов ответа:

1)	Новгородская республика
2)	Большая Орда
3)	Крымское ханство
4)	Норвежское государство
5)	Сибирское ханство
6)	Индийская держава

### Задание №57

Выберите из списка ТРИ города, которые были присоединены к Московскому государству в правление князя Василия III

Выберите несколько из 6 вариантов ответа:

1)	Смоленск
2)	Ростов
3)	Ярославль
4)	Псков
5)	Рязань
6)	Чернигов

### Задание №58

Причинами Жакерии являются

Выберите несколько из 5 вариантов ответа:

1)	последствия "Чёрной смерти"
----	-----------------------------

2)	произвол королевских слуг
3)	рост налогов
4)	смерть короля
5)	тяготы войны

### Задание №59

Прочтите отрывок из сочинения современного историка и укажите период времени, в который происходили описываемые события.

«Московский князь, родоначальник династии московских князей, был младшим сыном Александра Ярославовича Невского и потому получил незначительный в то время московский удел. Этот удел, полученный князем, состоял тогда из небольшой деревянной крепости и нескольких сёл и деревень без единого каменного здания... Однако мудрая политика князя в итоге принесла свои плоды: Московское княжество значительно расширилось за счёт присоединения Коломны и Переславля-Залесского. В связи с ростом территории Московского княжества значительно возрос на Руси и авторитет московского князя».

Выберите один из 4 вариантов ответа:

1)	первая половина XII в
2)	конец XII — начало XIII в.
3)	середина XIII в.
4)	вторая половина XIII — начало XIV в.

### Задание №60

Прочтите отрывок из сочинения историка и укажите год, когда произошли описанные события.

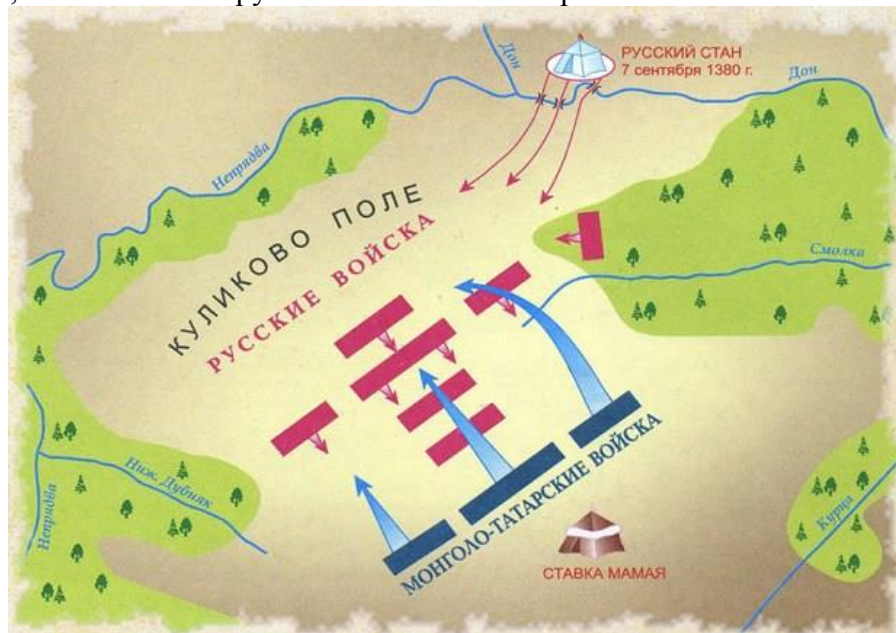
«"Хочу властвовать в Новгороде, как властвую в Москве, — сказал великий князь, — в нём не должно быть ни веча, ни посадника, а будет только моя государева воля". После многих переговоров новгородцы согласились и присягнули Иоанну как своему полному властному государю. Вечевой колокол и престарелая Марфа-посадница были отправлены в Москву. Однако волнения в Новгороде после того долго не прекращались, потому что граждане не могли скоро забыть о своей прежней вольности».

Выберите один из 4 вариантов ответа:

1)	962 г.
2)	1136 г.
3)	1257 г.
4)	1478 г.

### Задание №61

Назовите полководца, возглавившего русские войска в этом сражении



Выберите один из 4 вариантов ответа:

1)	Иван Калита
----	-------------

2)		Пересвет
3)		Дмитрий Донской
4)		Иван III

### Задание №62

Укажите событие, изображённое на схеме



Выберите один из 4 вариантов ответа:

1)		Куликовская битва
2)		битва на р. Вожа
3)		Грюнвальдская битва
4)		стояние на Угре

### Задание №63

Начало какого события иллюстрирует данное изображение?




Выберите один из 4 вариантов ответа:

1)		Невская битва
2)		битва на Чудском озере
3)		битва на Куликовом поле
4)		Грюнвальдская битва

### Задание №64

Укажите имя правителя, при котором данный символ стал официальным гербом российского государства.



Выберите один из 4 вариантов ответа:

1)	Иван III
2)	Дмитрий Донской
3)	Иван Калита
4)	Василий I

### Задание №65

Распределите события в хронологической последовательности

Укажите порядок следования всех 4 вариантов ответа:

1)	Куликовская битва
2)	Создание судебника
3)	Стояние на реке Угре
4)	Правление Ивана Калиты

### Задание №66

Распределите события в хронологической последовательности

Укажите порядок следования всех 4 вариантов ответа:

1)	Феодальная война
2)	Правление Василия I
3)	Присоединение Новгорода к Москве
4)	Борьба Москвы и Твери

### Задание №67

Расположите в хронологической последовательности

Укажите порядок следования всех 4 вариантов ответа:

1)	Начало Столетней войны
2)	Восстание Уотта Тайлера
3)	Падение Византийской империи
4)	Жакерия

### Задание №68

Укажите под каким номером указана иллюстрация, связанная со Столетней войной



Выберите один из 4 вариантов ответа:

1)		1
2)		2
3)		3
4)		4

### Задание №69

Укажите под каким номером указана иллюстрация, связанная с участием Франции в Столетней войне



Выберите один из 4 вариантов ответа:

1)		1
2)		2
3)		3
4)		4

### Задание №70

Укажите под каким номером указана иллюстрация, связанная с Жакерией во Франции

1)



2)



3)



4)



Выберите один из 4 вариантов ответа:

1)	1
2)	2
3)	3
4)	4

### Задание №71


Укажите под каким номером указана иллюстрация, связанная с падением Византийской империи



1)



2)



3)



4)



Выберите один из 4 вариантов ответа:

1)		1
2)		2
3)		3
4)		4

### Задание №72

Назовите город в котором находится этот архитектурный памятник




Запишите ответ:

1)	Ответ:	
----	--------	--

### Задание №73

Укажите название города, в котором был сооружён этот архитектурный памятник



Запишите ответ:

1)	Ответ:	
----	--------	--

### Задание №74

Под какими номерами изображены русские архитектурные памятники



1)



2)



3)



4)

Запишите число:

1)

Ответ:

### Задание №75

Под какими номерами изображены русские архитектурные памятники



1)



2)



3)



4)

Запишите число:

1)

Ответ:

Примерные задания формирующие функциональную грамотность:

*Прочтите отрывок из исторического источника и ответьте на вопросы*

«Услышав, что великий князь стоит на берегу со всеми силами, царь <...> пошёл к Литовской земле, обходя реку Оку и поджидая к себе на помощь короля или его войска; проводники вели царя к реке Угре, на броды. Тогда великий князь послал на Угру сына, брата и своих воевод со всеми силами. Придя, они стали на Угре и заняли броды и перевозы. А сам великий князь поехал из Коломны в Москву ко всемилостивому Спасу, Пречистой госпоже Богородице и святым чудотворцам просить помощи и заступничества православному христианству, а также на совет и думу к своему отцу митрополиту Геронтию, к своей матери великой княгине Марфе, к своему дяде князю Михаилу Андреевичу, духовному своему отцу архиепископу Ростовскому Вассиану и ко всем своим боярам; все они тогда сидели в Москве в осаде».

- 1. Назовите великого князя, который противостоял вражеским силам*
- 2. Как называется событие, описанное в историческом источнике, в каком веке оно произошло*
- 3. Найдите в отрывке действия великого князя, который он совершил перед событием, описанным в источнике (не менее трёх)*