

Характеристика итоговой работы

МОДУЛЬ 5

«Южные материки»

7 класс

(базовый уровень)

1. Назначение работы: проверка достижения учащимися 7 класса уровня подготовки в ходе базового изучения предмета.

2. Основное содержание проверки: ориентировано на содержание ФГОС.

3. Характеристика работы: в работе 17 заданий, которые расположены по нарастанию трудности в теме (максимальный балл - 23)

Задания выполняются на основе карт атласа, диаграмм, таблиц, графиков.

На задания 14,15, 17 ответы записываются на отдельном листе или бланке.

Прочитайте внимательно задание, а затем выполните его.

4. Характеристика заданий: 1) задания, требующие записать ответ в виде числа; 2) задания, требующие записать ответ в виде слова; 3) задания, требующие записать ответ в виде последовательности цифр, в том числе на установление соответствия географических объектов и их характеристик, с выбором нескольких правильных ответов из предложенного списка, на установление правильной последовательности элементов, а также задания, требующие вписать в текст на месте пропусков ответы из предложенного списка, характеристика территории по плану.

Включенные в работу задания проверяются знания географических явлений и процессов и умение анализировать географическую информацию, представленную в различных формах, умение анализировать географическую информацию, представленную в различных формах, способность применять полученные в школе географические знания для объяснения различных событий и явлений в повседневной жизни.

ВНИМАНИЕ! Банк заданий отсутствует. В таблице приведены примеры вопросов. В конце таблицы есть ответы на примерные вопросы для самопроверки. Дан перечень географической номенклатуры.

РЕКОМЕНДАЦИЯ. Прорешайте примерные вопросы и сопоставьте с ответами в конце таблицы. Если Вы допустили ошибки, то повторите темы.

ОБОБЩЕННЫЙ ПЛАН РАБОТЫ
по предмету ГЕОГРАФИЯ
МОДУЛЬ 5
«Южные материки»
7 класс (базовый уровень)

ГЕОГРАФИЧЕСКАЯ НОМЕНКЛАТУРА по Южным материкам (Африка)

Материки

Тема” Австралия и Океания”

океаны: Индийский и Тихий.

моря: Арафурское, Коралловое и Тасманово.

заливы: Большой Австралийский и Карпентария.

проливы: Басов и Торресов.

тёплое течение: Восточно-Австралийское.

холодное течение: течение Западных Ветров.

острова: Новая Гвинея и Тасмания.

полуострова: Арнемленд и Кейп-Йорк.

крайние точки: мыс Йорк, мыс Юго-Восточный (Саут-Ист-Пойнт), мыс Стип-Пойнт и мыс Байрон.

равнины: Центральная низменность.

горы: Большой Водораздельный хребет.

вершину: гора Косцюшко.

реки: Муррей, Дарлинг, Купер-Крик.

озеро: Эйр.

пустыни: Большая Песчаная, Большая пустыня Виктория.

страны: Австралия, Новая Зеландия, Папуа-Новая Гвинея.

города: Веллингтон, Канберра, Порт-Морсби.

Тема” Антарктида”

океаны: Атлантический, Индийский и Тихий.

моря: Амундсена, Беллинсгаузена, Росса, Уэдделла.

пролив: Дрейка.

холодное течение: Западных Ветров.

остров: Петра I.


полуостров: Антарктический.

крайняя точка: мыс Сифре.
горы: массив Винсон.
вулкан: Эребус.
шельфовый ледник: Росса.
полярные станции: Беллинсгаузен, Восток, Амундсен-Скотт.

План итоговой работы

№ задания	Блок содержания	Проверяемые элементы содержания и виды деятельности	Типы заданий ¹	Уровень сложности ²	<u>ВНИМАНИЕ!</u> Это не банк заданий.		Балл												
					<u>Пример</u> вопроса в итоговой работе														
1	Африка (повторение)	Знание географического положения материка	ВО	Б	Африка — единственный материк, который почти посередине пересекает: 1) меридиан 3) Северный тропик 2) экватор 4) Южный тропик		1												
2	Южные материки	Умение производить сравнительный анализ двух материков с использованием карт атласа	ВО, СО	Б	Установите соответствие между географическими особенностями и материками, для которых они характерны: для каждой из позиции первого столбца подберите соответствующую позицию из второго столбца <table border="1" style="width: 100%; border-collapse: collapse;"> <tr> <td>А) Географические особенности</td> <td>Материки</td> </tr> <tr> <td>Б) Наибольшую площадь занимает природная зона саванн</td> <td>1. Африка</td> </tr> <tr> <td>В) Зарегистрирована самая низкая температура на Земле</td> <td>2. Антарктида</td> </tr> <tr> <td>Г) Занимает приполярное положение</td> <td></td> </tr> <tr> <td>Д) Осадки преимущественно выпадают в виде снега</td> <td></td> </tr> <tr> <td>Е) Значительную площадь занимают тропические пустыни</td> <td></td> </tr> </table>		А) Географические особенности	Материки	Б) Наибольшую площадь занимает природная зона саванн	1. Африка	В) Зарегистрирована самая низкая температура на Земле	2. Антарктида	Г) Занимает приполярное положение		Д) Осадки преимущественно выпадают в виде снега		Е) Значительную площадь занимают тропические пустыни		2
А) Географические особенности	Материки																		
Б) Наибольшую площадь занимает природная зона саванн	1. Африка																		
В) Зарегистрирована самая низкая температура на Земле	2. Антарктида																		
Г) Занимает приполярное положение																			
Д) Осадки преимущественно выпадают в виде снега																			
Е) Значительную площадь занимают тропические пустыни																			
3	Южные материки	Умение пользоваться картами, знание	ВО	Б	На каком материке отсутствуют вулканы? А) Австралия Б) Антарктида В) Африка Г) Южная Америка		1												

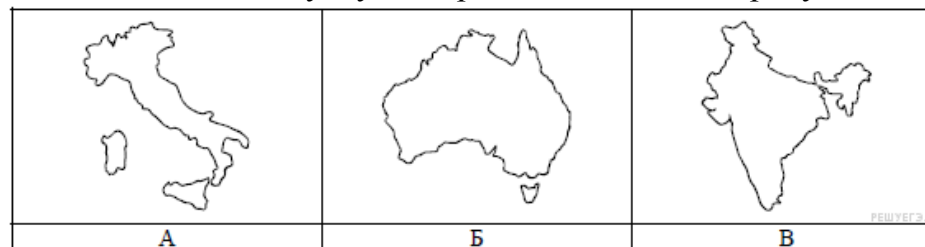
		характеристик материка				
4	Южные материка	Умение пользоваться картами, знание характеристик материка	ВО	Б	Мыс Альмади и мыс Рас-Хафун – это крайние точки: А) Австралии Б) Антарктиды В) Африки Г) Южной Америки	1
5	Внутренние воды южных материков	Умение пользоваться картами атласа	ВО	Б	Озеро, расположенное в Центральных Андах: А) Титикака Б) Маракайбо В) Эри	1
6	Животный и растительный мир южных материков	Знание характеристик природных зон, умение пользоваться картами атласа	ВО	Б	Австралийский медведь - коала питается: А) рыбой Б) молодыми листьями и побегами В) насекомыми Г) земноводными Д) мясом	1
7	Южные материка	Знание характеристик материка, умение пользоваться атласом	ВО	Б	Какой континент самый низкий на планете? а) Антарктида; б) Африка; в) Австралия.	1
8	Природные зоны Южных материков	Знание характеристик природных зон Южных материков	ВО	Б	Природные зоны, занимающие большую часть территории Австралии: А) влажные экваториальные леса и саванны Б) тропические влажные леса и пустыни. В) саванны, тропические пустыни и полупустыни Г) пустыни и полупустыни умеренного пояса.	1
9	Политическая карта и население Южных материков	Умение пользоваться картами	ВО	Б	Метисы – это потомки от: А) браков индейцев с африканцами Б) браков европейцев с индейцами; В) браков европейцев с африканцами Г) европейских переселенцев	1

10	Южные материки	Умение пользоваться картами, знание характеристик материка	ВО	Б	Антарктида находилась в составе древнего материка: А) Лавразия Б) Пангея В) Гондвана Г) Атлантида	1
11	Природные зоны Южных материков	Умение пользоваться картами	ВО	Б	Укажите растения пустынь: а) 1;  б) 2;  в) 3; 	1
12	Южные материки.	Умение пользоваться картами, знание характеристик материка	ВО	Б	Вдоль восточных берегов Австралии протекает Восточно-Австралийское ... течение 1. теплое 2. холодное	1
13	Хозяйственная деятельность Южных материков	Умение пользоваться картами, знание характеристик материка	ВО	Б	Какой вид сельскохозяйственной деятельности наиболее характерен для зоны саванн и редколесий? А) молочное животноводство Б) овощеводство закрытого грунта В) пастбищное животноводство Г) зерновое хозяйство	1
14, 15	Южные материки	Умение пользоваться картами, знание характеристик материка	ВО, СО, РО	Б	Представьте, что Вам было поручено взять интервью у зарубежного сверстника, чтобы он познакомил Вас со своей страной. Для иллюстрации этого интервью Вы попросили его прислать несколько фотографий, сделанных стране, в которой он живёт. Рассмотрите фотографии и ответьте на вопросы.	6



19. В какой стране живёт Ваш сверстник?

10. Рассмотрите представленные ниже рисунки. Выберите рисунок с контуром страны, в которой живёт Ваш сверстник. Запишите в ответе букву, которой обозначен этот рисунок.

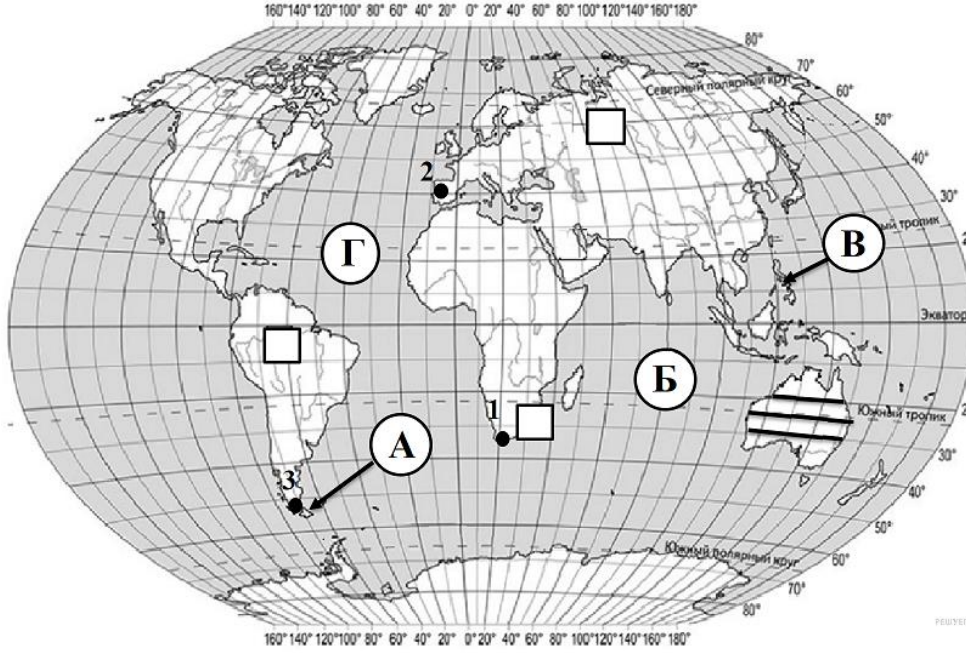


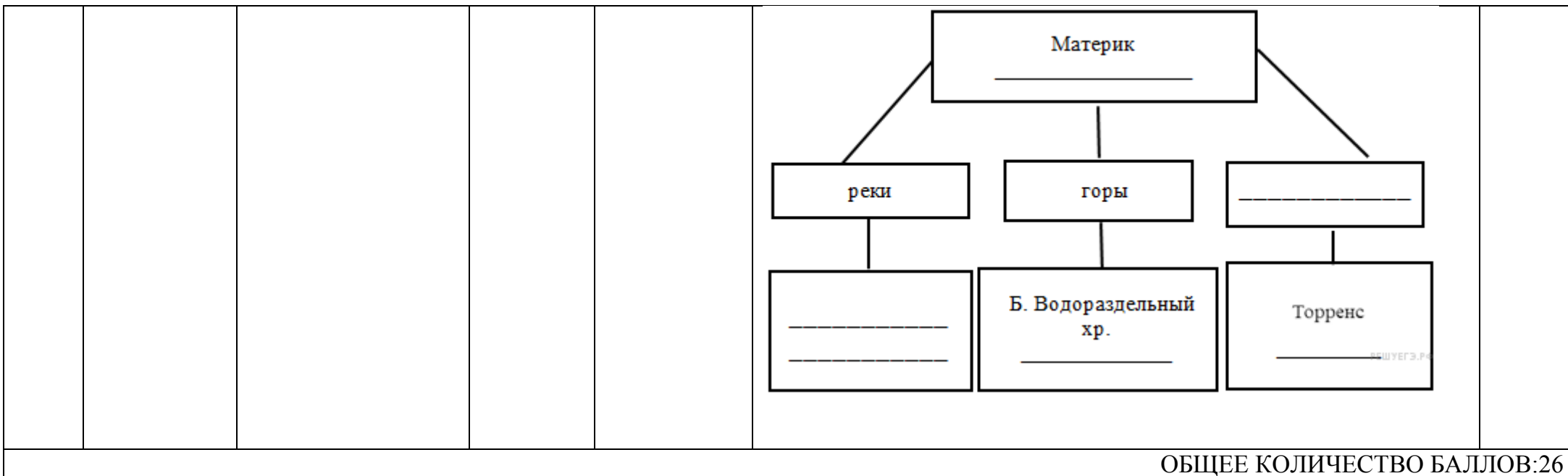
11. Предположите, какие ответы на вопросы о своей стране даст Ваш сверстник в ходе интервью. Запишите их в таблицу.

Вопрос

Ответ

1. В какой части света находится твоя страна?
2. Как называется столица этой страны?
3. Воды какого океана омывают берега твоей страны?
4. Какие горы есть в твоей стране?
5. Какие крупные города, кроме столицы, есть в твоей стране?
6. К какой расе относится коренное население твоей страны?
7. Какие полезные ископаемые добывают в твоей стране?
8. Какие достопримечательности можно посмотреть в твоей стране?

16	Южные материки	Умение пользоваться картами атласа	ВО, СО	Б	 <p>На карте буквами обозначены географические объекты. Из предложенного списка выберете те, которые являются правильными:</p> <ol style="list-style-type: none"> 1. Огненная Земля 2. Большой Водораздельный хребет 3. Филиппинские острова 4. Атлантический океан 5. Индийский океан 	2
17	Южные материки	Реки, озера, рельеф южных материков	РО	Б	<p>В приведённом ниже списке перечислены крупные географические объекты. Выберите из представленного ниже списка названия географических объектов, расположенных на территории одного из этих материков, и заполните схему. Впишите в схему название материка, типы и названия выбранных Вами географических объектов.</p> <p><i>Конго, Ниагара, Ладожское, Эйр (Эйр-Норт), Виктория, Амур, Муррей, Анды, Кавказ, Байкал, Замбези, Дарлинг, Аппалачи, Косцюшко, Эверест, Котопаху.</i></p>	2



Блок содержания1 – прописывается тема, входящая в итоговую работу, тема может повторяться в нескольких номерах заданий

Проверяемые элементы содержания2 – описываются проверяемые знания и умения по каждому блоку содержания

Типы заданий3 – **ВО** – задания с выбором ответа (одиночный выбор, множественный выбор, точка на изображении); **КО** – задания с кратким ответом (ручной ввод числа, ручной ввод текста, перестановка букв, заполнение пропусков); **СО** – задания на соотнесение (сопоставление, указание порядка, истина/ложь); **РО** – задания с развернутым ответом (для итоговой работы по профильному предмету во второй части)

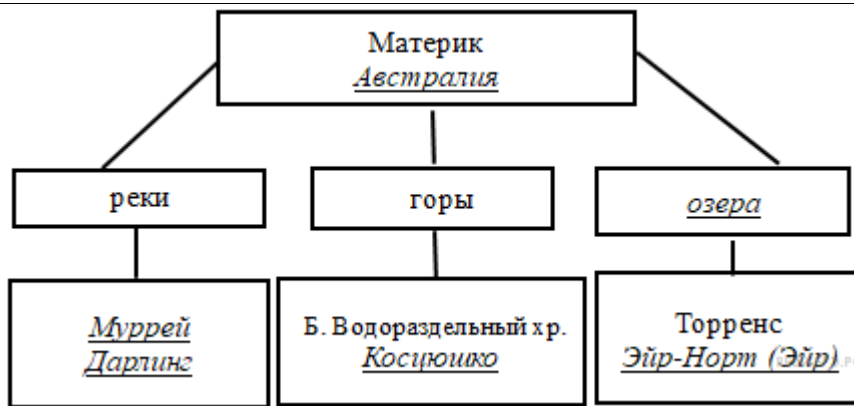
Уровень сложности задания4 – **Б** – базовый уровень; **П** – повышенный уровень

ОТВЕТЫ НА ПРИМЕРНЫЕ ВОПРОСЫ (САМОПРОВЕРКА)

№\№ вопроса	ОТВЕТ	Балл
1.	2	1
2.	Ответ:1-А,1-Б, 2-В, 2 – Г, 2- Д, 1 - Е	1
3.	А	1
4.	В	1
5	А	1

6.	Б	1																
7.	В	1																
8.	В	1																
9	Б	1																
10	В	1																
11	Б	1																
12	1	1																
13	В	1																
14,15	<p>Для выполнения данного задания необходимо рассмотреть фото и иллюстрации, связанные с этой страной. На рисунках знаменитый оперный театр в Сиднее, кенгуру и кораллы. Все это указывает на Австралию. Столица Австралии — Канберра.</p> <p>11. Б</p> <table border="0" style="width: 100%;"> <thead> <tr> <th style="text-align: center;">Вопрос</th> <th style="text-align: center;">Ответ</th> </tr> </thead> <tbody> <tr> <td>1. В какой части света находится твоя страна?</td> <td>В Австралии</td> </tr> <tr> <td>2. Воды какого океана омывают берега твоей страны?</td> <td>Тихий и Индийский океаны</td> </tr> <tr> <td>3. Какие горы есть в твоей стране?</td> <td>Большой Водораздельный хребет</td> </tr> <tr> <td>4. Какие крупные города, кроме столицы, есть в твоей стране?</td> <td>Сидней, Мельбурн, Аделаида, Перт</td> </tr> <tr> <td>5. К какой расе относится коренное население твоей страны?</td> <td>К австралоидной расе</td> </tr> <tr> <td>6. Какие полезные ископаемые добывают в твоей стране?</td> <td>Каменный уголь, железная руда, алюминиевые руды, полиметаллические руды, урановые руды, золото</td> </tr> <tr> <td>7. Какие достопримечательности можно посмотреть в твоей стране?</td> <td>Большой Барьерный риф, Сиднейский оперный театр, Улуру (Айерс Рок)</td> </tr> </tbody> </table>	Вопрос	Ответ	1. В какой части света находится твоя страна?	В Австралии	2. Воды какого океана омывают берега твоей страны?	Тихий и Индийский океаны	3. Какие горы есть в твоей стране?	Большой Водораздельный хребет	4. Какие крупные города, кроме столицы, есть в твоей стране?	Сидней, Мельбурн, Аделаида, Перт	5. К какой расе относится коренное население твоей страны?	К австралоидной расе	6. Какие полезные ископаемые добывают в твоей стране?	Каменный уголь, железная руда, алюминиевые руды, полиметаллические руды, урановые руды, золото	7. Какие достопримечательности можно посмотреть в твоей стране?	Большой Барьерный риф, Сиднейский оперный театр, Улуру (Айерс Рок)	6
Вопрос	Ответ																	
1. В какой части света находится твоя страна?	В Австралии																	
2. Воды какого океана омывают берега твоей страны?	Тихий и Индийский океаны																	
3. Какие горы есть в твоей стране?	Большой Водораздельный хребет																	
4. Какие крупные города, кроме столицы, есть в твоей стране?	Сидней, Мельбурн, Аделаида, Перт																	
5. К какой расе относится коренное население твоей страны?	К австралоидной расе																	
6. Какие полезные ископаемые добывают в твоей стране?	Каменный уголь, железная руда, алюминиевые руды, полиметаллические руды, урановые руды, золото																	
7. Какие достопримечательности можно посмотреть в твоей стране?	Большой Барьерный риф, Сиднейский оперный театр, Улуру (Айерс Рок)																	
16	Ответ: А – 1, Б- 5, В-3, Г- 4	2																

17



2

ОБЩЕЕ КОЛИЧЕСТВО БАЛЛОВ: 23