

Характеристика итоговой работы

МОДУЛЬ 5

«Материки и страны: Африка, Австралия, Океания, Антарктида, Южная Америка»

7 класс

(социально-экономический профиль)

- 1. Назначение работы:** проверка достижения учащимися 7 класса уровня подготовки в ходе углубленного изучения предмета.
- 2. Основное содержание проверки:** ориентировано на содержание ФГОС.
- 3. Характеристика работы:** в работе 16 заданий, которые расположены по нарастанию трудности в теме (максимальный балл - 27)

Задания выполняются на основе карт атласа, диаграмм, таблиц, графиков.

На задания 9,10,15,16 ответы записываются на отдельном листе или бланке.

Прочитайте внимательно задание, а затем выполните его.

4. Характеристика заданий: 1) задания, требующие записать ответ в виде числа; 2) задания, требующие записать ответ в виде слова; 3) задания, требующие записать ответ в виде последовательности цифр, в том числе на установление соответствия географических объектов и их характеристик, с выбором нескольких правильных ответов из предложенного списка, на установление правильной последовательности элементов, а также задания, требующие вписать в текст на месте пропусков ответы из предложенного списка, характеристика территории по плану.

Включенные в работу задания проверяются знания географических явлений и процессов и умение анализировать географическую информацию, представленную в различных формах, умение анализировать географическую информацию, представленную в различных формах, способность применять полученные в школе географические знания для объяснения различных событий и явлений в повседневной жизни.

ВНИМАНИЕ! Банк заданий отсутствует. В таблице приведены примеры вопросов. В конце таблицы есть ответы для самопроверки. Дан перечень географической номенклатуры.

РЕКОМЕНДАЦИЯ. Прорешайте примерные вопросы и сопоставьте с ответами в конце таблицы. Если Вы допустили ошибки, то повторите темы.

ОБОБЩЕННЫЙ ПЛАН РАБОТЫ

по предмету ГЕОГРАФИЯ

МОДУЛЬ 5

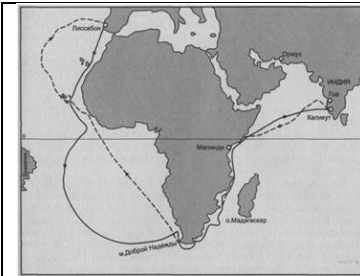



«Материки и страны: Африка, Австралия, Океания, Антарктида, Южная Америка»

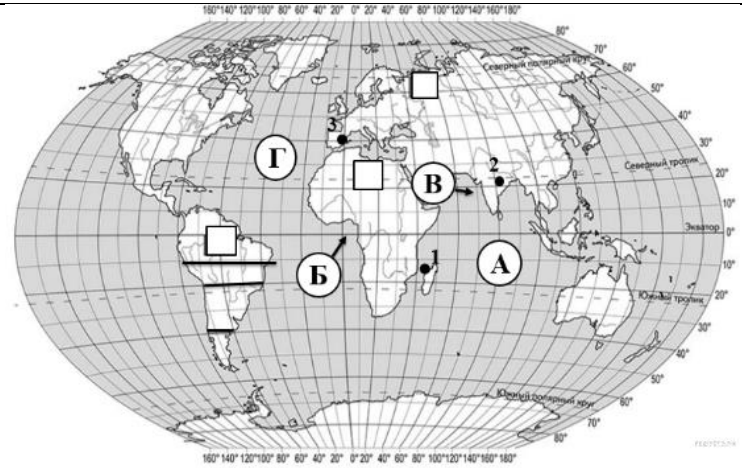
7 класс

(социально-экономический профиль)

№ задания	Блок содержания	Проверяемые элементы содержания и виды деятельности	Типы заданий ¹	Уровень сложности ²	<u>ВНИМАНИЕ!</u> Это не банк заданий. <u>Пример</u> вопроса в итоговой работе	Балл
1	Географическое положение и страны южных материков	Знание/ понимание теоретических основ по теме	ВО	Б	Австралию омывает с юга океаном 1. Тихим 2. Индийским 3. Южным	1
2	Рельеф южных материков	Знание/ понимание теоретических основ по теме	ВО	Б	Вулканический массив Килиманджаро находится на Африки 1. западе 2. востоке 3. юге	1
3	Климат южных материков	Знание/ понимание теоретических основ по теме	ВО	Б	В каком климатическом поясе находится большая часть Австралии? 1) в экваториальном 2) в субэкваториальном 3) в тропическом 4) в субтропическом	1
4	Внутренние воды южных материков	Знание/ понимание теоретических основ по теме	КО,Р О	Б	Что расположено севернее 1. озеро Эйр 2. река Муррей	1

					<p>9. Предположите, какие ответы на вопросы о своей стране даст Ваш сверстник в ходе интервью. Запишите их в таблицу.</p> <table border="1" style="width: 100%; text-align: center;"> <thead> <tr> <th style="width: 50%;">Вопрос</th> <th style="width: 50%;">Ответ</th> </tr> </thead> <tbody> <tr> <td>1. В какой части света находится твоя страна?</td> <td></td> </tr> <tr> <td>2. Как называется столица этой страны?</td> <td></td> </tr> <tr> <td>3. Какое(-ие) море(-я) омывает(-ют) берега твоей страны?</td> <td></td> </tr> <tr> <td>4. Какие горы есть в твоей стране?</td> <td></td> </tr> <tr> <td>5. Какие крупные города, кроме столицы, есть в твоей стране?</td> <td></td> </tr> <tr> <td>6. В какой сфере хозяйства занято большинство жителей страны?</td> <td></td> </tr> <tr> <td>7. Какие сельскохозяйственные культуры выращивают в твоей стране?</td> <td></td> </tr> <tr> <td>8. Какие достопримечательности можно посмотреть в твоей стране?</td> <td></td> </tr> </tbody> </table>	Вопрос	Ответ	1. В какой части света находится твоя страна?		2. Как называется столица этой страны?		3. Какое(-ие) море(-я) омывает(-ют) берега твоей страны?		4. Какие горы есть в твоей стране?		5. Какие крупные города, кроме столицы, есть в твоей стране?		6. В какой сфере хозяйства занято большинство жителей страны?		7. Какие сельскохозяйственные культуры выращивают в твоей стране?		8. Какие достопримечательности можно посмотреть в твоей стране?		7
Вопрос	Ответ																							
1. В какой части света находится твоя страна?																								
2. Как называется столица этой страны?																								
3. Какое(-ие) море(-я) омывает(-ют) берега твоей страны?																								
4. Какие горы есть в твоей стране?																								
5. Какие крупные города, кроме столицы, есть в твоей стране?																								
6. В какой сфере хозяйства занято большинство жителей страны?																								
7. Какие сельскохозяйственные культуры выращивают в твоей стране?																								
8. Какие достопримечательности можно посмотреть в твоей стране?																								
10 на ли- сточ- ках	Рельеф южных материков	Умение находить и извлекать необходимую информацию	КО,Р О	Б,П	<p>На уроке географии Сергей построил профиль рельефа Южной Америки, представленный на рисунке. Используя рисунок и карту мира выполните задания.</p> <div style="display: flex; justify-content: space-around;"> <div data-bbox="887 954 1368 1197"> </div> <div data-bbox="1379 954 1989 1300"> </div> </div> <p>10.1. По какому из отрезков, проведённых на карте вдоль трёх параллелей, пересекающих материк Южная Америка, построен профиль рельефа, представленный на рисунке? Укажите в ответе значение параллели.</p>	3																		

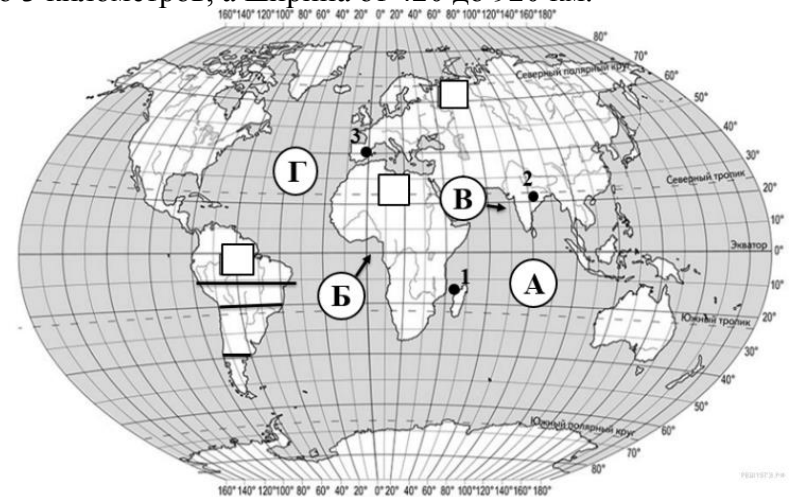
					<p>10.2. Определите по карте протяжённость материка Южная Америка в градусах по указанной Вами параллели. Рассчитайте протяжённость материка Южная Америка по указанной Вами параллели в километрах с помощью, приведённой ниже таблицы. (Для расчёта воспользуйтесь калькулятором.). Решение записывайте.</p> <table style="margin-left: auto; margin-right: auto;"> <tr> <td>Широта</td> <td>0°</td> <td>10°</td> <td>20°</td> <td>30°</td> <td>40°</td> <td>50°</td> <td>60°</td> <td>70°</td> <td>80°</td> <td>90°</td> </tr> <tr> <td>Длина дуги</td> <td></td> <td></td> <td></td> <td></td> <td></td> <td></td> <td></td> <td></td> <td></td> <td></td> </tr> <tr> <td></td> <td>111,3</td> <td>109,6</td> <td>104,6</td> <td>96,5</td> <td>85,4</td> <td>71,7</td> <td>55,8</td> <td>38,2</td> <td>19,4</td> <td>0</td> </tr> </table> <p>параллели в 1°, км</p>	Широта	0°	10°	20°	30°	40°	50°	60°	70°	80°	90°	Длина дуги												111,3	109,6	104,6	96,5	85,4	71,7	55,8	38,2	19,4	0	
Широта	0°	10°	20°	30°	40°	50°	60°	70°	80°	90°																													
Длина дуги																																							
	111,3	109,6	104,6	96,5	85,4	71,7	55,8	38,2	19,4	0																													
11,12,13,14	Южные материки и океаны	Знание / умение находить и извлекать необходимую информацию	ВО,РО	Б	<p>На карте мира, изображён маршрут экспедиции одного из путешественников, портреты которых представлены ниже. Рассмотрите карту и портреты путешественников и выполните задания.</p> <p>11. Маршрут экспедиции кого из путешественников изображён на карте?</p> <p>12. Назовите материк, по которому проходил маршрут экспедиции.</p> <div style="display: flex; justify-content: space-around; align-items: center;"> <div style="text-align: center;">  </div> <div style="text-align: center;">  <p>Марко Поло</p> </div> <div style="text-align: center;">  <p>Васко да Гама</p> </div> <div style="text-align: center;">  <p>Джеймс Кук</p> </div> </div>	2																																	
					<p>13. На карте буквами обозначены водные объекты, определяющие географическое положение материка, по которому проходил маршрут экспедиции. Запишите названия этих объектов. Пример записи: А-Индийский океан, Б-Гвинейский залив, В-Аравийское море, Г-Атлантический океан (запись без пробелов).</p>	2																																	



14. Прочитайте текст, составленный по запискам путешественников, исследователей и туристов, посетивших объект, на территории которого расположена точка 1. **Запишите в ответе название этого географического объекта словосочетанием через пробел, например, Гудзонов залив**

1

Этот, известный вам, водный объект, отделяет один из крупнейших африканских островов — Мадагаскар от материка. Его воды сливаются с Индийским океаном. Этот узкий водный объект считается самым длинным в мире из себе подобных. Длина его составляет 1760 км. Глубина его меняется от 117 — 120 метров до 3 километров, а ширина от 420 до 920 км.



15,16 на ли- сточ- ках	Южные ма- терики	Знание геогра- фических осо- бенностей юж- ных материков Земли и основ- ной географиче- ской номенкла- туры	СО	Б	<p>15. Установите соответствие между географическими особенностями и мате- риками, для которых они характерны: для этого к каждой позиции первого столбца подберите соответствующую позицию из второго столбца.</p> <p style="text-align: center;">ГЕОГРАФИЧЕСКИЕ ОСОБЕННОСТИ</p> <p>А) Наибольшую площадь материка занимает природная зона пустынь. Б) К востоку от материка расположено самое большое в мире скопление кораллов. В) Большую площадь материка занимает природная зона пустынь. Г) Недра северной части материка богаты нефтью. Д) Рек на материке очень мало и большинство из них пере- сыхающие - крики Е) По территории материка протекает одна из самых длин- ных рек мира.</p> <p style="text-align: right;">МАТЕ- РИКИ</p> <p>1) Австра- лия 2) Африка</p>	2
<p>16. В приведённом ниже списке перечислены крупные географические объ- екты. Выберите из представленного ниже списка названия географических объектов, расположенных на территории одного из этих материков, и запол- ните схему. Впишите в схему название материка, типы и названия выбран- ных Вами географических объектов.</p> <p><i>Конго, Ориноко, Ниагара, Виктория, Амур, Анды, Кавказ, Тибести, Байкал, Замбези, Аппалачи, Тибет.</i></p> <div style="text-align: center;"> <pre> graph TD A[Материк _____] --- B[Эфиопское _____] A --- C[реки _____] A --- D[озёра Чад _____] </pre> </div>					2	

Блок содержания¹ – прописывается тема, входящая в итоговую работу, тема может повторяться в нескольких номерах заданий
 Проверяемые элементы содержания² – описываются проверяемые знания и умения по каждому блоку содержания
 Типы заданий³ – **ВО** – задания с выбором ответа (одиночный выбор, множественный выбор, точка на изображении); **КО** – задания с кратким ответом (ручной ввод числа, ручной ввод текста, перестановка букв, заполнение пропусков); **СО** – задания на соотнесение (сопоставление, указание порядка, истина/ложь); **РО** – задания с развернутым ответом (для итоговой работы по профильному предмету во второй части)
 Уровень сложности задания⁴ – **Б** – базовый уровень; **П** – повышенный уровень

ГЕОГРАФИЧЕСКАЯ НОМЕНКЛАТУРА по Южным материкам

<u>Океаны</u>	<u>Материки</u>
<p>Тихий океан:</p> <p><u>моря:</u> Берингово, Восточно-Китайское, Жёлтое, Коралловое, Охотское, Тасманово, Уэдделла, Фиджи, Филиппинское, Южно-Китайское, Японское.</p> <p><u>заливы:</u> Аляска, Калифорнийский.</p> <p><u>проливы:</u> Басов, Берингов, Дрейка, Корейский, Магелланов, Тайваньский, Торрессов.</p> <p><u>желоба:</u> Марианский, Перуанский</p> <p><u>тёплые течения:</u> Аляска, Восточно-Австралийское, Куроисио, Межпассатное противотечение, Северное Пассатное, СевероТихоокеанское, Южное Пассатное.</p> <p><u>холодные течения:</u> Западных Ветров, Калифорнийское, Курило-Камчатское, Перуанское.</p> <p><u>острова:</u> Алеутские, Бикини, Гавайские, Зондские, Курильские, Новая Зеландия, Пасхи, Самоа, Тайвань, Тасмания, Фиджи, Филиппинские, Японские.</p> <p><u>полуострова:</u> Аляска, Индокитай, Калифорния, Камчатка, Корея, Малакка.</p> <p><u>Атлантический океан:</u></p> <p><u>моря:</u> Балтийское, Карибское, Норвежское, Северное, Средиземное, Чёрное.</p> <p><u>заливы:</u> Бискайский, Гвинейский, Гудзонов, Мексиканский.</p> <p><u>проливы:</u> Гибралтарский, Гудзонов, Датский, Дрейка, Магелланов, Флоридский.</p> <p><u>желоб:</u> Пуэрто-Рико.</p> <p><u>тёплые течения:</u> Антильское, Бразильское, Гвианское, Гвинейское, Гольфстрим, Северное Пассатное, Северо-Атлантическое, Фолклендское, Южное Пассатное.</p>	<p>Тема” Африка”</p> <p><u>океаны:</u> Атлантический и Индийский.</p> <p><u>моря:</u> Средиземное и Красное.</p> <p><u>заливы:</u> Гвинейский и Аденский.</p> <p><u>проливы:</u> Гибралтарский, Баб-эль-Мандебский и Мозамбикский.</p> <p><u>тёплые течения:</u> Гвинейское, Мозамбикское.</p> <p><u>холодные течения:</u> Канарское, Бенгельское, Сомалийское.</p> <p><u>острова:</u> Канарские, Коморские, Мадагаскар и Занзибар.</p> <p><u>полуостров:</u> Сомали.</p> <p><u>крайние точки:</u> мыс Бен-Секка (Рас-Энгела, Эль-Абьяд), мыс Игольный, мыс Альмади, мыс Рас-Хафун.</p> <p><u>канал:</u> Суэцкий.</p> <p><u>равнины:</u> Восточно-Африканское плоскогорье.</p> <p><u>горы:</u> Атлас, Драконовы, Эфиопское нагорье.</p> <p><u>вулкан:</u> Килиманджаро.</p> <p><u>реки:</u> Нил, Белый Нил, Голубой Нил, Конго, Нигер, Сенегал, Замбези, Лимпопо, Оранжевая.</p> <p><u>озёра:</u> Виктория, Чад, Танганьика, Ньяса.</p> <p><u>водопады:</u> Виктория, Ливингстона, Стэнли.</p> <p><u>пустыни:</u> Сахара, Ливийская, Намиб, Калахари.</p> <p><u>страны:</u> Алжир, Ангола, Египет, Демократическая Республика Конго, Замбия, Мадагаскар, Марокко, Намибия, Нигерия, Сенегал, Судан, Танзания, Чад, Эфиопия, ЮАР.</p>

холодные течения: Бенгельское, Западных Ветров, Канарское, Лабрадорское.
острова: Большие Антильские, Бермудские, Великобритания, Гренландия, Ирландия, Исландия, Огненная Земля, Фолклендские (Мальвинские).
полуострова: Аппенинский, Лабрадор, Малая Азия, Пиренейский, Скандинавский, Флорида, Юкатан.

Индийский океан:

морья: Андаманское, Аравийское, Красное, Тиморское.
заливы: Аденский, Бенгальский, Большой Австралийский, Персидский.
проливы: Баб-эль-Мандебский, Малаккский, Мозамбикский, Ормузский.
желоб: Зондский.
тёплые течения: Мозамбикское, Муссонное, Мыса Игольного, Южное Пасатное.

холодные течения: ЗападноАвстралийское, Западных Ветров, Сомалийское.
острова: Большие Антильские, Бермудские, Великобритания, Гренландия, Ирландия, Исландия, Огненная Земля.
острова: Зондские, Коморские, Мадагаскар, Мальдивские, Сейшельские, Шри-Ланка.

полуострова: Аравийский, Индостан, Малакка, Сомали.

Северный Ледовитый океан:

морья: Баренцево, Бофорта, Белое, Восточно-Сибирское, Гренландское, Карское, Лаптевых, Чукотское.
проливы: Берингов.
тёплое течение: Северо-Атлантическое.
острова: Большие Антильские, Бермудские, Великобритания, Гренландия, Ирландия, Исландия, Огненная Земля.
острова: Врангеля, Гренландия, Канадский Арктический архипелаг, Новая Земля, Северная Земля, Шпицберген.
полуострова: Таймыр, Чукотский.

города: Абуджа, Аддис-Абеба, Алжир, Антананариву, Виндхук, Дакар, Додома, Каир, Киншаса, Луанда, Лусака, Нджамена, Претория, Рабат, Хартум.

Тема” Австралия и Океания”

океаны: Индийский и Тихий.
морья: Арафурское, Коралловое и Тасманово.
заливы: Большой Австралийский и Карпентария.
проливы: Басов и Торресов.
тёплое течение: Восточно-Австралийское.
холодное течение: течение Западных Ветров.
острова: Новая Гвинея и Тасмания.
полуострова: Арнемленд и Кейп-Йорк.

крайние точки: мыс Йорк, мыс Юго-Восточный (Саут-Ист-Пойнт), мыс Стип-Пойнт и мыс Байрон.

равнины: Центральная низменность.

горы: Большой Водораздельный хребет.

вершину: гора Косцюшко.

реки: Муррей, Дарлинг, Купер-Крик.

озеро: Эйр.

пустыни: Большая Песчаная, Большая пустыня Виктория.

страны: Австралия, Новая Зеландия, Папуа-Новая Гвинея.

города: Веллингтон, Канберра, Порт-Морсби.

Тема” Антарктида”

океаны: Атлантический, Индийский и Тихий.

морья: Амундсена, Беллинсгаузена, Росса, Уэдделла.

пролив: Дрейка.

холодное течение: Западных Ветров.

остров: Петра I.

полуостров: Антарктический.

крайняя точка: мыс Сифре.

горы: массив Винсон.

вулкан: Эребус.

шельфовый ледник: Росса.

полярные станции: Беллинсгаузен, Восток, Амундсен-Скотт.

ОТВЕТЫ НА ПРИМЕРНЫЕ ВОПРОСЫ (САМОПРОВЕРКА)

№\№ вопроса	ОТВЕТ	Балл																
1.	3	1																
2.	2	1																
3.	3	1																
4.	1	1																
5	2	1																
6.	1	1																
7,8,9	7. Для выполнения данного задания необходимо рассмотреть фото и иллюстрации, связанные с этой страной. На рисунках побережье с останцовыми скалами, оперный театр в Сиднее и овцеводство — одна из главных статей торговли Австралии — значит, это Австралия.	1																
	8. В	1																
	9	7																
	<table border="0" style="width: 100%;"> <thead> <tr> <th style="text-align: center;">Вопрос</th> <th style="text-align: center;">Ответ</th> </tr> </thead> <tbody> <tr> <td>1. В какой части света находится твоя страна?</td> <td>В Австралии и Океании</td> </tr> <tr> <td>2. Как называется столица этой страны?</td> <td>Столица Австралии — Канберра.</td> </tr> <tr> <td>3. Какое(-ие) море(-я) омывает(-ют) берега твоей страны?</td> <td>Тиморское, Коралловое, Тасманово, Арафурское</td> </tr> <tr> <td>4. Какие горы есть в твоей стране?</td> <td>Большой Водораздельный хребет</td> </tr> <tr> <td>5. Какие крупные города, кроме столицы, есть в твоей стране?</td> <td>Сидней, Аделаида, Перт, Мельбурн, Ньюкасл, Дарвин и др.</td> </tr> <tr> <td>6. В какой сфере хозяйства занято большинство жителей страны?</td> <td>В сфере услуг (в сфере обслуживания)</td> </tr> <tr> <td>7. Какие сельскохозяйственные культуры выращивают в твоей стране?</td> <td>Пшеница, кокос, сахарный тростник, бананы, манго, ананасы, апельсины, виноград и др.</td> </tr> </tbody> </table>	Вопрос	Ответ	1. В какой части света находится твоя страна?	В Австралии и Океании	2. Как называется столица этой страны?	Столица Австралии — Канберра.	3. Какое(-ие) море(-я) омывает(-ют) берега твоей страны?	Тиморское, Коралловое, Тасманово, Арафурское	4. Какие горы есть в твоей стране?	Большой Водораздельный хребет	5. Какие крупные города, кроме столицы, есть в твоей стране?	Сидней, Аделаида, Перт, Мельбурн, Ньюкасл, Дарвин и др.	6. В какой сфере хозяйства занято большинство жителей страны?	В сфере услуг (в сфере обслуживания)	7. Какие сельскохозяйственные культуры выращивают в твоей стране?	Пшеница, кокос, сахарный тростник, бананы, манго, ананасы, апельсины, виноград и др.	
Вопрос	Ответ																	
1. В какой части света находится твоя страна?	В Австралии и Океании																	
2. Как называется столица этой страны?	Столица Австралии — Канберра.																	
3. Какое(-ие) море(-я) омывает(-ют) берега твоей страны?	Тиморское, Коралловое, Тасманово, Арафурское																	
4. Какие горы есть в твоей стране?	Большой Водораздельный хребет																	
5. Какие крупные города, кроме столицы, есть в твоей стране?	Сидней, Аделаида, Перт, Мельбурн, Ньюкасл, Дарвин и др.																	
6. В какой сфере хозяйства занято большинство жителей страны?	В сфере услуг (в сфере обслуживания)																	
7. Какие сельскохозяйственные культуры выращивают в твоей стране?	Пшеница, кокос, сахарный тростник, бананы, манго, ананасы, апельсины, виноград и др.																	

	<p>8. Какие достопримечательности можно посмотреть в твоей стране? Оперный театр в Сиднее, Большой Барьерный риф, Улуру (скала Айрес-Рок), парк Какаду, Сиднейская башня, мост и др.</p> <p><i>Ответы на вопросы могут быть даны в иных, близких по смыслу формулировках. В ответах, предполагающих указание нескольких объектов, при оценивании может быть засчитано указание одного объекта</i></p>	
10.	<p>12.1 Для выполнения данного задания нужно посмотреть на выделенные параллели. В данном случае — это 0° (экватор), 20° и 30° ю.ш. на материке Южная Америка. Вспоминаем, какие формы рельефа есть на этом материке, как они меняются при движении с запада на восток по профилю. Далее сморим на реки или озера, которые могут быть указаны на профиле. В данном случае — это 2 реки. А значит — это параллель 20° ю.ш.</p> <p>12.2 Это параллель 20° ю.ш. . Затем измеряем протяженность материка в градусах на этой параллели. Для этого находим меридианы, которые отсекают материк на этой широте. С запада — это 70° з.д., а с востока — 40° з.д. Долгота одна (западная), значит, протяженность материка $70 - 40 = 30^\circ$.</p> <p>12.3 Затем смотрим на таблицу, в которой указана длина 10 параллелей в км на разной широте. Мы работали с параллелью 20°. Каждый градус на этой параллели равен 104,6 км. Затем мы умножаем 30 на $104,6 = 3138$ км.</p>	3
11,12.	11. Васко да Гама 12. Африка	2
13.	А — Индийский океан; Б — Гвинейский залив; В — Аравийское море; Г — Атлантический океан.	2
14.	Мозамбикский пролив.	1
15.	211212	2
16.	<pre> graph TD A[Материк Африка] --> B[нагорья] A --> C[реки] A --> D[озёра] B --> B1[Эфиопское] B --> B2[Тибести] C --> C1[Конго] C --> C2[Замбези] D --> D1[Чад] D --> D2[Виктория] </pre>	2
ОБЩЕЕ КОЛИЧЕСТВО БАЛЛОВ: 27		