

Материалы
для подготовки к тестированию по истории 7 класс М-5 профильный уровень
по теме «Российское государство в XVII веке».

Тема	Содержание
Россия при первых Романовых: изменения в государственном управлении.	Первые Романовы. Изменение положения Земских соборов, Боярской думы. Приказная система при Алексее Михайловиче. Местное управление в XVII веке. Реформа армии. Соборное уложение 1649 года.
«Бунташный век».	Причины народных выступлений. Соляной бунт. Восстания в Пскове и Новгороде. Медный бунт. Восстание Степана Разина.
Русская православная церковь в XVII веке. Реформа патриарха Никона и Раскол.	Церковь после Смуты. Реформа патриарха Никона. Церковный собор 1666-1667 годов. Протопоп Аввакум. Старообрядческое движение.
Внешняя политика России в XVII в.	«Посольский обычай». Противостояние России и Речи Посполитой в XVII веке. Борьба со Швецией. Россия и страны исламского мира. Отношения России с Китаем.
«Под рукой» российского государя: вхождение Украины в состав России.	Западнорусские земли в составе Речи Посполитой. Восстание Богдана Хмельницкого. Переяславская рада. Вхождение Украины в состав России.
Русские путешественники и первопроходцы XVII века.	Первые походы в Сибирь. С.Дежнев. Походы на Дальний Восток. Освоение Сибири.
Культурная жизнь России в XVI веке.	Особенности развития культуры России в XVI веке. Начало книгопечатания. Публицистика. Светская литература. Архитектура и изобразительное искусство.
Культура России в XVII веке.	Влияние европейской культуры на русскую. Образование и научные знания. Литература. Архитектура и живопись. Театр.

Понятия: Самодержавие. Сословно-представительная монархия. Земский собор. Приказы. Крепостное право. Соборное уложение. Гетман. Старообрядчество. Раскол. Секуляризация культуры. Парсуна. Ясак.

Персоналии:

Михаил Федорович. Алексей Михайлович. Федор Алексеевич. Б. Хмельницкий, Б.И.Морозов. Патриарх Никон. Протопоп Аввакум. А.Л.Ордин-Нащокин. А.С. Матвеев. Степан Разин. Ерофей Хабаров. Семен Дежнев. Василий Поярков.

Даты:

1613 – 1645 – царствование Михаила Федоровича.
 1617 – Столбовский мир со Швецией
 1618 – Деулинское перемирие с Речью Посполитой.
 1632 – 1634 – Смоленская война.
 1645 – 1676 – царствование Алексея Михайловича
 1648 – Соляной бунт в Москве
 1648 – поход Семена Дежнева
 1649 – принятие Соборного Уложения. Оформление крепостного права в центральных регионах страны
 1649 – 1653 – походы Ерофея Хабарова
 1653 – реформы патриарха Никона, начало церковного раскола
 1654 – Переяславская Рада. Переход под власть России Левобережной Украины
 1654 – 1667 – война с Речью Посполитой.
 1656 – 1658 – война со Швецией.
 1662 – Медный бунт
 1667 – Андрусовское перемирие

1670 – 1672 – восстание Степана Разина.

1676 – 1682 – царствование Федора Алексеевича.

1677-1678 – Цигиринские походы.

Банк заданий

Задание №1

Установите хронологическую последовательность

Укажите порядок следования всех 4 вариантов ответа:

1)		принятие Соборного уложения
2)		"Вечный мир" с Речью Посполитой
3)		подписание Деулинского перемирия
4)		поход В.Пояркова на Амур

Задание №2

Установите хронологическую последовательность.

Укажите порядок следования всех 4 вариантов ответа:

1)		Подписание Нерчинского договора с Китаем
2)		заключение Столбовского мирного договора
3)		заключение Поляновского мирного договора
4)		заключение Бахчисарайского мирного договора

Задание №3

Установите соответствие между событиями XVII века и их датами.

Укажите соответствие для всех 4 вариантов ответа:

1)		Соборное уложение, свод законов Российского государства	1)	1652 г.
2)		Соляной бунт	2)	1670 г.
3)		Начало 2 этапа восстания С.Разина	3)	1648 г.
4)		Медный бунт	4)	1649 г.
			5)	1662 г.

Задание №4

Установите соответствие между событиями и их датами.

Укажите соответствие для всех 4 вариантов ответа:

1)		Русско- польская война	1)	1632-1634 гг
2)		Русско- турецкая война	2)	1656-1661 гг
3)		Русско- шведская война	3)	1633-1648 гг
4)		Восстание под предводительством С.Разина	4)	1676-1681 г.
			5)	1670-1671 гг

Задание №5

Установите соответствие между событиями и их датами.

Укажите соответствие для всех 4 вариантов ответа:

1)		Деулинское перемирие	1)	1618 г.
2)		Андрусовское перемирие	2)	1686 г.

3)		"Вечный мир" с Речью Посполитой	3)	1667 г.
4)		Кардисский мирный договор	4)	1661г.
			5)	1632 г.

Задание №6

Установите соответствие между именами монархов и датами их правления

Укажите соответствие для всех 4 вариантов ответа:

1)		Михаил Романова	1)	1598-1605 г.г.
2)		Алексей Михайлович	2)	1613-1645 гг
3)		Федор Алексеевич	3)	1645-1676 гг.
4)		Борис Годунов	4)	1610-1613 г.г
			5)	1676-1682 г.г.

Задание №7

Установите соответствие между событиями и датами.

Укажите соответствие для всех 4 вариантов ответа:

1)		принятие Соборного Уложения	1)	1648 г
2)		Медный бунт	2)	1649 г
3)		первый этап восстания Степана Разина	3)	1662 г
4)		Соляной бунт	4)	1667-1669 г

Задание №8

Установите соответствие между событиями и датами.

Укажите соответствие для всех 4 вариантов ответа:

1)		Соляной бунт	1)	1648 г
2)		Взятие Царицына войсками Степана Разина	2)	1649 г
3)		принятие Соборного уложения	3)	1662 г
4)		Медный бунт	4)	1670 г

Задание №9

Установите соответствие между русскими первооткрывателями XVII века и датами их открытий:

Укажите соответствие для всех 4 вариантов ответа:

1)		Е.Хабаров	1)	1639-1640 гг
2)		С.Дежнев	2)	1649-1651 гг
3)		И.Стадухин	3)	1649-1653 гг
4)		И.Москвитин	4)	1648 г

Задание №10

Установите соответствие между событиями и датами, когда они произошли

Укажите соответствие для всех 4 вариантов ответа:

1)		1566-1609 годы	1)	Тридцатилетняя война в Европе
2)		1618-1648 годы	2)	Революция в Нидерландах

3)	1648-1654 годы	3)	Русско-польская война
4)	1654-1667 годы	4)	Национально-освободительное движение на Украине

Задание №11

Установите соответствие между русскими первооткрывателями XVII века и датами их открытий:

Укажите соответствие для всех 4 вариантов ответа:

1)	П.Бекетов	1)	1696-1697 гг
2)	И.Москвитин	2)	1628-1632 гг
3)	В.Поярков	3)	1639-1640 гг
4)	В.Атласов	4)	1643-1646 гг

Задание №12

Установите соответствие между событиями и датами

Укажите соответствие для всех 4 вариантов ответа:

1)	подписание Андрусовского перемирия	1)	1648 г
2)	поражение польских войск от казаков Богдана Хмельницкого под Желтыми водами	2)	1653 г
3)	Переяславская рада	3)	1654 г
4)	Земский собор, постановивший принять Украину в подданство России	4)	1667 г

Задание №13

Какое прозвание было у царя Алексея Михайловича

Выберите один из 4 вариантов ответа:

1)	Благословенный
2)	Смиренный
3)	Великий
4)	Тишайший

Задание №14

Кто был фактическим соправителем первого царя из династии Романовых Михаила

Выберите один из 4 вариантов ответа:

1)	патриарх Никон
2)	патриарх Филарет
3)	польский король Сигизмунд III
4)	Василий Иванович Шуйский

Задание №15

Во время Соляного бунта государь Алексей Михайлович был вынужден отдать на расправу народу главу Земского приказа

Выберите один из 4 вариантов ответа:

1)	Л.Плещеева
2)	Б.Морозова
3)	В.Никитина

4)		А.Ордин-Нащокина
----	--	------------------

Задание №16

Укажите соратника Степана Разина по восстанию, атамана донских казаков

Выберите один из 4 вариантов ответа:

1)		Филарет Романов
2)		Василий Ус
3)		Афанасий Никитин
4)		Василий Татищев

Задание №17

Отметьте государственного деятеля, который возглавлял посольский приказ в первой половине 1670-х годов и занимался вопросами внешней политики Российского государства

Выберите один из 4 вариантов ответа:

1)		Борис Морозов
2)		Артамон Матвеев
3)		Леонтий Плещеев
4)		Ерофей Хабаров

Задание №18

Первые сведения о Японии в России были получены от казачьего атамана, путешественника

Выберите один из 4 вариантов ответа:

1)		Василия Пояркова
2)		Курбата Иванова
3)		Андрея Курбского
4)		Владимира Атласова

Задание №19

Укажите как сложилась судьба противника Никона протопопа Аввакума

Выберите один из 4 вариантов ответа:

1)		Аввакум был выслан из России
2)		Аввакум был казнен, его сожгли по царскому указу
3)		Аввакум заплатил огромный штраф и лишился своего состояния
4)		Аввакум был отправлен в отдаленный монастырь, где и закончил свои дни

Задание №20

Напишите понятие о котором идет речь.

Налог, предусматривающий сбор 1/5 части всех доходов с пользу государственной казны, собирався с 1613 г. в третье воскресенье после Пасхи

Ответ запишите со строчной буквы в им. п.

Запишите ответ:

1)	Ответ:	
----	--------	--

Задание №21

Напишите понятие о котором идет речь.

Монархическая форма правления в России, при которой царю принадлежали верховные права в законодательстве, управлении страной, командовании армией и флотом и т.д

Ответ запишите со строчной буквы в им. п.

Запишите ответ:

1)

Ответ:

Задание №22

Напишите понятие о котором идет речь.

Форма правления, предусматривающая участие сословных представителей в управлении государством, составлении законов.

Ответ запишите со строчной буквы без пробелов.

Запишите ответ:

1)

Ответ:

Задание №23

Напишите понятие о котором идет речь.

Высшее сословно-представительское учреждение Российского царства с середины XVI до конца XVII века, собрание представителей всех слоёв населения (кроме крепостных крестьян) для обсуждения политических, экономических и административных вопросов.

Ответ запишите со строчной буквы без пробелов.

Запишите ответ:

1)

Ответ:

Задание №24

Напишите понятие о котором идет речь.

Органы центрального государственного управления в Русском царстве, заведовавшие особым родом государственных дел или отдельными областями государства.

Ответ запишите со строчной буквы в им. п. мн.ч.

Запишите ответ:

1)

Ответ:

Задание №25

Напишите понятие о котором идет речь.

Форма зависимости крестьян, при которой они прикреплены к земле и подчинены административной и судебной власти помещика

Ответ запишите со строчной буквы без пробелов.

Запишите ответ:

1)

Ответ:

Задание №26

Напишите понятие о котором идет речь.

Выборный начальник казацкого войска, в 17—18 вв. — верховный правитель Украины.

Ответ запишите со строчной буквы в им. п.

Запишите ответ:

1)

Ответ:

Задание №27

Напишите понятие о котором идет речь.

Совокупность религиозных течений и организаций в русле русской православной традиции, отвергающих предпринятую в 1650-х — 1660-х патриархом Никоном и царём Алексеем Михайловичем церковную реформу

Ответ запишите со строчной буквы в им. п.

Запишите ответ:

1)	Ответ:	
----	--------	--

Задание №28

Напишите понятие о котором идет речь.

Наименование произведений русской портретной живописи XVII в.

Ответ запишите со строчной буквы в им. п.

Запишите ответ:

1)	Ответ:	
----	--------	--

Задание №29

Напишите понятие о котором идет речь.

Натуральная подать, к-рой облагались нерусские народы, занимавшиеся охотничьим промыслом

Ответ запишите со строчной буквы в им. п.

Запишите ответ:

1)	Ответ:	
----	--------	--

Задание №30

Новшеством в формировании армии XVII века стало появление особых отрядов, которые называли

Выберите один из 4 вариантов ответа:

- | | |
|----|----------------------------|
| 1) | иностранными отрядами |
| 2) | иностранными полками |
| 3) | полками нового строя |
| 4) | личной кавалерией государя |

Задание №31

Понятие " государственное преступление", введенное в Соборном уложении фиксировало нарушение прав такой категории населения, как

Выберите один из 4 вариантов ответа:

- | | |
|----|-------------------------------|
| 1) | жителей города |
| 2) | государственных служащих |
| 3) | военных всех разрядов |
| 4) | государя и церковных служащих |

Задание №32

Соборное уложение в отношении крепостных крестьян ввело такое новшество, как

Выберите один из 4 вариантов ответа:

- | | |
|----|--|
| 1) | строго определенный размер оброка |
| 2) | количество дней, которые крестьянин должен был отрабатывать на барщине |
| 3) | бессрочный розыск беглых крестьян |

4)	освобождение от всех повинностей в случае государственной награды
----	---

Задание №33

Первый этап народного выступления под предводительством Степана Разина историки называют

Выберите один из 4 вариантов ответа:

1)	охота на волков
2)	поход за золотом
3)	поход за зипунами
4)	переход через Альпы

Задание №34

Главными административными единицами в XVII веке, численность которых была выше 250, были

Выберите один из 4 вариантов ответа:

1)	губернии
2)	уезды
3)	края
4)	округа

Задание №35

Укажите государство, которое распространяло свое влияние на территорию Восточной Европы, являлось общим врагом для России и Речи Посполитой в XVII веке

Выберите один из 4 вариантов ответа:

1)	Китай
2)	Османская империя
3)	Монгольская империя
4)	Япония

Задание №36

" Повесть об Азовском осадном сидении" посвящена

Выберите один из 4 вариантов ответа:

1)	передаче крепости Азов от Османской империи России
2)	захвату донскими казаками крепости Азов
3)	безуспешной попытке донских казаков войти в крепость Азов
4)	присоединению к территории России побережья Азовского моря

Задание №37

История какой битвы связана с русско-турецкой войной 1676-1681 годов

Выберите один из 4 вариантов ответа:

1)	осада Чигирина
2)	битва под Нарвой
3)	взятие Белгорода
4)	осада Измаила

Задание №38

Первый российско-китайский договор, который установил границы между державами был подписан в

Выберите один из 4 вариантов ответа:

1)	Москве
2)	Хабаровске
3)	Владивостоке
4)	Нерчинске

Задание №39

Против какого государства князь Василий Голицын возглавил военные походы в 1687 и 1689 годах

Выберите один из 4 вариантов ответа:

1)	Османской империи
2)	Китая
3)	Крымского ханства
4)	Японии

Задание №40

Какой приказ, ранее не существовавший приказ, был создан в первые недели царствования Михаила Романова?

Выберите один из 4 вариантов ответа:

1)	Поместный приказ
2)	Разрядный приказ
3)	Разбойный приказ
4)	Казачий приказ

Задание №41

Главной внешнеполитической задачей Московского государства в начале царствования Михаила Федоровича было:

Выберите один из 4 вариантов ответа:

1)	завоевание выхода к Чёрному морю
2)	борьба с Крымским ханством и Османской империей
3)	возвращение Новгорода и Смоленска
4)	налаживание торговых связей с Ганзейским союзом

Задание №42

Укажите народное выступление, ставшее одним из самых крупных восстаний, вызванных церковными реформами

Выберите один из 4 вариантов ответа:

1)		восстание под руководством С.Разина
2)		восстание в Соловецком монастыре
3)		восстание под руководством Хлопка
4)		Медный бунт

Задание №43

Протопоп Аввакум был автором произведения

Выберите один из 4 вариантов ответа:

1)		"Житие"
2)		"Суд над Никоном"
3)		"Шемякин суд"
4)		"Путешествие по Сибири"

Задание №44

К церковной реформе, проведенной в 1653-1654 годах относится

Выберите один из 4 вариантов ответа:

1)		введение богослужения на латинском языке
2)		исправление икон и церковных книг по греческому образцу
3)		отмена почитания икон в церквях
4)		исправление книг по древнерусским образцам

Задание №45

Какие идеи отстаивали монахи в ходе восстания в Соловецком монастыре в 1668-1676 годах?

Выберите один из 4 вариантов ответа:

1)		отмена обета послушания в монастыре
2)		выступление за старую веру
3)		введение права монахов покидать монастырь по собственному желанию
4)		отказ от монастырского землевладения

Задание №46

Назовите географический объект, названный именем первопроходца, путешественника, казачьего атамана Семена Дежнева

Выберите один из 4 вариантов ответа:

1)		пролив между Африкой и Аравийским полуостровом
2)		пролив между Северной и Южной Америками
3)		мыс, крайняя северо-восточная оконечность Азии
4)		пролив между Азией и Северной Америкой

Задание №47

Как называется сочинение Ерофея Хабарова, составленное по итогам его путешествий ?

Выберите один из 4 вариантов ответа:

1)		" Полная карта Сибири"
2)		"Обзор картографических сведений Азии"
3)		" Чертеж реки Амуру"
4)		" Путешествие к далеким берегам"

Задание №48

Согласно Андрусовскому перемирию Правобережная Украина

Выберите один из 4 вариантов ответа:

1)	<input type="checkbox"/>	управлялась Россией и Речью Посполитой
2)	<input type="checkbox"/>	получала полную независимость
3)	<input type="checkbox"/>	оставалась под контролем Речи Посполитой
4)	<input type="checkbox"/>	передавалась под власть Османской империи

Задание №49

Как поступил патриарх Никон после конфликта с царем Алексеем Михайловичем, когда государь перестал посещать богослужения и приглашать патриарха на государственные приемы?

Выберите один из 4 вариантов ответа:

1)	<input type="checkbox"/>	Никон захватил царский престол
2)	<input type="checkbox"/>	Никон отлучил Алексея Михайловича от власти
3)	<input type="checkbox"/>	Никон проклял государя
4)	<input type="checkbox"/>	Никон сложил полномочия патриарха и удалился в монастырь

Задание №50

Как решил судьбу Никона церковный собор 1666-1667 годов?

Выберите один из 4 вариантов ответа:

1)	<input type="checkbox"/>	собор принял реформы, предложенные Никоном, но осудил патриарха
2)	<input type="checkbox"/>	собор отверг реформы и осудил патриарха
3)	<input type="checkbox"/>	собор возвратил Никону патриарший престол
4)	<input type="checkbox"/>	собор канонизировал Никона как святого

Задание №51

Причиной Соляного бунта было

Выберите один из 4 вариантов ответа:

1)	<input type="checkbox"/>	объявление войны с Турцией
2)	<input type="checkbox"/>	введение дополнительного косвенного налога
3)	<input type="checkbox"/>	недовольство отменой местничества
4)	<input type="checkbox"/>	стремление усилить власть воспитателя царя Б.Морозова

Задание №52

Начало Соляного бунта связано с

Выберите один из 4 вариантов ответа:

1)	<input type="checkbox"/>	жалобой москвичей на притеснение чиновников, введение новых налогов
2)	<input type="checkbox"/>	началом русско-турецкой войны
3)	<input type="checkbox"/>	отменой местничества
4)	<input type="checkbox"/>	отменой специального соляного налога

Задание №53

Причиной Медного бунта послужило (-а)

Выберите один из 4 вариантов ответа:

1)	<input type="checkbox"/>	введение бумажных денег вместо медных
2)	<input type="checkbox"/>	отмена хождения медных денег
3)	<input type="checkbox"/>	начало чеканки медных монет вместо серебряных

4)	введение расчетов векселями вместо медных монет
----	---

Задание №54

Причина проведения денежной реформы середины XVII века, которая привела к Медному бунту

Выберите один из 4 вариантов ответа:

1)	истощение государственной казны
2)	обогащение казны за счет торговли со странами Востока
3)	пополнение казны за счет ввоза золота из Африки
4)	принятие Новоторгового устава

Задание №55

Причиной русско-польской войны 1632-1634 годов стало (-л)

Выберите один из 4 вариантов ответа:

1)	прекращение созывов Земских соборов
2)	отказ России от уплаты дани
3)	стремление Польши вернуть на российский престол Лжедмитрия I
4)	стремление России вернуть Смоленские земли

Задание №56

Одним из результатов Смоленской войны 1632-1634 годов было (-л)

Выберите один из 4 вариантов ответа:

1)	получение Россией выхода в Балтийское море
2)	вхождение Белоруссии и Левобережной Украины в состав России
3)	соглашение Польши на существование Запорожской Сечи
4)	отказ короля Владислава от претензий на российский престол

Задание №57

Что из перечисленного стало одним из результатов Смоленской войны?

Выберите один из 4 вариантов ответа:

1)	потеря Россией Смоленска
2)	потеря Россией Черниговской и Северской земель
3)	отказ короля Владислава IV от притязаний на российский престол
4)	потеря Россией побережья Балтийского моря

Задание №58

Решение Земского собора принять в подданство российского государя Украину означало также намерение

Выберите один из 4 вариантов ответа:

1)	вести войну против Речи Посполитой
2)	предоставить украинским крестьянам земли в Центральной России
3)	заключить дружественный союз с Османской империей

4)	продолжить участие в Тридцатилетней войне
----	---

Задание №59

Условием договора казаков с Алексеем Михайловичем и решения Переяславской Рады было (-а)

Выберите один из 4 вариантов ответа:

1)	сохранение права гетмана Украины вступать в дипломатические отношения с другими государствами, кроме определенных стран
2)	вхождение всей территории Украины в состав России
3)	переселение польских крестьян с территории Украины
4)	отмена гетманства на Украине

Задание №60

Гражданская война на территории Украины во второй половине XVII века привела к

Выберите один из 4 вариантов ответа:

1)	переходу всей Украины под покровительство Османской империи
2)	расколу Украины на части по линии Днепра
3)	договору о принятии решения гетманами и радой только единогласным голосованием
4)	переходу всей территории Украины под власть Речи Посполитой

Задание №61

Ниже приведён перечень терминов. Все они, за исключением одного, непосредственно связаны с системой управления в России в XVII в. Укажите порядковый номер термина, выпадающего из данного ряда.

1. приказы
2. воеводы
3. Боярская дума
4. местничество
5. Избранная рада

Ответ запишите цифрой.

Запишите число:

1)	Ответ:	
----	--------	--

Задание №62

Ниже приведён перечень терминов. Все они, за исключением одного, обозначают социальные группы, существовавшие в России в XVII в. Укажите порядковый номер термина, выпадающего из данного ряда.

1. бояре
2. холопы
3. ремесленники
4. поляне
5. священники

Ответ запишите цифрой.

Запишите число:

1)	Ответ:	
----	--------	--

Задание №63

Установите соответствие между определениями и терминами.

Укажите соответствие для всех 4 вариантов ответа:

1)	органы отраслевого управления в XV-XVII веках	1)	Боярская дума
2)	глава Русской православной церкви	2)	воевода
3)	совещательный орган власти при царе	3)	приказы
4)	глава военного и гражданского управления в городе	4)	патриарх

Задание №64

Установите соответствие между войной и мирным договором, заключённым по её окончанию

Укажите соответствие для всех 5 вариантов ответа:

1)	Русско-шведская война 1612-1617	1)	Деулинское перемирие
2)	Русско- польская война 1654-1667	2)	Поляновский мирный договор
3)	Русско-польская война 1609-1618	3)	Андрусовское перемирие
4)	Русско- турецкая война 1676-1681	4)	Столбовский мир
5)	Русско- польская война 1632-1634	5)	Бахчисарайский мирный договор

Задание №65

Установите соответствие между заключёнными соглашениями и фактами, которые с ними связаны.

Укажите соответствие для всех 5 вариантов ответа:

1)	Потеряны Ям, Копорье	1)	Деулинское перемирие
2)	1617 г.	2)	Столбовский мир
3)	Потеряны Смоленск, Чернигов		
4)	1618г.		
5)	перемирие на четырнадцать с половиной лет		

Задание №66

Установите соответствие между названием приказа и его функциями

Укажите соответствие для всех 4 вариантов ответа:

1)	Разрядный приказ	1)	распределение земель среди дворян
2)	Приказ тайных дел	2)	распределение дворян и бояр на царскую службу
3)	Поместный приказ	3)	вопросы внешней политики
4)	Посольский приказ	4)	контроль за всеми государственными учреждениями

Задание №67

Установите соответствие между событиями (процессами, явлениями) и участниками этих событий (процессов, явлений).

Укажите соответствие для всех 3 вариантов ответа:

1)		подавление восстания под предводительством С.Т. Разина	1)	А. Виниус
2)		основание одной из первых мануфактур в России	2)	Е.П. Хабаров
3)		походы на Амур	3)	И.А. Хованский
			4)	Ю.Н. Барятинский

Задание №68

Установите соответствие между именем русского первопроходца и его деятельностью.

Укажите соответствие для всех 4 вариантов ответа:

1)		С.Дежнев	1)	Исследование Сибири. Основание городов Чита, Нерчинск, Якутск.
2)		И.Стадухин	2)	Исследование Северной и Восточной Сибири. Участие в открытии Колымы. Первым из европейцев прошел весь Берингов пролив.
3)		В.Атласов	3)	Первооткрыватель реки Колыма. Исследование Чукотского полуострова. Первым зашел на север Камчатки.
4)		П.Бекетов	4)	Исследование Камчатки. Сбор подробных сведений о климате, животном и растительном мире Камчатки.

Задание №69

Установите соответствие между именем русского первопроходца и его деятельностью.

Укажите соответствие для всех 4 вариантов ответа:

1)		Е.Хабаров	1)	Первым из европейцев вышел к Охотскому морю. Открытие и исследование побережья Охотского моря на протяжении 1300 км, Удской губы, Сахалинского залива, Амурского лимана, устья Амура и острова Сахалин.
2)		И.Москвитин	2)	Исследование Сибири. Основание городов Чита, Нерчинск, Якутск.
3)		В.Поярков	3)	Совершил поход по Амуру от впадения в него реки Урки до самых низовий. В результате его экспедиции приамурское коренное

				население приняло русское подданство.
4)		П.Бекетов	4)	Исследование Сибири и Дальнего Востока. Открытие реки Зeya и Зейской равнины. Сбор ценных сведений о природе и населении Приамурья.

Задание №70

Выберите из списка ТРИ причины народных выступлений XVII века.

Выберите несколько из 6 вариантов ответа:

1)		повышение налогов
2)		созыв Земских соборов
3)		изгнание интервентов из России
4)		бюрократическая волокита в государственном аппарате
5)		взятки чиновников
6)		предоставление льгот городскому населению

Задание №71

Посольский приказ отвечал за

Выберите несколько из 5 вариантов ответа:

1)		вопросы внешней политики
2)		дворцовое хозяйство и имущество царя
3)		сохранность драгоценностей и вещей царской семьи
4)		освобождение военнопленных за выкуп
5)		распределение дворян и бояр на царскую службу

Задание №72

Соборное уложение 1649 года впервые утвердило (л)

Выберите несколько из 5 вариантов ответа:

1)		полное право феодала на землю и зависимых крестьян
2)		пятилетний срок розыска беглых крестьян
3)		право крестьян на переход от одного хозяина к другому в Юрьев день
4)		бессрочный розыск беглых крестьян
5)		равномерное распределение земли между крестьянами

Задание №73

Что послужило причинами церковного раскола? Выберите два правильных ответа.

Выберите несколько из 5 вариантов ответа:

1)		закрепощение крестьян
2)		проникновение в Россию протестанства из европейских стран
3)		исправление религиозных книг
4)		изменение церковных обрядов
5)		ослабление царской власти

Задание №74

Найдите в приведенном списке два имени, связанные с церковным расколом, и запишите цифры, под которыми они указаны.

Выберите несколько из 5 вариантов ответа:

1)		патриарх Иов
2)		патриарх Никон
3)		Сергий Радонежский
4)		протопоп Аввакум
5)		митрополит Филипп

Задание №75

Найдите в приведенном ниже списке два имени землепроходцев XVII века

Выберите несколько из 5 вариантов ответа:

1)		Е.Хабаров
2)		В.Беринг
3)		С.Дежнев
4)		А.Никитин
5)		Б.Хмельницкий

Задание №76

Прочитайте отрывок из сочинения историка и укажите название, дважды пропущенное в тексте.

...Король Ян Собесский, деятельный враг турок, очень рассчитывал на русскую помощь и очень желал привлечь Москву к союзу против Османской империи. Но Москва, с самой _____ находясь только в перемирии, соглашалась подать помощь лишь по заключении вечного мира. Ян Собесский согласился на вечный мир, по которому навеки уступил Москве всё, что она завоевала у _____ в XVII в. (важнее всего Киев). Этот мир был очень крупной дипломатической победой, которой Москва обязана была В.В. Голицыну.

Выберите один из 4 вариантов ответа:

1)		Швеция
2)		Речь Посполитая
3)		Дания
4)		Священная Римская империя

Задание №77

Прочитайте отрывок из сочинения историка и укажите событие, о котором идёт речь.

Долготерпение общества, наконец, истощилось, и... разразился мятеж. Восстала не только чернь, но и служилые люди. Мятеж был направлен против Морозова, Плещеева и Траханиотова. Но, конечно, эти лица были только теми каплями, которые переполнили народное терпение, — их деятельность была только искрой, которая зажгла готовый горючий материал... Одной из главных причин народного раздражения была «московская волокита» и злоупотребления приказных людей, чиновников центрального и областного управления. Эта причина коренилась не только в злой воле, не в одной деморализации московской администрации, а преимущественно в несовершенстве самого московского законодательства.

Выберите один из 4 вариантов ответа:

1)	Медный бунт
2)	Псковское восстание 1650 г.
3)	Соляной бунт
4)	восстание под предводительством С.Т. Разина

Задание №78

Об осаде какого города повествует В.Козляков в книге «Михаил Фёдорович»? «Посланный им десант сумел захватить часть стены: «взыдоша на стену града и башню угольную». Но в то время, когда войско стало переправляться на плотках к этому месту, осажденным удалось подложить порох и взорвать башню вместе с теми, кто ее удерживал. «Повесть о приходе свейского крала с немцами под град _____» описала урон, нанесенный шведам этим взрывом: «И в реку их вметаху; инии же на плотках в реке потоплены быша». Развивая свой успех, защитники города даже попытались организовать ответную вылазку. Королю пришлось остановить штурм, а вскоре, 17 октября, он бесславно оставил осаду : «пошел с великим стыдом, многих у него людей побили, а иные с нужи померли и побрели врозь»

Выберите один из 4 вариантов ответа:

1)	Смоленск
2)	Новгород
3)	Псков
4)	Чернигов

Задание №79

Прочитайте текст, в котором каждое предложение пронумеровано. Данный текст содержит две ошибки. Укажите номера предложений, в которых есть фрагменты, содержащие ошибки.

(1) Алексей Михайлович был третьим царём из дома Романовых. (2) В первые годы царствования Алексея Михайловича властью фактически распоряжался боярин Г.Г. Ромодановский («дядька», воспитатель царя). (3) В первое десятилетие царствования Алексея Михайловича в Москве произошёл Соляной бунт. (4) Во время бунта погибли приближённые царя Л.С. Плещеев и П.Т. Траханиотов. (5) Правительство вынуждено было пойти на уступки. (6) Во исполнение пожеланий дворянства и торговых людей в сентябре 1649 г. Земский собор утвердил свод законов — Соборное уложение.

Ответ запишите цифрами в порядке возрастания без пробелов.

Запишите число:

1)	Ответ:	
----	--------	--

Задание №80

Прочитайте текст, в котором каждое предложение пронумеровано. Данный текст содержит две ошибки. Укажите номера предложений, в которых есть фрагменты, содержащие ошибки

(1) Подписав «Вечный мир» с Речью Посполитой, Россия стала союзницей антитурецкой коалиции. (2) Эта коалиция называлась Священной лигой и состояла из Священной Римской империи, Венеции и Речи Посполитой, боровшихся с Османской империей и её вассалом — Крымским ханством. (3) В мае 1687 г. русская армия, насчитывавшая примерно 100 тысяч солдат и возглавляемая князем В.В. Голицыным, выступила из Левобережной Украины вместе с донскими и

запорожскими казаками и двинулась в сторону Крыма. (4) Когда русская армия переправлялась через Конские воды, враги подожгли степь, лишив русских лошадей пастбищ, что сделало невозможным продолжение похода. (5) В 1791 г. русское войско, увеличенное до 150 тысяч человек, вновь направилось на юг и подошло к Перекопу. (6) Однако возглавлявший поход А.Л. Ордин-Нашокин отказался брать Перекоп, так как в нём было всего три колодца с пресной водой, чего не хватило бы для армии, и решил вернуться.

Ответ запишите цифрами в порядке возрастания без пробелов.

Запишите число:

1)

Ответ:

Задание №81

Рассмотрите схему и выполните задание. Напишите имя отчество правителя России, при котором заштрихованная территория вошла в состав России.

Ответ запишите со строчной буквы без пробелов.



Запишите ответ:

1)

Ответ:

Задание №82

Рассмотрите карту выполните задание. Напишите название города, обозначенного на схеме цифрой «1».

Ответ запишите со строчной буквы.



Запишите ответ:

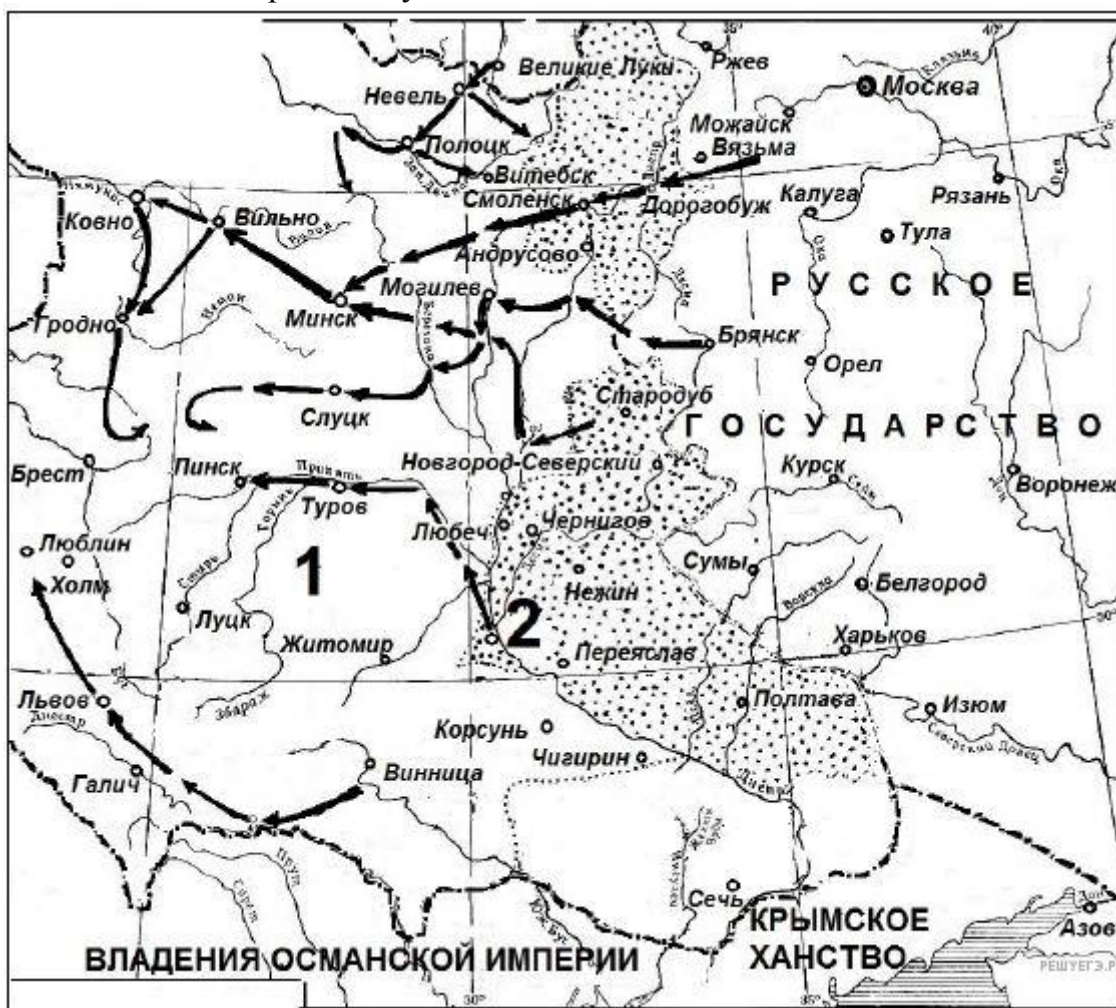
1)

Ответ:

Задание №83

Напишите название государства, обозначенного на схеме цифрой «1».

Ответ запишите словом со строчной буквы.



Запишите ответ:

1)

Ответ:

Задание №84

Рассмотрите схему и выполните задание.

Укажите век, когда была совершена первая русская экспедиция по маршруту, изображённому на схеме.

Ответ запишите цифрами в порядке возрастания без пробелов.



Запишите число:

1)

Ответ:

Задание №85

Рассмотрите схему и выполните задание

Укажите цифру, которой в схеме обозначена экспедиция под руководством Василия Пояркова в легенде.



Запишите число:

1)

Ответ:

Задание №86

Рассмотрите схему и выполните задание

Выберите три правильных утверждения из шести предложенных



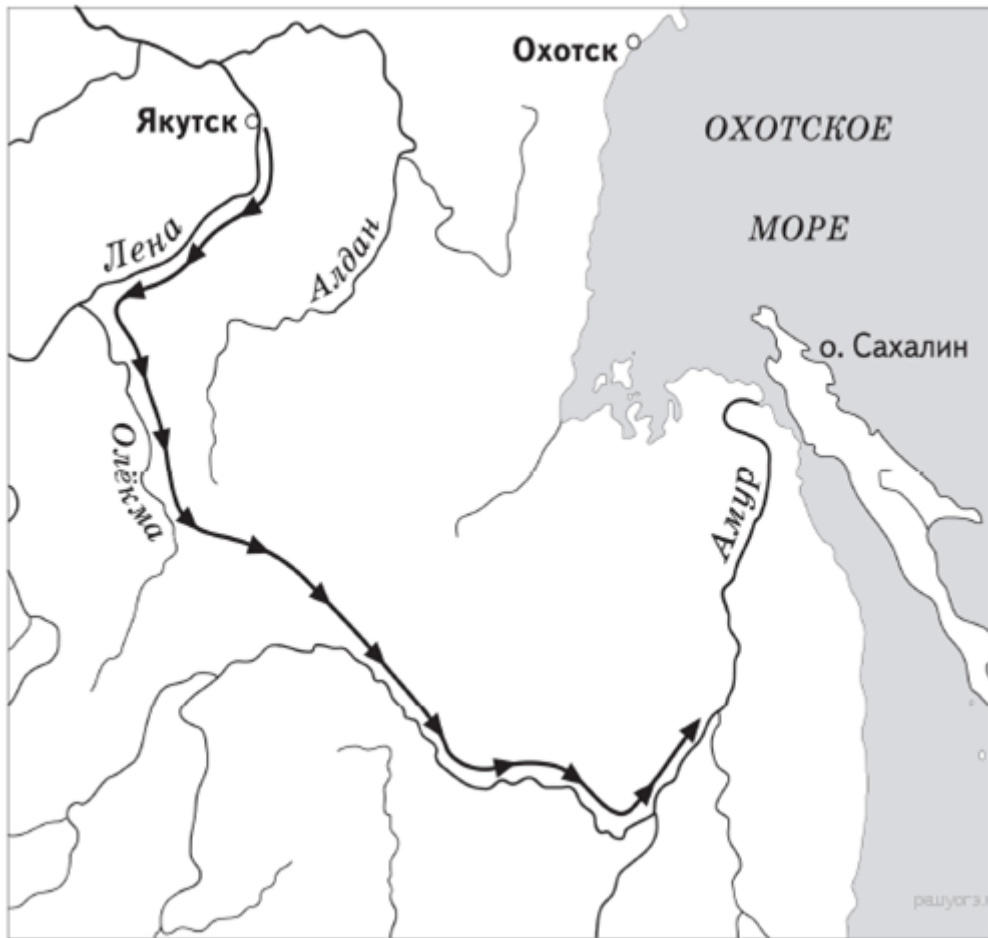
Выберите несколько из 6 вариантов ответа:

1)	Изображенная экспедиция была совершена в XV веке
2)	Руководителем этой экспедиции был С.И.Дежнев
3)	Это маршрут экспедиции В.И.Беринга
4)	Изображенная экспедиция была совершена в XVII веке
5)	В результате этой экспедиции был основан Магадан
6)	Благодаря этой экспедиции на карте появился Анадырский острог

Задание №87

Рассмотрите схему и выполните задание

Выберите три правильных утверждения из шести предложенных



Выберите несколько из 6 вариантов ответа:

1)	На карте обозначен маршрут экспедиции П.Бекетова
2)	Фамилией русского землепроходца, чей маршрут обозначен на карте, назван город в России
3)	Представленная экспедиция была совершена в XVII веке
4)	Землепроходец, возглавивший этот поход, раздобыл первые сведения о Японии
5)	На карте представлен маршрут похода Ермака Тимофеевича
6)	Землепроходец, чей маршрут обозначен на карте, участвовал в столкновении с маньчжурами

Задание №88

Рассмотрите изображение и выполните задание

Какие суждения о данном изображении являются верными? Выберите два суждения из пяти предложенных.



Выберите несколько из 5 вариантов ответа:

1)	На картине изображен И.И. Болотников
2)	Этот человек возглавил самое крупное народное выступление в XVII веке
3)	Изображенным человеком является С.Т. Разин
4)	Это изображение посвящено русско-турецкой войне 1676-1681 годов
5)	Главной причиной народного выступления, руководитель которого изображен на картине, была церковная реформа патриарха Никона.

Задание №89

Рассмотрите изображение и выполните задание.

Какие суждения о произведении русского искусства, изображённом на фотографии, являются верными? Выберите два суждения из пяти предложенных.



Выберите несколько из 5 вариантов ответа:

1)	на фотографии изображен портрет (парсуна) царя Алексея Михайловича
2)	портрет хранится в Золотых кладовых Эрмитажа
3)	парсуна создана в XVII в.
4)	данная форма живописи получила активное развитие в России XVIII в.
5)	в руках царя, изображённого на портрете, скипетр, на его голове — держава.

Задание №90

Рассмотрите изображение и выполните задание.

Отметьте три утверждения, относящиеся к этой картинке



Выберите несколько из 6 вариантов ответа:

1)	Это изображение памятника В.Д.Пояркову
2)	Он разгромил тысячный отряд, напавших на него маньчжур
3)	Этот первопроходец собрал первые сведения о Японии
4)	Он положил начало заселению русскими людьми территории по реке Амур
5)	Этот человек возглавил поход, благодаря которому впервые русские вышли к побережью Тихого океана
6)	Это изображение памятника Е.П.Хабарову

Задание №91

Рассмотрите картину и выберите три утверждения, относящиеся к ней.



Выберите несколько из 6 вариантов ответа:

1)	Автором этой картины является В.И.Суриков
2)	Здесь представлены события Смутного времени
3)	Эта картина имеет название " Боярыня Морозова"

4)	Итогом события, изображенного на картине, стала русско- польская война 1654-1667 годов
5)	Это событие относится к церковному расколу середины XVII века
6)	Женщина, изображенная на картине, готовилась к покушению на царя

Задание №92

Рассмотрите картину Э.Э.Лисснера и укажите верные суждения.

Выберите два суждения из пяти предложенных.




Выберите несколько из 5 вариантов ответа:

1)	Действие картины происходит на территории Московского кремля
2)	Храм, изображённый в центральной части картины, построен в XVII в.
3)	На картине изображён момент подавления восстания
4)	Одной из причин бунта стала казнь С.Разина
5)	На картине изображены события Медного бунта

Задание №93

Укажите изображения, на которых представлены объекты, построенные в том же веке, когда произошло событие, которому посвящена марка. Ответ запишите цифрами в порядке возрастания.



РЕШЕГЭ.РФ

Запишите число:

1)

Ответ:

Задание №94

Укажите изображения, на которых представлены объекты, построенные в том же веке, когда произошло изображенное событие. Ответ запишите цифрами в порядке возрастания.




1



2



3



4

Запишите число:

1)

Ответ:

Задание №95

Укажите два события, которые произошли во время правления изображенного царя.
Ответ запишите цифрами в порядке возрастания без пробелов.



1)



3)



2)



4)




Запишите число:

1)

Ответ:

Задание №96

Укажите два события, которые произошли во время правления изображенного царя.
Ответ запишите цифрами в порядке возрастания без пробелов.



Запишите число:

1)

Ответ: