

Материалы  
для подготовки к тесту по истории 7 класс М-5 базовый уровень  
по теме «Россия при первых Романовых».

Тема	Содержание
Россия при первых Романовых: изменения в государственном управлении.	Первые Романовы. Изменение положения Земских соборов, Боярской думы. Приказная система при Алексее Михайловиче. Местное управление в XVII веке. Реформа армии. Соборное уложение 1649 года.
«Бунташный век».	Причины народных выступлений. Соляной бунт. Восстания в Пскове и Новгороде. Медный бунт. Восстание Степана Разина.
Русская православная церковь в XVII веке. Реформа патриарха Никона и Раскол.	Церковь после Смуты. Реформа патриарха Никона. Церковный собор 1666-1667 годов. Протопоп Аввакум. Старообрядческое движение.
Внешняя политика России в XVII в.	«Посольский обычай». Противостояние России и Речи Посполитой в XVII веке. Борьба со Швецией. Россия и страны исламского мира. Отношения России с Китаем.
«Под рукой» российского государя: вхождение Украины в состав России.	Западнорусские земли в составе Речи Посполитой. Восстание Богдана Хмельницкого. Переяславская рада. Вхождение Украины в состав России.
Русские путешественники и первопроходцы XVII века.	Первые походы в Сибирь. С.Дежнев. Походы на Дальний Восток. Освоение Сибири.

**Понятия:** Бюрократия, воевода, драгуны, полки нового строя, рейтары, Соборное уложение, поход за «зипунами», верительная грамота, коалиция, ратификация.

**Персоналии:** А.С.Матвеев, М.Б.Шейн, А.Л. Ордин-Нащокин, И.А.Хованский, Г.Г.Ромодановский, И.С. Самойлович, В.В. Голицын, В.Поярков, Е.Хабаров.

**Даты:** 1613-1645 гг, 1645-1676 гг, 1617 г, 1618 г, 1632-1634 гг, 1648г, 1649 г, 1649-1653гг,1653г,1654г, 1654-1667 гг, 1656-1661 гг, 1677-1678 гг, 1676-1681 гг, 1689 г.

**Материал для подготовки:**

**История России 7 класс** Под редакцией А.В.Торкунова Москва «Просвещение», 2017г. Часть 2.

Для того, чтобы получить допуск к тесту учащийся должен выполнить следующие виды работ:

- оформить лекционную тетрадь;
- работа с документом;
- картографический практикум (контурная карта);
- исторический диктант;

Выполнение каждого вида работ подтверждается отметкой учителя в зачётном листе и допуском к итоговому тесту.

**Банк заданий**

**Задание №1**

Отметьте даты правления Михаила Романова

Выберите один из 4 вариантов ответа:

1)	1598-1605 гг
2)	1605-1606 гг
3)	1606-1610 гг

4)	1613-1645 гг
----	--------------

### Задание №2

Укажите годы правления Алексея Михайловича Романова

Выберите один из 4 вариантов ответа:

1)	1605-1606 гг
2)	1606-1610 гг
3)	1613-1645 гг
4)	1645-1676 гг

### Задание №3

Царь Федор Алексеевич Романов правил в

Выберите один из 4 вариантов ответа:

1)	1598-1605 годах
2)	1613-1645 годах
3)	1645-1676 годах
4)	1676-1682 годах

### Задание №4

Соборное уложение, свод законов Российского государства был принят в

Выберите один из 4 вариантов ответа:

1)	1618 году
2)	1632 году
3)	1649 году
4)	1653 году

### Задание №5

Укажите дату Соляного бунта

Выберите один из 4 вариантов ответа:

1)	1603 г
2)	1648 г
3)	1662 г
4)	1671 г

### Задание №6

Медный бунт произошел в

Выберите один из 4 вариантов ответа:

1)	1648 г
2)	1653 г
3)	1662 г
4)	1686 г

### Задание №7

Деулинское перемирие было подписано в

Выберите один из 4 вариантов ответа:

1)		1618 году
2)		1632 году
3)		1634 году
4)		1686 году

#### Задание №8

Назовите дату подписания Бахчисарайского мирного договора

Выберите один из 4 вариантов ответа:

1)		1676 г
2)		1681 г
3)		1686 г
4)		1689 г

#### Задание №9

Укажите дату подписания Нерчинского русско-китайского договора, который устанавливал границу между двумя державами

Выберите один из 4 вариантов ответа:

1)		1654 г
2)		1667 г
3)		1681 г
4)		1689 г

#### Задание №10

Отец Михаила Романова, фактически соправитель своего сына после возвращения из польского плена, был

Выберите один из 4 вариантов ответа:

1)		патриархом
2)		председателем Государственной думы
3)		главой Земского собора
4)		главой Посольского приказа

#### Задание №11

Какое прозвание было у царя Алексея Михайловича

Выберите один из 4 вариантов ответа:

1)		Благословенный
2)		Смиренный
3)		Великий
4)		Тишайший

#### Задание №12

Кто был фактическим соправителем первого царя из династии Романовых Михаила

Выберите один из 4 вариантов ответа:

1)		патриарх Никон
2)		патриарх Филарет
3)		польский король Сигизмунд III
4)		Василий Иванович Шуйский

**Задание №13**

Во время Соляного бунта государь Алексей Михайлович был вынужден отдать на расправу народу главу Земского приказа

Выберите один из 4 вариантов ответа:

1)	Л.Плещеева
2)	Б.Морозова
3)	В.Никитина
4)	А.Ордин-Нащокина

**Задание №14**

Гетманом Войска Запорожского после смерти Богдана Хмельницкого был избран

Выберите один из 4 вариантов ответа:

1)	Андрей Хмельницкий
2)	Иван Выговский
3)	Иван Милославский
4)	Иван Хованский

**Задание №15**

И.М.Брюховецкий- это

Выберите один из 4 вариантов ответа:

1)	московский дворянин, представитель древнего московского рода
2)	гетман Правобережной Украины
3)	гетман Левобережной Украины
4)	польский чиновник, который провел перепись населения в Речи Посполитой.

**Задание №16**

Первые сведения о Японии в России были получены от казачьего атамана, путешественника

Выберите один из 4 вариантов ответа:

1)	Василия Пояркова
2)	Курбата Иванова
3)	Андрея Курбского
4)	Владимира Атласова

**Задание №17**

Как сложилась судьба противника Никона протопопа Аввакума

Выберите один из 4 вариантов ответа:

1)	Аввакум был выслан из России
2)	Аввакум был казнен, его сожгли по царскому указу
3)	Аввакум заплатил огромный штраф и лишился своего состояния
4)	Аввакум был отправлен в отдаленный монастырь, где и закончил свои дни

**Задание №18**

Вопросами распределения дворян и бояр на царскую службу занимался

Выберите один из 4 вариантов ответа:

1)	Челобитный приказ
2)	Избранная рада

3)	Разрядный приказ
4)	министерство государственных имуществ

#### Задание №19

Орган государственного управления, созданный при Алексее Михайловиче для контроля за всеми государственными учреждениями назывался

Выберите один из 4 вариантов ответа:

1)	Правительствующий сенат
2)	Государственный совет
3)	Приказ тайных дел
4)	Приказ особых совещаний

#### Задание №20

Новшеством в формировании армии XVII века стало появление особых отрядов, которые называли

Выберите один из 4 вариантов ответа:

1)	иностранными отрядами
2)	иностранными полками
3)	полками нового строя
4)	личной кавалерией государя

#### Задание №21

В Соборном уложении было введено новое юридическое понятие

Выберите один из 4 вариантов ответа:

1)	государственное преступление
2)	самодержавие
3)	урочные лета
4)	заповедные лета

#### Задание №22

А.С.Матвеев, возглавлявший Посольский приказ, главной задачей российской внешней политики считал

Выберите один из 4 вариантов ответа:

1)	открытие Северной Америки
2)	отправление экспедиции к Австралии
3)	присоединение к России Правобережной Украины
4)	завоевание выхода к Каспийскому морю

#### Задание №23

Укажите государство, которое распространяло свое влияние на территорию Восточной Европы, являлось общим врагом для России и Речи Посполитой в XVII веке

Выберите один из 4 вариантов ответа:

1)	Китай
2)	Османская империя
3)	Монгольская империя
4)	Япония

**Задание №24**

Согласно условиям Столбовского мирного договора Швеция возвращала России

Выберите один из 4 вариантов ответа:

1)	Новгород
2)	Ригу
3)	Дерпт
4)	Смоленск

**Задание №25**

"Повесть об Азовском осадном сидении" посвящена

Выберите один из 4 вариантов ответа:

1)	передаче крепости Азов от Османской империи России
2)	захвату донскими казаками крепости Азов
3)	безуспешной попытке донских казаков войти в крепость Азов
4)	присоединению к территории России побережья Азовского моря

**Задание №26**

История какой битвы связана с русско-турецкой войной 1676-1681 годов

Выберите один из 4 вариантов ответа:

1)	осада Чигирина
2)	битва под Нарвой
3)	взятие Белгорода
4)	осада Измаила

**Задание №27**

Отметьте одно из условий Столбовского мирного договора России со Швецией

Выберите один из 4 вариантов ответа:

1)	русские купцы получили право беспошлинной торговли в Швеции
2)	русская торговля через Балтийское море должна была вестись при посредничестве шведских купцов
3)	Швеция получала в свои владения Новгород
4)	Швеция предоставляла России территорию побережья Балтийского моря

**Задание №28**

Против какого государства князь Василий Голицын возглавил военные походы в 1687 и 1689 годах

Выберите один из 4 вариантов ответа:

1)	Османской империи
2)	Китая
3)	Крымского ханства
4)	Японии

**Задание №29**

Участие каких слоев населения придавало дополнительную опасность народным волнениям

Выберите один из 4 вариантов ответа:

1)	крестьян
2)	ремесленников
3)	казаков

4)		бояр
----	--	------

#### Задание №30

Новой военно-административной единицей, объединявшей несколько уездов в XVII веке, стали

Выберите один из 4 вариантов ответа:

1)		разряды
2)		губернии
3)		области
4)		края

#### Задание №31

Как назывались документы, которые удостоверяли назначение лица дипломатическим представителем в другую страну

Выберите один из 4 вариантов ответа:

1)		паспорта
2)		верительные грамоты
3)		удостоверения личности
4)		секретные депеши

#### Задание №32

Совещательный орган власти при царе- это

Выберите один из 4 вариантов ответа:

1)		Боярская дума
2)		приказ
3)		Земский собор
4)		Воевода

#### Задание №33

Главными административными единицами в XVII веке, численность которых была выше 250, были

Выберите один из 4 вариантов ответа:

1)		губернии
2)		уезды
3)		края
4)		округа

#### Задание №34

Как называлась государственная структура, созданная в Москве для управления территориями Левобережной Украины

Выберите один из 4 вариантов ответа:

1)		коллегия Украины
2)		совет гетманов
3)		Малороссийский приказ
4)		Московская рада

#### Задание №35

## Противники реформы Никона, сторонники протопопа Аввакума- это

Выберите один из 4 вариантов ответа:

1)	антиниконианцы
2)	аввакумцы
3)	старообрядцы
4)	протестанты

### Задание №36

Укажите понятие о котором идет речь.

«Название, которое получил XVII век, по причине регулярных народных бунтов, волнений.»

Ответ запишите со строчной буквы

Запишите ответ:

1)	Ответ:	
----	--------	--

### Задание №37

Укажите понятие о котором идет речь.

«Воинские части (полки), формировавшиеся в России XVII века из служивых, «охочих» вольных людей, иностранцев, казаков и других наёмников по образцу западноевропейских армий».

Ответ запишите со строчной буквы без пробелов.

Запишите ответ:

1)	Ответ:	
----	--------	--

### Задание №38

Укажите понятие о котором идет речь.

Совещательный орган при царе в Московском государстве XVI–XVII вв, состоявший из наиболее знатных и родовитых лиц.

Ответ запишите со строчной буквы без пробела

Запишите ответ:

1)	Ответ:	
----	--------	--

### Задание №39

Укажите понятие о котором идет речь.

Органы центрального управления в России XVI — начала XVIII вв., находившиеся в непосредственном ведении царя и Боярской думы. Каждый из этих органов ведал определённым кругом вопросов, но строгого разграничения функций между ними не существовало.

Ответ запишите со строчной буквы во мн.ч.

Запишите ответ:

1)	Ответ:	
----	--------	--

### Задание №40

Укажите понятие о котором идет речь.

Общее название последователей религиозных течений в России, сформировавшихся в результате неприятия церковных реформ, проведённых патриархом Никоном.

Ответ запишите со строчной буквы во мн.ч.



Запишите ответ:

1)

Ответ:

#### Задание №41

Укажите понятие о котором идет речь.

«Свод законов Российского государства, принятый Земским собором в 1649 г.».

Ответ запишите со строчной буквы без пробела.

Запишите ответ:

1)

Ответ:

#### Задание №42

Причиной Соляного бунта было

Выберите один из 4 вариантов ответа:

1)

объявление войны с Турцией

2)

введение дополнительного косвенного налога

3)

недовольство отменой местничества

4)

стремление усилить власть воспитателя царя Б.Морозова

#### Задание №43

Причиной Медного бунта послужило (-а)

Выберите один из 4 вариантов ответа:

1)

введение бумажных денег вместо медных

2)

отмена хождения медных денег

3)

начало чеканки медных монет вместо серебряных

4)

введение расчетов векселями вместо медных монет

#### Задание №44

Городские восстания в середине XVII века стали причиной созыва Земского собора и принятия

Выберите один из 4 вариантов ответа:

1)

Судебника

2)

Конституции

3)

Соборного уложения

4)

Наказа

#### Задание №45

Укажите один из итогов Медного бунта

Выберите один из 4 вариантов ответа:

1)

прекращение хождения медных денег

2)

введение исключительно медных монет в обиход

3)

переход на европейскую валюту

4)

переход на бумажные деньги

#### Задание №46

Причиной русско-польской войны 1632-1634 годов стало (-л)

Выберите один из 4 вариантов ответа:

1)

прекращение созывов Земских соборов

2)

отказ России от уплаты дани

3)	стремление Польши вернуть на российский престол Лжедмитрия I
4)	стремление России вернуть Смоленские земли

#### Задание №47

Причина проведения денежной реформы середины XVII века, которая привела к Медному бунту

Выберите один из 4 вариантов ответа:

1)	истощение государственной казны
2)	обогащение казны за счет торговли со странами Востока
3)	пополнение казны за счет ввоза золота из Африки
4)	принятие Новоторгового устава

#### Задание №48

Одним из результатов Смоленской войны 1632- 1634 годов было (-л)

Выберите один из 4 вариантов ответа:

1)	получение Россией выхода в Балтийское море
2)	вхождение Белоруссии и Левобережной Украины в состав России
3)	соглашение Польши на существование Запорожской Сечи
4)	отказ короля Владислава от претензий на российский престол

#### Задание №49

Укажите результат мирного договора между Россией и Швецией в 1661 году

Выберите один из 4 вариантов ответа:

1)	потеря Россией всех завоеваний в Ливонии
2)	заключение "вечного мира" со Швецией
3)	приобретение Россией Ладоги и Копорья
4)	получение Россией выхода в Балтийское море

#### Задание №50

Условием договора казаков с Алексеем Михайловичем и решения Переяславской Рады было (-а-)

Выберите один из 4 вариантов ответа:

1)	сохранение права гетмана Украины вступать в дипломатические отношения с другими государствами, кроме определенных стран
2)	вхождение всей территории Украины в состав России
3)	переселение польских крестьян с территории Украины
4)	отмена гетманства на Украине

#### Задание №51

Гражданская война на территории Украины во второй половине XVII века привела к

Выберите один из 4 вариантов ответа:

1)	переходу всей Украины под покровительство Османской империи
2)	расколу Украины на части по линии Днепра
3)	договору о принятии решения гетманами и радой только единогласным голосованием
4)	переходу всей территории Украины под власть Речи Посполитой

**Задание №52**

Установите соответствие между событиями (процессами) и их участниками: к каждой позиции первого столбца подберите соответствующую позицию из второго столбца.

Укажите соответствие для всех 3 вариантов ответа:

1)		Соляной бунт	1)	протопоп Аввакум
2)		Переяславская рада	2)	Владислав IV
3)		Смоленская война	3)	патриарх Никон
			4)	Алексей Тишайший
			5)	Б. М. Хмельницкий

**Задание №53**

Установите соответствие между событиями (процессами) и их участниками: к каждой позиции первого столбца подберите соответствующую позицию из второго столбца.

Укажите соответствие для всех 3 вариантов ответа:

1)		Медный бунт	1)	протопоп Аввакум
2)		церковный раскол	2)	Владислав IV
3)		заключение Бахчисарайского	3)	Фёдор Алексеевич
			4)	Алексей Тишайший
			5)	Б. М. Хмельницкий

**Задание №54**

Установите соответствие между событиями и датами

Укажите соответствие для всех 4 вариантов ответа:

1)		Церковная реформа в России	1)	1668-1676 гг
2)		Поход В.Д.Пояркова с якутскими служилыми и "охочими людьми" на Амур	2)	1596 г
3)		Заключение Брестской унии	3)	1653-1655 гг
4)		Соловецкое восстание	4)	1643-1646 гг

**Задание №55**

Установите соответствие между событиями и датами

Укажите соответствие для всех 4 вариантов ответа:

1)		подписание Андрусовского перемирия	1)	1648 г
2)		поражение польских войск от казаков Богдана Хмельницкого под Желтыми водами	2)	1653 г

3)		Переяславская рада	3)	1654 г
4)		Земский собор, постановивший принять Украину в подданство России	4)	1667 г

#### Задание №56

Установите соответствие между русскими первооткрывателями XVII века и датами их открытий:

Укажите соответствие для всех 4 вариантов ответа:

1)		П.Бекетов	1)	1696-1697 гг
2)		И.Москвитин	2)	1628-1632 гг
3)		В.Поярков	3)	1639-1640 гг
4)		В.Атласов	4)	1643-1646 гг

#### Задание №57

Установите соответствие между русскими первооткрывателями XVII века и датами их открытий:

Укажите соответствие для всех 4 вариантов ответа:

1)		Е.Хабаров	1)	1639-1640 гг
2)		С.Дежнев	2)	1649-1651 гг
3)		И.Стадухин	3)	1649-1653 гг
4)		И.Москвитин	4)	1648 г

#### Задание №58

Соотнесите имя русского первопроходца и его деятельность.

Укажите соответствие для всех 4 вариантов ответа:

1)		С.Дежнев	1)	Исследование Сибири. Основание городов Чита, Нерчинск, Якутск.
2)		И.Стадухин	2)	Исследование Северной и Восточной Сибири. Участие в открытии Колымы. Первым из европейцев прошел весь Берингов пролив.
3)		В.Атласов	3)	Первооткрыватель реки Колыма. Исследование Чукотского полуострова. Первым зашел на север Камчатки.
4)		П.Бекетов	4)	Исследование Камчатки. Сбор подробных сведений о климате, животном и растительном мире Камчатки.

#### Задание №59

Соотнесите имя русского первопроходца и его деятельность.

Укажите соответствие для всех 4 вариантов ответа:

1)		Е.Хабаров	1)	Первым из европейцев вышел к Охотскому морю. Открытие и
----	--	-----------	----	---

				исследование побережья Охотского моря на протяжении 1300 км, Удской губы, Сахалинского залива, Амурского лимана, устья Амура и острова Сахалин.
2)		И.Москвитин	2)	Исследование Сибири. Основание городов Чита, Нерчинск, Якутск.
3)		В.Поярков	3)	Совершил поход по Амуру от впадения в него реки Урки до самых низовий. В результате его экспедиции приамурское коренное население приняло русское подданство.
4)		П.Бекетов	4)	Исследование Сибири и Дальнего Востока. Открытие реки Зeya и Зейской равнины. Сбор ценных сведений о природе и населении Приамурья.

#### Задание №60

Выберите из списка ТРИ причины народных выступлений XVII века.

Выберите несколько из 6 вариантов ответа:

1)		повышение налогов
2)		созыв Земских соборов
3)		изгнание интервентов из России
4)		бюрократическая волокита в государственном аппарате
5)		взятки чиновников
6)		предоставление льгот городскому населению

#### Задание №61

Выберите из списка ТРИ причины народных выступлений XVII века.

Выберите несколько из 6 вариантов ответа:

1)		частые войны
2)		закрепощение крестьян
3)		предоставление льгот священнослужителям
4)		развитие торговли
5)		покровительство властей ремесленникам
6)		усиление налогового гнета

#### Задание №62

Посольский приказ отвечал за

Выберите из списка ТРИ верных суждения

Выберите несколько из 6 вариантов ответа:

1)		вопросы внешней политики
2)		дворцовое хозяйство и имущество царя

3)		сохранность драгоценностей и вещей царской семьи
4)		освобождение военнопленных за выкуп
5)		распределение дворян и бояр на царскую службу
6)		приём и отпуск иностранных посольств

#### Задание №63

Поместный приказ отвечал за

Выберите из списка ТРИ верных суждения.

Выберите несколько из 6 вариантов ответа:

1)		земельные пожалования дворянам и боярам
2)		многочисленные царские конюшни
3)		почтовую связь
4)		каменное строительство в городах
5)		сбор налогов с поместий и вотчин
6)		решал все споры о поместьях и вотчинах

#### Задание №64

Соборное уложение 1649 года впервые утвердило(л)

Выберите из списка ТРИ верных суждения

Выберите несколько из 6 вариантов ответа:

1)		полное право феодала на на землю и зависимых крестьян
2)		пятилетний срок розыска беглых крестьян
3)		право крестьян на переход от одного хозяина к другому в Юрьев день
4)		бессрочный розыск беглых крестьян
5)		равномерное распределение земли между крестьянами
6)		введение термина "государственное преступление"

#### Задание №65

Расположите события в хронологической последовательности

Укажите порядок следования всех 6 вариантов ответа:

1)		Принятие Соборного Уложения
2)		Избрание М.Романова на престол
3)		Деулинское перемирие
4)		Заключение Нерчинского договора с Китаем
5)		Восстание под предводительством С. Т.Разина
6)		Медный бунт

#### Задание №66

Расположите события в хронологической последовательности

Укажите порядок следования всех 6 вариантов ответа:

1)		Соляной бунт
2)		Заключение Столбовского мирного договора со Швецией
3)		Начало царствования Алексея Михайловича
4)		Подписание Андрусовского перемирия
5)		Чигиринские походы

6)	Городские восстания
----	---------------------

#### Задание №67

Расположите исторические события в хронологической последовательности

Укажите порядок следования всех 6 вариантов ответа:

1)	Восстание под предводительством С.Т.Разина
2)	Русско-шведская война
3)	Избрание М.Ф.Романова на престол
4)	Русско-турецкая война
5)	принятие Соборного Уложения
6)	Смоленская война

#### Задание №68

Расположите исторические события в хронологической последовательности

Укажите порядок следования всех 6 вариантов ответа:

1)	Начало царствование Алексея Михайловича
2)	Начало русско-польская война
3)	Поход Ерофея Хабарова на Амур
4)	Начало Смоленской войны
5)	Соляной бунт в Москве
6)	Деулинское перемирие с Речью Посполитой

#### Задание №69

Назовите имя и отчество российского монарха, в период правления которого к России был присоединён город, обозначенный на карте цифрой «1».

Ответ запишите со строчной буквы без пробела.



Запишите ответ:

1)

Ответ:

### Задание №70

Назовите имя и отчество российского монарха, царствовавшего в XVII в., в период правления которого мирными договорами была зафиксирована граница России, обозначенная в легенде карты цифрой «1».

Ответ запишите со строчной буквы без пробела.





Запишите ответ:

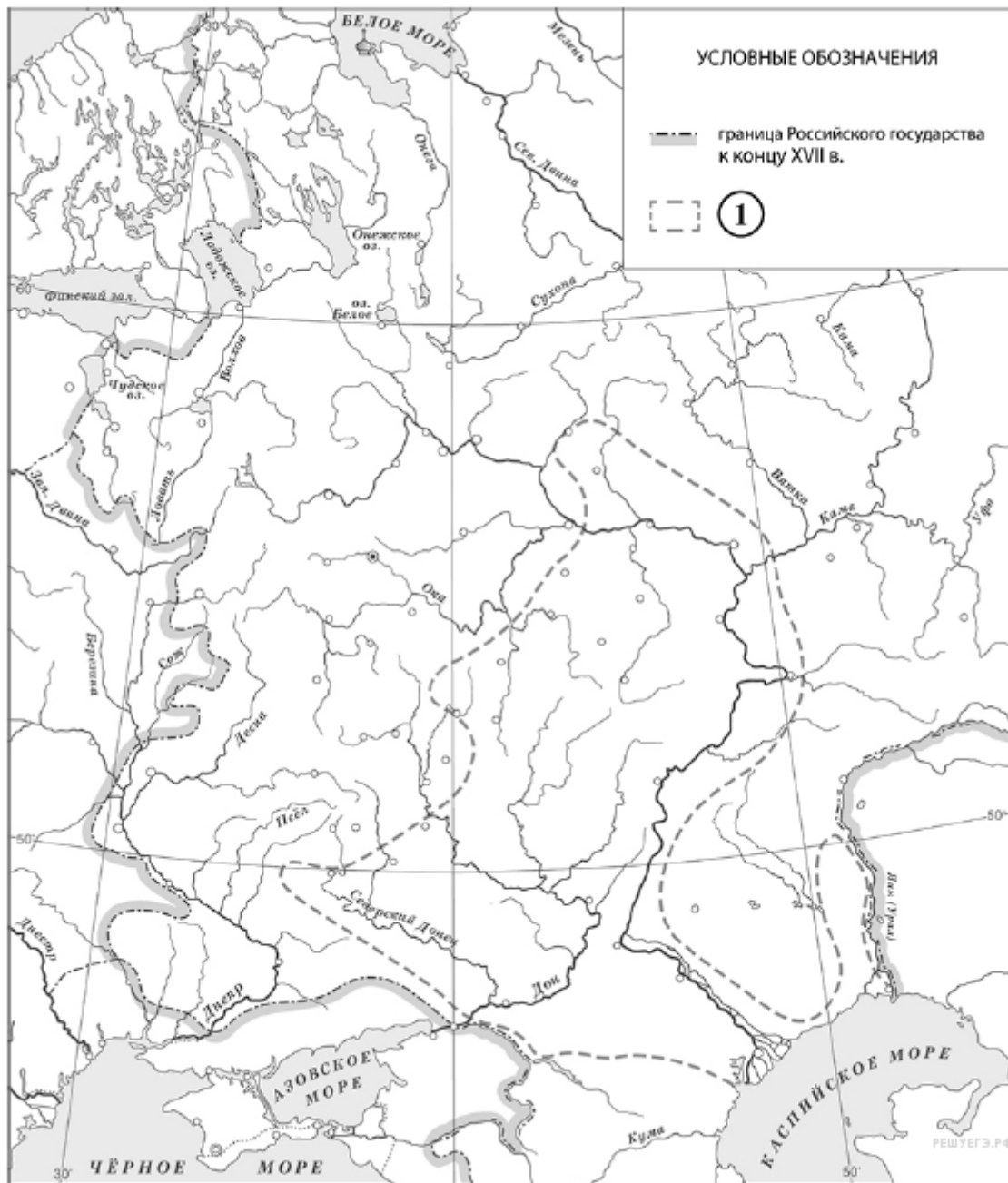
1)

Ответ:

### Задание №71

Назовите фамилию предводителя народного восстания, границы которого обозначены в легенде карты цифрой «1».

Ответ запишите со строчной буквы.



Запишите ответ:

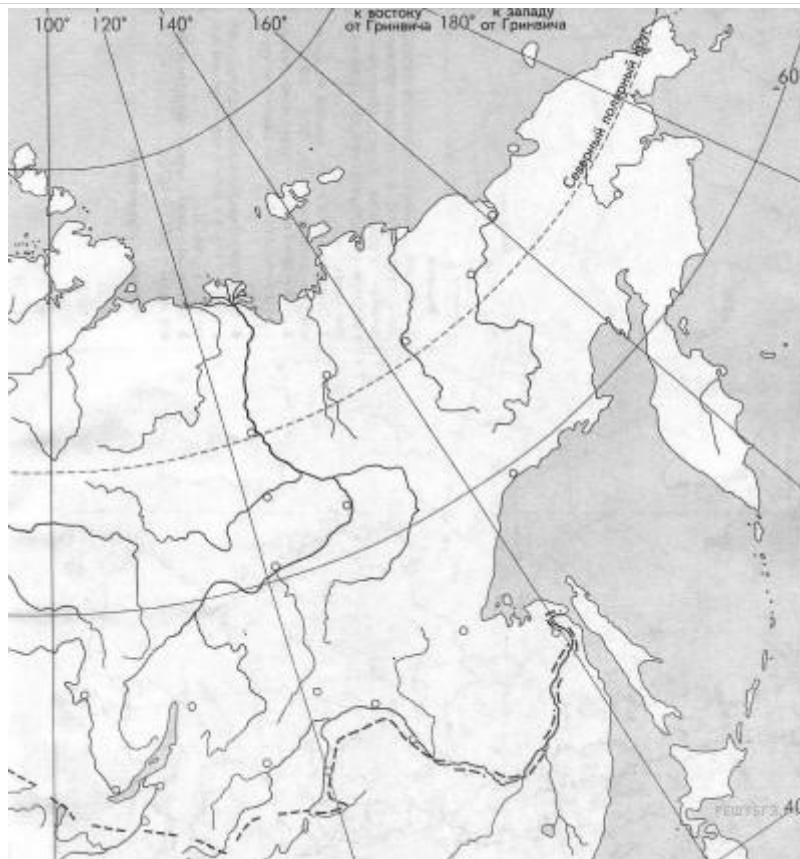
1)

Ответ:

### Задание №72

Назовите век, когда показанные на карте территории были включены в состав Русского царства.

Ответ запишите со строчной буквы.



Запишите ответ:

1)

Ответ:

### Задание №73

Рассмотрите схему и выполните задание.

Укажите век, когда была совершена первая русская экспедиция по маршруту, изображённому на схеме.

Ответ запишите цифрами, например 12



Запишите число:

1)

Ответ:

#### Задание №74

Рассмотрите схему и выполните задание

Укажите цифру, которой в схеме обозначена экспедиция под руководством Василия Пояркова в в легенде.



Запишите число:

1)

Ответ:

### Задание №75

Рассмотрите схему и выполните задание

Выберите три правильных утверждения из шести предложенных



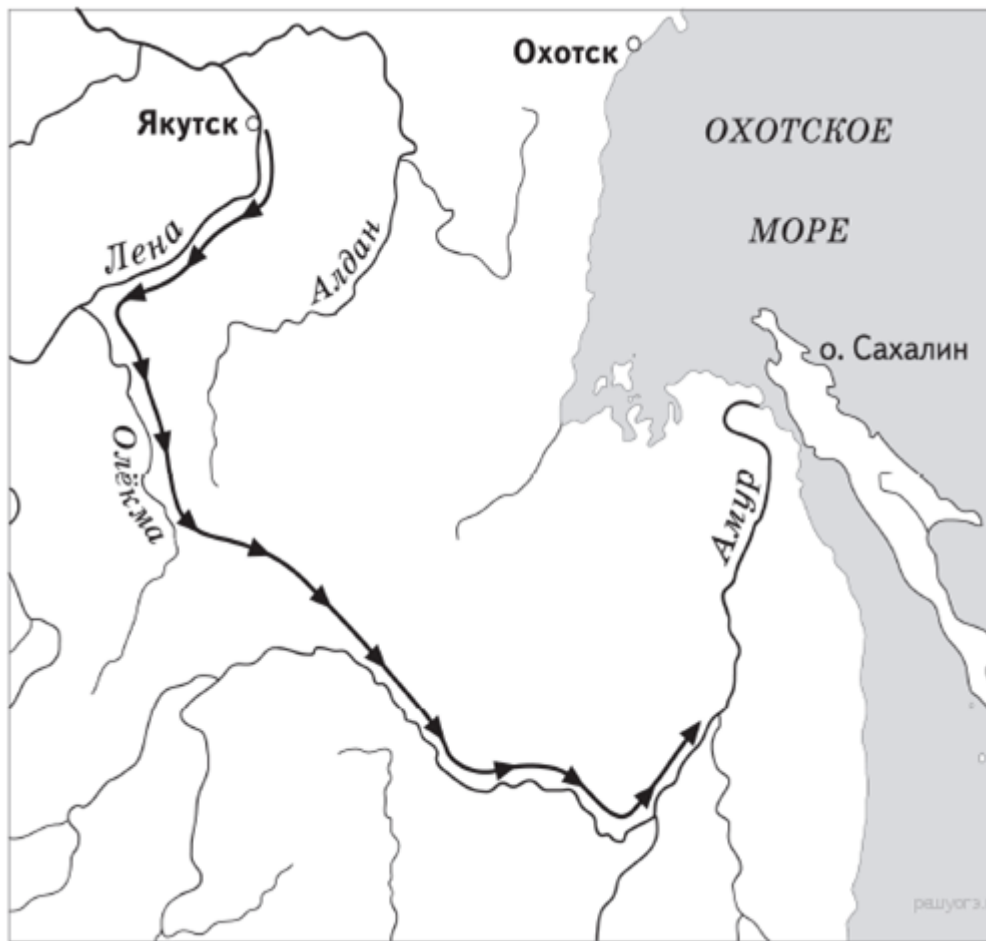
Выберите несколько из 6 вариантов ответа:

1)	Изображенная экспедиция была совершена в XV веке
2)	Руководителем этой экспедиции был С.И.Дежнев
3)	Это маршрут экспедиции В.И.Беринга
4)	Изображенная экспедиция была совершена в XVII веке
5)	В результате этой экспедиции был основан Магадан
6)	Благодаря этой экспедиции на карте появился Анадырский острог

#### Задание №76

Рассмотрите схему и выполните задание

Выберите три правильных утверждения из шести предложенных



Выберите несколько из 6 вариантов ответа:

1)	На карте обозначен маршрут экспедиции П.Бекетова
2)	Фамилией русского землепроходца, чей маршрут обозначен на карте, назван город в России
3)	Представленная экспедиция была совершена в XVII веке
4)	Землепроходец, возглавивший этот поход, раздобыл первые сведения о Японии
5)	На карте представлен маршрут похода Ермака Тимофеевича
6)	Землепроходец, чей маршрут обозначен на карте, участвовал в столкновении с маньчжурами

#### Задание №77

Рассмотрите изображение и выполните задание.  
 Назовите имя отчество царя, изображенного на иллюстрации.

Ответ запишите со строчной буквы без пробелов.



Запишите ответ:

1)

Ответ:

### Задание №78

Рассмотрите изображение и выполните задание.

Назовите фамилию человека, изображенного на иллюстрации.

Ответ запишите со строчной буквы.





Запишите ответ:

1)

Ответ:

#### Задание №79

Рассмотрите изображение и выполните задание

Напишите фамилию человека, которого вы видите на картинке

Ответ запишите со строчной буквы.



Запишите ответ:

1)

Ответ:

#### Задание №80

Рассмотрите изображение и выполните задание

Назовите имя человека, изображенного на картинке

Ответ запишите со строчной буквы.



Запишите ответ:

1)

Ответ:

### Задание №81

Рассмотрите изображение и выполните задание

Какие суждения о произведении русского искусства, изображённом на фотографии, являются верными? Выберите два суждения из пяти предложенных.



Выберите несколько из 5 вариантов ответа:

1)	на фотографии изображен портрет (парсуна) царя Алексея Михайловича
2)	портрет хранится в Золотых кладовых Эрмитажа
3)	парсуна создана в XVII
4)	данная форма живописи получила активное развитие в России XVIII в.
5)	в руках царя, изображённого на портрете, скипетр, на его голове — держава.

#### Задание №82

Рассмотрите изображение и выполните задание

Какие суждения о данном изображении являются верными? Выберите два суждения из пяти предложенных.



Выберите несколько из 5 вариантов ответа:

1)	На картине изображен И.И. Болотников
2)	Этот человек возглавил самое крупное народное выступление в XVII веке
3)	Изображенным человеком является С.Т. Разин
4)	Это изображение посвящено русско-турецкой войне 1676-1681 годов
5)	Главной причиной народного выступления, руководитель которого изображен на картине, была церковная реформа патриарха Никона.

#### Задание №83

Рассмотрите изображение и выполните задание.

Отметьте три утверждения, относящиеся к этой картинке



Выберите несколько из 6 вариантов ответа:

1)	Это изображение памятника В.Д.Пояркову
2)	Он разгромил тысячный отряд, напавших на него маньчжур
3)	Этот первопроходец собрал первые сведения о Японии
4)	Он положил начало заселению русскими людьми территории по реке Амур
5)	Этот человек возглавил поход, благодаря которому впервые русские вышли к побережью Тихого океана
6)	Это изображение памятника Е.П.Хабарову

#### Задание №84

Рассмотрите картину и выберите три утверждения, относящиеся к ней.



Выберите несколько из 6 вариантов ответа:

1)	Автором этой картины является В.И.Суриков
2)	Здесь представлены события Смутного времени
3)	Эта картина имеет название " Боярыня Морозова"
4)	Итогом события, изображенного на картине, стала русско- польская война 1654-1667 годов

5)		Это событие относится к церковному расколу середины XVII века
6)		Женщина, изображенная на картине, готовилась к покушению на царя

#### Задание №85

Письменное задание №1, проверяется и оценивается учителем в 3 балла.

Для продолжения тестирования наберите 1.

Запишите число:

1)	Ответ:	
----	--------	--

Примерные задания для формирования функциональной грамотности:

*Прочтите отрывок из исторического источника и выполните задание.*

«К важнейшим в законодательном акте относятся главы, определяющие сословную структуру общества. Глава XI «Суд о крестьянах» удовлетворила требование дворян о праве на бессрочный сыск беглых. Тем самым отменялись урочные лета, и крестьяне с их потомством становились навечно собственностью помещиков, дворцового ведомства и духовных владельцев»

1. *Укажите название данного исторического источника.*
2. *Укажите год, когда он был издан.*
3. *Укажите при каком правителе он был создан.*