

## Характеристика итоговой работы

### МОДУЛЬ 4

«Природные зоны мира. Африка: история исследования материка, природные зоны, население.»

7 класс

(базовый уровень)

- 1. Назначение работы:** проверка достижения учащимися 7 класса уровня подготовки в ходе базового изучения предмета.
- 2. Основное содержание проверки:** ориентировано на содержание ФГОС.
- 3. Характеристика работы:** в работе 19 заданий, которые расположены по нарастанию трудности в теме (максимальный балл -26)

Задания выполняются на основе карт атласа, диаграмм, таблиц, графиков.

На задания 14,15, 19 ответы записываются на отдельном листе или бланке.

Прочитайте внимательно задание, а затем выполните его.

**4. Характеристика заданий:** 1) задания, требующие записать ответ в виде числа; 2) задания, требующие записать ответ в виде слова; 3) задания, требующие записать ответ в виде последовательности цифр, в том числе на установление соответствия географических объектов и их характеристик, с выбором нескольких правильных ответов из предложенного списка, на установление правильной последовательности элементов, а также задания, требующие вписать в текст на месте пропусков ответы из предложенного списка, характеристика территории по плану.

**Включенные в работу задания** проверяются знания географических явлений и процессов и умение анализировать географическую информацию, представленную в различных формах, умение анализировать географическую информацию, представленную в различных формах, способность применять полученные в школе географические знания для объяснения различных событий и явлений в повседневной жизни.

**ВНИМАНИЕ!** Банк заданий отсутствует. В таблице приведены примеры вопросов. В конце таблицы есть ответы на примерные вопросы для самопроверки. Дан перечень географической номенклатуры.

**РЕКОМЕНДАЦИЯ.** Прорешайте примерные вопросы и сопоставьте с ответами в конце таблицы. Если Вы допустили ошибки, то повторите темы.

## ГЕОГРАФИЧЕСКАЯ НОМЕНКЛАТУРА по Южным материкам (Африка)

(географическая номенклатура – это список необходимых для изучения географических объектов: запоминание названия [правильное произношение и написание], местоположения и взаимного расположения этих объектов, умение объяснить где находится объект)

### Материки

#### **Тема” Африка”**

океаны: Атлантический и Индийский.

моря: Средиземное и Красное.

заливы: Гвинейский и Аденский.

проливы: Гибралтарский, Баб-эль-Мандебский и Мозамбикский.

тёплые течения: Гвинейское, Мозамбикское.

холодные течения: Канарское, Бенгельское, Сомалийское.

острова: Канарские, Коморские, Мадагаскар и Занзибар.

полуостров: Сомали.

крайние точки: мыс Бен-Секка (Рас-Энгела, Эль-Абъяд), мыс Игольный, мыс Альмади, мыс Рас-Хафун.

канал: Суэцкий.

равнины: Восточно-Африканское плоскогорье.

горы: Атлас, Драконовы, Эфиопское нагорье.

вулкан: Килиманджаро.

реки: Нил, Белый Нил, Голубой Нил, Конго, Нигер, Сенегал, Замбези, Лимпопо, Оранжевая.

озёра: Виктория, Чад, Танганьика, Ньяса.

водопады: Виктория, Ливингстона, Стэнли.

пустыни: Сахара, Ливийская, Намиб, Калахари.

страны: Алжир, Ангола, Египет, Демократическая Республика Конго, Замбия, Мадагаскар, Марокко, Намибия, Нигерия, Сенегал, Судан, Танзания, Чад, Эфиопия, ЮАР.

города: Абуджа, Аддис-Абеба, Алжир, Антананариву, Виндхук, Дакар, Додома, Каир, Киншаса, Луанда, Лусака, Нджамена, Претория, Рабат, Хартум.

## ОБОБЩЕННЫЙ ПЛАН РАБОТЫ

по предмету ГЕОГРАФИЯ

### МОДУЛЬ 4



«Природные зоны мира. Африка: история исследования материка, природные зоны, население.»

7 класс (базовый уровень)

№ задания	Блок содержания	Проверяемые элементы содержания и виды деятельности	Типы заданий 1	Уровень сложности 2	<b><u>ВНИМАНИЕ!</u> Это не банк заданий.</b>  <b><u>Пример</u> вопроса в итоговой работе</b>	Балл						
1	Природные зоны	Знание характеристик природных зон	ВО	Б	<p>Для какой природной зоны характерно самое большое скопление травоядных животных и хищников? В данной природной зоне смена времени года представлена только чередованием сухого и влажного сезона:</p> <ol style="list-style-type: none"> <li>1. Саванна</li> <li>2. Влажные экваториальные леса</li> <li>3. Лесостепи и степи</li> <li>4. Жестколистные и вечнозеленые леса и кустарник</li> </ol>	1						
2	Природные зоны	Знание характеристик природных зон	ВО, СО	Б	<p>Установите соответствие между названиями природных зон и географическими особенностями, которые характерны для каждой из них. Для этого к каждой позиции первого столбца подберите соответствующую позицию из второго столбца. Запишите цифры по порядку соответствующие каждой букве без пробелов, например, 112221</p> <table border="1" style="width: 100%; border-collapse: collapse;"> <thead> <tr> <th style="width: 50%;">ГЕОГРАФИЧЕСКИЕ ОСОБЕННОСТИ</th> <th style="width: 50%;">ПРИРОДНЫЕ ЗОНЫ</th> </tr> </thead> <tbody> <tr> <td>А) расположена в умеренном климатическом поясе;</td> <td>1) пустыня</td> </tr> <tr> <td>Б) преобладают грызуны и травянистая растительность;</td> <td>2) степь</td> </tr> </tbody> </table>	ГЕОГРАФИЧЕСКИЕ ОСОБЕННОСТИ	ПРИРОДНЫЕ ЗОНЫ	А) расположена в умеренном климатическом поясе;	1) пустыня	Б) преобладают грызуны и травянистая растительность;	2) степь	2
ГЕОГРАФИЧЕСКИЕ ОСОБЕННОСТИ	ПРИРОДНЫЕ ЗОНЫ											
А) расположена в умеренном климатическом поясе;	1) пустыня											
Б) преобладают грызуны и травянистая растительность;	2) степь											

					<p>В) находится в жарком тропическом климате;</p> <p>Г) много змей, черепах, пауков и почти нет растений;</p> <p>Д) круглый год один и тот же сезон года;</p> <p>Е) почвы этой природной зоны самые плодородные.</p>	
3	Африка. Географическое положение	Умение пользоваться картами, знание характеристик материка	ВО	Б	<p>Африка — единственный материк, который почти посередине пересекает:</p> <p>1) меридиан                      3) Северный тропик</p> <p>2) экватор                      4) Южный тропик</p>	1
4	Африка. Рельеф материка.	Умение пользоваться картами, знание характеристик материка	ВО	Б	<p>Где в Африке находится самый крупный разлом на суше?</p> <p>1) в Восточной Африке                      3) в Южной Африке</p> <p>2) в Западной Африке                      4) в Северной Африке</p>	1
5	Природные зоны	Знание характеристик природных зон	ВО	Б	<p>Крупный природный комплекс, обладающий общностью температурных условий и увлажнения, почв, растительного и животного мира?</p> <p>1. Географическая зональность</p> <p>2. Природная зона</p> <p>3. Широтная зональность</p>	1
6	Природные зоны	Знание характеристик природных зон	ВО	Б	<p>Это живой организм, входящий в состав растительного и животного мира данного региона как пережиток флоры и фауны прошлых геологических эпох и находящихся в некотором несоответствии с современными условиями существования</p> <p>1. Реликт</p> <p>2. Эндемик</p> <p>3. Эпифит</p>	1

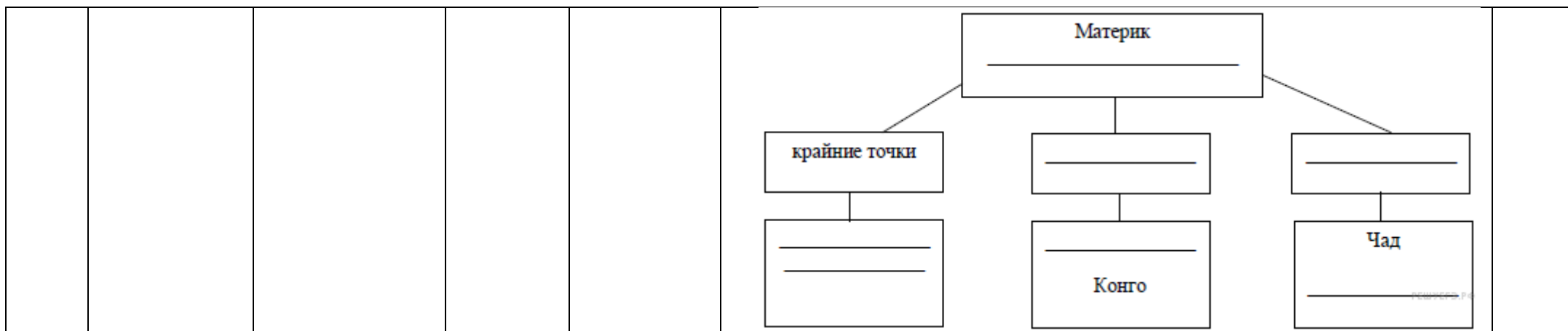
7	Африка. Климат	Знание типов климата	ВО	Б	Это сухой климат с высокими температурами воздуха, испытывающие большие суточные колебания, и малым количеством осадков, около 100-200 мм\год или полным их отсутствием 1. Аридный климат 2. Тропический климат Арктический климат	1
8	Африка. Климат	Знание типов климата	ВО	Б	В данный климатический пояс входят следующие природные зоны: тайга, смешанные и широколиственные леса, степи и лесостепи, пустыни и полупустыни? 1. Субполярный пояс 2. Умеренный пояс Экваториальный пояс	1
9	Африка. Рельеф	Умение пользоваться картами, знание характеристик материка	ВО	Б	Драконовы горы находятся на ..... Африки 1. юго-востоке 2. юго-западе	1
10	Африка. Климат	Умение пользоваться картами, знание характеристик материка	ВО	Б	Какие воздушные массы не свойственны Африке? 1) экваториальные 3) субэкваториальные 2) тропические 4) умеренные	1
11	Африка. Климат	Умение пользоваться картами, знание характеристик материка	ВО	Б	Какая характеристика климата Африки верна? 1) сухой материк 3) жаркий материк 2) влажный материк 4) холодный материк	1
12	Африка. Внутренние воды	Умение пользоваться картами, знание	ВО	Б	Какое озеро глубже 1. Виктория 2. Чад 3. Танганьика	1

		характеристик материка				
13	Африка. Природные зоны	Умение пользоваться картами, знание характеристик материка	ВО	Б	Какая природная зона занимает в Африке наибольшую площадь? 1) гилея                                 3) пустыня 2) саванна                                 4) полупустыня	1
14, 15	Африка. Население. Политическая карта.	Умение пользоваться картами, знание характеристик материка	ВО, СО, РО	Б	<p>Представьте, что Вам было поручено взять интервью у зарубежного сверстника, чтобы он познакомил Вас со своей страной. Для иллюстрации этого интервью Вы попросили его прислать несколько фотографий, сделанных стране, в которой он живёт. Рассмотрите фотографии и ответьте на вопросы.</p>  <p>В какой стране живёт Ваш сверстник? Рассмотрите представленные ниже рисунки. Выберите рисунок с контуром страны, в которой живёт Ваш сверстник. Запишите в ответе букву, которой обозначен этот рисунок.</p>  <p>15. Предположите, какие ответы на вопросы о своей стране даст Ваш сверстник в ходе интервью. Запишите их в таблицу.</p>	6

					<p style="text-align: center;">Вопрос</p> <p style="text-align: right;">Ответ</p>	
16	Природные зоны мира	Знание характеристик природных зон		Б	<p>1. В какой части света находится твоя страна?</p> <p>2. Как называется столица этой страны?</p> <p>3. Какие моря омывают берега твоей страны?</p> <p>4. Какая река протекает в твоей стране?</p> <p>5. Какие крупные города, кроме столицы, есть в твоей стране?</p> <p>6. В какой сфере хозяйства занято большинство жителей твоей страны?</p> <p>7. Какие сельскохозяйственные культуры выращивают в твоей стране?</p> <p>8. Какие достопримечательности можно посмотреть в твоей стране?</p> <p>Определите, в какой природной зоне могли быть сделаны фотографии. Запишите названия природных зон по порядку через запятую и пробелы. <u>Например, тайга, саванны и редколесья.</u></p> <div style="display: flex; justify-content: space-around;">   </div>	1
17	Климат.	Знание и понимание характеристик климатических поясов	ВО	Б	<p>Определите тип климата по описанию: западные ветры круглый год приносят влажный воздух. Количество выпадающих осадков уменьшается к юго-востоку. Зима не очень холодная: от <math>-5^{\circ}\text{C}</math> на западе до <math>+10^{\circ}\text{C}</math> на юго-востоке. Лето умеренно тёплое: от <math>+10^{\circ}\text{C}</math> на севере до <math>+20^{\circ}\text{C}</math> на юге.</p> <ol style="list-style-type: none"> <li>1. экваториальный</li> <li>2. умеренно континентальный</li> </ol>	1

					3. тропический влажный 4. субтропический муссонный	
18	Природные зоны мира	Знание характеристик природных зон	ВО, СО, КО	Б	<p>Какой природной зоне мира соответствуют приведённые ниже характеристики? Укажите в ответе название этой природной зоны словом (словосочетанием через пробел)</p> <p>1) Занимает небольшие территории в Африке, Юго-Восточной Азии и Южной Америке.</p> <p>2) На протяжении всего года погода одинаковая (сезоны года не выражены).</p> <p>3) В растительном покрове преобладают многоярусные лиственные породы.</p> <p>4) Формируются неплодородные красно-желтые ферралитные почвы.</p> <p>5) Типичные представители животного мира: приматы, птицы, тукан, ягуар, ленивец.</p> <p>Зона _____</p>	2
19	Африка	Умение пользоваться картами.	ВО, СО, РО	Б	<p>В приведённом ниже списке перечислены крупные географические объекты. Выберите из представленного ниже списка названия географических объектов, расположенных на территории одного из этих материков, и заполните схему. Впишите в схему название материка, типы и названия выбранных Вами географических объектов.</p> <p><i>Байкал, Эри, Виктория, Волга, Лимпопо, Амазонка, Аппалачи, Алтай, Игольный, Альмади, Рока, Байрон.</i></p>	2





ОБЩЕЕ КОЛИЧЕСТВО БАЛЛОВ: 26

Блок содержания1 – прописывается тема, входящая в итоговую работу, тема может повторяться в нескольких номерах заданий

Проверяемые элементы содержания2 – описываются проверяемые знания и умения по каждому блоку содержания

Типы заданий3 – **ВО** – задания с выбором ответа (одиночный выбор, множественный выбор, точка на изображении); **КО** – задания с кратким ответом (ручной ввод числа, ручной ввод текста, перестановка букв, заполнение пропусков); **СО** – задания на соотнесение (сопоставление, указание порядка, истина/ложь); **РО** – задания с развернутым ответом (для итоговой работы по профильному предмету во второй части)

Уровень сложности задания4 – **Б** – базовый уровень; **П** – повышенный уровень

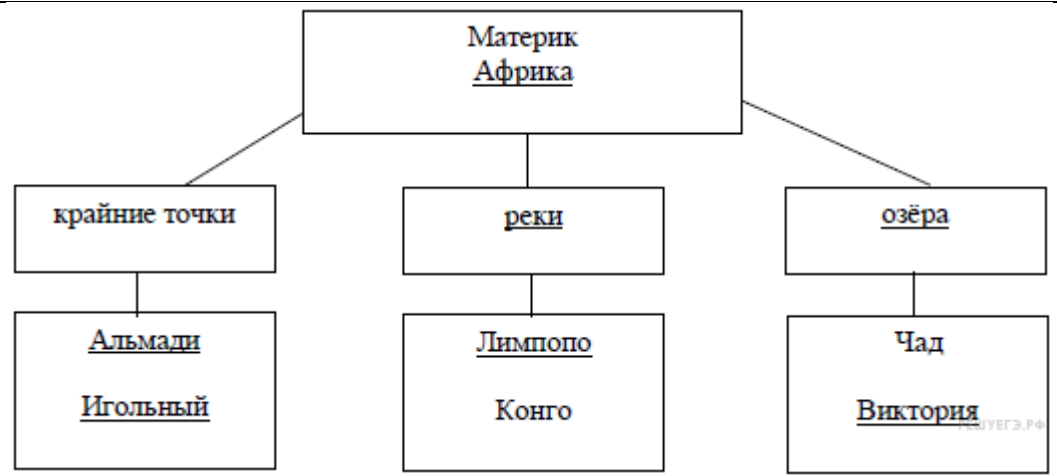
### ОТВЕТЫ НА ПРИМЕРНЫЕ ВОПРОСЫ (САМОПРОВЕРКА)

№\№ вопроса	ОТВЕТ	Балл
1.	1	1
2.	221112	1
3.	2	1
4.	1	1
5.	2	1
6.	1	1
7.	1	1

8.	2	1																
9	1	1																
10	4	1																
11	3	1																
12	3	1																
13	2	1																
14,15	<p>Для выполнения данного задания необходимо рассмотреть фото и иллюстрации, связанные с этой страной. На рисунках знаменитые пирамиды в Гизе, Большой Сфинкс, верблюд в пустыне, кораллы (Красного моря). Все это указывает на Египет. Столица Египта — Каир.</p> <p><b>В</b></p> <table border="0"> <thead> <tr> <th style="text-align: center;"><b>Вопрос</b></th> <th style="text-align: center;"><b>Ответ</b></th> </tr> </thead> <tbody> <tr> <td>1. В какой части света находится твоя страна?</td> <td>В Африке</td> </tr> <tr> <td>2. Какие моря омывают берега твоей страны?</td> <td>Средиземное и Красное моря</td> </tr> <tr> <td>3. Какая река протекает в твоей стране?</td> <td>Нил</td> </tr> <tr> <td>4. Какие крупные города, кроме столицы, есть в твоей стране?</td> <td>Александрия, Гиза, Суэц</td> </tr> <tr> <td>5. В какой сфере хозяйства занято большинство жителей твоей страны?</td> <td>В сельском хозяйстве</td> </tr> <tr> <td>6. Какие сельскохозяйственные культуры выращивают в твоей стране?</td> <td>Пшеница, хлопчатник, овощи, цитрусовые, финиковая пальма</td> </tr> <tr> <td>7. Какие достопримечательности можно посмотреть в твоей стране?</td> <td>Египетские пирамиды, Луксорский храм, храмы в Абу-Симбеле, Суэцкий канал, Большой Сфинкс</td> </tr> </tbody> </table> <p><i>Ответы на вопросы могут быть даны в иных, близких по смыслу формулировках. В ответах, предполагающих указание нескольких объектов, при оценивании может быть засчитано указание одного объекта</i></p>	<b>Вопрос</b>	<b>Ответ</b>	1. В какой части света находится твоя страна?	В Африке	2. Какие моря омывают берега твоей страны?	Средиземное и Красное моря	3. Какая река протекает в твоей стране?	Нил	4. Какие крупные города, кроме столицы, есть в твоей стране?	Александрия, Гиза, Суэц	5. В какой сфере хозяйства занято большинство жителей твоей страны?	В сельском хозяйстве	6. Какие сельскохозяйственные культуры выращивают в твоей стране?	Пшеница, хлопчатник, овощи, цитрусовые, финиковая пальма	7. Какие достопримечательности можно посмотреть в твоей стране?	Египетские пирамиды, Луксорский храм, храмы в Абу-Симбеле, Суэцкий канал, Большой Сфинкс	6
<b>Вопрос</b>	<b>Ответ</b>																	
1. В какой части света находится твоя страна?	В Африке																	
2. Какие моря омывают берега твоей страны?	Средиземное и Красное моря																	
3. Какая река протекает в твоей стране?	Нил																	
4. Какие крупные города, кроме столицы, есть в твоей стране?	Александрия, Гиза, Суэц																	
5. В какой сфере хозяйства занято большинство жителей твоей страны?	В сельском хозяйстве																	
6. Какие сельскохозяйственные культуры выращивают в твоей стране?	Пшеница, хлопчатник, овощи, цитрусовые, финиковая пальма																	
7. Какие достопримечательности можно посмотреть в твоей стране?	Египетские пирамиды, Луксорский храм, храмы в Абу-Симбеле, Суэцкий канал, Большой Сфинкс																	
16	Тундра, тайга	1																
17	2	1																
18	Влажных экваториальных лесов	2																

19.

2



**ОБЩЕЕ КОЛИЧЕСТВО БАЛЛОВ: 26**