

Материалы
для подготовки к тесту по истории 7 класс М-3 (базовый уровень)
по теме «Россия и Европа в начале XVII в».

Тема	Содержание
Внешнеполитические связи России с Европой и Азией в кон. XVI- нач. XVII в.в.	Европа и Россия накануне Тридцатилетней войны, Россия и Речь Посполитая, взаимоотношения России, взаимоотношения России с Османской империей, Персией.
Смута в Российском государстве.	Причины Смутного времени в России, Лжедмитрий I, боярский заговор, правление Василия Шуйского, восстание под предводительством И.И.Болотникова, Лжедмитрий II, польско-шведская интервенция, распад Тушинского правительства, Семибоярщина, первое ополчение, второе ополчение, освобождение Москвы от польских интервентов, воцарение династии Романовых.
Экономическое развитие России в 1 пол. XVII в.	Последствия Смуты, развитие сельского хозяйства, промышленности в XVII века, торговля, проведение денежной реформы в России, торговые взаимоотношения России с Европой.
Переломный момент российской истории	Гибель царевича Дмитрия (версии случившегося), пресечение династии Рюриковичей, альтернативы развития России в начале XVII века.

Понятия:

Шляхта, смута, самозванство, гетман, семибоярщина, специализация, мануфактура, всероссийский рынок, плантация.

Персоналии:

Б. Годунов, Хлопко Косолап, Лжедмитрий I, Лжедмитрий II, В. Шуйский, И. Болотников, П. Ляпунов, К.Минин, Д. Пожарский, И. Сусанин, Филарет, М. Романов.

Даты: 1591г, 1598 г, 1598-1605 гг, 1603 г, 1605-1606 гг, 1606-1607 гг, 1606-1610 гг, 1611 г, 1611-1612 гг, 26 октября 1612 г, 1613 г.

Для того, чтобы получить допуск к тесту учащийся должен выполнить следующие виды работ:

- оформить лекционную тетрадь;
- работа с документом;
- картографический практикум (контурная карта);
- исторический диктант;

Материал для подготовки:

Семинар «Личности эпохи Смуты».

1. «Богоизбранный царь» Борис Годунов.
2. Самозванство: Лжедмитрий I и Лжедмитрий II.
3. Царствование «боярского царя» Василия Шуйского.
4. К.Минин и Д.Пожарский- освободители земли Русской.

Цель: охарактеризовать роль личности в истории на примере исторических деятелей периода Смуты.

Семинарское занятие предполагает устное обсуждение заявленных вопросов на основе конспекта, который ученик составляет самостоятельно на основе изучения дополнительной литературы.

При подготовке к **1 вопросу** необходимо отметить обстоятельства, которые помогли прийти к власти Борису Годунову. Охарактеризовать его внутреннюю и внешнюю политику, отразить влияние политики причины Смутного времени, коснуться черт его характера. При подготовке к **2 вопросу** необходимо написать о способах, с помощью которых самозванцы пытались прийти к власти. Осветить внутреннюю политику Лжедмитрия I, период двоевластия, который сложился во время правления Василия Шуйского в Москве и Богдана Шкловского в Тушино.

При подготовке к **3 вопросу** стоит составить исторический портрет Василия Шуйского. Написать о мерах, проводимых этим царем во внутренней политике России. Обязательно упомянуть о категориях населения России, которые поддерживали его. Понять, почему он был низложен с престола.

При подготовке к **4 вопросу** необходимо кратко коснуться биографии каждого. Затем последовательно охарактеризовать их шаги, способствующие освобождению нашего государства от польских интервентов.

Материал для подготовки:

История России 7 класс под редакцией А.В.Торкунова Москва «Просвещение», 2017 г. Часть 2.

Дополнительные источники:

<http://ru.wikipedia.org/wiki/Портал:История>.

Банк заданий

Задание №1		
Отметьте даты правления Бориса Годунова		
Выберите один из 4 вариантов ответа:		
1)	<input type="checkbox"/>	1582-1585 гг
2)	<input type="checkbox"/>	1586-1600 гг
3)	<input type="checkbox"/>	1601-1606 гг
4)	<input type="checkbox"/>	1598-1606 гг

Задание №2		
Укажите даты правления Василия Шуйского		
Выберите один из 4 вариантов ответа:		
1)	<input type="checkbox"/>	1598-1605 гг
2)	<input type="checkbox"/>	1605-1606 гг
3)	<input type="checkbox"/>	1606-1610 гг
4)	<input type="checkbox"/>	1610-1624 гг

Задание №3

Первое ополчение для изгнания польских интервентов было организовано

Выберите один из 4 вариантов ответа:

1)	в 1611 году
2)	в 1612 году
3)	в 1615 году
4)	в 1616 году

Задание №4

Второе ополчение под руководством К.Минина и Д.Пожарского действовало с

Выберите один из 4 вариантов ответа:

1)	1609- 1610 год
2)	1611- 1612 год
3)	1612- 1613 год
4)	1616- 1618 год

Задание №5

Михаил Романов был избран на русский престол в

Выберите один из 4 вариантов ответа:

1)	1612 году
2)	1613 году
3)	1614 году
4)	1618 году

Задание №6

Смутным временем в России называют :

Выберите один из 4 вариантов ответа:

1)	конец XVI века
2)	конец XVI — начало XVII века
3)	начало XVII века
4)	первую половину XVII века

Задание №7

К кому относятся слова историка В.О. Ключевского?

На престоле московских государей он был небывалым явлением..... Он совершенно изменил чопорный порядок жизни старых московских государей и их тяжелое, угнетательное отношение к людям..... со всеми обращался просто, обходительно, не по- царски.....

Выберите один из 4 вариантов ответа:

1)		к Борису Годунову
2)		к Василию Шуйском
3)		к Лжедмитрию I
4)		к Федору Ивановичу

Задание №8

Прозвище " тушинский вор" было дано

Выберите один из 4 вариантов ответа:

1)		Борису Годунову
2)		Василию Шуйскому
3)		Лжедмитрию I
4)		Лжедмитрию II

Задание №9

Участником первого ополчения был

Выберите один из 4 вариантов ответа:

1)		К.Минин
2)		П.Ляпунов
3)		М.Скопин-Шуйский
4)		И.Сусанин

Задание №10

Участником второго ополчения был

Выберите один из 4 вариантов ответа:

1)		П.Ляпунов
2)		К.Минин
3)		М.Скопин-Шуйский
4)		И.Сусанин

Задание №11

Назовите русского правителя рубежа XVI-XVII веков, при котором заметно усилилась дипломатическая активность государства

Выберите один из 4 вариантов ответа:

1)		Василий Шуйский
----	--	-----------------

2)		Борис Годунов
3)		Василий III
4)		Федор Иоаннович

Задание №12

Самозванец Григорий Отрепьев выдавал себя за

Выберите один из 4 вариантов ответа:

1)		царевича Дмитрия
2)		Ивана IV
3)		польского королевича Владислава
4)		Бориса Годунова

Задание №13

Настоящее имя самозванца Лжедмитрия I

Выберите один из 4 вариантов ответа:

1)		Федор Годунов
2)		Иван Федоров
3)		Петр Мстиславец
4)		Григорий Отрепьев

Задание №14

Народный герой, который завел поляков в непроходимые болота, сам погиб, но и истребил отряд врагов

Выберите один из 4 вариантов ответа:

1)		Андрей Курбский
2)		Иван Сусанин
3)		Иван Болотников
4)		Денис Давыдов

Задание №15

Второе ополчение, возникшее в Нижнем Новгороде возглавил

Выберите один из 4 вариантов ответа:

1)		В.И.Шуйский
2)		Д.М.Пожарский
3)		А.В.Черкасский
4)		М.И.Романов

Задание №16

Правительство, которое вошло в историю под названием Семибоярщина

ВОЗГЛАВИЛ

Выберите один из 4 вариантов ответа:

1)	Ф.И.Мстиславский
2)	Н.И.Оболенский
3)	Д.И.Давыдов
4)	В.И.Шуйский

Задание №17

Ради заключения союза с этой страной Борис Годунов хотел породниться с представителями династии

Выберите один из 4 вариантов ответа:

1)	Дании
2)	Англии
3)	Швеции
4)	Испании

Задание №18

Назовите служилое сословие, защищавшее южные рубежи Русского государства

Выберите один из 4 вариантов ответа:

1)	крестьяне
2)	холопы
3)	казаки
4)	шляхтичи

Задание №19

Торговые пути, связывающие Россию с Персией проходили через

Выберите один из 4 вариантов ответа:

1)	Белое море
2)	реку Неву
3)	реку Одер
4)	Каспийское море

Задание №20

Казачество, охранявшее южные русские земли собиралось в районе реки

Выберите один из 4 вариантов ответа:

1)	Нева
2)	Волга
3)	Дон
4)	Эльба

Задание №21

Правитель Персии подарил Борису Годунову

Выберите один из 4 вариантов ответа:

1)	шапку Владимира Мономаха
2)	свитки из библиотеки Александра Македонского
3)	золотой трон
4)	четки

Задание №22

Назовите города, которые были центром восстания Ивана Болотникова

Выберите один из 4 вариантов ответа:

1)	Казань, Астрахань
2)	Тула, Калуга
3)	Владивосток, Ялта
4)	Рязань, Нижний Новгород

Задание №23

Борис Годунов стал царем, потому что

Выберите один из 4 вариантов ответа:

1)	получил престол по наследству
2)	получил ярлык в Золотой Орде
3)	был избран на Земском соборе
4)	был назван в завещании Ивана IV как наследник престола

Задание №24

Иван Болотников, возглавивший восстание в 1606-1607 годах по социальному положению был

Выберите один из 4 вариантов ответа:

1)	дворянином
2)	военным холопом
3)	ремесленником
4)	монахом

Задание №25

Городом, который в течении 20 месяцев оборонялся от польских войск в 1609-1610 годах был

Выберите один из 4 вариантов ответа:

1)	Псков
2)	Новгород

3)		Смоленск
4)		Рига

Задание №26

Последним правителем из династии Рюриковичей был

Выберите один из 4 вариантов ответа:

1)		Иван Грозный
2)		царевич Дмитрий
3)		Федор Иоаннович
4)		Борис Годунов

Задание №27

Василий Шуйский в 1607 году, чтобы угодить высшим слоям российского общества, увеличил срок сыска беглых крестьян:

Выберите один из 4 вариантов ответа:

1)		до 12 месяцев
2)		до 5 лет
3)		до 10 лет
4)		до 15 лет

Задание №28

Кузьма Минин обратился к нижегородцам с призывом

Выберите один из 4 вариантов ответа:

1)		Признать польского королевича Владислава
2)		Восстановить на престоле Василия Шуйского
3)		Объявить царем Дмитрия Пожарского
4)		Начать сбор средств создания ополчения для обороны Москвы

Задание №29

Важнейшие хозяйственные районы по производству льна- это

Выберите один из 4 вариантов ответа:

1)		Псковские и Смоленские земли
2)		Прикаспийский район
3)		северные земли, район Архангельска
4)		Запорожская Сечь

Задание №30

Городом, через который в XVII веке велась торговля с другими странами, был город-порт

Выберите один из 4 вариантов ответа:		
1)		Санкт-Петербург
2)		Москва
3)		Архангельск
4)		Новгород

Задание №31		
Со странами Востока Россия вела торговлю через город		
Выберите один из 4 вариантов ответа:		
1)		Новгород
2)		Архангельск
3)		Астрахань
4)		Псков

Задание №32		
К районам пушного промысла относились		
Выберите один из 4 вариантов ответа:		
1)		северные районы страны
2)		земли Южного Поволжья
3)		Псковские и Смоленские земли
4)		территории вблизи побережья Азовского моря

Задание №33		
<p>Какой из приведённых исторических фактов можно использовать для аргументации следующей точки зрения: «Московское царство безуспешно противостояло иностранной интервенции в период Смутного времени»? Укажите порядковый номер этого факта в списке.</p> <ol style="list-style-type: none"> 1. Ливонская война 2. Переяславская Рада 3. Осада Смоленска войсками Сигизмунда III 		
Запишите число:		
1)	Ответ:	

Задание №34		
<p>Какой из приведённых исторических фактов можно использовать для аргументации следующей точки зрения: «Одной из причин начала Смутного времени в России был династический кризис»? Укажите порядковый номер этого факта в списке.</p> <ol style="list-style-type: none"> 1. начало правления Алексея Михайловича 		

2. появление Лжедмитрия I
3. заключение Столбовского мира со Швецией

Запишите число:

1)

Ответ:

Задание №35

В народе "тушинскими перелетами" называли

Выберите один из 4 вариантов ответа:

1)

почтовое сообщение между Москвой и селом Тушино

2)

продвижение войск под предводительством И.Болотникова

3)

первые полеты воздушного шара в России

4)

переходы бояр из одного лагеря к другому за более высокими наградами и чинами

Задание №36

Война, в которой соотечественники воюют друг против друга, называется

Выберите один из 4 вариантов ответа:

1)

отечественная

2)

освободительная

3)

затяжная

4)

гражданская

Задание №37

Запишите понятие о котором идет речь.

Предприятия, основанное на разделении труда и применении ручной ремесленной техники, возникновение которого в России относится к XVII веку

Ответ запишите со строчной буквы в именительном падеже, единственном числе.

Запишите ответ:

1)

Ответ:

Задание №38

Запишите понятие о котором идет речь.

После свержения Василия Шуйского власть в стране оказалась в руках боярского правительства, называемого

Ответ запишите со строчной буквы в именительном падеже, единственном числе без пробелов.

Запишите ответ:

1)

Ответ:

Задание №39

Причиной Смутного времени было (-л, ла)

Выберите один из 4 вариантов ответа:

1)

пресечение династии Рюриковичей

2)

захват Москвы поляками

3)

введение судебника Ивана IV

4)

последствия монголо-татарского нашествия

Задание №40

Польские интервенты боярами были запущены в Москву, потому что

Выберите один из 4 вариантов ответа:

1)

Василий Шуйский не справлялся со своими обязанностями

2)

Москве угрожал ее захват шведами

3)

в Москве могло вспыхнуть народное восстание

4)

Москве угрожал ее захват Лжедмитрием II

Задание №41

Решающую роль в освобождении Москвы и страны от польских интервентов сыграл

Выберите один из 4 вариантов ответа:

1)

сильный мороз

2)

призыв "Семибоярщины"

3)

патриотический подъем населения

4)

отказ гетмана Ходкевича идти на Москву

Задание №42

Воцарение династии Романовых означало

Выберите один из 4 вариантов ответа:

1)

начало нового этапа Гражданской войны

2)

окончание Смутного времени

3)

завершение феодальной раздробленности

4)

начало боярского правления

Задание №43

Одно из условий предложенного Речью Посполитой России договора 1600 года

Выберите один из 4 вариантов ответа:

1)	уравнивание в правах российского дворянства с польской и литовской шляхтой
2)	запрет службы литовских дворян на территории России
3)	запрет исповедования православия на территории России
4)	введение единой религии на объединенной территории Речи Посполитой и России- православия

Задание №44

Россия не приняла такое положение договора о военном союзе с Речью Посполитой, как

Выберите один из 4 вариантов ответа:

1)	совместные военные выступления
2)	торговые отношения со странами Востока
3)	уравнивание в правах польской шляхты и российского дворянства
4)	свободное проповедование католицизма в России

Задание №45

К новым явлениям развития сельского хозяйства в начале XVII века относится

Выберите один из 4 вариантов ответа:

1)	развитие пахотного земледелия
2)	специализация отдельных районов страны
3)	появление и распространение новой техники
4)	активное применение наемного труда

Задание №46

Складывание всероссийского рынка в XVII веке означало

Выберите один из 4 вариантов ответа:

1)	сохранение экономической раздробленности различных районов страны
2)	необходимость продавать на рынках одну продукцию одной страны
3)	усиление хозяйственных связей между различными районами страны
4)	ориентацию торговли исключительно на внешние рынки

Задание №47

Назовите три положения, отражающие причины Смуты.

Выберите несколько из 6 вариантов ответа:

1)		кризис феодально-крепостнической системы
2)		опричнина Ивана Грозного, показавшая обществу его бесправие перед произволом царской власти
3)		наличие дворянской оппозиции
4)		стремление различных социальных групп улучшить свое сословное положение
5)		представление народа, что власть в стране должна принадлежать только "природному" царю, принадлежавшему к династии Рюриковичей
6)		стремление царя укрепить самодержавную власть

Задание №48

Назовите три черты, характеризующие последствия Смуты

Выберите несколько из 6 вариантов ответа:

1)		экономическая разруха и обнищание народа
2)		повышение международного авторитета России
3)		воцарение новой династии Романовых
4)		временное усиление роли сословно-представительных органов власти- Боярской Думы и Земского собора
5)		отмена крепостного права
6)		усиление позиций служилого дворянства

Задание №49

Какие три исторических деятеля были участниками событий Смуты?

Выберите несколько из 6 вариантов ответа:

1)		Андрей Курбский
2)		Иван Болотников
3)		Федор Ртищев
4)		Прокопий Ляпунов
5)		Александр Меншиков
6)		Дмитрий Трубецкой

Задание №50

Какие три исторических деятеля были участниками событий Смуты?

Выберите несколько из 6 вариантов ответа:

1)		Василий Шуйский
2)		Малюта Скуратов
3)		Дмитрий Шуйский
4)		патриарх Никон

5)		Алексей Адашев
6)		Иван Болотников

Задание №51

Установите соответствие между именами исторических деятелей и характеристиками их деятельности

Укажите соответствие для всех 4 вариантов ответа:

1)		князь, возглавивший Второе ополчение	1)	Иов
2)		патриарх, выступивший против приглашения польского королевича на престол	2)	И.Заруцкий
3)		рязанский дворянин, глава Первого ополчения	3)	П.Ляпунов
4)		казачий атаман, глава Первого ополчения	4)	Д.Пожарский

Задание №52

Установите соответствие между именами исторических деятелей и характеристиками их деятельности

Укажите соответствие для всех 4 вариантов ответа:

1)		нижегородский староста, организовавший Второе ополчение	1)	П.Ляпунов
2)		глава Первого ополчения, казачий атаман	2)	Филарет
3)		патриарх в Тушинском лагере Лжедмитрия II	3)	К.Минин
4)		глава Первого ополчения, рязанский дворянин	4)	И.Заруцкий

Задание №53

Установите соответствие между историческими понятиями и определениями

Укажите соответствие для всех 4 вариантов ответа:

1)		Самозванство	1)	Войско, создаваемое в помощь армии на добровольных началах
2)		Юрьев день	2)	Незаконное присвоение себе чужого имени, звания с целью обмана

3)		Вотчина	3)	Земельное владение, передаваемое по наследству
4)		Народное ополчение	4)	Право перехода крестьян от одного помещика к другому в определенный срок

Задание №54

Установите соответствие между историческими понятиями и определениями.

Укажите соответствие для всех 4 вариантов ответа:

1)		"Смутное время"	1)	Сословно-представительный орган власти в России в XVI-XVII веках
2)		Интервенция	2)	Правительство бояр во время Смуты
3)		Семибоярщина	3)	Вмешательство одной или нескольких стран во внутренние дела другого государства
4)		Земский собор	4)	Полоса мятежей, беспорядков, ослабление власти, вторжение иностранцев в начале XVII века в Московском государстве

Задание №55

Установите соответствие между событиями и датами

Укажите соответствие для всех 5 вариантов ответа:

1)		1598-1605 гг	1)	оборона Смоленска
2)		1605-1606 гг	2)	период " Семибоярщины"
3)		1606-1607 гг	3)	царствование Бориса Годунова
4)		1609-1611 гг	4)	царствование Лжедмитрия I
5)		1610-1612 гг	5)	восстание под предводительством И.Болотникова

Задание №56

Установите соответствие между событиями и датами

Укажите соответствие для всех 5 вариантов ответа:

1)		1598 г	1)	избрание царем Михаила
----	--	--------	----	------------------------

				Романова
2)		1603 г	2)	пресечение династии Рюриковичей
3)		1609 г	3)	начало вторжения войск интервентов в Россию
4)		1612 г	4)	изгнание поляков из Москвы Вторым ополчением
5)		1613 г	5)	восстание под предводительством Хлопка Косолапа

Задание №57

Расположите события в хронологической последовательности

Укажите порядок следования всех 5 вариантов ответа:

1)		Семибоярщина
2)		Изгнание поляков с Кремля вторым ополчением
3)		Восстание под предводительством И.И. Болотникова
4)		Убийство Лжедмитрия II
5)		Избрание царем Михаила Романова

Задание №58

Установите хронологическую последовательность событий

Укажите порядок следования всех 5 вариантов ответа:

1)		Пресечение династии Рюриковичей
2)		Смерть царевича Дмитрия в Угличе
3)		Первое ополчение
4)		Воцарение Василия Шуйского
5)		Восстание Хлопка Косолапа

Задание №59

Прочтите отрывок из исторического источника и укажите год, когда произошли эти события

«Бояре отправились к царю. Свояк царя, Иван Михайлович Воротынский сказал ему: "Вся земля бьёт тебе челом; оставь своё государство ради междуусобной брани, затем, что тебя не любят и служить тебе не хотят". Царю ничего не оставалось, как повиноваться. Он положил свой царский посох и переехал из царских палат в свой княжий дом. Верховное правление на время перешло к боярскому совету под председательством князя Фёдора Мстиславского».

В ответе запишите только цифры.

Запишите число:

1)

Ответ:

Задание №60

Прочтите отрывок из исторического источника и укажите да, когда произошли эти события

«Полтора года Москва оставалась полем сражения. За это время жители привыкли поминутно ждать удара ядра и прятаться от обстрелов. Теперь сражение было выиграно. Лихая година осталась позади. В честь победы был устроен парад. Земская рать построилась на Арбате, а оттуда торжественным маршем проследовала в Китай-город. Отряды Трубецкого, собравшиеся за Покровскими воротами, вступили в крепость с другой стороны. Войска сошлись на площади подле Лобного места, откуда двинулись через Спасские ворота в Кремль. Пробыл великий час. Древняя столица Русского государства была полностью очищена от иноземных завоевателей».

В ответе запишите только цифры.

Запишите число:

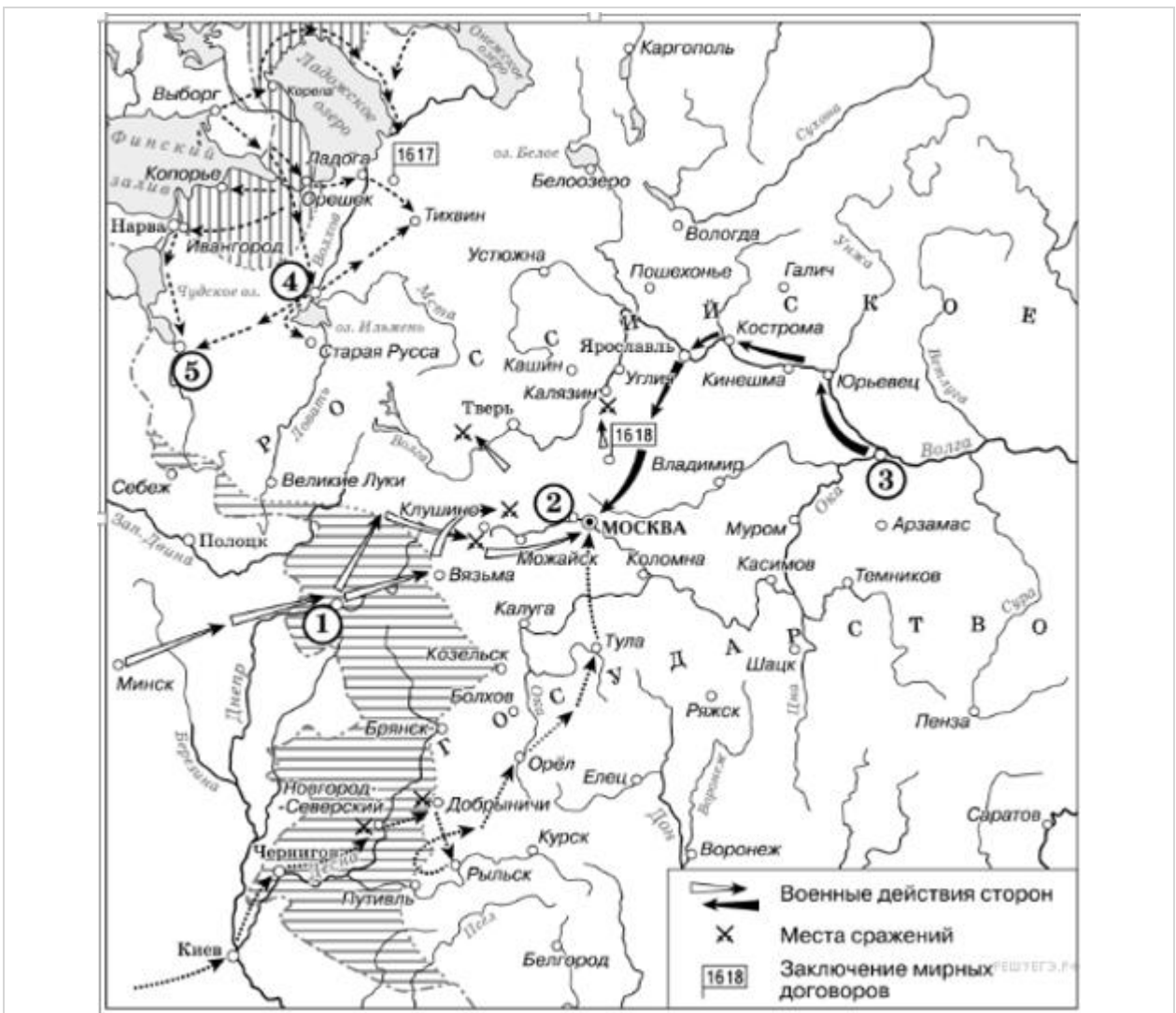
1)

Ответ:

Задание №61

Напишите название периода русской истории, события которого изображены на схеме.

Ответ запишите со строчной буквы.



Запишите ответ:

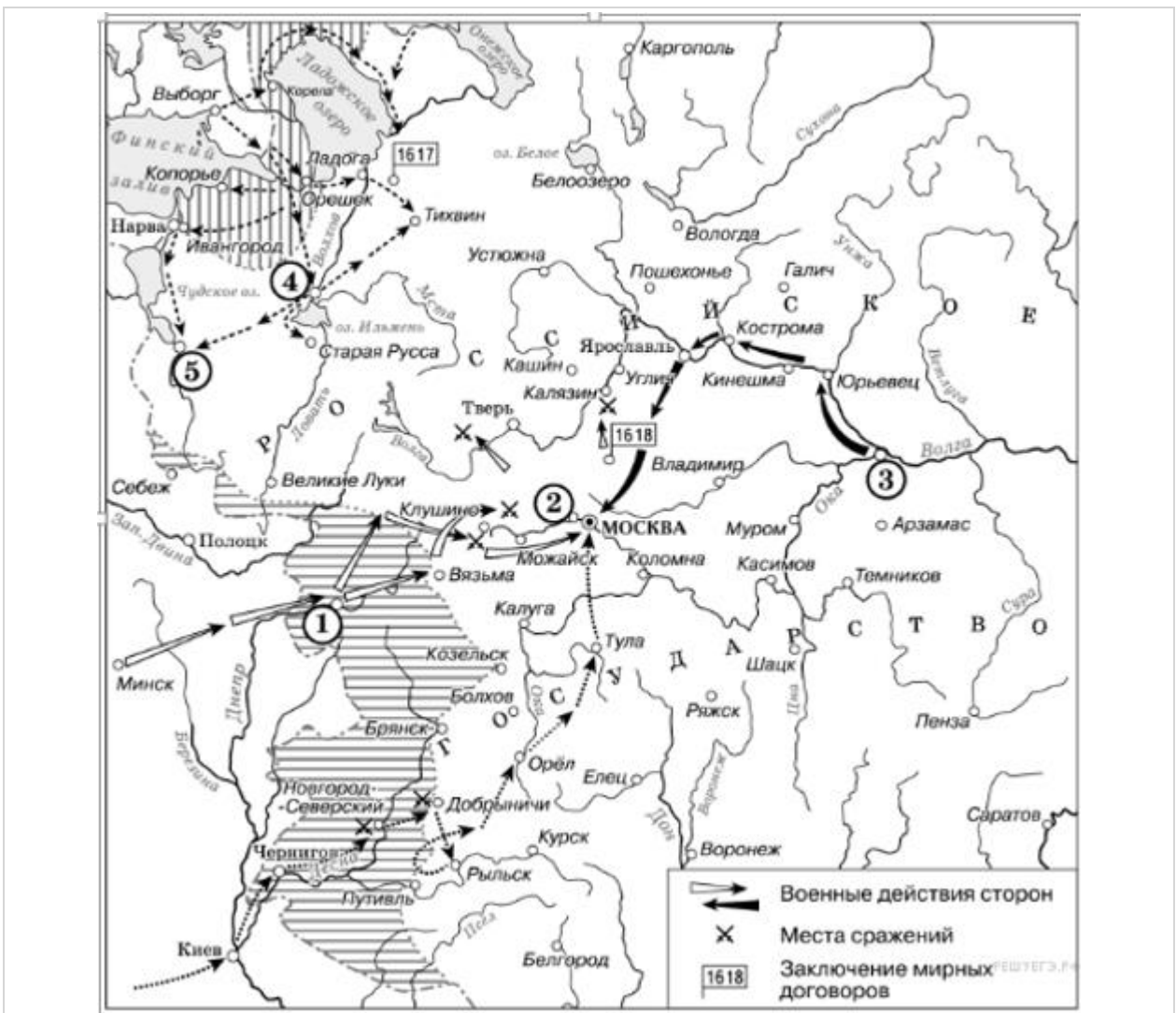
1)

Ответ:

Задание №62

Напишите прозвище самозванца, которое он получил из-за того, что расположил свой лагерь в подмосковном селе, обозначенном цифрой «2».

Ответ запишите со строчной буквы без пробелов и запятых.



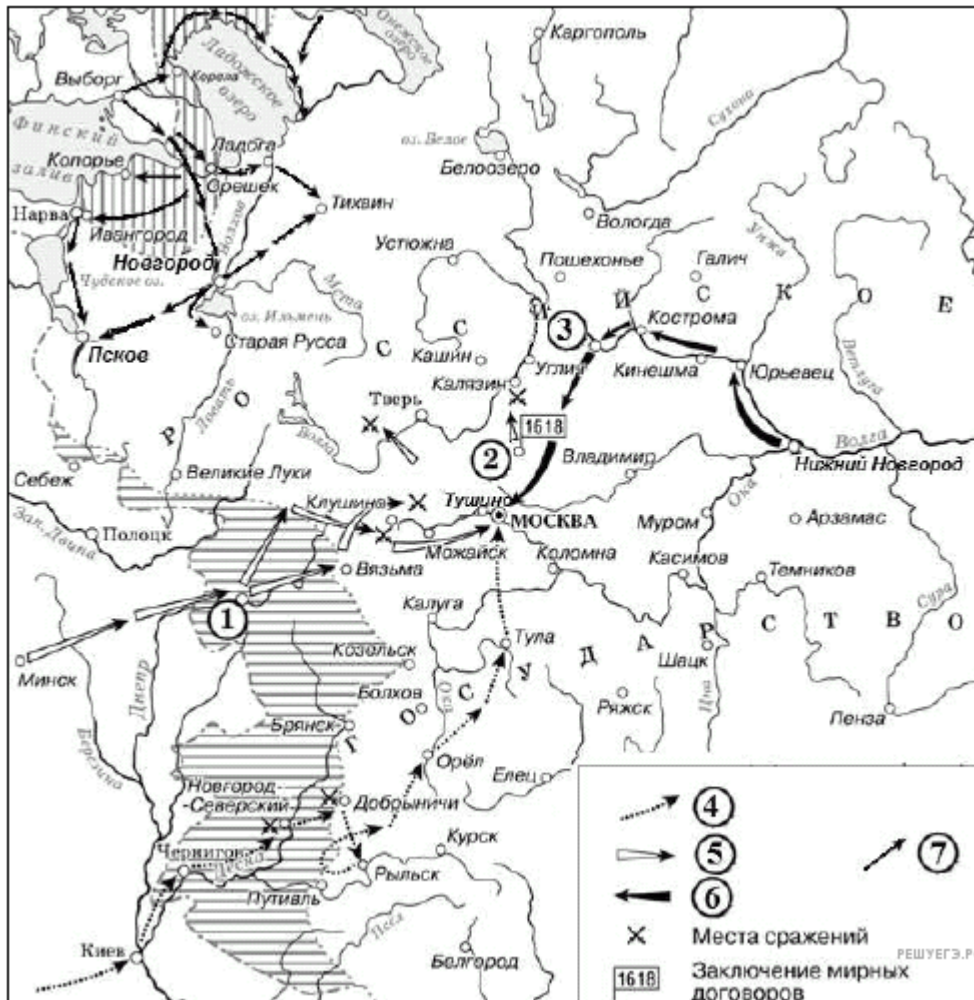
Запишите ответ:

1)

Ответ:

Задание №63

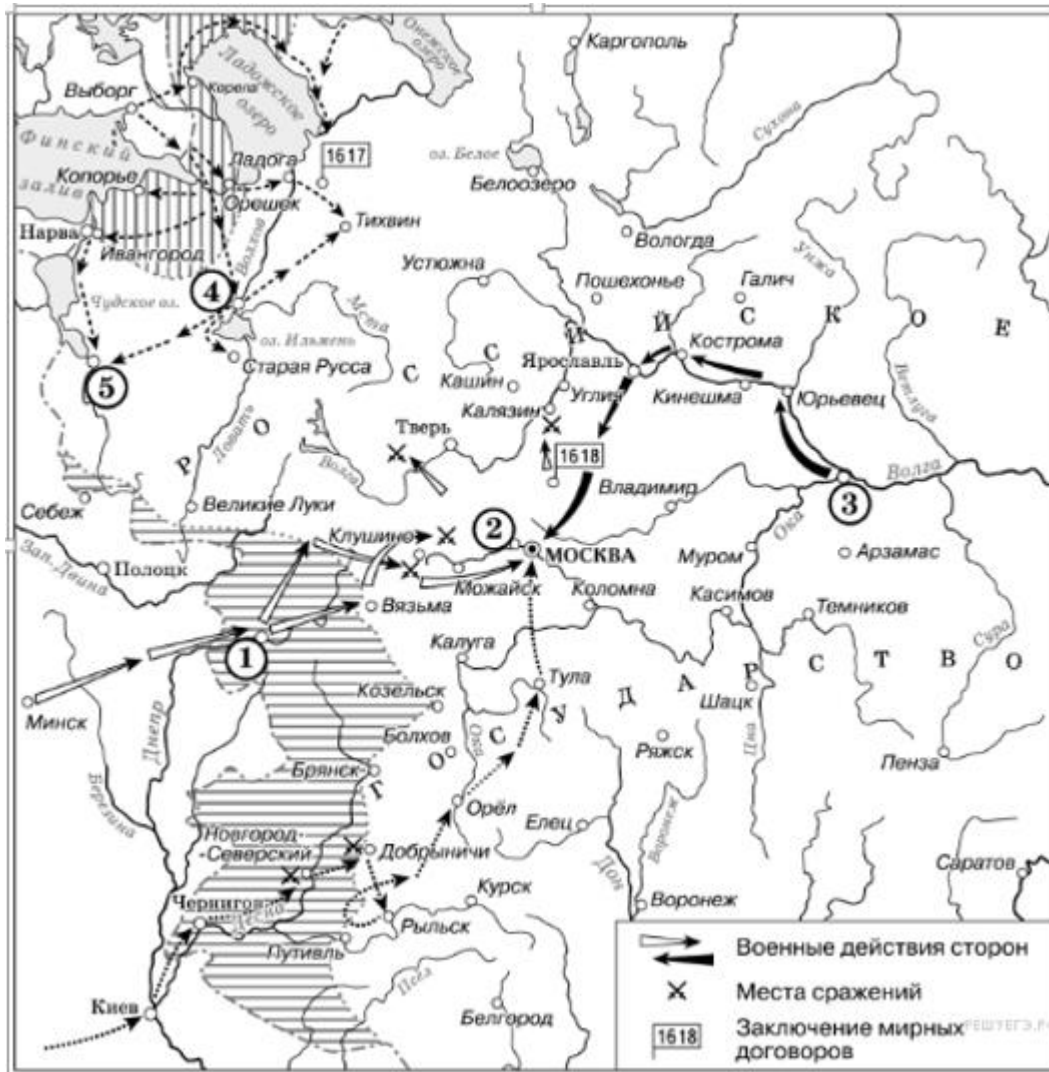
Какие суждения, относящиеся к данной схеме, являются верными? Выберите три суждения из шести предложенных.



Выберите несколько из 6 вариантов ответа:

1)	Самозванец, действия войск которого обозначены стрелками, подписанными в легенде схемы цифрой «4», получил прозвище «Тушинский вор».
2)	Город, обозначенный на схеме цифрой «1», в ходе событий, которым посвящена схема, был захвачен неприятелем после более чем 20-месячной осады.
3)	Цифрой «2» на схеме обозначено село Деулино.
4)	Действиями войск, обозначенных стрелками, подписанными в легенде схемы цифрой «7», в период, которому посвящена схема, командовал Карл XII.
5)	Одним из руководителей похода, обозначенного стрелками, подписанными в легенде схемы цифрой «6», был М. В. Скопин-Шуйский.
6)	Территории, заштрихованные на схеме, были потеряны Россией в результате обозначенных событий, но полностью возвращены в течение следующих полутора столетий.

Какие суждения, относящиеся к данной схеме, являются верными? Выберите три суждения из шести предложенных.



Выберите несколько из 6 вариантов ответа:

1)	Участниками событий, изображённых на схеме, были М. Скуратов и А. Курбский
2)	Староста посада обратился с призывом к сбору средств на борьбу с интервентами в городе, обозначенном на схеме цифрой «4».
3)	Следствием событий, изображённых на схеме, стала утрата Россией заштрихованных на схеме территорий.
4)	Одной из причин событий, изображённых на схеме, стало пресечение царствующей династии Рюриковичей.

5)	Поход на Москву, обозначенный на схеме точечными стрелками, возглавлял самозванец, известный как Григорий Отрепьев.
6)	Древний русский город, обозначенный на схеме цифрой «1», отбил все попытки интервентов захватить его

Задание №65

Укажите названия архитектурного памятника, который был построен в XVI веке в честь взятия Казани, изображенного на иллюстрации.



Выберите один из 4 вариантов ответа:

1)	Церковь Вознесения в Коломенском
2)	Успенский собор Московского Кремля
3)	Храм Василия Блаженного в Москве
4)	Благовещенский собор в Казани

Задание №66

Укажите название выдающегося памятника шатровой архитектуры, изображенного на иллюстрации.



Выберите один из 4 вариантов ответа:

1)	Успенский собор в Москве
2)	Храм Василия Блаженного
3)	Благовещенский собор в Казани
4)	Церковь Вознесения в Коломенском

Задание №67

Рассмотрите изображение и выполните задание.
Напишите имя и фамилию человека, изображенного на иллюстрации.

Пишите со строчной буквы без пробелов в им.п.



Запишите ответ:

1)

Ответ:

Задание №68

Рассмотрите изображение и выполните задание.
Напишите имя и фамилию человека, изображенного на иллюстрации.

Пишите со строчной буквы без пробелов, в им.п.



Запишите ответ:

1)

Ответ:

Задание №69

Рассмотрите изображение и выполните задание.

Какие утверждения, относящиеся к картине, являются верными.
Выберите три из шести предложенных.



Выберите несколько из 6 вариантов ответа:

1)	Автор данной картины С.Иванов
2)	На картине изображено изгнание поляков из Кремля
3)	Данное событие происходило в 1606-1607 годах
4)	На картине изображено наступление войск Второго ополчения против польских интервентов
5)	Автор данной картины Э.Лиснер
6)	Картина называется Битва войск Ивана Болотникова с царской армией

Задание №70

Рассмотрите изображение и выполните задание.

Какие утверждения, относящиеся к картине, являются верными.
Выберите три из шести предложенных.



Выберите несколько из 6 вариантов ответа:

1)	Это картина Эрнста Лиснера Изгнание поляков из Кремля
2)	Данное изображение относится к 1611 году
3)	На иллюстрации изображено войско Ивана Болотникова, осаждающее Москву
4)	Автор данной картины М. Верещагин
5)	Изображенные события произошли в 1612 году
6)	В честь событий, запечатленных на иллюстрации в России отмечается день народного единства

Задание №71

Создателем какого из приведённых памятников культуры был Андрей Чохов? Укажите порядковый номер этого памятника культуры.

- 1) Царь-пушка
- 2) Икона-картина «Церковь воинствующая»

3)



4)



Запишите число:

1)

Ответ:

Задание №72

Какие из приведённых памятников культуры были созданы в XVI в.? Выберите два памятника культуры и запишите в таблицу цифры, под которыми они указаны.

- 1) Царь-пушка
- 2) Икона-картина «Церковь воинствующая»

3)



4)



Запишите число:

1)

Ответ:

Задание №73

Какие из приведённых памятников культуры были созданы в XVI в.? Выберите два памятника культуры и запишите в таблицу цифры, под которыми они указаны.

Ознакомьтесь с приведённым перечнем и изображениями памятников культуры и выполните задания

- 1) Славяно-греко-латинская академия
- 2) Сказание о царе Константине

3)



4)



Запишите число:

1)

Ответ:

Задание №74

Какой из приведённых памятников культуры был создан в честь взятия Казани? Укажите порядковый номер этого памятника культуры.

Ознакомьтесь с приведённым перечнем и изображениями памятников культуры и выполните задания

- 1) Славяно-греко-латинская академия
- 2) Сказание о царе Константине

3)



4)



Запишите число:

1)	Ответ:	
----	--------	--

Пример задания части 2.

Прочтите отрывок из исторического источника и выполните задание. (3 балла)

«...Весной 1606 г. В. И. Шуйский вместе с Голицыным начал действовать гораздо осторожнее; они успели привлечь на свою сторону войска, стоящие около Москвы; в ночь с 16 на 17 мая отряд их был введён в Москву, а там у Шуйского было уже достаточно сочувствующих. Однако заговорщики, зная, что далеко не все в Москве непримиримо настроены против самозванца, сочли нужным обмануть народ и бунт подняли якобы за царя против поляков, его обижавших. Но дело скоро объяснилось. Царь был объявлен самозванцем и убит 17 мая утром. "Истинный царевич", которого ещё так недавно трогательно встречали и спасению которого так радовались, сделался "расстригой", "еретиком" и "польским свистуном"».

1. Укажите, под каким именем в историю вошел царь, объявленный самозванцем и убитый.
2. Укажите название периода русской истории, когда происходили данные события.
3. Укажите года правления этого самозванца