

**Материалы**  
**для подготовки к тестированию по истории 6 класс М-4 профильный уровень**  
**по теме «Русские земли и европейское средневековье в XIII-XIV вв.»**

<b>Тема</b>	<b>Содержание</b>
От феодальной раздробленности к формированию национальных государств: сословно-представительная монархия.	Англия при нормандских королях, Плантагенетах. Рождение английского парламента. Процесс создания централизованного государства во Франции. Генеральные штаты во Франции. Формирование сословной монархии и укрепление королевской власти.
Монгольская экспансия: причины, ход, результаты.	Сердце Центральной Азии - Монголия. Образование, расцвет и распад империи Чингисхана. Образование Золотой Орды. Народы и религия Золотой Орды. Экономика. Ордынское владычество на Руси и повинности русского населения. Борьба Руси с монголами и последствия монгольского владычества для нее.
Русские земли в борьбе с натиском Запада и Востока.	Поход хана Батые на Северо- Восточную Русь, нашествие монголо-татар на Южную Русь. Походы шведов и крестоносцев на земли Прибалтики. Князь Александр Ярославович. Невская битва. Ледовое побоище. Историческое значение побед русских воинов над шведскими и немецкими рыцарями.
Литовское государство и Русь. Золотая Орда.	Особенности образования Литовского государства. Устройство Литовско-Русского государства. Формирование русской, украинской, белорусской народностей. Союз Литвы и Польши.

**Понятия:** Графство, шериф, хартия, сословно- представительная монархия, абсолютная монархия, парламент, Генеральные штаты, кортес, ярлык, выход, ополченцы, агрессия, владычество, уния, курултай, нойоны, хан, баскаки.  
**Персоналии:** Генрих III, Симон де Монфор, Филипп IV Красивый, Карл VII, Фердинанд II, Изабелла I, Чингисхан, хан Батый, Александр Ярославович, Миндовг, Гедимин, Ольгерд, Витовт, Ягайло.

**Даты:** 1086 г, 1215 г, 1265 г, 1302 г, 1479 г, 1492 г, 1223 г, 1237 г, 1237-1238 гг, 1240-1242 гг, 1240 г, 1242 г, 1385 г, 1410 г.

Для того, чтобы получить допуск к тесту учащийся должен выполнить следующие виды работ:

- оформить лекционную тетрадь;
- практическая работа;
- картографический практикум (контурная карта);
- понятийный диктант.

Выполнение каждого вида работ подтверждается отметкой учителя в зачётном листе и допуском к итоговому тесту.

## Банк заданий

### Задание №1

Нашествие Батыя на Русь произошло в

Выберите один из 4 вариантов ответа:

1)		1147 году
2)		1237 году
3)		1382 году
4)		1410 году

### Задание №2

Невская битва произошла

Выберите один из 4 вариантов ответа:

1)		15 июля 1240 года
2)		5 апреля 1242 года
3)		11 августа 1378 года
4)		8 сентября 1380 года

### Задание №3

Парламент в Англии впервые был созван в

Выберите один из 4 вариантов ответа:

1)		1215 году
2)		1265 году
3)		1296 году
4)		1302 году

### Задание №4

Во Франции Генеральные штаты впервые были созваны в

Выберите один из 4 вариантов ответа:

1)		1215 году
2)		1265 году
3)		1302 году
4)		1315 году

### Задание №5

" Книга Страшного суда" была составлена в Англии в

Выберите один из 4 вариантов ответа:

1)		1086 году
2)		1099 году
3)		1215 году
4)		1265 году

**Задание №6**

Первая встреча русских войск с монголами произошла в битве на реке Калке  
В

Выберите один из 4 вариантов ответа:

1)	1206 г.
2)	1211 г.
3)	1223 г.
4)	1240 г.

**Задание №7**

В каком году произошла Грюнвальдская битва

Выберите один из 4 вариантов ответа:

1)	1223 г.
2)	1237 г.
3)	1410 г.
4)	1240 г.

**Задание №8**

В этом году король Англии Иоанн Безземельный подписал Великую хартию вольностей

Выберите один из 4 вариантов ответа:

1)	1215 г.
2)	1265 г.
3)	1302 г.
4)	1188 г.

**Задание №9**

Победа русского войска на Чудском озере относится к

Выберите один из 4 вариантов ответа:

1)	1240 г.
2)	1223 г.
3)	1242 г.
4)	1237 г.

**Задание №10**

Битва на р. Сити произошла

Выберите один из 4 вариантов ответа:

1)	1240 г.
2)	1237 г.
3)	1238 г.

4)	1223 г.
----	---------

**Задание №11**

В этом году на курултае Темучина выбрали великим ханом

Выберите один из 4 вариантов ответа:

1)	1206 г.
2)	1211 г.
3)	1223 г.
4)	1227 г.

**Задание №12**

Битва между литовскими, польскими, русскими войсками и Тевтонским орденом в 1410 году состоялась

Выберите один из 4 вариантов ответа:

1)	на льду Чудского озера
2)	на поле Куликовом
3)	на реке Угре
4)	при Грюнвальде

**Задание №13**

Первое сражение русских войск с монголами произошло на реке

Выберите один из 4 вариантов ответа:

1)	Каме
2)	Калке
3)	Непрядве
4)	Волге

**Задание №14**

Сараем называли

Выберите один из 4 вариантов ответа:

1)	город- столицу Золотой Орды
2)	место сбора дани
3)	хозяйственную постройку в княжеском дворе
4)	совет при золотоордынском хане

**Задание №15**

" Я уже здесь и пленяю землю твою"- такой вызов послал новгородскому князю командир шведского отряда, высадившегося

Выберите один из 4 вариантов ответа:

1)	на берегу Ладожского озера
2)	в устье Невы

3)		на реке Калке
4)		на реке Сити

**Задание №16**

Хан Батый принял решение " повернуть морды коней на юг", не дойдя до города

Выберите один из 4 вариантов ответа:

1)		Рязани
2)		Новгорода
3)		Киева
4)		Козельска

**Задание №17**

" Злым городом" хан Батый назвал

Выберите один из 4 вариантов ответа:

1)		Киев
2)		Новгород
3)		Козельск
4)		Волынь

**Задание №18**

Город, жители которого отчаянно сопротивлялись войскам Батыя в течение семи недель, - это

Выберите один из 4 вариантов ответа:

1)		Москва
2)		Владимир
3)		Суздаль
4)		Козельск

**Задание №19**

Единственным не захваченным монголами городом Руси в период с 1237 по 1242 год был

Выберите один из 4 вариантов ответа:

1)		Владимир
2)		Киев
3)		Великий Новгород
4)		Торжок

**Задание №20**

Русские земли с середины XIII века были

Выберите один из 4 вариантов ответа:

1)		в составе Золотой Орды
2)		улусом Золотой Орды
3)		вассалами Золотой Орды
4)		отдельным ханством Золотой Орды

#### Задание №21

Сражение с войском Батыея, в котором погиб князь Юрий Всеволодович, произошло на реке

Выберите один из 4 вариантов ответа:

1)		Сити
2)		Москве-реке
3)		Дону
4)		Волге

#### Задание №22

Союзником русских в битве на реке Калке были

Выберите один из 4 вариантов ответа:

1)		печенеги
2)		половцы
3)		византийцы
4)		варяги

#### Задание №23

Александр Невский стал сражаться против немцев и шведов, потому что

Выберите один из 4 вариантов ответа:

1)		Александра пригласило в Новгород вече
2)		Александр сумел объединить войска всех княжеств Руси и повести на битвы
3)		Александр захватил новгородский престол и возглавил городское ополчение
4)		Александра назначило княжичем вече Новгорода, которое имело право предоставить этот титул любому человеку

#### Задание №24

Во время завоеваний Батыея русские княжества

Выберите один из 4 вариантов ответа:

1)		объединялись для организации совместной помощи друг другу
2)		просили помощи у папы римского
3)		мало поддерживали друг друга из-за раздробленности
4)		не оказывали сопротивления войскам Батыея

**Задание №25**

С именем дружинника Гаврилы Олексича связано сражение

Выберите один из 4 вариантов ответа:

1)	на реке Неве
2)	на Чудском озере
3)	на реке Сити
4)	на реке Воже

**Задание №26**

С именем воеводы Дмитрия связана оборона

Выберите один из 4 вариантов ответа:

1)	Владимира
2)	Новгорода
3)	Козельска
4)	Киева

**Задание №27**

Владимирский князь Юрий Всеволодович встретил врага

Выберите один из 4 вариантов ответа:

1)	на реке Сити
2)	на реке Москве
3)	у Рязани
4)	у реки Непрядвы

**Задание №28**

Во главе Литовско-Русского государства в момент его основания находился князь

Выберите один из 4 вариантов ответа:

1)	Гедимин
2)	Миндовг
3)	Ольгерд
4)	Ягайло

**Задание №29**

"Королем Литвы и Руси" называли князя

Выберите один из 4 вариантов ответа:

1)	Гедимина
2)	Войшелка
3)	Миндовга
4)	Ягайло

**Задание №30**

Великим Литовское государство стало именоваться в правление князя

Выберите один из 4 вариантов ответа:

1)	Ольгерда
2)	Войшелка
3)	Гедимина
4)	Витовта

**Задание №31**

Поход 1237 года на Русь возглавил хан

Выберите один из 4 вариантов ответа:

1)	Чингисхан
2)	Батый
3)	Едигей
4)	Темучин

**Задание №32**

Имя Александра Невского связано с победой

Выберите один из 4 вариантов ответа:

1)	на Чудском озере
2)	на Онежском озере
3)	на Ладожском озере
4)	на озере Ильмень

**Задание №33**

По преданию, уцелевшие жители Рязанской земли собрали дружину, который возглавил боярин

Выберите один из 4 вариантов ответа:

1)	Евпатий Коловрат
2)	Юрий Всеволодович
3)	Александр Ярославич
4)	Владимир Серпуховский

**Задание №34**

Представитель Золотой Орды, следящий за сбором дани и выполнением ханских повелений назывался

Выберите один из 4 вариантов ответа:

1)	наместник
2)	посадник
3)	баскак



4)		темник
----	--	--------

#### Задание №35

Ярлыком в XIII веке называли

Выберите один из 4 вариантов ответа:

1)		часть монгольского войска
2)		боевой порядок немецких рыцарей
3)		ханскую грамоту на право княжения
4)		поборы с покоренных народов

#### Задание №36

" Свиньей" - называли

Выберите один из 4 вариантов ответа:

1)		ордынский выход
2)		городские укрепления
3)		построение монгольской конницы
4)		боевой порядок построения немецких рыцарей

#### Задание №37

Съезд монгольской знати

Выберите один из 4 вариантов ответа:

1)		сейм
2)		диван
3)		вече
4)		курултай

#### Задание №38

Во Франции парламент назывался

Выберите один из 4 вариантов ответа:

1)		Генеральные штаты
2)		Рейхстаг
3)		Риксдаг
4)		Кортес

#### Задание №39

Кортесом в Испании называли

Выберите один из 4 вариантов ответа:

1)		правителя государства
2)		орган представительства сословий
3)		личную гвардию Испанского короля

4)		отвоевание христианскими народами того, что принадлежало мусульманам
----	--	--

#### Задание №40

На французском это слово обозначает говорить

Выберите один из 4 вариантов ответа:

1)		генеральные штаты
2)		кортесы
3)		парламент
4)		курултай

#### Задание №41

В результате похода Батые на Русь

Выберите один из 4 вариантов ответа:

1)		русские земли вновь объединились под властью киевских князей
2)		границы монгольской державы достигли берегов Адриатического моря
3)		русские земли были разорены
4)		на Руси начался период феодальной раздробленности

#### Задание №42

Причина победы монгольского войска на реке Калке

Выберите один из 4 вариантов ответа:

1)		несогласованность действий русских и половецких войск
2)		наличие у монголов огнестрельного оружия
3)		снижение уровня воды в реке из-за засушливого лета
4)		отказ русских князей прийти на помощь половцам

#### Задание №43

Одним из последствий монгольского нашествия на Русь было

Выберите один из 4 вариантов ответа:

1)		начало распространения христианства
2)		установление зависимости русских земель от ордынских ханов
3)		начало распада русских земель на отдельные княжества
4)		экономический подъем Руси

#### Задание №44

Причиной крестовых походов на Русь в XII-XIII веках было

Выберите один из 4 вариантов ответа:

1)	освобождение Новгородской и Псковской земель от монголов
2)	завоевание новых земель и распространение католицизма
3)	знакомство жителей Руси с передовыми методами ведения хозяйства
4)	восстановление торгового пути "из варяг в греки"

#### Задание №45

Результатом битв на Неве и Чудском озере было

Выберите один из 4 вариантов ответа:

1)	захват Русью всего побережья Балтийского моря
2)	положено начало объединению русских земель
3)	остановлено наступление монголов
4)	предотвращено распространение католицизма в русских землях

#### Задание №46

К причинам завоевательных походов шведов на русские земли относится

Выберите один из 4 вариантов ответа:

1)	стремление захватить богатые земли Новгорода и окрестностей
2)	желание шведов покорить монголов, для чего нужно было пройти через новгородские земли
3)	необходимость отбиваться от постоянных набегов новгородцев на шведские территории
4)	стремление шведов переселить своих крестьян на земли Новгорода, а также Владимиро-Суздальского княжества

#### Задание №47

К результатам побед Александра Невского на Неве и Чудском озере относится

Выберите один из 4 вариантов ответа:

1)	разгром войск хана Батыя
2)	укрепление обороноспособности северо- западных границ
3)	начало распада Руси на самостоятельные земли
4)	разгром Ливонского ордена

#### Задание №48

В результате заключения унии между Литвой и Польшей

Выберите один из 4 вариантов ответа:

1)	ухудшилось положение православного населения
2)	возрос приток переселенцев из Северо -Восточной Руси в Литву

3)	ослабла обороноспособность Литвы и Польши
4)	ухудшились отношения между Литвой и Польшей

#### Задание №49

В 1240 году князь Александр Невский был изгнан из Новгорода потому что

Выберите один из 4 вариантов ответа:

1)	новгородцы были недовольны покровительством, которое он оказывал ростовщикам
2)	новгородцы выполнили требование хана Батыя
3)	князь не смог противостоять нашествию немецких рыцарей на Новгородскую землю
4)	новгородские бояре опасались усиления княжеской власти

#### Задание №50

Что способствовало победе новгородского войска в Ледовом побоище

Выберите один из 4 вариантов ответа:

1)	умелое использование русскими способа засады
2)	преимущество в профессионализме русского войска
3)	более совершенное вооружение русских воинов
4)	отсутствие у противника конницы

#### Задание №51

Отметьте отрицательное последствие монгольских завоеваний.

Выберите один из 4 вариантов ответа:

1)	распространение изучения иностранных языков
2)	создание регулярной почтовой службы
3)	хозяйственное разорение регионов
4)	проникновение элементов европейского быта в жизнь монгольской знати

#### Задание №52

Одна из причин успеха завоевательного похода Батыя на Русь

Выберите один из 4 вариантов ответа:

1)	раздробленность Русских земель
2)	нежелание горожан защищать свои города
3)	организация совместного войска Батыя и европейских правителей
4)	помощь Батыю со стороны папы римского

#### Задание №53

Как сложилась судьба Новгорода во время похода Батя на Северо-Восток

Руси?

Выберите один из 4 вариантов ответа:

1)	Новгород был захвачен войском Батые за пять дней
2)	Новгород героически оборонялся семь недель, но вынужден был сдаться
3)	Батый принял решение не идти на Новгород
4)	Новгородское ополчение разгромило войско Батые

**Задание №54**

Отметьте положительное последствие монгольских завоеваний.

Выберите один из 4 вариантов ответа:

1)	исчезновение городов
2)	сокращение населения
3)	знакомство с культурными достижениями Китая в странах Европы
4)	обложение данью значительной части завоёванного населения

**Задание №55**

Прочтите отрывок из источника и укажите век, когда произошли описанные события.

«И пришли немцы к Чудскому озеру, и встретил их Александр и изготовился к бою, и пошли они друг против друга, и покрылось озеро Чудское множеством тех и других воинов. Отец Александра, Ярослав, прислал ему на помощь младшего брата Андрея с большою дружиною. Да и у князя Александра было много храбрых воинов. Так и мужи Александра исполнились духа ратного, ведь были сердца их, как сердца львов, и воскликнули: «О княже наш славный! Ныне пришло нам время положить головы свои за тебя». Была же тогда суббота, и, когда взошло солнце, сошлись противники. И была сеча жестокая, и стоял треск от ломающихся копий и звон от ударов мечей, и казалось, что двинулось замёрзшее озеро, и не было видно льда, ибо покрылось оно кровью».

Выберите один из 4 вариантов ответа:

1)	XII век
2)	XIII век
3)	XIV век
4)	XV век

**Задание №56**

Прочтите отрывок из сочинения историка и укажите князя, о котором идёт речь.

«Этот князь дал сражение меченосцам на льду Чудского озера, убил у них

четыреста рыцарей, взял в плен пятьдесят и истребил много чуди. Эта битва названа Ледовым побоищем. Он торжественно вошёл в Новгород, ведя за собой скованных пленников. Гроссмейстер боялся, что князь подступит к самой Риге, и обратился за помощью к Дании. Новгородский князь, довольный избавлением Пскова, заключил мир, по которому немцы отказались от некоторых владений».

Выберите один из 4 вариантов ответа:

1)	Юрий Долгорукий
2)	Александр Невский
3)	Иван Калита
4)	Дмитрий Донской

#### Задание №57

О каком герое рассказывает рязанский народный эпос XIII в.? "И начали сечь без милости, и смешались все полки татарские. И бил их ...так нещадно, что и мечи притуплялись, и брал он мечи татарские, и сёк ими. Почудилось татарам, что мёртвые восстали..."

*Ответ запишите со строчной буквы, в ед.ч. без пробелов, пример:*  
александрневский

Запишите ответ:

1)	Ответ:	
----	--------	--

#### Задание №58

Прочтите текст и напишите название описанной битвы.

"Князь же <имя> приготовился к бою, и пошли они друг против друга, и покрылось <географическое название> множеством тех и других воинов. Отец <имя>, Ярослав, прислал ему на помощь младшего брата Андрея с большою дружиною. Так и мужи <имя>, исполнились духа ратного, ведь были сердца их как сердца львов, и воскликнули: "О княже наш славный! Ныне пришло нам время положить головы свои за тебя". Князь же <имя> воздел руки к небу и сказал: "Суди меня. Боже, рассуди спор мой с народом неправедным и помоги мне". Была же тогда суббота, и когда взошло солнце, сошлись противники. И была сеча жестокая, и стоял треск от ломающихся копий и звон от ударов мечей, и казалось, что двинулось замерзшее озеро, и не было видно льда, ибо покрылось оно кровью».

*Ответ напишите со строчной буквы без пробелов например, куликовскаябитва.*

Запишите ответ:

1)	Ответ:	
----	--------	--

#### Задание №59

Установите соответствие между определениями и терминами.

Укажите соответствие для всех 3 вариантов ответа:				
1)		вассальная зависимость Руси от хана Золотой орды	1)	ВЫХОД
2)		сбор князем дани	2)	ПОЛЮДЬЕ
3)		ежегодный платеж Орде	3)	ИГО

#### Задание №60

Установите соответствие между историческими терминами и их определениями.

Укажите соответствие для всех 3 вариантов ответа:

1)		съезд ордынской знати	1)	баскак
2)		земля, подвластная хану Золотой Орды	2)	курултай
3)		ордынский сборщик дани в русских княжествах	3)	улус

#### Задание №61

Установите соответствие между сражением и фактом, относящимся к нему

Укажите соответствие для всех 3 вариантов ответа:

1)		ранение военачальника Биргера	1)	сражение на Чудском озере
2)		участие в сражении тяжёлой рыцарской конницы	2)	сражение на реке Неве
3)		отсутствие единого командования в русском войске	3)	сражение на реке Калке

#### Задание №62

Установите соответствие между событием и датой.

Укажите соответствие для всех 4 вариантов ответа:

1)		военный поход внука Чингисхана к берегам Адриатического моря	1)	1211 г.
2)		смерть Чингисхана	2)	1220 г.
3)		основание столицы Монгольского государства	3)	1227 г.
4)		военный поход монголов на империю Цзинь	4)	1241 г.

#### Задание №63

Установите соответствие между местами сражений и фактами, относящимся

<b>К НИМ</b>				
Укажите соответствие для всех 3 вариантов ответа:				
1)		бегство половцев с места сражения	1)	сражение на Чудском озере
2)		построение войск противника клином (свиньёй)	2)	сражение на реке Неве
3)		внезапное нападение на суда противника	3)	сражение на реке Калке

#### Задание №64

Установите соответствие между событиями и датами.

Укажите соответствие для всех 4 вариантов ответа:

1)		первая встреча русских войск с монголами	1)	1206 г.
2)		основание Монгольского государства	2)	1211 г.
3)		завоевание монголами империи Цзинь	3)	1223 г.
4)		смерть Чингисхана	4)	1227 г.

#### Задание №65

Установите соответствие между событиями и датами.

Укажите соответствие для всех 4 вариантов ответа:

1)		захват войском Батыя Киева	1)	1223 г.
2)		битва на реке Калке	2)	1237 г.
3)		захват Рязани войсками Батыя	3)	1238 г.
4)		битва на реке Сити	4)	1240 г.

#### Задание №66

Установите соответствия между событиями и датами.

Укажите соответствие для всех 4 вариантов ответа:

1)		Ледовое побоище	1)	1219 г.
2)		Невская битва	2)	1240 г.
3)		основание крепости Ревель	3)	1242 г.
4)		смерть Александра Невского	4)	1263 г.

#### Задание №67

Назовите ТРИ термина, связанные с зависимостью русских земель от



<b>монголо- татар</b>		
Выберите несколько из 6 вариантов ответа:		
1)		дань
2)		посадник
3)		ярлык
4)		полюдье
5)		баскак
6)		удел

<b>Задание №68</b>		
Назовите ТРИ события, относящихся к вторжению монголо- татар на Русь		
Выберите несколько из 6 вариантов ответа:		
1)		нападение на Рязань
2)		захват Пскова
3)		Оборона Киева под руководством Димитра
4)		Невская битва
5)		образование Генеральных штатов
6)		битва на р. Сить

<b>Задание №69</b>		
Какие три из перечисленных событий связаны с нашествием шведских и немецких рыцарей на Русь		
Выберите несколько из 5 вариантов ответа:		
1)		основание города Риги
2)		победа Ярослава Всеволодовича под Юрьевом
3)		освобождение Александром Невским города Изборска
4)		битва на Чудском озере
5)		основание горда Звенигород

<b>Задание №70</b>		
Какие три из перечисленных событий относятся к вторжению монголов на Русь		
Выберите несколько из 5 вариантов ответа:		
1)		вторжение в Рязанскую землю
2)		захват Пскова
3)		защита Киева под руководством воеводы Димитра
4)		сражение на реке Неве
5)		мужественное сопротивление Козельска

<b>Задание №71</b>		
--------------------	--	--

Выберите из списка ТРИ отрицательных последствия ордынского владычества.

Выберите несколько из 6 вариантов ответа:

1)		выплата дани Орде
2)		заимствование новых слов из других языков
3)		организация почтовой связи
4)		захват в плен жителей русских городов
5)		исчезновение некоторых видов ремесел
6)		появление знати монгольского происхождения

#### Задание №72

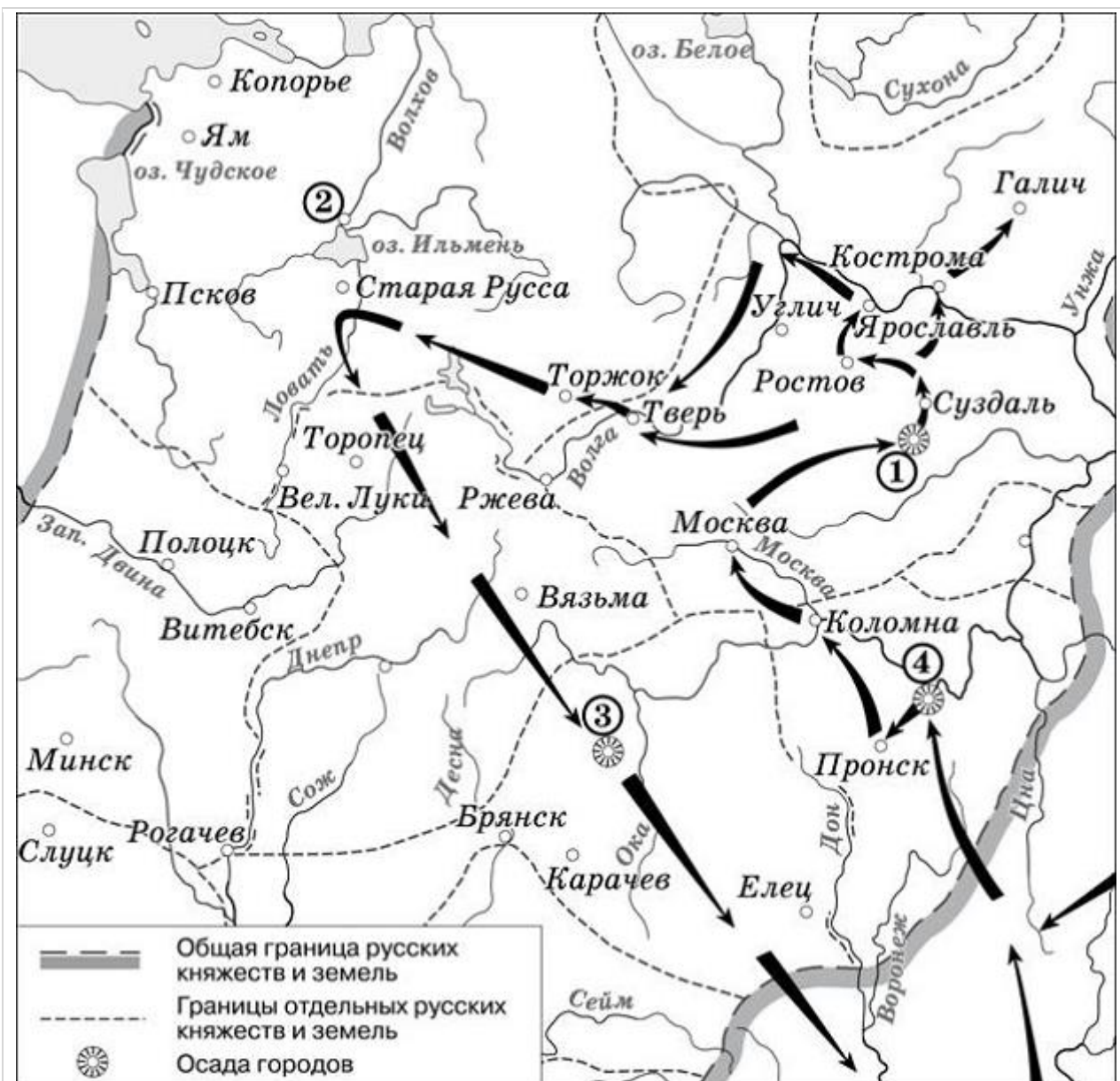
Выберите из списка ТРИ особенности завоевательной политики монголов.

Выберите несколько из 4 вариантов ответа:

1)		монголы использовали китайскую военную технику
2)		монголы начали завоевательные походы, когда в войске Чингисхана было около тысячи человек
3)		монгольская конница отличалась значительной маневренностью
4)		завоеватели действовали исключительно жестоко по отношению к покорённому поселению

#### Задание №73

Какой цифрой на схеме обозначен город, прославившийся героическим сопротивлением захватчикам в течение семи недель в ходе событий, обозначенных на схеме стрелками?



Выберите один из 4 вариантов ответа:

1)	1
2)	2
3)	3
4)	4

#### Задание №74

Рассмотрите схему и выполните задание.

Укажите год, когда произошли события, обозначенные на схеме стрелками.



Выберите один из 4 вариантов ответа:

1)	1036 г.
2)	1185 г.
3)	1223 г.
4)	1238 г.

#### Задание №75

Рассмотрите схему и выполните задание.

Назовите монгольского военачальника, к деятельности которого относится военный поход по маршруту, представленному на схеме.



Выберите один из 4 вариантов ответа:

1)	Чингисхан
2)	Батый
3)	Биргер
4)	Мстислав Удалой

#### Задание №76

Рассмотрите схему и выполните задание.

Назовите военачальника, к деятельности которого относится военный поход по маршруту, обозначенному сиреневыми стрелками





Выберите один из 4 вариантов ответа:

1)	Биргер
2)	Чингисхан
3)	Александр Невский
4)	Батый

#### Задание №77

Рассмотрите схему и определите, в каком году произошла эта битва



Выберите один из 4 вариантов ответа:

1)	1223 г.
2)	1242 г.
3)	1237 г.
4)	1211 г.

#### Задание №78

Рассмотрите схему и отметьте её участника



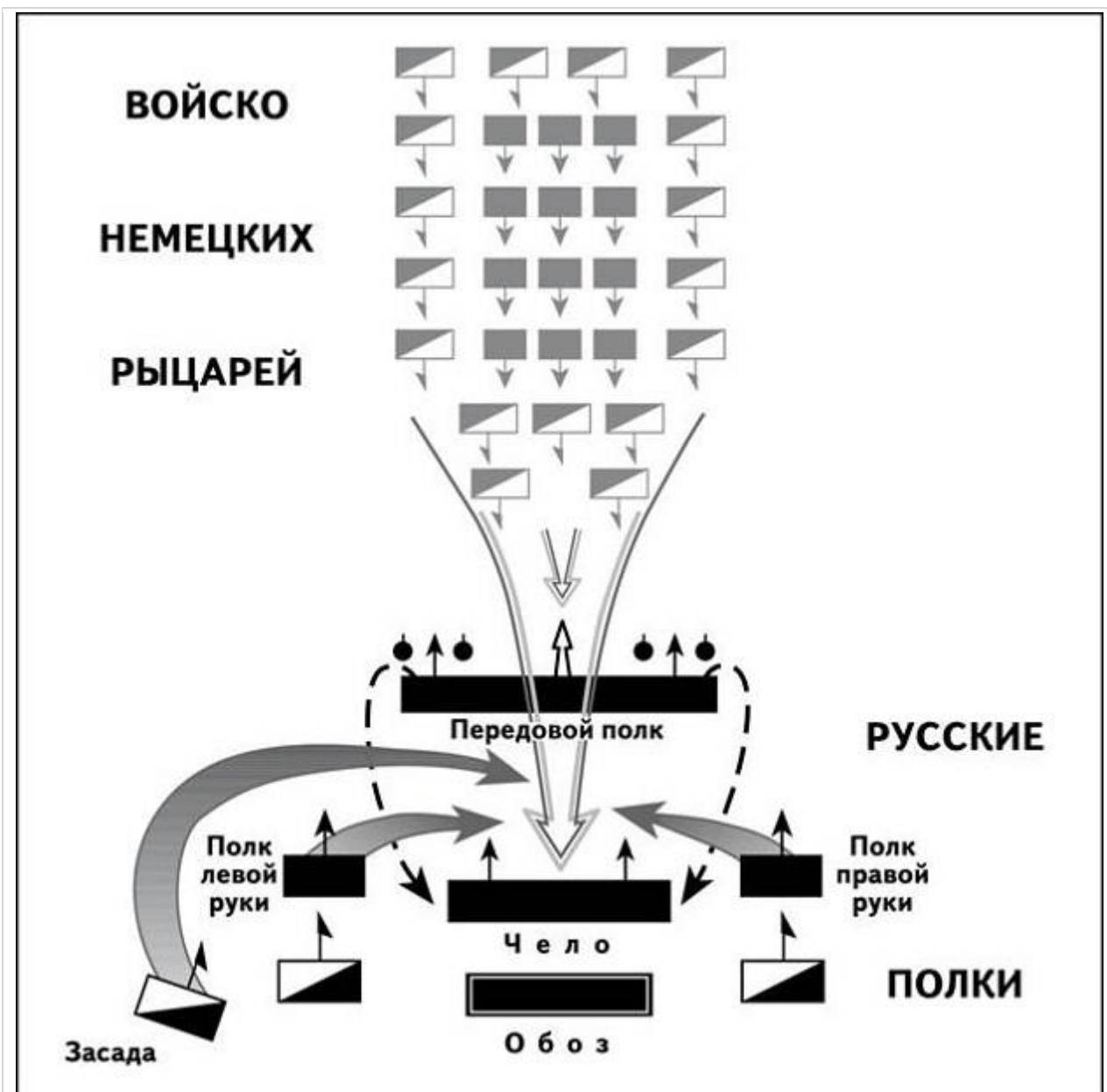
Выберите один из 4 вариантов ответа:

1)	Гедимин
2)	Даниил Романович Галицкий
3)	воевода Димитр
4)	Гаврило Олексич

#### Задание №79

Назовите битву, которая обозначена на схеме



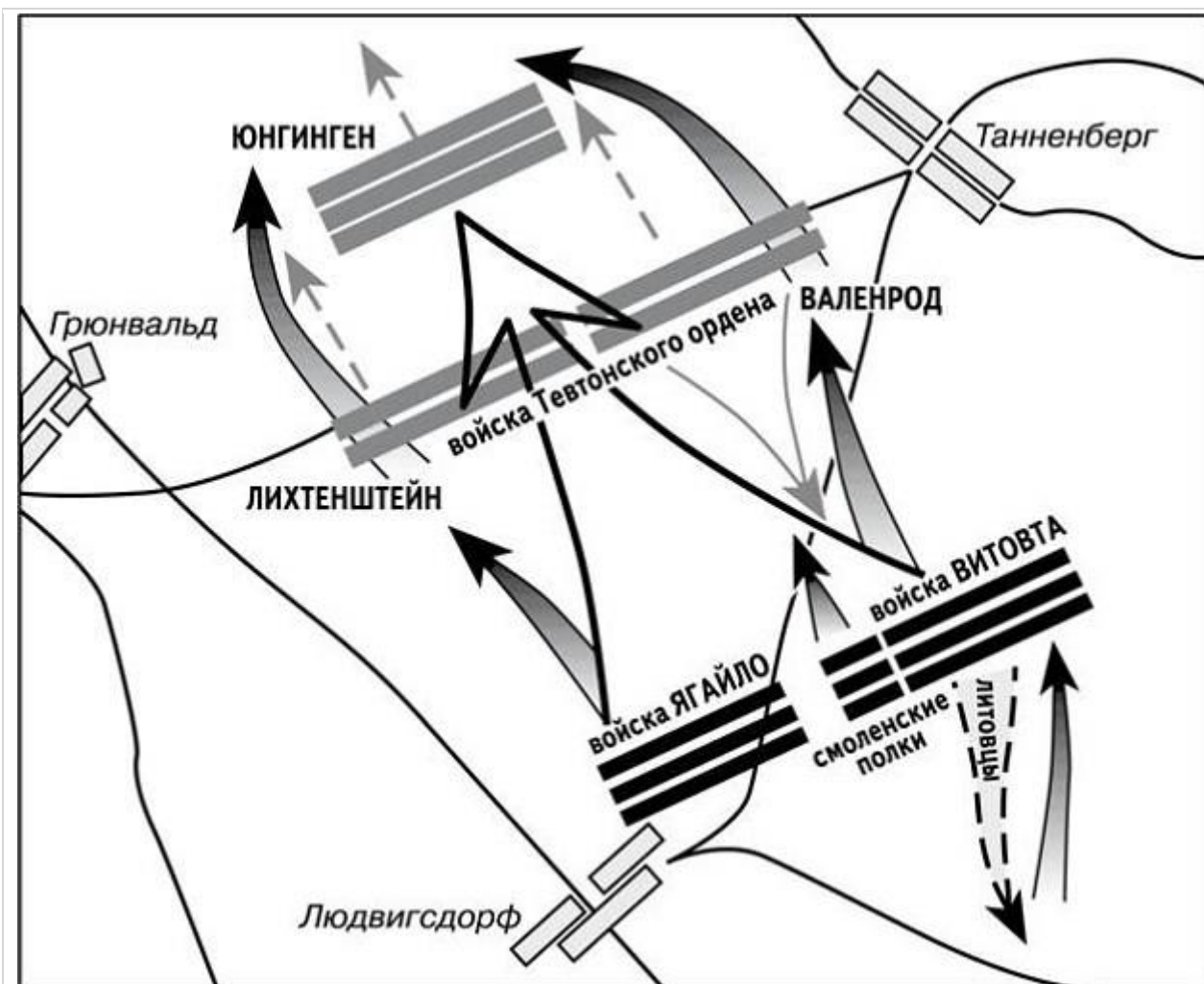


Выберите один из 4 вариантов ответа:

1)	Битва на р. Калке
2)	Битва на р. Неве
3)	Битва на Чудском озере
4)	Битва на р. Сити

#### Задание №80

Какая битва изображена на схеме



Выберите один из 4 вариантов ответа:

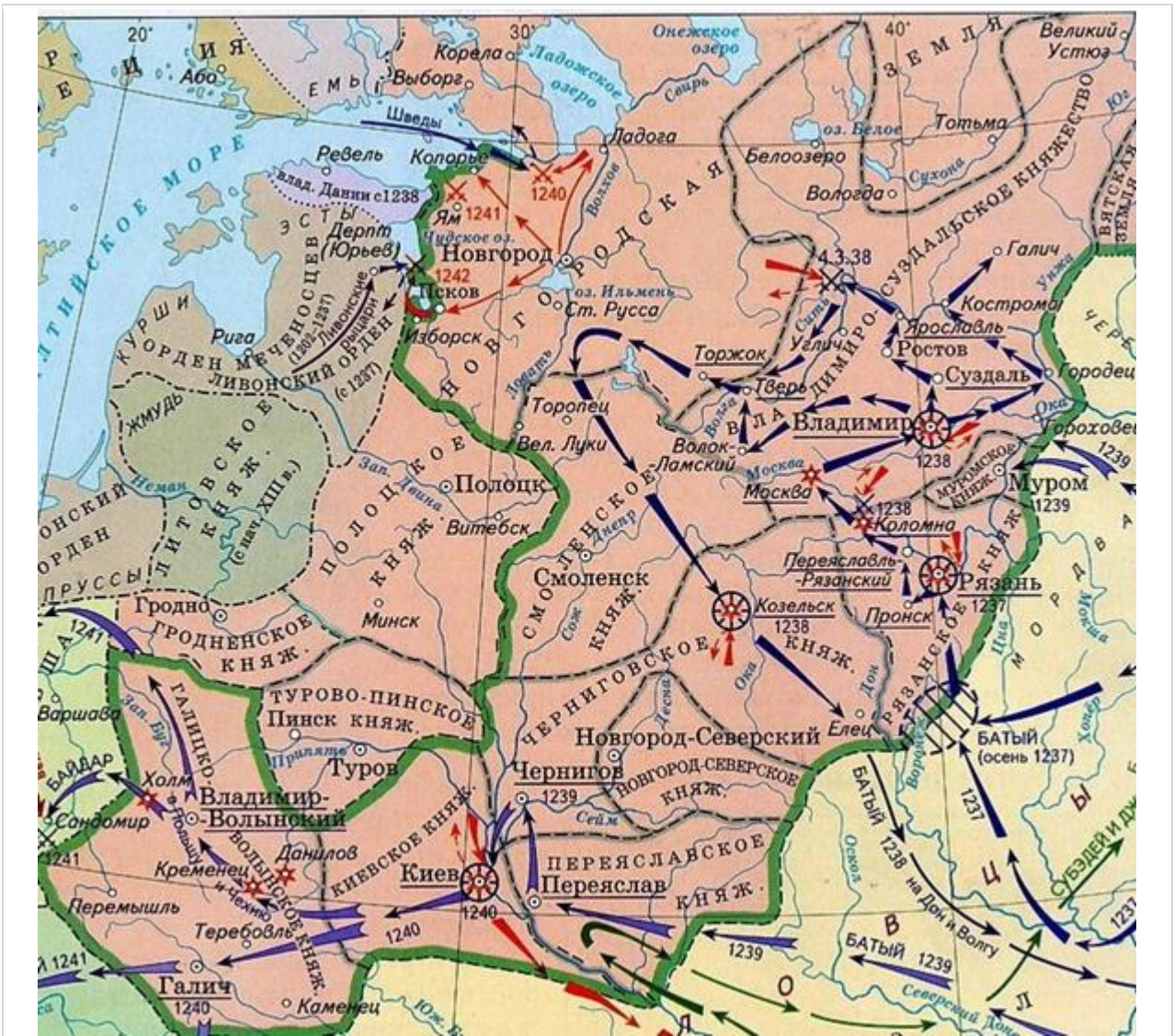
1)	Невская битва
2)	Ледовое побоище
3)	Битва на р. Калка
4)	Грюнвальдская битва

#### Задание №81

Рассмотрите схему и выполните задание.

Напишите имя полководца, осуществившего поход, обозначенный на схеме стрелками.

Ответ запишите со строчной буквы.



Запишите ответ:

1) Ответ:

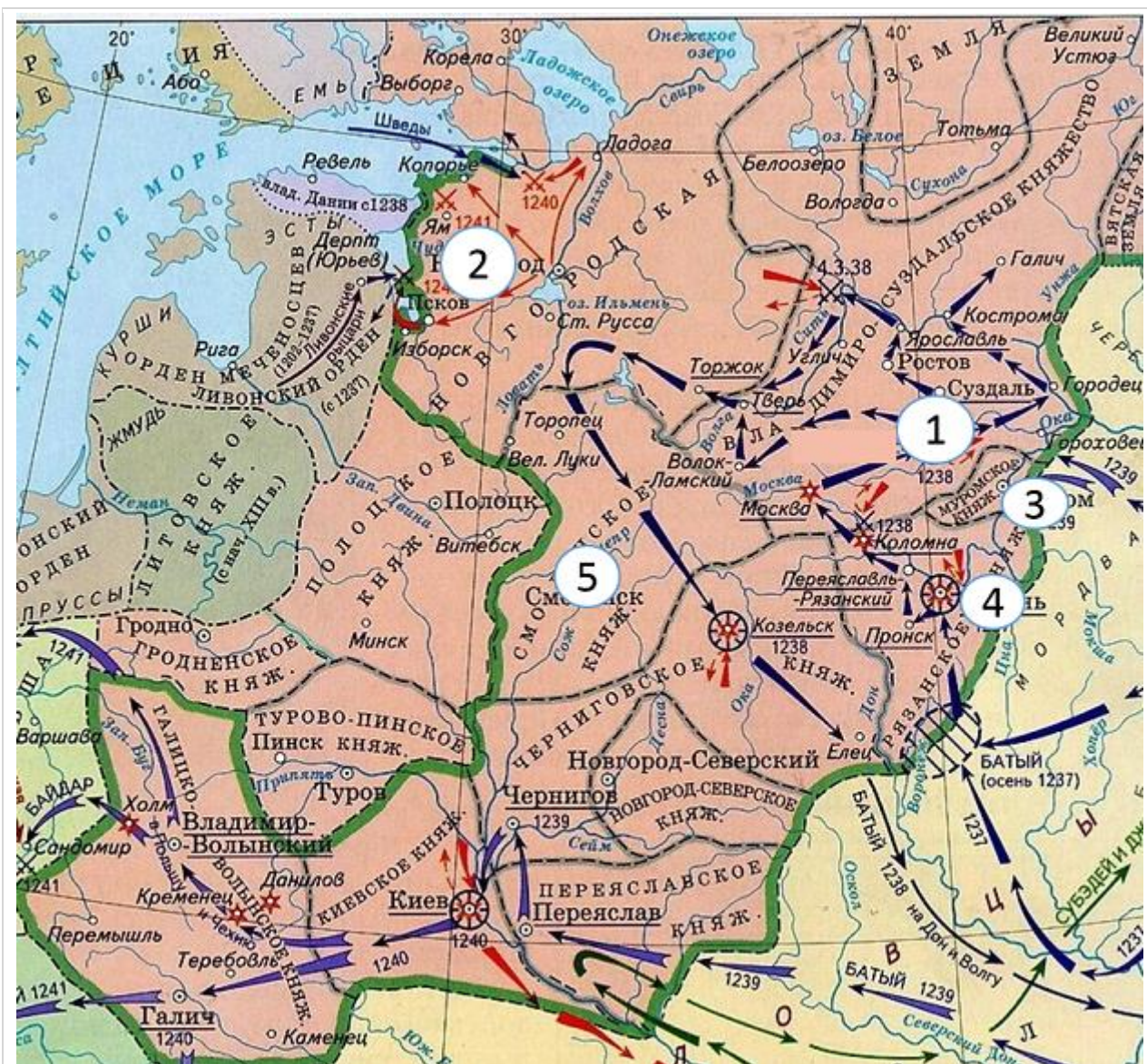
**Задание №82**

Рассмотрите схему и выполните задание.

Напишите название города, обозначенного на схеме цифрой «1».

Ответ запишите со строчной буквы.





Запишите ответ:

1)

Ответ:

### Задание №83

Какие суждения, относящиеся к событиям, обозначенным на схеме, являются верными? Выберите три суждения из шести предложенных.





Выберите несколько из 6 вариантов ответа:

1)	в битве, обозначенной на схеме цифрой 1, сражались морские флоты
2)	полководец, осуществивший обозначенные на карте походы, являлся приглашенным князем в Новгороде
3)	союзником иноземных захватчиков, разгромленных в ходе обозначенных на карте походов, являлся хан Батый
4)	полководец, осуществивший обозначенные на карте походы, являлся сыном великого князя владимирского
5)	благодаря успешности походов, обозначенных на карте, полководец стал единоличным правителем в Новгороде
6)	в результате походов, обозначенных на карте, было остановлено продвижение крестоносцев на восток

#### Задание №84

Какие суждения, относящиеся к событиям, обозначенным на схеме, являются верными? Выберите три суждения из шести предложенных.




Выберите несколько из 6 вариантов ответа:

1)	завоеватели вторгались в пределы русских земель летом
2)	города, захваченные завоевателями, не выдержали осады более недели
3)	походы, обозначенные на схеме, длились в общей сложности около 5 лет
4)	одним из последствий событий, обозначенных на схеме, было начало раздробленности Древнерусского государства
5)	полководец, чьи походы обозначены на схеме, основал государство
6)	в результате событий, обозначенных на схеме, русские земли попали в зависимость от Ливонского ордена



Рассмотрите иллюстрацию и выполните задание.

Укажите имя исторической личности, изображённой на рельефе.




Выберите один из 4 вариантов ответа:

1)		Батый
2)		Чингисхан
3)		Субудай- багатур
4)		Мамай



Рассмотрите иллюстрацию и выполните задание.

Укажите историческое событие, которое легло в основу представленной иллюстрации.



Выберите один из 4 вариантов ответа:

1)	поход князя Святослава Игоревича на хазар
2)	битва на реке Калке
3)	взятие Владимира войсками хана Батые
4)	Ледовое побоище

#### Задание №87

Рассмотрите иллюстрацию и выполните задание.

Укажите, кто изображён на картине С.В.Иванова.





Выберите один из 4 вариантов ответа:

1)	МОНГОЛЬСКИЕ ВОЕНАЧАЛЬНИКИ
2)	МОНГОЛЬСКИЕ КУПЦЫ
3)	баскаки
4)	половцы

**Задание №88**

Рассмотрите иллюстрацию выполните задание  
Какой момент в истории Англии изображён на иллюстрации



Выберите один из 4 вариантов ответа:

1)	созыв первого парламента
2)	подписание Великой хартии вольностей
3)	выборы короля
4)	составление "Книги Страшного суда"

**Задание №89**

Напишите имя и фамилию князя, изображенного на иллюстрации.

Ответ напишите со строчной буквы и без пробелов.



Запишите ответ:

1)

Ответ:

#### Задание №90

Рассмотрите иллюстрацию и выполните задание.  
Напишите название битвы, изображенной на иллюстрации.

*Ответ запишите со строчной буквы без пробелов, например  
грюнвальдскаябитва.*



Запишите ответ:

1)

Ответ:

Примерное задание письменной части:

*Прочитайте текст и ответьте на вопросы*

«Король шведский, стремясь завоевать Ладогу и Новгород, послал зятя своего, Биргера, на ладьях в Неву, к устью Ижоры, с великим числом шведов, норвежцев, финнов. Этот опытный и удачливый вождь велел надменно сказать князю новгородскому: "Сражайся со мною, если смеешь; я стою уже в земле твоей". Князь не изъявил ни страха, ни гордости послам шведским, но спешил собрать войско. У него не было времени ждать помощи от Ярослава, отца своего. Князь выступил в поле и 15 июля приблизился к берегам Невы, где стояли шведы.

Внезапность, быстрота удара привела их в замешательство. Князь и дружина оказали редкое мужество... Победа новгородцев была полной. Шведы бежали, тёмная ночь спасла остатки их войска. Они не хотели ждать утра и спешили удалиться. Множество шведов погибло. Урон с нашей стороны был едва заметен, и эта достопамятная битва, обрадовав тогда всё наше горестное отечество, дала князю новгородскому славное прозвание».

1. Как звали князя? Какое он получил прозвище после этой битвы?
2. В каком году произошла битва?
3. Какие были итоги битвы? Приведите примеры из текста (не менее 3-х)

5 баллов