

**Материалы**  
**для подготовки к тесту по истории 6 класс М-4 базовый уровень**  
**по теме «Русские земли и европейское средневековье в XIII-XIV вв».**

<b>Тема</b>	<b>Содержание</b>
От феодальной раздробленности к формированию национальных государств: сословно-представительная монархия.	Англия при нормандских королях, Плантагенетах. Рождение английского парламента. Процесс создания централизованного государства во Франции. Генеральные штаты во Франции. Формирование сословной монархии и укрепление королевской власти. Причины и итоги объединения Испании.
Монгольская экспансия: причины, ход, результаты.	Сердце Центральной Азии - Монголия. Образование, расцвет и распад империи Чингисхана. Образование Золотой Орды. Народы и религия Золотой Орды. Экономика. Ордынское владычество на Руси и повинности русского населения. Борьба Руси с монголами и последствия монгольского владычества для нее.
Русские земли в борьбе с натиском Запада и Востока.	Поход хана Батые на Северо- Восточную Русь, нашествие монголо-татар на Южную Русь. Походы шведов и крестоносцев на земли Прибалтики. Князь Александр Ярославович. Невская битва. Ледовое побоище. Историческое значение побед русских воинов над шведскими и немецкими рыцарями.
Литовское государство и Русь. Золотая Орда.	Особенности образования Литовского государства. Устройство Литовско-Русского государства. Формирование русской, украинской, белорусской народностей. Союз Литвы и Польши.

**Понятия:** Графство, шериф, хартия, сословно- представительная монархия, абсолютная монархия, парламент, Генеральные штаты, кортес, ярлык, выход, ополченцы, агрессия, владычество, уния, курултай, нойоны, хан, баскаки.

**Персоналии:** Генрих III, Симон де Монфор, Филипп IV Красивый, Карл VII, Фердинанд II, Изабелла I, Чингисхан, хан Батый, Александр Ярославович, Миндовг, Гедимин, Ольгерд, Витовт, Ягайло. **Даты:** 1086 г, 1215 г, 1265 г, 1302 г, 1479 г, 1492 г, 1223 г, 1237 г, 1237-1238 гг, 1240-1242 гг, 1240 г, 1242 г, 1385 г, 1410 г.

Для того, чтобы получить допуск к тесту учащийся должен выполнить следующие виды работ:

- оформить лекционную тетрадь;
- практическая работа;
- картографический практикум (контурная карта);
- понятийный диктант.

Выполнение каждого вида работ подтверждается отметкой учителя в зачётном листе и допуском к итоговому тесту.

## Банк заданий

### Задание №1

Нашествие Батые на Русь произошло в

Выберите один из 4 вариантов ответа:

1)		1147 году
2)		1237 году
3)		1382 году
4)		1410 году

### Задание №2

Невская битва произошла

Выберите один из 4 вариантов ответа:

1)		15 июля 1240 года
2)		5 апреля 1242 года
3)		11 августа 1378 года
4)		8 сентября 1380 года

### Задание №3

Ледовое побоище произошло

Выберите один из 4 вариантов ответа:

1)		1237 г
2)		1238 г
3)		1240 г
4)		1242 г

### Задание №4

Парламент в Англии впервые был созван в

Выберите один из 4 вариантов ответа:

1)		1215 году
2)		1265 году
3)		1296 году
4)		1302 году

### Задание №5

Во Франции Генеральные штаты впервые были созваны в

Выберите один из 4 вариантов ответа:

1)		1215 году
2)		1265 году
3)		1302 году
4)		1315 году

### Задание №6

С именем дружинника Гаврилы Олексича связано сражение

Выберите один из 4 вариантов ответа:

1)	на реке Неве
2)	на Чудском озере
3)	на реке Сити
4)	на реке Воже

#### Задание №7

С именем воеводы Дмитрия связана оборона

Выберите один из 4 вариантов ответа:

1)	Владимира
2)	Новгорода
3)	Козельска
4)	Киева

#### Задание №8

Владимирский князь Юрий Всеволодович встретил врага

Выберите один из 4 вариантов ответа:

1)	на реке Сити
2)	на реке Москве
3)	у Рязани
4)	у реки Непрядвы

#### Задание №9

Во главе Литовско-Русского государства в момент его основания находился князь

Выберите один из 4 вариантов ответа:

1)	Гедимин
2)	Миндовг
3)	Ольгерд
4)	Ягайло

#### Задание №10

"Королем Литвы и Руси" называли князя

Выберите один из 4 вариантов ответа:

1)	Гедимина
2)	Войшелка
3)	Миндовга
4)	Ягайло

#### Задание №11

Великим Литовское государство стало именоваться в правление князя

Выберите один из 4 вариантов ответа:

1)		Ольгерда
2)		Войшелка
3)		Гедими́на
4)		Витовта

#### Задание №12

Поход 1237 года на Русь возглавил хан

Выберите один из 4 вариантов ответа:

1)		Чингисхан
2)		Батый
3)		Едигей
4)		Темучин

#### Задание №13

Имя Александра Невского связано с победой

Выберите один из 4 вариантов ответа:

1)		на Чудском озере
2)		на Онежском озере
3)		на Ладожском озере
4)		на озере Ильмень

#### Задание №14

Оборону Рязани в декабре 1237 года возглавил

Выберите один из 4 вариантов ответа:

1)		Евпатий Коловрат
2)		Юрий Всеволодович
3)		Александр Ярославич
4)		Владимир Серпуховский

#### Задание №15

Битва между литовскими, польскими, русскими войсками и Тевтонским орденом в 1410 году состоялась

Выберите один из 4 вариантов ответа:

1)		на льду Чудского озера
2)		на поле Куликовом
3)		на реке Угре
4)		при Грюнвальде

#### Задание №16

Первое сражение русских войск с монголами произошло на реке

Выберите один из 4 вариантов ответа:

1)		Каме
----	--	------

2)		Калке
3)		Непрядве
4)		Волге

#### Задание №17

Сараем называли

Выберите один из 4 вариантов ответа:

1)		город- столицу Золотой Орды
2)		место сбора дани
3)		хозяйственную постройку в княжеском дворе
4)		совет при золотоордынском хане

#### Задание №18

" Я уже здесь и пленяю землю твою" - такой вызов послал новгородскому князю командир шведского отряда, высадившегося

Выберите один из 4 вариантов ответа:

1)		на берегу Ладожского озера
2)		в устье Невы
3)		на реке Калке
4)		на реке Сити

#### Задание №19

Хан Батый принял решение " повернуть морды коней на юг", не дойдя до города

Выберите один из 4 вариантов ответа:

1)		Рязани
2)		Новгорода
3)		Киева
4)		Козельска

#### Задание №20

" Злым городом" хан Батый назвал

Выберите один из 4 вариантов ответа:

1)		Киев
2)		Новгород
3)		Козельск
4)		Волынь

#### Задание №21

Единственным не захваченным монголами городом Руси в период с 1237 по 1242 год был

Выберите один из 4 вариантов ответа:

1)		Владимир
----	--	----------

2)		Киев
3)		Великий Новгород
4)		Торжок

#### Задание №22

Название столицы Золотой Орды в переводе означает

Выберите один из 4 вариантов ответа:

1)		большой город
2)		крепость
3)		дворец
4)		торговая площадь

#### Задание №23

Русские земли с середины XIII века были

Выберите один из 4 вариантов ответа:

1)		в составе Золотой Орды
2)		улусом Золотой Орды
3)		вассалами Золотой Орды
4)		отдельным ханством Золотой Орды

#### Задание №24

Союзником русских в битве на реке Калке были

Выберите один из 4 вариантов ответа:

1)		печенеги
2)		половцы
3)		византийцы
4)		варяги

#### Задание №25

Первым русским княжеством, разорённым Батыевым войском, было княжество

Выберите один из 4 вариантов ответа:

1)		Новгородское
2)		Рязанское
3)		Киевское
4)		Владимирское

#### Задание №26

Во время завоеваний Батыев русские княжества

Выберите один из 4 вариантов ответа:

1)		объединялись для организации совместной помощи друг другу
2)		просили помощи у папы римского
3)		мало поддерживали друг друга из-за раздробленности

4)		не оказывали сопротивления войскам Батыя
----	--	--

#### Задание №27

Представитель Золотой Орды, следящий за сбором дани и выполнением ханских повелений назывался

Выберите один из 4 вариантов ответа:

1)		наместник
2)		посадник
3)		баскак
4)		темник

#### Задание №28

Ярлыком в XIII веке называли

Выберите один из 4 вариантов ответа:

1)		часть монгольского войска
2)		боевой порядок немецких рыцарей
3)		ханскую грамоту на право княжения
4)		поборы с покоренных народов

#### Задание №29

" Свиньей"- называли

Выберите один из 4 вариантов ответа:

1)		ордынский выход
2)		городские укрепления
3)		построение монгольской конницы
4)		боевой порядок построения немецких рыцарей

#### Задание №30

Съезд монгольской знати

Выберите один из 4 вариантов ответа:

1)		сейм
2)		диван
3)		вече
4)		курултай

#### Задание №31

Во Франции парламент назывался

Выберите один из 4 вариантов ответа:

1)		Генеральные штаты
2)		Рейхстаг
3)		Риксдаг
4)		Кортес

**Задание №32**

Кортесом в Испании называли

Выберите один из 4 вариантов ответа:

1)	правителя государства
2)	орган представительства сословий
3)	личную гвардию Испанского короля
4)	отвоевание христианами народами того, что принадлежало мусульманам

**Задание №33**

с французского этот термин обозначает говорить

Выберите один из 4 вариантов ответа:

1)	сейм
2)	кортесс
3)	дума
4)	парламент

**Задание №34**

В результате похода Батые на Русь

Выберите один из 4 вариантов ответа:

1)	русские земли вновь объединились под властью киевских князей
2)	границы монгольской державы достигли берегов Адриатического моря
3)	русские земли были разорены
4)	на Руси начался период феодальной раздробленности

**Задание №35**

Причина победы монгольского войска на реке Калке

Выберите один из 4 вариантов ответа:

1)	несогласованность действий русских и половецких войск
2)	наличие у монголов огнестрельного оружия
3)	снижение уровня воды в реке из-за засушливого лета
4)	отказ русских князей прийти на помощь половцам

**Задание №36**

Одним из последствий монгольского нашествия на Русь было

Выберите один из 4 вариантов ответа:

1)	начало распространения христианства
2)	установление зависимости русских земель от ордынских ханов
3)	начало распада русских земель на отдельные княжества
4)	экономический подъем Руси



**Задание №37**

Причиной крестовых походов на Русь в XII-XIII веках было

Выберите один из 4 вариантов ответа:

1)	освобождение Новгородской и Псковской земель от монголов
2)	завоевание новых земель и распространение католицизма
3)	знакомство жителей Руси с передовыми методами ведения хозяйства
4)	восстановление торгового пути "из варяг в греки"

**Задание №38**

Результатом битв на Неве и Чудском озере было

Выберите один из 4 вариантов ответа:

1)	захват Русью всего побережья Балтийского моря
2)	положено начало объединению русских земель
3)	остановлено наступление монголов
4)	предотвращено распространение католицизма в русских землях

**Задание №39**

К результатам побед Александра Невского на Неве и Чудском озере относится

Выберите один из 4 вариантов ответа:

1)	разгром войск хана Батыея
2)	укрепление обороноспособности северо- западных границ
3)	начало распада Руси на самостоятельные земли
4)	разгром Ливонского ордена

**Задание №40**

В результате заключения унии между Литвой и Польшей

Выберите один из 4 вариантов ответа:

1)	ухудшилось положение православного населения
2)	возрос приток переселенцев из Северо -Восточной Руси в Литву
3)	ослабла обороноспособность Литвы и Польши
4)	ухудшились отношения между Литвой и Польшей

**Задание №41**

В 1240 году князь Александр Невский был изгнан из Новгорода потому что

Выберите один из 4 вариантов ответа:

1)	новгородцы были недовольны покровительством, которое он оказывал ростовщикам
2)	новгородцы выполнили требование хана Батыея
3)	князь не смог противостоять нашествию немецких рыцарей на Новгородскую землю

4)		новгородские бояре опасались усиления княжеской власти
----	--	--

#### Задание №42

Что способствовало победе новгородского войска в Ледовом побоище

Выберите один из 4 вариантов ответа:

1)		умелое использование русскими способа засады
2)		преимущество в профессионализме русского войска
3)		более совершенное вооружение русских воинов
4)		отсутствие у противника конницы

#### Задание №43

Отметьте отрицательное последствие монгольских завоеваний.

Выберите один из 4 вариантов ответа:

1)		распространение изучения иностранных языков
2)		создание регулярной почтовой службы
3)		хозяйственное разорение регионов
4)		проникновение элементов европейского быта в жизнь монгольской знати

#### Задание №44

Одна из причин успеха завоевательного похода Батые на Русь

Выберите один из 4 вариантов ответа:

1)		раздробленность Русских земель
2)		нежелание горожан защищать свои города
3)		организация совместного войска Батые и европейских правителей
4)		помощь Батые со стороны папы римского

#### Задание №45

Прочтите отрывок из источника и укажите век, когда произошли описанные события.

«И пришли немцы к Чудскому озеру, и встретил их Александр и изготовился к бою, и пошли они друг против друга, и покрылось озеро Чудское множеством тех и других воинов. Отец Александра, Ярослав, прислал ему на помощь младшего брата Андрея с большою дружиною. Да и у князя Александра было много храбрых воинов. Так и мужи Александра исполнились духа ратного, ведь были сердца их, как сердца львов, и воскликнули: «О княже наш славный! Ныне пришло нам время положить головы свои за тебя». Была же тогда суббота, и, когда взошло солнце, сошлись противники. И была сеча жестокая, и стоял треск от ломающихся копий и звон от ударов мечей, и казалось, что двинулось замёрзшее озеро, и не было видно льда, ибо покрылось оно кровью».

Выберите один из 4 вариантов ответа:

1)		XII век
2)		XIII век

3)	XIV век
4)	XV век

#### Задание №46

Прочтите отрывок из сочинения историка и укажите князя, о котором идёт речь. «Этот князь дал сражение меченосцам на льду Чудского озера, убил у них четыреста рыцарей, взял в плен пятьдесят и истребил много чуди. Эта битва названа Ледовым побоищем. Он торжественно вошёл в Новгород, ведя за собой скованных пленников. Гроссмейстер боялся, что князь подступит к самой Риге, и обратился за помощью к Дании. Новгородский князь, довольный избавлением Пскова, заключил мир, по которому немцы отказались от некоторых владений».

Выберите один из 4 вариантов ответа:

1)	Юрий Долгорукий
2)	Александр Невский
3)	Иван Калита
4)	Дмитрий Донской

#### Задание №47

Установите соответствие между определениями и терминами.

Укажите соответствие для всех 3 вариантов ответа:

1)	вассальная зависимость Руси от хана Золотой орды	1)	выход
2)	сбор князем дани	2)	полюдьё
3)	ежегодный платеж Орде	3)	иго

#### Задание №48

Установите соответствие между историческими терминами и их определениями.

Укажите соответствие для всех 3 вариантов ответа:

1)	съезд ордынской знати	1)	баскак
2)	земля, подвластная хану Золотой Орды	2)	курултай
3)	ордынский сборщик дани в русских княжествах	3)	улус

#### Задание №49

Установите соответствие между сражением и фактом, относящимся к нему

Укажите соответствие для всех 3 вариантов ответа:

1)	ранение военачальника Биргера	1)	сражение на Чудском озере
2)	участие в сражении тяжёлой рыцарской конницы	2)	сражение на реке Неве

3)	отсутствие единого командования в русском войске	3)	сражение на реке Калке
----	--	----	------------------------

#### Задание №50

Установите соответствие между местами сражений и фактами, относящимся к ним

Укажите соответствие для всех 3 вариантов ответа:

1)	бегство половцев с места сражения	1)	сражение на Чудском озере
2)	построение войск противника клином (свиньёй)	2)	сражение на реке Неве
3)	внезапное нападение на суда противника	3)	сражение на реке Калке

#### Задание №51

Назовите два термина, связанные с зависимостью русских земель от монголо-татар

Выберите несколько из 4 вариантов ответа:

1)	дань
2)	посадник
3)	ярлык
4)	полюдьё

#### Задание №52

Назовите два события, относящихся к вторжению монголо-татар на Русь

Выберите несколько из 4 вариантов ответа:

1)	нападение на Рязань
2)	захват Пскова
3)	Оборона Киева под руководством Димитра
4)	Невская битва

#### Задание №53

Какие три из перечисленных событий связаны с нашествием шведских и немецких рыцарей на Русь

Выберите несколько из 5 вариантов ответа:

1)	основание города Риги
2)	победа Ярослава Всеволодовича под Юрьевом
3)	освобождение Александром Невским города Изборска
4)	битва на Чудском озере
5)	основание города Звенигород

#### Задание №54

Какие три из перечисленных событий относятся к вторжению монголов на Русь

Выберите несколько из 5 вариантов ответа:

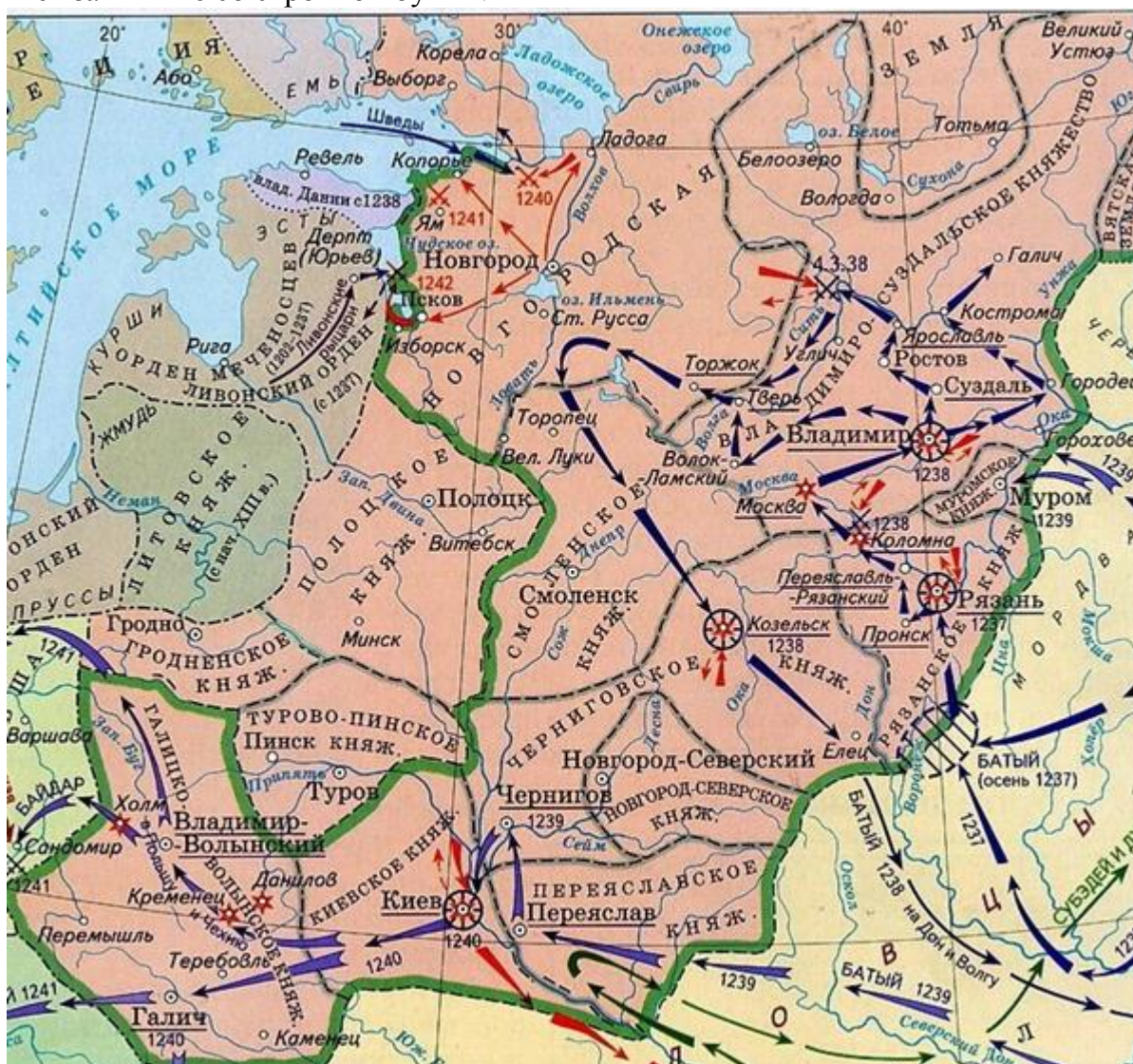
1)	вторжение в Рязанскую землю
2)	захват Пскова
3)	защита Киева под руководством воеводы Димитра
4)	сражение на реке Неве
5)	мужественное сопротивление Козельска

### Задание №55

Рассмотрите схему и выполните задание.

Напишите имя полководца, осуществившего поход, обозначенный на схеме стрелками.

Ответ запишите со строчной буквы.



Запишите ответ:

1)	Ответ:
----	--------

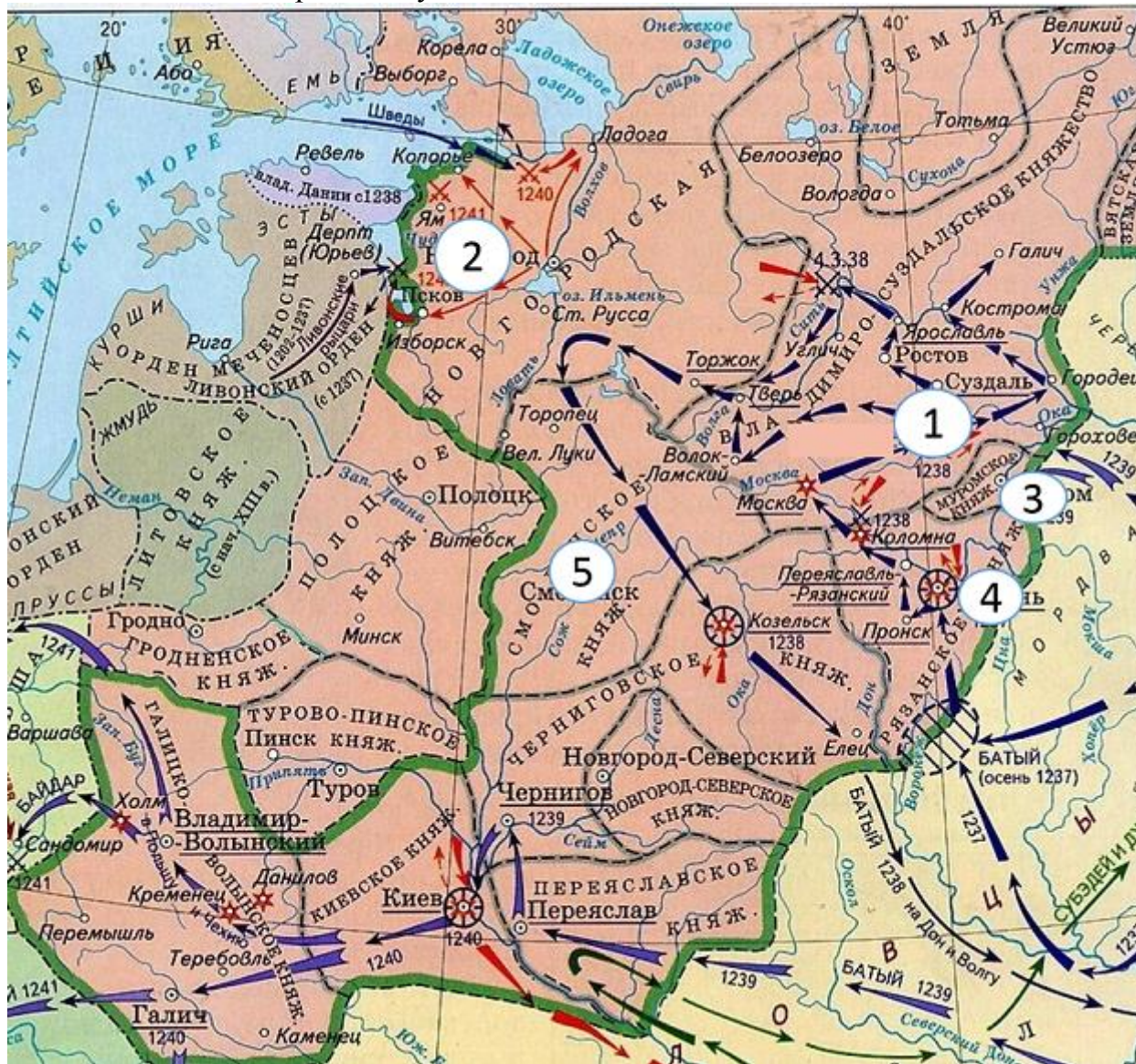
### Задание №56



Рассмотрите схему и выполните задание.

Напишите название города, обозначенного на схеме цифрой «1».

Ответ запишите со строчной буквы.



Запишите ответ:

1)

Ответ:

### Задание №57

Напишите имя и фамилию князя, изображенного на иллюстрации.

Ответ напишите со строчной буквы и без пробелов.



Запишите ответ:

1)

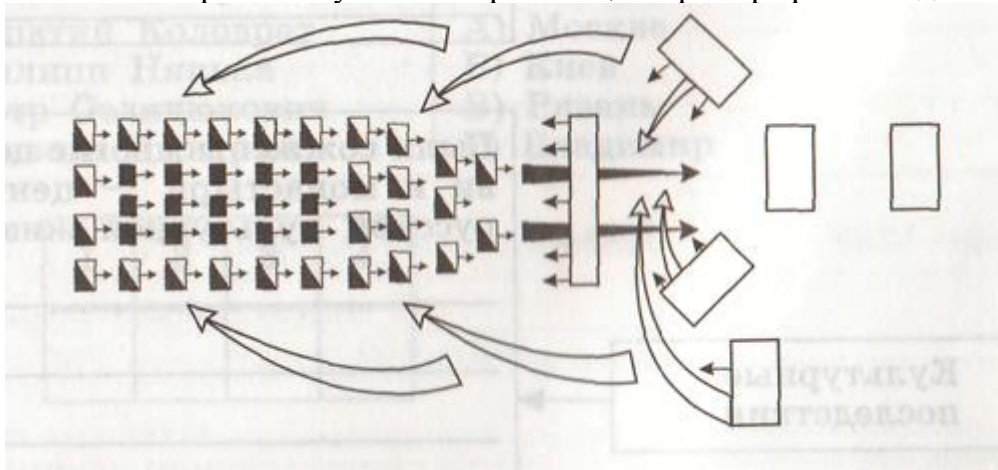
Ответ:

#### Задание №58

Рассмотрите схему и выполните задание.

Напишите название битвы, изображенной на схеме.

Ответ запишите со строчной буквы без пробелов, например грюнвальдскаябитва.



Запишите ответ:

1)

Ответ:

#### Задание №59

Определите под каким номером изображена иллюстрация связана с монгольским нашествием на Русь



1)



2)



3)



4)



Выберите один из 4 вариантов ответа:

1)		1
2)		2
3)		3
4)		4

#### Задание №60

Определите под каким номером изображена иллюстрация, которая связана с нашествием Батыя на Русь





Выберите один из 4 вариантов ответа:

1)	1
2)	2
3)	3
4)	4

#### Задание №61

Определите под каким номером изображена иллюстрация, связанная с борьбой Руси с крестоносцами

1)



2)



3)



4)



РЕШТЕГЭ.РФ

Выберите один из 4 вариантов ответа:

1)		1
2)		2
3)		3
4)		4

### Задание №62

Определите под каким номером изображена иллюстрация, связанная с ордынским владычеством на руси



1)



2)



3)



4)

Выберите один из 4 вариантов ответа:

1)		1
2)		2
3)		3
4)		4

Примерное задание письменной части:

*Прочитайте текст и ответьте на вопросы*

«Король шведский, стремясь завоевать Ладогу и Новгород, послал зятя своего, Биргера, на ладьях в Неву, к устью Ижоры, с великим числом шведов, норвежцев, финнов. Этот опытный и удачливый вождь велел надменно сказать князю новгородскому: "Сражайся со мною, если смеешь; я стою уже в земле твоей". Князь не изъявил ни страха, ни гордости послам шведским, но спешил собрать войско. У него не было времени ждать помощи от Ярослава, отца своего. Князь выступил в поле и 15 июля приблизился к берегам Невы, где стояли шведы.

Внезапность, быстрота удара привела их в замешательство. Князь и дружина оказали редкое мужество... Победа новгородцев была полной. Шведы бежали, тёмная ночь спасла остатки их войска. Они не хотели ждать утра и спешили удалиться. Множество шведов погибло. Урон с нашей стороны был едва заметен, и эта достопамятная битва, обрадовав тогда всё наше горестное отечество, дала князю новгородскому славное прозвание».

1. Как звали князя? Какое он получил прозвище после этой битвы?
2. В каком году произошла битва?

3 балла