

Материалы
для подготовки к тестированию по истории 6 класс М-З(профильный уровень)
по теме «Русь в середине XII- начале XIII в.в. Повседневная жизнь населения в
Европе и на Руси».

Тема	Содержание
Русь Удельная середина XII — начало XIII в.	Формирование самостоятельных государств на Руси, идея единства Руси, роль церкви в условиях раздробленности, государственное управление и международные связи русских земель в период феодальной раздробленности, освоение земель северо- восточной Руси, характер княжеской власти в северо-восточных землях, территория Новгородской земли, основные категории населения новгородцев, политические особенности Новгородской земли.
Средневековое общество в Европе и на Руси.	Природа. Население и деятельность человека в эпоху средневековья, трудовая деятельность крестьян, ремесленников, возникновение и развитие средневековых городов, цеховая организация ремесленников, развитие торговли и банков, время проведения досуга средневекового человека в Европе, формирование древнерусской народности, основные слои населения и земельные отношения в Древней Руси.
Православие и католичество в средневековом мире.	Православная церковная организация на Руси, роль монастырей в жизни Руси, древнерусские подвижники и святые, соперничество пап и императоров, монашеские ордены, возникновение инквизиции и новые ереси, эпоха крестовых походов.
Русь и Европа с середины XII - начало XIII века.	Время политической раздробленности в Европе, последствия раздробленности на Руси, формирование региональных центров культурного развития Руси во время раздробленности, особенности развития культуры во Владимиро-Суздальской и Новгородской землях.

Понятия: Артель, духовенство, люди, монастырь, посадник, тысяцкий, владыка, коммуна, городской совет, ратуша, гильдия, Ганза, ярмарка, ростовщик, ересь, инквизиция, аутодафе, крестonosцы.

Персоналии: Князь Новгород- Северский Игорь, Юрий Долгорукий, Андрей Боголюбский, Всеволод Большое Гнездо, Франциск Ассизский, Доминик де Гусман, Пьер Вальф, папа Римский Иннокентий III.

Даты: 1132 г, 1125-1157 гг, 1157- 1174 гг, 1176-1212 гг, 1185 г, 1096-1099 гг, 1147-1149 гг, 1189-1192 гг, 1202-1204 гг.

Для того, чтобы получить допуск к тесту учащийся должен выполнить следующие виды работ:

- оформить лекционную тетрадь;
- практическая работа;
- картографический практикум (контурная карта);
- понятийный диктант.

Выполнение каждого вида работ подтверждается отметкой учителя в зачётном листе и допуском к итоговому тесту.

Банк заданий

Задание №1

Назовите дату, считающуюся условным временем начала раздробленности

Выберите один из 4 вариантов ответа:

1)		1113 г
2)		1125 г
3)		1132 г
4)		1185 г

Задание №2

Отметьте даты правления Андрея Боголюбского

Выберите один из 4 вариантов ответа:

1)		1113-1125 гг
2)		1125- 1157 гг
3)		1157-1174 гг
4)		1176-1212 гг

Задание №3

Князь Андрей Боголюбский совершил поход на Киев в

Выберите один из 4 вариантов ответа:

1)		1157 году
2)		1169 году
3)		1172 году
4)		1174 году

Задание №4

Юрий Долгорукий приказал заложить крепость, на территории современной Москвы в

Выберите один из 4 вариантов ответа:

1)		1147 году
2)		1155 году
3)		1156 году
4)		1158 году

Задание №5

Распад Руси на самостоятельные государства-земли относится к

Выберите один из 4 вариантов ответа:

1)		середине X века
2)		концу X века
3)		началу XI века
4)		середине XII века

Задание №6

Назову дату неудачного похода Игоря Святославича против половцев

Выберите один из 4 вариантов ответа:

1)	1155
2)	1147
3)	1185
4)	1132

Задание №7

Укажите дату захвата крестоносцами Иерусалима

Выберите один из 4 вариантов ответа:

1)	1099 г.
2)	1096 г.
3)	1202 г.
4)	1204 г.

Задание №8

Назовите года правления Юрия Долгорукова

Выберите один из 4 вариантов ответа:

1)	1157-1172 гг.
2)	1125-1157 гг.
3)	1174-1202 гг.
4)	1125-1132 гг.

Задание №9

Первое упоминание о Москве датируется

Выберите один из 4 вариантов ответа:

1)	1155 г
2)	1156 г
3)	1147 г
4)	1132 г

Задание №10

Когда произошло объединение Галицкого и Волынского княжеств

Выберите один из 4 вариантов ответа:

1)	в конце XII
2)	в начале XIII
3)	в середине XII
4)	в начале XII

Задание №11

Отметьте даты правления Всеволода Большое Гнездо

Выберите один из 4 вариантов ответа:

1)	1154-1172 гг.
2)	1176-1212 гг.
3)	1125-1132 гг.
4)	1125-1154 гг.

Задание №12

Укажите дату захвата крестоносцами Константинополя

Выберите один из 4 вариантов ответа:

1)	1202 г.
2)	1204 г.
3)	1185 г.
4)	1169 г.

Задание №13

Единое Владимиро- Суздальское княжество распалось на несколько после смерти

Выберите один из 4 вариантов ответа:

1)	Юрия Долгорукого
2)	Андрея Боголюбского
3)	Владимира Мономаха
4)	Всеволода Большое Гнездо

Задание №14

Основание Москвы принадлежит

Выберите один из 4 вариантов ответа:

1)	Владимиру Мономаху
2)	Юрию Долгорукому
3)	Андрею Боголюбскому
4)	Всеволоду Большое Гнездо

Задание №15

Период раздробленности начался с прекращением правления

Выберите один из 4 вариантов ответа:

1)	Владимира Мономаха
2)	Мстислава Великого
3)	Ярослава Мудрого
4)	Владимира Святославовича

Задание №16

Автор "Слова о полку Игореве" говорил "Ведь ты можешь Волгу разбрызгать веслами", Дон шлемами вычерпать" о

Выберите один из 4 вариантов ответа:

1)		Владимире Святославовиче
2)		Всеволоде Большое Гнездо
3)		Ярославе Мудром
4)		Андрее Боголюбском

Задание №17

Город Звенигород, Дмитров основал князь

Выберите один из 4 вариантов ответа:

1)		Мстислав Великий
2)		Юрий Долгорукий
3)		Андрей Боголюбский
4)		Всеволод Большое Гнездо

Задание №18

Первое летописное упоминание о Москве связано с именем

Выберите один из 4 вариантов ответа:

1)		Андрей Боголюбского
2)		Владимира Мономаха
3)		Юрия Долгорукого
4)		Романа Мстиславовича

Задание №19

Великим князем владимирским называли

Выберите один из 4 вариантов ответа:

1)		Мстислава Великого
2)		Юрия Долгорукого
3)		Андрея Боголюбского
4)		Всеволода Большое Гнездо

Задание №20

Галицкое княжество достигло своего расцвета при

Выберите один из 4 вариантов ответа:

1)		Данииле Романовиче
2)		Романе Мстиславиче
3)		Ярославе Осмомысле
4)		Юрии Долгоруком

Задание №21

Основателем княжества и первым галицко-волынским князем был

Выберите один из 4 вариантов ответа:

1)	Роман Мстиславич
2)	Даниил Галицкий
3)	Ярослав Осмомысл
4)	Андрей Боголюбский

Задание №22

Назовите князя, который почти 40 лет боролся с боярами за власть

Выберите один из 4 вариантов ответа:

1)	Андрей Боголюбский
2)	Юрий Долгорукий
3)	Роман Мстиславич
4)	Даниил Галицкий

Задание №23

Для защиты своих интересов купцы создавали товарищества, которые назывались

Выберите один из 4 вариантов ответа:

1)	гильдии
2)	цехи
3)	ярмарки
4)	сообщества

Задание №24

Ратуша в средневековом городе - это

Выберите один из 4 вариантов ответа:

1)	главная площадь
2)	главная церковь
3)	здание городского совета в городе
4)	сеть городских фонтанов

Задание №25

Объединение крестьян одной или нескольких деревень для взаимной поддержки и решения различных вопросов

Выберите один из 4 вариантов ответа:

1)	община
2)	круг
3)	трехполье
4)	сообщество

Задание №26

Официальный титул главы церкви в Древней Руси периода раздробленности

Выберите один из 4 вариантов ответа:		
1)		глава Русской Православной церкви
2)		митрополит Русской Православной церкви
3)		митрополит Киевский и Всея Руси
4)		патриарх Киевский и всея Руси

Задание №27		
Ганза-это		
Выберите один из 4 вариантов ответа:		
1)		торговый союз купцов немецких городов
2)		название местности в Германии
3)		название феодального замка
4)		это денежное пожертвование на строительство церкви Иоанна Предтечи в Новгороде

Задание №28		
Во главе католической церкви стоял		
Выберите один из 4 вариантов ответа:		
1)		патриарх
2)		митрополит
3)		папа римский
4)		владыка

Задание №29		
Городская община в Европе- это		
Выберите один из 4 вариантов ответа:		
1)		коммуна
2)		инвеститура
3)		инквизиция
4)		ересь

Задание №30		
Ежегодные торги, на которых собирались как свои, так и заграничные купцы		
Выберите один из 4 вариантов ответа:		
1)		ярмарки
2)		рынки
3)		выставки товаров
4)		мистерии

Задание №31		
Высшее должностное лицо в Новгороде		
Выберите один из 4 вариантов ответа:		

1)		тысяцкий
2)		посадник
3)		архиепископ
4)		воевода

Задание №32

Верховная власть в Новгороде принадлежала

Выберите один из 4 вариантов ответа:

1)		посаднику
2)		владыке
3)		князю
4)		вече

Задание №33

Как называлось добровольное объединение людей для совместной работы или коллективной деятельности, распространенное в Новгороде

Ответ напишите со строчной буквы в И.П.

Запишите ответ:

1)	Ответ:	
----	--------	--

Задание №34

В Древней Руси область, которая входила во владение младших членов княжеского рода,- это

Ответ напишите со строчной буквы в И.П.

Запишите ответ:

1)	Ответ:	
----	--------	--

Задание №35

Тип хозяйства, направленный на удовлетворение собственных нужд и не ориентированный на торговлю, называется

В ответе напишите имя прилагательное со строчной буквы в ед ч. в И.П.

Запишите ответ:

1)	Ответ:	
----	--------	--

Задание №36

Новгородское купеческое объединение при храме Святого Иоанна Предтечи называлось

Ответ напишите со строчной буквы без пробелов и запятых.

Запишите ответ:		
1)	Ответ:	

Задание №37

Организация ремесленников одной специальности- это

Ответ напишите со строчной буквы в И.П. ед.ч.

Запишите ответ:		
1)	Ответ:	

Задание №38

Объединение служителей церкви, посвятивших себя служению богу

Ответ напишите со строчной буквы в И.П. ед.ч.

Запишите ответ:		
1)	Ответ:	

Задание №39

Больше всего от половецких набегов страдали земли княжества

Выберите один из 4 вариантов ответа:

1)		Новгородского
2)		Рязанского
3)		Киевского
4)		Владими́ро-Суздальского

Задание №40

Сначала центром Северо-Восточной Руси был город

Выберите один из 4 вариантов ответа:

1)		Киев
2)		Владимир
3)		Ростов
4)		Ярославль

Задание №41

Выберите из списка категорию населения в Новгороде, пользующуюся наибольшим влиянием

Выберите один из 4 вариантов ответа:

1)		княжеская дружина
2)		бояре
3)		крестьяне
4)		ремесленники

Задание №42

Основным в период раздробленности для бояр был такой доход, как

Выберите один из 4 вариантов ответа:

1)		военная добыча
2)		дань, собираемая с подвластных земель
3)		эксплуатация населения подвластных вотчин
4)		торговля с европейскими странами

Задание №43

Следующим титулом по степени важности среди священнослужителей после папы римского являлся

Выберите один из 4 вариантов ответа:

1)		Епископ
2)		Аббат
3)		Кардинал
4)		Дьяк

Задание №44

Основным занятием новгородцев было

Выберите один из 4 вариантов ответа:

1)		земледелие
2)		скотоводство
3)		торговля
4)		бортничество

Задание №45

Верховная власть в Новгороде принадлежала

Выберите один из 4 вариантов ответа:

1)		Князю
2)		Посаднику
3)		Вече
4)		Тысяцкому

Задание №46

Форму правления в Новгородской земле можно назвать

Выберите один из 4 вариантов ответа:

1)		абсолютной монархией с сильной властью князя
2)		боярской республикой
3)		выборной монархией
4)		конституционной монархией

Задание №47

Политической особенностью Северо-Востока Руси в период раздробленности была

сильная власть		
Выберите один из 4 вариантов ответа:		
1)		князя
2)		вече
3)		дружины
4)		крестьянской общины

Задание №48		
Основу населения города составляли		
Выберите один из 4 вариантов ответа:		
1)		крестьяне и духовенство
2)		рыцари и купцы
3)		ремесленники и купцы
4)		бароны и графы

Задание №49		
Самым многочисленным сословием средневековья было		
Выберите один из 4 вариантов ответа:		
1)		крестьянство
2)		рыцарство
3)		духовенство
4)		дворянство

Задание №50		
Кто работал в мастерской ремесленника		
Выберите один из 4 вариантов ответа:		
1)		мастер, подмастерье, ученик
2)		только мастер
3)		только ученики и подмастерья
4)		только подмастерья

Задание №51		
Верховная власть во Владимире принадлежала		
Выберите один из 4 вариантов ответа:		
1)		вечу
2)		князю
3)		тысяцкому
4)		архимандриту

Задание №52		
Что из перечисленного относится к внутренней политике Всеволода Большое Гнездо		

Выберите один из 4 вариантов ответа:		
1)		успешные походы на Волжскую Булгарию
2)		перенос столицы во Владимир
3)		воцарение в Киеве
4)		присоединение новгородских земель

Задание №53		
Князь не имел права вмешиваться в дела городского самоуправления в землях		
Выберите один из 4 вариантов ответа:		
1)		Галицко-Волынской
2)		Киевской
3)		Новгородской
4)		Суздальской

Задание №54		
Что из перечисленного характерно для внутренней политики Андрея Боголюбского		
Выберите один из 4 вариантов ответа:		
1)		стремление занять киевский престол
2)		укрепление и возвышение Владимиро-Суздальского княжества
3)		постоянная борьба с половцами
4)		стремление объединить русские княжества

Задание №55		
Во время правления Андрея Боголюбского		
Выберите один из 4 вариантов ответа:		
1)		началось поклонение иконе Владимирской Богоматери
2)		основан Нижний Новгород
3)		основана Москва
4)		присоединены прикарпатские земли

Задание №56		
События неудачного похода 1185 года положены в основу		
Выберите один из 4 вариантов ответа:		
1)		"Поучения детям"
2)		"Слова о полку Игореве"
3)		"Моления Даниила Заточника"
4)		"Слова о законе и благодати"

Задание №57		
Новгород располагался на реке		
Выберите один из 4 вариантов ответа:		
1)		Волге

2)		Днепре
3)		Неве
4)		Волхов

Задание №58

Должностные лица посадник и тысяцкий связаны с организацией управления

Выберите один из 4 вариантов ответа:

1)		Галицко-Волынского княжества
2)		Владими́ро-Суздальского княжества
3)		Новгородской земли
4)		Киевского княжества

Задание №59

Первоначально в середине XII века Русь распалась на

Выберите один из 4 вариантов ответа:

1)		15 самостоятельных княжеств и земель
2)		25 самостоятельных княжеств и земель
3)		50 самостоятельных княжеств и земель
4)		250 самостоятельных княжеств и земель

Задание №60

На основе объединения трех племенных поселков в IX веке возник город

Выберите один из 4 вариантов ответа:

1)		Ростов
2)		Суздаль
3)		Москва
4)		Новгород

Задание №61

Залесским краем называли земли

Выберите один из 4 вариантов ответа:

1)		Киевского княжества
2)		Галицко-Волынского княжества
3)		Владими́ро-Суздальского княжества
4)		Смоленского княжества

Задание №62

Укажите положительное последствие раздробленности

Выберите один из 4 вариантов ответа:

1)		княжеские уособицы
2)		экономические кризисы
3)		расцвет культуры

4)		борьба за первенство между отдельными районами страны
----	--	---

Задание №63

Назовите положительное последствие раздробленности

Выберите один из 4 вариантов ответа:

1)		княжеские распри
2)		экономический подъем отдельных территорий
3)		ослабление военной мощи государства
4)		усиление зависимости крестьян от землевладельцев

Задание №64

Изменение положения князя в древнерусских городах заключалось в том, что он

Выберите один из 4 вариантов ответа:

1)		должен был обязательно отстаивать интересы центра, Киева
2)		стремился отделиться от Киева
3)		безразлично относился к поддержке местного населения
4)		легко вступал в споры, конфликты с местным населением, не боясь последствий

Задание №65

К причинам активного переселения людей с Юга Руси в междуречье Волги и Оки относится

Выберите один из 4 вариантов ответа:

1)		спасение от половецких набегов
2)		хороший климат, черноземные плодородные почвы
3)		стремление передать земли междуречья печенегам
4)		желание крестьян найти военную добычу

Задание №66

Особенностью развития Северо-Востока Руси является

Выберите один из 4 вариантов ответа:

1)		возникновение городов вследствие военных набегов половцев
2)		городское строительство на месте племенных центров
3)		основание городов по инициативе князей
4)		формирование городов по инициативе вече

Задание №67

Итог конфликта между папой Григорием VII и германским императором Генрихом IV

Выберите один из 4 вариантов ответа:

1)		согласие Григория VII признать право Генриха IV назначать епископов
2)		отказ от взаимных претензий

3)		отлучение Генриха IV от церкви
4)		суд над Генрихом IV

Задание №68

В Новгороде хлеб был преимущественно привозным, потому что

Выберите один из 4 вариантов ответа:

1)		новгородские сорта хлеба продавали в Европу
2)		новгородские земли были малопригодны для земледелия
3)		новгородцы в силу религиозных верований отказались от употребления хлеба
4)		производство хлеба было основным занятием новгородцев, но хлеб стал главным продуктом торговли новгородцев

Задание №69

Чтобы "городской воздух сделал человека свободным" нужно было

Выберите один из 4 вариантов ответа:

1)		убежать от сеньора в город
2)		прожить в городе один год и один день
3)		родиться в семье горожан
4)		приобрести жилище в городе

Задание №70

С 1095 по 1304 год в Новгороде побывало около 40 князей. Одной из причин такой частой смены князей было

Выберите один из 4 вариантов ответа:

1)		болезненность княжеской династии Новгорода
2)		законодательство Новгорода, по которому князь мог занимать свою должность не более пяти лет подряд
3)		стремление не допустить усиления княжеской власти
4)		серьезная борьба за новгородский престол

Задание №71

Одна из причин процветания Новгорода в XI-XIII веках

Выберите один из 4 вариантов ответа:

1)		плодородие новгородских земель, обеспечивающих город стабильными урожаями
2)		сильная власть новгородского князя как залог отсутствия внутренних междоусобиц
3)		отдаленность Новгорода от Великой степи, от набегов кочевников
4)		прочный союз Новгорода с Московским княжеством

Задание №72

Отметьте положение, характеризующее особенности статуса князя в Новгородской

земле

Выберите один из 4 вариантов ответа:

1)	князь обладал всей полнотой власти
2)	князь имел право менять состав вече
3)	в Новгороде не было княжеской династии
4)	князь контролировал торговлю в Новгороде

Задание №73

Прочтите отрывок из сочинения историка и укажите князя, о котором идёт речь.

«В летописи сказано, что князь, прибыв во владения боярина Стефана Кучки, казнил его за какую-то вину и, поражённый живописным видом одного из его сёл, лежащего на высотах у Москвы-реки, на том самом месте, где ныне находится Кремль, построил город Москву. Название церкви Спаса на Бору напоминает о дремучих лесах, которые покрывали оба берега Москвы-реки и на месте которых раскинулась теперь громадная столица».

Выберите один из 4 вариантов ответа:

1)	Всеволод Большое Гнездо
2)	Мстислав Великий
3)	Иван Калита
4)	Юрий Долгорукий

Задание №74

Прочтите отрывок из сочинения историка и укажите князя, о котором идёт речь.

«Наверное, можно сказать, что по масштабу своей личности он уступал и своему отцу Владимиру Мономаху, и своему сыну Андрею Боголюбскому. Возможно, его биография менее интересна, более однообразна, скучна, однопланова: военные походы и подготовка к ним составляют её преимущественное содержание, и почти всё сводится к борьбе за Киев. Но масштаб личности не всегда напрямую определяет значимость той или иной фигуры, её место в истории».

Выберите один из 4 вариантов ответа:

1)	Юрий Долгорукий
2)	Дмитрий Донской
3)	Иван III
4)	Ярослав Мудрый

Задание №75

Установите соответствие между событиями и датами жизни князя Юрия

Долгорукого

Укажите соответствие для всех 4 вариантов ответа:

1)		первое упоминание Москвы в летописи	1)	1147 г
2)		смерть Юрия Долгорукого	2)	1155 г
3)		приказ о строительстве града в Москве	3)	1156 г
4)		обоснование Юрия Долгорукого в Киеве	4)	1157 г

Задание №76

Установите соответствие между органом власти в Новгороде, должностными лицами и их полномочиями

Укажите соответствие для всех 6 вариантов ответа:

1)		назначение должностных лиц Новгорода	1)	вече
2)		избрание высших должностных лиц в Новгороде	2)	посадник
3)		глава торгового суда	3)	тысяцкий
4)		глава городского ополчения		
5)		руководство внешней политикой		
6)		решение вопросов войны и мира		

Задание №77

Установите соответствие между властными структурами Новгорода и их полномочиями

Укажите соответствие для всех 6 вариантов ответа:

1)		глава церковного суда	1)	вече
2)		глава городского ополчения	2)	тысяцкий
3)		наблюдение за торговыми мерами	3)	владыка
4)		приглашение князей		
5)		избрание высших		

		должностных лиц		
6)		контроль за налоговой системой		

Задание №78

Установите соответствие между русскими князьями и годами их правления

Укажите соответствие для всех 4 вариантов ответа:

1)		Мстислав Великий	1)	1157-1174 гг
2)		Всеволод Большое Гнездо	2)	1125-1157 гг
3)		Андрей Боголюбский	3)	1125-1132 гг
4)		Юрий Долгорукий	4)	1176-1212 гг

Задание №79

Установите соответствие между историческими терминами и их определениями

Укажите соответствие для всех 4 вариантов ответа:

1)		инквизиция	1)	здание, где заседал городской совет
2)		аутодафе	2)	церковный суд по делам о ересьях
3)		ересь	3)	торжественная церемония привидения в исполнение решений инквизиции
4)		ратуша	4)	это религиозное учение, объявленное официальной церковью ложным.

Задание №80

Установите соответствие между князьями и княжествами, где они правили

Укажите соответствие для всех 5 вариантов ответа:

1)		Андрей Боголюбский	1)	Владими́ро-Сузда́льское княжество
2)		Роман Мстиславич	2)	Галицко-Волы́нское княжество
3)		Всеволод Большое Гнездо		
4)		Юрий Долгорукий		
5)		Даниил Романович		

Задание №81

Сопоставьте княжества с их формами правления

Укажите соответствие для всех 3 вариантов ответа:

1)		Новгородская земля	1)	абсолютная монархия
2)		Владими́ро-Сузда́льское	2)	ограниченная монархия

		княжество		
3)		Галицко-Волынское княжество	3)	республика

Задание №82

Сопоставьте княжества с их особенностями

Укажите соответствие для всех 6 вариантов ответа:

1)		Киевское княжество	1)	сильная власть князя
2)		Черниговское княжество	2)	центр борьбы с кочевниками
3)		Смоленское княжество	3)	торговля с немецкими землями
4)		Новгородская земля	4)	верховная власть у вече
5)		Владиро-Суздальское княжество	5)	союзнические отношения с половцами
6)		Галицко-Волынское княжество	6)	князю приходилось непрерывно бороться с различными боярскими группировками

Задание №83

Выберите из списка ТРИ причины политической раздробленности

Выберите несколько из 6 вариантов ответа:

1)		натуральное хозяйство
2)		климатические изменения
3)		экономическое развитие отдельных районов и территорий
4)		развитие информационных технологий
5)		изменение статуса правителя
6)		увеличение привилегий крестьянства

Задание №84

Укажите ТРИ страны Европы, с которыми у княжеств Древней Руси были активные торговые связи.

Выберите несколько из 6 вариантов ответа:

1)		Чехия
2)		Китай
3)		Монголия
4)		Польша
5)		Венгрия
6)		Арабский Халифат

Задание №85

Назовите ТРИ города, которые появились во время правления Юрия Долгорукого.

Выберите несколько из 6 вариантов ответа:

1)	Дмитров
2)	Ярославль
3)	Ростов
4)	Звенигород
5)	Москва
6)	Галич

Задание №86

Выберите из списка ТРИ причины политической раздробленности.

Выберите несколько из 6 вариантов ответа:

1)	отсутствие прочных хозяйственных связей между районами страны
2)	принятие христианства
3)	рост привилегий знати
4)	усиление власти монарха
5)	господство натурального хозяйства
6)	увеличение привилегий городского населения

Задание №87

Выберите из списка ТРИ географических названия, относящихся к Новгородской земле

Выберите несколько из 6 вариантов ответа:

1)	озеро Ильмень
2)	река Днепр
3)	река Ловать
4)	река Южный Буг
5)	река Волхов
6)	река Днестр

Задание №88

Выберите из списка ТРИ основные категории населения Новгорода.

Выберите несколько из 6 вариантов ответа:

1)	холопы
2)	купцы
3)	бояре
4)	крестьяне
5)	монахи- отшельники
6)	ремесленники

Задание №89

Выберите из списка русские княжества и земли (ТРИ наименования), периода раздробленности Древней Руси,

Выберите несколько из 6 вариантов ответа:

1)	Турово- Пинское княжество
2)	Валашское княжество
3)	Новгородская земля
4)	Половецкая земля
5)	Полоцкое княжество
6)	Черемисская земля

Задание №90

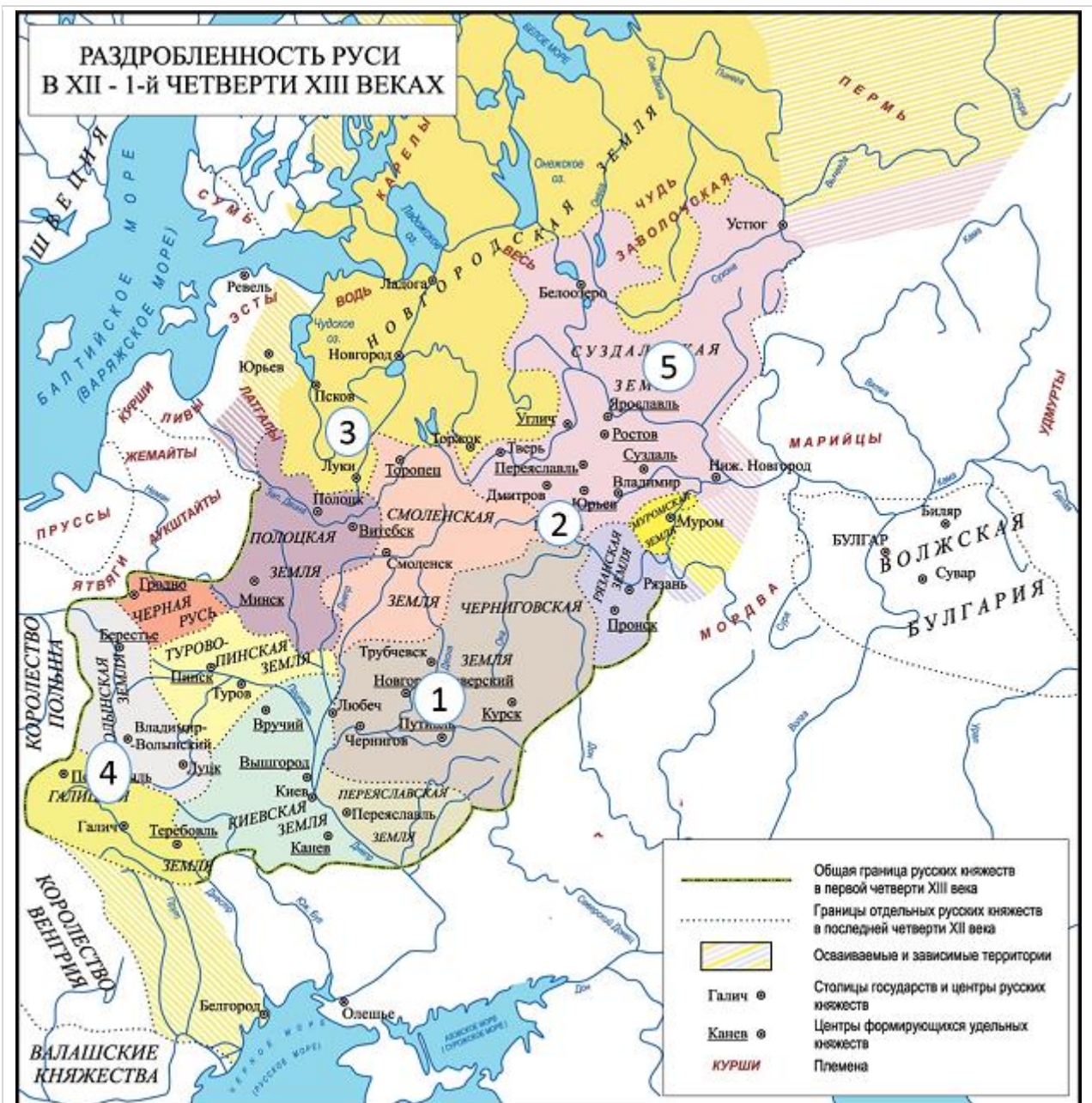
Выберите из списка ТРИ города Новгородской земли.

Выберите несколько из 6 вариантов ответа:

1)	Полоцк
2)	Рязань
3)	Псков
4)	Изборск
5)	Перемышль
6)	Ладога

Задание №91

Укажите имя князя, правившего княжеством, обозначенным на карте цифрой 5 в 1157-1174 годах

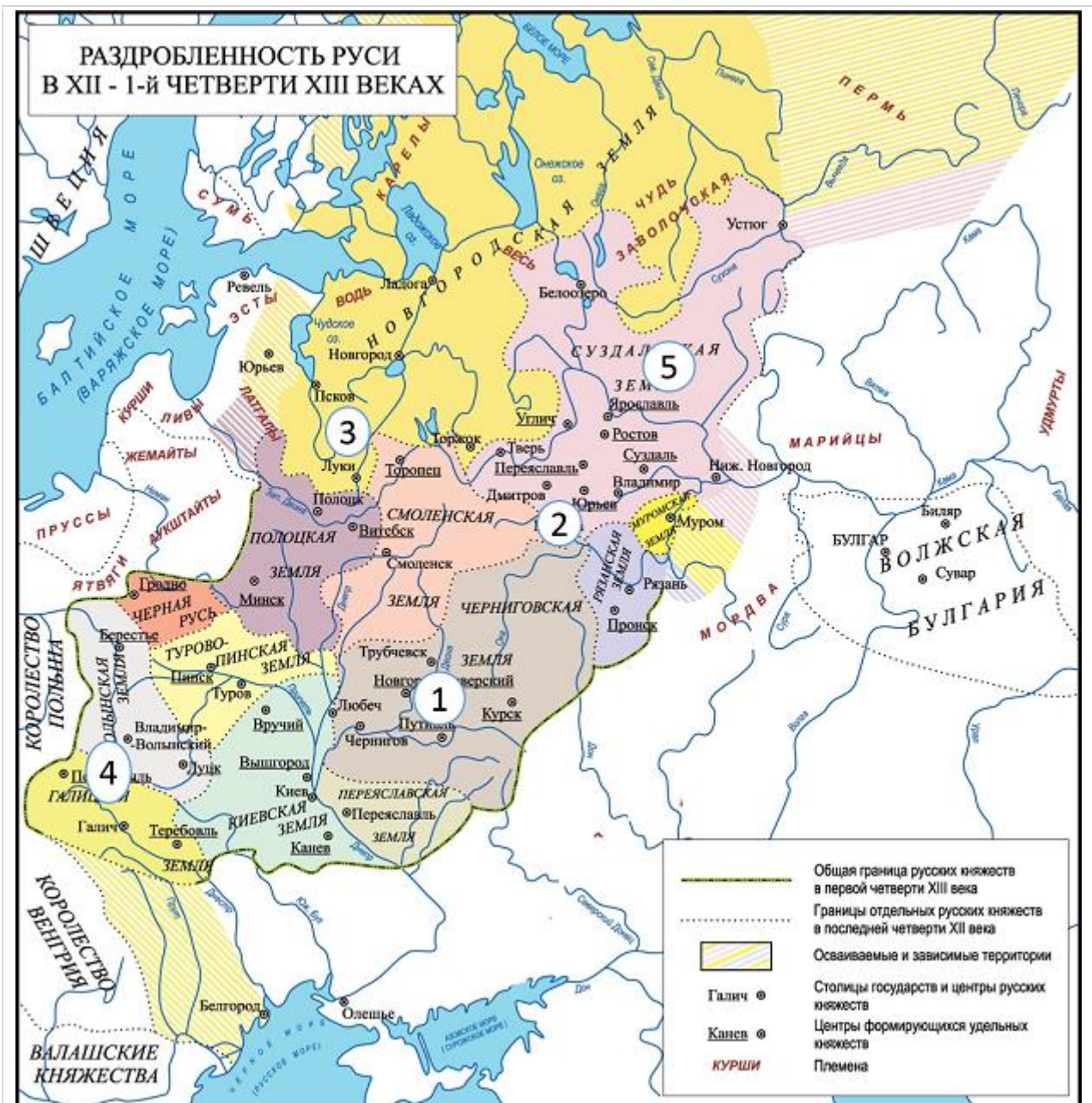


Выберите один из 4 вариантов ответа:

1)	Даниил Галицкий
2)	Юрий Долгорукий
3)	Всеволод Большое Гнездо
4)	Андрей Боголюбский

Задание №92

Ярослав Осмомысл являлся князем в княжестве, обозначенном на карте под номером

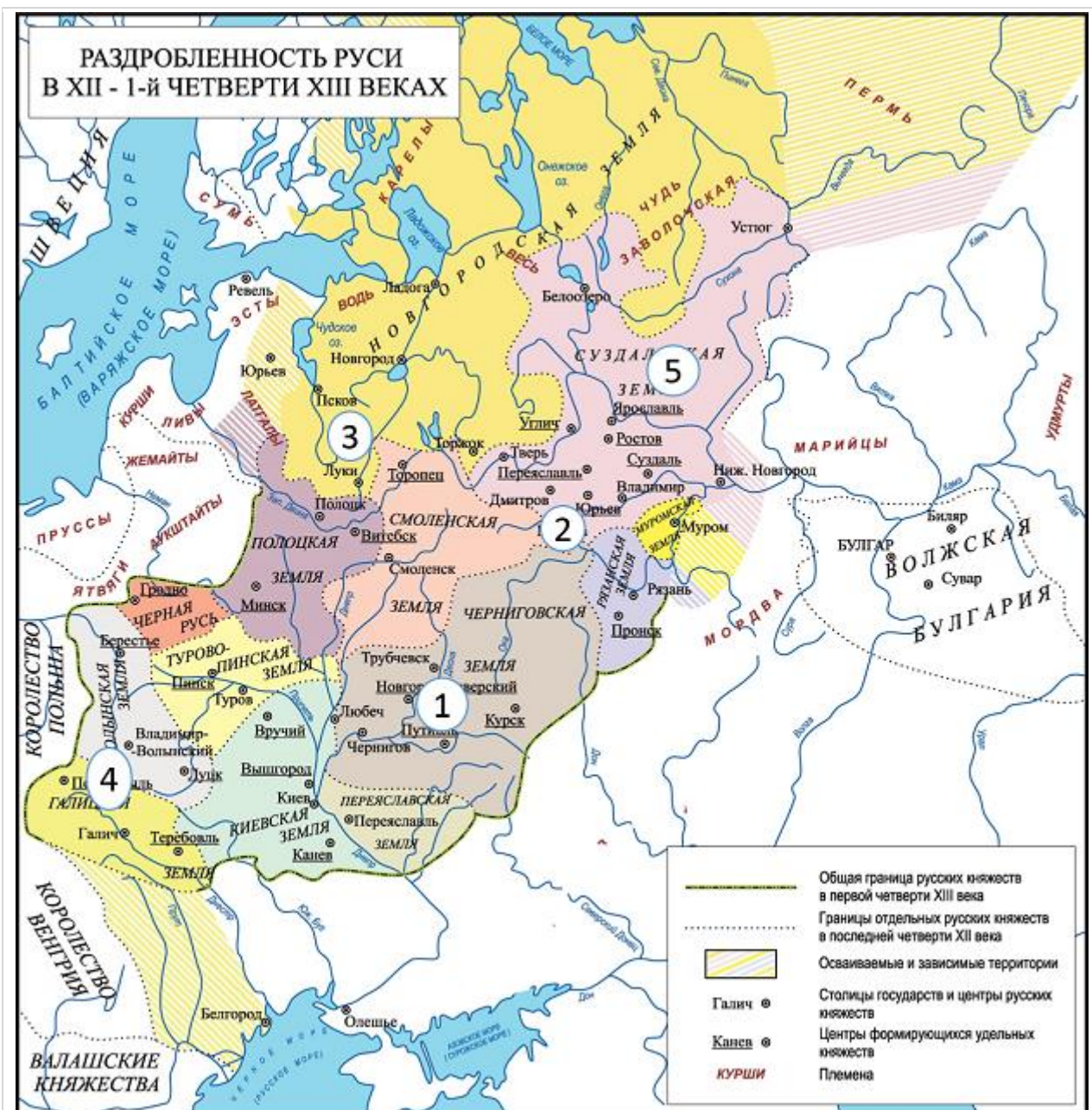


Выберите один из 4 вариантов ответа:

1)	1
2)	2
3)	3
4)	4

Задание №93

На территории, обозначенной на карте цифрой 3 особенностью управления было формирование:



Выберите один из 4 вариантов ответа:

1)	самодержавной монархии
2)	боярской республики
3)	теократической монархии
4)	аристократической республики

Задание №94

Год, когда правитель княжества, обозначенного на карте цифрой 1 совершил неудачный поход на половцев



Задание №95

Какие суждения, относящиеся к событиям, обозначенным на карте, являются верными? Выберите три суждения из шести предложенных.



Выберите несколько из 6 вариантов ответа:

1)	в рассматриваемый период на Руси усилилось влияние Польши:
2)	в рассматриваемый период на Руси часто происходили волнения на религиозной почве, возглавляемые языческими волхвами
3)	наиболее крупными политическими центрами русских земель в рассматриваемый период были Владимир, Новгород, Галич
4)	в рассматриваемый период участие в междоусобицах на Руси всегда принимали иностранные государства
5)	в рассматриваемый период на Русь часто совершали набеги кочевники
6)	в рассматриваемый период на Русь часто происходили

Задание №96

Рассмотрите карту и выполните задание к ней

Какие суждения, относящиеся к событиям, обозначенным на схеме, являются верными? Выберите три суждения из шести предложенных



Выберите несколько из 6 вариантов ответа:

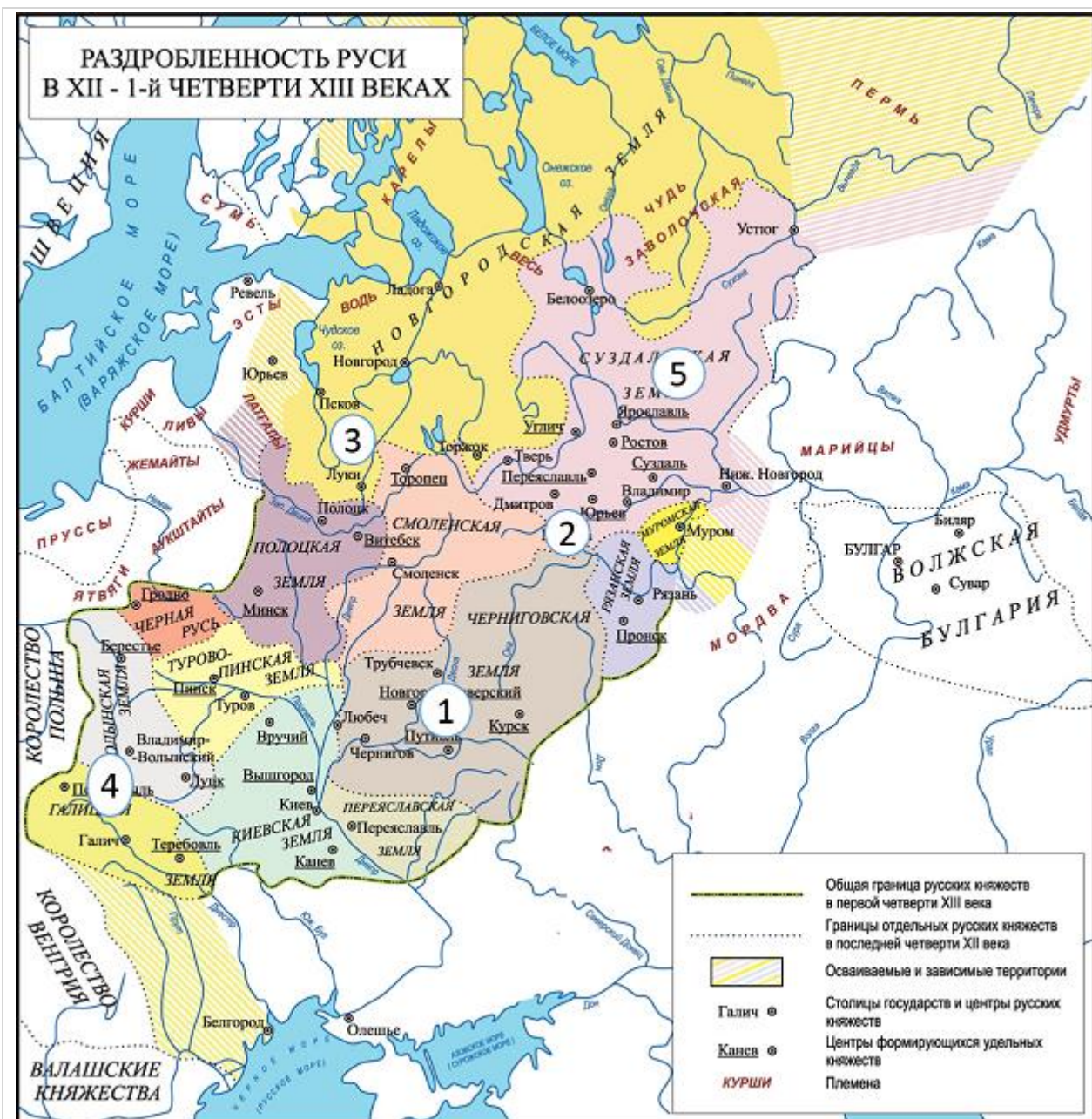
1)	полководец, совершивший обозначенный на карте поход, был великим киевским князем
2)	поход закончился поражением русского войска и пленением князя,

		возглавлявшего русское войско
3)		главным сражением обозначенного на карте похода стала битва на реке Калка
4)		об этом походе позднее было создано крупное литературное произведение
5)		поход, обозначенный на карте, состоялся в начале XI в. и носил общерусский характер
6)		полководец, совершивший обозначенный на карте поход, являлся потомком Ярослава Мудрого

Задание №97

Рассмотрите карту и выполните задание к ней.

Какие суждения, относящиеся к периоду, обозначенному на карте, являются верными? Выберите три суждения из шести предложенных



Выберите несколько из 6 вариантов ответа:

1)	Князь, правивший во Владимиро- Суздальском княжестве перевёз туда из Киева одну из святынь- икону Божьей матери
2)	Князем, приглашённым в Новгород в качестве военачальника в 1136 г. стал Ярослав Осмомысл
3)	Высшее должностное лицо в Новгороде- тысяцкий
4)	Особенностью Галицко- Волынского княжества была острая борьба князей с боярством
5)	Князь Юрий Долгорукий прозван так из-за особенностей телосложения
6)	Основателем княжества, обозначенного на карте цифрой 4, был праправнук Владимира Мономаха

Рассмотрите изображение и ответьте на вопрос.

В каком году произошло изображённое событие?



Выберите один из 4 вариантов ответа:

1)	1174
2)	1185
3)	1212
4)	1097

Задание №99

Рассмотрите изображение и ответьте на вопрос.

С именем какого князя связана постройка данного храма?



Выберите один из 4 вариантов ответа:

1)	Ярослав Осмомысл
2)	Всеволод Большое Гнездо
3)	Даниил Галикий
4)	Андрей Боголюбский

Задание №100

Рассмотрите изображение и ответьте на вопрос.

В каком княжестве происходит изображённое событие?



Выберите один из 4 вариантов ответа:

1)	Новгородская земля
2)	Галицко- Волынское княжество
3)	Киевское княжество
4)	Полоцкое княжество

Задание №101

Рассмотрите изображение и ответьте на вопрос.

Назовите имя князя, изображённого на юбилейной медали.



Выберите один из 4 вариантов ответа:

1)	Игорь Святославович
2)	Юрий Долгорукий
3)	Всеволод Большое Гнездо
4)	Ярослав Осмомысл

Задание №102

Запишите категорию населения Новгородской земли, пропущенную в схеме со строчной буквы, во мн.ч.

Население
Новгородской земли

бояре

ремесленники

Запишите ответ:

1)

Ответ:

Задание №103

Запишите имя, пропущенное в генеалогической схеме.

в ед.ч. со строчной буквы без пробелов
пример: даниилгалицкий

Юрий Долгорукий

Андрей
Боголюбский

Запишите ответ:

1)

Ответ:

Задание №104

Укажите под каким номером обозначен Дмитриевский собор во Владимире

Ответ запишите цифрой

1)



2)



3)



4)



Запишите число:

1)

Ответ:

Задание №105

Укажите под каким номером обозначен архитектурный памятник Золотые ворота

Ответ запишите цифрой

1)



2)



3)



4)



Запишите число:

1)

Ответ:

Задание №106

Укажите под каким номером обозначен архитектурный памятник Храм покровы на Нерли

Ответ запишите цифрой

1)



2)



3)



4)



Запишите число:

1)

Ответ:

Задание №107

Укажите под каким номером обозначен архитектурный памятник Успенский собор, который был построен в городе Владимире

Ответ запишите цифрой

1)



2)



3)



4)



Запишите число:

1)

Ответ:

Задание №108

Укажите порядковые номера под которыми обозначены русские архитектурные памятники

Ответ запишите цифрами в порядке возрастания, без пробелов например: 34

1)



2)



3)



4)



Запишите число:

1)

Ответ:

Задание №109

Укажите порядковые номера под которыми обозначены русские архитектурные памятники

Ответ запишите цифрами в порядке возрастания, без пробелов например: 34

1)



2)



3)



4)



РЕШЕГЭ.РФ

Запишите число:

1)

Ответ:

Задание №110

В каком городе построен архитектурный памятник обозначенный под номером 4
Ответ запишите с заглавной буквы в Им.п.

1)



2)



3)



4)



Запишите ответ:

1)

Ответ:

Задание №111

В каком городе был построен архитектурный памятник обозначенный под номером 1
Ответ запишите с заглавной буквы в Им. п.

1)



2)



3)



4)



Запишите ответ:

1)

Ответ:

Примерные задания письменной части:

Прочтите отрывок из сочинения историка и ответьте на вопросы:

«..., наверное, можно сказать, что по масштабу своей личности он уступали своему отцу Владимиру Мономаху, и своему сыну Андрею Боголюбскому. Возможно, его биография менее интересна, более однообразна, скучна, однопланова: военные походы и подготовка к ним составляют её преимущественное содержание, и почти всё сводится к борьбе за Киев. Но масштаб личности не всегда напрямую определяет значимость той или иной фигуры, её место в истории».

1. Назовите князя, о котором идёт речь. 1б
2. Укажите даты правления. 1б.
3. Какие характеристики даёт автор этому князю? Укажите не менее 3-х. 3 б.