

Материалы

для подготовки к тестированию по **истории 11 класс М - 2 профильный уровень**
по теме: «От полицентричной Руси к Российскому централизованному государству»

Тема	Содержание
<p>Русь Удельная в начале XIII в. Монгольская экспансия. Особенности зависимости Руси. Русские земли в борьбе против захватчиков с Запада и Востока</p>	<p>Потеря обороноспособности Русью: причины и последствия. Формирование централизованного монгольского государства, захватническая политика и ее результаты. Битва на реке Калке 1223 г. – крупнейшее поражение Руси за 200 лет борьбы с кочевниками. Два этапа завоевания Руси: основные сражения и итоги. Образование Золотой Орды в 1243 г. Признание Северо-Восточными княжествами верховной власти (сюзеренитета) великого хана Золотой Орды. Изменение хода русской истории. Делёж территорий Древнерусского государства между соседями. Шведско-немецкая агрессия. Победы новгородцев во главе с князем Александром Невским над шведами в Невской битве 1240 г. и ливонскими рыцарями в 1242 г., приостановление экспансии с Запада. Спасение православия.</p> <p>отношения с Московским государство</p>
<p>Борьба за лидерство в Северо-Восточной Руси: возвышение Москвы</p>	<p>Причины и основные этапы объединения русских земель. Москва и Тверь: борьба за великое княжение. Возвышение Москвы. Московские князья и их политика. Княжеская власть и церковь. Дмитрий Донской и Сергей Радонежский. Куликовская битва, ее значение.</p>
<p>Междоусобные войны на Руси: причины и последствия. Стремление к формированию общенационального центра</p>	<p>Междоусобная война в Московском княжестве во второй четверти XV в. Повод к войне – недостаточно отрегулированный принцип наследования московского престола. Завещание Василия I – нарушение воли Дмитрия Донского: противоречие между родовым (горизонтальным) принципом наследования и семейным (вертикальным). Галицко-Звенигородский князь Юрий Дмитриевич. Василий II Тёмный. Завершение и итоги междинастической войны, утверждение вертикального принципа престолонаследия.</p>
<p>Образование единого Российского государства на рубеже XV-XVI вв.</p>	<p>Иван III – основатель Московского государства, «великий разрушитель старины», первый суверенный государь. Способы присоединения территорий к Московскому государству. Разрушение Новгородской республики. Осада Твери. Появление в официальных документах титула «государь всея Руси». Затяжные русско-литовские войны. «Стояние на реке Угре» - окончательное освобождение Руси от монгольского ига. Переход Ивана III от «сбирания земель» к «сбиранию власти». Выход Руси на мировую арену.</p>
<p>Органы управления, право и суд, общество в России на рубеже XV – начала XVI вв.</p>	<p>Московская Русь – единое государство с тенденцией к централизации. Унификация управления: высшая власть великого князя московского, Казна, Дворец, приказные ведомства, развитие государственного аппарата –</p>

	<p>бюрократизация; рост численности и значимости дьяков и подъячих, изменения в Боярской думе. Местные органы власти: уезд, станы, волости и система управления в них, кормление. Суд и судопроизводство: появление первого в истории единого государства законодательного кодекса – Судебника – отражение нового уровня правосознания общества, систематизация правовых норм, принципов судостроительства и судопроизводства, появление нового понятия преступления и форм судебного процесса. Общерусский, но архаичный характер системы управления в Российском государстве.</p>
<p>Культура Руси XIII – начало XVI вв.</p>	<p>Упадок хозяйства, ремесла, городов Руси в XIII-первой половине XIV вв., расширение площади обрабатываемых земель, паровой системы с трёхпольным севооборотом и использованием удобрений. Полевое земледелие вытесняет подсечное. Появление новых ремесленных центров, изготовления оружия и снарядов. Развитие типажа поселений от деревни к селу и слободе. Планировка русских городов: центр – детинец (кремль), княжеская резиденция, торг, посад. Развитие устного народного творчества: жанр исторической песни, сказания; развитие письменной документации; Лаврентьевская летопись (1305 г); изменение техники письма (появление бумаги), уставное письмо заменяется полууставом, появление скорописи. Украшение письма миниатюрами и орнаментом. Возрождение летописания и появление его новых центров. Центральные темы литературы: борьба с монгольским владычеством, оформление агиографического (житийного) жанра, панегирического стиля, развитие жанра княжеских житий, формирование жанра сюжетной повести. Развитие архитектуры: строительство каменных зданий. Грановитая палата. Живопись: Феофан Грек, Андрей Рублёв</p>

Понятия: Выход, ярлык, сюзеренитет, соха, посошная подать, мыт, тамга, запросы, ям, подводы, дары, почестья, безмонетный период, Золотая Орда, Ливония, курултай (съезд), каган (хан), тьма, баскаки, перепись населения, духовная грамота, уезд, Государев двор, Дворец, наместники, кормление, герб государства, иконостас, панегирический стиль

Персоналии: Даниил Московский. Михаил Ярославич Тверской. Юрий Данилович. Иван Калита, Семён гордый, Иван Красный, Даниил Заточник. Сергей Радонежский, митрополит Пётр, митрополит Феогност, Алексей, Иона. Софья Витовтовна, Ольгерд, Ягайло. Витовт. Узбек. Мамай. Тохтамыш. Едигей. Чолхан. Тимур (Тамерлан). Чингизиды. Дмитрий Донской, Дмитрий Боброк, Пересвет, Чолубей, Василий II Тёмный. Василий Косой. Иван III. Юрий Дмитриевич. Дмитрий Шемяка. Марфа Борецкая. София (Зоя) Палеолог, Пахомий Логофет. Епифаний Премудрый

Филипп IV Красивый. Карл VII. Жанна д'Арк, Уотт Тайлер, Гильом Каль. Роджер Бэкон, Кретьен де Труа. Иоганн Гутенберг, Данте Алигьери, Мазаччо, Боттичели. Мехмед II,

Даты:

1206- провозглашение Темучина Чингисханом (Великим ханом)

1207-1215-захват монголами Сибири и Северо-Западного Китая

1219-вторжение в Среднюю Азию, Иран, Афганистан, Закавказье

1223-первая встреча южно-русских и половецких войск с туменами Чингисхана на р. Калке

1227- смерть Чингисхана
1227-1241- правление Угэдэя
1236- поход хана Батые, внука Чингисхана, на Запад
1237- падение Рязани
1238- падение Владимира, Суздаля, Москвы и других городов
1239-1240- разгромлены и сожжены южные и юго-западные княжества
1243- основание Золотой Орды
1240- Невская битва со шведами
1242- Ледовое побоище, битва с немецкими рыцарями
1252-1263- великое княжение Александра Невского
1276- Москва обрела статус княжества
1261-1303 – Даниил Александрович – московский князь
1315-1341- правление Гедимина в Великом княжестве Литовском
1325-1340 – княжение Ивана Калиты.
1327 – антиордынское восстание в Твери
1337-1453- Столетняя война
1347 – 1350 – эпидемия чумы – «Чёрная смерть»
1356- битва при Пуатье
1358- Жакерия
1359-1389 – княжение Дмитрия Донского
1381- восстание Уотта Тайлера
1378, 11 августа – битва на р. Воже
1380, 8 сентября – Куликовская битва
1382 – разорение Москвы Тохтамышем
1383-1389 – закрепление великого княжения Владимирского за московским княжеским домом
1389 – 1425 – княжение Василия I
1395 – разгром Золотой Орды Тимуром
1408- свод митрополита Киприана (Троицкая летопись)
1438- Вселенский собор католической церкви
1439- Флорентийская уния между западной и восточной христианскими церквями
1445- первая печатная книга И. Гутенберга
1425-1453 – междоусобная война в Московском княжестве
1425-1462 – княжение Василия II
1445- поражение Василия II в битве под Суздалем с казанским ханом
1448 – установление автокефалии Русской церкви, митрополит Иоанн (Иона)
1453 – завоевание Константинополя турками-османами
1462-1505 – княжение Ивана III
1472 – прекращение выплаты дани в Орду
1478 – присоединение Новгородской земли к Москве
1480 – «стояние» на р. Угре
1485 – присоединение Тверского великого княжества к Москве
1487-1503 – присоединение Чернигово-Северской и части Смоленской земель
1497 – принятие общерусского Судебника

Материал для подготовки:

Учебник О.Н. Журавлёва, Т.И. Пашкова, Д.В. Кузин История России: 10кл. : Углубленный уровень – М.: Вентана-Граф, 2013

В.В. Фортунатов История: Учебное пособие. Стандарт третьего поколения. СПб.: Питер, 2018

Для того, чтобы получить допуск к тесту обучающийся должен выполнить следующие виды работ:

- оформить лекционную тетрадь;
- работа с документом;
- картографический практикум (контурная карта);
- понятийный диктант;
- выступление на семинарском занятии;
- конспект для подготовки к семинарскому занятию.

Выполнение каждого вида работ подтверждается отметкой учителя в зачётном листе и допуском к итоговому тесту.

Вопросы к семинару «Выдающиеся правители и личности Московского княжества и государства»

1. Первые московские князья: Характеристика личности и особенности правления (Даниил Московский, Юрий Данилович, Иван Калита)
2. Сергей Радонежский: Рассказать биографию, дать характеристику личности и деятельности
3. Дмитрий Донской: Детство и Юность. Особенности его правления. Куликовская битва
4. Иван Третий: Характеристика личности. Процесс объединения Древнерусского государства
5. Ликвидация ордынского владычества на Руси. Стояние на р. Угре

Материал для подготовки:

Учебник О.Н. Журавлёва, Т.И. Пашкова, Д.В. Кузин История России: 10кл. : Углубленный уровень – М.: Вентана-Граф, 2013

В.В. Фортунатов История: Учебное пособие. Стандарт третьего поколения. СПб.: Питер, 2018

Интернет:

- <https://tretiy-rim.moscow/pervye-moskovskie-knyazya/>
- <https://uznayvse.ru/znamenitosti/biografiya-sergiy-radonezhskiy.html>
- <https://interesnyefakty.org/dmitrij-donskoj/>
- <https://www.yandex.ru/turbo?text=https%3A%2F%2Fxn--e1adcaacuhnujm.xn--p1ai%2Fivan-iii.html>

Банк заданий

Задание №1

Монгольский чиновник, проводивший на Руси перепись населения

Ответ запишите со строчной буквы в и.п.ед.ч.

Запишите ответ:

1)	Ответ:	
----	--------	--

Задание №2

Ханская грамота, которая выдавалась русским князьям и подтверждала их право на княжение

Ответ запишите со строчной буквы в и. п. ед.ч.

Запишите ответ:

1)

Ответ:

Задание №3

Регулярная дань, которую собирали на Руси для хана Золотой Орды.

Ответ запишите со строчной буквы в и. п. ед.ч.

Запишите ответ:

1)

Ответ:

Задание №4

Вместо пропуска вставьте в текст имя полководца:

«В 70-х годах XIV века в Средней Азии выдвинулся один из местных правителей _____, наделенный незаурядным военным и государственным талантом и известный своей жестокостью и железной волей (его и прозывали за жестокосердие «Железный хромец»).

Ответ напишите со строчной буквы.

Запишите ответ:

1)

Ответ:

Задание №5

Укажите термин, о котором идёт речь.

«Титул главы Русской православной церкви до 1589 г. После учреждения патриаршества этот титул носили самые видные иерархи церкви».

Ответ запишите со строчной буквы в ед.ч. и.п.

Запишите ответ:

1)

Ответ:

Задание №6

Запишите термин, о котором идёт речь.

Земельное владение, чаще всего принадлежавшее боярскому или княжескому роду, передаваемое, в отличие от позже появившегося поместья, по наследству при условии службы. В результате указа о единонаследии 1714 г. это отличие было уничтожено.

Ответ запишите со строчной буквы в ед.ч. и.п.

Запишите ответ:

1)

Ответ:

Задание №7

Запишите термин, о котором идёт речь.

Система натуральной оплаты, содержания за счет местного населения некоторых категорий должностных лиц, несущих службу в пользу князя.

Ответ запишите со строчной буквы в ед.ч. и.п.

Запишите ответ:

1)	Ответ:	
----	--------	--

Задание №8

Основное занятие монголов:

Выберите один из 4 вариантов ответа:

1)		пашенное земледелие
2)		морская торговля
3)		кочевое скотоводство
4)		ремесло

Задание №9

Знаковая битва между русско-половецкими войсками и монголами состоялась на реке:

Выберите один из 4 вариантов ответа:

1)		Липице
2)		Шелони
3)		Каяле
4)		Калке

Задание №10

Первый из русских городов, павший под ударом войск Батия:

Выберите один из 4 вариантов ответа:

1)		Москва
2)		Коломна
3)		Рязань
4)		Новгород

Задание №11

Непокоренными монголо-татарскими захватчиками остались княжества:

Выберите один из 4 вариантов ответа:

1)		Черниговское и Переяславское
----	--	------------------------------

2)		Ростовское и Ярославское
3)		Угличское и Юрьевское
4)		Псковское и Новгородское

Задание №12

Данническая зависимость Руси от Орды выражалась в:

Выберите один из 4 вариантов ответа:

1)		направление подданных в Орду
2)		выдаче ярлыков на право княжения в русских землях
3)		выплате дани
4)		поставкой русских воинов в монгольские войска

Задание №13

«Злым городом» Батый называл

Выберите один из 4 вариантов ответа:

1)		Киев
2)		Рязань
3)		Владимир
4)		Козельск

Задание №14

Столица Золотой Орды г. Сарай находилась:

Выберите один из 5 вариантов ответа:

1)		у озера Селигер
2)		на месте разоренной Рязани
3)		на реке Тоболна
4)		реке Иртыш
5)		недалеко от нынешней Астрахани

Задание №15

Дисциплина в монгольском войске держалась на:

Выберите один из 5 вариантов ответа:

1)		преданности хану
2)		преданности хану и системе коллективной ответственности
3)		системе коллективной ответственности и кровнородственных отношениях в каждой десятке
4)		кровнородственных отношениях в каждой десятке и патриотизме

5)	патриотизме и сознательности каждого воина
----	--

Задание №16

В результате поражения в борьбе с монголо-татарами Русские земли:

Выберите один из 4 вариантов ответа:

1)	вошли в состав Золотой Орды
2)	попали в вассальную зависимость от Золотой Орды
3)	заплатили большую дань, но сохранили независимость
4)	объединились в единое государство

Задание №17

Что из названного относится к итогам похода войск хана Батые на Русь в 1237-1238 гг.?

Выберите один из 4 вариантов ответа:

1)	захват и разгром Киева
2)	разорение Великого Новгорода
3)	начало политической раздробленности Руси
4)	разорение северо-восточных русских земель

Задание №18

Первый поход Батые завершился:

Выберите один из 4 вариантов ответа:

1)	полным подчинением Руси монголам
2)	разгромом северо-восточных земель Руси
3)	поражением Батые
4)	завоеванием не только русских земель, но и вторжением в Западную Европу

Задание №19

Борьба за права на великое владимирское княжение шла между княжествами:

Выберите один из 4 вариантов ответа:

1)	Киевским и Московским
2)	Суздальско-Нижегородским и Рязанским
3)	Московским и Тверским
4)	Рязанским и Московским

Задание №20

По легенде, перед Куликовской битвой произошел поединок между:

Выберите один из 4 вариантов ответа:

1)	Пересветом и Челубеем
2)	Пересветом и Андреем Ослябой
3)	князем Владимиром Храбрым и Челубеем
4)	Дмитрием Донским и Мамаем

Задание №21

Период после ордынского нашествия характеризовался вхождением ряда земель, входящих прежде в состав древнерусского государства в другие государства. К какому государству отошли к XIV в. западные русские земли?

Выберите один из 4 вариантов ответа:

1)	Турции
2)	Литве
3)	Швеции
4)	Англии

Задание №22

Термины «крестьянин», «деревня», «деньги», «дворяне» появились в период

Выберите один из 4 вариантов ответа:

1)	формирования древнерусского государства
2)	распада древнерусского государства на отдельные земли
3)	формирования единого российского государства
4)	складывания крупных славянских племенных союзов

Задание №23

На какие силы в борьбе против Московского княжества опиралась Литва?

Выберите один из 4 вариантов ответа:

1)	Орду
2)	Антиордынские силы
3)	Турцию
4)	Англию

Задание №24

Литовский князь Ольгерд Гедиминович в союзе с русскими дружинами разгромил ордынское войско в 1363г. в битве

Выберите один из 4 вариантов ответа:		
1)		на Воже
2)		на Пьяне
3)		при Синих водах
4)		на Куликовом поле

Задание №25		
Какие города оказывали поддержку притязаниям Литвы на лидерство среди русских земель?		
Выберите один из 4 вариантов ответа:		
1)		Тверь и Новгород Великий
2)		Москва и Владимир
3)		Киев и Чернигов
4)		Рязань и Нижний Новгород

Задание №26		
Какой город был захвачен войсками Ольгерда?		
Выберите один из 4 вариантов ответа:		
1)		Москва
2)		Тверь
3)		Ржев
4)		Новгород Великий

Задание №27		
Кто из литовских князей возглавил борьбу за возвышение Литовско-Русского государства среди русских земель, вступил в борьбу с Москвой и несколько раз осаждал Москву?		
Выберите один из 4 вариантов ответа:		
1)		Витовт
2)		Миндовг
3)		Гедемин
4)		Ольгерд

Задание №28

Кому Дмитрий Иванович по завещанию передал титул великого князя, не спрашивая на то разрешения Сарая?

Выберите один из 4 вариантов ответа:

1)	Ивану II
2)	Василию I
3)	Василию II
4)	Симеону Гордому

Задание №29

В правление кого из московских князей был заключен стратегический союз с Литвой, князем Витовтом, результатом которой стала неудачная для союзников битва на реке Ворскла 1399 года?

Выберите один из 4 вариантов ответа:

1)	Симеоне Гордом
2)	Иване Красном
3)	Василии Дмитриевиче
4)	Василии Васильевиче

Задание №30

Какое княжество было присоединено к Москве при Василии I?

Выберите один из 4 вариантов ответа:

1)	Нижегородское
2)	Рязанское
3)	Тверское
4)	Смоленское

Задание №31

Мещерские и Тарусские земли вошли в состав Московского княжества в правление

Выберите один из 4 вариантов ответа:

1)	Ивана Калиты
2)	Симеона Гордого
3)	Дмитрия Донского
4)	Ивана III

Задание №32

Софья Витовтовна, дочь Великого князя Литовского была супругой московского князя

Выберите один из 4 вариантов ответа:

1)	Дмитрия Донского
2)	Василия Дмитриевича
3)	Василия Темного
4)	Василия III

Задание №33

Кто был врагом полков Польши и Литвы в Грюнвальдском сражении?

Выберите один из 4 вариантов ответа:

1)	Ордынские войска
2)	Тевтонский орден
3)	Московское княжество
4)	Турция

Задание №34

Какую позицию заняла верхушка Русской Православной Церкви по отношению к феодальной войне в Московском государстве в 15 веке?

Выберите один из 4 вариантов ответа:

1)	нейтралитет
2)	поддержали Василия II
3)	поддержали Юрия Дмитриевича
4)	высказались за создание теократического государства во главе с митрополитом

Задание №35

Хан Большой Орды Ахмат во время «Стояния на Угре» ожидал подмогу со стороны

Выберите один из 4 вариантов ответа:

1)	Крымского хана Менги-Гирея
2)	тверского князя Михаила Борисовича
3)	турецкого султана Селима I
4)	Польского князя Казимира

Задание №36

При Иване III:

Выберите один из 4 вариантов ответа:		
1)		были введены «заповедные лета»
2)		была учреждена тайная канцелярия
3)		издан первый общерусский свод
4)		созданы полки «нового строя»

Задание №37

Какого великого князя Московского называют «последним собирателем земли русской»

Выберите один из 4 вариантов ответа:		
1)		Дмитрия Ивановича
2)		Даниила Романовича
3)		Васили III Ивановича
4)		Дмитрия Донского

Задание №38

Причинами поражения Руси в борьбе с монголо-татарскими захватчиками нельзя назвать:

Выберите один из 4 вариантов ответа:		
1)		численное превосходство монголо-татар
2)		феодальную раздробленность русских земель
3)		несогласованность в действиях русских князей
4)		немецко-шведскую агрессию в северные пределы страны

Задание №39

Причиной поражения русской дружины в битве на р. Калке стало

Выберите один из 4 вариантов ответа:		
1)		превосходство монголов в военном искусстве
2)		отсутствие согласованности в действиях русских князей
3)		внезапность нападения со стороны ордынцев
4)		численное превосходство ордынцев

Задание №40

В результате Невской битвы и Ледового побоища:

Выберите один из 4 вариантов ответа:		
--------------------------------------	--	--

1)	Северная Русь отстояла свои земли и веру от посягательства немецких и шведских рыцарей
2)	Ливонский орден прекратил свое существование
3)	земли ливов и эстов вошли в состав Новгородской земли
4)	монголо-татары отказались от подчинения Новгородской земли

Задание №41

Каковы были последствия поражения немецких рыцарей на льду Чудского озера?

Выберите один из 4 вариантов ответа:

1)	Ливонский орден распался и оказался под властью Польши и Дании
2)	крестоносцы заключили союз с Александром Невским против монголо-татар
3)	устье реки Невы вошло в состав Новгородской земли
4)	была остановлена агрессия немецких рыцарей-крестоносцев на русские земли

Задание №42

Назовите причины побед ордынской армии

Выберите несколько из 5 вариантов ответа:

1)	феодалная раздробленность Руси
2)	отсутствие сопротивления со стороны населения
3)	численное превосходство армии
4)	жесткая дисциплина
5)	высокие боевые качества степных воинов и их коней

Задание №43

Вследствие победы русских войск на Куликовом поле:

Выберите один из 4 вариантов ответа:

1)	уменьшилась выплата ордынской дани
2)	Москва превратилась в центр освободительной борьбы против ордынского владычества
3)	произошел распад Золотой Орды
4)	было свергнуто ордынское иго

Задание №44

Одним из значимых итогов правления Ивана Калиты было(а):

Выберите один из 4 вариантов ответа:		
1)		новая междоусобная война
2)		превращение Московского княжества в сильнейшее на Руси
3)		увеличение сбора дани для Золотой Орды
4)		выделение княжеским сыновьям уделов

Задание №45

Выберите правильное утверждение:

Выберите один из 4 вариантов ответа:

1)		в результате монголо-татарского нашествия Русь была включена в состав Золотой Орды
2)		в результате монголо-татарского нашествия Русь попала в зависимость от Золотой Орды, выражавшуюся в основном в уплате ордынским ханам дани
3)		в результате монголо-татарского нашествия Русь отстояла свою независимость
4)		в результате монголо-татарского нашествия коренным образом изменился характер социально-экономического развития русских земель

Задание №46

Установите соответствие между датой и событием:

Укажите соответствие для всех 4 вариантов ответа:

1)		1223г.	1)	сражение на реке Сити
2)		8 сентября 1380 г.	2)	взятие Батыем Киева
3)		4 марта 1238 г.	3)	сражение на р.Калке
4)		осень 1240 г.	4)	Куликовская битва

Задание №47

Установите соответствие между термином и определением

Укажите соответствие для всех 4 вариантов ответа:

1)		тамга	1)	ханская грамота, дающая право на княжение
2)		баскаки	2)	ордынские сборщики налогов
3)		курултай	3)	съезд монгольской знати

4)	ярлык	4)	торговая пошлина
----	-------	----	------------------

Задание №48

Установите соответствие между именами деятелей российской истории XIV – XVI вв. и их деятельностью.

Укажите соответствие для всех 4 вариантов ответа:

1)	Иван Калита	1)	великий князь московский, добившийся от Орды ярлыка на великое княжение
2)	Дмитрий Донской	2)	настоятель Троице-Сергиева монастыря, благословивший войско Дмитрия Донского на Куликовскую битву
3)	Сергий Радонежский	3)	князь, деятель Избранной рады, бежавший в Литву и состоявший в переписке с Иваном Грозным
4)	Ярослав Ярославович	4)	первый тверской князь
		5)	установил принцип неделимости великокняжеских владений

Задание №49

Установите соответствие:

Укажите соответствие для всех 4 вариантов ответа:

1)	1237	1)	падение под ударами монголов Владимира
2)	1238г.	2)	возвращение монгольского войска на Нижнюю Волгу
3)	1241 г	3)	битва на Чудском озере
4)	1242 г.	4)	начало похода Батыя на Русь

Задание №50

Установите правильное соответствие:

Укажите соответствие для всех 4 вариантов ответа:

1)	1223 г.	1)	Невская битва
2)	1237 г.	2)	битва на реке Калке

3)	1240 г.	3)	восстание против ордынцев в Северо-Восточной Руси
4)	1262 г.	4)	начало похода Батыя на Русь

Задание №51

Назовите последствия ордынского нашествия для Руси

Выберите несколько из 5 вариантов ответа:

1)	распри между русскими князьями
2)	значительное уменьшение численности населения
3)	ослабление русской православной церкви
4)	разорение земель
5)	подрыв хозяйства и культуры

Задание №52

Прочтите отрывок из житийной литературы.

«... Сей князь Александр родился от отца милосердного и человеколюбивого, и более всего — кроткого, князя великого Ярослава и от матери Феодосии... <...> И красив он был, как никто другой, и голос его — как труба в народе, лицо его — как лицо Иосифа, которого египетский царь поставил вторым царем в Египте, сила же его была частью от силы Самсона, и дал ему бог премудрость Соломона, храбрость же его — как у царя римского Веспасиана, который покорил всю землю Иудейскую...<...> Услышав о такой доблести князя Александра, король страны Римской из северной земли подумал про себя: "Пойду и завоюю землю Александрову". И собрал силу великую, и наполнил многие корабли полками своими, двинулся с огромным войском, пыхая духом ратным. И пришел в Неву, опьяненный безумием, и отправил послов своих, возгордившись, в Новгород к князю Александру, говоря: "Если можешь, защищайся, ибо я уже здесь и разоряю землю твою". Александр же, услышав такие слова, разгорелся сердцем, и вошел в церковь святой Софии, и упав на колени пред алтарем, начал молиться со слезами: "Боже славный, праведный, боже великий, сильный, боже праведный, сотворивший небо и землю и установивший пределы народам, ты повелел жить, не преступая чужих границ". И, припомнив слова пророка, сказал: "Суди, господи, обидящих меня и огради от борющихся со мною, возьми оружие и щит и встань на помощь мне". И, окончив молитву, он встал, поклонился архиепископу. Архиепископ же был тогда Спиридон, он благословил его и отпустил. Князь же, выйдя из церкви, осушил слезы и начал ободрять дружину свою, говоря: «Не в силе бог, но в правде. Вспомним Песнотворца, который сказал: "Одни с оружием, а другие на конях, мы же имя господа бога нашего призовем; они, поверженные, пали, мы же устояли и стоим прямо"». Сказав это, пошел на врагов с малою дружиною, не дожидаясь своего большого войска, но уповая на святую троицу.

...<...> После того Александр поспешил напасть на врагов в шестом часу дня, и была сеча великая с римлянами, и перебил их князь бесчисленное множество, а на лице самого короля оставил след острого копья своего. Проявили себя здесь шесть храбрых, как он, мужей из полка Александра. Первый — по имени Гаврило Олексич. Он напал на шнек и, увидев королевича, влекомого под руки, въехал до самого корабля по сходням, по которым бежали с королевичем; преследуемые им схватили Гаврилу Олексича и сбросили его со сходен вместе с конем. Но по божьей милости он вышел из воды невредим, и снова напал на них, и бился с самим воеводою посреди их войска. Второй, по имени Сбыслав Якунович, новгородец. Этот много раз нападал на войско их и бился одним топором, не имея страха в душе своей; и пали многие от руки его, и дивились силе и храбрости его. Третий — Яков, родом полочанин, был ловчим у князя. Этот напал на полк с мечом, и похвалил его князь. Четвертый — новгородец, по имени Меша. Этот пеший с дружиною своею напал на корабли и потопил три корабля. Пятый — из младшей дружины, по имени Сава. Этот ворвался в большой королевский златоверхий шатер и подсек столб шатерный. Полки Александровы, видевши падение шатра, возрадовались...<...> На второй же год после возвращения с победой князя Александра вновь пришли из Западной страны и построили город на земле Александровой. Князь же Александр вскоре пошел и разрушил город их до основания, а их самих — одних повесил, других с собою увел, а иных, помиловав, отпустил, ибо был безмерно милостив. После победы Александровой, когда победил он короля, на третий год, в зимнее время, пошел он с великой силой на землю немецкую, чтобы не хвастались, говоря: "Покорим себе славянский народ". А был ими уже взят город Псков и наместники немецкие посажены. Он же вскоре изгнал их из Пскова и немцев перебил, а иных связал и город освободил от безбожных немцев, а землю их повоевал и пожег и пленных взял бесчисленное множество, а других перебил. Немцы же, дерзкие, соединились и сказали: "Пойдем, И победим Александра, и захватим его". Когда же приблизились немцы, то — проведали о них стражи. Князь же Александр приготовился к бою, и пошли они друг против друга, и покрылось озеро Чудское множеством тех и других воинов. Отец Александра, Ярослав, прислал ему на помощь младшего брата Андрея с большою дружиною. Да и у князя Александра было много храбрых воинов, как в древности у Давида-царя, сильных и стойких. Так и мужи Александра исполнились духа ратного, ведь были сердца их как сердца львов, и воскликнули: "О княже наш славный! Ныне пришло нам время положить головы свои за тебя". Князь же Александр воздел руки к небу и сказал: "Суди меня, боже, рассуди распрю мою с народом неправедным и помоги мне, господи, как в древности помог Моисею одолеть Амалика и прадеду нашему Ярославу окаянного Святополка". Была же тогда суббота, и когда взошло солнце, сошлись противники. И была сеча жестокая, и стоял треск от ломающихся копий и звон от ударов мечей, и казалось, что двинулось замерзшее озеро, и не было видно льда, ибо покрылось оно кровью...»

Используя текст, выберите в приведённом списке три верных суждения. Запишите в ответ цифры, под которыми они указаны.

- 1) события, описанные в тексте жития, произошли в XII в.
- 2) город, который немецкие рыцари построили на захваченной «земле Александровой», назывался Копорье
- 3) за заслуги перед Новгородом бояре провозгласили князя Александра Ярославича Новгородским князем «на все времена»
- 4) в сражении на реке Неве войско князя Александра Ярославича сразилось с войском датчан
- 5) одним из описанных в житии ратных деяний князя Александра Ярославича была победа над немцами на льду Чудского озера
- 6) в сражении против немецких рыцарей принимала участие дружина из Владимиро-Суздальского княжества

Запишите число:

1)	Ответ:	
----	--------	--

Задание №53

Прочтите отрывок из «Повести о разорении Рязани Батыем»

«В год 6745 (от Сотворения Мира)...<...> Пришел на Русскую землю безбожный царь Батый со множеством воинов татарских и стал на реке на Воронеже близ земли Рязанской. И прислал послов непутовых на Рязань к великому князю Юрию Ингваревичу (Игоревичу) Рязанскому, требуя у него десятой доли во всем: во князьях, и во всяких людях, и в остальном. И услышал великий князь Юрий Ингваревич Рязанский о нашествии безбожного царя Батыя, и тотчас послал в город Владимир к благоверному великому князю Георгию Всеволодовичу Владимирскому, прося у него помощи против безбожного царя Батыя или чтобы сам на него пошел. Князь великий Георгий Всеволодович Владимирский и сам не пошел, и помощи не послал, задумав один сразиться с Батыем. И услышал великий князь Юрий Ингваревич Рязанский, что нет ему помощи от великого князя Георгия Всеволодовича Владимирского, и тотчас послал за братьями своими: за князем Давидом Ингваревичем Муромским, и за князем Глебом Ингваревичем Коломенским, и за князем Олегом Красным, и за Всеволодом Пронским, и за другими князьями. И стали совет держать, как утолить нечестивца дарами. И послал сына своего князя Федора Юрьевича Рязанского к безбожному царю Батыю с дарами и мольбами великими, чтобы не ходил войной на Рязанскую землю. И пришел князь Федор Юрьевич на реку на Воронеж к царю Батыю, и принес ему дары, и молил царя, чтоб не воевал Рязанской земли. Безбожный же, лживый и немилосердный царь Батый дары принял и во лжи своей притворно обещал не ходить войной на Рязанскую землю. Но хвалился-грозился повоевать всю Русскую землю. И стал просить у князей рязанских дочерей и сестер к себе на ложе. И некто

из вельмож рязанских по зависти донес безбожному царю Батыю, что есть у князя Федора Юрьевича Рязанского княгиня из царского рода и что всех прекраснее она красотой телесною. Царь Батый лукав был и немилостив в неверии своем, распалился в похоти своей и сказал князю Федору Юрьевичу: «Дай мне, княже, изведать красоту жены твоей». Благоверный же князь Федор Юрьевич Рязанский посмеялся и ответил царю: «Не годится нам, христианам, водить к тебе, нечестивому царю, жен своих на блуд. Когда нас одолеешь, тогда и женами нашими владеть будешь». Безбожный царь Батый разъярился и оскорбился и тотчас повелел убить благоверного князя Федора Юрьевича, а тело его велся бросить на растерзание зверям и птицам, и других князей и воинов лучших поубивал...».

Используя отрывок, выберите в приведённом списке три верных суждения. Запишите в ответ цифры, под которыми они указаны.

- 1) вторжение на Русь войск Батыя началось зимой 1237 г.
- 2) вскоре после гибели Рязани удару войск Батыя подверглись города Владимиро-Суздальского княжества
- 3) после разгрома Рязани на войско монголо-татар было совершено нападение дружины рязанского боярина Евпатия Коловрата
- 4) двигаясь через Черниговское княжество, отряд монголо-татар с ходу захватил и разграбил Козельск
- 5) автор повести не противопоставляет возвышенный христианский дух рязанского князя «плотским» помыслам завоевателя-мусульманина
- 6) защитники Новгорода сумели выдержать штурм города войска Батыя

Запишите число:

1)	Ответ:	
----	--------	--

Задание №54

Прочтите отрывок из исторического источника.

«Немцы же и чудь пошли за ним. Князь же великий поставил войско на Чудском озере на Узмени, у Воронья камня, и, приготовившись к бою, пошёл против них. Войска сошлись на Чудском озере, было тех и других большое множество. Был же тут с князем и брат его Андрей со множеством воинов отца своего; было у князя множество храбрых, сильных и крепких, все наполнились воинственным духом, и были у них сердца подобны львиным. И сказали: "Княже, ныне пришло время положить свои головы за тебя". Был же тогда день субботний, и на восходе солнца сошлись оба войска. И была здесь злая и великая сеча для немцев и чуди, и слышен был треск ломающихся копий и звук от ударов мечей, так что и лёд на замёрзшем озере подломился, и не видно было льда, потому что он покрылся кровью. И сам я слышал об этом от очевидца, бывшего там. И обратились немцы в бегство, и гнали их русские с боем, как по воздуху, и некуда им было убежать,

били их 7 вёрст по льду до Суболицкого берега, и пало немцев 500, а чуди — бесчисленное множество, а в плен взяли 50 лучших немецких воевод и привели их в Новгород, а другие немцы утонули в озере, потому что была весна.

А другие убежали тяжело ранеными. Был же этот бой 5 апреля».

Используя отрывок и знания по истории, выберите в приведённом списке три верных суждения. Запишите в ответ цифры, под которыми они указаны.

- 1) За победу в этом сражении князь, командовавший русским войском, получил прозвище Невский.
- 2) Русским войском в описываемой битве командовал князь Дмитрий.
- 3) Один из сыновей князя, командовавшего русским войском в этой битве, стал основателем династии московских князей.
- 4) Битва, которая описывается в отрывке, произошла в XIV в.
- 5) Князь, командовавший русским войском в этой битве, стремился избегать военного столкновения с Золотой Ордой.
- 6) Следствием битвы, описываемой в отрывке, стало ослабление наступления крестоносцев на северо-западные русские земли.

Запишите число:

1)	Ответ:	
----	--------	--

Задание №55

Установите соответствие между фрагментами исторических источников и их краткими характеристиками: к каждому фрагменту, обозначенному буквой, подберите по две соответствующие характеристики, обозначенные цифрами.

ФРАГМЕНТЫ ИСТОЧНИКОВ

А) «И начали князья собирать воинов каждый в своей области: великий князь Мстислав Романович Киевский, внук Ростислава, и Мстислав Святославич Козельский, внук Всеволода Черниговского, и Мстислав Мстиславич Галицкий — эти старшие князья в Русской земле; а с ними и младшие князья: Даниил Романович, внук Мстислава, и князь Михаил Всеволодович Черниговский, и князь Всеволод Мстиславич, сын киевского князя, и многие другие князья. Когда все князья собрались на совет в Киеве, они послали во Владимир к великому князю Юрию Всеволодовичу за помощью; а он отправил к ним Василька Ростовского. Посоветовавшись, князья решили встретить врага на чужой земле... и, собрав всех русских воинов, выступили в поход...»

Б) «В год 6745 (от Сотворения Мира)...<...> Пришел на Русскую землю безбожный царь Батый со множеством воинов татарских и стал на реке на Воронеже близ земли Рязанской. И прислал послов непутевых на Рязань к великому князю Юрию Ингваревичу (Игоревичу) Рязанскому, требуя у него десятой доли во всем: во князьях, и во всяких людях, и в остальном. И услышал великий князь Юрий Ингваревич Рязанский о нашествии безбожного царя Батыя, и тотчас послал в город Владимир к благоверному великому князю Георгию Всеволодовичу

Владимирскому, прося у него помощи против безбожного царя Батыя или чтобы сам на него пошел. Князь великий Георгий Всеволодович Владимирский и сам не пошел, и помощи не послал, задумав один сразиться с Батыем. И услышал великий князь Юрий Ингваревич Рязанский, что нет ему помощи от великого князя Георгия Всеволодовича Владимирского, и тотчас послал за братьями своими: за князем Давидом Ингваревичем Муромским, и за князем Глебом Ингваревичем Коломенским, и за князем Олегом Красным, и за Всеволодом Пронским, и за другими князьями. И стали совет держать, как утолить нечестивца дарами. И послал сына своего князя Федора Юрьевича Рязанского к безбожному царю Батыю с дарами и мольбами великими, чтобы не ходил войной на Рязанскую землю. И пришел князь Федор Юрьевич на реку на Воронеж к царю Батыю, и принес ему дары, и молил царя, чтоб не воевал Рязанской земли. Безбожный же, лживый и немилосердный царь Батый дары принял и во лжи своей притворно обещал не ходить войной на Рязанскую землю. Но хвалился-грозился повоевать всю Русскую землю. И стал просить у князей рязанских дочерей и сестер к себе на ложе. И некто из вельмож рязанских по зависти донес безбожному царю Батыю, что есть у князя Федора Юрьевича Рязанского княгиня из царского рода и что всех прекраснее она красотой телесною. Царь Батый лукав был и немилостив в неверии своем, распалился в похоти своей и сказал князю Федору Юрьевичу: «Дай мне, княже, изведать красоту жены твоей». Благоверный же князь Федор Юрьевич Рязанский посмеялся и ответил царю: «Не годится нам, христианам, водить к тебе, нечестивому царю, жен своих на блуд. Когда нас одолеешь, тогда и женами нашими владеть будешь». Безбожный царь Батый разъярился и оскорбился и тотчас повелел убить благоверного князя Федора Юрьевича, а тело его велся бросить на растерзание зверям и птицам, и других князей и воинов лучших поубивал...».

ХАРАКТЕРИСТИКИ

- 1) Данное событие произошло после Крещения Руси.
- 2) Современником данного события был Чингисхан.
- 3) Первыми на пути полчищ Батыя стала Рязань.
- 4) Оборону Рязани возглавил Александр Невский.
- 5) Битва на реке Калке состоялась в 1223 г.
- 6) Войска Батыя вторглись в русские земли зимой 1237 г.

Запишите число:

1)	Ответ:	
----	--------	--

Задание №56

Установите соответствие между фрагментами исторических источников и их краткими характеристиками: к каждому фрагменту, обозначенному буквой, подберите по две соответствующие характеристики, обозначенные цифрами.

ФРАГМЕНТЫ ИСТОЧНИКОВ

А) «Пришла весть русским, что пришли татары осматривать русские полки; тогда Даниил Романович и другие князья сели на коней и погнались, чтобы увидеть татарские войска. И, увидев их, послали к великому князю Мстиславу Романовичу, призывая: «Мстислав и другой Мстислав! Не стойте, пойдем против них». И вышли в поле, и встретились с татарами, и тут русские стрелки погнало их далеко в поле, рубя их; взяли они их скот и вернулись назад со стадами. И оттуда шли русские полки за ними восемь дней до реки Калки, и отправили со сторожевым отрядом Яруна с половцами, а сами разбили здесь лагерь. И здесь они встретились с татарскими дозорами, и убили татары Ивана Дмитриевича и с ним ещё двоих; а татары поворотили назад. Князь же Мстислав Мстиславич Галицкий повелел Даниилу Романовичу перейти реку Калку с полками, а сам отправился вслед за ними; переправившись, стали они станом».

Б) «Когда же приблизились немцы, то провели о них стражи. Князь же... приготовился к бою, и пошли они друг против друга, и покрылось озеро Чудское множеством тех и других воинов. Отец [князя], Ярослав, прислал ему на помощь младшего брата Андрея с большою дружиною. Да и у князя... было много храбрых воинов, как в древности у Давида-царя, сильных и стойких...

Была же тогда суббота, и когда взошло солнце, сошлись противники. И была сеча жестокая, и стоял треск от ломающихся копий и звон от ударов мечей, и казалось, что двинулось замёрзшее озеро, и не было видно льда, ибо покрылось оно кровью.

А это слышал я от очевидца, который поведал мне, что видел воинство Божие в воздухе, пришедшее на помощь [князю]. И так победил врагов помощью Божьей, и обратились они в бегство, [Князь] же рубил их, гоня, как по воздуху, и некуда было им скрыться».

ХАРАКТЕРИСТИКИ

- 1) В данном фрагменте летописи говорится о событиях XII в.
- 2) Князь, упоминаемый в данном фрагменте летописи, погиб в результате восстания одного из подчиненных ему народов.
- 3) События, о которых повествует летопись, происходили в период политической раздробленности Руси.
- 4) Современником событий, описываемых в летописи, был Чингисхан.
- 5) Князь, о котором говорится в тексте документа, княжил в Новгороде.
- 6) Отец князя, о котором говорится в документе, одним из первых принял ярлык из рук золотоордынского хана.

Запишите число:

1)	Ответ:	
----	--------	--

Задание №57

Укажите 3 верные утверждения:

Выберите несколько из 5 вариантов ответа:

1)		на реке Сити русское войско неожиданно атаковало монголов и разбило их
----	--	--

2)		Батый во втором походе направил главный удар на южно-русские земли
3)		после восстания 1262 г. во многих городах Руси право сбора дани было передано русским князьям
4)		в конце XII в. римский папа объявляет крестовый поход против жителей прибалтийских земель
5)		битва на Чудском озере вошла в историю под названием Ледовое побоище

Задание №58

Укажите 3 верные утверждения:

Выберите несколько из 5 вариантов ответа:

1)		на реке Сити русское войско неожиданно атаковало монголов и разбило их
2)		нашествия Батые на Русь не затронуло Новгородскую и Псковскую земли
3)		первый удар монголы нанесли по Рязанскому княжеству
4)		немецкие рыцари захватили земли балтийского племени пруссов и основали на них Ливонский орден
5)		битва на Чудском озере вошла в истории под названием Ледовое побоище

Задание №59

Выберите 3 правильных ответа:

Экономические последствия ордынского владычества:

Выберите несколько из 5 вариантов ответа:

1)		угасли многие ремесла
2)		разрушение городов, многие из которых превратились в села или исчезли совсем
3)		нарушение торговых связей между Русью и Западом
4)		господство натурального хозяйства
5)		резкое сокращение населения

Задание №60

Укажите 3 верные утверждения:

Выберите несколько из 5 вариантов ответа:

1)	бояре, по существующему между князьями договорами, имели право покупать земли на территории другого княжества
2)	несмотря на раздробленность страны, православная церковь было единой
3)	династия московских князей происходит от младшего сына Александра Невского Даниила
4)	при князе Дмитриии Донском Московское княжество еще более укрепило свои позиции в Северо-Восточной Руси
5)	развитие вотчинного землевладения

Задание №61

Выберите правильные ответы. Определите причины возвышения Москвы:

Выберите несколько из 5 вариантов ответа:

1)	приток населения из других княжеств
2)	на протяжении длительного времени Московское княжество не знало ордынского нашествия
3)	международная поддержка Москвы
4)	московские князья оказались более ловкими политиками, чем их соперники
5)	существование в Московском княжестве четкой системы подчинения между удельными князьями

Задание №62

Выберите 3 правильных ответа:

Причины поражения русских князей от монголо-татар:

Выберите несколько из 5 вариантов ответа:

1)	наличие у монголо-татар одной из лучших армий
2)	политическая раздробленность Руси
3)	переход на сторону монголо-татар Князей южных земель
4)	бесконечные усобицы между русскими князьями
5)	необходимость борьбы с нашествием немецких и шведских рыцарей в северо-западных землях Руси

Задание №63

Выберите 3 правильных ответа

Значение Куликовской битвы состоит в том, что:

Выберите несколько из 5 вариантов ответа:

1)	впервые русским войскам удалось одержать победу над главными силами Орды
2)	Москва превратилась в духовный центр русских земель
3)	восстановились торговые связи между русскими княжествами
4)	возродилась вера народа в возможность одолеть сильного врага
5)	битва ускорила распад Золотой Орды

Задание №64

Укажите верные утверждения:

Выберите несколько из 5 вариантов ответа:

1)	в Северо-Восточной Руси крайне медленно развивалось вотчинное землевладение
2)	несмотря на раздробленность Руси православная церковь оставалась единой
3)	главная цель первых московских князей — это расширение любыми средствами границ своих владений
4)	Москва и Тверь находились на перекрестке торговых путей
5)	Иван Калита не сумел добиться права сбора дани с русских земель в пользу Золотой Орды

Задание №65

Выберите 3 правильных ответа:

Экономические последствия ордынского владычества:

Выберите несколько из 5 вариантов ответа:

1)	угасли многие ремесла
2)	разрушение городов, многие из которых превратились в села или исчезли совсем
3)	нарушение торговых связей между Русью и Западом
4)	господство натурального хозяйства
5)	резкое сокращение населения

Задание №66

Какие три из перечисленных черт характеризовали зависимость русских земель от Орды? Соответствующие цифры запишите в ответ.

Выберите несколько из 6 вариантов ответа:

1)	перепись населения
2)	создание Земских соборов
3)	система баскачества

4)		система местничества
5)		получение ярлыка на великое княжение
6)		отмена кормлений

Задание №67

Расположите в хронологической последовательности:

Укажите порядок следования всех 4 вариантов ответа:

1)		образование Золотой Орды
2)		сражение русских и монгольских войск на реке Сити
3)		подавление Александром Невским выступления новгородцев против ордынцев
4)		вторжение монголов в Половецкую степь

Задание №68

Расположите в хронологической последовательности:

Укажите порядок следования всех 4 вариантов ответа:

1)		захват Батыем Киева
2)		осада и взятие монголами Торжка
3)		Ледовое побоище
4)		падение Рязани

Задание №69

Расположите в хронологической последовательности

Укажите порядок следования всех 4 вариантов ответа:

1)		взятие Батыем Рязани
2)		Куликовская битва
3)		битва на р.Сити
4)		сражение на р.Калке

Задание №70

Расположите в хронологической последовательности:

Укажите порядок следования всех 4 вариантов ответа:

1)		сражение на реке Сити
2)		Ледовое побоище
3)		перепись монголо-татарами населения на Руси
4)		взятие монголо-татарами Владимира

Задание №71

Расположите в хронологической последовательности:

Укажите порядок следования всех 4 вариантов ответа:

1)	битва на Калке
2)	восстание древлян
3)	первое упоминание о Москве в летописях
4)	поход новгород-северского князя Игоря Святославича на половцев

Задание №72

Установите хронологическую последовательность событий:

Укажите порядок следования всех 4 вариантов ответа:

1)	Присоединение Коломны к Москве
2)	Вторичный захват Москвы ордынскими войсками
3)	Начало самостоятельности Московского княжества
4)	Получение Михаилом Ярославичем ярлыка на великое княжение

Задание №73

Прочтите отрывок из сочинения историка и запишите имя, исторической личности, о которой идеё речь в документе.

«Дав своему войску возможность собраться с силами в степях Северного Причерноморья и Поволжья и получив подкрепление в Востока, _____ продолжил поход на запад. Были уничтожены Чернигов, и Переяславль, ... пал после осады Киев.. Затем _____ прошёл по Галицко-Волынской земле, разгромил Венгрию, Польшу, Хорватию. Было побеждено войско рыцарей, посланных навстречу монголам императором Германии»

Ответ запишите со строчной буквы.

Запишите ответ:

1)	Ответ:	
----	--------	--

Задание №74

Прочтите отрывок из современного сочинения и укажите, как называется река, на которой проходила битва, описываемая в документе.

«Все русские дружины оказались между правым и левым крыльями монголо-татар, перед лицом железного строя главных сил. Удар был крепок. Половцы побежали, Даниилова дружина была почти полностью уничтожена. Стиснутая с трёх сторон, не смогла отразить удара и дружина Мстислава Удалого».

Ответ запишите со строчной буквы.

Запишите ответ:

1)	Ответ:	
----	--------	--

Задание №75

Прочтите отрывок из летописи и укажите имя князя.

«Много потрудившись за землю Русскую, за Новгород и за Псков, за все великое княжение, отдавая живот свой и за православную веру».

Ответ запишите со строчной буквы, без пробелов.

Запишите ответ:

1)	Ответ:	
----	--------	--

Задание №76

Прочтите отрывок из документа и укажите, на каком озере происходили описываемые события.

«...Князь же великий поставил войско _ озере на Узмени у Воронья камня и, укрепившись силою крестною и приготовившись к бою, пошёл против них. Войска сошлись на _____ озере; было и тех и других большое множество...»

Ответ запишите со строчной буквы.

Запишите ответ:

1)	Ответ:	
----	--------	--

Задание №77

Прочтите отрывок из летописи и укажите имя князя.

... Князь поскакал к прибрежным скалам, На них вскарабкавшись с трудом,
Высокий выступ отыскал он,
Откуда видно все кругом.
И оглянулся.
Где-то сзади,
Среди деревьев и камней,
Его полки стоят в засаде,
Держа на привязи коней.
А впереди, по звонким льдинам,
Гремя тяжелой чешуей,
Ливонцы едут грозным клином
— Свиной железной головой...

Ответ запишите со строчной буквы, без пробелов.

Запишите ответ:

1)	Ответ:	
----	--------	--

Задание №78

Прочтите отрывок из Галицко-волынской летописи и укажите название реки, где происходило событие, с которым связаны описанные в летописи факты.

«Пришло неслыханное войско, безбожные, называемые татарами; пришли они на землю Половецкую. Половцы пытались сопротивляться, но даже самый сильный из них Юрий Кончакович - не мог им противостоять и бежал, и многие были перебиты - до реки Днепра. Татары же повернули назад и пошли в свои вежи. И вот когда половцы прибежали в Русскую землю, то сказали они русским князьям: «Если вы нам не поможете, то сегодня мы были побиты, а вы завтра побиты»

будете». Был совет всех князей в городе Киеве, и решили на совете так: «Лучше нам встретить их на чужой земле, чем на своей».

Ответ запишите со строчной буквы.

Запишите ответ:

1)	Ответ:	
----	--------	--

Задание №79

Прочтите текст и запишите название битвы

«...И поспешил он напасть на врага. В 6 часов дня была жаркая сеча, и побил он их бесчисленное множество, и самому королю наложил печать на лицо острым своим копьем. Здесь же из полка его явилось 6 мужей храбрых. Один, именем Таврило Алексич, увидев королевича, которого тащили под руки, напал на корабль, и въехав по доске до самого корабля, по которой восходили с королевичем на корабль; и побежали от него, а затем оборотились и сбросили его с конем с доски в воду...»

Ответ запишите со строчной буквы.

Запишите ответ:

1)	Ответ:	
----	--------	--

Задание №80

Прочтите отрывок из исторической «Повести» и укажите, к какому году относятся эти события.

«И стал воевать царь Батый окаянный Рязанскую землю, и пошел ко граду Рязани. И осадил град, и бились пять дней неотступно. Батыево войско переменилось, а горожане бессменно бились. И многих горожан убили, а иных ранили, а иные от великих трудов изнемогли. А в шестой день спозаранку пошли поганые на город -одни с огнями, другие с пороками (осадными орудиями), третьи с бесчисленными лестницами -и взяли град Рязань месяца декабря в двадцать первый день».

Запишите число:

1)	Ответ:	
----	--------	--

Задание №81

Прочтите сочинение современного историка и назовите историческое лицо, о котором идёт речь в отрывке

«Необыкновенно расчетливый и осторожный, он пользовался всеми средствами к достижению главной цели, то есть возникновению Москвы за счет ее соседей... Московский князь часто ездил в Орду с дарами и раболепно кланялся хану; он получал от хана помощь в борьбе с соперниками и таким образом самих татар сделал орудием усиления Москвы».

Ответ запишите со строчной буквы, без пробелов.

Запишите ответ:

1)	Ответ:	
----	--------	--

Задание №82

Прочтите сочинение современного историка и назовите историческое лицо, о котором идёт речь в отрывке.

«Он подчинил всех своей воле, избрав новое имя, означающее «посланный небом»; «все татары, раньше враждовавшие, стали его единым покорным войском. Он сам разделил татар на тысячи, сотни и десятки и сам назначил над ними своих тысяцких, сотников и десятских, отвергнув родовых ханов, если он им не доверял».

Ответ запишите со строчной буквы.

Запишите ответ:

1)	Ответ:	
----	--------	--

Задание №83

Прочтите отрывок из сочинения Д.С. Лихачева и укажите, к правлению какого князя относятся описываемые события.

"В 1366 г. (по другим сведениям в 1367 г.) началось строительство нового каменного Московского Кремля на месте деревянных укреплений... Каменный Кремль был значительно больше прежнего дубового. Он был расширен почти до пределов нынешнего...

Построение каменного Московского Кремля тотчас же отразилось на внешней политике князя... Москва становится неприступной для врагов. Нашествия Ольгерда на Москву и в 1368 г., и в 1370 г. были безуспешны".

Ответ запишите со строчной буквы, без пробелов.

Запишите ответ:

1)	Ответ:	
----	--------	--

Задание №84

Прочтите отрывок из сочинения современного историка и напишите прозвище князя, о котором идет речь.

"[Князь] представляется нам тонким политиком, устройтелем опустевшей земли. Неважно, что понимать под его прозвищем... щедрого ли раздавателя милостыни из сумки...или же обыкновенного скупердяя, собравшего в эту сумку, как настоящий скупидом по мелочам, денежные богатства. Для потомков он остался князем, любившим правду, избавившим население от татарских грабежей и погромов".

Ответ запишите со строчной буквы, без пробелов.

Запишите ответ:

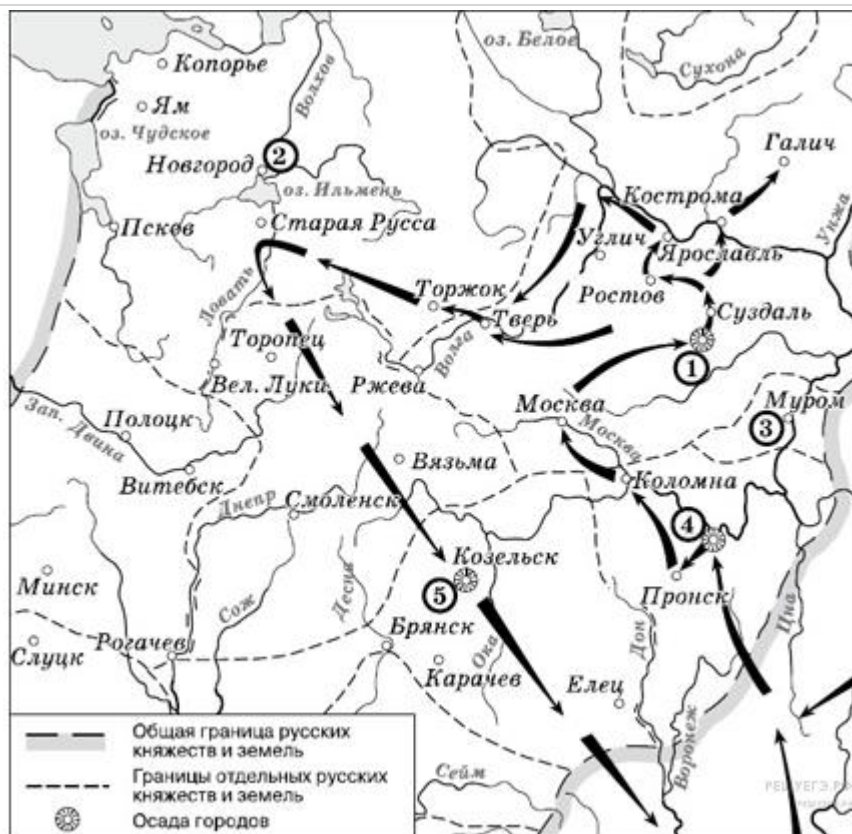
1)	Ответ:	
----	--------	--

Задание №85

Рассмотрите схему и выполните задание

Напишите имя полководца, осуществившего поход, обозначенный на схеме стрелками

Ответ запишите со строчной буквы.



Запишите ответ:

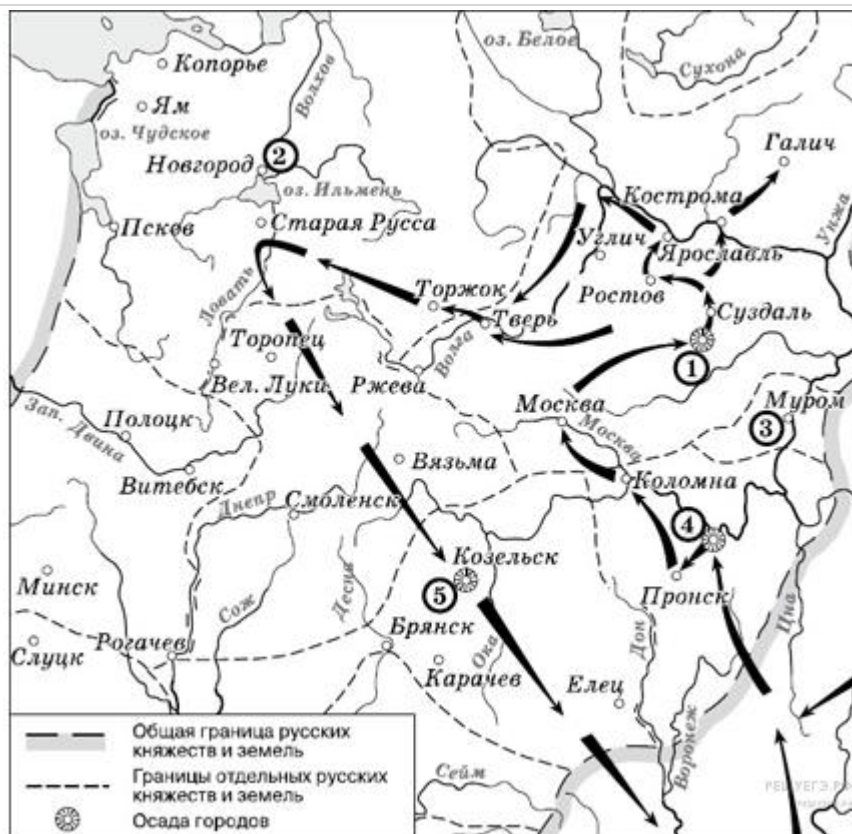
1)

Ответ:

Задание №86

Напишите название города, обозначенного на схеме цифрой «1».

Ответ запишите со строчной буквы.



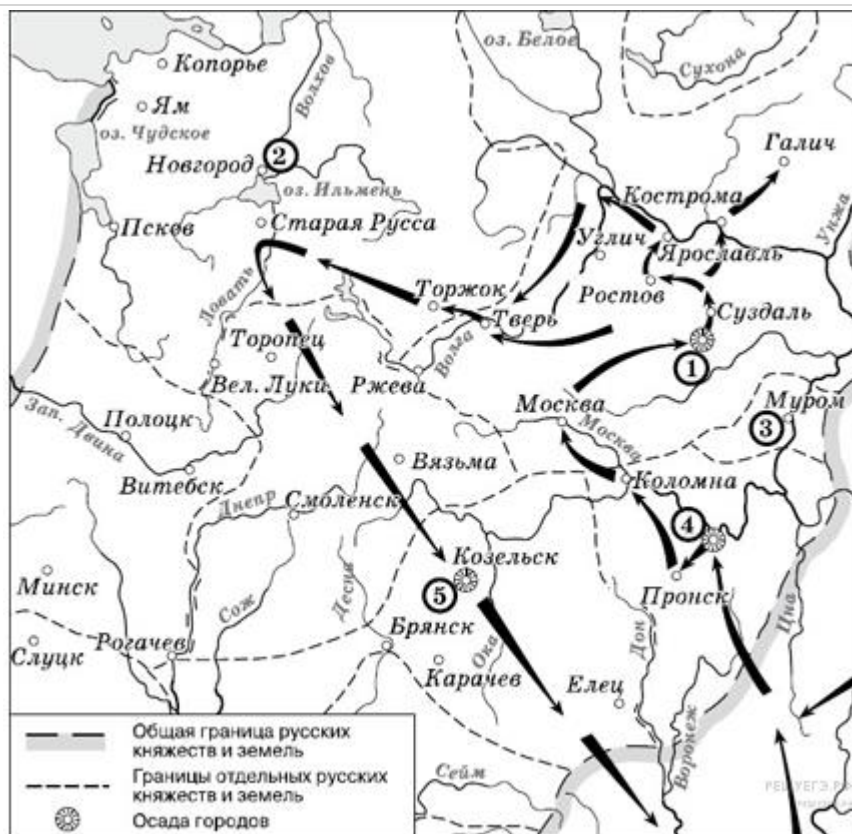
Запишите ответ:

1)

Ответ:

Задание №87

Напишите цифру, которой обозначена столица земли, где в период данного похода существовала республиканская форма правления.



Запишите число:

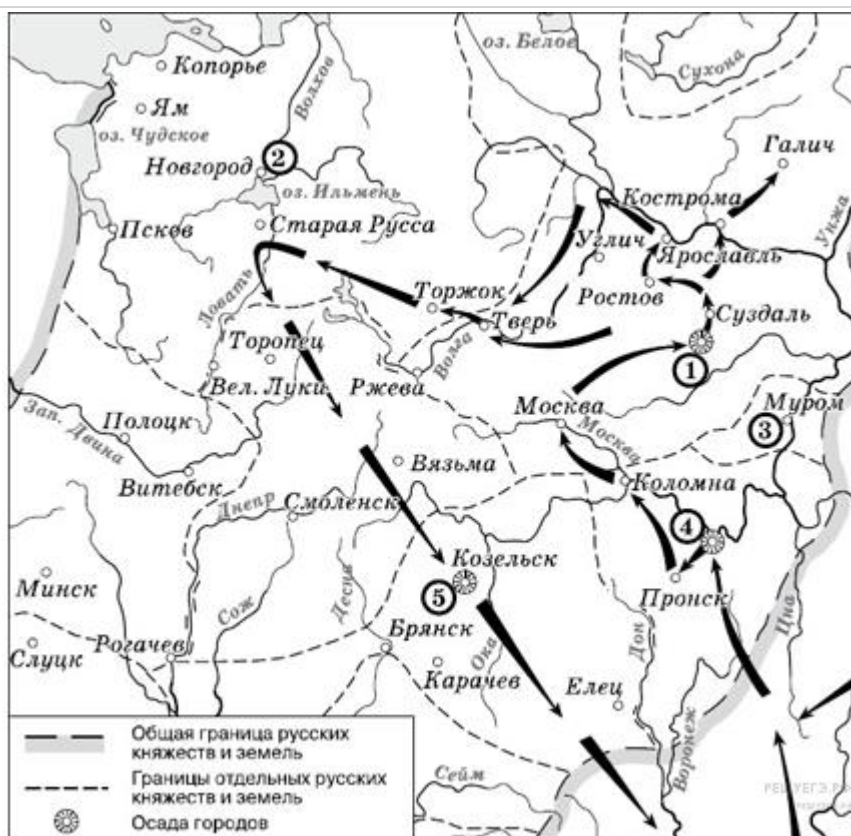
1)

Ответ:

Задание №88

Какие суждения, относящиеся к событиям, обозначенным на схеме, являются верными? Выберите три суждения из шести предложенных.

- 1) завоеватели вторглись в пределы Руси в зимний период
- 2) ни один из городов, захваченных завоевателями, не выдержал осады более одной недели
- 3) поход, обозначенный на схеме стрелками, длился около трёх лет
- 4) одним из последствий событий, обозначенных на схеме, было начало раздробленности Древнерусского государства
- 5) в результате событий, обозначенных на схеме, русские земли попали в зависимость
- 6) полководец, поход которого обозначен на схеме, является основателем государства



Запишите число:

1)

Ответ:

Задание №89

Рассмотрите схему и выполните задание

Напишите имя русского полководца XIII в., одержавшего победы над неприятелем в сражениях, отмеченных на карте цифрами «3» и «4»

Ответ запишите со строчной буквы, без пробелов.

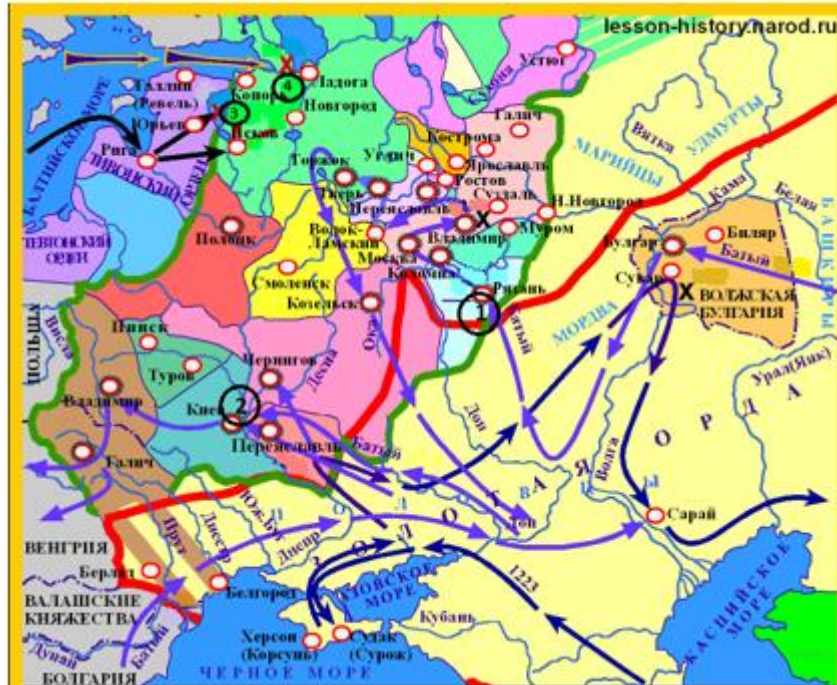


Запишите ответ:

1) Ответ:

Задание №90

Напишите цифру, которой обозначен город, который в XIII в. героически оборонял от захватчиков воевода боярин Дмитр (Дмитрий).



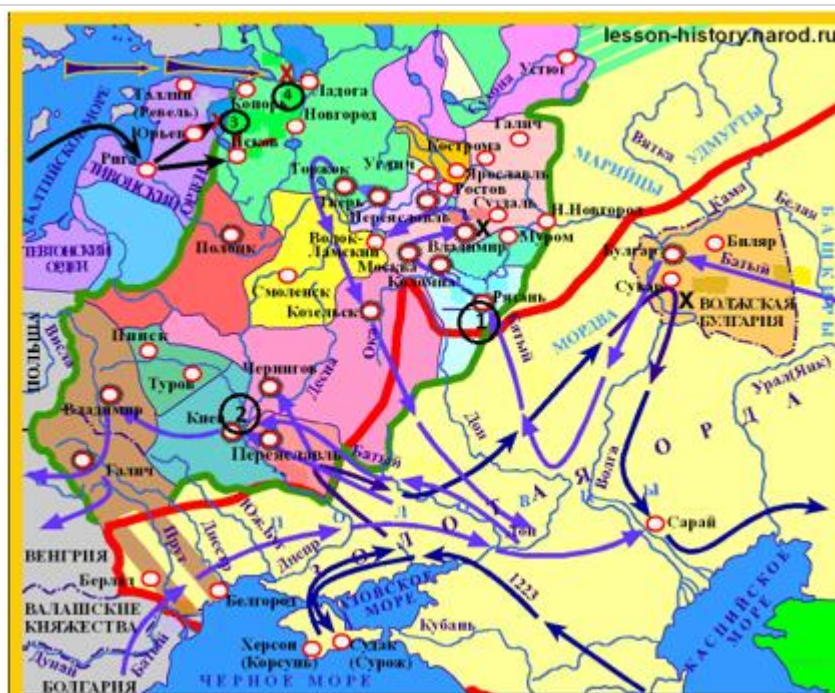
Запишите число:

1) Ответ:

Задание №91

Напишите название реки, на которой в 1223 г. произошла первая встреча русских войск с отрядами монголо-татар.

Ответ запишите со строчной буквы.



Запишите ответ:

1)	Ответ:
----	--------

Задание №92

Какие суждения, относящиеся к событиям, обозначенным на схеме стрелками, являются верными. Выберите три суждения из шести предложенных. Запишите в таблицу цифры, под которыми они указаны.

- 1) первым русским городом, принявшим на себя удар монголо-татар под командованием хана Батыя летом 1237 г., была Рязань
- 2) после ухода монголо-татарского войска из разгромленной Рязани, захватчики подверглись нападению отряда под командованием рязанского боярина Евпатия Коловрата
- 3) на территории Владимиро-Суздальского княжества монголо-татары потерпели своё первое поражения от войск князя Юрия Всеволодовича
- 4) город Псков сумел отстоять свою независимость в период вторжения рыцарей Ливонского ордена на русские земли в первой половине XIII в.
- 5) столицей образовавшейся Золотой Орды стал в 1243 г. город Сарай (Сарай-Бату)
- 6) сражение, отмеченное на карте цифрой «4» произошло в один год с героической обороной и падением Киева

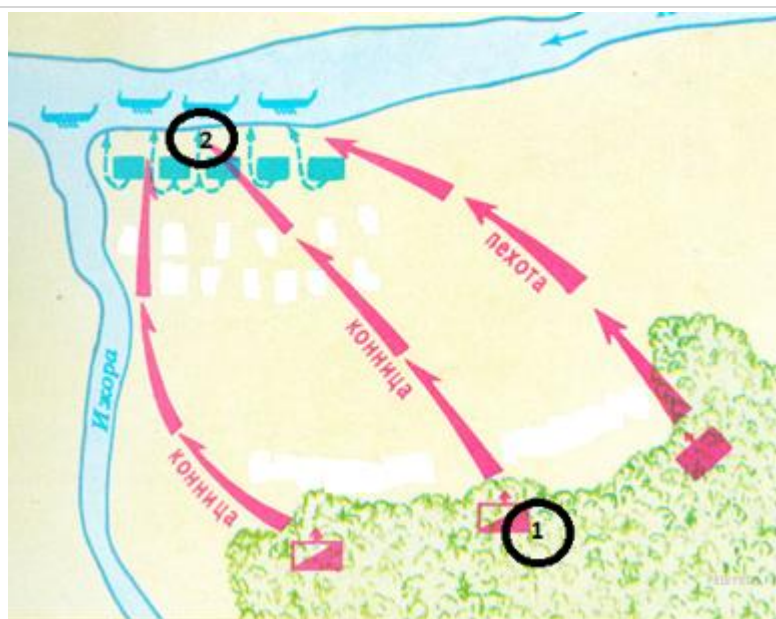
Запишите число:

1)	Ответ:
----	--------

Задание №93

Рассмотрите схему и выполните задание
 Напишите название битвы, представленной на схеме.

Ответ запишите со строчной буквы.



Запишите ответ:

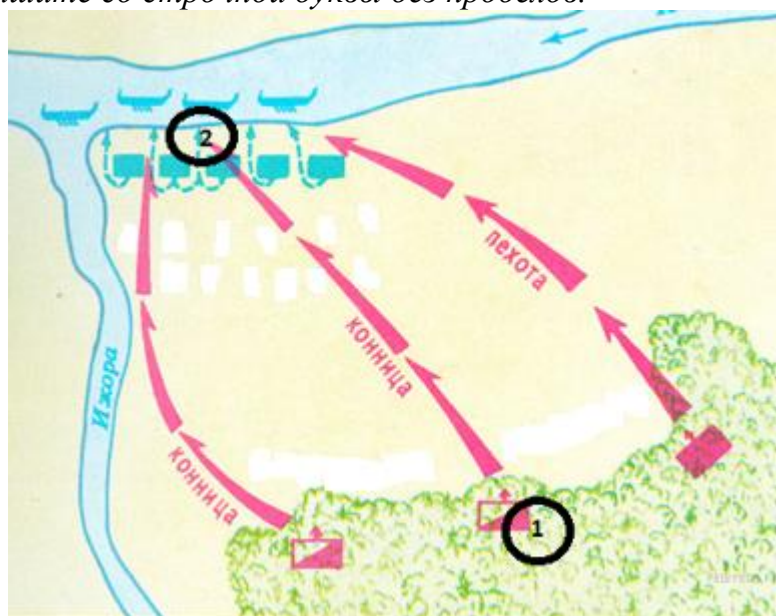
1)

Ответ:

Задание №94

Напишите имя полководца, который командовал войском, отмеченном на схеме цифрой «1».

Ответ запишите со строчной буквы без пробелов.



Запишите ответ:

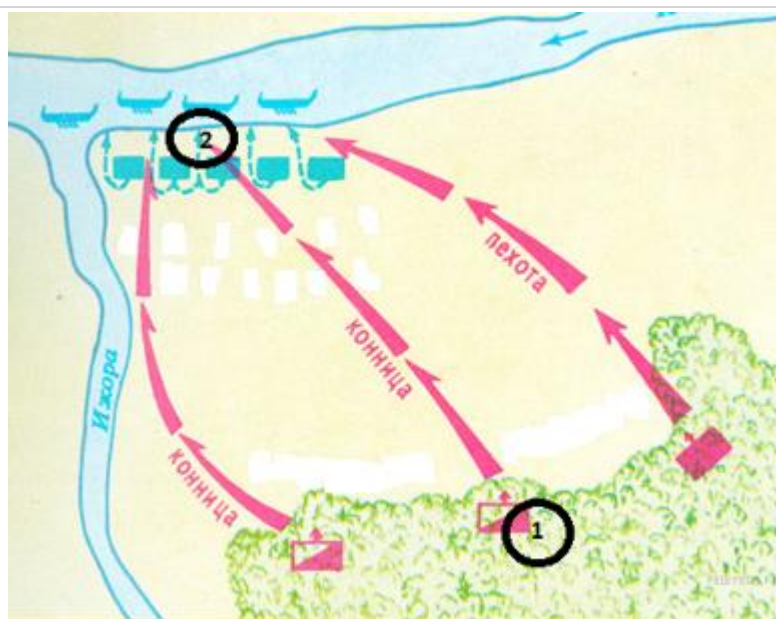
1)

Ответ:

Задание №95

Назовите имя полководца, командовавшего войском, отмеченном на схеме цифрой «2»

Ответ запишите со строчной буквы.



Запишите ответ:

1)	Ответ:	
----	--------	--

Задание №96

Рассмотрите картину и выполните задание.

. Какие суждения о данном изображении являются верными? Выберите два суждения из пяти предложенных. Запишите в таблицу цифры, под которыми они указаны.

- 1) Битва, событие которой изображено на картине, закончилась победой русского войска.
- 2) В поединке, изображённом на картине, русский воин остался жив.
- 3) В битве, изображённой на данной картине, русское войско сражалось с немецкими рыцарями.
- 4) События, изображённые на картине, произошли в XIII в.
- 5) Русский воин изображён на картине слева от зрителя.



Запишите число:

1)	Ответ:	
----	--------	--

Задание №97

На каких картинах А. М. Васнецова изображена Москва после правления князя, при котором состоялась данная битва? В ответе запишите две цифры, под которыми они указаны.



Запишите число:

1)	Ответ:	
----	--------	--

Задание №98

Расположите в хронологической последовательности следующие события.

Укажите порядок следования всех 4 вариантов ответа:

1)	битва на реке Воже
2)	принятие Судебника Ивана III
3)	«стояние на реке Угре»
4)	сожжение Москвы Тохтамышем

Задание №99

Расположите имена исторических деятелей в хронологическом порядке их жизни и деятельности.

Укажите порядок следования всех 4 вариантов ответа:

1)	Василий II Темный
2)	Дмитрий Иванович Донской
3)	Александр Невский
4)	Иван III Васильевич

Задание №100

Установите хронологическую последовательность событий:

Укажите порядок следования всех 4 вариантов ответа:		
1)		битва на Шелони
2)		осада Новгорода войсками Ивана III
3)		осада Казани и освобождение русских пленников
4)		уния между католической и православной церквями

Задание №101

Какие три из перечисленных исторических лиц являлись современниками Ивана III?

- 1) темник Мамай
- 2) Софья Палеолог
- 3) Елена Глинская
- 4) Марфа Борецкая
- 5) хан Ахмат
- 6) М.В. Скопин – Шуйский

Ответ запишите цифрами в порядке их возрастания.

Запишите число:

1)	Ответ:	
----	--------	--

Задание №102

Какие три из перечисленных событий произошли в княжение Ивана III?

- 1) присоединение Тверского княжества к Москве
- 2) феодальная война
- 3) возведение в Московском Кремле Успенского собора и Грановитой палаты
- 4) перенос митрополичьей кафедры из Владимира в Москву
- 5) свержение монголо-татарского ига
- 6) присоединение к Москве Пскова

Ответ запишите цифрами в порядке их возрастания.

Запишите число:

1)	Ответ:	
----	--------	--

Задание №103

Какие характеристики соответствуют ходу и результатам феодальной войны в Московском государстве?

- 1) Юрий был изгнан из Москвы Василием II.
- 2) Юрий Дмитриевич изгнал Василия II с московского престола;
- 3) Юрий умер в Москве;
- 4) Войска Золотой Орды были разгромлены Юрием Дмитриевичем.
- 5) На Русь совершались опустошительные набеги ордынцев.

Ответ запишите цифрами в порядке их возрастания.

Запишите число:

1)	Ответ:	
----	--------	--

Задание №104

Что из перечисленного соответствует ходу и результатам феодальной войны в Московском государстве?

- 1) Василий II попал в плен в Золотую Орду
- 2) Василий II приказал ослепить своего двоюродного брата Василия
- 3) Василий II был ослеплен
- 4) Василий II проявил себя умелым и бесстрашным полководцем
- 5) Василий II сумел бежать из ордынского плена
- 6) ослабление Москвы в результате феодальной войны.

Ответ запишите цифрами в порядке их возрастания.

Запишите число:

1)	Ответ:	
----	--------	--

Задание №105

Какие ханства образовались в середине 15 века, отделившись от власти Сарая?

- 1) Бухарское
- 2) Самаркандское
- 3) Касимовское
- 4) Сибирское
- 5) Крымское

Ответ запишите цифрами в порядке их возрастания.

Запишите число:

1)	Ответ:	
----	--------	--

Задание №106

Какие города и земли были присоединены к Москве в результате деятельности Ивана III?

- 1) Тверь
- 2) Литва
- 3) Новгород Великий
- 4) Казанское ханство
- 5) Ярославское княжество

Ответ запишите цифрами в порядке их возрастания.

Запишите число:

1)	Ответ:	
----	--------	--

Задание №107

Какие города отошли к Москве в результате русско-литовских войн конца XV–начала XVI вв.?

- 1) Казань
- 2) Вязьма
- 3) Рыльск
- 4) Рязань
- 5) Чернигов

Ответ запишите цифрами в порядке их возрастания.

Запишите число:

1)	Ответ:	
----	--------	--

Задание №108

Ограничение прав удельных князей при Иване III?

- 1) должны были с подарками являться в Москву во двор князя
- 2) были конфискованы все земли удельных князей
- 3) запрещалось чеканить свою монету
- 4) сокращались судебные права
- 5) отменялись ряд льгот

Ответ запишите цифрами в порядке их возрастания.

Запишите число:

1)	Ответ:	
----	--------	--

Задание №109

Какие функции выполняли члены Боярской Думы?

- 1) командовали войсками
- 2) без их утверждения великий князь не мог издать никакой закон
- 3) ведали делами церковного управления
- 4) были наместниками в городах
- 5) управляли отдельными отраслями государственного хозяйства

Ответ запишите цифрами в порядке их возрастания.

Запишите число:

1)	Ответ:	
----	--------	--

Задание №110

Что из перечисленного относится к Ивану III?

- 1) был женат на племяннице последнего византийского императора
- 2) разорвал отношения с Большой Ордой
- 3) победил в Куликовской битве
- 4) ликвидировал ордынское иго
- 5) присоединил Литву к Москве

Ответ запишите цифрами в порядке их возрастания.

Запишите число:

1)	Ответ:	
----	--------	--

Задание №111

Выберите из списка три события, относящихся к правлению Ивана III, и запишите номера, под которыми они указаны, в ответ в порядке возрастания.

- 1) присоединение Смоленска
- 2) введение государственного герба — двуглавого орла
- 3) присоединение Новгорода
- 4) расцвет приказной системы
- 5) создание стрелецкого войска
- 6) постройка краснокирпичного Московского Кремля

Запишите число:

1)	Ответ:	
----	--------	--

Задание №112

Выберите из списка три исторические личности, связанные с княжением Ивана III. Запишите номера, под которыми они указаны, в ответ в порядке возрастания.

- 1) хан Ахмат
- 2) хан Тохтамыш
- 3) Сергей Радонежский
- 4) Иосиф Волоцкий
- 5) Софья Палеолог
- 6) Елена Глинская

Запишите число:

1)	Ответ:	
----	--------	--

Задание №113

Какие три из перечисленных ниже лиц были современниками князя Ивана III? Соответствующие цифры запишите в ответ в порядке возрастания.

- 1) Софья Палеолог
- 2) хан Ахмат
- 3) Мамай
- 4) Аристотель Фиораванти
- 5) Доминико Трезини
- 6) Сергей Радонежский

Запишите число:

1)	Ответ:	
----	--------	--

Задание №114

Какие три из перечисленных ниже событий и явлений связаны с княжением Ивана III?

- 1) расцвет приказной системы
 - 2) Семилетняя война
 - 3) «Стояние на Угре»
 - 4) Присоединение Новгорода к Москве
 - 5) Созыв первого Земского Собора
 - 6) постройка краснокирпичного Московского Кремля
- Ответ запишите цифрами в порядке их возрастания.*

Запишите число:

1)	Ответ:	
----	--------	--

Задание №115

Какие три из перечисленных ниже событий и явлений связаны с княжением Ивана III?

- 1) присоединение Смоленска
- 2) введение государственного герба
- 3) женитьба на Софье Палеолог
- 4) деятельность Избранной Рады
- 5) учреждение опричнины
- 6) издание Судебника

Ответ запишите цифрами в порядке их возрастания.

Запишите число:

1)

Ответ:

Задание №116

Отметьте события, происшедшие в правление князя Василия Дмитриевича

- 1) Москва избежала нашествия Тимура
 - 2) Митрополит Киприан основал ряд общинножительских монастырей
 - 3) Москва и Новгород подписали Яжелбицкий договор
 - 4) В соборах Владимира и Переяславля-Залесского проведены большие реставрационные работы
 - 5) Русская церковь обособилась от Византии и стала автокефальной
- Ответ запишите цифрами в порядке их возрастания.*

Запишите число:

1)

Ответ:

Задание №117

Что из перечисленного относится к правлению Василия I?

- 1) пережил угрозу нашествия Тимура
 - 2) первым получил великое княжение по завещанию от своего отца
 - 3) присоединил к Москве Вологодские земли
 - 4) превратил Москву в крупнейший религиозный центр Восточной Руси
 - 5) ввёл новый титул – царь
 - 6) ввел клятвенные грамоты для князей и бояр
- Ответ запишите цифрами в порядке их возрастания.*

Запишите число:

1)

Ответ:

Задание №118

Что из перечисленного относится к деятельности Василия II ?

- 1) трижды изгонялся из Москвы галицко-волынскими князьями
 - 2) был отпущен за выкуп из ордынского плена
 - 3) присоединил к Москве Псковские земли
 - 4) был схвачен и ослеплён Дмитрием Шемякой
 - 5) разгромил Ахмата на Угре
 - 6) ввёл единую денежную единицу – копейку.
- Ответ запишите цифрами в порядке их возрастания.*

Запишите число:

1)

Ответ:

Задание №119

Во время правления Ивана III:

- 1) введены клятвенные грамоты для князей и бояр
- 2) введён новый титул – царь
- 3) завершено создание единого централизованного государства
- 4) завоёван контроль над Волжским торговым путём
- 5) присоединил к Москве вологодские земли
- 6) установил добрососедские отношения с Новгородом Великим

Ответ запишите цифрами в порядке их возрастания.

Запишите число:

1)

Ответ:

Задание №120

Во время правления Ивана III:

- 1) к Москве были присоединены новгородские, пермские, вятские и угорские земли
- 2) учреждены новые органы казна и дворец
- 3) отразил нападение Тимура
- 4) учреждена система кормлений
- 5) начато строение белокаменного кремля в Москве
- 6) ввёл заповедные лета

Ответ запишите цифрами в порядке их возрастания.

Запишите число:

1)

Ответ:

Задание №121

Заполните пропуски в таблице.

Годы	Правитель	Событие
_____ (А)	Василий I Дмитриевич	_____ (Б)
1399	_____ (В)	<u>битве на Ворскле</u>
1497	_____ (Г)	_____ (Д)

Заполните пропуски:

А)[1392 г.|«Стояние на Угре»|Витовт|покупка в Орде права на Нижний Новгород|Грюнвальдская битва|Иван III|сражение на р. Альте|принятие Судебника|1410 г.] Б) [1392 г.|«Стояние на Угре»|Витовт|покупка в Орде права на Нижний Новгород|Грюнвальдская битва|Иван III|сражение на р. Альте|принятие Судебника|1410 г.] В)[1392 г.|«Стояние на Угре»|Витовт|покупка в Орде права на Нижний Новгород|Грюнвальдская битва|Иван III|сражение на р. Альте|принятие Судебника|1410 г.] Г)[1392 г.|«Стояние на Угре»|Витовт|покупка в Орде права на Нижний Новгород|Грюнвальдская битва|Иван III|сражение на р. Альте|принятие Судебника|1410 г.] Д)[1392 г.|«Стояние на Угре»|Витовт|покупка в Орде права на Нижний Новгород|Грюнвальдская битва|Иван III|сражение на р. Альте|принятие Судебника|1410 г.]

Задание №122

Рассмотрите изображения и выполните задание.

Напишите имя князя и прозвание, изображённого на рисунке



Запишите ответ:

1)

Ответ:

Задание №123

Рассмотрите изображения и выполните задание.

Выберите верные ответы.

- 1) был внуком литовского князя Витовта
- 2) в годы правления князя, изображённого на иллюстрации, произошло окончательное освобождение от монгольского ига
- 3) в результате феодальной борьбы ослеплён своим двоюродным братом
- 4) соправителем князя был его сын Иван III
- 5) главным направлением внешней политики данного князя была борьба с тевтонским орденом
- 6) при данном князе началось строительство белокаменного кремля в Москве



Запишите число:

1)

Ответ:

Задание №124

Внимательно рассмотрите изображения, выберите те из них, которые изображают моменты истории, связанные с правлением этого князя и запишите цифры, под которыми они указаны *в порядке возрастания*.

1.



2.



3.

4.



Запишите число:

1)

Ответ:

Задание №125

Укажите век, когда в состав единого Русского государства вошли города, обозначенные на схеме цифрами «3», «4» и «5» (ответ напишите словом со строчной буквы в и.п.).



Запишите ответ:

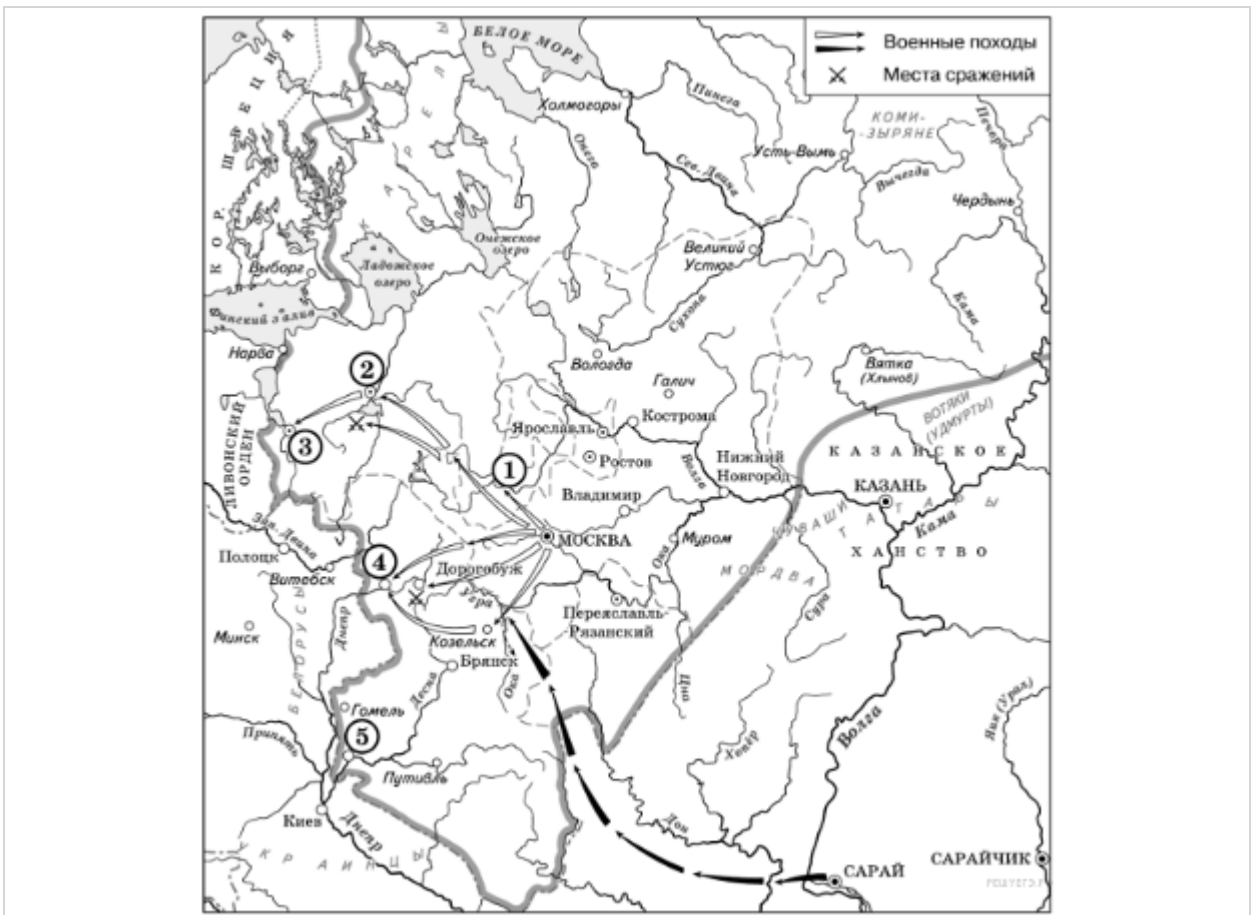
1)	Ответ:
----	--------

Задание №126

Рассмотрите схему и выполните задания.

Назовите князя, в годы правления которого в состав единого Русского государства вошли города, обозначенные на схеме цифрами «1» и «2».

Ответ запишите со строчной буквы без пробелов.



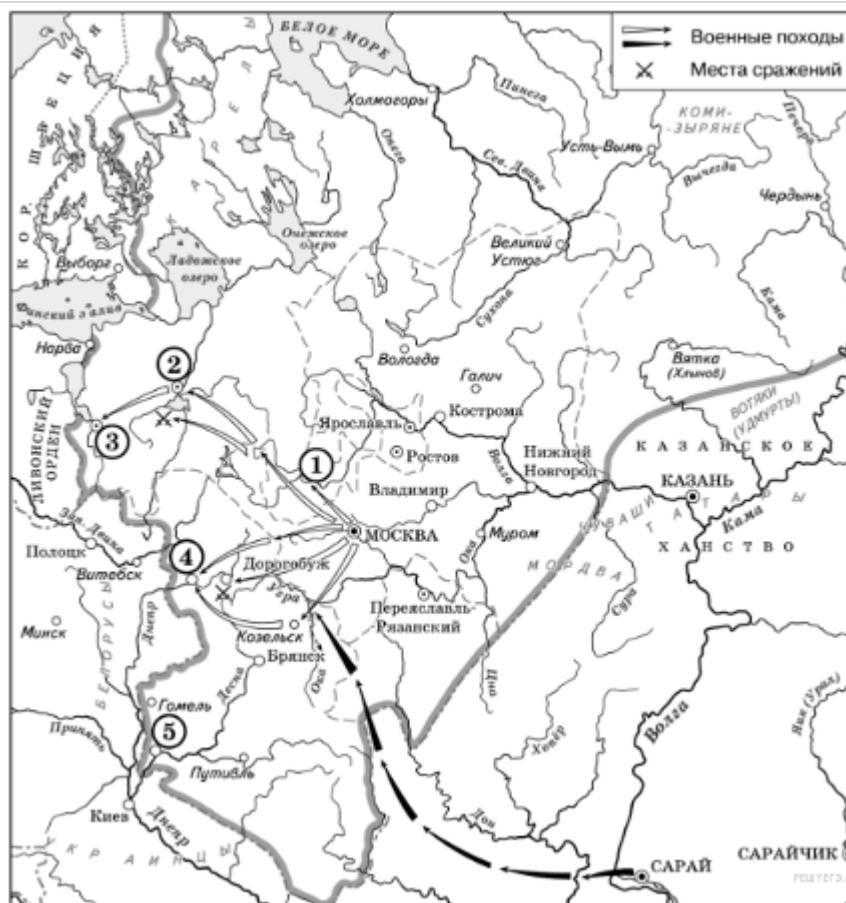
Запишите ответ:

1)	Ответ:
----	--------

Задание №127

Назовите князя, при котором Русское государство достигло границ, обозначенных на схеме жирной чертой.

Ответ запишите со строчной буквы без пробелов.



Запишите ответ:

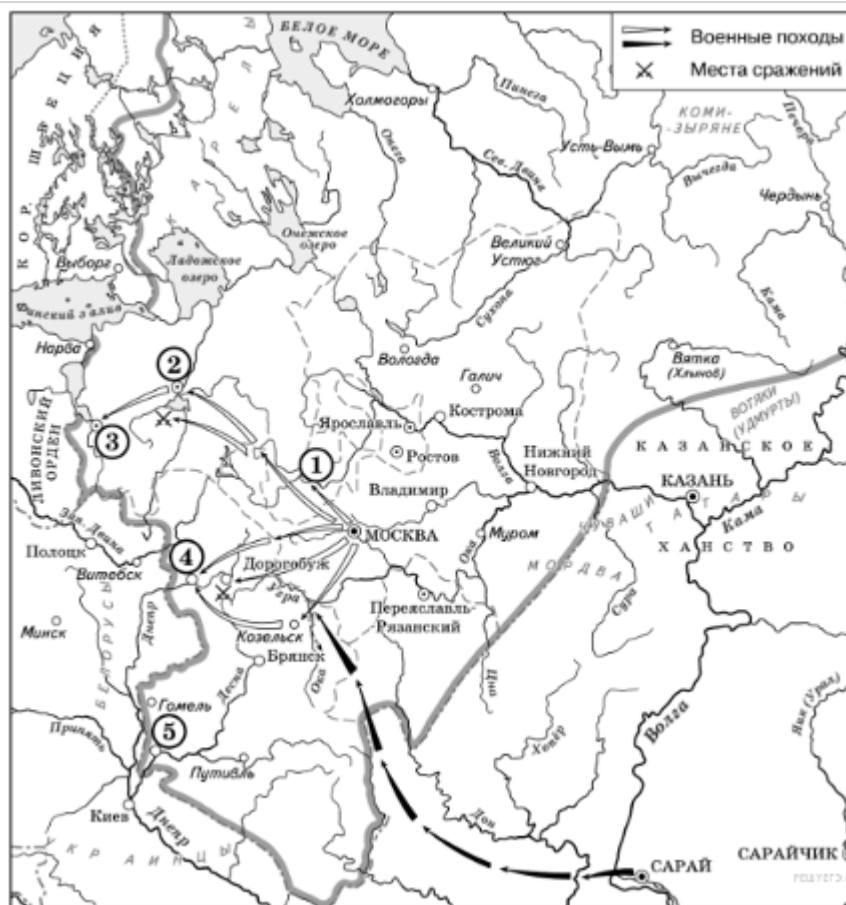
1)

Ответ:

Задание №128

Какие суждения, относящиеся к данной схеме, являются верными? Выберите три суждения из шести предложенных. *Запишите цифры, под которыми они указаны в порядке возрастания.*

- 1) В городах, обозначенных цифрами «2» и «3», до вхождения в состав единого Русского государства существовала республиканская форма правления.
- 2) Следствием провала похода, обозначенного чёрными стрелками, стало освобождение Русского государства от ордынского ига.
- 3) Город, обозначенный цифрой «1», вошёл в состав единого Русского государства в 1478 г.
- 4) Ордынское войско в походе, обозначенном чёрными стрелками, возглавлял Мамай.
- 5) Город, обозначенный цифрой «2», вошёл в состав единого Русского государства в 1485 г.
- 6) Города, обозначенные цифрами «4» и «5», были отвоёваны Русским государством у Великого княжества Литовского.



Запишите число:

1)	Ответ:
----	--------

Задание №129

Фрагменты источников.

А. Тогда же Мамай с немногими убежал и пришел в свою землю с небольшой дружиной. И, видя, что он разбит, и обращен в бегство, и посрамлен, и поруган, снова распалился гневом и собрал оставшиеся свои силы, чтобы опять напасть на Русь. Когда он так порешил, пришла к нему весть, что идет на него с востока некий царь Тохтамыш из Синей Орды. Мамай же, подготовивший войско против нас, с тем войском готовым и пошел на него. И встретились на Калках, и была у них битва. И царь Тохтамыш одолел Мамаю и прогнал его. Мамаевы же князья, сойдя с коней своих, били челом царю Тохтамышу, и принесли присягу ему по своей вере, и стали на его сторону, а Мамаю оставили посрамленным; Мамай же, увидев это, поспешно бежал со своими единомышленниками.

Б. Царь Ахмат, услышав, что князь великий стоит у Оки на берегу со всеми силами, пошел к Литовской земле, обходя реку Оку и ожидая на помощь себе короля или его силы, и опытные проводники вели его к реке Угре на броды. Князь же великий сына своего, и брата, и воевод послал на Угру со всеми силами, и, придя, они стали на Угре и заняли броды и перевозы. А сам князь великий поехал из Коломны на Москву к церквам Спаса и Пречистой Богородицы и к святым чудотворцам, прося помощи и защиты православному христианству, желая обсудить и обдумать это с отцом своим митрополитом Геронтием, и со своей матерью великой княгиней

Марфой, и своим дядей Михаилом Андреевичем, и со своим духовным отцом архиепископом Ростовским Вассианом, и со своими боярами – ибо все они тогда пребывали в осаде в Москве.

Используя отрывок и знания по истории, выберите в приведённом списке три верных суждения. Запишите в ответ цифры, под которыми они указаны *в порядке возрастания*.

Характеристики

- 1) Описываемые события произошли в XIII веке.
- 2) Один из военачальников, упомянутый в тексте, совершил поход на Москву и сжёг её.
- 3) Описываемые события произошли в XIII веке.
- 4) Современницей описываемых событий была Елена Глинская.
- 5) Современницей описываемых событий была Софья Палеолог.
- 6) Описываемые события произошли в XIV веке.

Запишите число:

1)	Ответ:	
----	--------	--

Задание №130

«На протяжении XV века его стиль сделался общерусским стилем, а его личность начали воспринимать как идеальный образ художника», - так охарактеризовал искусствовед В.Н. Лазарев творчество

Выберите один из 4 вариантов ответа:

1)	Симона Ушакова
2)	Феофана Грека
3)	Андрея Рублёва
4)	Дионисия

Задание №131

Основатель и глава нестяжательства в России. Развивал идеи нравственного самосовершенствования, выступал за реформу монастырей на началах скитской жизни и личного труда монашествующих.

Выберите один из 4 вариантов ответа:

1)	Сергий Радонежский
2)	Максим Грек
3)	Иосиф Волоцкий
4)	Нил Сорский

Задание №132

Самым знаменитым творением А. Рублёва является

Выберите один из 4 вариантов ответа:		
1)		«Спас нерукотворный»
2)		«Троица»
3)		«Распятие»
4)		«Покров Пресвятой Богородицы»

Задание №133		
Известный иконописец, выходец из Византии, работавший в Новгороде на рубеже XV-XVI вв.		
Выберите один из 4 вариантов ответа:		
1)		Дионисий
2)		Феофан Грек
3)		Симон Ушаков
4)		Андрей Рублёв

Задание №134		
Автор росписи собора Успения на Городке		
Выберите один из 4 вариантов ответа:		
1)		Андрей Рублёв
2)		Дионисий
3)		Даниил Чёрный
4)		Феофан Грек

Задание №135		
Главной идеей «Троицы» Андрея Рублёва является		
Выберите один из 4 вариантов ответа:		
1)		идея мира и согласия
2)		идея свободы, равенства
3)		идея справедливости и порядка
4)		нет верного ответа

Задание №136		
Установите соответствие между понятиями и их определениями.		

Укажите соответствие для всех 4 вариантов ответа:			
1)		чернь, скань, эмаль	1) жанры древнерусской литературы
2)		кириллица, глаголица	2) виды ювелирной техники
3)		фреска, мозаика	3) виды письменности на Руси
4)		летописи, сказания	4) виды древнерусской живописи
			5) архитектурные стили

Задание №137

Установите соответствия между названиями произведений и их авторами.

Укажите соответствие для всех 4 вариантов ответа:			
1)		«Слово о законе и благодати»	1) Илларион
2)		"Повесть временных лет»	2) Владимир Мономах
3)		«Поучение детям»	3) Нестор
4)		«Задонщина»	4) Ярослав Мудрый
			5) Софроний Рязанец

Задание №138

Установите соответствия между названиями произведений и их жанрами.

Укажите соответствие для всех 4 вариантов ответа:			
1)		былины	1) «Повесть временных лет»
2)		летописи	2) «Садко»
3)		сказания	3) «Поучение Владимира Мономаха детям»
4)		автобиографические повести	4) «Задонщина»

Задание №139

Установите соответствия между именами правителей и памятниками зодчества.

Укажите соответствие для всех 4 вариантов ответа:			
1)		Иван III	1) Петропавловская крепость

2)		Пётр I	2)	Успенский собор Московского Кремля
3)		Дмитрий Донской	3)	храм Христа Спасителя
4)		Ярослав Мудрый	4)	белокаменный Московский Кремль
			5)	Софийский собор в Киеве

Задание №140

Установите соответствие между памятниками архитектуры и временем их создания.

Укажите соответствие для всех 4 вариантов ответа:

1)		Архангельский собор	1)	1420—1425 гг.
2)		Успенский собор	2)	1505—1508 гг.
3)		Спасский собор	3)	1487—1491 гг.
4)		Грановитая палата	4)	1475—1479 гг.
			5)	1555—1561 гг.

Задание №141

Прочтите отрывок из сочинения Г. Ветровой из книги «Русское искусство» и укажите название памятника искусства, о котором идёт речь

Каждый мазок и каждая линия проведены трепетной рукой. Цвет не составляется заранее. Одна краска просвечивает сквозь другую, и одежды боковых Ангелов, подобных которым нет на земле, мерцают и переливаются. А в одеждах среднего Ангела — созвучие густо-вишневого, золота и знаменитого рублевского «голубца» — чистейшей ляпис-лазури, самой драгоценной и очень любимой древними мастерами краски.

Ответ запишите со строчной буквы в ед.ч. и.п.

Запишите ответ:

1)	Ответ:	
----	--------	--

Задание №142

Прочтите отрывок из сочинения историка В.Янина и укажите, фамилию художника о котором идёт речь.

"Нет в XV веке более звонкого имени. Перечень сохранившихся работ величайшего русского художника средневековья невелик..., но даже части сохранившегося, даже одной-единственной неповторимой Троицы было бы достаточно для бессмертия его имени"

Ответ запишите со строчной буквы.

Запишите ответ:

1)	Ответ:	
----	--------	--

Задание №143

Какие суждения об изображённой иконе являются верными? Выберите два из пяти предложенных.




Выберите несколько из 5 вариантов ответа:

1)	икона была создана в XVII в.
2)	автором является А. Рублёв
3)	была написана для использования в католическом соборе
4)	в настоящее время хранится в Москве в Третьяковской галерее
5)	в основу иконы положен новозаветный сюжет распятия Христа

Задание №144


Какие из зданий, представленных ниже, были построены в том же век, что и указанная икона?



1)




3)



2)



4)



Запишите число:

1)

Ответ:

Задание №145

Какие суждения об архитектурном сооружении, которое изображено на фотографии, являются верными?

- 1) изображён Успенский собор
- 2) строительство архитектурного памятника было завершено в XVII в.
- 3) собор построен в стиле раннего рококо
- 4) архитектором, построившим собор, был Аристотель Фиорованти
- 5) собор находится во Владимире



Запишите число:





1)

Ответ:

Задание №146

Какие из зданий, представленных ниже, были построены в правление того же правителя, что и указанный собор? Запишите цифры, под которыми они указаны.



1) 	3) 
2) 	4) 
Запишите число:	
1)	Ответ:

Примерное задание Части 2.

Прочтите отрывок из исторического источника и кратко ответьте на вопросы 1—3. Ответы предполагают использование информации из источника, а также применение исторических знаний по курсу истории соответствующего периода.

Из работы историка В. В. Каргалова.

«Русские князья в первые годы после нашествия были заняты больше восстановлением своих разгромленных княжеств..., чем проблемой установления каких-либо отношений с ушедшими за пределы русских земель завоевателями. Видимо, полного единодушия в Северо-Восточной Руси по этому вопросу не было. Сильные и богатые города на северозападной и западной окраинах, не подвергшиеся разгрому, выступали против признания зависимости от ордынских ханов.

Северо-Западной Руси, которая выступала против подчинения ордынскому хану, противостояла группировка ростовских князей. Существование двух группировок - северо-западной, выступавшей против признания зависимости от ханов, и ростовской, склонявшейся к установлению мирных отношений с завоевателями, - во многом

определяло политику великого Владимирского князя. Эта политика в первое десятилетие была двойственной. С одной стороны, большая часть Северо-Восточной Руси была опустошена нашествием и уже не имела сил для открытого сопротивления завоевателям, что делало неизбежным признание зависимости от золотоордынских ханов... С другой стороны, существование сильной оппозиции ордынской власти в Северо-Западной Руси могло пробуждать надежду при определенных условиях противостоять притязаниям завоевателей».

1. О каком событии идет речь в приведенном тексте? Когда оно произошло? Как называлось государство, основанное завоевателями?

2. Какая важная для Руси проблема рассматривается историком? На основе текста и знаний по истории укажите, как относились к ней представители отдельных русских земель (укажите не менее двух позиций).

3. Как оценивает автор политику великого князя Владимирского? Чем эта оценка была обусловлена? Приведите не менее трех положений в ответ на оба вопроса.