

Материалы
для подготовки к тесту по истории 8 класс М-2 базовый уровень
по теме «Россия и Европа в конце XVII – первой четверти XVIII веков».

Тема	Содержание
Россия и Европа в конце XVII века.	Усиление Османской империи; угроза Европе. Борьба России за украинские земли и Крым, «буферная зона», Бахчисарайское соглашение с Турцией, создание Священной лиги, заключение России «Вечного мира» с Речью Посполитой, антифранцузская коалиция, война Франции за испанское наследство, балтийский вопрос, Северный Союз
Предпосылки петровских реформ.	Усиление иностранного влияния на Россию: появление иностранных специалистов, Немецкая слобода, деятельность Симеона Полоцкого, распространение в России опыта предпринимательской деятельности, реформы А.Л. Ордина-Нащокина, реформаторская деятельность В.В. Голицына
Начало правления Петра I	Двоецарствие. Царевна Софья, «потешные полки» Петра, начало царствования, Азовские походы Петра I, попытка выхода к морю, Великое посольство, поиски союзников в решении главных вопросов внешней политики
Великая Северная война 1700 – 1721 гг.	Действия балтийских государств в придверии войны, начало Северной войны, поражение под Нарвой, реформы в армии, царский указ 1705 г., создание военной экономики, начало подготовки военных кадров, принятие «Устава воинского», строительство военно-морского флота, Полтавское сражение, победа и перелом в войне, Прутский поход, компромиссные соглашения с Турцией, победы русского флота у мыса Гангут, у острова Гренгам, Ништадтский мир

Понятия: Священная Лига, академия, гвардия, империя, конфузия, Лавра, реформы, рекрутские наборы.

Персоналии: император Петр I, султан Мехмед IV, король Ян Собеский, король Людовик XIV, король Вильгельм III, король Карл XII, Симеон Полоцкий, Б.И. Морозов, И.Д. Милославский, А.Д. Ордин-Нащокин, В.В. Голицын, Ф.Я. Лефорт, Г.В. Лейбниц

Даты:

1681 – Бахчисарайский договор между Турцией и Россией,

1684 – Создание Священной Лиги,

1686 – Заключение «Вечного мира» между Россией и Польшей – союз против Турции,

1687 – Основание Славяно-греко-латинской академии,

1689 – Неудачный Стрелецкий бунт, смещение Софьи, самостоятельное правление Петра I (1682-1725),

1695 – Первый неудачный Азовский поход,

1696 – Начало строительства флота на Дону – взятие Азова (второй Азовский поход)

1697 – Победа антифранцузской коалиции,

1697 – 1698 – «Великое посольство» в Европу,

1698 – Стрелецкий бунт и его подавление, казни и роспуск стрелецких полков.

- Начало Петровских реформ: запрет бород и введение европейской одежды,

1699 – Замена дворянского ополчения полками регулярной армии из новобранцев.

- Введение европейского летоисчисления

1699 г.– договоры между Саксонией, Данией, Россией о борьбе против Швеции,

1700 – Начало Северной войны (1700-1721) со Швецией и поражение под Нарвой,

- 1701 – Запрет опускаться перед государем на колени. Создание Навигационной школы,
 1702 – Захват Нотебурга (Орешка – Шлиссельбурга) в истоке Невы. Начало строительства Балтийского флота. Строительство заводов-мануфактур для нужд армии и флота.
 1703 – Основание Санкт-Петербурга.
 1708 – Вторжение шведов в Россию. Битва при деревне Лесной.
 1709 – 27 июля победы под Полтавой.
 1710 – Захват Лифляндии (Риги), Карелии.
 1711 – Прутский поход против Турции.
 1712 – Петербург объявлен столицей, переселение высшей знати.
 1714 – Сражение у мыса Гангут. Уравнивание поместья и вотчин – слияние бояр и дворян в одно сословие. Создание цифровых школ.
 1720 – Победы русского флота у острова Гренгам.
 1721 – Ништадтский мир. Провозглашение России империей. Создание Синода.

Материал для подготовки:

Лекция

В.В. Носков, Т.П. Андреевская Всеобщая история. 7 кл. Глава IV

История России. 8 класс. Часть 1, глава I, § 1, 2, 3, 4

Для того, чтобы получить допуск к тесту учащийся должен выполнить следующие виды работ:

- оформить лекционную тетрадь;
- работа с документом;
- картографический практикум (контурная карта);

Выполнение каждого вида работ подтверждается отметкой учителя в зачётном листе и допуском к итоговому тесту.

Банк заданий.

Задание №1

В каком году был подписан Бахчисарайский мир России с Турцией?

Выберите один из 4 вариантов ответа:

1)	1649 г.
2)	1663 г.
3)	1669 г.
4)	1681г.

Задание №2

Назовите дату основания города Санкт-Петербурга, будущей столицы Российской империи.

Выберите один из 4 вариантов ответа:

1)	1698 г.
2)	1700 г.

3)		1703 г.
4)		1724 г.

Задание №3

В каком году русская армия попала в окружение в результате Прутского похода?

Выберите один из 4 вариантов ответа:

1)		1700 г.
2)		1703 г.
3)		1711г.
4)		1720 г.

Задание №4

В каком году в Европе была создана Священная лига для борьбы с Турцией?

Выберите один из 4 вариантов ответа:

1)		1676 г.
2)		1681 г.
3)		1684 г.
4)		1698 г.

Задание №5

Назовите полководца, который руководил русской армией в ходе Полтавской битвы.

Выберите один из 4 вариантов ответа:

1)		А.Д. Меншиков
2)		Август II
3)		А.В. Суворов
4)		П.И. Багратион

Задание №6

Назовите имя полководца, который совместно с Петром I руководил Полтавской битвой.

Выберите один из 4 вариантов ответа:		
1)		Б.П. Шереметев
2)		И. Мазепа
3)		Б. Хмельницкий
4)		М. Романов

Задание №7		
Какое государственное учреждение возглавлял А.Л. Ордин- Нащокин?		
Выберите один из 4 вариантов ответа:		
1)		Приказ тайных дел
2)		Разрядный приказ
3)		Посольский приказ
4)		Боярскую думу

Задание №8		
Назовите воспитателя детей царя Алексея Михайловича		
Выберите один из 4 вариантов ответа:		
1)		Борис Морозов
2)		Симеон Полоцкий
3)		Борис Годунов
4)		Филарет Романов

Задание №9		
Фаворитом царевны Софьи и фактическим правителем страны в 1682-1689 гг. был		
Выберите один из 4 вариантов ответа:		
1)		Илья Милославский

2)		Василий Голицын
3)		Василий Шорин
4)		Андрей Вениамин

Задание №10

При каком государе в армии России появились полки «иноземного строя»?

Выберите один из 4 вариантов ответа:

1)		Иване IV
2)		Борисе Годунове
3)		Михаиле Романове
4)		Петре I

Задание №11

Симеон Полоцкий, воспитатель детей Алексея Михайловича, также известен как

Выберите один из 4 вариантов ответа:

1)		военачальник
2)		поэт и публицист
3)		ювелир и гончар
4)		основатель первого православного монастыря в Левобережной Украине

Задание №12

В годы малолетства Петра I страной фактически правил(-а)

Выберите один из 4 вариантов ответа:

1)		мать Петра I
2)		сводная сестра Петра
3)		патриарх Московский и всея Руси
4)		старший дьяк Посольского приказа

Задание №13

Пётр I отправился в составе Великого посольства под именем

Выберите один из 4 вариантов ответа:		
1)		императора России Петра Великого
2)		урядника Преображенского полка Петра Михайлова
3)		дьяка Посольского приказа Петра Алексеева
4)		митрополита Московского Петра

Задание №14

Как звали гетмана Украины, который предал Петра I и перешёл на сторону шведского короля Карла XII?

Выберите один из 4 вариантов ответа:		
1)		Богдан Хмельницкий
2)		Петр Сагайдачный
3)		Михаил Дорошенко
4)		Иван Мазепа

Задание №15

Соперником России на побережье Балтийского моря была

Выберите один из 4 вариантов ответа:		
1)		Англия
2)		Франция
3)		Швеция
4)		Испания

Задание №16

Какая страна входила в состав коалиции, получившей название «Северный Союз»?

Выберите один из 4 вариантов ответа:

1)	Швеция
2)	Дания
3)	Норвегия
4)	Франция

Задание №17

Для войны со Швецией Пётр I организовал коалицию с Данией и Саксонией, которая называлась

Выберите один из 4 вариантов ответа:

1)	Антишведская лига
2)	Восточный контракт
3)	Северный Союз
4)	Священный союз

Задание №18

Назовите морскую победу Петра I.

Выберите один из 4 вариантов ответа:

1)	Нарва
2)	Гангут
3)	Лесная
4)	Полтава

Задание №19

Назовите страну - союзницу России в Северной войне.

Выберите один из 4 вариантов ответа:

1)	Швеция
2)	Болгария
3)	Дания
4)	Франция

Задание №20

Назовите город где был подписан мирный договор по итогам Северной войны

Выберите один из 4 вариантов ответа:

1)		Петербург
2)		Москва
3)		Кексгольм
4)		Ништадт

Задание №21

Какое сражение Пётр I назвал «матерью Полтавской баталии»?

Выберите один из 4 вариантов ответа:

1)		битву под Нарвой
2)		захват крепости Нотебург
3)		битву у мыса Гангут
4)		сражение у деревни Лесной

Задание №22

Назовите морскую победу Петра I

Выберите один из 4 вариантов ответа:

1)		Гренгам
2)		Нарва
3)		Лесная
4)		Полтава

Задание №23

Особенность карьеры А.Л. Ордина-Нащокина заключалась в том, что он

Выберите один из 4 вариантов ответа:		
1)		первым получил звание боярина не за родовитость, а за личные заслуги
2)		оставался в звании дворянина, и при этом возглавил Посольский приказ
3)		отказался от всех чинов и титулов и предложил ввести Табель о рангах
4)		занимался исключительно военной службой и не считал перспективной дипломатическую службу

Задание №24

Представителями какой профессии были большинство жителей Немецкой слободы в Москве ?

Выберите один из 4 вариантов ответа:

1)		врачи
2)		учителя
3)		военные специалисты
4)		богословы

Задание №25

Укажите учебное заведение, открытое в Москве при поддержке В. Голицына в 1687 г.

Выберите один из 4 вариантов ответа:

1)		Московский государственный университет
2)		Славяно-греко-латинская академия
3)		курсы славянской грамотности
4)		женские высшие курсы

Задание №26

Местом пребывания Петра с матерью до начала его единоличного правления стал(-о) город/село

Выберите один из 4 вариантов ответа:

1)		Преображенское
2)		Петербург
3)		Коломна
4)		Новгород

Задание №27

Согласно Бахчисарайскому миру, Турция признавала за Россией территории

Выберите один из 4 вариантов ответа:

1)		Крыма и Южного Причерноморья
2)		Левобережной Украины и Киева
3)		побережья Балтийского моря
4)		Южного Поволжья и побережья Каспийского моря

Задание №28

Первым крупным сражением между армией России и Швеции была битва под

Выберите один из 4 вариантов ответа:

1)		Копенгагеном
2)		Шлиссельбургом
3)		Нарвой
4)		Одессой

Задание №29

Целью Азовских походов Петра I было

Выберите один из 4 вариантов ответа:

1)		уничтожение Османской империи
2)		завоевание территории Китая
3)		приобретение выхода к незамерзающим морям для активизации торговли

4)	оказание помощи Франции в расширении территории
----	---

Задание №30

Целью Великого посольства был(-о)

Выберите один из 4 вариантов ответа:

1)	поиск Петром I союзников для Великих географических открытий
2)	заключение Россией дипломатических союзов со всеми странами Европы
3)	поиск Россией союзников для борьбы с Османской империей
4)	поиск Россией союзников для покорения Северного Ледовитого океана

Задание №31

Итогом реформы армии Петра I был(-о)

Выберите один из 4 вариантов ответа:

1)	отказ от участия в европейских войнах
2)	создание военно-морского флота
3)	введение новых целей во внешней политике - завоевание колоний
4)	формирование стрелецких полков

Задание №32

Что из перечисленного можно отнести к результатам Великого посольства?

Выберите один из 4 вариантов ответа:

1)	ознакомление с теорией и практикой строительства морских кораблей
2)	изучение русскими послами теории формирования стрелецкого войска
3)	знакомство с произведениями философов Просвещения
4)	покупка произведений живописи для Эрмитажа

Задание №33

Главным условием Ништадтского мирного договора был(-о)

Выберите один из 4 вариантов ответа:

1)	получение Россией выхода к побережью Балтийского моря
2)	передача Швеции городов Нарва и Новгород
3)	заключение союза между Россией и Францией
4)	передача территории Швеции под контроль России

Задание №34

Как изменилось положение гетмана Украины после предательства гетмана Мазепы в годы Северной войны?

Выберите один из 4 вариантов ответа:

1)	выборы гетмана были запрещены
2)	гетмана стали выбирать государь и Сенат
3)	гетмана избирали с помощью церковного совета
4)	власть гетмана стала передаваться по наследству

Задание №35

Одна из причин поражения России в сражении под Нарвой заключалась в том, что

Выберите один из 4 вариантов ответа:

1)	войско России было намного меньше по численности, чем армия Карла XII
2)	армии Карла XII помогала коалиция ведущих стран Европы
3)	наёмные войска в армии Петра I бежали или переходили на сторону противника
4)	у армии России не было пушек и артиллерии

Задание №36

Новшеством в военном деле в годы правления Петра I было

Выберите один из 4 вариантов ответа:

1)	формирование полков «иноземного строя»
2)	введение всеобщей воинской повинности
3)	открытие специальных школ для подготовки офицеров
4)	определение норм выдачи поместных земель за военную службу

Задание №37

Новая система формирования армии, созданная в годы Северной войны Петром I, - это

Выберите один из 4 вариантов ответа:

1)	рекрутские наборы
2)	всеобщая воинская повинность
3)	служба по безналичному договору
4)	полки «иноземного строя»

Задание №38

Какое сословие было опорой царевны Софьи, фактической правительницы при младших братьях?

Выберите один из 4 вариантов ответа:

1)	крестьяне
2)	ремесленники
3)	купцы
4)	стрельцы

Задание №39

В некоторые странах Европы «шведским озером» называли

Выберите один из 4 вариантов ответа:		
1)		Белое море
2)		Балтийское море
3)		Средиземное море
4)		Красное море

Задание №40

Как называлась система формирования регулярной армии, введённая Петром I в 1705 г.?

Ответ запишите со строчной буквы в и.п. ед.ч. без пробелов и запятых

Запишите ответ:

1)	Ответ:	
----	--------	--

Задание №41

По итогам Северной войны Пётр получил от Сената новый титул — «Отца Отечества, Петра Великого, _____ всероссийского». (Впишите термин.)

Ответ запишите со строчной буквы, в соответствии с текстом.

Запишите ответ:

1)	Ответ:	
----	--------	--

Задание №42

Назовите географический район России, где были построены крупные металлургические заводы, продукция которых использовалась в ходе Северной войны.

Ответ запишите со строчной буквы в и.п. ед.ч.

Запишите ответ:

1)	Ответ:	
----	--------	--

Задание №43

После победы в Северной войне Россия приобрела международный статус _____. (Впишите термин.)

Ответ запишите со строчной буквы в и.п. ед.ч.

Запишите ответ:

1)	Ответ:	
----	--------	--

Задание №44

Как называлась система служебно-родового старшинства, при которой служба зависела от знатности рода?

Ответ запишите со строчной буквы в и.п. ед.ч.

Запишите ответ:

1)	Ответ:	
----	--------	--

Задание №45

Первой супругой Алексея Михайловича была Мария Милославская. Назовите фамилию его второй супруги, матери Петра I.

Ответ запишите со строчной буквы в и.п. ед.ч.

Запишите ответ:

1)	Ответ:	
----	--------	--

Задание №46

Выберите из списка ТРИ условия заключения «Вечного мира» России с Речью Посполитой.

Выберите несколько из 6 вариантов ответа:

1)		передача Речи Посполитой Левобережной Украины
2)		признание Речью Посполитой прав России на Киев
3)		признание речью Посполитой прав России на Правобережную Украину
4)		признание речью Посполитой прав России на Левобережную Украину
5)		обязательство Речи Посполитой предоставить свободу вероисповедания православным подданным
6)		введение в России обязательного католического вероисповедания

Задание №47

Выберите из списка ТРИ условия, на которых был заключён «Вечный мир» России и Речи Посполитой.

Выберите несколько из 6 вариантов ответа:

1)		признание Польшей прав России на Левобережную Украину
2)		признание Польшей прав России на Правобережную Украину
3)		заключение Россией мирного договора с Османской империей
4)		обязательство Речи Посполитой предоставить свободу вероисповедания своим православным подданным
5)		передача Киева под контроль Речи Посполитой
6)		закрепление за Россией прав на смоленские и черниговские земли

Задание №48

Установите соответствие между событиями и датами

Укажите соответствие для всех 4 вариантов ответа:

1)		начало единоличного правления Петра I	1)	1682 г.
2)		свадьба Петра I и Евдокии Лопухиной	2)	1689 г.
3)		начало Великого посольства	3)	1696 г.
4)		смерть Фёдора Алексеевича	4)	1697 г.

Задание №49

Установите соответствие между событиями и датами.

Укажите соответствие для всех 4 вариантов ответа:

1)		первый Азовский поход Петра I	1)	1682 г.
2)		начало путешествия Великого посольства	2)	1695 г.
3)		отмена местничества	3)	1696 г.
4)		начало единоличного правления Петра I	4)	1697 г.

Задание №50

Установите соответствие между именами исторических деятелей и их характеристиками.

Укажите соответствие для всех 4 вариантов ответа:

1)		Наталья Нарышкина	1)	первая супруга Алексея Михайловича
2)		Софья Алексеевна	2)	наставник и учитель Петра I

3)		Мария Мирославская	3)	мать Петра I
4)		Никита Зотов	4)	сводная сестра Петра I

Задание №51

Установите соответствие между именами исторических деятелей и их характеристиками.

Укажите соответствие для всех 4 вариантов ответа:

1)		Евдокия Лопухина	1)	воспитатель Петра I
2)		Франц Лефорт	2)	сводная сестра Петра I
3)		Никита Зотов	3)	первая супруга Петра I
4)		Софья Алексеевна	4)	глава Великого посольства

Задание №52

Установите соответствие между событиями и датами

Укажите соответствие для всех 4 вариантов ответа:

1)		заключение Ништадтского мира	1)	1708 г.
2)		битва у острова Гренгам	2)	1709 г.
3)		Полтавская битва	3)	1720 г.
4)		битва у деревни Лесной	4)	1721 г.

Задание №53

Установите соответствие между событиями и датами

Укажите соответствие для всех 4 вариантов ответа:

1)		битва у мыса Гангут	1)	1700 г.
2)		заключение Ништадтского мира	2)	1709 г.
3)		Полтавская битва	3)	1714г
4)		битва под Нарвой	4)	1721г

Задание №54

Рассмотрите схему и выполните задание

Напишите год, когда произошло сражение, обозначенное цифрой 4.

Ответ запишите цифрами например, 1917



Запишите ответ:

1)

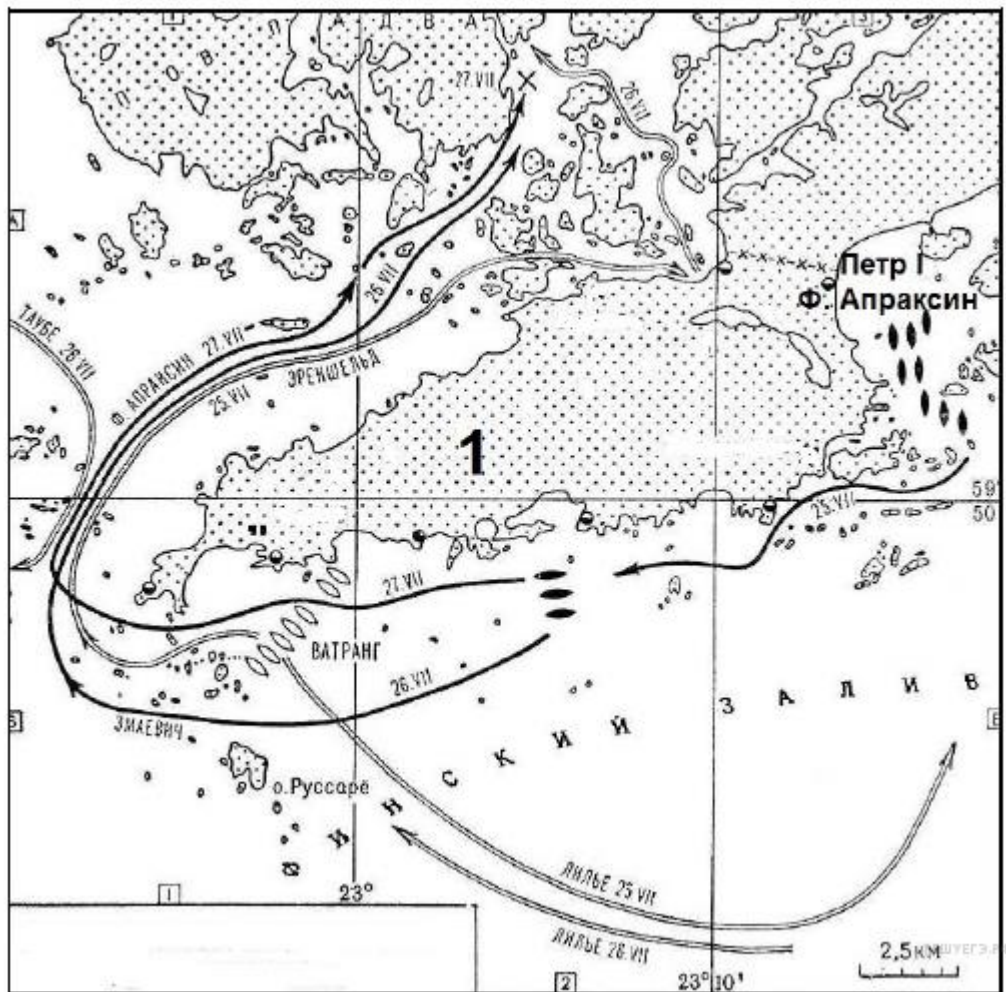
Ответ:

Задание №55

Рассмотрите схему и выполните задание

Напишите год, когда произошло сражение, изображенное на карте

Ответ запишите цифрами например, 1917



Запишите ответ:

1)

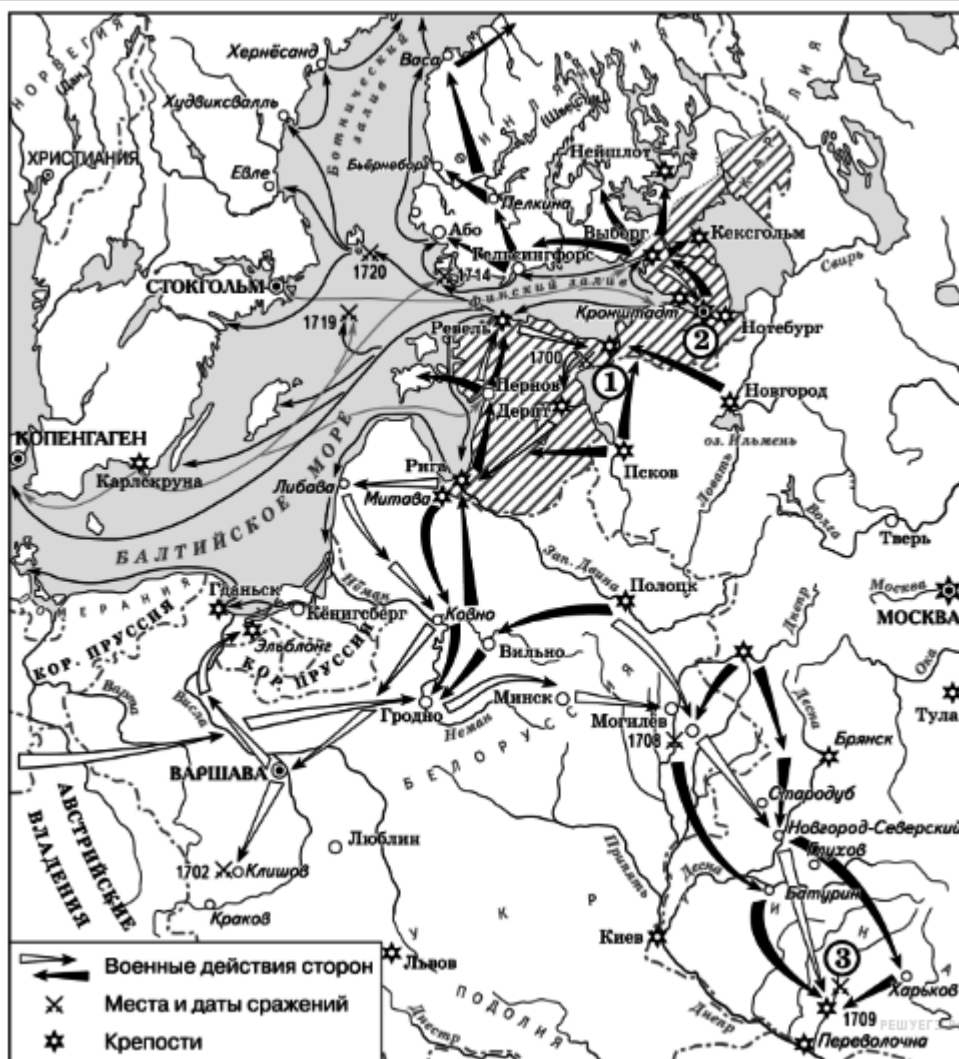
Ответ:

Задание №56

Рассмотрите схему и выполните задание

Напишите название города, у стен которого произошло сражение, обозначенное на схеме цифрой «1».

Ответ запишите со строчной буквы



Запишите ответ:

1)

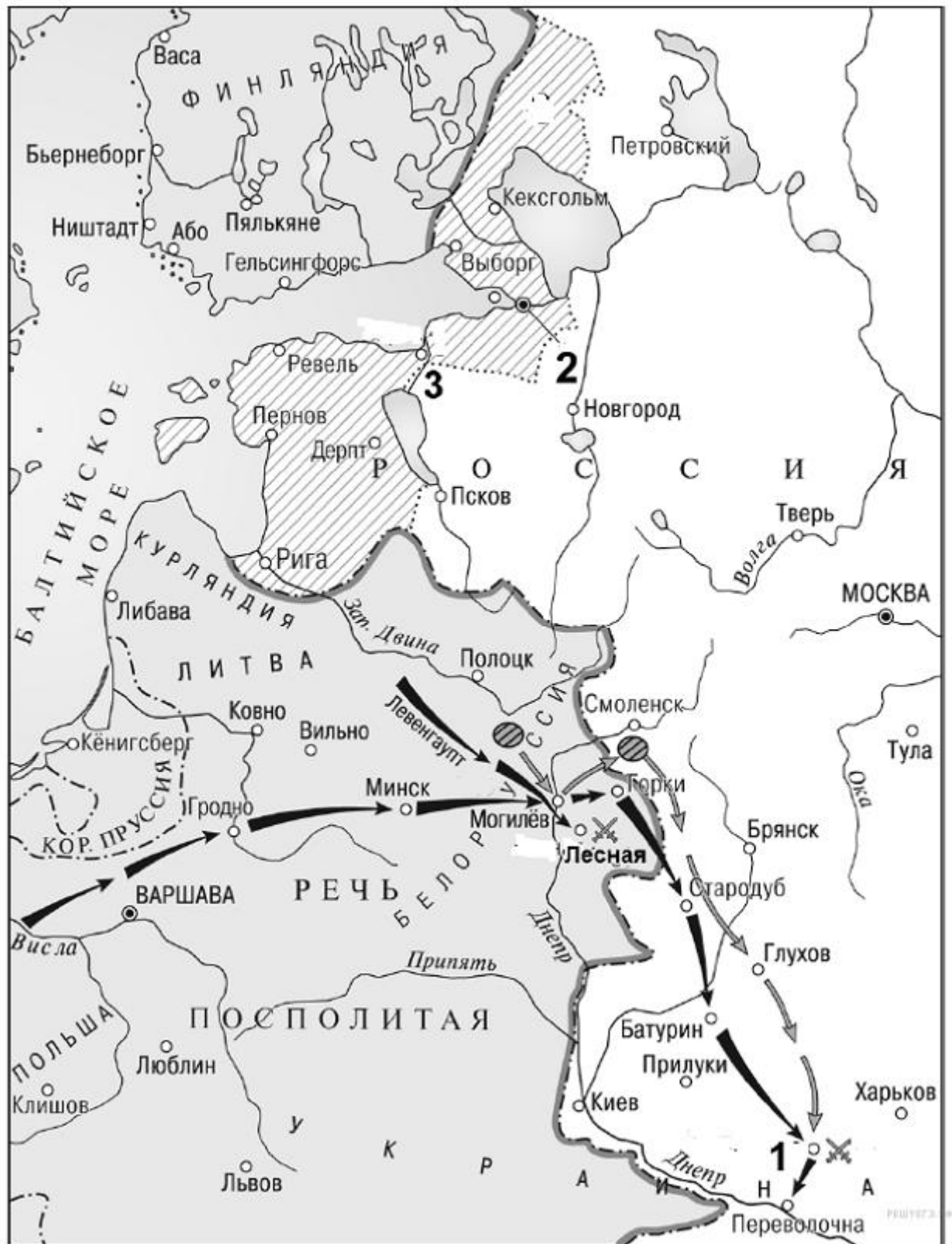
Ответ:

Задание №57

Рассмотрите схему и выполните задание

Напишите название города, обозначенного на карте, цифрой "2".

Ответ запишите со строчной буквы без пробелов и др знаков препинания



Запишите ответ:

1)

Ответ:

Задание №58

Рассмотрите изображение и выполните задание.

Что из перечисленного относится к тому же десятилетию, когда произошло

событие, запечатленное на монете.



Выберите один из 4 вариантов ответа:

1)	Заклучение Россией Бахчисарайского мирного договора
2)	Основание Санкт-Петербурга
3)	Сражение у острова Гренгам
4)	Подписание Ништадтского мирного договора

Задание №59

Рассмотрите изображение и выполните задание

Что из перечисленного относится к тому же десятилетию, когда произошло событие, запечатленное на иллюстрации



Выберите один из 4 вариантов ответа:

1)	Азовские походы Петра I
2)	Начало Северной войны
3)	Прутский поход
4)	Сражение у мыса Гангут

Задание №60

Рассмотрите изображение и выполните задание.

Напишите фамилию человека, изображенного на картине

Вести со строчной буквы в им.п



Запишите ответ:

1)

Ответ:

Задание №61

Рассмотрите изображение и выполните задание

Напишите фамилию человека, изображенного на картине

Вести со строчной буквы в им.п



Запишите ответ:

1)

Ответ:

Часть 2.

1. Из сочинения историка.

«К этому времени Польско-Литовское королевство вследствие внутренних причин начинает заметно терять свою силу, и является, благодаря этому, возможность на западе сосредоточить все силы Московского государства на борьбу _____. Однако борьба эта требует огромного, можно сказать, предельного напряжения сил и затягивается на целых два десятилетия, осложняясь ещё трудной борьбой с Турцией.

Царю в конце концов удаётся исполнить поставленную им самому себе или, лучше сказать, завещанную ему предшествующими веками, задачу. Хотя, успех был приобретён, по верному выражению одного исследователя эпохи его правления, «ценой разорения» страны. Но главное, Ингрия, Карелия и Эстляндия, когда-то присоединённые к Московскому государству ещё Иваном III, а затем утраченные при Иване IV, вновь присоединяются к России вместе с Лифляндией, доставляя России желанный доступ к Балтийскому морю. Строится будущая столица на Неве. Россия, едва известная западу при Иване III, возводится в ранг европейской державы, а давняя её соперница Польша опускается как раз в это же время на степень второстепенной державы, покровительствуемой соседями, раздираемой внутренними смутами».

1. Назовите слово, пропущенное в тексте. Укажите период, с точностью до четверти века, когда происходили описываемые события?
 2. Какой ценой, согласно тексту, далась победа над врагом русскому народу?
 3. Анализируя материал текста, применяя дополнительные знания, укажите значение победы России для ее дальнейшего развития?
2. Что явилось одним из последствий подписания Ништадтского мирного договора?
- 1) провозглашение России империей
 - 2) введение рекрутской системы комплектования армии
 - 3) начало проведения губернской реформы
 - 4) Азовские походы Петра I

Объясните, почему именно выбранное вами положение явилось одним из последствий подписания Ништадтского мирного договора?

4. Прочитайте текст, который содержит две фактические ошибки.

Летом 1708 году шведский король выступил из Польши в сторону Смоленска. 28 сентября русские войска во главе с царем дали бой шведам под Полтавой, в ходе которого разбили армейский корпус противника и захватили обоз, двигавшийся на помощь Карлу XII с Риги. Теперь шведы были лишены припасов.

Карл XII был вынужден отказаться от похода на Москву и выступил на Украину, где рассчитывал на поддержку гетмана Дорошенко, предавшего Петра, а также на помощь крымского и турецкого султана.

Найдите фактические ошибки в тексте

Положение текста, в котором допущена ошибка	Исправленное положение текста