

Материалы
для подготовки к тестированию по истории 7 класс М-1 профильный уровень
по теме: «Начало XVI века в России в мире».

Тема	Содержание
Россия и мир на пороге Нового времени. Великие географические открытия.	Переход от средневековья к новому времени. Периодизация новой истории. Предпосылки великих географических открытий. Основные географические открытия. Последствия географических открытий. Создание колониальных империй.
Эпоха Возрождения в Западной Европе Реформация как духовная основа Нового времени.	Понятие Возрождения. Гуманизм. Повседневная жизнь людей в эпоху Возрождения. Предпосылки Реформации. Учение М.Лютера. Крестьянская война в Германии. Кальвинизм. Особенности реформации в нескольких европейских странах. Итоги реформации.
Формирование централизованных государств и зарождение европейского абсолютизма. Российское государство и общество в нач. XVI века.	Предпосылки и особенности формирования централизованных государств в Европе и России, сходство и различие европейского абсолютизма и российского самодержавия, роль сословий в европейских странах и России, завершение объединения русских земель, политический строй Русского государства.

Понятия: Колониальная империя, Возрождение, Реформация, индульгенция, секуляризация, лютеранство, протестантизм, орден иезуитов, крепостное право, самодержавие, боярская дума, волость, кормление, наместник, дворяне.

Персоналии: Бартоломеу Диаш, Христофор Колумб, Фернан Магеллан, Леонардо да Винчи, Микеланджело Буонаротти, Рафаэль Санти, Мартин Лютер, Жан Кальвин, Игнатий Лойола, Иван III, Василий III.

Даты: 1488г, 1492г, 1494г, 1497-1499гг, 1517г, 1519-1522гг, 1462-1505гг, 1505-1533гг.

Материал для подготовки:

В.В.Носков, Т.П.Андреевская **Всеобщая история 7 класс** Москва Вентана-Граф, 2014г.

История России 7 класс Под редакцией А.В.Торкунова Москва «Просвещение», 2016г.

Для того, чтобы получить допуск к тесту учащийся должен выполнить следующие виды работ:

- оформить лекционную тетрадь;
- работа с документом;
- картографический практикум (контурная карта);
- понятийный диктант;
- выступление на семинарском занятии;
- конспект для подготовки к семинарскому занятию.

Выполнение каждого вида работ подтверждается отметкой учителя в зачётном листе и допуском к итоговому тесту.

Семинар: «Европейская культура эпохи Возрождения»

План:

1. Общая характеристика культуры эпохи Возрождения.
2. Искусство Итальянского Возрождения. Леонардо да Винчи (Джоконда, Тайная Вечеря), Микеланджело Буонаротти (Скульптура «Оплакивание Христа»), Рафаэль Санти («Сикстинская Мадонна») Тициан (Чудо с заговорившим ребёнком), Николо Макиавелли (Государь)
3. Северное Возрождение. Эразм Роттердамский («Философия Христа»), Альбрехт Дюрер (гравюры «Апокалипсис»), Франсуа Рабле («Гаргантюа и Пантагрюэль»), Томас Мор «Утопия»

Изучение темы «Культура эпохи Возрождения» надо начать с общей характеристики и периодизации эпохи. Следует выделить причины появления новых тенденций в развитии культуры Италии – в городах Флоренции, Венеции, Риме. Особое внимание обратить на формирование нового гуманистического мировоззрения, секуляризации, антропоцентризма, необыкновенно высокого представления о Человеке.

При анализе отдельных периодов развития культуры Возрождения обозначить их достижения и назвать наиболее известных мастеров и их произведения.

Рассмотрение культуры Северного Возрождения можно начать с его отличительных черт, которые заключаются в том, что итальянское Возрождение носит, в основном, светский, гуманистический характер, а Северное Возрождение опирается на идеалы религиозного обновления.

При рассмотрении вопросов, касающихся темы Реформации, обратить внимание на причины появления новой религиозной тенденции, в результате которой протестантизм выделился в самостоятельную конфессию христианства.

Материал для подготовки:

В.В.Носков, Т.П.Андреевская **Всеобщая история 7 класс** Москва Вентана-Граф, 2014г.

История России 7 класс Под редакцией А.В.Торкунова Москва «Просвещение», 2016г., параграфы 3,4

Дополнительные источники: Интернет

Банк заданий.

Задание №1		
Термин «Новое время» впервые появился в Италии в:		
Выберите один из 4 вариантов ответа:		
1)		XIII в
2)		XIV в
3)		XV в.
4)		XVI в.

Задание №2		
Ранним Новым временем ученые называют		
Выберите один из 4 вариантов ответа:		
1)		XV-XVII вв.

2)	XV-XVIII вв.
3)	XVI-XIX вв.
4)	XIII-XVI вв.

Задание №3

Иван III правил Российским государством в

Выберите один из 4 вариантов ответа:

1)	1425-1462 гг.
2)	1462-1505 гг.
3)	1505-1533 гг.
4)	1533-1538 гг.

Задание №4

Какой город был присоединён к Московскому государству в 1514 г.?

Выберите один из 4 вариантов ответа:

1)	Саратов
2)	Смоленск
3)	Новгород
4)	Киев

Задание №5

Назовите даты правления Василия III.

Выберите один из 4 вариантов ответа:

1)	1425-1462 гг.
2)	1462-1505 гг.
3)	1505-1533 гг.

4)	1533-1584 гг.
----	---------------

Задание №6

В каком году был издан Судебник Ивана III?

Выберите один из 4 вариантов ответа:

1)	1430 г.
2)	1497 г.
3)	1505 г.
4)	1535 г.

Задание №7

Смоленск был присоединён к Российскому государству в

Выберите один из 4 вариантов ответа:

1)	1505 г.
2)	1510 г.
3)	1514 г.
4)	1585 г.

Задание №8

Ранее других состоялась экспедиция:

Выберите один из 4 вариантов ответа:

1)	Бартоломеу Диаша
2)	Америго Веспуччи
3)	Христофора Колумба
4)	Франциско Писарро

Задание №9

В какой период участились набеги крымских и казанских татар на русские земли после относительно мирных отношений между государствами?

Выберите один из 4 вариантов ответа:

1)		в начале XV в.
2)		в конце XV в.
3)		в первой половине XVI в.
4)		в конце XVI в.

Задание №10

На какой город в правление Василия III были совершены неудачные военные походы в 1506 и 1530 гг.?

Выберите один из 4 вариантов ответа:

1)		Саратов
2)		Казань
3)		Хабаровск
4)		Гданьск

Задание №11

Отметьте дату начала первого плавания Христофора Колумба.

Выберите один из 4 вариантов ответа:

1)		1450 г
2)		1477 г.
3)		1492 г.
4)		1510 г

Задание №12

В каком веке русский купец Афанасий Никитин совершил своё путешествие в страны Востока?

Выберите один из 4 вариантов ответа:

1)	XIV в.
2)	XV в.
3)	XVI в.
4)	XVII в.

Задание №13

Когда началась эпоха Великих географических открытий?

Выберите один из 4 вариантов ответа:

1)	конец XV в.
2)	середина XVI в.
3)	конец XVI в.
4)	середина XVII в.

Задание №14

Выступление М. Лютера, положившее начало Реформации в Европе, произошло в

Выберите один из 4 вариантов ответа:

1)	1517 г.
2)	1555 г.
3)	1609 г.
4)	1642 г.

Задание №15

Кто из названных лиц не относился к числу руководителей европейской Реформации?

Выберите один из 4 вариантов ответа:

1)	Жан Кальвин
2)	Игнатий Лойола
3)	Мартин Лютер

4)	Ульрих Цвингли
----	----------------

Задание №16

Назовите чье учение явилось катализатором Реформации

Выберите один из 4 вариантов ответа:

1)	Томаса Мюнцера
2)	Мартина Лютера
3)	Жана Кальвина
4)	Игнатия Лойолы

Задание №17

При каком государе завершилось формирование Русского централизованного государства после раздробленности?

Выберите один из 4 вариантов ответа:

1)	Василии II
2)	Василии III
3)	Михаиле Романове
4)	Борисе Годунове

Задание №18

Королем какой страны был Филипп II, возглавивший борьбу против Реформации

Выберите один из 4 вариантов ответа:

1)	Англии
2)	Италии
3)	Испании
4)	Германии

Задание №19

Назовите фамилию князей, которые перешли со службы Литовскому государству на службу к российскому государю в начале XVI в.

--	--	--

Выберите один из 4 вариантов ответа:

1)		Годуновы
2)		Гедиминовичи
3)		Глинские
4)		Фонвизины

Задание №20

Христофор Колумб родился

Выберите один из 4 вариантов ответа:

1)		в Кадисе
2)		в Валенсии
3)		в Венеции
4)		в Генуе

Задание №21

Присоединение Новгородской земли, Тверского княжества, Ярославля и других земель к Московскому государству относится к правлению

Выберите один из 4 вариантов ответа:

1)		Василия I
2)		Василия II
3)		Василия III
4)		Ивана III

Задание №22

Первую "утопию" создал

Выберите один из 4 вариантов ответа:

1)		Томас Мор
2)		Эразм Роттердамский
3)		Николо Макиавелли
4)		Француа Рабле

Задание №23

В эпоху Средневековья в Европе господствует общество:

Выберите один из 4 вариантов ответа:

1)	первобытнообщинное
2)	рабовладельческое
3)	индустриальное
4)	традиционное

Задание №24

Для раннего Нового времени характерно:

Выберите один из 4 вариантов ответа:

1)	зарождение феодальных отношений
2)	отделение ремесла от сельского хозяйства
3)	преобладание промышленного производства над аграрным
4)	одновременное существование средневекового уклада и новых черт в жизни общества

Задание №25

Человека Нового времени характеризует:

Выберите один из 4 вариантов ответа:

1)	стремление к традиционному образу жизни
2)	боязнь любых новшеств
3)	предпринимательский дух
4)	узость кругозора

Задание №26

Назовите одну из основных идей абсолютизма в Европе.

Выберите один из 4 вариантов ответа:

1)	правитель считается абсолютно справедливым человеком
2)	правитель является помазанником Божьим
3)	абсолютизм в равной мере учитывает интересы всех слоёв населения
4)	абсолютизм — это правление с предоставлением равных прав всем категориям населения

Задание №27

Назовите одну из основных черт абсолютизма в Европе.

Выберите один из 4 вариантов ответа:		
1)		каждый феодал получал право печатать собственные монеты
2)		советы баронов решали основные государственные вопросы
3)		феодалы имели доступ к распоряжению государственной казной
4)		правители издавали законы, единые для всей страны, и с помощью чиновников следили за их исполнением

Задание №28

Как назывался первый общерусский свод законов, принятый в годы правления Ивана III?

Выберите один из 4 вариантов ответа:

1)		Русская Правда
2)		Конституция
3)		Уголовный кодекс
4)		Судебник

Задание №29

Назовите низшую административно-территориальную единицу в Московском государстве в XVI в.

Выберите один из 4 вариантов ответа:

1)		губерния
2)		область
3)		край
4)		волость

Задание №30

Как назывался орган власти, который ведал учётом раздачи государственных земель дворянам?

Выберите один из 4 вариантов ответа:		
1)		поместный приказ
2)		земельный приказ
3)		раздаточный приказ
4)		регистратура

Задание №31		
Территории, потерявшие независимость и попавшие под власть завоевателей, называют:		
Выберите один из 4 вариантов ответа:		
1)		Новым Светом
2)		компаниями
3)		колониями
4)		гильдиями

Задание №32		
Как назывались органы центрального управления в России в XVI — начале XVIII в.?		
Выберите один из 4 вариантов ответа:		
1)		приказы
2)		коллегии
3)		министерства
4)		суды

Задание №33		
Назовите крупнейшую территориальную единицу в Российском государстве, которая делилась на станы и волости.		
Выберите один из 4 вариантов ответа:		
1)		провинция
2)		область
3)		уезд

4)		республика
----	--	------------

Задание №34

Назовите орган власти в XV-XVII вв., выполнявший совещательные функции при государе, в который входили представители самых знатных родов.

Выберите один из 4 вариантов ответа:

1)		Государственная дума
2)		Парламент
3)		Коллегия
4)		Боярская дума

Задание №35

В переводе с латинского слово "инквизиция" означает

Выберите один из 4 вариантов ответа:

1)		молитва
2)		церковь
3)		реформа
4)		расследование

Задание №36

Борьба католической церкви против Реформации получила название

Выберите один из 4 вариантов ответа:

1)		инквизиция
2)		религиозная война
3)		контрреформация
4)		раскол

Задание №37

Движение за переустройство католической церкви, возникшее в Европе XVI в.:

Выберите один из 4 вариантов ответа:

1)		Реформация
2)		революция
3)		обмирщение
4)		гуманизация

Задание №38

Колониальная империя это

Выберите один из 4 вариантов ответа:

1)	совокупность колониальных владений, принадлежащих тому или иному европейскому государству
2)	форма правления сложившаяся в Испании в XV веке
3)	совокупность колониальных владений, которые являлись общими для всех государств
4)	договор, согласно которому происходило деление колоний на сферы влияния

Задание №39

Отметьте одну из особенностей формирования самодержавия в России.

Выберите один из 4 вариантов ответа:

1)	проходило в условиях складывания крепостного права
2)	появление в XV в. парламента
3)	либеральный характер власти
4)	соблюдение прав низшего сословия

Задание №40

Гуманизмом называют:

Выберите один из 4 вариантов ответа:

1)	науку о возникновении и развитии человеческого общества
2)	учение, признающее человека высшей ценностью мира
3)	борьбу против продажи индульгенций
4)	христианскую религию

Задание №41

Творчество деятелей Итальянского Возрождения характеризует:

Выберите один из 4 вариантов ответа:

1)	взгляд на античную культуру как образец искусства
2)	использование канонов средневекового искусства

3)		отказ от изображения линейной перспективы
4)		нереальность изображения персонажей

Задание №42

Слово "утопия" означает

Выберите один из 4 вариантов ответа:

1)		лучшее место
2)		новое место
3)		земля будущего
4)		место, которого нет

Задание №43

Укажите причину по которой Американский материк назван в честь Америго Виспуччи,

Выберите один из 4 вариантов ответа:

1)		открыл его во время кругосветного путешествия
2)		наиболее полно сделал его описание
3)		начал первым поиск путей в Индию
4)		открыл мыс Доброй Надежды

Задание №44

Назовите какой стране служил мореплаватель Христофор Колумб, отправляясь в первое путешествие

Выберите один из 4 вариантов ответа:

1)		России
2)		Италии
3)		Англии
4)		Испании

Задание №45

Какие территории преимущественно осваивали русские путешественники в XV-XVII вв.?

Выберите один из 4 вариантов ответа:		
1)		Урал и Сибирь
2)		Северное побережье Африки
3)		Южную Индию
4)		Австралию

Задание №46		
В честь Магеллана был назван открытый им:		
Выберите один из 4 вариантов ответа:		
1)		океан
2)		материк
3)		северо-восточный берег Америки
4)		пролив между Южной Америкой и островом

Задание №47		
Отношения между сословиями в Западной Европе строились на принципе		
Выберите один из 4 вариантов ответа:		
1)		подданства
2)		вассалитета
3)		абсолютного подчинения власти
4)		полной самостоятельности и независимости сословий

Задание №48		
Одним из главных итогов правления Ивана III и Василия III можно назвать		
Выберите один из 4 вариантов ответа:		
1)		выход России к берегам Тихого океана
2)		образование единого централизованного Русского государства
3)		потерю политической независимости Руси
4)		формирование парламентской монархии

Задание №49

Назовите особенность территориальных изменений при Иване III.

Выберите один из 4 вариантов ответа:

1)	при Иване III территория России сократилась на одну треть
2)	при Иване III территория России увеличилась в пять раз
3)	территория осталась неизменной в начале и в конце правления государя
4)	территория государства была поделена на 20 уделов и округов

Задание №50

Какой каравеллы не было в первой флотилии Колумба?

Выберите один из 4 вариантов ответа:

1)	"Санта-Мария"
2)	"Пинта"
3)	"Виктория"
4)	"Нинья"

Задание №51

Как называлась работа Мартина Лютера, в основе которой лежали возражения против торговли индульгенциями

Выберите один из 4 вариантов ответа:

1)	«12 статей»
2)	«Общество Иисуса»
3)	«95 тезисов»
4)	«Новая церковь»

Задание №52

Страной - родиной Реформации стала:

Выберите один из 4 вариантов ответа:

1)	Англия
2)	Франция
3)	Германия

4)	Швейцария
----	-----------

Задание №53

Какая страна из перечисленных в результате географических открытий стала крупнейшей колониальной державой?

Выберите один из 4 вариантов ответа:

1)	Россия
2)	Португалия
3)	Франция
4)	Китай

Задание №54

Сторонники Реформации выдвигали требование:

Выберите один из 4 вариантов ответа:

1)	передать княжеские земли церкви
2)	увеличить плату за церковные обряды
3)	сократить траты на содержание церкви
4)	причислить к лику святых светских правителей

Задание №55

В ходе своей экспедиции Христофор Колумб открыл:

Выберите один из 4 вариантов ответа:

1)	неизвестный европейцам материк
2)	морской путь в Индию и Китай
3)	новые месторождения золота
4)	Тихий океан

Задание №56

В состав совещательного органа при государе — Боярскую думу входили

Выберите один из 4 вариантов ответа:

1)		представители всех слоёв населения
2)		иностранные послы
3)		знатные бояре и окольные
4)		жители городов, входящих в состав государства

Задание №57

Что из названного содержалось в 95 тезисах М. Лютера?

Выберите один из 4 вариантов ответа:

1)		призыв к восстанию против князей
2)		отказ явиться на императорский суд
3)		осуждение индульгенций
4)		требование о переизбрании Римского папы

Задание №58

Итальянский мыслитель Николо Макиавелли написал сочинение

Выберите один из 4 вариантов ответа:

1)		"Утопия"
2)		"Гаргантюа и Пантагрюэль"
3)		"Опыты"
4)		"Государь"

Задание №59

Населённые пункты, укрепленные деревянной изгородью в виде заостренных столбов и служившие приграничными крепостями

Ответ запишите со строчной буквы в И.п. ед.ч.

Запишите ответ:

1)	Ответ:	
----	--------	--

Задание №60

Назовите сочинение тверского купца Афанасия Никитина, в котором он описывал своё путешествие.

Ответ запишите со строчной буквы без пробелов и запятых

Запишите ответ:

1)	Ответ:	
----	--------	--

Задание №61

Укажите название морских парусных судов нового типа, на которых отправлялись в плавание моряки в период Великих географических открытий

Ответ запишите со строчной буквы во мн.ч.

Запишите ответ:

--	--	--

1)	Ответ:	
----	--------	--

Задание №62

Почему европейцам стали недоступны сухопутные пути из Европы в страны Индии и Китая к XV-XVI вв.?

Выберите один из 4 вариантов ответа:

1)		в этот период прекратилось развитие транспорта
2)		вследствие завоеваний турок-османов
3)		вследствие возвышения Византии
4)		в этот период стала популярной идея замкнутости и культурной изоляции Европы

Задание №63

Эпоха Великих географических открытий положила начало

Выберите один из 4 вариантов ответа:

1)		формированию колониальных держав
2)		тесному сотрудничеству стран Запада и Востока
3)		жестоким войнам между Западом и Востоком за колонии
4)		укреплению лидерства Венеции и Генуи в мировой торговле

Задание №64

Отметьте положительное последствие путешествий европейцев в XV-XVI вв.

Выберите один из 4 вариантов ответа:

1)		вооружённые конфликты
2)		уничтожение цивилизаций и культуры Америки
3)		соперничество за колонии
4)		появление новых рынков сбыта готовой продукции

Задание №65

Одной из причин Реформации является

Выберите один из 4 вариантов ответа:

1)		невежество священнослужителей
2)		изменения в обществе
3)		политика королей
4)		взгляды деятелей эпохи Возрождения

Задание №66

Одной из причин Великих географических открытий было стремление европейцев найти новые пути в

Выберите один из 4 вариантов ответа:

1)		Россию и Монголию
2)		Индию и Китай
3)		Испанию и Португалию
4)		Египет и Алжир

Задание №67

Одна из особенностей России, вследствие которой страна была позднее вовлечена в процесс открытий и освоения новых территорий, — это

Выберите один из 4 вариантов ответа:

1)		отсутствие выхода к незамерзающим морям
2)		контроль над Черноморскими проливами
3)		развитый морской флот
4)		идея культурной замкнутости России

Задание №68

Отметьте одно из отрицательных последствий Великих географических открытий.

Выберите один из 4 вариантов ответа:		
1)		распространение христианства
2)		появление новых продуктов питания в рационе европейцев
3)		развитие торговли и мореплавания
4)		вооружённые конфликты и столкновения

Задание №69		
Какие события историки связывают с началом эпохи Нового времени?		
Выберите несколько из 5 вариантов ответа:		
1)		Великие географические открытия
2)		Великое переселение народов
3)		появление фабрик и заводов
4)		гибель Римской империи
5)		Возрождение

Задание №70		
Назовите последствия Великих географических открытий.		
Выберите несколько из 4 вариантов ответа:		
1)		началась эпоха Крестовых походов
2)		стал складываться единый мировой рынок
3)		возросло значение Венеции и Генуи
4)		стали возникать первые колониальные империи

Задание №71		
Назовите последствия Великих географических открытий.		
Выберите несколько из 5 вариантов ответа:		
1)		началась Реконкиста
2)		изменились представления европейцев о мире
3)		были созданы условия для развития богословия и схоластики
4)		торговые пути переместились из Средиземного моря в океаны
5)		

	сложились благоприятные условия для развития государств майя и ацтеков
--	--

Задание №72

Отметьте последствия Великих географических открытий.

Выберите несколько из 6 вариантов ответа:

1)	начал формироваться мировой рынок
2)	повысились цены на золото и серебро
3)	переместились главные торговые пути
4)	возникли новые представления о мире
5)	начались жестокие войны между Западом и Востоком за колонии
6)	положили начало научным открытиям и изобретениям

Задание №73

Установите соответствие между путешественниками и совершёнными ими открытиями.

Укажите соответствие для всех 4 вариантов ответа:

1)	описание открытых земель Нового Света	1)	1) Васко да Гама
2)	открытие Америки	2)	2) Америго Веспуччи
3)	плавание к юго-западу Индии	3)	3) Христофор Колумб
4)	попытка открытия северо-восточного пути в Китай и Японию	4)	4) Ричард Ченслер

Задание №74

Установите соответствие между именами исторических лиц, занимавшихся одним видом деятельности.

Укажите соответствие для всех 3 вариантов ответа:

1)	Уильям Шекспир	1)	Леонардо да Винчи
2)	Рафаэль	2)	Христофор Колумб
3)	Исаак Ньютон	3)	Мигель Сервантес

			4)	Галилео Галилей
--	--	--	----	-----------------

Задание №75

Установите соответствие между именами исторических лиц и их деятельностью.

Укажите соответствие для всех 3 вариантов ответа:

1)		Жан Кальвин	1)	основатель Ордена иезуитов
2)		Томас Мюнцер	2)	военачальник в годы религиозных войн
3)		Игнатий Лойола	3)	основатель одного из протестантских течений
			4)	один из руководителей Крестьянской войны в Германии

Задание №76

В перечне представлены особенности формирования единого государства, характерные для истории России и для истории Западной Европы. Черты, характерные для России, обозначьте цифрой 1; черты, характерные для Западной Европы, обозначьте цифрой 2.

Укажите соответствие для всех 6 вариантов ответа:

1)		предпосылкой развития государств стало развитие рыночных отношений	1)	Черты, характерные для России
2)		предпосылкой формирования государства стала борьба за национальное освобождение	2)	черты, характерные для Западной Европы
3)		особенностью формирования государства стал рост земельных владений великого князя и его окружения		
4)		натуральное хозяйство перестало быть основой экономики		

5)		сохранение натурального хозяйства		
6)		экономическая заинтересованность городов в формировании единого государства		

Задание №77

Установите соответствие между именем и фактором биографии:

Укажите соответствие для всех 4 вариантов ответа:

1)		Христофор Колумб	1)	путешественник, который организовал первое кругосветное путешествие
2)		Васко Нуньес де Бальбоа	2)	завоевание Мексики
3)		Эрнан Кортес	3)	путешественник, который открыл Америку
4)		Фернан Магеллан	4)	выход к побережью Тихого океана

Задание №78

Какие два из названных положений содержались в учении М. Лютера? Запишите цифры, под которыми они указаны, в строку ответов.

- 1) о подчинении светских правителей церковным властям
- 2) о богослужении на национальных языках
- 3) об оправдании верой
- 4) об имущественном равенстве верующих

Ответ запишите без пробелов, в порядке возрастания.

Запишите число:

1)	Ответ:	
----	--------	--

Задание №79

Какие два из названных положений содержались в учении Ж. Кальвина? Запишите цифры, под которыми они указаны, в строку ответов.

- 1) об оправдании верой
- 2) о бережливости и расчётливости в сочетании неустанным трудом
- 3) об умеренности в быту и личной предприимчивости
- 4) об имущественном равенстве верующих

Ответ запишите без пробелов, в порядке возрастания.

Запишите число:

1)	Ответ:	
----	--------	--

Задание №80

Рассмотрите карту и выполните задание.

Назовите географический объект, обозначенный на карте цифрой "1".

Ответ запишите строчными буквами, в именительном падеже, единственном числе, без пробелов.



Запишите ответ:

1)

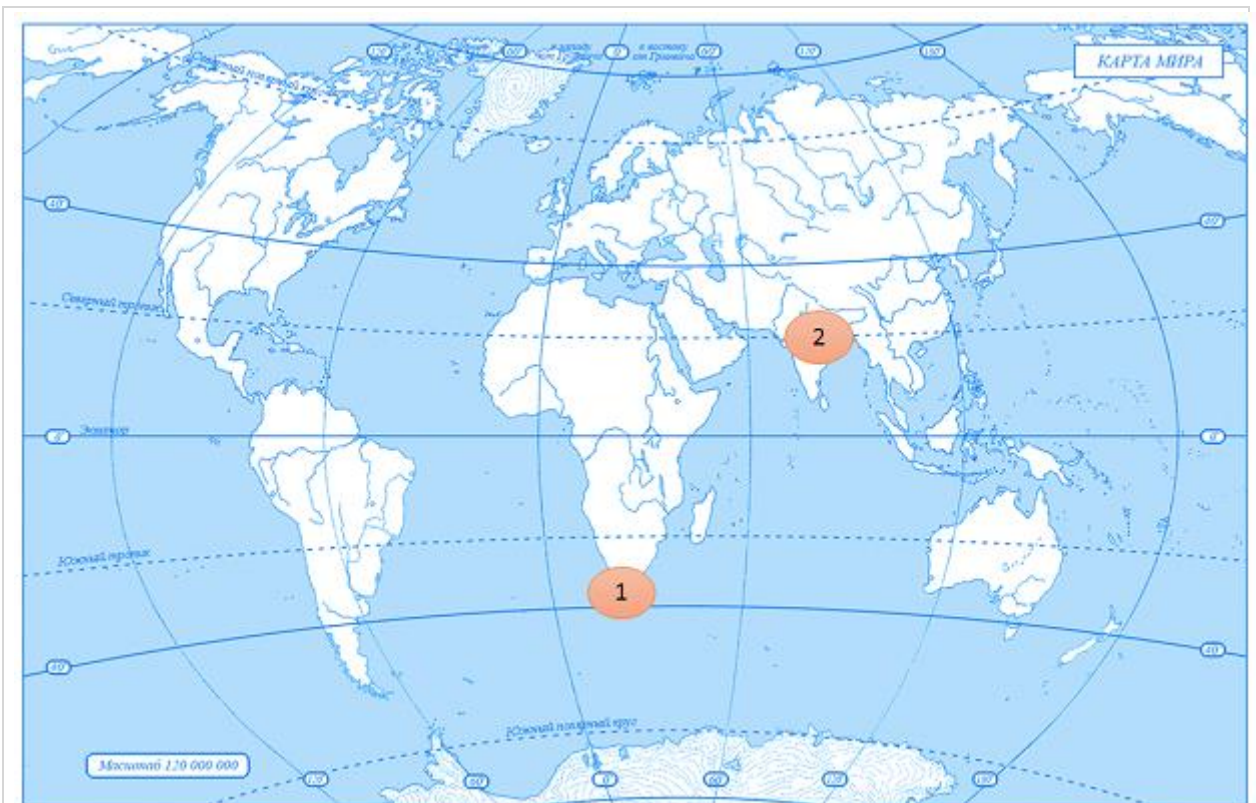
Ответ:

Задание №81

Рассмотрите карту и выполните задание.

Назовите государство- метрополию, которому принадлежала территория, обозначенная цифрой "2".

Ответ запишите со строчной буквы, в именительном падеже, единственном числе.



Запишите ответ:

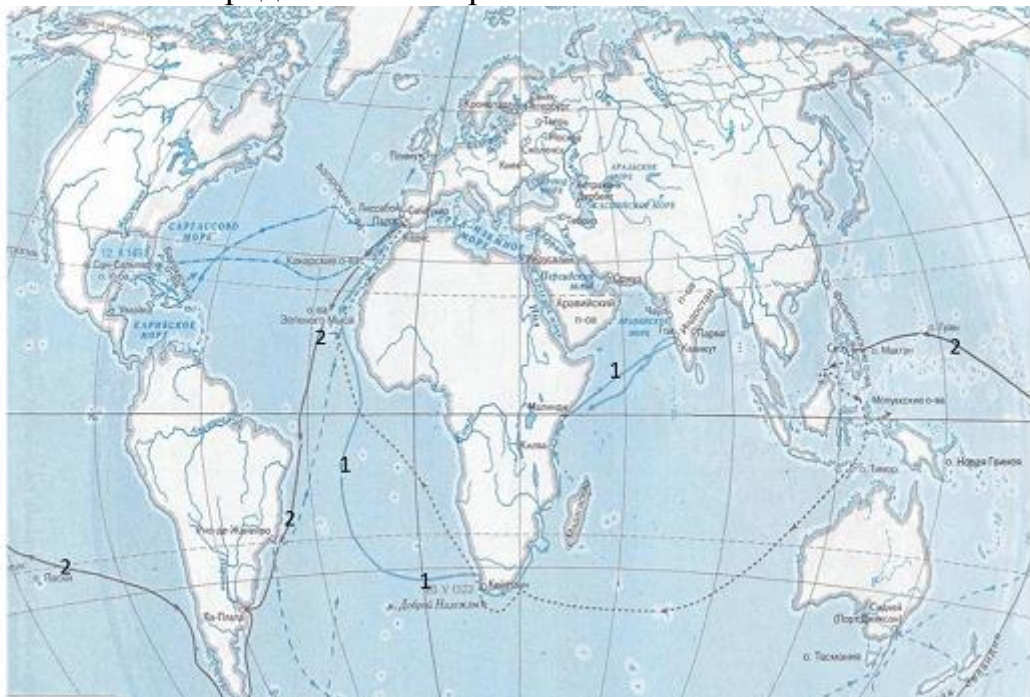
1)	Ответ:	
----	--------	--

Задание №82

Рассмотрите карту и выполните задания.

Укажите положения, относящиеся к маршруту на карте, обозначенному цифрой "2".

Выберите из шести предложенных три положения.



Выберите несколько из 6 вариантов ответа:

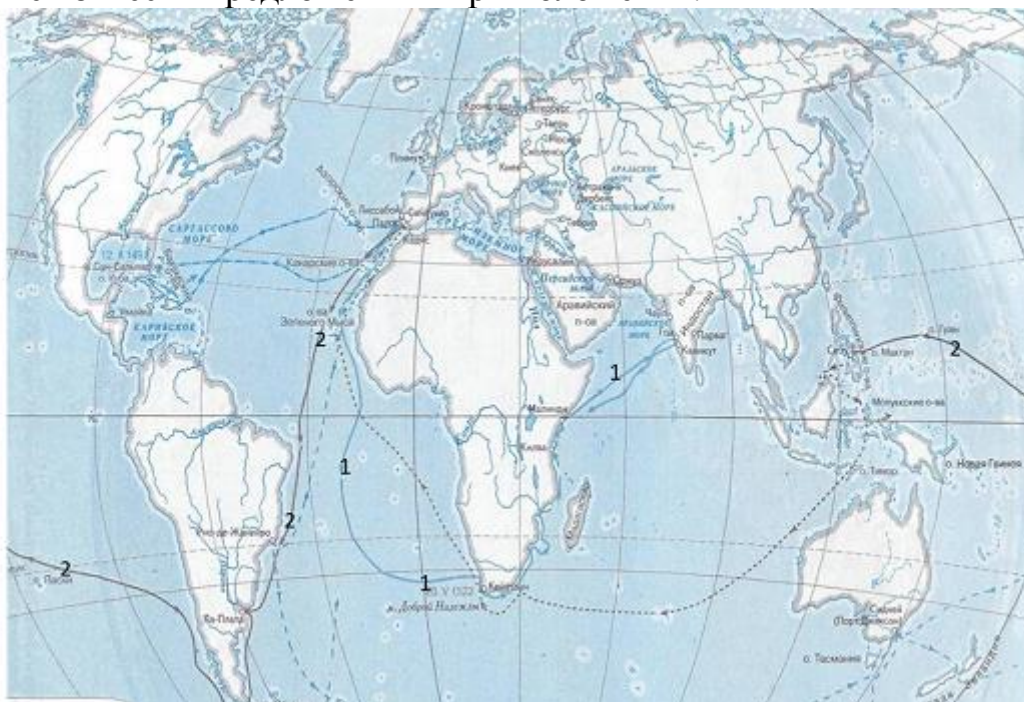
1)	Руководителем данной экспедиции был Америго Веспуччи
2)	Этот маршрут является первым кругосветным путешествием
3)	Участники данной экспедиции пересекли Панамский перешеек
4)	Это путешествие состоялось в 1519-1522 годах
5)	Руководителем данного плавания был Фернандо Магеллан
6)	Результатом данной экспедиции было открытие Америки

Задание №83

Рассмотрите карту и выполните задание.

Укажите положения, относящиеся к маршруту на карте, обозначенному цифрой "1".

Выберите из шести предложенных три положения.



Выберите несколько из 6 вариантов ответа:

1)	Эта экспедиция была в 1488 году
2)	Благодаря этому маршруту был проложен торговый путь на Восток
3)	Данная экспедиция зашла в индийский порт Каликут
4)	Руководителем этой экспедиции был Христофор Колумб
5)	Данное плавание доказало существование единого Мирового океана, связывающего все континенты
6)	Командующим этой эскадрой являлся Васко да Гама

Задание №84

Рассмотрите изображение и выполните задание.

Напишите имя и фамилию человека, изображенного на картинке.

Запишите со строчной буквы, без пробелов.



Запишите ответ:

1)

Ответ:

Задание №85

Рассмотрите изображение и выполните задание.

Напишите имя и фамилию человека, изображенного на картинке.

Запишите со строчной буквы, без пробелов.



Запишите ответ:

1)

Ответ:

Задание №86

Рассмотрите изображение и выполните задание.

Выберите из шести предложенных три положения, относящихся к данному историческому деятелю



Выберите несколько из 6 вариантов ответа:

1)

На картинке изображен Жан Кальвин

2)	Данный исторический деятель являлся преподавателем богословия из города Виттенберг
3)	На картинке изображен человек, возглавивший Реформацию в Германии
4)	Благодаря этому человеку, город Женева стал протестантской столицей мира
5)	Данный исторический деятель осуществлял свою деятельность в конце XV века
6)	Это изображение главного реформатора церкви в Швейцарии

Задание №87

Рассмотрите изображение и выполните задание.

Выберите из шести предложенных три положения, относящихся к данному историческому деятелю.



Выберите несколько из 6 вариантов ответа:

1)	На картинке изображен Жан Кальвин
2)	Данный исторический деятель является автором "95 тезисов"
3)	На картинке изображен один из руководителей-участников Великих географических открытий

4)	Данный исторический деятель является родоначальником Реформации в Германии
5)	Фамилией изображенного человека, названо новое направление в протестантизме Швейцарии
6)	На картинке изображен Мартин Лютер