

Материалы
для подготовки к тестированию по истории 7 класс М-1 базовый уровень
по теме: «Начало XVI века в России и мире».

Тема	Содержание
Россия и мир на пороге Нового времени. Великие географические открытия.	Переход от средневековья к новому времени. Периодизация новой истории. Предпосылки великих географических открытий. Основные географические открытия. Последствия географических открытий. Создание колониальных империй.
Эпоха Возрождения в Западной Европе Реформация как духовная основа Нового времени.	Понятие Возрождения. Гуманизм. Повседневная жизнь людей в эпоху Возрождения. Предпосылки Реформации. Учение М.Лютера. Крестьянская война в Германии. Кальвинизм. Особенности реформации в нескольких европейских странах. Итоги реформации.
Формирование централизованных государств и зарождение европейского абсолютизма. Российское государство и общество в нач. XVI века.	Предпосылки и особенности формирования централизованных государств в Европе и России, сходство и различие европейского абсолютизма и российского самодержавия, роль сословий в европейских странах и России, завершение объединения русских земель, политический строй Русского государства.

Понятия: Колониальная империя, Возрождение, Реформация, индульгенция, секуляризация, лютеранство, протестантизм, орден иезуитов, крепостное право, самодержавие, боярская дума, волость, уезд, кормление, наместник, дворяне.

Персоналии: Бартоломеу Диаш, Христофор Колумб, Фернан Магеллан, Леонардо да Винчи, Микеланджело Буонаротти, Рафаэль Санти, Мартин Лютер, Жан Кальвин, Игнатий Лойола, Василий III.

Даты: 1488г, 1492г, 1494г, 1497-1499гг, 1517г, 1519-1522гг, 1505-1533гг, XV век.

Материал для подготовки:

В.В.Носков, Т.П.Андреевская **Всеобщая история 7 класс** Москва Вентана-Граф, 2014г.

История России 7 класс Под редакцией А.В.Торкунова Москва «Просвещение», 2016г.

Для того, чтобы получить допуск к тесту учащийся должен выполнить следующие виды работ:

- оформить лекционную тетрадь;
- работа с документом;
- картографический практикум (контурная карта);
- понятийный диктант;
- выступление на семинарском занятии;
- конспект для подготовки к семинарскому занятию.

Выполнение каждого вида работ подтверждается отметкой учителя в зачётном листе и допуском к итоговому тесту.

Семинар: «Россия начала XVI века в контексте развития мировой цивилизации».

План:

1. Россия в системе международных отношений первой трети XVI века (союзники, противники).
2. Решение Россией своих внешнеполитических задач в начале XVI века.
3. Итоги внешней политики Василия III.

Семинарское занятие предполагает устное обсуждение заявленных вопросов на основе конспекта, который ученик составляет самостоятельно на основе изучения дополнительной литературы.

При подготовке **к 1 вопросу** необходимо указать государства, с которыми Россия строила свои отношения, указать как складывались эти отношения.

При подготовке **к 2 вопросу** необходимо описать итоги русско- литовских войн начала XVI века, незавершенность процесса осваивания земель на юго- востоке, противоречивость политики в отношении со странами Прибалтики.

При подготовке **к 3 вопросу** надо подвести итоги решения внешнеполитических задач Василием III. При этом необходимо знать результаты войн России с Литвой, Крымским ханством, итоги процесса территориального расширения Русского государства.

Литература для подготовки:

История России 7 класс. Под редакцией А.В.Торкунова Москва «Просвещение», 2016г. Глава 1. Параграф 4,5.

Дополнительные источники:

1. <http://ru.wikipedia.org/wiki/Портал:История>

Прочитайте отрывок из документа, называемого «12 статей» (написан в Германии в XVI веке), и ответьте на вопросы.

«Во-первых, наше смиренное прошение и желание, наша общая воля и мнение- иметь впредь право и силу всею общиною выбирать себе священника и смещать его, когда он неподобно ведет себя. Этот выборный священник должен проповедовать нам святое Евангелие, чистое и ясное, без всякого человеческого добавления, учения и веления, одну лишь истинную веру.....

Во- вторых, хотя и справедливая десятина, установленная в Ветхом завете, с Новым заветом потеряла силу, тем не менее, мы согласны давать справедливую зерновую десятину, но лишь так, как полагается. Ведь раз ее надлежит давать Богу и ее людям, то она подобает священнику, раз он возвещает правильное слово Божье. Впредь мы желаем, чтобы эту десятину собирали наши и церковные старосты, которых поставит община, и из собранного давали бы достаточное содержание священнику, избранному всею общиною, ему и его близким людям, по приговору общины. А что останется лишку- отдать бедным, какие окажутся в деревне, по обстоятельствам дела и по приговору общины.....

В- третьих, до сих пор было в обычае считать нас «собственными» людьми, что жалости подобно, принимая во внимание, что Христос пролитием своей драгоценной крови освободил и искупил нас всех, как пастуха, так и самого высокого, не исключая никого. Поэтому соответствует Писанию, чтобы мы были и хотим быть свободными..

Мы не сомневаемся, что вы, как истинные и подлинные христиане, с готовностью отпустите нас из личной крепости или же докажете нам по Евангелию, что мы должны быть крепостными.....

В- пятых, отягощены мы также и с использованием леса. Ибо наши господа присвоили исключительно себе все леса.....

В- шестых, мы терпим большое отягощение от повинностей, которые растут и умножаются со дня на день.....».

Вопросы:

1. Требования какой группы населения изложены в документе?
2. Идеи какого значительного движения того времени нашли отражение в документе? Какие положения документа об этом свидетельствуют?
3. Назовите последствия этого движения (не менее трех)?

Банк заданий

Тест: "7кл История М-1 база".

Тестируемый: _____ Дата: _____

Задание №1

Термин «Новое время» впервые появился в Италии в:

Выберите один из 4 вариантов ответа:

1)	XIII в
2)	XIV в
3)	XV в.
4)	XVI в.

Задание №2

Назовите даты правления Василия III.

Выберите один из 4 вариантов ответа:

1)	1425-1462 гг.
2)	1462-1505 гг.
3)	1505-1533 гг.
4)	1533-1584 гг.

Задание №3

Смоленск был присоединён к Российскому государству в

Выберите один из 4 вариантов ответа:		
1)		1505 г.
2)		1510 г.
3)		1514 г.
4)		1585 г.

Задание №4

Ранее других состоялась экспедиция:

Выберите один из 4 вариантов ответа:		
1)		Бартоломеу Диаша
2)		Америго Веспуччи
3)		Христофора Колумба
4)		Франциско Писарро

Задание №5

Отметьте дату начала первого плавания Христофора Колумба.

Выберите один из 4 вариантов ответа:		
1)		1450 г
2)		1477 г.
3)		1492 г.
4)		1510 г

Задание №6

Эпоха Великих географических открытий началась в

Выберите один из 4 вариантов ответа:		
1)		конце XV в.
2)		середине XVI в.
3)		конце XVI в.
4)		середине XVII в.

Задание №7

Выступление М. Лютера, положившее начало Реформации в Европе, произошло в

Выберите один из 4 вариантов ответа:

1)	1517 г.
2)	1555 г.
3)	1609 г.
4)	1642 г.

Задание №8

К числу руководителей европейской Реформации не относился

Выберите один из 4 вариантов ответа:

1)	Жан Кальвин
2)	Игнатий Лойола
3)	Мартин Лютер
4)	Ульрих Цвингли

Задание №9

Чье учение явилось катализатором Реформации

Выберите один из 4 вариантов ответа:

1)	Томаса Мюнцера
2)	Мартина Лютера
3)	Жана Кальвина
4)	Игнатия Лойолы

Задание №10

Формирование Русского централизованного государства завершилось при

Выберите один из 4 вариантов ответа:

1)	Василии II
2)	Василии III
3)	Михаиле Романове
4)	Борисе Годунове

Задание №11

Филипп II, возглавивший борьбу против Реформации, был королем

Выберите один из 4 вариантов ответа:

1)	Англии
2)	Италии
3)	Испании
4)	Германии

Задание №12

Первую "утопию" создал

Выберите один из 4 вариантов ответа:

1)	Томас Мор
2)	Эразм Роттердамский
3)	Николо Макиавелли
4)	Француа Рабле

Задание №13

Как называлась форма зависимости крестьян, предполагавшая их прикрепление к земле и подчинение власти землевладельца?

Выберите один из 4 вариантов ответа:

1)	рабовладение
2)	заповедные годы
3)	крепостничество
4)	барщина

Задание №14

Назовите низшую административно-территориальную единицу в Московском государстве в XVI в.

Выберите один из 4 вариантов ответа:

1)	губерния
2)	область
3)	край
4)	волость

Задание №15

Как назывались органы центрального управления в России в XVI — начале XVIII в.?

Выберите один из 4 вариантов ответа:

1)	приказы
2)	коллегии
3)	министерства
4)	суды

Задание №16

Назовите крупнейшую территориальную единицу в Российском государстве, которая делилась на станы и волости.

Выберите один из 4 вариантов ответа:

1)	провинция
2)	область
3)	уезд
4)	республика

Задание №17

Назовите орган власти в XV-XVII вв., выполнявший совещательные функции при государе, в который входили представители самых знатных родов.

Выберите один из 4 вариантов ответа:

1)	Государственная дума
2)	Парламент
3)	Коллегия
4)	Боярская дума

Задание №18

В переводе с латинского слово "инквизиция" означает

Выберите один из 4 вариантов ответа:

1)	молитва
2)	церковь
3)	реформа
4)	расследование

Задание №19

Борьба католической церкви против Реформации получила название

Выберите один из 4 вариантов ответа:

1)	инквизиция
2)	религиозная война
3)	контрреформация
4)	раскол

Задание №20

Движение за переустройство католической церкви, возникшее в Европе XVI в.:

Выберите один из 4 вариантов ответа:

1)	Реформация
2)	революция
3)	обмирщение
4)	гуманизация

Задание №21

Территория, потерявшая независимость и попавшая под власть завоевателей

Выберите один из 4 вариантов ответа:

1)	колония
2)	конкиста
3)	империя
4)	республика

Задание №22

Колониальная империя это

Выберите один из 4 вариантов ответа:

1)	совокупность колониальных владений, принадлежащих тому или иному европейскому государству
2)	форма правления сложившаяся в Испании в XV веке
3)	совокупность колониальных владений, которые являлись общими для всех государств
4)	договор, согласно которому происходило деление колоний на сферы влияния

Задание №23

Гуманизмом называют:

Выберите один из 4 вариантов ответа:

1)	науку о возникновении и развитии человеческого общества
2)	учение, признающее человека высшей ценностью мира
3)	борьбу против продажи индульгенций
4)	христианскую религию

Задание №24

Слово "утопия" означает

Выберите один из 4 вариантов ответа:

1)	лучшее место
2)	новое место
3)	земля будущего
4)	место, которого нет

Задание №25

Американский материк назван в честь Америго Веспуччи, потому что он

Выберите один из 4 вариантов ответа:

1)		открыл его во время кругосветного путешествия
2)		наиболее полно сделал его описание
3)		начал первым поиск путей в Индию
4)		открыл мыс Доброй Надежды

Задание №26

Мореплавателю Христофор Колумб, отправляясь в первое путешествие, находился на службе у

Выберите один из 4 вариантов ответа:

1)		России
2)		Италии
3)		Англии
4)		Испании

Задание №27

Какая страна из перечисленных получила колонии в результате путешествий европейцев в XV-XVI вв.?

Выберите один из 4 вариантов ответа:

1)		Франция
2)		Испания
3)		Россия
4)		Китай

Задание №28

В честь Магеллана был назван открытый им:

Выберите один из 4 вариантов ответа:

1)		океан
2)		материк
3)		северо-восточный берег Америки
4)		пролив между Южной Америкой и островом

Задание №29

Назовите государство, посол которого посетил Москву с дипломатическим визитом в 1514 г., в результате чего был заключён договор «о любви, братстве и дружбе».

Выберите один из 4 вариантов ответа:

1)	Священная Римская империя
2)	Ганзейский союз
3)	Золотая Орда
4)	Франция

Задание №30

Дворянин получал поместье от государя в случае

Выберите один из 4 вариантов ответа:

1)	несения военной службы
2)	занятие торговлей
3)	выплаты всех назначенных налогов в казну
4)	доказательства личной преданности государю

Задание №31

Работа Мартина Лютера, в основе которой лежали возражения против торговли индульгенциями, называлась

Выберите один из 4 вариантов ответа:

1)	«12 статей»
2)	«Общество Иисуса»
3)	«95 тезисов»
4)	«Новая церковь»

Задание №32

Страной - **родиной** Реформации стала:

Выберите один из 4 вариантов ответа:

1)		Англия
2)		Франция
3)		Германия
4)		Швейцария

Задание №33

Крупнейшей колониальной державой в результате географических открытий стала

Выберите один из 4 вариантов ответа:

1)		Россия
2)		Португалия
3)		Франция
4)		Китай

Задание №34

Сторонники Реформации выдвигали требование:

Выберите один из 4 вариантов ответа:

1)		передать княжеские земли церкви
2)		увеличить плату за церковные обряды
3)		сократить траты на содержание церкви
4)		причислить к лику святых светских правителей

Задание №35

В ходе своей экспедиции Христофор Колумб открыл:

Выберите один из 4 вариантов ответа:

1)		неизвестный европейцам материк
2)		морской путь в Индию и Китай
3)		новые месторождения золота
4)		Тихий океан

Задание №36

В состав совещательного органа при государе — Боярскую думу входили

Выберите один из 4 вариантов ответа:		
1)		представители всех слоёв населения
2)		иностранные послы
3)		знатные бояре и окольные
4)		жители городов, входящих в состав государства

Задание №37		
Что из названного содержалось в 95 тезисах М. Лютера?		
Выберите один из 4 вариантов ответа:		
1)		призыв к восстанию против князей
2)		отказ явиться на императорский суд
3)		осуждение индульгенций
4)		требование о переизбрании Римского папы

Задание №38		
Деятели эпохи Возрождения выступали за:		
Выберите один из 4 вариантов ответа:		
1)		восстановление старых порядков
2)		запрещение любой религии
3)		развитие научных знаний
4)		усиление власти церкви

Задание №39		
Итальянский мыслитель Николо Макиавелли написал сочинение		
Выберите один из 4 вариантов ответа:		
1)		"Утопия"
2)		"Гаргантюа и Пантагрюэль"
3)		"Опыты"
4)		"Государь"

Задание №40		
Населённые пункты, укрепленные деревянной изгородью в виде заостренных столбов и служившие приграничными крепостями		
Ответ запишите со строчной буквы в И.п. ед.ч.		

Запишите ответ:		
1)	Ответ:	

Задание №41

1. Как называют эпоху путешествий и крупнейших открытий, совершённых европейцами в конце XV — середине XVII в.?
 Ответ запишите со строчной буквы без пробелов и запятых в Им. п.

Запишите ответ:		
1)	Ответ:	

Задание №42

Назовите сочинение тверского купца Афанасия Никитина, в котором он описывал своё путешествие.
 Ответ запишите со строчной буквы без пробелов и запятых

Запишите ответ:		
1)	Ответ:	

Задание №43

Как назывались морские парусные суда нового типа, на которых отправлялись в плавание моряки в период Великих географических открытий?
 Ответ запишите со строчной буквы во мн.ч.

Запишите ответ:		
1)	Ответ:	

Задание №44

Европейцам стали недоступны сухопутные пути из Европы в страны Индии и Китая к XV-XVI вв. потому, что

Выберите один из 4 вариантов ответа:		
1)		в этот период прекратилось развитие транспорта
2)		турки-османы проводили завоевательную политику
3)		возвысилась Византия
4)		в этот период стала популярной идея замкнутости и культурной изоляции Европы

Задание №45

Эпоха Великих географических открытий положила начало

Выберите один из 4 вариантов ответа:

1)		формированию колониальных держав
2)		тесному сотрудничеству стран Запада и Востока
3)		жестоким войнам между Западом и Востоком за колонии
4)		укреплению лидерства Венеции и Генуи в мировой торговле

Задание №46

Отметьте положительное последствие путешествий европейцев в XV-XVI вв.

Выберите один из 4 вариантов ответа:

1)		вооружённые конфликты
2)		уничтожение цивилизаций и культуры Америки
3)		соперничество за колонии
4)		появление новых рынков сбыта готовой продукции

Задание №47

Отметьте отрицательное последствие Великих географических открытий.

Выберите один из 4 вариантов ответа:

1)		распространение христианства
2)		появление новых продуктов питания в рационе европейцев
3)		развитие торговли и мореплавания
4)		вооружённые конфликты и столкновения

Задание №48

Одной из причин Реформации является

Выберите один из 4 вариантов ответа:

1)		невежество священнослужителей
2)		изменения в обществе
3)		политика королей
4)		взгляды деятелей эпохи Возрождения

Задание №49

Одной из причин Великих географических открытий было стремление европейцев найти новые пути в

Выберите один из 4 вариантов ответа:

- | | |
|----|----------------------|
| 1) | Россию и Монголию |
| 2) | Индию и Китай |
| 3) | Испанию и Португалию |
| 4) | Египет и Алжир |

Задание №50

Укажите события, которые историки связывают с началом эпохи Нового времени.
Выберите два правильных ответа.

Выберите несколько из 5 вариантов ответа:

- | | |
|----|--------------------------------------|
| 1) | Великие географические открытия |
| 2) | Великое переселение народов |
| 3) | появление фабрик и заводов |
| 4) | гибель Римской империи |
| 5) | Реформация в странах Западной Европы |

Задание №51

Укажите события, которые историки связывают с началом эпохи Нового времени. Выберите два правильных ответа.

Выберите несколько из 5 вариантов ответа:

- | | |
|----|------------------------------------|
| 1) | Итальянское Возрождение |
| 2) | Принятие Великой хартии вольностей |
| 3) | Столетняя война |
| 4) | "Славная революция" в Англии |
| 5) | Реформация в Германии |

Задание №52

Каковы последствия Великих географических открытий. Отметьте два ответа из пяти предложенных.

Выберите несколько из 5 вариантов ответа:

1)		началась эпоха Крестовых походов
2)		стал складываться единый мировой рынок
3)		возросло значение Венеции и Генуи
4)		стали возникать первые колониальные империи
5)		уменьшилось количество золота, привозимого в Европу

Задание №53

Каковы последствия Великих географических открытий? Отметьте два верных ответа из пяти предложенных.

Выберите несколько из 5 вариантов ответа:

1)		началась Реконкиста
2)		изменились представления европейцев о мире
3)		были созданы условия для развития богословия и схоластики
4)		торговые пути переместились из Средиземного моря в океаны
5)		сложились благоприятные условия для развития государств майя и ацтеков

Задание №54

В перечне представлены особенности формирования единого государства, характерные для истории России и для истории Западной Европы. Черты, характерные для России, обозначьте цифрой 1; черты, характерные для Западной Европы, обозначьте цифрой 2.

Укажите соответствие для всех 6 вариантов ответа:

1)	важным фактором объединения была необходимость освобождения страны от внешней зависимости	1)	черты, характерные для России
2)	формирование государства происходило при увеличении численности свободных крестьян	2)	черты, характерные для Западной Европы

3)	господство натурального хозяйства — отличительная черта развития экономических отношений		
4)	отсутствие тесных хозяйственных связей между районами страны		
5)	развитие рынка стало важной предпосылкой формирования государства		
6)	стремление городов к получению защиты и поддержки со стороны государства		

Задание №55

В перечне представлены особенности формирования единого государства, характерные для истории России и для истории Западной Европы. Черты, характерные для России, обозначьте цифрой 1; черты, характерные для Западной Европы, обозначьте цифрой 2.

Укажите соответствие для всех 6 вариантов ответа:

1)	предпосылкой развития государств стало развитие рыночных отношений	1)	Черты, характерные для России
2)	предпосылкой формирования государства стала борьба за национальное освобождение	2)	черты, характерные для Западной Европы
3)	особенностью формирования государства стал рост земельных владений великого князя и его окружения		
4)	натуральное хозяйство перестало быть основой экономики		
5)	сохранение натурального хозяйства		

6)	экономическая заинтересованность городов в формировании единого государства		
----	---	--	--

Задание №56

Установите соответствие между путешественниками и совершёнными ими открытиями.

Укажите соответствие для всех 4 вариантов ответа:

1)	описание открытых земель Нового Света	1)	Васко да Гама
2)	открытие Америки	2)	Америго Веспуччи
3)	плавание к юго-западу Индии	3)	Христофор Колумб
4)	попытка открытия северо-восточного пути в Китай и Японию	4)	Ричард Ченслер

Задание №57

Установите соответствие между путешественниками и совершенными ими открытиями

Укажите соответствие для всех 4 вариантов ответа:

1)	Христофор Колумб	1)	путешественник, который организовал первое кругосветное путешествие
2)	Васко Нуньес де Бальбоа	2)	завоевание Мексики
3)	Эрнан Кортес	3)	путешественник, который открыл Америку
4)	Фернан Магеллан	4)	выход к побережью Тихого океана

Задание №58

Какие два из названных положений содержались в учении М. Лютера? Запишите цифры, под которыми они указаны, в строку ответов.

- 1) о подчинении светских правителей церковным властям
- 2) о богослужении на национальных языках
- 3) об оправдании верой
- 4) об имущественном равенстве верующих

Ответ запишите без пробелов, в порядке возрастания.

Запишите число:

1)

Ответ:

Задание №59

Рассмотрите карту и выполните задание.

Назовите географический объект, обозначенный на карте цифрой "1".

Ответ запишите строчными буквами, в именительном падеже, единственном числе, без пробелов.



Запишите ответ:

1)

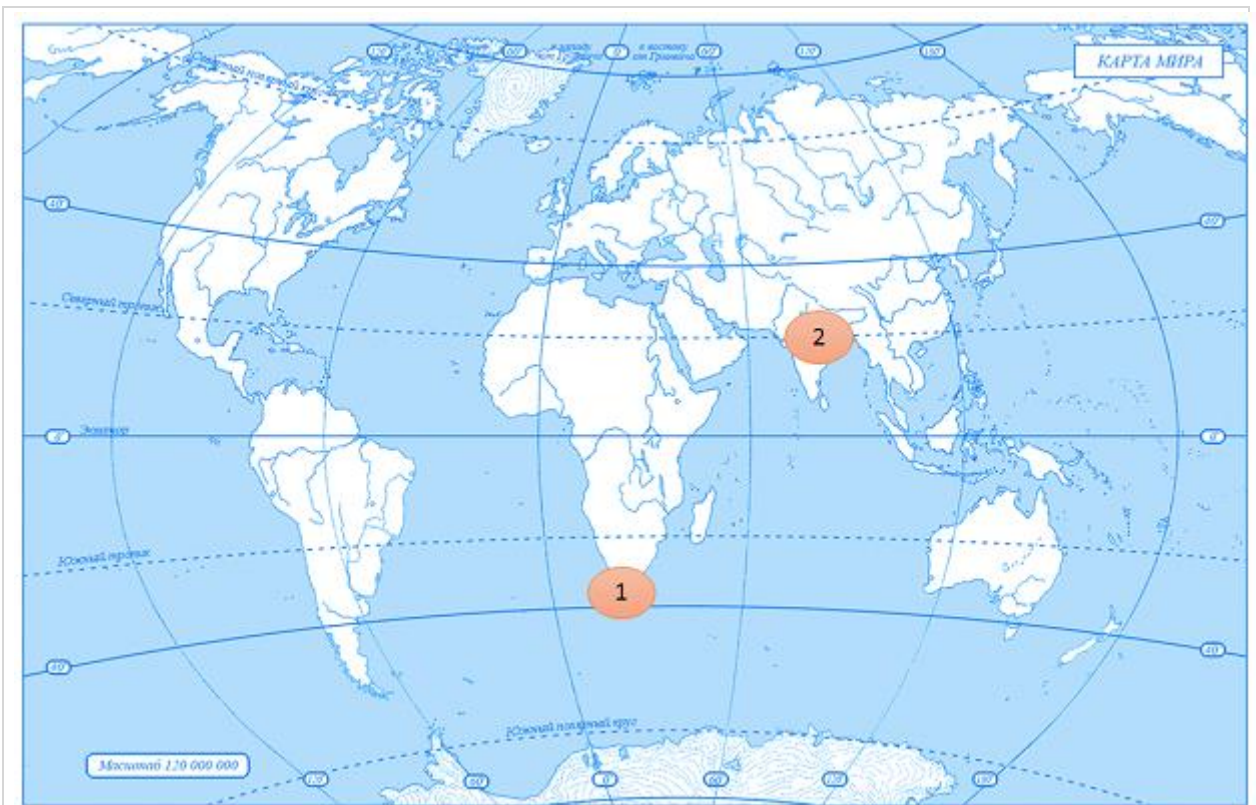
Ответ:

Задание №60

Рассмотрите карту и выполните задание.

Назовите государство-митрополию, которому принадлежала территория, обозначенная цифрой "2".

Ответ запишите со строчной буквы, в именительном падеже, единственном числе.



Запишите ответ:

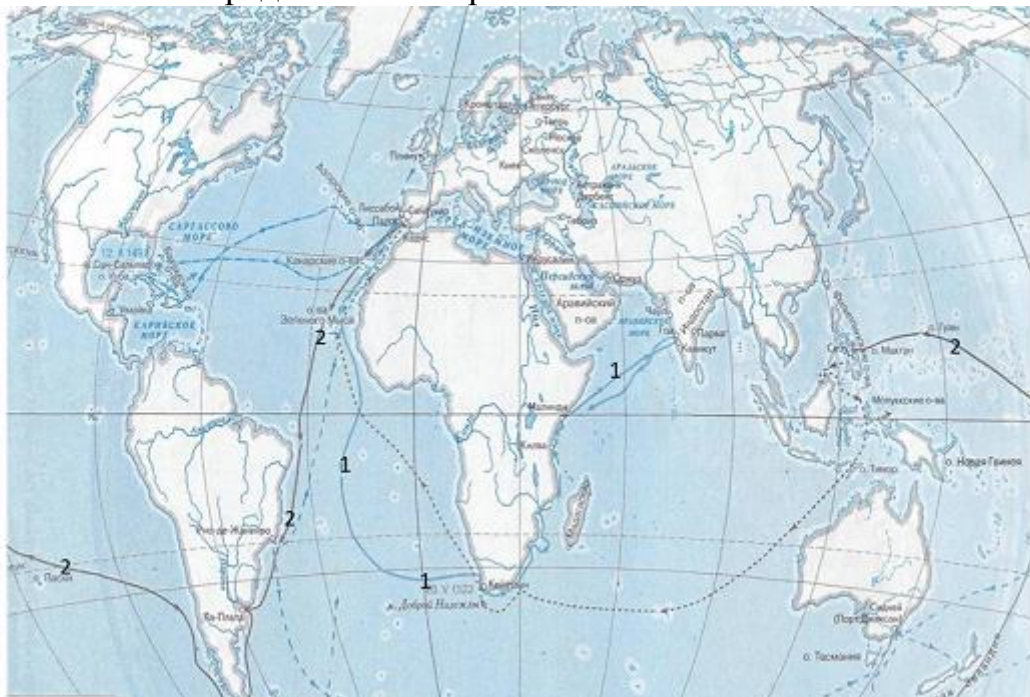
1)	Ответ:
----	--------

Задание №61

Рассмотрите карту и выполните задания.

Укажите положения, относящиеся к маршруту на карте, обозначенному цифрой "2".

Выберите из шести предложенных три положения.



Выберите несколько из 6 вариантов ответа:

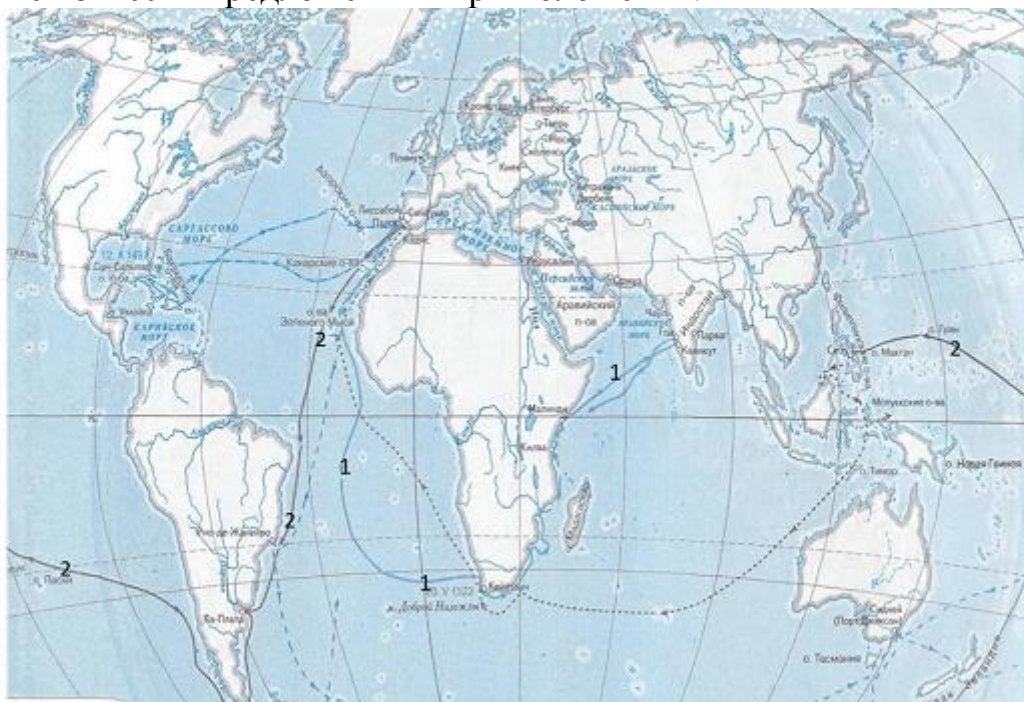
1)	Руководителем данной экспедиции был Америго Веспуччи
2)	Этот маршрут является первым кругосветным путешествием
3)	Участники данной экспедиции пересекли Панамский перешеек
4)	Это путешествие состоялось в 1519-1522 годах
5)	Руководителем данного плавания был Фернандо Магеллан
6)	Результатом данной экспедиции было открытие Америки

Задание №62

Рассмотрите карту и выполните задание.

Укажите положения, относящиеся к маршруту на карте, обозначенному цифрой "1".

Выберите из шести предложенных три положения.



Выберите несколько из 6 вариантов ответа:

1)	Эта экспедиция была в 1488 году
2)	Благодаря этому маршруту был проложен торговый путь на Восток
3)	Данная экспедиция зашла в индийский порт Каликут
4)	Руководителем этой экспедиции был Христофор Колумб
5)	Данное плавание доказало существование единого Мирового океана, связывающего все континенты
6)	Командующим этой эскадрой являлся Васко да Гама

Задание №63

Рассмотрите изображение и выполните задание.

Напишите имя и фамилию человека, изображенного на картинке.

Запишите со строчной буквы, без пробелов. в Им п.



Запишите ответ:

1)

Ответ:

Задание №64

Рассмотрите изображение и выполните задание.

Напишите имя и фамилию человека, изображенного на картинке.

Запишите со строчной буквы, без пробелов в И.п.



Запишите ответ:

1)

Ответ:

Задание №65

Рассмотрите изображение и выполните задание.

Выберите из шести предложенных три положения, относящихся к данному историческому деятелю



Выберите несколько из 6 вариантов ответа:

1)	На картинке изображен Жан Кальвин
2)	Данный исторический деятель являлся преподавателем богословия из города Виттенберг
3)	На картинке изображен человек, возглавивший Реформацию в Германии
4)	Благодаря этому человеку, город Женева стал протестантской столицей мира

5)	Данный исторический деятель осуществлял свою деятельность в конце XV века
6)	Это изображение главного реформатора церкви в Швейцарии

Задание №66

Рассмотрите изображение и выполните задание.

Выберите из шести предложенных три положения, относящихся к данному историческому деятелю.



Выберите несколько из 6 вариантов ответа:

1)	На картинке изображен Жан Кальвин
2)	Данный исторический деятель является автором "95 тезисов"
3)	На картинке изображен один из руководителей-участников Великих географических открытий
4)	Данный исторический деятель является родоначальником Реформации в Германии
5)	Фамилией изображенного человека, названо новое направление в протестантизме Швейцарии
6)	На картинке изображен Мартин Лютер