

Характеристика итоговой работы

МОДУЛЬ 2 «Население Земли. Закономерности оболочек Земли» 7 класс (базовый уровень)

1. Назначение работы: проверка достижения учащимися 7 класса уровня подготовки в ходе базового изучения предмета.
2. Основное содержание проверки: ориентировано на содержание ФГОС.
3. Характеристика работы: в работе 25 заданий, которые расположены по нарастанию трудности в теме (максимальный балл - 30) Задания выполняются на основе карт атласа, диаграмм, таблиц, графиков.

На задания 4, 15, 25 ответы записываются на отдельном листе или бланке.

Прочитайте внимательно задание, а затем выполните его.

4. Характеристика заданий: 1) задания, требующие записать ответ в виде слова; 2) задания, требующие записать ответ в виде последовательности цифр, в том числе на установление соответствия географических объектов и их характеристик, с выбором нескольких правильных ответов из предложенного списка, на установление правильной последовательности элементов, а также задания, требующие вписать в текст на месте пропусков ответы из предложенного списка; 3) задания, требующие выбор одного правильного ответа.

Включенные в работу задания проверяются знания географических явлений и процессов и умение анализировать географическую информацию, представленную в различных формах, способность применять полученные в школе географические знания для объяснения различных событий и явлений в повседневной жизни.




ВНИМАНИЕ! Банк заданий отсутствует. В таблице приведены примеры вопросов. В конце таблицы есть ответы на примерные вопросы для самопроверки. Дан перечень географической номенклатуры.

РЕКОМЕНДАЦИЯ. Прорешайте примерные вопросы и сопоставьте с ответами в конце таблицы. Если Вы допустили ошибки, то повторите темы.

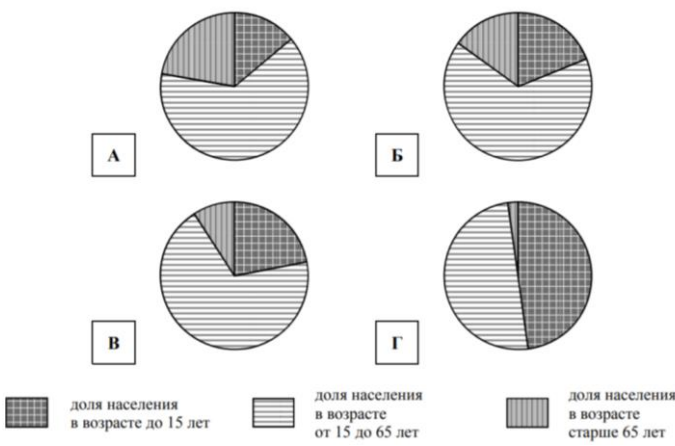
ОБОБЩЕННЫЙ ПЛАН РАБОТЫ

по предмету ГЕОГРАФИЯ

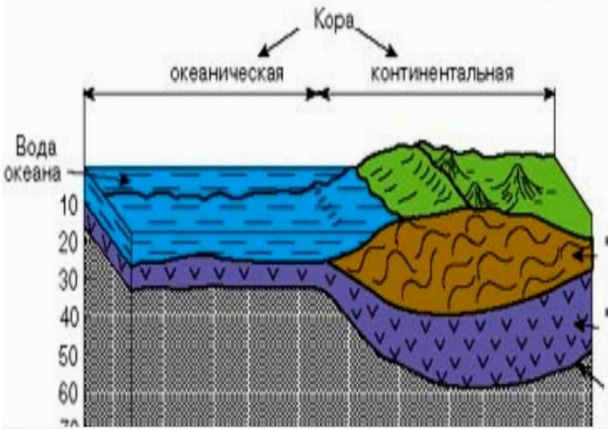


МОДУЛЬ 2 «Население Земли. Закономерности оболочек Земли» 7 класс (базовый уровень)

№ задания	Блок содержания	Проверяемые элементы содержания и виды деятельности	Типы заданий	Уровень сложности	<p style="text-align: center;">ВНИМАНИЕ! Это не банк заданий. Пример вопроса в итоговой работе</p>	Балл
1	Население	Умение работать с описанием		Б	<p>Представьте, что Вам было поручено взять интервью у зарубежного сверстника, чтобы он познакомил Вас со своей страной. Для иллюстрации этого интервью Вы попросили его прислать несколько фотографий, сделанных в стране, в которой он живёт.</p> <div style="display: flex; justify-content: space-around; align-items: center;">    </div> <p>1. Какую религию исповедует данный народ?</p>	1
2	население	Знание понятийного аппарата		Б	<p>Выбор правильного ответа. Это разность между числом родившихся и числом умерших людей за определенный период времени. А) смертность Б) рождаемость В) наследственность Г) естественный прирост</p>	1
3	население	Знание понятийного аппарата		Б	<p>Выбор правильного ответа. Это процесс перемещения людей из одного региона в другой. А) урбанизация Б) миграция В) субординация</p>	1

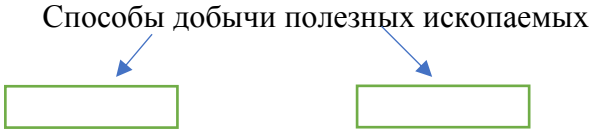

4	население	Умение работать и анализировать данные таблиц		Б	<p>Г) ПЛОТНОСТЬ</p> <p>С помощью таблицы выполните задания</p> <p style="text-align: center;">Численность и состав населения Численность Состав населения, %</p> <table border="1" style="margin-left: auto; margin-right: auto;"> <thead> <tr> <th rowspan="2">№</th> <th rowspan="2">Страна</th> <th colspan="2">населения, млн человек</th> </tr> <tr> <th>городское</th> <th>сельское</th> </tr> </thead> <tbody> <tr> <td>1</td> <td>Индонезия</td> <td>245</td> <td>51</td> </tr> <tr> <td>2</td> <td>Франция</td> <td>82</td> <td>80</td> </tr> <tr> <td>3</td> <td>Россия</td> <td>144</td> <td>80</td> </tr> <tr> <td>4</td> <td>Япония</td> <td>127</td> <td>91</td> </tr> </tbody> </table> <p>Расположите страны в порядке увеличения численности населения, начиная с той, у которой данный показатель самый низкий. Запишите в ответе последовательность порядковых номеров этих стран.</p> <p>В какой стране доля городского населения самая большая? Запишите в ответе название этой страны.</p> <p>В каких странах доля сельского населения составляет от 10 – 30%? Запишите в ответе названия этих стран</p>	№	Страна	населения, млн человек		городское	сельское	1	Индонезия	245	51	2	Франция	82	80	3	Россия	144	80	4	Япония	127	91	2											
№	Страна	населения, млн человек																																					
		городское	сельское																																				
1	Индонезия	245	51																																				
2	Франция	82	80																																				
3	Россия	144	80																																				
4	Япония	127	91																																				
5	население	Умение работать с таблицами, производить их анализ		Б	<p style="text-align: center;">Численность и состав населения, 2017 г.</p> <table border="1" style="margin-left: auto; margin-right: auto;"> <thead> <tr> <th rowspan="2">№</th> <th rowspan="2">Страна</th> <th rowspan="2">Численность населения, млн человек</th> <th colspan="3">Возрастной состав, %</th> </tr> <tr> <th>Доля населения в возрасте до 15 лет</th> <th>Доля населения в возрасте от 15 до 65 лет</th> <th>Доля населения в возрасте старше 65 лет</th> </tr> </thead> <tbody> <tr> <td>1</td> <td>Новая Зеландия</td> <td>4,5</td> <td>19</td> <td>66</td> <td>15</td> </tr> <tr> <td>2</td> <td>Ангола</td> <td>30</td> <td>48</td> <td>50</td> <td>2</td> </tr> <tr> <td>3</td> <td>Бразилия</td> <td>211</td> <td>22</td> <td>69</td> <td>9</td> </tr> <tr> <td>4</td> <td>Италия</td> <td>62</td> <td>14</td> <td>64</td> <td>22</td> </tr> </tbody> </table> <p>Соотнесите страну и соответствующую ей диаграмму</p>	№	Страна	Численность населения, млн человек	Возрастной состав, %			Доля населения в возрасте до 15 лет	Доля населения в возрасте от 15 до 65 лет	Доля населения в возрасте старше 65 лет	1	Новая Зеландия	4,5	19	66	15	2	Ангола	30	48	50	2	3	Бразилия	211	22	69	9	4	Италия	62	14	64	22	2
№	Страна	Численность населения, млн человек	Возрастной состав, %																																				
			Доля населения в возрасте до 15 лет	Доля населения в возрасте от 15 до 65 лет	Доля населения в возрасте старше 65 лет																																		
1	Новая Зеландия	4,5	19	66	15																																		
2	Ангола	30	48	50	2																																		
3	Бразилия	211	22	69	9																																		
4	Италия	62	14	64	22																																		

					 <p> доля населения в возрасте до 15 лет доля населения в возрасте от 15 до 65 лет доля населения в возрасте старше 65 лет </p>	
6	Рельеф Земли	Знание понятийного аппарата		Б	<p>Выбор правильного ответа. Это совокупность неровностей земной поверхности</p> <p>А) рельеф Б) платформа В) горы Г) равнина</p>	1
7	Рельеф	Знание понятийного аппарата		Б	<p>Выбор правильного ответа Это крупные устойчивые участки земной коры с кристаллическим фундаментом в основании и осадочным чехлом поверх него.</p> <p>А) платформа Б) складчатость В) рельеф Г) срединно-океанический хребет</p>	1

8	Рельеф Земли	Умение работать с географическими картами		Б	 <p>Соотнесите названия географических объектов с цифровыми обозначениями на карте. Географические объекты: Анды, Кордильеры, Скалистые горы, Аппалачи, Уральские горы, Тянь-Шань, Куньлунь, Гималаи, Большой водораздельный хребет, Трансарктические горы.</p>	2
9	Рельеф Земли	Умение работать с географическими картами		Б	<p>Назовите самый высокий материк</p> <ol style="list-style-type: none"> 1.Евразия 2.Африка 3.Северная Америка 4.Антарктида 	1
10	Рельеф Земли	Умение работать с географическими картами		Б	<p>Назовите самый глубокий океан:</p> <ol style="list-style-type: none"> 1.Атлантический 2. Тихий 3.Северный Ледовитый 4. Южный 	1
11	Рельеф Земли	Знание и понимание процессов происходящих внутри Земли		Б	<p><i>Области современного горообразования и землетрясений называют:</i></p> <ol style="list-style-type: none"> 1. пояса подвижности 2.сейсмические пояса 3.окраины материков 	1

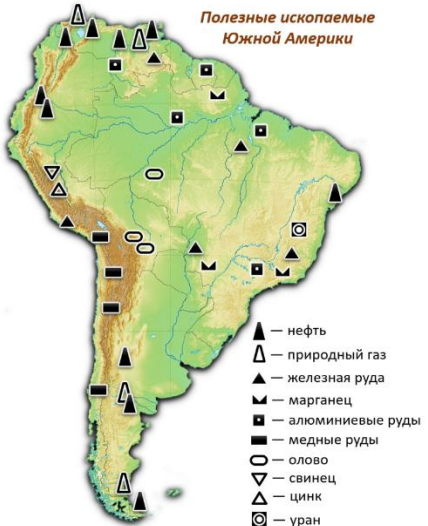
12	Рельеф Земли	Умение работать с географическими картами		Б	<p><i>Горы Кордильеры – это горы</i></p> <ol style="list-style-type: none"> кайнозойской складчатости герцигской складчатости байкальской складчатости 	1
13	Рельеф Земли	Знание строения земной коры		Б	 <p>Стрелками на рисунке показаны слои континентальной и океанической земной коры. Подпишите каждый слой.</p>	1
14	Рельеф Земли	Понимание, знание отличий основных форм рельефа		Б	<p>12.</p>  <p>Дополните схему.</p>	1
15	Рельеф Земли	Умение работать с географическими картами		Б	<p>На рисунке представлены значки, которыми обозначаются месторождения полезных ископаемых на географических картах</p>  <p>Выберите значки, обозначающие месторождения полезных ископаемых, которые добываются на территории Южной Америки.</p>	2
16	Население	Знание понятийного аппарата, умение работать с		Б	<p>Определите регион, который концентрирует более половины населения Земли:</p> <ol style="list-style-type: none"> Латинская Америка Зарубежная Азия 	1

		географическими картами			3. Африка 4. Северная Америка	
17	Население	Знание понятийного аппарата, умение работать с географическими картами		Б	Выберите страну с максимальной средней продолжительностью жизни: 1. США 2. Германия 3. Япония 4. Китай	1
18	Население	Знание понятийного аппарата, умение работать с географическими картами		Б	В Латинской Америке преобладают государства: 1. Однонациональные 2. Двунациональные 3. Многонациональные	1
19	Население	Знание понятийного аппарата, умение работать с географическими картами		Б	Найдите ошибку в перечне мировых религий: 1. Индуизм 2. Христианство 3. Ислам 4. Буддизм	1
20	Население. Религии мира	Знание понятийного аппарата, умение работать с географическими картами		Б	Самой распространённой по численности населения языковой семьей в мире являются: 1. Сино-тибетская 2. Индоевропейская 3. Африканская 4. Алтайская	1
21	Население. Расселение населения Земли.	Знание понятийного аппарата, умение работать с географическими картами		Б	Размещение населения по территории Земли отличается: 1. Равномерностью 2. Неравномерностью, связанной прежде всего с природными условиями 3. Неравномерностью, связанной прежде всего с социально-экономическими условиями	1
22	Население.	Знание		Б	Форма правления, при которой все органы власти страны избираются	1

		понятийного аппарата, умение работать с географическими картами			населением - _____	
23	Население	Знание понятийного аппарата, умение работать с географическими картами		Б	Если власть монарха в стране практически ничем не ограничена, то такая монархия называется _____	1
24	Рельеф	Знать, понимать способы и методы добычи полезных ископаемых		Б	<p>Закончите схему</p> <p style="text-align: center;">Способы добычи полезных ископаемых</p> <div style="display: flex; justify-content: space-around; align-items: center;"> <div style="text-align: center;">  </div> </div>	1
25	Рельеф Земли	Уметь объяснять преимущества и недостатки процессов		Б	<p>Преимуществом такого способа добычи является его относительная дешевизна, наибольшая производительность и трудоемкость, безопасные условия труда, а недостатками — большое снижение качества сырья из-за содержания в нем большого количества пустых пород, негативные последствия по отношению к окружающей среде.</p> <p>Таким способом обычно добывают природное строительное и индустриальное сырье такое как — известняк и мел, песок и глина, торф и уголь, медь и свинец, молибден и никель, олово и вольфрам, хром и марганец, цинк и железо.</p> <div style="display: flex; align-items: flex-start;">  <div style="margin-left: 10px;"> <p>Задание. Укажите, какой способ добычи полезных ископаемых описан в тексте.</p> <p>Назовите экологические проблемы, возникающие при таком способе добычи полезных ископаемых.</p> </div> </div>	2

Ответы для самопроверки

№ вопроса	Ответ
1	Ответ- индуизм
2	рождаемость
3	миграция
4	2431 Япония Россия, Франция
5	1-Б 2-Г 3-В 4-А
6	рельеф
7	платформа
8	1- Анды 2- Кордильеры 3- Скалистые горы 4- Аппалачи 5- Уральские горы 6- Тянь-Шань 7- Куньлунь 8- Гималаи 9- Большой водораздельный хребет 10- Трансарктические горы
9	Евразия
10	Тихий
11	сейсмические пояса
12	кайнозойской складчатости
13	Осадочный слой Базальтовый Гранитный
14	горы

15	<p style="text-align: center;"><i>Полезные ископаемые Южной Америки</i></p>  <p>▲ — нефть △ — природный газ ▲ — железная руда ▼ — марганец ■ — алюминиевые руды ■ — медные руды ○ — олово ▼ — свинец △ — цинк ⊠ — уран</p>
16	1. Зарубежная Азия
17	Китай
18	1. Однонациональные
19	1. Индуизм
20	1. Индоевропейская
21	1. Неравномерностью, связанной прежде всего с природными условиями
22	республика
23	абсолютная
24	Открытый и закрытый
25	открытый