

Материалы
для подготовки к тестированию по истории 11 класс М-1 профильный уровень

Тема	Основное содержание
Ранняя история восточных славян. Образование государства. Теории происхождения: борьба взглядов	Расселение славянских народов, формирование племен. Особенности хозяйства и быта. Теории происхождения государства. Норманисты и антинорманисты. Основные аргументы противоборствующих сторон.
Становление государственности на Руси IX – X вв.	Первые русские князья: Рюрик, Олег, Игорь, Ольга, Святослав. Их вклад в становление и развитие государственности.
Русь при Владимире Великом и Ярославе Мудром. Христианизация Руси, значение. Расцвет русской государственности.	Правление Владимира, продолжение политики предшественников, защита границ, строительство крепостей, засечных укреплений, борьба с кочевниками (печенегами), расширение территорий государства. Принятие христианства – духовной основы древнерусского государства, развитие церковной структуры. как опоры центральной власти. Укрепление международного положения Руси. «Русская правда» - единый письменный свод законов Руси. Удачная международная политика Ярослава Мудрого, соперничество с Византией. Принцип «лестничного права» во владении княжествами, его роль в будущем разъединении государства на отдельные княжества. Угроза от половцев и борьба с ними.
Русь при Ярославичах. Владимир Мономах и Мстислав Великий – их вклад в сохранение централизованного государства	Наращение разобщенности между Рюриковичами, съезд 1097 г. в Любече и его решения, значение для «устроения мира». Киевское восстание 1113 г. Княжение Владимира Мономаха, его деятельность по сохранению единства государства. «Поучения Владимира Мономаха» как жанр воспитательной литературы. Появление «Повести временных лет». Строительство церквей, замков, моста через Днепр. Великий Мстислав, его политика по сохранению единства. Противостояние Киева и Новгорода, «Пространная правда». Претензии князей наследование земель по <i>вотчинному</i> принципу.
Русь в период полицентризма: формирование и развитие самостоятельных княжеств (земель)	Становление самостоятельных княжеских династий. Дискуссии по вопросу о политическом устройстве Древнерусского государства: раннефеодальная монархия или варварское государство, или совокупность самостоятельных городов-государств. Формирование на Руси полицентричной государственной структуры, выделение наиболее сильных княжеств: Новгородской республики, Черниговского и Смоленского княжеств, Владимиро-Суздальской Руси, Галицко-Волынской земли. Особенности социально-политического устройства Руси. Категории служилого населения: огнищане, тиуны, подъездные, вирники, старейшие дружинники (бояре, мужи) и молодшие (отроки, детские, гриди). Вотчина как вид крупной земельной собственности. Система уплаты дани, кормление. Положение свободного населения, начальные элементы расслоения (рядовичи, закупы, изгои, холопы), смерды, значение общины (верви) и вече. Возможность изменения социального статуса человека.

<p>Культура домонгольской Руси (X – начало XIII в.)</p>	<p>Развитие техники земледелия и ремесел. Господство натурального хозяйства. Быт и досуг жителей Древней Руси. Образование. Книгоделательные мастерские. Письменность и просвещение. Остромирово Евангелие – самая ранняя точно датированная книга. Жанры древнерусской литературы. Храмовое искусство, стили. Виды монументальной живописи: мозаика, фреска, иконопись. Великие личности русской культуры.</p>
---	---

События/даты:

Конец 1 тысячелетия – славянские племена делятся на три ветви: западные славяне – поляки, чехи, словаки; южные славяне – болгары, сербы, словенцы, македонцы, хорваты, боснийцы; восточные славяне – русские, украинцы, белорусы.

VIII в. – восточные славяне заселили территорию Восточно-Европейской равнины.

IX в. – выделение двух крупных объединений славян: союз полян в Среднем Поднепровье (Киев) и северо-западное объединение славянских и финно-угорских племён в районе озера Ильмень.

Даты:

860 – поход Руси на Константинополь

862 – «призвание» Рюрика на княжение, обоснование сначала в Ладоге, затем в Новгороде

879 – смерть Рюрика

879-912 - Олег

882 – захват Олегом Киева и перенос столицы

907 – поход Олега на Константинополь

911 – договор Руси с Византией

912 - 945 - Игорь

941, 944 – походы Игоря на Константинополь, договоры Руси с Византией

945 – 957/964 – княжение Ольги

957 – крещение Ольги

945 - 972 – Святослав I

964-972 – походы Святослава

978/980-1015 – княжение Владимира Святославича в Киеве

988 – крещение Руси

1016 - 1018 и 1019 - 1054 – княжение Ярослава Мудрого

XI в. – Правда Русская (1016 г.) (Краткая редакция)

Начало XI в. (1110, 1115 ориентировочно «Сказание о Борисе и Глебе» - Нестор

1036 – разгром печенегов Ярославом

1037 – предположительно начато строительство Храма Святой Софии в Киеве

1045 – 1050 – строительство Храма Святой Софии в Новгороде

1049 – произнесение Иларионом «Слова о законе и благодати»

1051 – без согласия Константинополя ставится митрополит Иларион

1056 – 1057 – Остромирово Евангелие

1068 – поражение Ярославичей от половцев

1073 – «Изборник» Святослава

1097 – Любечский съезд (по инициативе Владимира Мономаха)

1113-1125 – княжение в Киеве Владимира Мономаха

1125-1132 – княжение в Киеве Мстислава Великого

1125 – Ростислав Мстиславич, внук Владимира Мономаха, получил Смоленские земли

Начало XII в. (около 1113 г) – «Повесть временных лет» Нестор

XII в. – Правда Русская (Пространная редакция)

1147 – первое упоминание Москвы в летописях

1149 – 1150; 1150-1150; 1155 – 1157 – правление Юрия Долгорукого в Киеве (3)

Шестой сын Владимира Мономаха, первый самостоятельный суздальский князь

1169 – 1174 – Андрей Юрьевич Боголюбский – суздальский князь

1176 – 1212 – Всеволод Большое гнездо
1185 – поход Игоря Святославича на половцев
1187 – «Слово о полку Игореве»

Понятия и термины:

Присваивающее и производящее хозяйство. Славяне. Подсечно-огневая система земледелия, перелог, двухполье, трёхполье. Натуральное хозяйство и рынок. Город. Концы и улицы (Новгород). Село. Дань, полюдье. Монархия, республика. Князь, вече, посадник, воевода, тысяцкий, бояре, отроки.

Дружина. «Люди градские», «граждане». Купцы. Гости. Смерды, закупы, холопы.

Язычество, христианство, православие, ислам, иудаизм. Епархия. Монастырь.

Митрополит. Патриарх. Автокефалия (церковная).

Десятина. Раздробленность. Вотчина. Поместье. Крестьяне. Барщина и оброк.

Граффити. Базилика. Крестово-купольный храм. Плинфа. Фреска. Мозаика. Летопись. Жития, житийная литература. Берестяные грамоты. Былины. Крестonosцы. Централизация. Кормление. Царь.

Государственная символика. Герб.

Персоналии: *Государственные и военные деятели:* Александр Невский, Андрей Боголюбский, Аскольд и Дир, Владимир Святой,

Олег, Ольга, Ольгерд, Рюрик, Игорь, Святослав, Андрей Боголюбский, Владимир Мономах, Владимир Святой, Всеволод Большое Гнездо, Даниил Галицкий, Даниил Московский, Игорь Святославич, Михаил Ярославич Тверской, Святополк Окаянный, Святослав Игоревич, Юрий Долгорукий, Ярослав Мудрый.

Общественные и религиозные деятели, деятели культуры, науки и образования:

Борис и Глеб, митрополит Илларион, митрополит Иона.

Банк заданий

Задание №1

Запишите понятие, о котором идёт речь.

«Историческое произведение древнерусской литературы, в котором повествование велось по годам».

Запишите ответ:

1)

Ответ:

Задание №2

Запишите понятие, о котором идёт речь.

«Произведения устного народного творчества и поэтические сказания о прошлом, в которых прославлялись подвиги русских богатырей».

Запишите ответ:

1)

Ответ:

Задание №3

Запишите термин, о котором идёт речь.

«Изображение или узор из скреплённых друг с другом кусочков цветного непрозрачного стекла (смальты), разноцветных камешков, эмали, дерева».

Запишите ответ:

1)	Ответ:	
----	--------	--

Задание №4

Запишите термин, о котором идёт речь.

«Несколько монархов из одного и того же рода (семьи), сменявших друг друга на престоле по праву наследования».

Запишите ответ:

1)	Ответ:	
----	--------	--

Задание №5

Запишите термин, о котором идёт речь.

Крупное наследственное земельное держание в Древней Руси.

Запишите ответ:

1)	Ответ:	
----	--------	--

Задание №6

Запишите термин, о котором идёт речь.

Литературные описания жизни людей, причисленных церковью к лику святых.

Запишите ответ:

1)	Ответ:	
----	--------	--

Задание №7

Запишите термин, о котором идёт речь.

Название мест сбора дани, установленных реформой княгини Ольги.

Запишите ответ:

1)	Ответ:	
----	--------	--

Задание №8

Запишите термин, о котором идёт речь.

Название одного из основных занятий восточных славян – сбора мёда диких пчёл.

Запишите ответ:

1)	Ответ:	
----	--------	--

Задание №9

Запишите термин, о котором идёт речь.

Орудие письма в Древнем Новгороде для письма на вощённых дощечках, изготавливаемое из металла или кости

Запишите ответ:

1)	Ответ:	
----	--------	--

Задание №10

Установите соответствие между князьями и событиями, произошедшими в годы их княжения: к каждому элементу первого столбца подберите соответствующий элемент из второго столбца.

Князья	События
А) Олег	1) восстание древлян
Б) Игорь	2) разгром Хазарского каганата
В) Святослав	3) введение уроков и погостов
	4) объединение Киева и Новгорода под властью одного князя

Запишите в таблицу выбранные цифры под соответствующими буквам

Запишите число:

1)	Ответ:	
----	--------	--

Задание №11

Установите соответствие между князьями и событиями, произошедшими во время их княжения: к каждому элементу первого столбца подберите соответствующий элемент из второго столбца.

КНЯЗЬЯ

- А) Олег Вещий
Б) Владимир Святославич
В) Ярослав Мудрый

властью одного князя

СОБЫТИЯ

- 1) принятие Русью христианства
2) разгром Хазарского каганата
3) составление первой части Русской Правды
4) объединение Киева и Новгорода под

Запишите выбранные цифры под соответствующими буквами.

Запишите число:

1)	Ответ:	
----	--------	--

Задание №12

Установите соответствие между князьями и событиями, произошедшими в годы их княжения: к каждому элементу первого столбца подберите соответствующий элемент из второго столбца.

КНЯЗЬЯ

- А) Олег
Б) Игорь
В) Святослав

СОБЫТИЯ

- 1) крещение Руси
2) битва под Доростолом
3) восстание древлян, приведшее к гибели киевского князя

4) заключение первого письменного договора с Византией

Запишите выбранные цифры под соответствующими буквами.

Запишите число:

1)	Ответ:	
----	--------	--

Задание №13

Установите соответствие между князьями и событиями, связанными с их деятельностью: к каждому элементу первого столбца подберите соответствующий элемент из второго столбца.

КНЯЗЬЯ

- А) Святослав Игоревич
- Б) Игорь Рюрикович
- В) Владимир Святославич

СОБЫТИЯ

- 1) начало чеканки русской монеты
- 2) основание города Юрьева
- 3) восстание древлян
- 4) поход на Хазарский каганат

Запишите выбранные цифры под соответствующими буквами.

Запишите число:

1)	Ответ:	
----	--------	--

Задание №14

Установите соответствие между князьями и событиями, связанными с их деятельностью: к каждому элементу первого столбца подберите соответствующий элемент из второго столбца.

КНЯЗЬ

- А) Владимир Мономах
- Б) Владимир Святославич
- В) Ярослав Мудрый

СОБЫТИЕ

- 1) созыв Любечского съезда
- 2) восстание древлян
- 3) крещение Руси
- 4) начало создания Русской Правды

Запишите выбранные цифры под соответствующими буквами.

Запишите число:

1)	Ответ:	
----	--------	--

Задание №15

Установите соответствие между князьями и событиями, связанными с их деятельностью: к каждому элементу первого столбца подберите соответствующий элемент из второго столбца.

КНЯЗЬЯ

- А) Владимир Святославич
- Б) Юрий Долгорукий
- В) Владимир Мономах

СОБЫТИЯ

- 1) крещение Руси
- 2) походы на хазар
- 3) походы против половцев
- 4) первое упоминание Москвы в летописи

Запишите выбранные цифры под соответствующими буквами.

Запишите число:

1)

Ответ:

Задание №16

Установите соответствие между князьями и событиями, относящимися ко времени их княжений: к каждому элементу первого столбца подберите соответствующий элемент из второго столбца.

КНЯЗЬЯ

- А) Владимир Святославич
- Б) Ярослав Мудрый
- В) Святослав Игоревич

СОБЫТИЯ

- 1) разгром Хазарского каганата
- 2) строительство «богатырских застав» на юго-востоке Руси
- 3) сражение на реке Воже
- 4) основание города Юрьева

Запишите выбранные цифры под соответствующими буквами.

Запишите число:

1)

Ответ:

Задание №17

Установите соответствие между правителями и событиями, связанными с их деятельностью: к каждому элементу первого столбца подберите соответствующий элемент из второго столбца.

ПРАВИТЕЛИ

- А) Ярослав Мудрый
- Б) Владимир Святославич
- В) Юрий Долгорукий

СОБЫТИЯ

- 1) создание Русской Правды
- 2) строительство Десятинной церкви в Киеве
- 3) первое летописное упоминание о Москве
- 4) строительство Успенского собора московского

Кремля

Запишите выбранные цифры под соответствующими буквами.

Запишите число:

1)

Ответ:

Задание №18

Установите соответствие между понятиями и их определениями: к каждому элементу первого столбца подберите соответствующий элемент из второго столбца.

ПОНЯТИЯ	ОПРЕДЕЛЕНИЯ
А) десятина	1) обработка помещичьей земли крестьянами
Б) оброк	2) натуральный (денежный) побор с покорённых народов
В) барщина	3) налог в пользу церкви
	4) продуктовый (денежный) платёж крестьян помещику

Запишите выбранные цифры под соответствующими буквами.

Запишите число:

1)	Ответ:	
----	--------	--

Задание №19

Установите соответствие между архитектурными памятниками и местами их расположения: к каждому элементу первого столбца подберите соответствующий элемент из второго столбца.

АРХИТЕКТУРНЫЕ ПАМЯТНИКИ	МЕСТА РАСПОЛОЖЕНИЯ
А) Исаакиевский собор	1) Боголюбово
Б) Церковь Покрова на Нерли	2) Киев
В) Золотые ворота	3) Санкт-Петербург
	4) Москва

Запишите выбранные цифры под соответствующими буквами.

Запишите число:

1)	Ответ:	
----	--------	--

Задание №20

Установите соответствие между терминами и их определениями : к каждому элементу первого столбца подберите соответствующий элемент из второго столбца.

ТЕРМИНЫ	ОПРЕДЕЛЕНИЯ
А) вервь	1) свободный крестьянин
Б) смерд	2) община
В) холоп	3) лицо несвободного состояния
	4) крестьянин, взявший ссуду

Запишите выбранные цифры под соответствующими буквами.

Запишите число:

1)	Ответ:	
----	--------	--

Задание №21

Установите правление князей в хронологической последовательности

Укажите порядок следования всех 4 вариантов ответа:

1)	Андрей Боголюбский
2)	Ярослав Мудрый
3)	Всеволод Большое Гнездо
4)	Владимир Мономах

Задание №22

Расположите в хронологической последовательности исторические события. Запишите цифры, которыми обозначены исторические события, правильной последовательности.

- 1) объединение Киева и Новгорода, создание Древнерусского государства
- 2) создание сборника законов Русская Правда
- 3) призвание на княжение варягов
- 4) гибель князя Игоря Старого

Запишите число:

1)	Ответ:	
----	--------	--

Задание №23

Расположите в хронологической последовательности исторические события. Запишите цифры, которыми обозначены исторические события, в правильной последовательности в таблицу.

- 1) объединение Киева и Новгорода под властью князя Олега
- 2) дунайские походы князя Святослава Игоревича
- 3) призвание на княжение варягов
- 4) введение уроков и погостов

Запишите число:

1)	Ответ:	
----	--------	--

Задание №24

Расположите в хронологической последовательности исторические события. Запишите цифры, которыми обозначены исторические события, в правильной последовательности в таблицу.

- 1) крещение Руси князем Владимиром
- 2) начало княжения Рюрика в Новгороде
- 3) разгром Святославом Хазарского каганата
- 4) съезд князей в Любече

Запишите число:

1)	Ответ:	
----	--------	--

Задание №25

Расположите в хронологической последовательности исторические события. Запишите цифры, которыми обозначены исторические события, в правильной последовательности в таблицу.

- 1) призвание варягов на Русь
- 2) начало правления Ярослава Мудрого в Киеве
- 3) крещение Руси
- 4) поход Игоря Святославича на половцев

Запишите число:

1)

Ответ:

Задание №26

Расположите в хронологической последовательности исторические события. Запишите цифры, которыми обозначены исторические события, в правильной последовательности в таблицу.

- 1) создание «Повести временных лет»
- 2) строительство Софийского собора в Новгороде
- 3) поход князя Олега на Византию
- 4) призвание новгородцами варяжских князей

Запишите число:

1)

Ответ:

Задание №27

Расположите в хронологической последовательности исторические события. Запишите цифры, которыми обозначены исторические события, в правильной последовательности в таблицу.

- 1) принятие Русью христианства
- 2) призвание новгородцами варягов
- 3) разгром печенегов Ярославом Мудрым
- 4) создание "Слова о полку Игореве"

Запишите число:

1)

Ответ:

Задание №28

Расположите в хронологической последовательности исторические события. Запишите цифры, которыми обозначены исторические события, в правильной последовательности в таблицу.

- 1) создание первой части сборника законов Русская Правда
- 2) Любечский съезд князей
- 3) поход князя Святослава на Волжскую Булгарию
- 4) призвание варягов в Новгород

Запишите число:

1)

Ответ:

Задание №29

Расположите в хронологической последовательности исторические события. Запишите цифры, которыми обозначены исторические события,

в правильной последовательности в таблицу.

- 1) поход князя Олега на Царьград
- 2) начало составления Русской Правды
- 3) установление уроков и погостов
- 4) первое упоминание Москвы в летописи

Запишите число:

1)	Ответ:	
----	--------	--

Задание №30

Расположите в хронологической последовательности исторические события. Запишите цифры, которыми обозначены исторические события, в правильной последовательности в таблицу.

- 1) объединение Киева и Новгорода под властью одного князя
- 2) съезд князей в Любече
- 3) гибель князей Бориса и Глеба
- 4) захват князем Владимиром города Корсунь

Запишите число:

1)	Ответ:	
----	--------	--

Задание №31

Расположите в хронологической последовательности время правления исторических личностей. Запишите цифры, которыми обозначены исторические личности, в правильной последовательности в таблицу.

- 1) Владимир Мономах
- 2) Игорь Рюрикович
- 3) Андрей Боголюбский
- 4) Мстислав Великий

Запишите число:

1)	Ответ:	
----	--------	--

Задание №32

Установите хронологическую последовательность

Укажите порядок следования всех 3 вариантов ответа:

- | | |
|----|---|
| 1) | первое летописное упоминание о Москве |
| 2) | разгром Хазарского каганата князем Святославом |
| 3) | призвание Владимира Мономаха на княжение в Киев |

Задание №33

Рассмотрите иллюстрацию. На иллюстрации представлена



Выберите один из 4 вариантов ответа:

1)	фреска
2)	мозаика
3)	миниатюра
4)	икона

Задание №34

Рассмотрите изображение и выполните задание. Укажите вид искусства, представленный на данном изображении.



Выберите один из 4 вариантов ответа:

1)	фреска
2)	скань
3)	миниатюра
4)	зернь

Задание №35

Рассмотрите иллюстрацию и выполните задание. Укажите название одной из русских земель в период раздробленности Древнерусского государства, где верховной властью обладал орган управления, деятельность которого изображена на данной иллюстрации.



Выберите один из 4 вариантов ответа:

1)	Киевское княжество
2)	Новгородская земля
3)	Владимири-Суздальское княжество
4)	Галицко-Волынская земля

Задание №36

Рассмотрите изображение и выполните задание. Укажите город, в котором были возведены памятники, изображения которых приведены в данном ряду.



Выберите один из 4 вариантов ответа:

1)	Новгород
2)	Киев
3)	Владимир
4)	Москва

Задание №37

Рассмотрите изображение и выполните задание. Укажите князя, с деятельностью которого связано возведение памятника, представленного на переднем плане левой части почтового блока.



Выберите один из 4 вариантов ответа:

1)	Ярослав Мудрый
2)	Владимир Мономах
3)	Андрей Боголюбский
4)	Всеволод Большое Гнездо

Задание №38

Рассмотрите изображение и выполните задание. Укажите князя, с деятельностью которого связано возведение памятника, изображённого на почтовой марке.



Выберите один из 4 вариантов ответа:

1)	Ярослав Мудрый
2)	Александр Невский
3)	Андрей Боголюбский
4)	Иван Калита

Задание №39

Ниже приведён перечень терминов. Все они, за исключением двух, относятся к периоду Древнерусского государства.

- 1) смерд
- 2) помещик
- 3) рядович
- 4) пожилое
- 5) боярин
- 6) закуп

Ответ запишите цифрами в порядке возрастания без пробелов и запятых.

Запишите число:

1)	Ответ:	
----	--------	--

Задание №40

Ниже приведён список терминов. Все они, за исключением двух, относятся к событиям и явлениям, происходившим в период существования Древнерусского государства.

- 1) митрополит
- 2) вира
- 3) ярлык
- 4) старообрядцы
- 5) подсечное земледелие
- 6) полюдьё

Ответ запишите цифрами в порядке возрастания без пробелов и запятых.

Запишите число:

1)	Ответ:	
----	--------	--

Задание №41

Ниже приведён список терминов. Все они, за исключением ДВУХ, относятся к периоду IX-XI вв.

- 1) смерд
- 2) пожилое
- 3) погост
- 4) холоп
- 5) вервь
- 6) баскак

Ответ запишите цифрами в порядке возрастания без пробелов и запятых.

Запишите число:

1)	Ответ:	
----	--------	--

Задание №42

Ниже приведён список разных групп населения. Все эти группы, за исключением двух, существовали в Древнерусском государстве.

- 1) бояре
- 2) закупы
- 3) рядовичи
- 4) баскаки
- 5) монахи
- 6) казаки

Ответ запишите цифрами в порядке возрастания без пробелов и запятых.

Запишите число:

1)	Ответ:	
----	--------	--

Задание №43

Народы тюркской группы, соседствующие со славянами (выберите 3 верных ответа)

- 1) печенеги,
- 2) болгары
- 3) ятвяги
- 4) латы
- 5) тюрки

Ответ запишите цифрами в порядке возрастания без пробелов и запятых.

Запишите число:

1)	Ответ:	
----	--------	--

Задание №44

К народам финно-угорской группы, соседствующих со следующими славянами, относились (выберите 3 верных ответа)

- 1) тюрки
- 2) болгары
- 3) мурома
- 4) мордва
- 5) весь

Ответ запишите цифрами в порядке возрастания без пробелов и запятых.

Запишите число:

1)	Ответ:	
----	--------	--

Задание №45

Народы тюркской группы, соседствующие со славянами (выберите 3 верных ответа)

- 1) эсты
- 2) ливы
- 3) авары
- 4) хазары
- 5) печенги

Ответ запишите цифрами в порядке возрастания без пробелов и запятых.

Запишите число:

1)	Ответ:	
----	--------	--

Задание №46

Какие три из перечисленных племен относились к восточным славянам? Запишите цифры, под которыми они указаны.

- 1) Мордва
- 2) Дреговичи
- 3) Тиверцы
- 4) Весь
- 5) Сумь
- 6) Вятичи

Ответ запишите цифрами в порядке возрастания без пробелов и запятых.

Запишите число:

1)	Ответ:	
----	--------	--

Задание №47

Народы балтской группы, соседствующие со славянами (выберите 2 верных ответа)

- 1) ливы
- 2) торки
- 3) латы
- 4) печенеги
- 5) хазары

Ответ запишите цифрами в порядке возрастания без пробелов и запятых.

Запишите число:

1)	Ответ:	
----	--------	--

Задание №48

Укажите положения норманнской теории происхождения государства на Руси. Укажите 3 верных ответа.

- 1) слово «Русь» скандинавского происхождения

- 2) слово «Русь» славянского происхождения
- 3) норманны внесли решающий вклад в создание государства у восточных славян
- 4) норманны научили славян военному и морскому делу
- 5) норманны принесли на Русь свой язык и традиции

Ответ запишите цифрами в порядке возрастания без пробелов и запятых.

Запишите число:

1)	Ответ:	
----	--------	--

Задание №49

Укажите положения антинорманской теории (укажите три верных ответа)

- 1) варяги использовались на Руси в качестве наёмной военной силы
- 2) варягов приглашались на уже сложившееся княжение
- 3) варягов на Руси не было вообще
- 4) центром формирования древнерусской государственности был Киев, а не Новгород
- 5) варяги привнесли на Русь государственность. Культуру и хозяйственные приёмы

Ответ запишите цифрами в порядке возрастания без пробелов и запятых.

Запишите число:

1)	Ответ:	
----	--------	--

Задание №50

Определите причины обращения к христианству (укажите 3 верных ответа)

- 1) ослабление власти киевского князя
- 2) неудачная попытка реформы язычества
- 3) стремление Владимира Святого породниться с византийским императором
- 4) несоответствие языческой религии уровню развития русского общества
- 5) обострение борьбы между знатью и зависимыми крестьянами

Ответ запишите цифрами в порядке возрастания без пробелов и запятых.

Запишите число:

1)	Ответ:	
----	--------	--

Задание №51

Определите значение крещения Руси (выберите 3 верных ответа)

- 1) преодоление отчуждения в отношениях с христианскими странами
- 2) установление письменных законов
- 3) приобщение к греческой, византийской культуре
- 4) укрепление государственной власти
- 5) отчуждение от стран, исповедовавших нехристианскую религию

Ответ запишите цифрами в порядке возрастания без пробелов и запятых.

Запишите число:

1)	Ответ:	
----	--------	--

Задание №52

Отметьте положения русско-византийского договора 911 года (отметьте 3 верных положения)

- 1) Византия признала главенство Руси
- 2) Русь признала господство Византии
- 3) русские купцы получили льготы и право беспошлинной торговли на территории Византии
- 4) стороны договаривались о возможности обмена пленными
- 5) стороны договаривались о выдаче друг другу преступников

Ответ запишите цифрами в порядке возрастания без пробелов и запятых.

Запишите число:

1)	Ответ:	
----	--------	--

Задание №53

Определите значение договора Руси с Византией 911 года

- 1) установление равноправных отношений между сторонами
- 2) это первый записанный договор Древнерусского государства
- 3) русские купцы получили льготы на торговлю в Византии
- 4) Русь смогла утвердиться на Балканах
- 5) были сорваны договорённости Византии и Хазарии против Руси

Ответ запишите цифрами в порядке возрастания без пробелов и запятых.

Запишите число:

1)	Ответ:	
----	--------	--

Задание №54

Во время правления Олега (укажите 3 верных ответа)

- 1) были совершены походы против хазар, а в результате которых племена, ранее платившие им дань, были от неё избавлены
- 2) были совершены походы на соседние Киеву племена, в результате которых они были обложены данью
- 3) Новгород и Киев были впервые объединены под властью отдельного князя
- 4) были завоёваны земли Волжской Булгарии
- 5) были завоёваны земли Дунайской Болгарии

Ответ запишите цифрами в порядке возрастания без пробелов и запятых.

Запишите число:

1)	Ответ:	
----	--------	--

Задание №55

При правлении князя Олега произошли следующие события (укажите 3 верных ответа)

- 1) Киев становится центром формирующейся государственности, под его властью оказались соседние племена
- 2) дружина начала собирать дань с подчинённых Киеву земель
- 3) Олег первым принял крещение
- 4) Олег принял первый свод законов Руси
- 5) Олег совершил поход на Византию и заключил выгодный для Руси договор

Ответ запишите цифрами в порядке возрастания без пробелов и запятых.

Запишите число:

1)	Ответ:	
----	--------	--

Задание №56

В период правления княгини Ольги произошли следующие события (укажите 3 верных ответа)

- 1) наказание древлян, подавление их восстания
- 2) установление уроков и погостов, определение единицы налогообложения -сохи
- 3) на Русь был приглашён первый митрополит
- 4) основаны новые крепости вдоль границ
- 5) первые среди княжеского рода Ольга приняла христианство

Ответ запишите цифрами в порядке возрастания без пробелов и запятых.

Запишите число:

1)	Ответ:	
----	--------	--

Задание №57

В период правления Святослава были осуществлены (укажите 3 верных ответа)

- 1) походы на Волжскую Булгарию
- 2) поход на Корсунь
- 3) разгром Хазарии
- 4) поход против печенегов
- 5) поход на Дунайскую Болгарию, битва с Византийцами у Доростола

Ответ запишите цифрами в порядке возрастания без пробелов и запятых.

Запишите число:

1)	Ответ:	
----	--------	--

Задание №58

При Владимире произошли следующие события (укажите 3 верных ответа)

- 1) предпринят поход на Корсунь
- 2) был заключён брак с византийской царевной Анной
- 3) была основана Десятинная церковь
- 4) заключён мир с Германией
- 5) подавлено восстание древлян

Ответ запишите цифрами в порядке возрастания без пробелов и запятых.

Запишите число:

1)	Ответ:	
----	--------	--

Задание №59

В княжение Олега Вещего совершены походы

- 1) на вятичей и Волжскую Булгарию
- 2) на хазар, освобождены часть славянских племен от уплаты хазарской дани
- 3) против половецкого хана Итларя
- 4) на радимичей и северян
- 5) на Византию, заключен с ней первый письменный договор

Ответ запишите цифрами в порядке возрастания без пробелов и запятых.

Запишите число:

1)	Ответ:	
----	--------	--

Задание №60

Прочитайте отрывок из летописи и напишите дату описываемого события.

«Сказали варягам чудь, сповяне, кривичи и весь: «Земля наша велика и обильна, а порядка в ней нет. Придите княжить и владеть нами». И избралась (среди варягов) трое братьев со своими родами и пришли к славянам, и сел старший Рюрик в Новгороде, а другой — Синеус — на Белоозере, третий Трувор — в Изборске».

Ответ запишите цифрами без пробелов и запятых.

Запишите число:

1)	Ответ:	
----	--------	--

Задание №61

Прочитайте отрывок из летописи и напишите имя упоминаемого в тексте князя.

«В год 6472 (летоисчисление от Сотворения мира). Когда (князь) вырос и возмужал, стал он собирать много воинов храбрых, и быстрым был, словно пардус (гепард), и много воевал. В походах же не возил за собою ни возов, ни котлов, не варил мяса, но, тонко нарезав

конину, или зверину, или говядину и зажарив на углях, так ел; не имел он шатра, но спал, постилая потник с седлом в головах, — такими же были и все остальные его воины, И посылал в иные земли со словами: "Хочу на вас идти". И пошел на Оку реку и на Волгу, и встретил вятичей, и сказал вятичам: "Кому дань даете?". Они же ответили: "Хазарам - по щелягу (серебряная монета неизвестного достоинства) с сохи даем".

Запишите ответ:

- | | | |
|----|--------|--|
| 1) | Ответ: | |
| 2) | Ответ: | |

Задание №62

На экономическое и общественное развитие восточных славян повлиял проходивший через Восточно-Европейскую равнину торговый путь, который «Повесть временных лет» назвала «путь _____».

Ответ запишите со строчной буквы без пробелов и запятых.

Запишите ответ:

- | | | |
|----|--------|--|
| 1) | Ответ: | |
|----|--------|--|

Задание №63

Народное собрание у восточных славян, обсуждающее важнейшие вопросы жизни племени; впоследствии орган управления в городах, в том числе в Новгороде, где на нём выбирали посадника и других представителей власти.

Ответ запишите со строчной буквы в И.п. ед.ч.

Запишите ответ:

- | | | |
|----|--------|--|
| 1) | Ответ: | |
|----|--------|--|

Задание №64

Запишите термин, о котором идёт речь.

Вид хозяйственной деятельности, связанный со сбором мёда диких пчёл, распространённый в землях восточных славян.

Ответ запишите со строчной буквы в И.п. ед.ч.

Запишите ответ:

- | | | |
|----|--------|--|
| 1) | Ответ: | |
|----|--------|--|

Задание №65

Напишите пропущенное слово.

Денежный штраф в пользу князя за убийство свободного человека в Древнерусском государстве назывался _____.

Ответ запишите со строчной буквы в И.п. ед.ч.

Запишите ответ:

- | | | |
|----|--------|--|
| 1) | Ответ: | |
|----|--------|--|

Задание №66

Укажите термин, о котором идёт речь.

Название территориальной общины в Древней Руси, члены которой несли коллективную ответственность за убийства и кражи, совершённые в границах общины; упоминается в Русской Правде.

Ответ запишите со строчной буквы в И.п. ед.ч.

Запишите ответ:

1) Ответ:

Задание №67

Запишите термин, о котором идёт речь.

Высшая должность в Новгородской и Псковской республиках, избирался на вече на один-два года и руководил деятельностью всех должностных лиц, вместе с князем ведал вопросами управления и суда.

Ответ запишите со строчной буквы в И.п. ед.ч.

Запишите ответ:

1) Ответ:

Задание №68

Установите соответствие между определениями и понятиями.

Укажите соответствие для всех 4 вариантов ответа:

1)	земледельцы, заключившие с хозяином земли договор на выполнение работ	1)	смерды
2)	свободные или зависимые земледельцы, основная масса населения Древней Руси	2)	холопы
3)	люди, находившиеся в полной зависимости от хозяина земли	3)	закупы
4)	земледельцы, взявшие ссуду	4)	тиуны
		5)	рядовичи
		6)	помещики

Задание №69

Установите соответствие между понятием и определением.

Укажите соответствие для всех 4 вариантов ответа:

1)	смерд	1)	Человек, утративший свободу
2)	холоп	2)	Старший дружинник, советник князя
3)	боярин	3)	Свободный общинник
4)	вой	4)	Управляющий крупным хозяйством

			5)	Участвовал в военных походах, снаряжал себя для похода
--	--	--	----	--

Задание №70

Установите соответствие между понятием и определением.

Укажите соответствие для всех 4 вариантов ответа:

1)	Варяги	1)	Торговое место, на котором также проходили совместные празднества племени
2)	Печенеги	2)	Воинственный кочевой народ Великой степи, совершающий набеги на Древнюю Русь
3)	Погост	3)	Воины-скандинавы, совершавшие морские походы и набеги с моря на побережья европейских стран
4)	Вече	4)	Народ финно-угорской группы
		5)	Племенное собрание у восточных славян

Задание №71

Установите соответствие между богами славян и природными стихиями, которые они олицетворяли.

Укажите соответствие для всех 4 вариантов ответа:

1)	Перун	1)	плодородие земли
2)	Сварог	2)	гроза
3)	Макошь	3)	ветер
4)	Стрибог	4)	небесный огонь

Задание №72

Установите соответствие между божествами славян и природными стихиями, которые они олицетворяли.

Укажите соответствие для всех 4 вариантов ответа:

1)	рожанички	1)	злые, темные духи
2)	упыри	2)	дух-покровительница отдыха селян
3)	полудница	3)	богини-покровительницы плодородия, воплощали женское начало в природе
4)	шишок	4)	дух лесного эха
		5)	дух домашнего очага, уюта

Задание №73

Установите соответствие между понятиями и определениями.

Укажите соответствие для всех 4 вариантов ответа:

1)	Капище	1)	Магический предмет, оберегающий его владельца от зла и бед
2)	Идол	2)	Место отправления языческих культов
3)	Амулет	3)	Магический предмет, призванный приносить своему обладателю удачу в жизни
4)	Талисман	4)	Изображение божества, изготовленное преимущественно из камня или дерева, предмет поклонения

Задание №74

Прочтите отрывок из летописи.

«В год 6390 (летоисчисление от Сотворения мира). Выступил в поход Олег, взяв с собою много воинов: варягов, чудь, словен, мерю, весь, кривичей, и пришел к Смоленску с кривичами, и принял власть в городе, и посадил в нем своего мужа. Оттуда отправился вниз, и взял Любеч, и также посадил мужа своего. И пришли к горам Киевским, и узнал Олег, что княжат тут Аскольд и Дир. Спрятал он одних воинов в ладьях, а других оставил поза-ди, и сам приступил, неся младенца Игорь. И подплыл к Угорской горе, спрятав своих воинов, и послал к Аскольду и Диру, говоря им, что-де "мы купцы, идем в Греки от Олега и княжича Игоря. Придите к нам, к родичам своим". Когда же Аскольд и Дир пришли, выскочили все остальные из ладей, и сказал Олег Аскольду и Диру: "Не князья вы и не княжеского рода, но я княжеского рода", и показал Игоря: "А это сын Рюрика". И убили Аскольда и Дира, отнесли на гору и погребли Аскольда на горе, которая называется ныне Угорской, где теперь Ольмин двор; на той могиле Ольма поставил церковь святого Николы; а Дирова могила - за церковью святой Ирины. И сел Олег, княжа, в Киеве, и сказал Олег: "Да будет это мать городам русским". И были у него варяги, и славяне, и прочие, прозваншиися русью. Тот Олег начал ставить города и установил дани словенам, и кривичам, и мери, и установил варягам давать дань от Новгорода по 300 гривен ежегодно ради сохранения мира, что и давалось варягам до самой смерти Ярослава».

Используя отрывок, выберите в приведённом списке три верных суждения.

Выберите несколько из 6 вариантов ответа:

1)	Олег был первым скандинавским князем, приглашённым на Русь славянскими и финскими племенами
2)	после Олега правил Русью князь Святослав
3)	Олег первым из князей подписал выгодный для Руси договор с Византией
4)	указанные события относятся к концу IX в.
5)	варяги — наёмные воины из Скандинавии на службе древнерусских князей
6)	чудь, меря, весь относятся к восточнославянским племенам

Задание №75

«В год 6472 (летоисчисление от Сотворения мира). Когда Святослав вырос и возмужал, стал он собирать много воинов храбрых, и быстрым был, словно пардус (гепард), и много воевал. В походах же не возил за собою ни возов, ни котлов, не варил мяса, но, тонко нарезав конину, или зверину, или говядину и зажарив на углях, так ел; не имел он шатра, но спал, постилая потник с седлом в головах, — такими же были и все остальные его воины, И посылал в иные земли со словами: "Хочу на вас идти". И пошел на Оку реку и на Волгу, и встретил вятичей, и сказал вятичам: "Кому дань даете?". Они же ответили: "Хазарам - по щелягу (серебряная монета неизвестного достоинства) с сохи даем".

В год 6473. Пошел Святослав на хазар. Услышав же, хазары вышли навстречу во главе со своим князем Каганом и сошлись биться, и в битве одолел Святослав хазар, и столицу их и Белую Вежу взял. И победил ясов и касогов.

В год 6474. Вятичей победил Святослав и дань на них возложил.

В год 6475. Пошел Святослав на Дунай на болгар. И бились обе стороны, и одолел Святослав болгар, и взял городов их 80 по Дунаю, и сел княжить там в Переяславце, беря дань с греков.»

Используя отрывок, выберите в приведённом списке три верных суждения.

Выберите несколько из 6 вариантов ответа:

1)	мать Святослава княгиня Ольга уговорила сына принять православие
2)	вятичи селились в нижнем течении Днепра
3)	кроме хазар Святослав окончательно разгромил печенегов
4)	Святославу не удалось закрепиться на Дунае в противоборстве с Византийской империей
5)	данный текст летописи рассказывает о событиях X в.
6)	отцом Святослава был князь Игорь

Задание №76

Выберите социально-экономические условия складывания государственности у восточных славян.

Выберите несколько из 5 вариантов ответа:

1)	возрастание в хозяйственной жизни роли отдельных семей
2)	образование племенных союзов
3)	расположение славянских земель между Европой и Азией
4)	формирование соседской общины
5)	прохождение через славянские земли транзитных торговых путей, связывающих страны Запада и Востока – «Из варяг – в греки» и «Большой Волжский путь»

Задание №77

Выделите из предложенного списка виды деятельности, распространенные среди восточных славян

Выберите несколько из 5 вариантов ответа:

1)	бортничество
2)	добыча болотных и озерных руд
3)	кочевое скотоводство
4)	пашенное земледелие
5)	морской промысел

Задание №78

Какие из перечисленных признаков характерны для жизни славян в период формирования соседской общины – верви?

Выберите несколько из 5 вариантов ответа:

1)	Земля и угодья использовались всеми членами общины сообща
2)	Общинная земля стала разделяться на семейные владения
3)	Наряду с личными наделами часть угодий использовалась сообща
4)	В общине стали селиться не только родичи, но и пришлые
5)	Основу общности составляют кровнородственные связи

Задание №79

В правление князя Олега произошли следующие мероприятия:

Выберите несколько из 5 вариантов ответа:

1)	Совершен успешный поход на Византию
2)	Были освобождены от хазарской дани северяне и радимичи
3)	Совершен поход на Кавказ и в Прикаспий
4)	Установлено дань-полюдье в пользу Киева
5)	Разгромлена столица Хазарского каганата Итиль

Задание №80

Олег освободил от хазарской дани славянские племена

- 1) ра
- 2) вят
- 3) сев
- 4) тиве

Выберите несколько из 5 вариантов ответа:

1)	радимицей
2)	вятичей
3)	северян
4)	тиверцев
5)	полян

Задание №81

В правление княгини Ольги, вдовы Игоря и матери Святослава :

Выберите несколько из 5 вариантов ответа:

1)	Совершен успешный поход на Волжскую Болгарию
2)	Подавлено восстание древлян
3)	Совершен поход на Кавказ и в Прикаспий
4)	Упорядочено налогообложение славянских племен
5)	Установлены погосты – места сбора дани

Задание №82

В правление княгини Ольги в истории Руси произошли следующие события:

Выберите несколько из 5 вариантов ответа:

1)	Русские дружины окончательно разгромили печенегов
2)	Было установлено фиксированное налогообложение племен
3)	Основан первый христианский храм в Киеве
4)	Первый представитель правящей династии принял крещение
5)	Установлены новые границы Руси по Дунаю

Задание №83

Выберите из группы факторов, повлиявших на формирование государственности у восточных славян, географические и геополитические. Укажите два верных ответа.

Выберите несколько из 5 вариантов ответа:

1)	возрастание в хозяйственной жизни роли отдельных семей
2)	формирование соседской общины
3)	образование племенных союзов
4)	расположение славянских земель между Европой и Азией
5)	прохождение через славянские земли торговых путей, связывающие страны Запада и Востока

Задание №84

Выберите из группы факторов, повлиявших на формирование государственности у восточных славян, географические и геополитические. Выберите 3 верных ответа.

Выберите несколько из 5 вариантов ответа:

1)	обширная территория, населённая многочисленными племенами
2)	протяжённые границы, не имеющие непреодолимой естественной защиты – гор, рек

3)	разветвлённые речные системы, являющиеся единственным средством взаимосвязи между племенами
4)	переход некоторых племён к трёхполью
5)	разложением родовой общины

Задание №85

Заполните пропуски в предложениях, используя приведенный ниже список пропущенных элементов: для каждого предложения, обозначенного буквой и содержащего пропуск, выберите номер нужного элемента.

А) Основателем династии русских князей стал варяжский князь _____

Б) Город _____ стал столицей Древнерусского государства

В) Первый сборник законов Древней Руси назывался _____

Заполните пропуски:

А) [Киев|Избранная Рада|Игорь|Новгород|Русская Правда|Рюрик]Б)[Киев|Избранная Рада|Игорь|Новгород|Русская Правда|Рюрик] В)[Киев|Избранная Рада|Игорь|Новгород|Русская Правда|Рюрик]

Задание №86

Рассмотрите схему и выполните задание

Как называл летописец Нестор древний речной путь, обозначенный на схеме цифрой «1». Ответ запишите со строчной буквы без пробелов



Запишите ответ:

1)	Ответ:	
----	--------	--

Задание №87

Рассмотрите схему и выполните задание

Напишите название древнего речного пути, обозначенного на схеме цифрой «2».

Ответ запишите со строчной буквы без пробелов и запятых, например: древнийречнойпуть



Запишите ответ:

1)

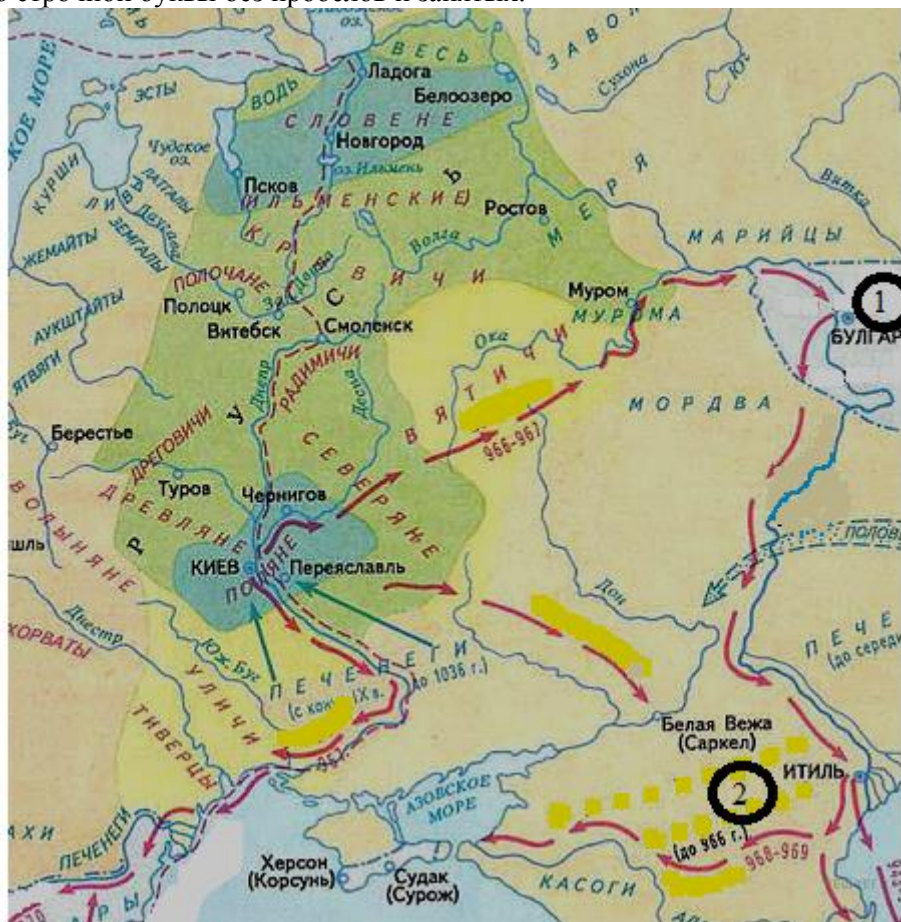
Ответ:

Задание №88

Рассмотрите схему и выполните задание

Напишите название государства, обозначенного на схеме цифрой «1».

Ответ запишите со строчной буквы без пробелов и запятых.



Запишите ответ:

1)

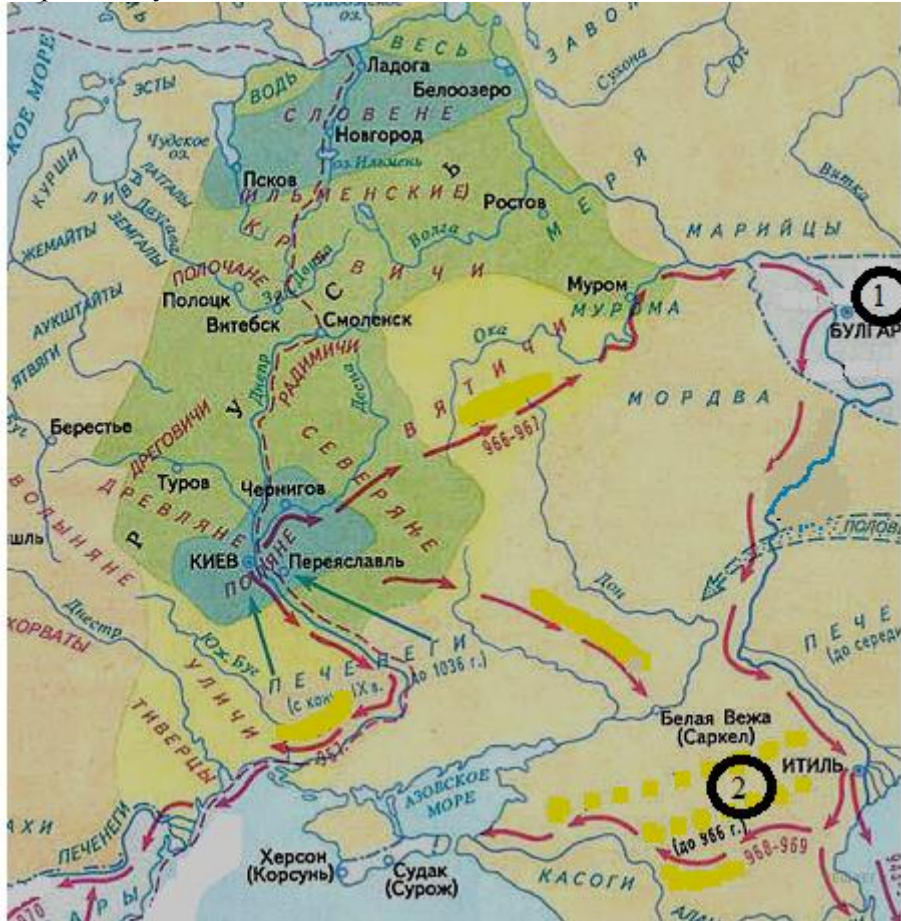
Ответ:

Задание №89

Рассмотрите схему и выполните задание

Назовите имя великого Киевского князя, чьи завоевательные походы указаны стрелками.

Ответ запишите со строчной буквы в И.п. ед.ч.



Запишите ответ:

1)

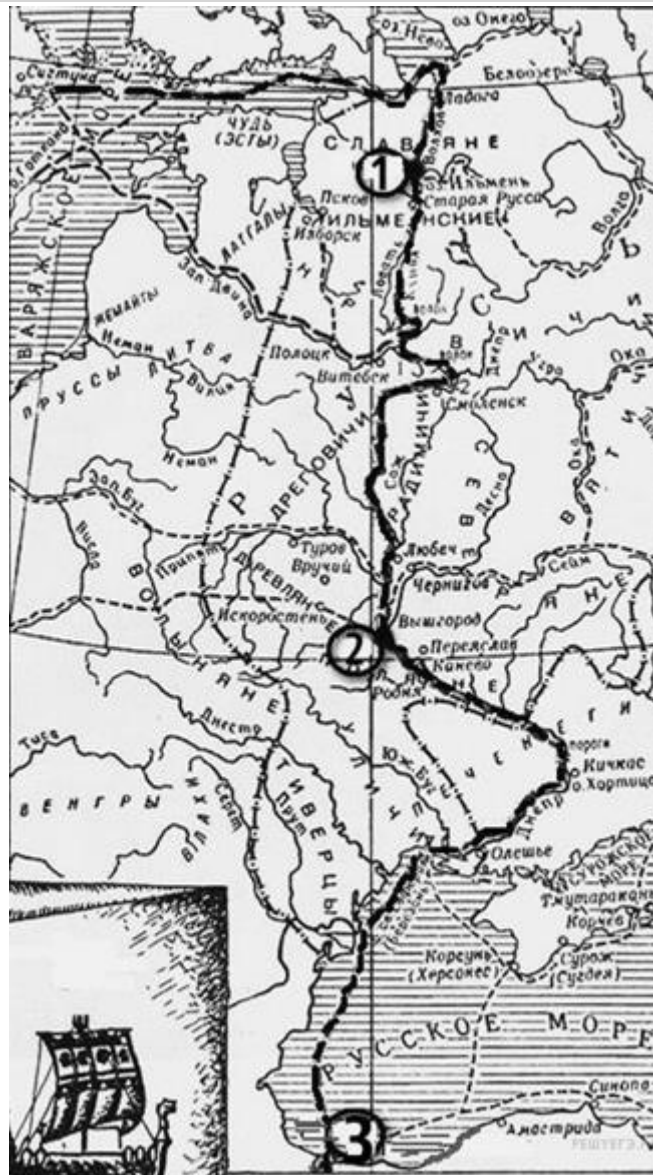
Ответ:

Задание №90

Рассмотрите схему и выполните задание.

Напишите название отмеченного на карте пути.

Словосочетание запишите со строчной буквы и без пробелов.



Запишите ответ:

1)

Ответ:

Задание №91

Рассмотрите схему и выполните задание.

Напиши имя князя, который установил контроль над этим торговым путем.

Ответ запишите со строчной буквы в И.п. ед.ч.



Запишите ответ:

1)

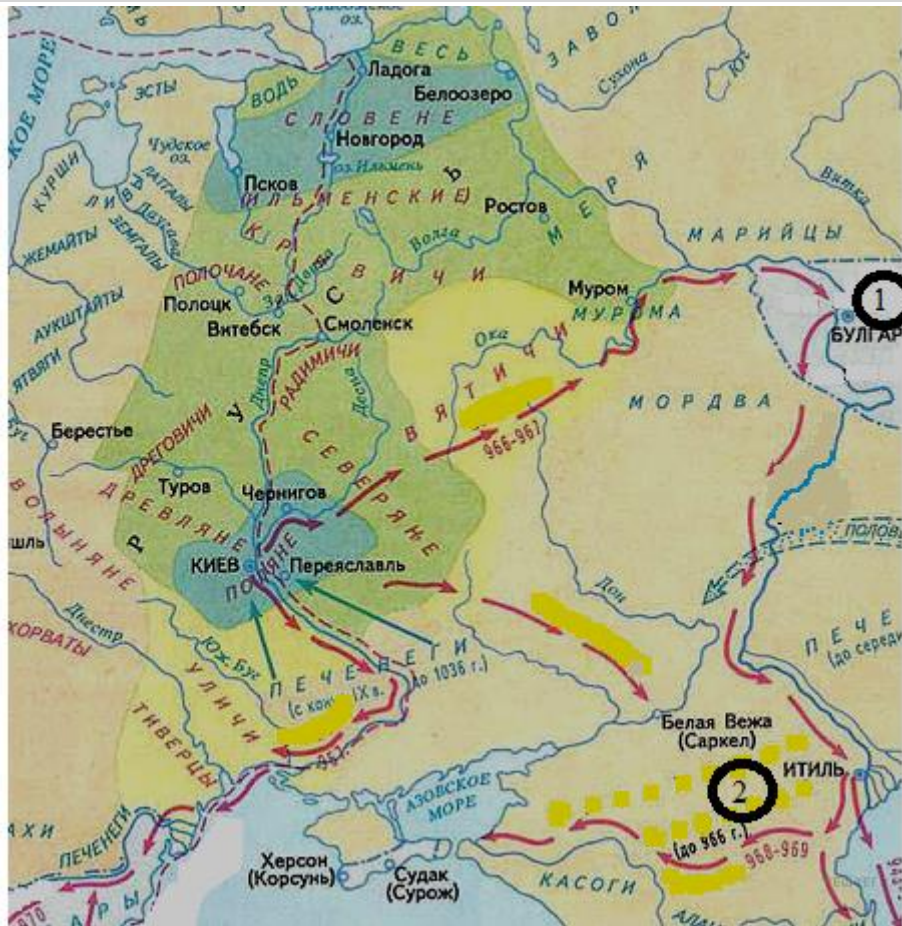
Ответ:

Задание №92

Рассмотрите схему и выполните задание

Напишите название государства, обозначенного на схеме цифрой «2».

Ответ запишите со строчной буквы без пробелов и запятых.



Запишите ответ:

1)

Ответ:

Задание №93

Рассмотрите схему и выполните задание

В какой город, расположенный на берегу проливов, соединяющих Чёрное и Средиземное моря, стремились купцы из Скандинавии?

Ответ запишите со строчной буквы в И.п. ед.ч.



Запишите ответ:

1)	Ответ:	
----	--------	--

Задание №94

Укажите три причины возвышения Владимиро-Суздальской земли:

Выберите несколько из 5 вариантов ответа:

1)		близость к степи
2)		защита от внешних врагов густыми лесами
3)		обилие пахотных плодородных земель
4)		выход к Балтийскому морю
5)		колонизация междуречья Волги и Оки

Задание №95

Выделите три причины обособления русских земель от Киева:

Выберите несколько из 5 вариантов ответа:

1)		формирование пути «из варяг в греки»
2)		рост вотчинного землевладения
3)		перемещение торговых путей
4)		развитие городов
5)		разложение родовой общины

Задание №96

Негативным последствием раздробленности Руси было:

Выберите несколько из 5 вариантов ответа:

1)		быстрое развитие городов
2)		ослабление обороноспособности
3)		перемещение торговых путей
4)		расширение боярских вотчин
5)		ослабление власти киевского князя

Задание №97

Распаду Древнерусского государства способствовали следующие факторы:

Выберите несколько из 5 вариантов ответа:

1)		различие в природных и хозяйственных условиях земель
2)		принятие Русью христианства
3)		формирование торгового пути «из варяг в греки»
4)		разделы земель между князьями и междоусобные войны
5)		обособление земель

Задание №98

Установите характерные черты Новгородской аристократической республики в XII—XV вв.:

Выберите несколько из 5 вариантов ответа:

1)	торговые связи со странами Европы
2)	выращивание хлеба, поставка его в другие земли
3)	широкое развитие ремесел и промыслов
4)	сильное влияние городских низов на жизнь общества
5)	избрание должностных лиц, включая архиепископа и главного игумена монастырей

Задание №99

Полному распаду Руси препятствовали следующие факторы:

Выберите несколько из 5 вариантов ответа:

1)	различие природных и хозяйственных условий в землях
2)	сохранение авторитета великого киевского князя
3)	формирование торгового пути «из варяг в греки»
4)	единая общерусская церковная организация
5)	договоры между князьями о совместной борьбе с половцами

Задание №100

Сребролюбивым и покровителем ростовщиков прослыл киевский князь:

Выберите один из 4 вариантов ответа:

1)	Путята
2)	Святополк Изяславич
3)	Олег Святославич
4)	Владимир Мономах

Задание №101

После смерти Всеволода киевляне избрали князем:

Выберите один из 4 вариантов ответа:

1)	Владимира Мономаха
2)	Святополка Изяславича
3)	Олега Святославича
4)	боярина Путяту

Задание №102

В одном из своих сочинений назвал Ярослава Мудрого «великим каганом»:

Выберите один из 4 вариантов ответа:

1)	митрополит Иларион
----	--------------------

2)		«отец истории» Геродот
3)		летописец Нестор
4)		игумен Феодосии Печерский

Задание №103

В период противоборства с Византией Ярослав Мудрый решил выдвинуть на главный церковный пост митрополита из русских (вместо присылаемых константинопольским патриархом греков). Выбор пал на:

Выберите один из 4 вариантов ответа:

1)		священника великокняжеской церкви в селе Берестове Илариона
2)		монаха Антония из Любеча
3)		игумена Киево-Печерского монастыря отца Феодосия
4)		монаха Нестора

Задание №104

По свидетельству современников, отличался большой набожностью и знанием церковных сочинений князь:

Выберите один из 4 вариантов ответа:

1)		Владимир Святой
2)		Ярослав Мудрый
3)		Ярослав Осмомысл
4)		Всеволод Большое Гнездо

Задание №105

Начало созданию Киево-Печерского монастыря положил (положила):

Выберите один из 4 вариантов ответа:

1)		князь Владимир I
2)		Ярослав Мудрый
3)		священник великокняжеской церкви Иларион
4)		Феодосии Курский

Задание №106

В ходе восстания киевляне в 1068 г. избрали великим князем на вече:

Выберите один из 4 вариантов ответа:

1)		полоцкого князя Всеслава
2)		Владимира Мономаха
3)		вновь Изяслава
4)		Всеволода Ярославича

Задание №107

В одной былине отрицательный герой назван Тугарином Змеевичем. Его реальный прототип:

Выберите один из 4 вариантов ответа:

1)		хан Шарукан
----	--	-------------

2)		хан Воняк
3)		хан Тугоркан
4)		мурза Чолхан (Щелкан)

Задание №108

Впервые царский титул в применении к русскому властелину появился в виде надписи в храме о смерти «царя нашего»:

Выберите один из 4 вариантов ответа:

1)		Олега
2)		Владимира Святого
3)		Ярослава Мудрого
4)		Владимира Мономаха

Задание №109

Важным элементом культуры Киевской Руси были летописи. На базе отдельных создавался общий летописный свод. Первый такой свод был создан при князе:

Выберите один из 4 вариантов ответа:

1)		Святославе
2)		Владимире Святославиче
3)		Ярославе Мудром
4)		Святополке

Задание №110

Последняя битва войск Ярослава Мудрого с печенегами проходила под киевскими стенами в чистом поле. На том месте был сооружен храм:

Выберите один из 4 вариантов ответа:

1)		Троицы
2)		Ильи
3)		Святой Софии
4)		Рождества Богородицы

Задание №111

Укажите форму правления, установившуюся в Новгороде в XII в.:

Выберите один из 4 вариантов ответа:

1)		абсолютная монархия
2)		парламентарная монархия
3)		аристократическая республика
4)		демократическая республика

Задание №112

Вопросами внешней политики, казной, церковным судом и управлением церковными делами ведал в Новгороде:

Выберите один из 4 вариантов ответа:

1)	тысяцкий
2)	посадник
3)	князь
4)	архиепископ

Задание №113

Самая обширная по территории древнерусская земля — это:

Выберите один из 4 вариантов ответа:

1)	Суздальская
2)	Галицкая
3)	Новгородская
4)	Смоленская

Задание №114

Ведущую роль в Новгороде играли:

Выберите один из 4 вариантов ответа:

1)	князя
2)	народные низы
3)	варяги-наемники
4)	местные бояре и купцы

Задание №115

Согласно прижизненному наказу Ярослава Мудрого вторым по значению на Руси после киевского становился князь, получавший в управление:

Выберите один из 4 вариантов ответа:

1)	Чернигов
2)	Смоленск
3)	Новгород
4)	Переяславль

Задание №116

Русская Правда, составленная Ярославичами в 1072 г., делила граждан по положению (признаку):

Выберите один из 4 вариантов ответа:

1)	возрастному
2)	национальному
3)	имущественному и должностному
4)	равенства всех людей перед законом

Задание №117

До принятия Русской Правды за преступления судили:

Выберите один из 4 вариантов ответа:

- | | |
|----|---|
| 1) | на основе личного распоряжения князя по конкретному факту |
| 2) | на основе решения общины |
| 3) | по приговору волхвов |
| 4) | на основе традиций, правил, передаваемых из поколения в поколение |

Задание №118

К XII в. на Руси было немало крупных городов. Основную массу их населения составляли:

Выберите один из 4 вариантов ответа:

- | | |
|----|------------------------|
| 1) | воины-дружинники |
| 2) | бояре со своей челядью |
| 3) | ремесленники |
| 4) | мелкие торговцы |

Задание №119

«Поучение детям» Владимира Мономаха содержит сведения:

Выберите один из 4 вариантов ответа:

- | | |
|----|---|
| 1) | о родословной Рюриковичей |
| 2) | автобиографического характера |
| 3) | об отношениях с Византией в дохристианский период |
| 4) | летописного характера |

Задание №120

В XII в. в Киевской Руси военными центрами служили:

Выберите один из 4 вариантов ответа:

- | | |
|----|------------------------|
| 1) | пограничные укрепления |
| 2) | специальные крепости |
| 3) | феодальные дворы |
| 4) | города |

Задание №121

В Киевской Руси средоточием внутренней и международной торговли становились:

Выберите один из 4 вариантов ответа:

- | | |
|----|--|
| 1) | ярмарки |
| 2) | торговые поселки в приграничных районах |
| 3) | населенные пункты на пути «из варяг в греки» |
| 4) | города |

Задание №122

«Повесть временных лет» составлена на ... языке:

Выберите один из 4 вариантов ответа:

1)	русском
2)	украинском
3)	белорусском
4)	древнерусском

Задание №123

Доказательство сохранения духовного единства Русской земли в период раздробленности состояло в:

Выберите один из 4 вариантов ответа:

1)	прекращении усобиц
2)	наличии единого центра летописания
3)	сохранении единой структуры Русской православной церкви
4)	борьбе княжеств с половецкой угрозой

Задание №124

Особенностью Галицко-Волынского княжества является:

Выберите один из 4 вариантов ответа:

1)	раннее формирование крупного боярского землевладения, противостояние князей и бояр
2)	установление сильной авторитарной княжеской власти
3)	формирование боярской республики
4)	постоянная борьба с набегами кочевников

Задание №125

Порядок передачи княжеского престола, при котором каждый князь мог неоднократно перемещаться от менее значимых «столов» к более значимым называется _____.

Ответ запишите со строчной буквы без пробелов и запятых.

Запишите ответ:

1)	Ответ:	
----	--------	--

Задание №126

Закон, регулирующий общественное право в XI-XII веков назывался _____

Ответ запишите со строчной буквы без пробелов.

Запишите ответ:

1)	Ответ:	
----	--------	--

Задание №127

Доля члена кн. рода в государстве, выдаваемая младшим членам княжеского рода _____

Ответ запишите со строчной буквы в ед.ч. И.П.

Запишите ответ:

1)	Ответ:	
----	--------	--

Задание №128

Младший дружинник древнерусского князя, стоявший во главе княжеского хозяйства _____.

Ответ запишите со строчной буквы в ед.ч. И.П.

Запишите ответ:

1)	Ответ:	
----	--------	--

Задание №129

Княжеские или боярские слуги, управляющие феодальным хозяйством в Древней Руси и княжеских хозяйствах _____.

Ответ запишите со строчной буквы в ед.ч. И.П.

Запишите ответ:

1)	Ответ:	
----	--------	--

Задание №130

Должностное лицо в Древней Руси, производившее следствие по уголовным делам и взимавшее _____

Ответ запишите со строчной буквы в ед.ч. И.П.

Запишите ответ:

1)	Ответ:	
----	--------	--

Задание №131

Установите соответствие между именами князей и событиями, связанными с их деятельностью.

Укажите соответствие для всех 4 вариантов ответа:

1)		Владимир Мономах	1)	разгром половцев
2)		Владимир Святославич	2)	объединение Киева и Новгорода
3)		Олег Вещий	3)	восстание древлян
4)		Игорь Старый	4)	крещение Руси
			5)	разгром печенегов

Задание №132

Установите соответствие между именами князей Древней Руси и прозваниями, закрепившимися за ними в истории.

Укажите соответствие для всех 4 вариантов ответа:

1)		Владимир	1)	Окаянный
2)		Святополк	2)	Мудрый
3)		Ярослав	3)	Красное Солнышко
4)		Олег	4)	Вещий
			5)	Тишайший

Задание №133

Установите соответствие между именами исторических личностей и их деятельностью.

Укажите соответствие для всех 4 вариантов ответа:

1)	Ярослав Мудрый	1)	перенос столицы в г. Владимир
2)	Андрей Боголюбский	2)	разгром печенегов
3)	Владимир Мономах	3)	победил монголов на Куликовом поле
4)	Дмитрий Донской	4)	написал «Поучение детям»
		5)	ввёл «Юрьев день»

Задание №134

Установите соответствие между элементами левого и правого столбиков.

Укажите соответствие для всех 3 вариантов ответа:

1)	Всеволод Большое Гнездо	1)	Перенес столицу княжества во Владимир, построил церковь Покрова на Нерли
2)	Юрий Долгорукий	2)	В годы его княжения впервые в летописи встречается упоминание о Москве, основал города Переславль-Залесский, Дмитров, Звенигород
3)	Андрей Боголюбский	3)	Построил Дмитровский собор во Владимире.
		4)	Автор «Слова о полку Игореве» назвал его самым могущественным князем на Руси.

Задание №135

Установите соответствие между фрагментами исторических источников и их краткими характеристиками: к каждому фрагменту, обозначенному буквой, подберите по две соответствующие характеристики, обозначенные цифрами.

ФРАГМЕНТЫ ИСТОЧНИКОВ

А) «1. Убьет муж мужа, то мстит брат за брата, или сын за отца, или сын брата, или сын сестры; если не будет никто мстить, то 40 гривен за убитого. Если убитый — русин, или гридин, или купец, или ябедник, или мечник, или же изгой, или словенин, то 40 гривен уплатить за него.<....>

4. Если ударить мечом, не вынув его из ножен, или рукоятью меча, то 12 гривен за обиду.<....>

8. Если кто вынет меч, а не ударит, то тот платит гривну. <....>

10. Если холоп бежит и скроется у варяга или у колбяга, а они его в течение трех дней не выведут, а обнаружат на третий день, то господину отобрать своего холопа, а 3 гривны за обиду.

11. Если кто поедет на чужом коне без спросу, то уплатить 3 гривны. <...>

16. Если холоп ударит свободного мужа и убежит в хоромы своего господина и тот начнет его не выдавать, то холопа взять и господин платит за него 12 гривен, а затем, где холопа застанет тот ударенный человек, пусть бьет его.

17. А если кто сломает копье, щит или испортит одежду, и испортивший захочет удержать у себя, то взять с него деньгами; а если тот, кто испортил, начнет настаивать (на возвращении испорченной вещи), платить деньгами, сколько стоит вещь.

18. Если убьют огнишанина умышленно, то убийце платить за него 80 гривен, а люди не платят; а за княжеского подъездного 80 гривен. <...>

20. Если убьют огнишанина у клетки, у коня, или у стада, или во время кражи коровы, то убить его, как пса; тот же закон и для тиуна.

23. А за убитого смерда или холопа 5 гривен. <...>»

Б) «В год 6605 (летоисчисление от Сотворения мира). <...>. Пришли Святополк, и Владимир, и Давыд Игоревич, и Василько Ростиславич, и Давыд Святославич, и брат его Олег, и собрались на совет в Любече для установления мира, и говорили друг другу: "Зачем губим Русскую землю, сами между собой устраивая распри? А половцы землю нашу несут розно и рады, что между нами идут войны. Да отныне объединимся единым сердцем и будем блюсти Русскую землю, и пусть каждый владеет отчиной своей: Святополк - Киевом, Изяславовой отчиной, Владимир — Всеволодовой, Давыд и Олег и Ярослав — Святославовой, и те, кому Всеволод роздал города: Давыду — Владимир, Ростиславичам же: Володарю — Перемышль, Васильку — Теребовль". И на том целовали крест: "Если отныне кто на кого пойдет, против того будем мы все и крест честной". Сказали все: "Да будет против того крест честной и вся земля Русская". И, попрощавшись, пошли восвояси».

ХАРАКТЕРИСТИКИ

1) Документ посвящен попытке прекратить междоусобную рознь в Киевской Руси в конце XIIв.

2) Отрывок из документа взят из первого письменного сборника законов на Руси.

3) Первые письменные законы на Руси появились при княгине Ольге.

4) Одним из участников съезда князей был Владимир Мономах.

5) Одним из составителей «Русской правды» являлся Ярослав Мудрый.

6) По решению съезда князья хотели объединиться для борьбы против половцев.

Запишите число:

1)

Ответ:

Задание №136

Прочтите фрагменты «Русской Правды», изложенные в современном переводе:

1. Убьет муж мужа, то мстит брат за брата, или сын за отца, или сын брата, или сын сестры; если не будет никто мстить, то 40гривен за убитого. Если убитый — русин, или гридин, или купец, или ябедник, или мечник, или же изгой, или словенин, то 40 гривен уплатить за него.<...>

4. Если ударить мечом, не вынув его из ножен, или рукоятью меча, то 12 гривен за обиду.<...>

8. Если кто вынет меч, а не ударит, то тот платит гривну. <...>

10. Если холоп бежит и скроется у варяга или у колбяга, а они его в течение трех дней не выведут, а обнаружат на третий день, то господину отобрать своего холопа, а 3 гривны за обиду.

11. Если кто поедет на чужом коне без спросу, то уплатить 3 гривны. <...>

16. Если холоп ударит свободного мужа и убежит в хоромы своего господина и тот начнет его не выдавать, то холопа взять и господин платит за него 12 гривен, а затем, где холопа застанет тот ударенный человек, пусть бьет его.

17. А если кто сломает копье, щит или испортит одежду, и испортивший захочет удержать у себя, то взять с него деньгами; а если тот, кто испортил, начнет настаивать (на возвращении испорченной вещи), платить деньгами, сколько стоит вещь.

18. Если убьют огнишанина умышленно, то убийце платить за него 80 гривен, а люди не платят; а за княжеского подъездного 80 гривен. <...>

20. Если убьют огнишанина у клетки, у коня, или у стада, или во время кражи коровы, то убить его, как пса; тот же закон и для тиуна.

23. А за убитого смерда или холопа 5 гривен. <...>

Используя фрагменты документа, выберите в приведённом списке три верных суждения. Запишите в ответ цифры, под которыми они указаны.

- 1) гривна — это используемая в Древней Руси арабская монета
- 2) изначальные статьи «Русской Правды» появились в первой четверти XI в.
- 3) холоп — представитель полузависимого населения на Руси, попавший в зависимость от заимодавца
- 4) варяг — воин из народного ополчения
- 5) огнишанин — представитель старшей дружинной знати, управляющий княжеским двором
- 6) гридин — княжеский дружинник

Запишите число:

1)

Ответ:

Задание №137

Прочтите отрывок из летописи.

«В год 6605 (летоисчисление от Сотворения мира). <...>. Пришли Святополк, и Владимир, и Давыд Игоревич, и Василько Ростиславич, и Давыд Святославич, и брат его Олег, и собрались на совет в Любече для установления мира, и говорили друг другу: "Зачем губим Русскую землю, сами между собой устраивая распри? А половцы землю нашу несут розно и рады, что между нами идут войны. Да отныне объединимся единым сердцем и будем блюсти Русскую землю, и пусть каждый владеет отчиной своей: Святополк - Киевом, Изяславовой отчиной, Владимир — Всеволодовой, Давыд и Олег и Ярослав — Святославовой, и те, кому Всеволод роздал города: Давыду — Владимир, Ростиславичам же: Володарю — Перемышль, Васильку — Теробовль". И на том целовали крест: "Если отныне кто на кого пойдет, против того будем мы все и крест честной". Сказали все: "Да будет против того крест честной и вся земля Русская". И, попрощавшись, пошли восвосяи».

Используя отрывок, выберите в приведённом списке три верных суждения. Запишите в ответ цифры, под которыми они указаны.

- 1) указанное событие произошло в 1097 г.
- 2) съезд положил начало переходу власти в отдельных княжествах Руси (кроме Киева) по отчинному принципу «от отца к сыну»
- 3) в данный период времени в Киеве правил сын Ярослава Мудрого «Ярославич» Святополк

- 4) одним из противников княжеского съезда «на устроение мира» был Владимир Всеволодович Мономах
- 5) Любеч находился на территории Владимиро-Суздальского княжества
- 6) договорённость участников съезда не остановила в дальнейшем княжеских междоусобиц

Запишите число:

1)

Ответ:

Задание №138

Установите соответствие между фрагментами исторических источников и их краткими характеристиками: к каждому Прочтите отрывок из летописи.

фрагменту, обозначенному буквой, подберите по две соответствующие характеристики, обозначенные цифрами.

ФРАГМЕНТЫ ИСТОЧНИКОВ

А) «Пришёл Святополк с печенегами в силе грозной, и Ярослав собрал множество воинов и вышел против него на Альту. Ярослав стал на место, где убили Бориса, и, воздев руки к небу, сказал: "Кровь брата моего вопиет к тебе, Владыка! Отомсти за кровь праведника сего, как отомстил ты за кровь Авеля, обрек Каина на стенание и трепет: так обреки и этого". Помолился и сказал: "Братья мои! Хоть и отошли вы телом отсюда, но молитвою помогите мне против врага сего – убийцы и гордеца". И когда сказал так, двинулись противники друг на друга, и покрыло поле Альтинское множество воинов... К вечеру же одолел Ярослав, а Святополк бежал. ... Не мог он вытерпеть на одном месте, и пробежал он через Польскую землю, гонимый Божиим гневом, и прибежал в пустынное место между Польшей и Чехией, и там бедственно окончил жизнь свою. "Праведный суд постиг его, неправедного, и после смерти принял он муки окаянного..."»

Ярослав же сел в Киеве, утёр пот с дружиною своею, показав победу и труд велик».

Б) «Заложил Ярослав город великий, у того же града Золотые ворота; заложил и церковь святой Софии, митрополию, и затем церковь на Золотых воротах — святой Богородицы Благовещения, затем монастырь святого Георгия и святой Ирины. И стала при нем вера христианская плодиться и расширяться, и черноризцы стали умножаться, и монастыри появляться. И любил Ярослав церковные уставы, попов любил немало, особенно же черноризцев, и книги любил, читая их часто и ночью и днем. И собрал писцов многих, и переводили они с греческого на славянский язык. И написали они книг множество, ими же поучаются верующие люди и наслаждаются учением божественным».

ХАРАКТЕРИСТИКИ

- 1) Данный текст написан о сыне Владимира Святославича.
- 2) Князь, победивший в результате описанной в тексте борьбы, получил прозвище «Мудрый».
- 3) Современником событий, описываемых в фрагменте летописи, был Сергей Радонежский.
- 4) События, о которых повествует летопись, происходили в период политической раздробленности Руси.
- 5) Братья князя, победившего в результате описанной в тексте борьбы, стали первыми русскими святыми.
- 6) В том же веке, к которому относятся описываемые в тексте события, произошёл неудачный поход новгород-северского князя Игоря против половцев.

Запишите число:

1)

Ответ:

Задание №139

Прочтите отрывок из работы историка и укажите, о каком князе Древней Руси идет речь.

«Заложил же и церковь Святой Софии... затем церковь на Золотых воротах... И стала при нём вера христианская расширяться... Отец его, Владимир, землю... крещением просветил, [сын] же засеял книжными словами сердце верных людей, а мы пожинаем, ученье принимая книжное. ...Ещё при жизни дал он наставление сыновьям своим: «И если будете жить в любви между собой, Бог будет в вас и покорит вам врагов...» И так разделил он между ними города...»

Ответ запишите со строчной буквы без пробелов.

Запишите ответ:

1)

Ответ:

Задание №140

Прочтите отрывок из работы историка Б. А. Рыбакова и укажите, о каком князе Древней Руси идет речь.

«Пожалуй, ни об одном из деятелей Киевской Руси не сохранилось столько ярких воспоминаний, как о нем. Его вспоминали и во дворцах, и в крестьянских избах спустя много веков. Народ сложил о нем былины как о победителе грозного половецкого хана Тугоркана — «Тугарина Змеевича».

Ответ запишите со строчной буквы без пробелов.

Запишите ответ:

1)

Ответ:

Задание №141

Прочтите отрывок из труда историка и запишите князя, о призвании которого идёт речь. «Умер князь, и тотчас в Киеве начался мятеж против ростовщиков, бравших с должников огромные проценты и пользовавшихся покровительством покойного князя. Восставшие горожане направились в центр города, где жили бояре и стоял храм Святой Софии. Толпа разгромила дворы выборного главы города — тысяцкого Путяты, а также дома ростовщиков, а потом устремилась к княжескому двору и Печерскому монастырю. Перепуганные власти срочно призвали в город <...>: «Пойди, князь, на стол отчий и дедов».

Ответ запишите со строчной буквы без пробелов.

Запишите ответ:

1)

Ответ:

Задание №142

Прочтите отрывок из сочинения историка и запишите князя, о котором идёт речь.

«В летописи сказано, что князь, прибыв во владения боярина Стефана Кучки, казнил его за какую-то вину и, поражённый живописным видом одного из его сёл, лежащего на высотах у Москвы-реки, на том самом месте, где ныне находится Кремль, построил город Москву. Название церкви Спаса на Бору напоминает о дремучих лесах, которые покрывали оба берега Москвы-реки и на месте которых раскинулась теперь громадная столица».

Ответ запишите со строчной буквы без пробелов.

Запишите ответ:

1) Ответ:

Задание №143

Прочтите отрывок из сочинения историка и запишите князя, о котором идёт речь.

«Наверное, можно сказать, что по масштабу своей личности он уступал и своему отцу Владимиру Мономаху, и своему сыну Андрею Боголюбскому. Возможно, его биография менее интересна, более однообразна, скучна, однопланова: военные походы и подготовка к ним составляют её преимущественное содержание, и почти всё сводится к борьбе за Киев. Но масштаб личности не всегда напрямую определяет значимость той или иной фигуры, её место в истории».

Ответ запишите со строчной буквы без пробелов.

Запишите ответ:

1) Ответ:

Задание №144

Внимательно рассмотрите изображения и выполните задания.

Назовите имя князя, изображённого на иллюстрации.

Ответ запишите в виде словосочетания без пробелов со строчной буквы.



Запишите ответ:

1) Ответ:

Задание №145

Внимательно рассмотрите изображения и выполните задания.

Выберите 3 верные суждения о князе, изображенном на иллюстрации.



Выберите несколько из 5 вариантов ответа:

1)	Князь, изображённый на картине – сын Юрия Долгорукого
2)	Изображенный князь расширил свои владения, подчинил Новгород и Рязань
3)	После разгрома Киева, он перенес центр православной столицы — вывез из Вышгорода во Владимир одну из самых почитаемых святынь – икону Владимирской Божией Матери.
4)	Канонизирован русской православной церковью.
5)	Став Киевским князем, Юрий занялся градостроительством: построил несколько крепостей; заложил такие города, как Дмитров, Звенигород, Москва


Задание №146

Внимательно рассмотрите изображения и выполните задания.



Какие два архитектурных сооружения были созданы в правление князя, изображённого выше.

Ответ запишите цифрами в порядке возрастания.




1.



2.



3.



4.

Запишите число:

1)

Ответ:

Задание №147

Назовите имя князя, изображённого на иллюстрации.

Ответ запишите в виде словосочетания без пробелов со строчной буквы.



Запишите ответ:

1)

Ответ:

Задание №148

Выберите 3 верные суждения, о князе, изображенном на иллюстрации.

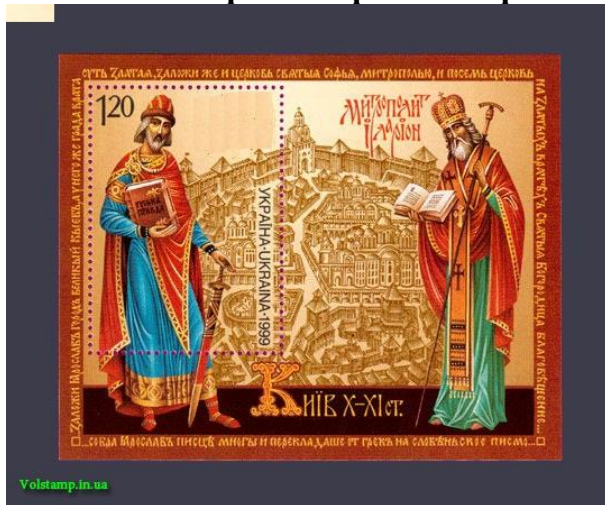


Выберите несколько из 5 вариантов ответа:

1)	С именем изображённого церковнослужителя связано появлением первого Церковного Устава.
2)	Изображённый князь являлся инициатором Любеческого съезда.
3)	Изображённый князь без ведома константинопольской патриархии, а лишь «собрать епископы», назначил митрополитом русина Иллариона
4)	Изображённый священнослужитель - автор «Слова о законе и благодати».
5)	Во время правления изображённого князя Русь приняла крещение.


Задание №149

Внимательно рассмотрите изображения и выполните задания.



Какие два архитектурных сооружения были созданы в правление князя, изображённого выше.

Ответ запишите цифрами в порядке возрастания.



1.



2.



3.



4.

Запишите число:

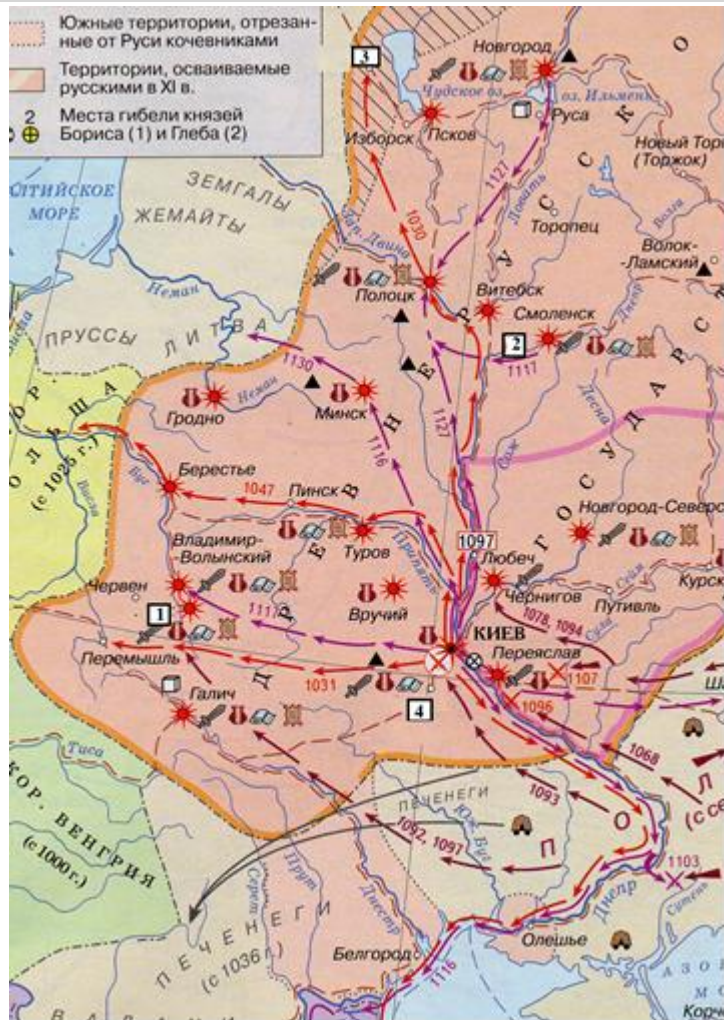
1)

Ответ:

Задание №150

Напишите имя полководца, совершившего походы, обозначенные на схеме красными стрелками.

Ответ запишите со строчной буквы без пробелов.



Запишите ответ:

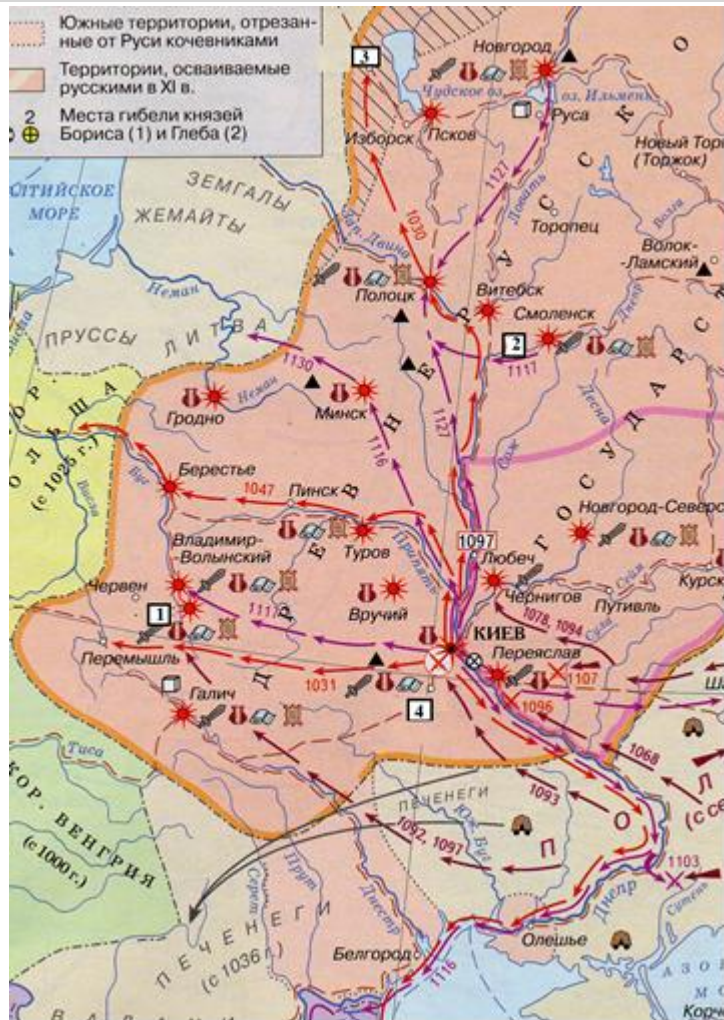
1)

Ответ:

Задание №151

Напишите название кочевых племён, разгромленных этим полководцем (совершившим походы, обозначенные на схеме красными стрелками).

Ответ запишите со строчной буквы в И.П. мн.ч.



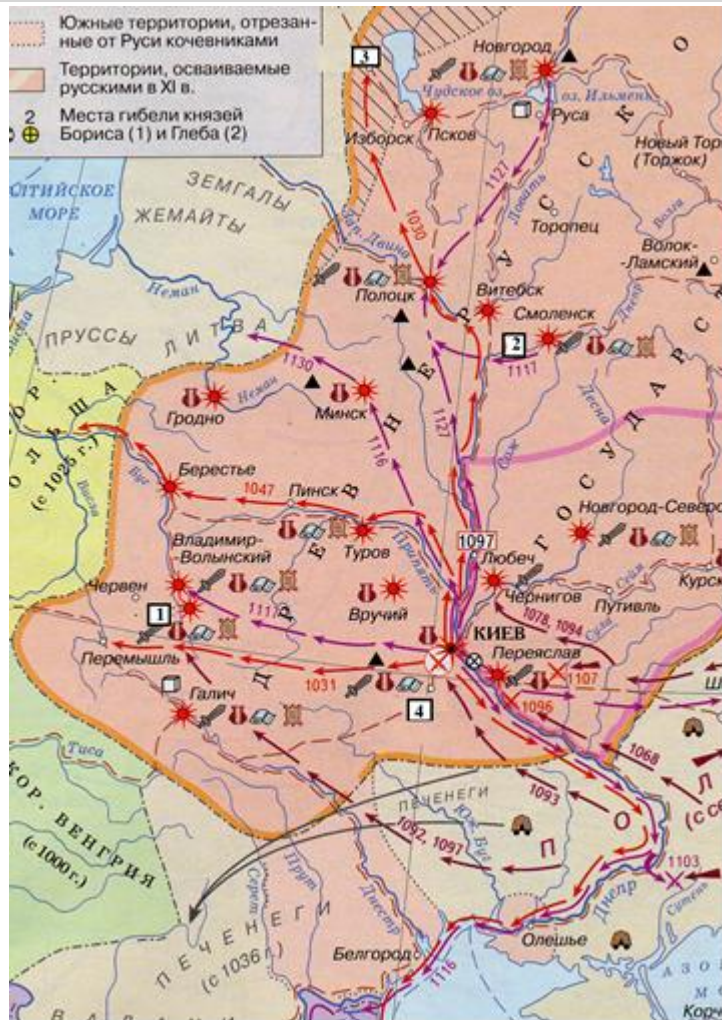
Запишите ответ:

1)

Ответ:

Задание №152

Напишите цифру, которой на схеме обозначен город, основанный этим полководцем (совершившим походы, обозначенные на схеме красными стрелками).



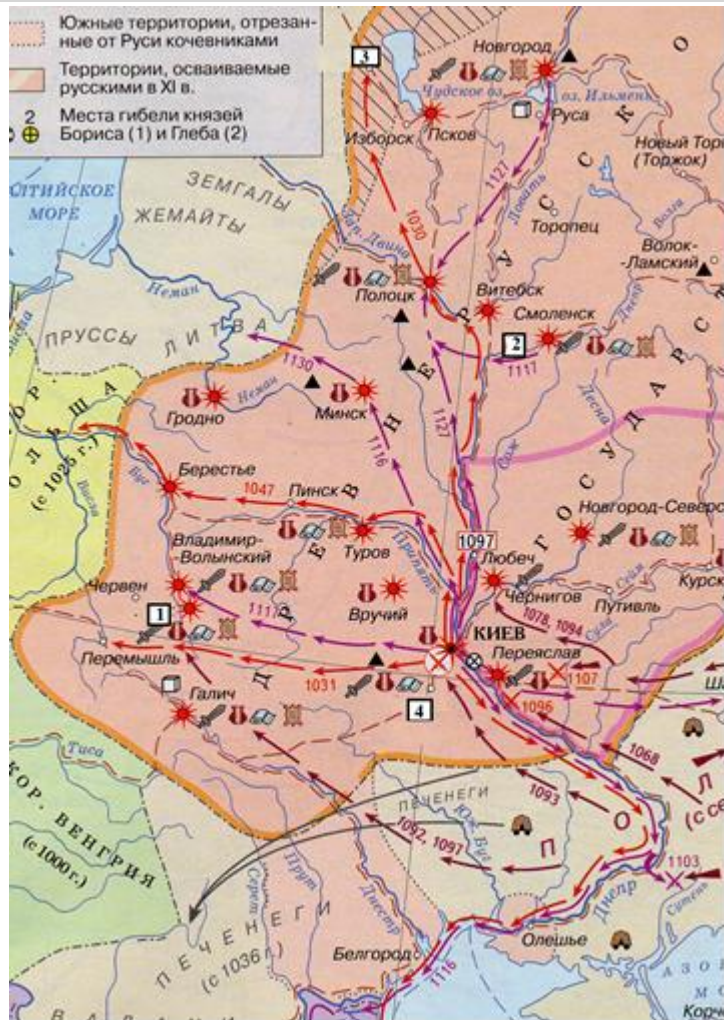
Запишите число:

1)

Ответ:

Задание №153

Какие суждения, относящиеся к событиям, обозначенным на схеме являются верными. Выберите три суждения.



Выберите несколько из 6 вариантов ответа:

1)	В одном из походов, обозначенных на схеме Русь воевала с Византией.
2)	Походы, обозначенные на схеме стрелками, возглавил киевский князь.
3)	В одном из походов, обозначенных на схеме, Русь разбила Хазарский каганат.
4)	В одном из походов, обозначенных на схеме Русь потеряла территории.
5)	Обозначенные на схеме походы были проведены в первой половине XI в.
6)	Полководец, чьи походы обозначены на схеме погиб на охоте.