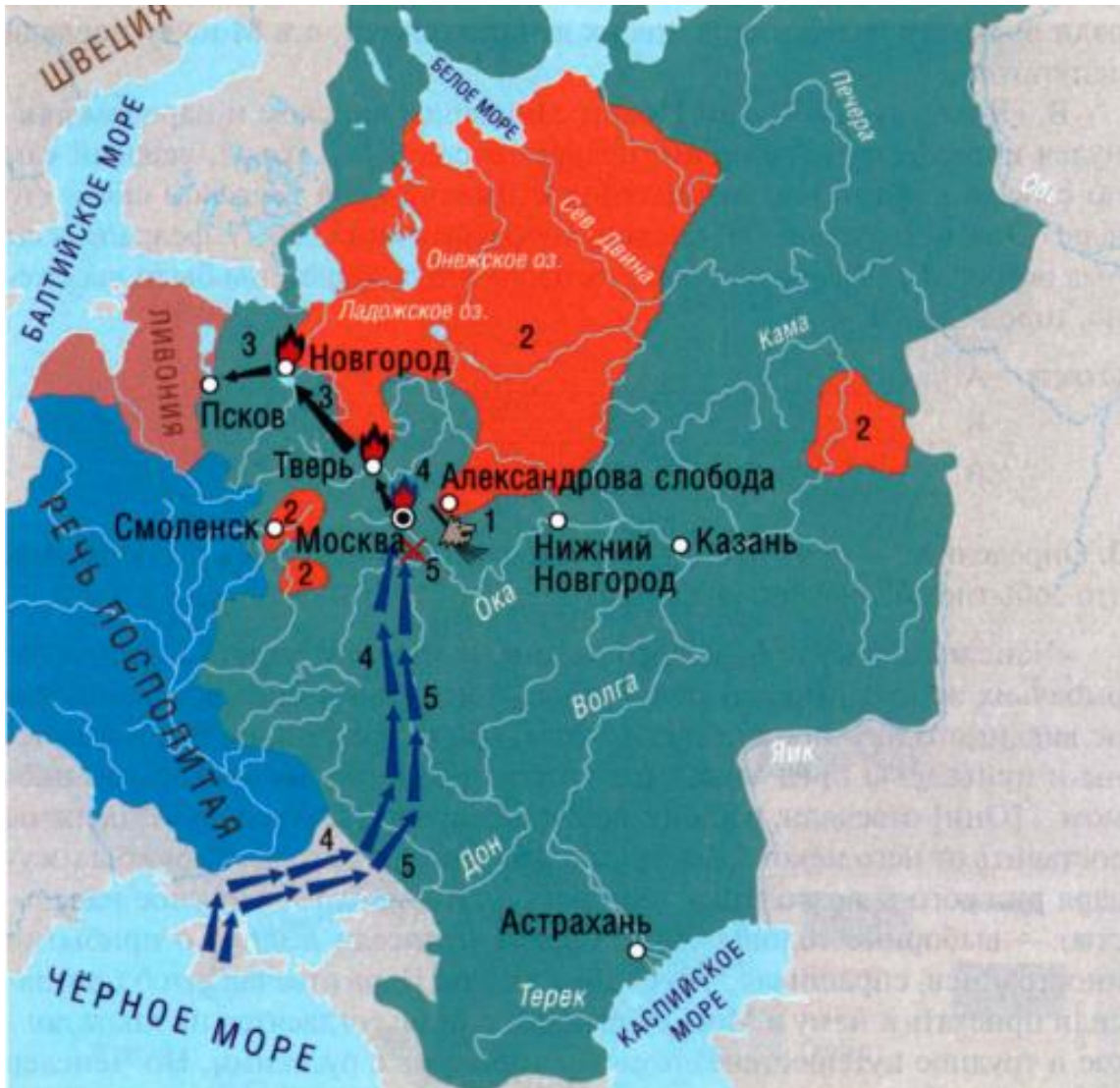


Материалы
для подготовки к переводному экзамену по истории за 7 класс
(социально- гуманитарный профиль) Часть 2

Задание №2 Рассмотрите карту и выполните задание к ней.

I. ОПРИЧНИНА ИВАНА ГРОЗНОГО



1. Какие события обозначены на карте цифрами?

- 1) _____
- 2) _____
- 3) _____
- 4) _____
- 5) _____

2. Установите соответствие: к каждому отрывку из «Истории государства Российского» Н.М. Карамзина подберите условное обозначение, изображающее описываемое в тексте.

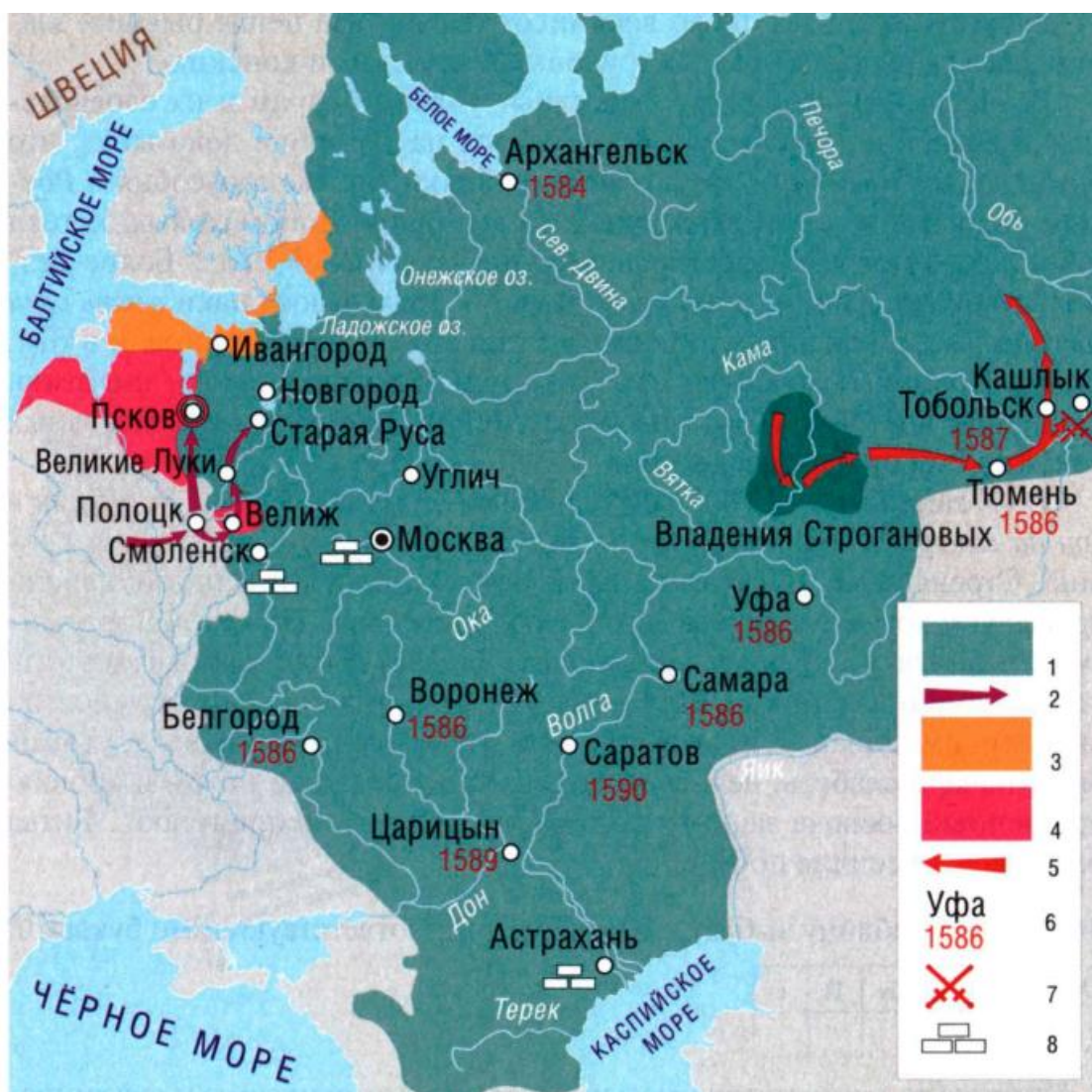
А. «Били их, мучили, жгли каким-то составом огненным, привязывали головою или ногами к саням, влекли на берег Волхова, где сия река не мёрзнет зимою, и бросали с моста в воду, целыми семействами, жён с мужьями, матерей с грудными младенцами. Ратники московские ездили на

лодках по Волхову с кольями, баграми и секирами: кто из вверженных в реку всплывал, того кололи, рассекали на части. Сии убийства продолжались пять недель и заключились грабежом общим».

Б. «Люди горели, падали мёртвые от жара и дыма в церквах каменных. Татары хотели, но не могли грабить в предместьях: огонь выгнал их, и сам хан, утрашённый сим адом, удалился к селу Коломенскому... Людей погибло невероятное множество: более ста двадцати тысяч воинов и граждан, кроме жён, младенцев и жителей сельских, бежавших от неприятеля; а всех около восьмисот тысяч... На пепле бывших зданий лежали груды обгорелых трупов человеческих и конских».

В. «Царь... повторил все известные упреки боярам в их своевольстве, нерадении, строптивости: ссылался на историю: доказывал, что они издревле были виновниками кровопролития, междоусобия в России, издревле врагами державных наследников Мономаховых: хотели (обвинение новое!) извести царя, супругу, сыновей его... Бояре безмолвствовали. „Но, — продолжал царь, — соглашаюсь паки взять свои государства; а на каких условиях, вы узнаете". Условия состояли в том, чтобы Иоанну невозбранно казнить изменников, опалою, смертию, лишением достояния, без всякого стужения, без всяких претительных доук со стороны духовенства».

II. РОССИЯ В КОНЦЕ XVI В.



1. Что обозначено в легенде к карте цифрами? В случае затруднений используйте материал следующего задания.

- 1) _____
- 2) _____
- 3) _____
- 4) _____
- 5) _____
- 6) _____
- 7) _____
- 8) _____

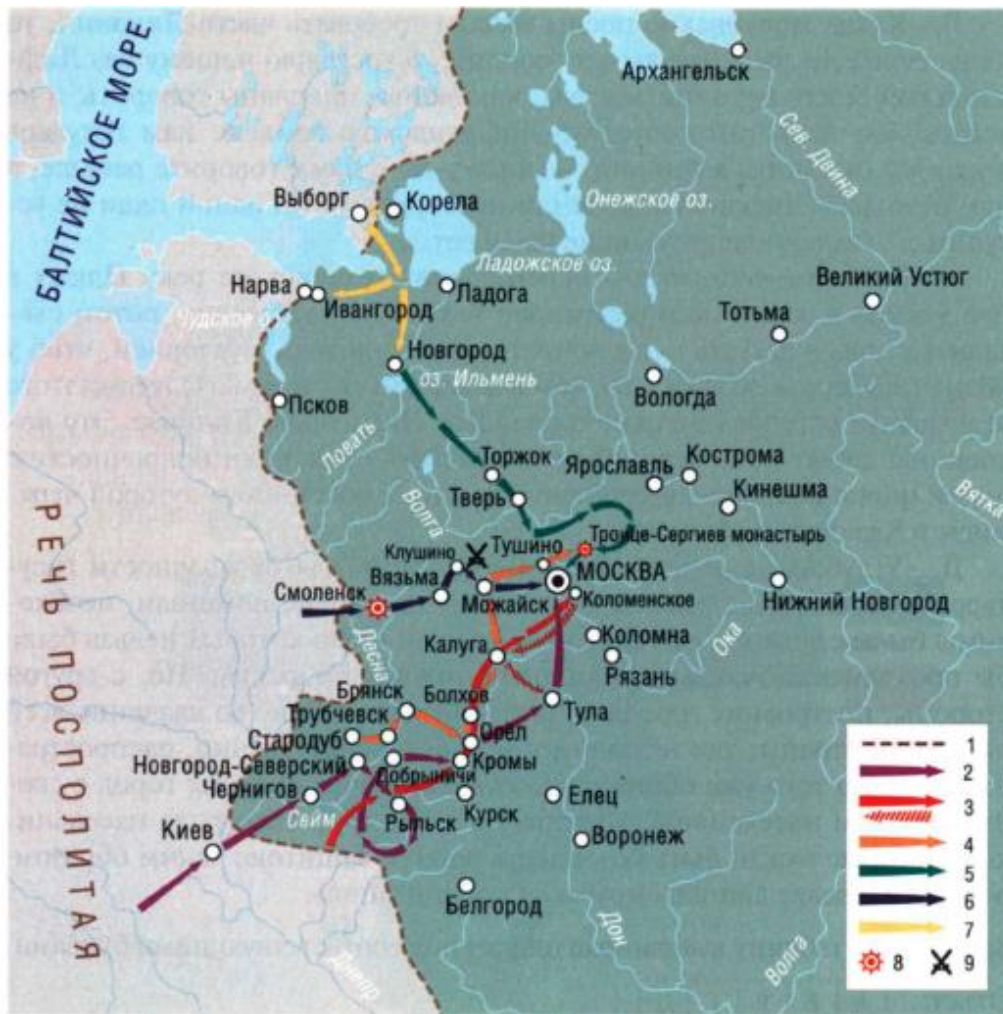
2. Установите соответствие: к каждому отрывку из «Истории России...» СМ. Соловьёва подберите условное обозначение, изображающее описываемое в тексте.

А. «Плывя вниз по Туре, козаки повоевали много татарских городков и улусов; на реке Тавде схватили несколько татар, и в том числе одного из живших при Кучуме, именем Таузака, который рассказал козакам подробно о своём салтане и его приближённых. Ермак отпустил этого пленника к Кучуму, чтоб он рассказами своим о козаках и настрашал хана».

Б. «Король и с ним некоторые воеводы были не прочь идти прямо к Новгороду, ибо оттуда приходили вести, что служилые люди готовы отложиться от Иоанна; но, с другой стороны, было опасно, идя к Новгороду, оставить за собой такой крепкий город, как Псков, где сосредоточены были почти все силы неприятеля. Это соображение заставило Батория согласиться с большинством и выступить ко Пскову...»

В. «Когда московские послы начали требовать части Ливонии, то паны отвечали им: „Что вы ни говорите, а государю нашему без Лифляндской земли не мириться; вы, как видно, присланы говорить, а не делать; мы не хотим торговать Лифляндскою землею; нам государь велел всё окончить в три дня, и потому вы с нами говорите раньше, а нам безо всей Лифляндской земли не мириться, ни одной пяди не уступим...” Заключили перемирие на 10 лет...»

III. «ВХОЖДЕНИЕ В СМУТУ»



1. Какие события обозначены в легенде к карте цифрами? В случае затруднений используйте материал следующего задания.

- 1) _____
- 2) _____
- 3) _____
- 4) _____
- 5) _____
- 6) _____
- 7) _____
- 8) _____
- 9) _____

2. Установите соответствие: к каждому отрывку из «Истории России...» СМ. Соловьёва подберите условное обозначение, изображающее описываемое в тексте.

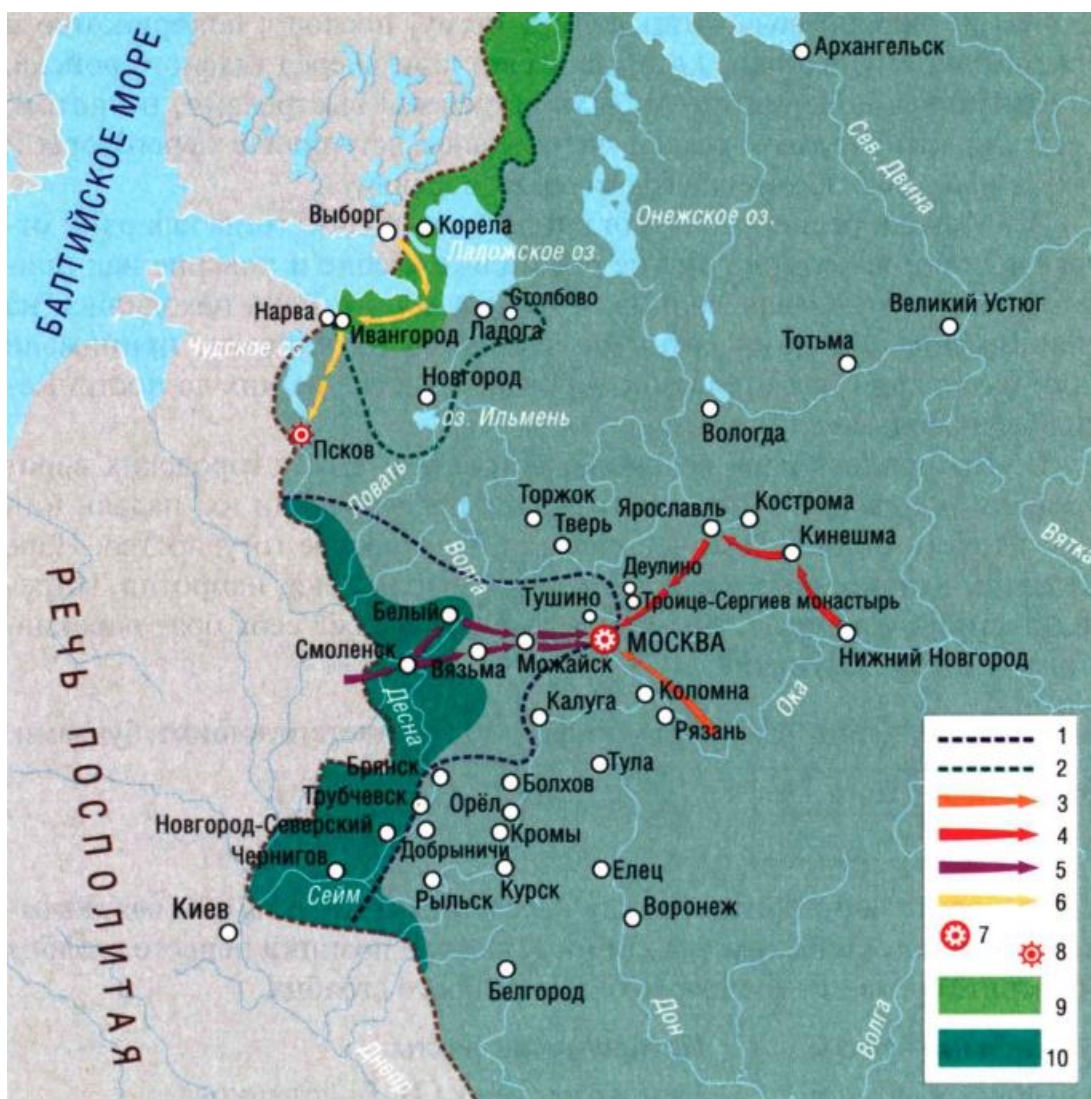
А. «[Ему] не удалось взять Москвы, и товарищи его должны были думать о том, как зимовать в Тушине, ибо снег уже начал набиваться в их палатки... Некоторые думали, что надобно разделиться на отряды и зимовать в разных волостях московских, но большинство сочло опасным разделить силы и решилось зимовать в Тушине. Начали рыть землянки, для лошадей поделали стойла из хвороста и соломы... Среди стана построили хоромы царю, царице и Мнишку, было им где поместиться просторно, и стан Тушинский превратился в город».

Б. «Жители первого пограничного города, Моравска, узнав, что идёт царь с польским войском, стали волноваться и больше из страха, чем по доброй воле, отправили к [нему] послов с

покорностию и присягнули ему. Козаки, которые всегда шли вперёд главного войска, приблизились к Чернигову и были встречены выстрелами, но потом, узнавши, что Моравск сдался, черниговцы вступили в переговоры и связали воеводу, не хотевшего сдаваться царевичу».

В. «Монахи ревностно помогали ратным людям: тогда как одни отправляли богослужение, другие работали в хлебне и поварне над приготовлением пищи для воинов; иные же день и ночь находились на стене вместе с людьми ратными, выходили на вылазки, принимали даже начальство над отрядами; вероятно, многие из них до пострижения были людьми служилыми».

IV. «ВЫХОД ИЗ СМУТЫ»



1. Какие события обозначены в легенде к карте цифрами? В случае затруднений используйте материал следующего задания.

- 1) _____
- 2) _____
- 3) _____
- 4) _____

- 5) _____
- 6) _____
- 7) _____
- 8) _____
- 9) _____
- 10) _____

2. Установите соответствие: к каждому отрывку из «Истории России...» СМ. Соловьёва подберите условное обозначение, изображающее описываемое в тексте.

А. «Козаки пошли на приступ и взяли Китай-город. В Кремле поляки держались ещё месяц; чтоб избавиться от лишних ртов, они велели боярам и всем русским людям выслать своих жён вон из Кремля... Доведённые голодом до крайности, поляки вступили наконец в переговоры с ополчением, требуя только одного, чтоб им сохранена была жизнь, что и было обещано».

Б. «Дав отдохнуть войску несколько времени в Кинешме, Пожарский пошёл к Костроме, но на Плесе получил известие, что костромской воевода Иван Шереметев прямит Владиславу и не хочет пускать нижегородское ополчение в город, Пожарский подумал с Мининым и решили, не останавливаясь, идти к Костроме... Наконец в первых числах апреля ополчение достигло Ярославля».

В. «Занявши Дорогобуж, Владислав... хотел было уже располагаться на зимние квартиры, как пришло известие, что вяземские воеводы, князь Пётр Пронский и князь Михайла Бел осел ьский, узнавши о сдаче Дорогобужа, бросили свой город и убежали в Москву... Владислав в конце октября торжественно вступил в Вязьму».

V. ЭКОНОМИЧЕСКОЕ РАЗВИТИЕ РОССИИ В XVII В.



1. Какие явления обозначены в легенде к карте цифрами?

- 1) _____
- 2) _____
- 3) _____
- 4) _____
- 5) _____
- 6) _____
- 7) _____
- 8) _____
- 9) _____

2. Определите, о каких новых явлениях в экономической жизни страны идёт речь в отрывках из документов. Какими цифрами обозначены на карте эти явления?

А. «В нынешнем, государь, во 156-м году июня в 19 день пригнали из Литвы и из-за рубежа купцы во Брянской уезд, Свинского монастыря в вотчину в село Супонева, от города вёрст за 6, животину, во- лов з 200 и больши. И не явися в городе под тем селом перевезлись за реку Десну на монастырский ж пустоши... И они скозалися литовско- го города Мены пана Адама Киселя купцы посадцкие люди Дмитрий Юрьев да Иван Матвеев, пригнали де к Свинской ярмонки продавать» (отписка воеводы в Посольский приказ).

Б. «Царю государю и великому князю Михаилу Фёдоровичу всеа Русин бьёт челом Галанской земли гость Андрюшка Вinius с товарищи. По твоему Государеву указу велено нам делать въ Тульскомъ уез- де всякого железного заводу, и ныне, Государь, едутъ Галанские земли Французене железново дела завидные мастера человек с двадцать с прикащиком нашим с Яномъ Дани Милосердный государь, царь и ве- ликий князь Михайло Федоровичъ всеа Руси, пожалуй, вели, Государь, нам дать свою Государеву проезжую грамоту...» (из челобитной Андрея Виниуса).

VI. НАРОДНЫЕ ВОССТАНИЯ В ЦАРСТВОВАНИЕ АЛЕКСЕЯ МИХАЙЛОВИЧА



1. Что обозначено в легенде к карте цифрами?

- 1) _____
- 2) _____
- 3) _____
- 4) _____
- 5) _____
- 6) _____
- 7) _____
- 8) _____
- 9) _____

2. Установите соответствие: к каждому отрывку из «Истории России...» СМ. Соловьёва подберите условное обозначение, изображающее описываемое в тексте.

А. «Царь выслал к народу двоюродного брата своего, Никиту Ивановича Романова, зная любовь к нему народную. Никита Иванович вышел с шапкой в руках и сказал, что царь обещает выполнить желание подданных и увещевает их разойтись, чтоб можно было ему вы- полнить обещание... Народ разошёлся. Траханиотова действительно схватили подле Троицкого

монастыря и казнили; Морозова отправили подальше, в Кириллов-Белозерский монастырь... Царь обещал также понижение цены на соль».

Б. «Алексей Михайлович обратился к стоявшим около него стрельцам и придворным и велел двинуться на гилевщиков [мятежников], которые, пришедши вовсе не за тем, чтоб сражаться, побежали врознь: их начали хватать, некоторые защищались, но напрасно. Человек сто утонуло в реке, больше 7000 было перебито и переловлено... Москва утихла; но жалобы на медные деньги продолжались... Наконец в 1663 г. вышел указ: в Москве, Новгороде и Пскове денежного медного дела дворы отставить».

В. «Из Черкаска Разин отправился вверх, в Паншин городок, куда пришёл к нему знаменитый Васька Ус с толпою голутвенных. Всего набралось тысяч с семь Козаков. Собрался круг, и атаман объявил, что идёт судами и конями под Царицын. На другой день войско выступило, через два дня, ночью, подошло к Царицыну, и, как только началась заря, козаки с сухого пути и с реки обступили город».

VII. ОСВОЕНИЕ СИБИРИ В XVII В.



1. Что обозначено в легенде к карте цифрами?

- 1) _____
- 2) _____
- 3) _____
- 4) _____
- 5) _____

- 6) _____
- 7) _____
- 8) _____
- 9) _____

2. Определите:

А) автора челобитной;

Б) адресата;

В) примерное время описываемых событий;

Г) о каком великом географическом открытии свидетельствует данный документ.

«...Служил я, холоп твой, блаженные памяти отцу твоему на Яне, и на Индигирке, и на Алазейке, и на Колыме реках, с служилыми и с приказными людьми с Дмитрием Михайловым да с Михаилом Стадухиным, и в ясачном сборе в вашей великих государей казне учинили великую прибыль. И с Колымы реки поднялся я, холоп твой, морем — проведывать новых рек, и приискал вновь, сверх тех прежних рек, новую реку Анандыр, и на той новой на Анандыре реке будучи на твоей, великого государя, службе зимовье и острог поставил, и аманатов поймал, и ясаку тебе, великому государю, и десятыя (пошлины) собрал на той новой реке».

VIII. ВНЕШНЯЯ ПОЛИТИКА ЦАРЯ АЛЕКСЕЯ МИХАЙЛОВИЧА



1. Что обозначено в легенде к карте цифрами?

- 1) _____
- 2) _____
- 3) _____
- 4) _____
- 5) _____
- 6) _____
- 7) _____

2. Установите соответствие: к каждому отрывку из «Истории России...» СМ. Соловьёва и официальных документов подберите условное обозначение, изображающее описываемое в тексте.

А. «А которые города и земли в сей прошлой войне от коруны Польской и Великого княжества Литовского завоёваны суть, и оставают во владении и в Державе его царского величества, се есть Смоленск со всею Северскою землёю, с городами и с уездами...» (из официального договора).

Б. «А о гетмане о Богдане Хмельницком и о всём Войске Запорожском бояре и думные люди приговорили, чтоб великий государь царь и великий князь Алексей Михайлович всеа Русин изволил того гетмана Богдана Хмельницкого и всё Войско Запорожское з городами их и з

землями принять под свою государскую высокую руку для православные христианские веры и святых божиих церквей» (из официального документа).

В. «29 июля боярин князь Яков Куденетович Черкасский, соединившись с Золотаренком в полмиле от Вильны, напал на обоз гетмана Радзивилла и Гонсевского; бой длился от шестого часа дня до ночи; гетманы потерпели поражение и бежали за реку Вилию; а русские приступили к Вильне и овладели этою столицею Литвы» (из «Истории России...» СМ. Соловьёва).