

Е 25,5 x 26/50 52% 2-30418

Всероссийская олимпиада школьников по географии  
школьный этап 2020-2021 учебный год  
7 класс





присел

Бланк ответов учащегося для заданий тестового тура

| № вопроса    | Правильный ответ (элементы ответа) |
|--------------|------------------------------------|
| 1.           | Б 0                                |
| 2.           | А 1                                |
| 3.           | в а в 0                            |
| 4.           | в 0                                |
| 5.           | б в 1                              |
| 6.           | Б 1                                |
| 7.           | Б 0                                |
| 8.           | 1-Б 2-в 3-Б 4-А 1                  |
| 9.           | А 1                                |
| 10.          | б 1                                |
| 11.          | в 0                                |
| 12.          | в 1                                |
| 13.          | а в 0,5                            |
| 14.          | 1-Б 2-Б 3-а 1                      |
| 15.          | в в 1                              |
| <b>Итого</b> |                                    |

9,5

**Теоретический тур**  
**Задание 1. “Я в Хабаровском крае живу”**

| №  | Вопрос  | Ответ   |
|----|---|---|
| 1. | Определите, на каком рисунке изображен контур Хабаровского края?  |      |
| 2. | Используя политическую карту мира в атласе, определите, контуры каких территорий кроме Хабаровского края здесь изображены?  | <p>“Калифорнийский край”</p>   |
| 3. | <p>Дополните рисунок с контуром Хабаровского края:</p> <p>а) подпишите стороны горизонта</p> <p>б) море, которым омывается территория Хабаровского края</p> <p>с) одну из крупнейших рек Евразии, протекающую по территории Хабаровского края</p> <p>д) обозначьте место своего проживания (на карте)</p> |    |
| 4. | Назовите три основные достопримечательности (интересные места) своего населенного пункта, которые вы предложили бы для ознакомления туристам из других регионов России.   | <p>Амур, исторический Амур.</p> <p style="text-align: right;">0,5</p> <hr style="width: 50%; margin-left: auto; margin-right: 0;"/> <p style="text-align: right;">0,5</p> |

### Задание №2 "Загадочный символ"

| №  | Вопрос                                      | Ответ              |
|----|---|--------------------|
| 1. | Название вулкана                            | Фудзияма 1         |
| 2. | Название океана                             | Тихий океан 1      |
| 3. | Название острова                            | о. Хонсю (Токио) 1 |
| 4. | Почему больше всего осадков выпадает летом? | 0                  |
| 5. | Время года                                  | лето 0             |
| 6. | Название страны                             | Япония 1           |

### Задание №3 "Улыбка Арктики"

| №  | Вопрос  | Ответ                                 |
|----|---|---------------------------------------|
| 1. | О каком явлении писал в своем дневнике Г.А. Ушаков?                 | север-полярный сияние? 1              |
| 2. | В каких областях земного шара можно наблюдать данное явление?       | на севере и в южной части зем. шара 0 |
| 3. | Назовите причину возникновения явления, о котором писал Г.А. Ушаков | - 0                                   |
| 4. | В каких странах можно насладиться этим зрелищем?                    | 0                                     |

### Задание №4 "Мечта путешественника"

| №  | Вопрос                                       | Ответ   |
|----|--|---|
| 1. | Как называются объекты?                      | А - Кремль<br>Б - Эйфелева башня<br>В - Статуя свободы 1,5            |
| 2. | Города, в которых находятся объекты (страны) | А - Москва (Россия)<br>Б - Париж (Франция)<br>В - Нью Йорк (USA) 1,5  |
| 3. | Определите координаты городов                | А - 56° с.ш 37° з.д.<br>Б - 49° с.ш 1° з.д.<br>В - 41° с.ш 74° з.д. 3 |

**Задание №5 “Карта -второй язык географии”**

| №  | Вопрос  | Ответ              |
|----|---|--------------------|
| 1. | Условный знак № 1   |                    |
|    | Условный знак № 2   | штормик 0,5        |
|    | Условный знак № 3   | шржевь 0,5         |
|    | Условный знак № 4   | шешанне неса 0,5   |
| 2. | Через сколько метров проведены горизонтали?   | 40.000 см          |
| 3. | Какова протяжённость маршрута А–В, если на карте она равна 4 см?  | ↓ 1                |
| 4. | На каком берегу реки Михалёвка находится дуг?   | на левом берегу 1  |
| 5. | В каком направлении от условного знака № 1 находится условный знак № 3?   | в СВ направлении 1 |
| 6. | Почему велосипедист, который едет по грунтовой дороге к реке, может практически не крутить педали? Как Вы это поняли? | —                  |

4,5