

626/50 = 52%

Г-304-12  
присер

Всероссийская олимпиада школьников по географии  
школьный этап 2020-2021 учебный год  
7 класс





Бланк ответов учащегося для заданий тестового тура

№ вопроса	Правильный ответ (элементы ответа)
1.	В 0
2.	А 1
3.	Б 1
4.	А 1
5.	В 0,5
6.	Б 1
7.	В 0
8.	1-Б 2-Г 3-В 4-А 1
9.	Б 0
10.	В 1
11.	- 0
12.	Г 1
13.	В 0
14.	1-Б 2-В 3-А 1
15.	Г 0
<b>Итого</b>	

8,5

## Теоретический тур

### Задание 1. "Я в Хабаровском крае живу"

№	Вопрос	Ответ
1.	Определите, на каком рисунке изображен контур Хабаровского края?	
2.	Используя политическую карту мира в атласе, определите, контуры каких территорий кроме Хабаровского края здесь изображены?	
3.	<p>Дополните рисунок с контуром Хабаровского края:</p> <p>а) подпишите стороны горизонта</p> <p>б) море, которым омывается территория Хабаровского края</p> <p>в) одну из крупнейших рек Евразии, протекающую по территории Хабаровского края</p> <p>г) обозначьте место своего проживания (на карте)</p>	
4.	Назовите три основные достопримечательности (интересные места) своего населенного пункта, которые вы предложили бы для ознакомления туристам из других регионов России.	

### Задание №2 "Загадочный символ"

№	Вопрос	Ответ
1.	Название вулкана	Гуадалькама 1
2.	Название океана	Тихий 1
3.	Название острова	Кокосайо 1
4.	Почему больше всего осадков выпадает летом?	0
5.	Время года	<del>Весна</del> Лето 3 июня 1
6.	Название страны	Китай 0

4

### Задание №3 "Улыбка Арктики"

№	Вопрос	Ответ
1.	О каком явлении писал в своем дневнике Г.А. Ушаков?	Северное сияние 1
2.	В каких областях земного шара можно наблюдать данное явление?	Там где есть полюсы (Северный полюс, Южный полюс) 1
3.	Назовите причину возникновения явления, о котором писал Г.А. Ушаков	
4.	В каких странах можно насладиться этим зрелищем?	

2

### Задание №4 "Мечта путешественника"

№	Вопрос	Ответ
1.	Как называются объекты?	А - Кремль Б - Эльбрусская Башня В - Статуя Свободы 1,5
2.	Города, в которых находятся объекты (страны)	А - Москва (Россия) Б - Париж (Франция) В - Нью-Йорк (США) 1,5
3.	Определите координаты городов	А - Б - В -

3

**Задание №5 “Карта -второй язык географии”**

№	Вопрос	Ответ
1.	Условный знак № 1	Башня 0,5
	Условный знак № 2	Родник 0,5
	Условный знак № 3	Церковь 0,5
	Условный знак № 4	Смешанный лес 0,5
2.	Через сколько метров проведены горизонталы?	700 м. 0
3.	Какова протяжённость маршрута А-В, если на карте она равна 4 см?	400 м 1
4.	На каком берегу реки Михалёвка находится луг?	на левом 1
5.	В каком направлении от условного знака № 1 находится условный знак № 3?	Северо-Восточном 1
6.	Почему велосипедист, который едет по грунтовой дороге к реке, может практически не крутить педали? Как Вы это поняли?	Из-за того, что здесь есть склон вниз, прямо к реке 1

6.