

$$\frac{27}{50} = 54\%$$

Г-312-08

Всероссийская олимпиада школьников по географии
школьный этап 2020-2021 учебный год
7 класс



присуд


Бланк ответов учащегося для заданий тестового тура

№ вопроса	Правильный ответ (элементы ответа)
1.	0
2.	а 1
3.	б 1
4.	а 1
5.	в Г 1
6.	в 0
7.	а 1
8.	1-б 2-г 3-в 4-а 1
9.	а 1
10.	в 1
11.	0
12.	а 0
13.	в 0
14.	1-б 2-в 3-а 1
15.	а 1
Итого	

10

Теоретический тур
Задание 1. “Я в Хабаровском крае живу”

№	Вопрос	Ответ
1.	<i>Определите, на каком рисунке изображен контур Хабаровского края?</i>	
2.	<i>Используя политическую карту мира в атласе, определите, контуры каких территорий кроме Хабаровского края здесь изображены?</i>	
3.	<p><i>Дополните рисунок с контуром Хабаровского края:</i></p> <p><i>а) подпишите стороны горизонта</i></p> <p><i>б) море, которым омывается территория Хабаровского края</i></p> <p><i>с) одну из крупнейших рек Евразии, протекающую по территории Хабаровского края</i></p> <p><i>д) обозначьте место своего проживания (на карте)</i></p> 	
4.	<i>Назовите три основные достопримечательности (интересные места) своего населенного пункта, которые вы предложили бы для ознакомления туристам из других регионов России.</i>	



Задание №2 “Загадочный символ”

№	Вопрос	Ответ
1.	Название вулкана	Вулкан Суфзильма 1
2.	Название океана	Тихий океан 1
3.	Название острова	Хоккайдо 1
4.	Почему больше всего осадков выпадает летом?	
5.	Время года	Зима 1
6.	Название страны	Япония 1

5

Задание №3 “Улыбка Арктики”

№	Вопрос	Ответ
1.	О каком явлении писал в своем дневнике Г.А.Ушаков?	
2.	В каких областях земного шара можно наблюдать данное явление?	на полюсах 1
3.	Назовите причину возникновения явления, о котором писал Г.А. Ушаков	
4.	В каких странах можно насладиться этим зрелищем?	

1.

Задание №4 “Мечта путешественника”

№	Вопрос	Ответ
1.	Как называются объекты?	А - кристалл полярного льда Б - В - статуя Водыни 1
2.	Города, в которых находятся объекты (страны)	А - Москва () Б - Париж () В - Нью-Йорк () 0,5
3.	Определите координаты городов	А - 39° ш. 56° с.ш. Б - 2° в.д. 48° с.ш. В - 41° з.д. 73° с.ш. 2

3,5

Задание №5 “Карта -второй язык географии”

№	Вопрос	Ответ
1.	Условный знак № 1	
	Условный знак № 2	Штучный 0,5
	Условный знак № 3	Урвык 0,5
	Условный знак № 4	Шелальный лес 0,5
2.	Через сколько метров проведены горизонтали?	
3.	Какова протяжённость маршрута А–В, если на карте она равна 4 см?	400 м 1
4.	На каком берегу реки Михалёвка находится дуг?	на левом 1
5.	В каком направлении от условного знака № 1 находится условный знак № 3?	С-В 1
6.	Почему велосипедист, который едет по грунтовой дороге к реке, может практически не крутить педали? Как Вы это поняли?	потому что там лаван 2

6,5