

$\leq 30,5 = 31/50$ 62%
Г-304-20

мисер

Всероссийская олимпиада школьников по географии
школьный этап 2020-2021 учебный год
7 класс



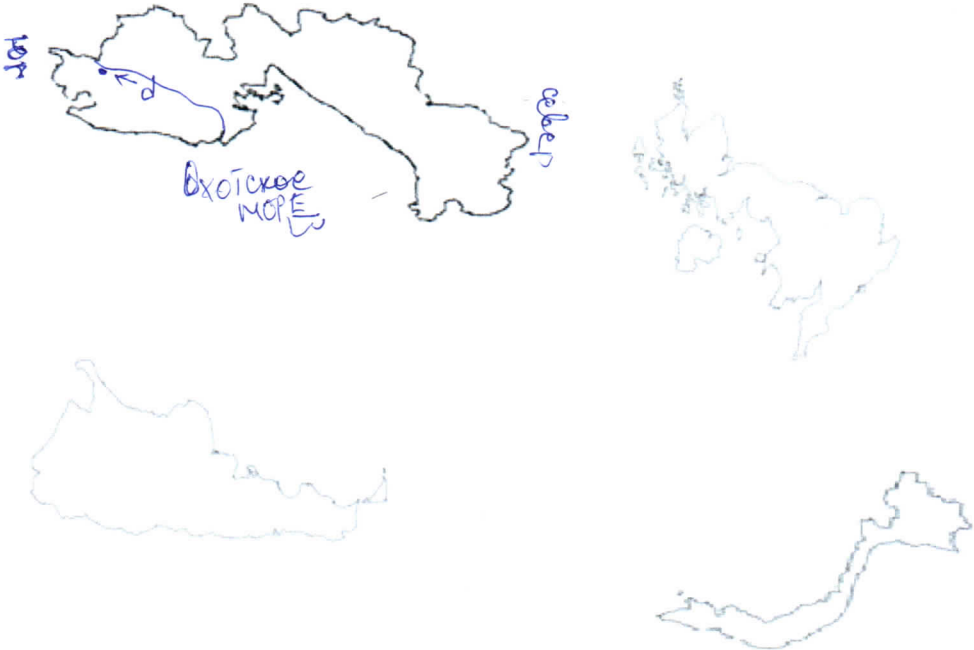

Бланк ответов учащегося для заданий тестового тура

№ вопроса	Правильный ответ (элементы ответа)
1.	Б 0
2.	А. 1
3.	Г. 0
4.	А. 1
5.	Б; В. 0,5
6.	Б. 1
7.	Г. 0
8.	1- Б 2- Г 3- В 4- А 1
9.	А 1
10.	В. 1
11.	0
12.	А. 0
13.	А; Г 0,5
14.	1- Б 2- В 3- А 1
15.	Б 0
Итого	

~~Б.~~

Теоретический тур


Задание 1. "Я в Хабаровском крае живу"

№	Вопрос	Ответ
1.	Определите, на каком рисунке изображен контур Хабаровского края?	
2.	Используя политическую карту мира в атласе, определите, контуры каких территорий кроме Хабаровского края здесь изображены?	
3.	<p>Дополните рисунок с контуром Хабаровского края:</p> <p>а) подпишите стороны горизонта</p> <p>б) море, которым омывается территория Хабаровского края</p> <p>с) одну из крупнейших рек Евразии, протекающую по территории Хабаровского края</p> <p>д) обозначьте место своего проживания (на карте)</p>	 <p style="text-align: right;">1 + 1 + 1</p>
4.	Назовите три основные достопримечательности (интересные места) своего населенного пункта, которые вы предложили бы для ознакомления туристам из других регионов России.	<p>1) Сидорова - Амниль</p>  <p style="text-align: right;">4.</p>

Задание №2 "Загадочный символ"

№	Вопрос	Ответ
1.	Название вулкана	Фудзияма 1
2.	Название океана	Тихий океан 1
3.	Название острова	Хонсю 1
4.	Почему больше всего осадков выпадает летом?	
5.	Время года	Весна 1
6.	Название страны	Япония 1

Задание №3 "Улыбка Арктики"

№	Вопрос	Ответ
1.	О каком явлении писал в своем дневнике Г.А. Ушаков?	северное сияние 1
2.	В каких областях земного шара можно наблюдать данное явление?	Южный полюс и Северный полюс 1
3.	Назовите причину возникновения явления, о котором писал Г.А. Ушаков	НА СЕВЕРНОМ ПОЛЮСЕ  это защитное поле земли ГРЕИЛАНДИИ 1
4.	В каких странах можно насладиться этим зрелищем?	Гренландия, Исландия, Швеция, Финляндия, Норвегия, Франция-Масифр, Северная земля. 1

Задание №4 "Мечта путешественника"

№	Вопрос	Ответ
1.	Как называются объекты?	А - Кремлёвская башня Б - Эйфелева башня В - Статуя свободы 1,5
2.	Города, в которых находятся объекты (страны)	А - (Москва) Б - (Париж) В - (Нью-Йорк) 0
3.	Определите координаты городов	А - 56 с.ш. 37 в.д. Б - 49 с.ш. 2 в.д. В - 41 с.ш. 37 ю.д. 44 с.д. 2

Задание №5 “Карта -второй язык географии”

№	Вопрос	Ответ
1.	Условный знак № 1	Башня 0,1
	Условный знак № 2	Родник 0,5
	Условный знак № 3	Церковь 0,5
	Условный знак № 4	Смешанные леса 0,5
2.	Через сколько метров проведены горизонтали?	
3.	Какова протяжённость маршрута А–В, если на карте она равна 4 см?	
4.	На каком берегу реки Михалёвка находится дуг?	левый 1
5.	В каком направлении от условного знака № 1 находится условный знак № 3?	Ю-СВ 1
6.	Почему велосипедист, который едет по грунтовой дороге к реке, может практически не крутить педали? Как Вы это поняли?	идёт склон по горизонтали 2

6.