

Материалы
для подготовки к тестированию по истории 6 класс М-5 профильный уровень
по теме: «Московская Русь и события мировой истории в XIV- XV веках»

Тема	Содержание
Кризис XIV столетия в Европе.	Экономическое и социальное развитие европейских стран. Столетняя война; Жанна д'Арк. Обострение социальных противоречий в XIV в. (Жакерия, восстание Уотта Тайлера).
Политическая карта Европы и русских земель в начале XV	Борьба Литовского и Московского княжеств за объединение русских земель. Распад Золотой Орды и его влияние на политическое развитие русских земель. Большая Орда, Крымское, Казанское, Сибирское ханства, Ногайская Орда и их отношения с Московским государством
Московская Русь в XIV в.	Причины и основные этапы объединения русских земель. Москва и Тверь: борьба за великое княжение. Возвышение Москвы. Московские князья и их политика. Княжеская власть и церковь. Дмитрий Донской и Сергей Радонежский. Куликовская битва, ее значение.
Формирование единого русского государства	Междоусобная война в Московском княжестве во второй четверти XV в. Василий Тёмный. Новгород и Псков XV в. Иван III.
Страны Азии в период средневековья	Османская империя: завоевания турок- османов, управление империей. Китай: империи, правители и подданные, борьба против завоевателей. Япония в Средние века. Индия: раздробленность индийских княжеств, вторжение мусульман, Делийский султанат.

Понятия: Кормление. Царь. Государственная символика. Герб. Поместье.

Персоналии: Даниил Московский. Михаил Ярославич Тверской. Юрий Данилович. Иван Калита, Семён гордый, Иван Красный, Даниил Заточник. Сергей Радонежский, митрополит Пётр, Алексей, Иона. Софья Витовтовна. Ольгерд Ягайло. Витовт. Узбек. Мамай. Тохтамыш. Едигей. Тимур. Дмитрий Донской, Дмитрий Боброк, Пересвет, Чолубей, Василий Тёмный. Иван III. Юрий Дмитриевич. Дмитрий Шемяка. Марфа Борецкая. София (Зоя) Палеолог

Филипп IV Красивый. Карл VII. Жанна д'Арк, Уотт Тайлер, Гильом Каль. Роджер Бэкон, Кретьен де Труа. Иоганн Гутенберг, Данте Алигьери, Мазаччо, Боттичели. Мехмед II,

Даты:

1206 – образование Делийского султаната в Индии

1325-1340 – княжение Ивана Калиты.

1327 – антиордынское восстание в Твери

1337-1453- Столетняя война

1347 – 1350 – эпидемия чумы – «Чёрная смерть»

1356- битва при Пуатье

1358- Жакерия

1359-1389 – княжение Дмитрия Донского

1381- восстание Уотта Тайлера

1378, 11 августа – битва на р. Воже

1380, 8 сентября – Куликовская битва

1382 – разорение Москвы Тохтамышем

1383-1389 – закрепление великого княжения Владимирского за московским

княжеским домом

1389 – 1425 – княжение Василия I

1395 – разгром Золотой Орды Тимуром

1445- первая печатная книга И.Гутенберга

1453 – завоевание Константинополя турками-османами

1425-1453 – междоусобная война в Московском княжестве

1425-1462 – княжение Василия II

1448 – установление автокефалии Русской церкви

1462-1505 – княжение Ивана III

1472 – прекращение выплаты дани в Орду

1478 – присоединение Новгородской земли к Москве

1480 – «стояние» на р. Угре

1485 – присоединение Тверского великого княжества к Москве

1487-1503 – присоединение Чернигово-Северской и части Смоленской земель

1497 – принятие общерусского Судебника

Материал для подготовки:

Искровская Л.В. История средних веков: 6 класс: § 21,22,25,27,28,29,30,32

История России.6 класс. Часть 2 §20,21,23,24,25,26

Для того, чтобы получить допуск к тесту учащийся должен выполнить следующие виды работ:

- оформить лекционную тетрадь;
- работа с документом;
- картографический практикум (контурная карта);
- понятийный диктант;
- выступление на семинарском занятии;
- конспект для подготовки к семинарскому занятию.

Выполнение каждого вида работ подтверждается отметкой учителя в зачётном листе и допуском к итоговому тесту.

Вопросы к семинару «Выдающиеся правители и личности Московского княжества и государства»

1. Первые московские князья: Характеристика личности и особенности правления (Даниил Московский, Юрий Данилович, Иван Калита)
2. Сергей Радонежский: Рассказать биографию, дать характеристику личности и деятельности
3. Дмитрий Донской: Детство и Юность. Особенности его правления. Куликовская битва
4. Иван Третий: Характеристика личности. Процесс объединения Древнерусского государства
5. Ликвидация ордынского владычества на Руси. Стояние на р. Угре

Материал для подготовки:

История России.6 класс. Часть 2 §20,21,23,24,25,26

Интернет:

<https://tretiy-rim.moscow/pervye-moskovskie-knyazya/>

<https://uznayvse.ru/znamenitosti/biografiya-sergiy-radonezhskiy.html>

<https://interesnyefakty.org/dmitrij-donskoj/>

<https://www.yandex.ru/turbo?text=https%3A%2F%2Fxn--e1adcaacuhnujm.xn--p1ai%2Fivan-iii.html>

Банк заданий

Задание №1

Отметьте даты правления Ивана Калиты.

Выберите один из 4 вариантов ответа:

1)		1303-1325 гг.
2)		1325-1340 гг.
3)		1340-1353 гг.
4)		1353-1359 гг.

Задание №2

Взятие Константинополя турками- османами произошло в

Выберите один из 4 вариантов ответа:

1)		1352 году
2)		1386 году
3)		1445 году
4)		1453 году

Задание №3

Сражение, в котором "сошлись грозно обе силы великие... на поле Куликовом" произошло в

Выберите один из 4 вариантов ответа:

1)		1223 году
2)		1242 году
3)		1380 году
4)		1480 году

Задание №4

Восстание Уотта Тайлера произошло в Англии в

Выберите один из 4 вариантов ответа:

1)		1381 г.
2)		1358 г.
3)		1345 г.
4)		1302 г.

Задание №5

В 1358 г. произошло

Выберите один из 4 вариантов ответа:

1)		восстание Уотта Тайлера в Англии
2)		восстание Жакерия во Франции
3)		гуситские войны в Чехии
4)		начало Столетней войны

Задание №6

Столетняя война произошла

Выберите один из 4 вариантов ответа:

1)		в 1337-1437 гг.
2)		в 1337-1453 гг.
3)		в 1337- 1471 гг.
4)		в 1328-1428 гг.

Задание №7

Монгольская империя окончательно распалась в

Выберите один из 4 вариантов ответа:

1)		XIII в.
2)		XIV в.
3)		XV в.
4)		XVI в.

Задание №8

В каком году закончилась междоусобная война за московский престол между наследниками Дмитрия Донского?

Выберите один из 4 вариантов ответа:

1)		1425 г.
2)		1433 г.
3)		1453 г.
4)		1462 г.

Задание №9

Укажите даты правления Ивана III Великого.

Выберите один из 4 вариантов ответа:

1)		1389-1425 гг.
2)		1425-1462 гг.
3)		1462-1505 гг.
4)		1505-1533 гг.

Задание №10

Укажите дату события, которое вошло в историю под названием «стояние на Угре».

Выберите один из 4 вариантов ответа:

1)		1380 г.
2)		1408 г.
3)		1480 г.
4)		1511 г.

Задание №11

Когда был принят первый свод законов единого государства — Судебник?

Выберите один из 4 вариантов ответа:

1)		1480 г.
2)		1497 г.
3)		1505 г.
4)		1520 г.

Задание №12

Антиордынское восстание в Твери произошло

Выберите один из 4 вариантов ответа:

1)		1325 г
2)		1327 г
3)		1340 г
4)		1345 г

Задание №13

В этом году произошла битва на р. Воже

Выберите один из 4 вариантов ответа:

1)		1237 г.
2)		1380 г.
3)		1480 г.
4)		1378 г.

Задание №14

Укажите года правления Дмитрия Донского

Выберите один из 4 вариантов ответа:

1)		1325-1340 гг.
2)		1359-1389 гг.
3)		1389-1425 гг.
4)		1462-1505 гг.

Задание №15

Укажите дату присоединения Новгородской земли к Москве

Выберите один из 4 вариантов ответа:

1)		1478 г
2)		1485 г
3)		1510 г
4)		1521 г

Задание №16

Укажите дату присоединения Тверского княжества к Москве

Выберите один из 4 вариантов ответа:

1)		1478 г.
2)		1480 г.
3)		1485 г.
4)		1510 г.

Задание №17

Восстание в Твери против родственника хана Чолхана и его отряда

Выберите один из 4 вариантов ответа:

1)		распространилось по всем русским землям и переросло в общенациональное восстание
----	--	--

2)		привело к смене власти в Орде
3)		подавлено Иваном Калитой
4)		подавлено польскими войсками

Задание №18

Столетняя война (1337- 1453 годов)- это война

Выберите один из 4 вариантов ответа:

1)		между Швецией и Англией
2)		между Францией и Англией
3)		между Францией и Данией
4)		между Индией и Китаем

Задание №19

Какие сооружения стали строиться в индийских городах после образования Делийского султаната?

Выберите один из 4 вариантов ответа:

1)		пагоды
2)		мечети и мавзолеи
3)		индуистские храмы
4)		христианские храмы

Задание №20

Какое событие XIV века современники называли "чёрной смертью"?

Выберите один из 4 вариантов ответа:

1)		эпидемию чумы в Западной Европе
2)		Столетнюю войну
3)		османское завоевание в Европе
4)		нашествие монголов

Задание №21

В состав какого государства в начале XV в. входили Черниговское, Турово-Пинское и Смоленское княжества?

Выберите один из 4 вариантов ответа:

1)		Московского княжества
2)		Монгольской империи
3)		Киевского княжества
4)		Великого Литовского княжества

Задание №22

В мировой истории в XIV-XV вв. происходили глобальные изменения. Какие торговые пути стали складываться в этот период?

Выберите один из 4 вариантов ответа:

1)		к берегам Австралии
2)		к берегам Антарктиды
3)		пути, соединяющие Европу, Индию и Китай
4)		пути, соединяющие Европу, Австралию и Океанию

Задание №23

Соперник Московского княжества в объединении Русских земель в XV в.

Выберите один из 4 вариантов ответа:

1)	Рязанское княжество
2)	Черниговское княжество
3)	Великое княжество Литовское
4)	Новгородская земля

Задание №24

Каким событием прекратилась междоусобная война русских князей в XV в.?

Выберите один из 4 вариантов ответа:

1)	ордынским походом на Русь
2)	смертью Дмитрия Шемяки в Новгороде
3)	изгнанием Василия II с московского престола
4)	смертью Василия Косого

Задание №25

Территория, присоединённая к Московскому княжеству в правление Ивана III, где были отменены вечевые порядки, а вечевой колокол увезён в Москву, — это

Выберите один из 4 вариантов ответа:

1)	Ростовское княжество
2)	Новгородская земля
3)	Смоленское княжество
4)	Ярославское княжество

Задание №26

Какое княжество — давний соперник Москвы в борьбе за ярлык — перешло под власть Москвы в правление Ивана III, что можно расценивать как создание единого Русского государства?

Выберите один из 4 вариантов ответа:

1)	Ростовское княжество
2)	Тверское княжество
3)	Псковское княжество
4)	Великое Литовское княжество

Задание №27

Иван III после женитьбы на греческой царевне Софье Палеолог стал считать себя преемником династии

Выберите один из 4 вариантов ответа:

1)	французской
2)	византийской
3)	монгольской
4)	литовской

Задание №28

Первый князь Московского княжества — Даниил — был сыном князя

Выберите один из 4 вариантов ответа:		
1)		Юрия Долгорукого
2)		Михаила Тверского
3)		Александра Невского
4)		Владимира Святого
Задание №29		
Московский князь Юрий Данилович вступил в конфликт по поводу ярлыка на великое княжение владимирское с князем		
Выберите один из 4 вариантов ответа:		
1)		Александром Невским
2)		Михаилом Ярославичем Тверским
3)		Иваном Калитой
4)		Дмитрием Донским
Задание №30		
Современником князя Дмитрия Ивановича был церковный деятель		
Выберите один из 4 вариантов ответа:		
1)		патриарх Иов
2)		патриарх Адриан
3)		преподобный Сергей Радонежский
4)		патриарх Никон
Задание №31		
Засадный полк русских войск, который решил исход Куликовской битвы, возглавили		
Выберите один из 4 вариантов ответа:		
1)		князь Дмитрий Боброк и князь Владимир Андреевич
2)		князь Дмитрий Иванович и монах Ослябя
3)		митрополит Алексей и князь Дмитрий Иванович
4)		князь рязанский Олег и польский король Ягайло
Задание №32		
Во второй половине XIV в. власть в Орде захватил		
Выберите один из 4 вариантов ответа:		
1)		польский король Ягайло
2)		военачальник Мамай
3)		китайский император Цин
4)		новгородский посадник Дмитр
Задание №33		
Руководителем крестьянского восстания против феодалов является:		
Выберите один из 4 вариантов ответа:		
1)		Карл VII
2)		Уотт Тайлер

3)		Жанна д'Арк
4)		Жак- простак
Задание №34		
Орлеанской девой была названа		
Выберите один из 4 вариантов ответа:		
1)		Алионора Аквитанская
2)		Жанна д Арк
3)		Изабелла Кастильская
4)		Анна Ярославовна
Задание №35		
Своё прозвище Тёмный князь Василий II получил, потому что		
Выберите один из 4 вариантов ответа:		
1)		был неграмотным
2)		носил тёмную одежду
3)		имел тёмные волосы
4)		был ослеплён
Задание №36		
Кто был одним из участников междоусобной войны второй четверти XV в. в Московском княжестве?		
Выберите один из 4 вариантов ответа:		
1)		Василий II Тёмный
2)		Борис Годунов
3)		Василий I
4)		Дмитрий Донской
Задание №37		
Отметьте имя князя, который впервые передал своему наследнику Московское княжество и владимирский престол без разрешения хана.		
Выберите один из 4 вариантов ответа:		
1)		Иван Калита
2)		Дмитрий Донской
3)		Василий I
4)		Василий II
Задание №38		
Как звали хана Большой Орды, который выступил против Ивана III и возглавил ордынские войска в «стоянии на Угре»?		
Выберите один из 4 вариантов ответа:		
1)		Мамай
2)		Тохтамыш
3)		Угедей
4)		Ахмат

Задание №39

При каком основном условии князь давал своим подданным поместья?

Выберите один из 4 вариантов ответа:

1)		при соответствующем титуле подчинённого
2)		при условии несения службы
3)		по требованию митрополита
4)		по требованию монгольского хана

Задание №40

В чём состояла одна из особенностей вотчинного владения?

Выберите один из 4 вариантов ответа:

1)		владение выдавалось на время службы
2)		владение можно было передавать по наследству
3)		территория вотчины всегда принадлежала церкви
4)		вопрос о выдаче вотчины решали ордынцы

Задание №41

Герб с двуглавым орлом, появившийся на печатях московского князя, символизировал

Выберите один из 4 вариантов ответа:

1)		императорскую власть
2)		власть над миром
3)		власть во всех землях Руси и стран Востока
4)		любую монархическую власть

Задание №42

Какой новый титул принял Иван III?

Запишите ответ:

1)	Ответ:	
----	--------	--

Задание №43

Запишите термин, о котором идёт речь.

Земельное владение, которое выдавалось за военную или государственную службу без права передачи, обмена, наследования, — это _____

Запишите ответ:

1)	Ответ:	
----	--------	--

Задание №44

Запишите термин, о котором идёт речь.

Крупное земельное владение, передававшееся по наследству, — это _____

Запишите ответ:

1)	Ответ:	
----	--------	--

Задание №45

Запишите термин, о котором идёт речь.

Система содержания должностных лиц (наместников, волостелей и др.) за счёт местного населения

Запишите ответ:

1)	Ответ:	
Задание №46		
Одна из важнейших причин Столетней войны – это		
Выберите один из 4 вариантов ответа:		
1)		династический кризис во Франции
2)		завершение процесса централизации в Англии
3)		конфликт из-за юго-западных земель Франции, принадлежавших английскому королю
4)		развитие экономических связей внутри Франции
Задание №47		
В результате Куликовской битвы		
Выберите один из 4 вариантов ответа:		
1)		Русь полностью освободилась от ордынского владычества
2)		Золотая Орда попала в зависимость от Руси
3)		усилилась роль Москвы как центра объединения русских земель
4)		Русь попала еще в большую зависимость от Золотой Орды
Задание №48		
Среди причин Столетней войны отмечают:		
Выберите один из 4 вариантов ответа:		
1)		стремление Франции к территориальным приобретениям в Англии
2)		стремление Англии сохранить свои владения в центре Франции
3)		противоречия между странами по поводу городов во Фландрии
4)		претензии французского короля на английский престол.
Задание №49		
Что случилось после взятия турками- османами Константинополя?		
Выберите один из 4 вариантов ответа:		
1)		город был переименован в Стамбул и объявлен османской столицей
2)		городские стены и укрепления были разрушены
3)		были закрыты все христианские храмы
4)		византийский император стал наместником турецкого султана
Задание №50		
Присоединение какой территории в 1470-е гг. имело особое значение для развития Московского княжества?		
Выберите один из 4 вариантов ответа:		
1)		Смоленского княжества
2)		Великого Литовского княжества
3)		Новгородской земли
4)		Псковской земли
Задание №51		
В результате какого события прекратилась зависимость Русских земель от Орды?		
Выберите один из 4 вариантов ответа:		

1)		Куликовской битвы
2)		междоусобной войны русских князей первой половины XV в.
3)		нашествия Тохтамыша
4)		«стояния на реке Угре»

Задание №52

Что из названного позволило Москве стать центром объединения русских земель?

Выберите один из 4 вариантов ответа:

1)		утверждение республиканской формы правления
2)		политика, проводимая московскими князьями по отношению к Золотой Орде и основным соперникам
3)		союз московских князей с государствами Западной Европы в борьбе против монгольского владычества
4)		отсутствие разрушений в Москве в ходе Батыева нашествия

Задание №53

Установите соответствие между историческими личностями и их деятельностью

Укажите соответствие для всех 4 вариантов ответа:

1)	Пересвет	1)	хан Золотой Орды, захвативший власть после гибели Мамай
2)	Челубей	2)	монах, сразившийся, по преданию, в поединке перед Куликовской битвой
3)	Тохтамыш	3)	основатель Троицкого монастыря
4)	Сергий Радонежский	4)	ордынский богатырь, по преданию, сразившийся перед Куликовской битвой

Задание №54

Установите соответствие между историческими личностями и событиями, в которых они участвовали

Укажите соответствие для всех 4 вариантов ответа:

1)	Мамай	1)	митрополит, глава московского правительства в первые годы правления Дмитрия Ивановича
2)	Пересвет	2)	основатель Троицкого монастыря
3)	Алексей	3)	монах, сразившийся, по преданию, перед Куликовской битвой с ордынским воином
4)	Сергий Радонежский	4)	командовал ордынским войском в Куликовской битве

Задание №55

Установите соответствие между именами московских князей и годами их правления

Укажите соответствие для всех 3 вариантов ответа:

1)		Юрий Данилович	1)	1359-1389 гг.
2)		Иван Калита	2)	1303-1325 гг.
3)		Дмитрий Донской	3)	1325-1340 гг.

Задание №56

Установите соответствие между именами князей и датами их правления

Укажите соответствие для всех 4 вариантов ответа:

1)		Василий I	1)	1359-1389 гг.
2)		Василий II	2)	1325-1340 гг.
3)		Дмитрий Донской	3)	1389-1425 гг.
4)		Иван Калита	4)	1425-1462 гг.

Задание №57

Установите соответствие между термином и его значением

Укажите соответствие для всех 4 вариантов ответа:

1)		воевода	1)	порядок замещения высших должностей в зависимости от знатности рода
2)		кормление	2)	обязательные платежи населения, установленные государством
3)		местничество	3)	военачальник, наместник-управитель в уездах
4)		налоги	4)	система содержания должностных лиц за счёт местного населения

Задание №58

Установите соответствие между князьями и событиями, произошедшими в период их правления:

Укажите соответствие для всех 3 вариантов ответа:

1)		Иван III	1)	походы князя Ольгерда на Москву
2)		Дмитрий Донской	2)	установление единого срока крестьянского перехода в Юрьев день
3)		Иван Калита	3)	перенос кафедры митрополита из Владимира в Москву

Задание №59

Выберите ТРИ последствия Куликовской битвы.

Выберите несколько из 6 вариантов ответа:

1)		полное поражение русских князей, окончательное признание власти Орды
2)		освобождение от монгольской зависимости

3)		возвышение Москвы, усиление политического влияния московского князя
4)		народный подъём, воодушевление, развитие патриотизма
5)		осознание необходимости объединения Русской земли
6)		усиление влияния ислама в русских землях

Задание №60

Причинами Жакерии являются

Выберите несколько из 5 вариантов ответа:

1)		последствия "Чёрной смерти"
2)		произвол королевских слуг
3)		рост налогов
4)		смерть короля
5)		тяготы войны

Задание №61

Выберите из списка ТРИ положения, относящиеся к правлению Ивана Калиты.

Выберите несколько из 6 вариантов ответа:

1)		Иван Калита получил право сбора дани с русских земель для Орды
2)		Иван Калита поддерживал антиордынские восстания в своих землях
3)		Иван Калита выделил специальные слободы для выходцев из других городов
4)		в правление Ивана Калиты территория Московского княжества сократилась
5)		в правление Ивана Калиты митрополит перенёс свою кафедру в Москву
6)		Иван Калита получил корону от папы римского

Задание №62

Выберите из списка ТРИ государства, которые сформировались после распада Золотой Орды в XV в.

Выберите несколько из 6 вариантов ответа:

1)		Новгородская республика
2)		Большая Орда
3)		Крымское ханство
4)		Норвежское государство
5)		Сибирское ханство
6)		Индийская держава

Задание №63

Выберите из списка ТРИ города, которые были присоединены к Московскому государству в правление князя Василия III.

Выберите несколько из 6 вариантов ответа:

1)		Смоленск
2)		Ростов
3)		Ярославль

4)		Псков
5)		Рязань
6)		Чернигов

Задание №64

Выберите из списка три события, относящихся к правлению Ивана III

Выберите несколько из 6 вариантов ответа:

1)		присоединение Смоленска
2)		введение государственного герба — двуглавого орла
3)		присоединение Новгорода
4)		расцвет приказной системы
5)		создание стрелецкого войска
6)		постройка краснокирпичного Московского Кремля

Задание №65

Выберите из списка три исторические личности, связанные с княжением Ивана III.

Выберите несколько из 6 вариантов ответа:

1)		хан Ахмат
2)		хан Тохтамыш
3)		Сергий Радонежский
4)		Иосиф Волоцкий
5)		Софья Палеолог
6)		Елена Глинская

Задание №66

Прочтите отрывок из сочинения современного историка и укажите период времени, в который происходили описываемые события.

«Московский князь, родоначальник династии московских князей, был младшим сыном Александра Ярославовича Невского и потому получил незначительный в то время московский удел. Этот удел, полученный князем, состоял тогда из небольшой деревянной крепости и нескольких сёл и деревень без единого каменного здания... Однако мудрая политика князя в итоге принесла свои плоды: Московское княжество значительно расширилось за счёт присоединения Коломны и Переславля-Залесского. В связи с ростом территории Московского княжества значительно возрос на Руси и авторитет московского князя».

Выберите один из 4 вариантов ответа:

1)		первая половина XII в
2)		конец XII — начало XIII в.
3)		середина XIII в.
4)		вторая половина XIII — начало XIV в.

Задание №67

Прочтите отрывок из сочинения историка и укажите год, когда произошли описанные события.

«"Хочу властвовать в Новгороде, как властвую в Москве, — сказал великий князь, — в нём не должно быть ни веча, ни посадника, а будет только моя государева воля". После

многих переговоров новгородцы согласились и присягнули Иоанну как своему полному властному государю. Вечевой колокол и престарелая Марфа-посадница были отправлены в Москву. Однако волнения в Новгороде после того долго не прекращались, потому что граждане не могли скоро забыть о своей прежней вольности»

Выберите один из 4 вариантов ответа:

1)	962 г.
2)	1136 г.
3)	1257 г.
4)	1478 г.

Задание №68

Прочтите отрывок из исторической повести и укажите век, когда произошли описанные события.

«Великий же князь пришёл к реке Дону за два дня до рождества Богородицы... Пришли они к Дону, стали тут и много раздумывали. Одни говорили: "Пойди, князь за Дон", а другие сказали: "Не ходи, так как умножились враги наши, не только татары, и Литва, и рязанцы"... Князь великий собрал полки свои великие, и все его князья русские свои полки приготовили, и великие его воеводы облачились в одежды местные. И врата смертные растворились, страх великий и ужас охватил собранных издалека, с востока и запада, людей. Пошли за Дон, в дальние края земли, и скоро перешли Дон в гневе и ярости, и так стремительно, что основание земное содрогнулось от великой силы. Князя, перешедшего за Дон в поле чисто, в Мамаеву землю, на устье Непрядвы, вёл один Господь Бог, и не отвернулся Бог от него».

Выберите один из 4 вариантов ответа:

1)	XII в.
2)	XIII в.
3)	XIV в.
4)	XV в.

Задание №69

Прочтите отрывок из сочинения современного историка и укажите битву, о подготовке к которой идёт речь.

«20 июня главные силы московской рати выступили из Москвы и двинулись через Тверь, где к ним присоединился тверской полк, и Торжок к южному берегу озера Ильмень. Новгород также готовился к бою. Новгородские бояре собирали всех боеспособных горожан и насильно гнали в войско. Они имели также судовую рать. Но, несмотря на большую численность, боеспособность новгородского войска была низкой, и война с Москвой была непопулярна».

Выберите один из 4 вариантов ответа:

1)	Невская битва
2)	Ледовое побоище
3)	битва на р. Воже
4)	битва на р. Шелони

Задание №70

«В первые же годы своего правления князь добился того, что в Москву из Владимира была переведена митрополичья кафедра. Он сумел приобрести расположение митрополита Петра, так что этот святитель жил в Москве больше, чем в других местах. Пётр умер и был погребен в ней. Гроб святого мужа был для Москвы так же драгоценен,

как и пребывание живого святителя: выбор Петра казался внушением Божиим. Другие князья хорошо видели важные последствия этого явления и сердились; но поправить дело в свою пользу уже не могли. Во все продолжение своего правления князь ловко пользовался обстоятельствами, чтобы, с одной стороны, увеличить свои владения, с другой — оказывать влияние на князей в прочих русских землях. В этом помогала ему более всего начавшаяся вражда между Тверью и Ордой. Княживший в Твери князь Александр Михайлович принял участие в народном восстании, в котором тверичи убили Чол-хана и перебили всю его свиту. Узбек очень рассердился, узнав об участии Чол-хана, и, по некоторым известиям, послал за московским князем, но, по другим известиям, московский князь поехал в Орду сам, торопясь воспользоваться тверским происшествием. Узбек дал ему ярлык на великое княжение и 50 000 войска. Присоединив к себе еще князя суздальского, московский князь пошел в Тверскую волость; татары пожгли города и села, людей повели в плен и, по выражению летописца, положили пусту всю землю Русскую. Спаслись лишь Москва да Новгород, который дал татарским воеводам 2000 гривен серебра и множество даров. Александр бежал в Новгород, потом в Псков, но и оттуда его вынудили уехать в Литву. Обстоятельства продолжали благоприятствовать Москве....»

Используя отрывок, выберите в приведённом списке три верных суждения. Запишите в ответ цифры, под которыми они указаны.

Выберите несколько из 6 вариантов ответа:

1)	князя, о котором говорится в отрывке произведения современного автора, звали Дмитрий Донской
2)	события, связанные с восстанием в Твери, произошли в XIV в.
3)	перемещение кафедры митрополита из Владимира в Москву сделало её духовной столицей Руси
4)	карательного поход, в котором участвовали московские войска, серьёзно ослабил позиции тверских князей в качестве претендентов на Владимирский престол
5)	Чол-хан был наследником ханского престола в Золотой Орде
6)	из Литвы тверской князь Александр Михайлович возглавил поход против своего конкурента — московского князя

Задание №71

Прочтите отрывок из произведения средневекового автора.

«...Князь же великий, распределив полки, повелел им через Оку-реку переправляться и при казал каждому полку и воеводам: "Если же кто пойдет по Рязанской земле, — не коснитесь ни единого волоса!" И, взяв благословение от архиепископа коломенского, князь великий перешел реку Оку со всеми силами и отправил в поле третью заставу, лучших своих витязей, чтобы они сошлись со сторожей татарской в степи...<...> Князь же Олег Рязанский услышал, что князь великий соединился со многими силами и следует навстречу безбожному царю Мамаю да к тому же вооружен твердо своею верою, которую на бога-вседержителя, всевышнего творца, со всею надеждой возлагает. И начал остерегаться Олег Рязанский и с места на место переходить с единомышленниками своими, так говоря: "Вот если бы нам можно было послать весть об этой напасти к многоразумному Ольгерду Литовскому, узнать, что он об этом думает, да нельзя: перекрыли нам путь. Думал я по старинке, что не следует русским князьям на восточного царя подниматься, а теперь как все это понять? И откуда князю помощь такая пришла<...>, что смог против нас трех подняться?" Князь же Ольгерд Литовский, в согласии с прежним замыслом, собрал литовцев много и варягов, и жмуди и пошел на помощь Мамаю. И пришел к городу Одоеву, но, прослышав, что князь великий собрал

великое множество воинов, — всю русь и словен, да пошел к Дону против царя Мамай, — прослышав также, что Олег испугался, — и стал тут с тех пор недвижимо, и понял тщетность своих помыслов, о союзе своем с Олегом Рязанским теперь сожалел, метался и негодовал, говоря: "Если человеку не хватает своего ума, то напрасно чужого ума ищет: никогда ведь не бывало, чтобы Литву поучала Рязань! Ныне же свел меня с ума Олег, а сам и пуще погиб ".<...>

И князь великий приказал войску всему через Дон переправляться. Тогда начал князь великий Дмитрий Иванович с братом своим, князем Владимиром Андреевичем, и с литовскими князьями Андреем и Дмитрием Ольгердовичами вплоть до шестого часа полки расставлять. Некий воевода пришел с литовскими князьями, именем Дмитрий Боброк, родом из Волынской земли, который знатным был полководцем, хорошо он расставил полки, по достоинству, как и где кому подобает стоять. <...> Князь же великий, увидев свои полки достойно устроенными, сошел с коня своего и пал на колени свои прямо перед большого полка черным знаменем, на котором вышит образ владыки господа нашего Иисуса Христа, и из глубины души стал взывать громогласно: "О владыка-вседержитель! Взгляни пронизательным оком на этих людей, что твоею десницею созданы и твоею кровью искуплены от служения дьяволу».

Используя отрывок, выберите в приведённом списке три верных суждения. Запишите в ответ цифры, под которыми они указаны.

Выберите несколько из 6 вариантов ответа:

1)	князя Дмитрия Ивановича благословил на битву с ордынцами митрополит Киприан
2)	события, описываемые в отрывке, произошли во второй половине XIV в.
3)	властитель Орды Мамай был убит во время битвы
4)	рязанскому князю Олегу и литовскому князю Ольгерду не удалось принять участие в битве на стороне ордынцев
5)	победа князя Дмитрия Ивановича над Мамаем окончательно избавила русские земли от необходимости выплачивать Орде дань
6)	событие, описываемое в источнике, окончательно утвердило Москву в качестве политического центра объединяющихся русских земель

Задание №72

Назовите полководца, возглавившего русские войска в этом сражении

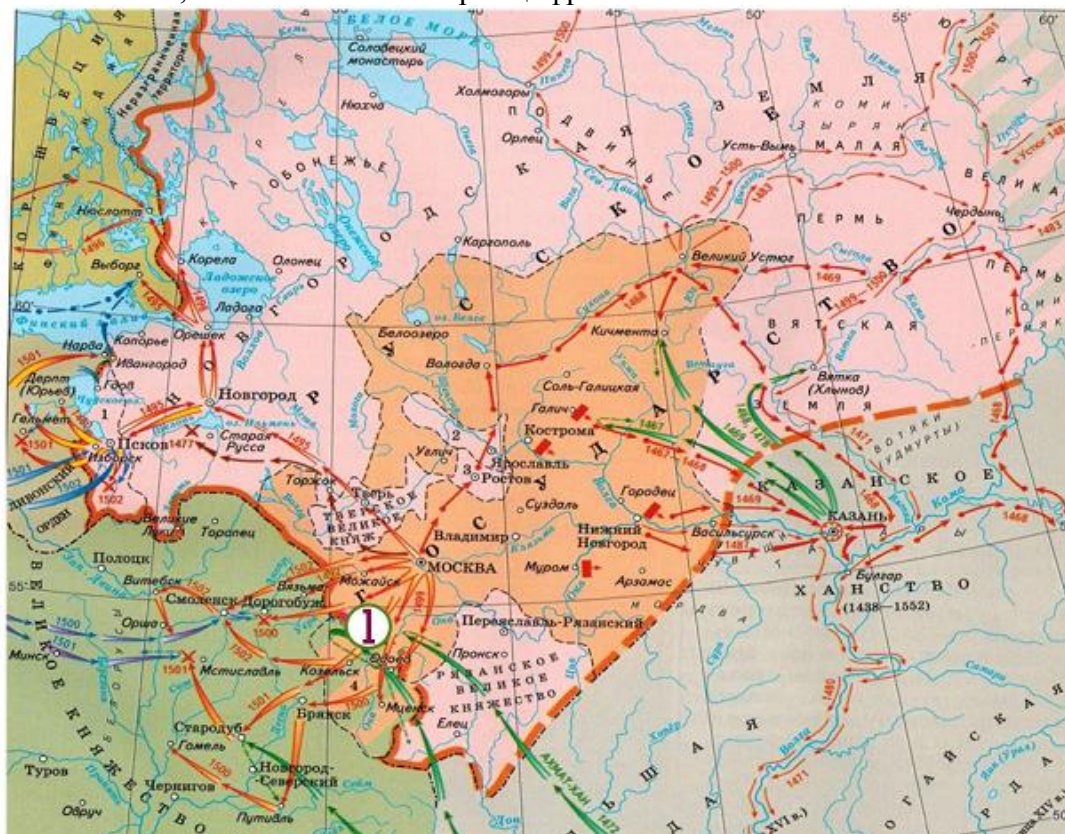


Выберите один из 4 вариантов ответа:

1)	Иван Калита
2)	Пересвет
3)	Дмитрий Донской
4)	Иван III

Задание №73

Укажите событие, обозначенное на карте цифрой 1

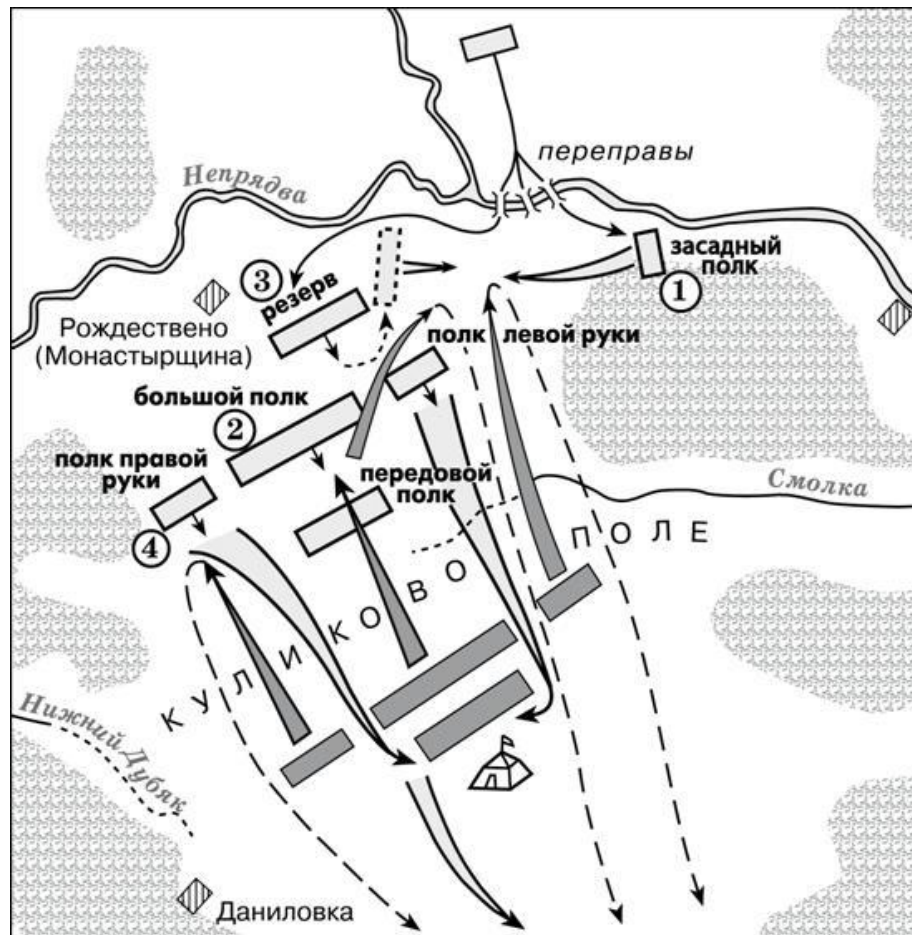


Выберите один из 4 вариантов ответа:

1)		Куликовская битва
2)		битва на р. Вожа
3)		Грюнвальдская битва
4)		стояние на Угре

Задание №74

Укажите цифру, которой на схеме обозначены действия полка под руководством князя Владимира Андреевича Серпуховского и воеводы Дмитрия Михайловича Боброк-Волынского.



Выберите один из 4 вариантов ответа:

1)		1
2)		2
3)		3
4)		4

Задание №75

Запишите имя князя, пропущенное в схеме.

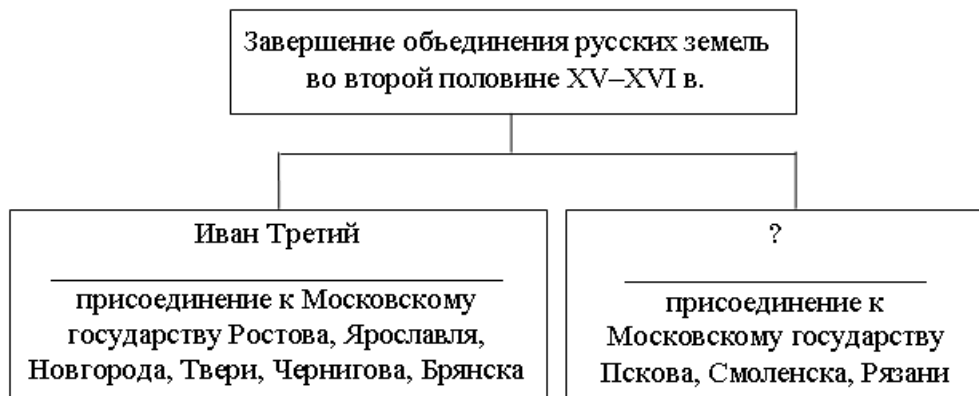


Запишите ответ:

1) Ответ:

Задание №76

Заполните пропуск в схеме.

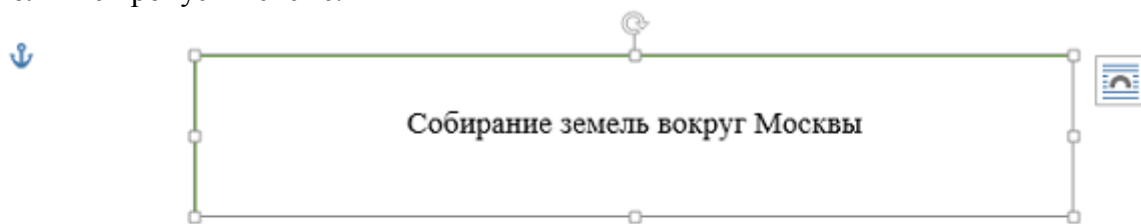


Запишите ответ:

1) Ответ:

Задание №77

Заполните пропуск в схеме.



Даниил Московский
Коломна

___?___
Новгород

Василий Третий
Смоленск

Запишите ответ:

1)	Ответ:	
----	--------	--

Задание №78

Укажите князя, пропущенного в схеме.



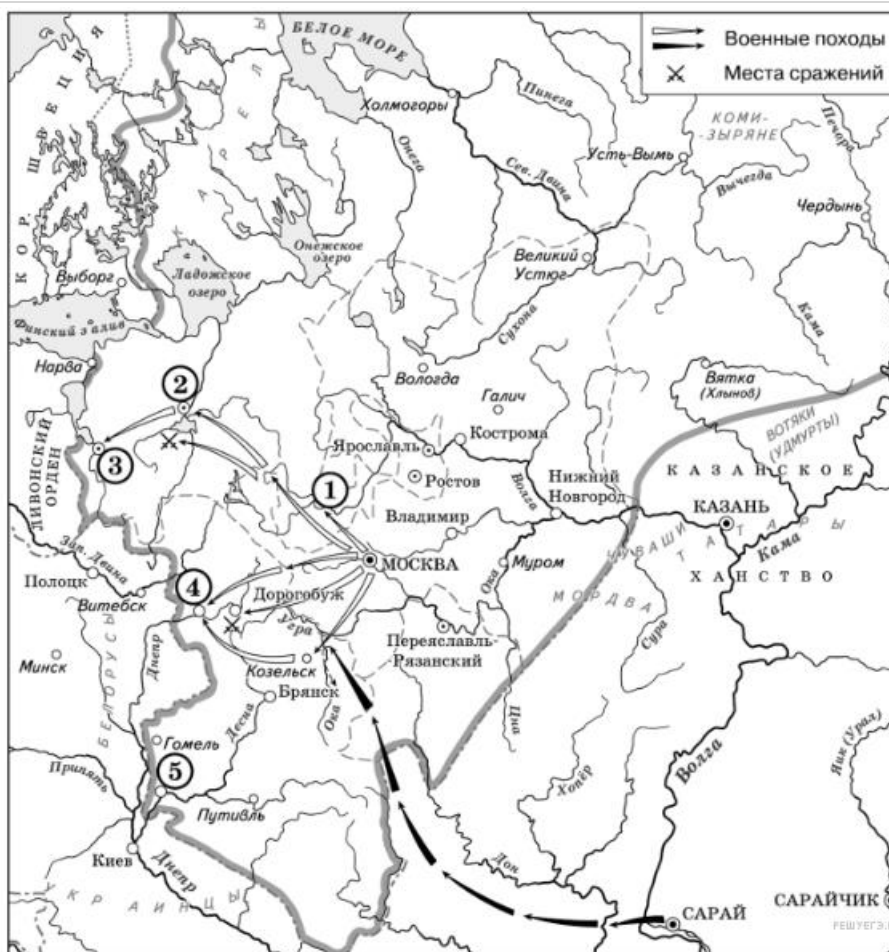
Запишите ответ:

1)	Ответ:	
----	--------	--

Задание №79

Рассмотрите схему и выполните задания

Какие суждения, относящиеся к данной схеме, являются верными? Выберите три суждения из шести предложенных.

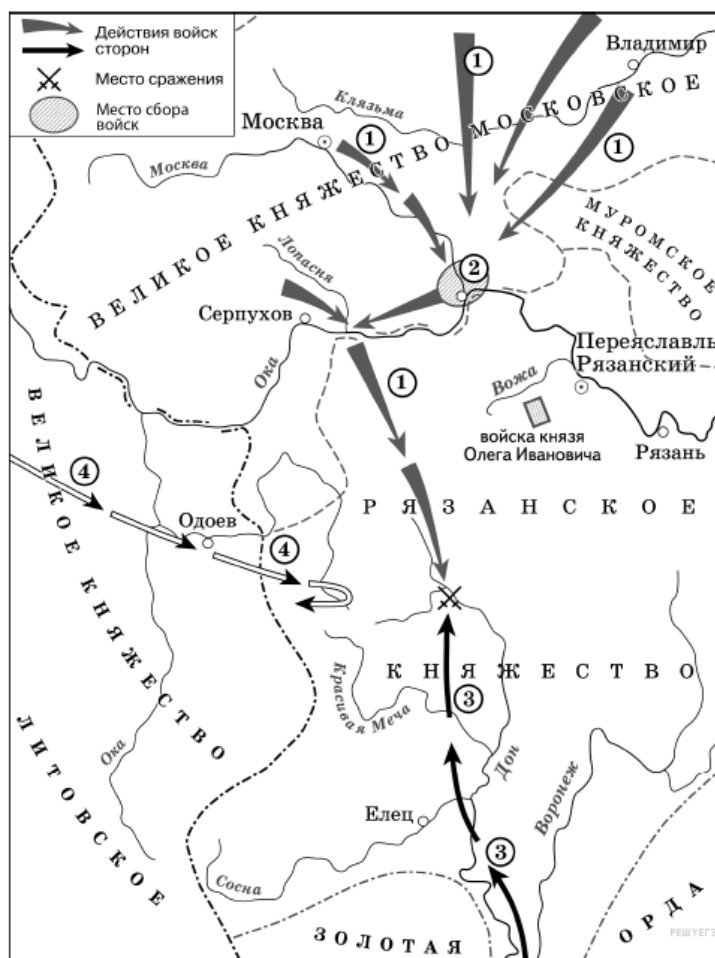


Выберите несколько из 6 вариантов ответа:

1)	В городах, обозначенных цифрами «2» и «3», до вхождения в состав единого Русского государства существовала республиканская форма правления.
2)	Следствием провала похода, обозначенного чёрными стрелками, стало освобождение Русского государства от ордынского ига.
3)	Город, обозначенный цифрой «1», вошёл в состав единого Русского государства в 1478 г.
4)	Ордынское войско в походе, обозначенном чёрными стрелками, возглавлял Мамай.
5)	Город, обозначенный цифрой «2», вошёл в состав единого Русского государства в 1485 г
6)	Города, обозначенные цифрами «4» и «5», были отвоёваны Русским государством у Великого княжества Литовского.

Задание №80

Какие суждения, относящиеся к исторической ситуации, обозначенной на схеме, являются верными? Выберите три суждения из шести предложенных.



Выберите несколько из 6 вариантов ответа:

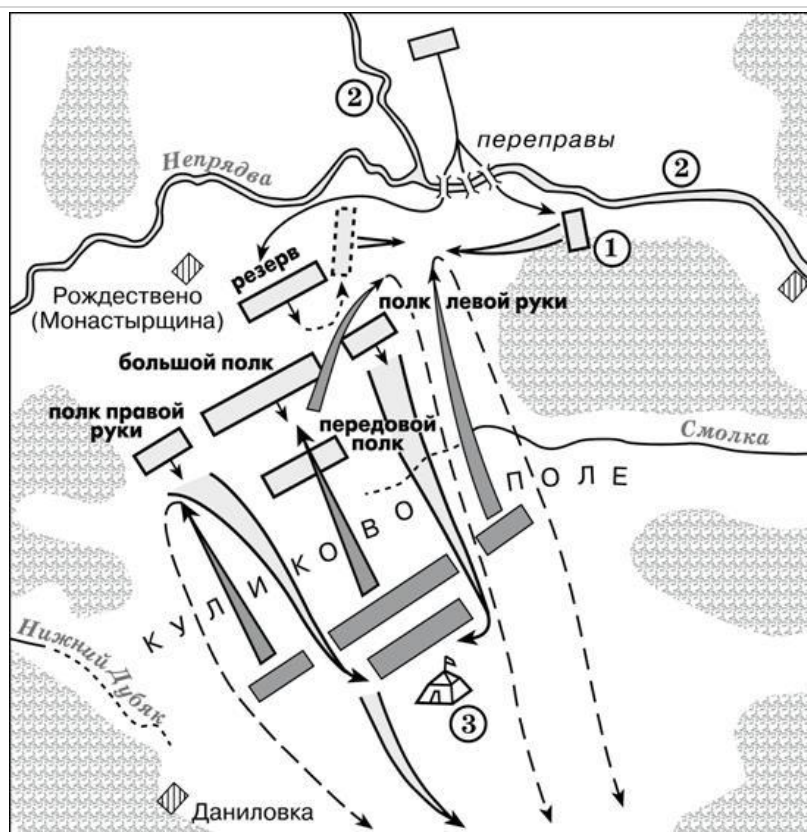
1)	Действиями войск, направление движения которых обозначено на схеме цифрой «1», руководил князь – основатель династии московских князей.
2)	Цифрой «4» на схеме обозначено направление движения войск под руководством литовского князя Ягайло.
3)	В результате сражения, обозначенного на схеме, на Руси было окончательно ликвидировано ордынское владычество
4)	В сражении, обозначенном на схеме, на стороне русских войск принимали участие войска рязанского князя.
5)	В период правления князя, руководившего действиями войск, обозначенных на схеме цифрой «1», были возведены белокаменные стены Московского Кремля.
6)	На схеме обозначена река, по названию которой было дано прозвище московскому князю, руководившему действиями русских войск, обозначенных на схеме цифрой «1».

Задание №81

Рассмотрите схему и выполните задания.

Какие суждения, относящиеся к битве, представленной на схеме, являются верными?

Выберите три суждения из шести предложенных.



Выберите несколько из 6 вариантов ответа:

1)	Готовясь к этой битве, русские войска переправились через реку, обозначенную на схеме цифрой «2».
2)	По преданию, на эту битву русского князя благословил Сергей Радонежский.
3)	Цифрой «3» на схеме обозначен стан хана Ахмата.
4)	Основной удар ордынцы направили на русский полк правой руки и потеснили его к реке Нижний Дубяк.
5)	После победы в этой битве князь получил в народе прозвание (почётное имя), образованное от названия реки, которая обозначена на схеме цифрой «2».
6)	После этой битвы Русь никогда не платила дани Золотой Орде.

Задание №82

Начало какого события иллюстрирует данное изображение?




Выберите один из 4 вариантов ответа:

1)	Невская битва
2)	битва на Чудском озере
3)	битва на Куликовом поле
4)	Грюнвальдская битва

Задание №83

Укажите имя правителя, при котором данный символ стал официальным гербом российского государства.



Выберите один из 4 вариантов ответа:

1)	Иван III
2)	Дмитрий Донской
3)	Иван Калита
4)	Василий I

Задание №84

Укажите событие, с которым связано данное изображение



Выберите один из 4 вариантов ответа:

1)	Грюнвальдская битва
2)	Жакерия
3)	осада Орлеана в ходе Столетней войны
4)	Куликовская битва

Задание №85

Укажите имя князя, изображённого на гравюре



Выберите один из 4 вариантов ответа:

1)	Дмитрий Донской
2)	Иван III
3)	Василий II Тёмный
4)	Иван Калита

Задание №86

К правлению какого князя относится изображение Московского кремля на картине А.М.Васнецова?




Выберите один из 4 вариантов ответа:

1)	Дмитрий Донской
2)	Иван III
3)	Иван Калита
4)	Василий III

Задание №87

Укажите век, в котором у правителя русского государства появилась эта государственная печать.



Выберите один из 4 вариантов ответа:

1)	XII в.
2)	XV в.
3)	XIV в.
4)	XIII в.

Задание №88

Укажите название города, с покорением которого и присоединением к Московскому княжеству связано данное изображение.



Выберите один из 4 вариантов ответа:

1)	Смоленск
2)	Новгород
3)	Переяславль
4)	Рязань

Задание №89

Расставьте события в хронологическом порядке

Укажите порядок следования всех 5 вариантов ответа:

1)	Стояние на р. Угре
2)	Куликовская битва
3)	Правление Ивана Калиты

4)		Присоединение Новгорода к Москве
5)		Создание Судебника

Задание №90

Расставьте события в хронологической последовательности

Укажите порядок следования всех 5 вариантов ответа:

1)		Жакерия во Франции
2)		Падение Византийской империи
3)		Восстание Уотта Тайлера
4)		Начало Столетней войны
5)		Гуситские войны

Задание №91

Назовите московского князя, получившего в управление территорию, границы которой обозначены на схеме.



Выберите один из 4 вариантов ответа:

1)		Даниил Александрович
2)		Дмитрий Донской
3)		Иван III
4)		Василий III

Задание №92

Укажите дату сражения, ход которого обозначен стрелками на схеме.

1)	борьба с тверскими князьями за ярлык на Владимирское княжение	1)	сходства
2)	укрепление Московского Кремля	2)	различия
3)	отказ от уплаты дани в Орду		
4)	объединение военных сил русских земель для решающего столкновения с ордынским войском		

Задание №95

Сравните обстоятельства присоединения к Московскому княжеству Новгорода и Твери.

Укажите соответствие для всех 4 вариантов ответа:

1)	присоединение к Московскому княжеству произошло в период правления Ивана III	1)	сходства
2)	группы горожан – противников присоединения к Московскому княжеству осуществляли попытки обратиться за поддержкой к Литве	2)	различия
3)	город был присоединён к Московскому государству после «стояния» на реке Угре		
4)	результате присоединения к Московскому государству в городе были ликвидированы вечевая форма управления и должность посадника		

Задание №96

Укажите город, в котором находится архитектурный памятник под номером 4



1)



2)



3)



4)

Запишите ответ:

1)

Ответ:

Задание №97

Укажите город, в котором находится архитектурный памятник под номером 1




1)



2)



3)



4)

Запишите ответ:

1)

Ответ:

Задание №98

Укажите номер, под которым находится Московский Успенский собор

1)



2)



3)



4)



Выберите один из 4 вариантов ответа:

1)	1
2)	2
3)	3
4)	4

Задание №99

Укажите номер, под которым находится Грановитая палата Московского кремля

1)



2)



3)



4)



Выберите один из 4 вариантов ответа:

1)		1
2)		2
3)		3
4)		4

Задание №100

Укажите порядковые номера, под которыми находятся русские памятники культуры

1)



2)



3)



4)



Запишите число:

1)	Ответ:	
----	--------	--

Задание №101

укажите порядковые номера, под которыми находятся русские архитектурные памятники



1)



2)



3)



4)

Запишите число:		
1)	Ответ:	

Примерные задания формирующие функциональную грамотность:

Прочтите отрывок из исторического источника и кратко ответьте на вопросы.

Из сочинения историка

«...стал великим князем по завещанию отца, чего ранее не бывало. Справедливости ради скажем, что выбор в итоге одобрил и хан Тохтамыш. Отметим, что хан сменил гнев на милость не по доброй воле. Страхась приближавшихся из Средней Азии войск непобедимого Тамерлана, он ублажал своего данника: отдал ему Нижегородское княжество и даже не гневался, когда осмелевший... запросил в придачу ещё Муром с другими городами.

Новый князь правил Москвой осторожно и расчётливо долгих 36 лет. И эти годы стали периодом укрепления власти великого московского князя. При нём мелкие князья начали забывать о своей прежней воле (насколько она была вообще возможна под ханской пятой) и постепенно превращались в великокняжеских слуг. Москва чеканила свою монету, заставила ранее освобождённую от дани церковь участвовать в платеже ханского "выхода". Хотя ... не был, в отличие от своего отца, победителя Мамая, отважным воином, но показал твёрдость в отношениях с Великим Новгородом, прибрав к рукам его северные владения. Рязань, долго соперничавшая с Москвой при смелом князе Олеге, теперь подпала под влияние Москвы. Время... оставило заметный след и в истории русской культуры. Именно при нём соборы в Кремле расписывал знаменитый Феофан Грек, прибывший из Византии сначала в Великий Новгород (его фрески там сохранились до нашего времени), а потом переселившийся в Москву».

1. Назовите имя князя, о котором идёт речь в отрывке.
2. Укажите года его правления.
3. Укажите особенности его правления основываясь на тексте (не менее трёх).