

Характеристика итоговой работы

МОДУЛЬ 4

«Северная Америка. Латинская и Южная Америка»

11 класс

(социально-экономический профиль)

1. Назначение работы: проверка достижения учащимися 11 класса уровня подготовки в ходе углубленного изучения предмета.
2. Основное содержание проверки: ориентировано на содержание ФГОС среднего общего образования.
3. Характеристика работы: в работе 28 заданий, которые расположены по нарастанию трудности (максимальный балл 37) Задания выполняются на основе карт атласа.

На задания 25, 26, 28 следует дать полный развёрнутый ответ. Ответы на эти задания записываются на отдельном листе или бланке. Запишите сначала номер задания, а затем ответ на него.

4. Характеристика заданий: 1) задания, требующие записать ответ в виде числа; 2) задания, требующие записать ответ в виде слова; 3) задания, требующие записать ответ в виде последовательности цифр, в том числе на установление соответствия географических объектов и их характеристик, с выбором нескольких правильных ответов из предложенного списка, на установление правильной последовательности элементов, а также задания, требующие вписать в текст на месте пропусков ответы из предложенного списка.


Включенные в работу задания проверяются знания географических явлений и процессов и умение анализировать географическую информацию, представленную в различных формах, умение анализировать географическую информацию, представленную в различных формах, способность применять полученные в школе географические знания для объяснения различных событий и явлений в повседневной жизни.

ВНИМАНИЕ! Банк заданий отсутствует. В таблице приведены примеры вопросов. В конце таблицы есть ответы на примерные вопросы.

РЕКОМЕНДАЦИЯ. Прорешайте примерные вопросы и сопоставьте с ответами в конце таблицы. Если Вы допустили ошибки, то повторите темы.

ОБОБЩЕННЫЙ ПЛАН РАБОТЫ
по предмету ГЕОГРАФИЯ
11 класс (социально-экономический профиль)
МОДУЛЬ 4: «Северная Америка. Латинская и Южная Америка»


№ задания	Блок содержания ¹	Деятельность учащихся ²	Типы заданий ³	Уровень сложности ⁴	<u>ВНИМАНИЕ!</u> Это не банк заданий. <u>Пример</u> вопроса в итоговой работе	<u>Балл Макс.</u> <u>- 37</u>
1	Географическое положение стран Северной Америки	Умение ориентироваться в картографическом пространстве по определению географического положения стран Северной Америки	ВО	Б	Выберите вариант, в котором верно указана особенность одного из названных штатов США: а) Нью-Йорк — «солнечный штат»; б) Иллинойс — «штат кактусов»; в) Техас — «штат ананасов и вулканов»; г) Мичиган — «Штат Великих Озёр»; д) Невада — «мастерская нации».	1
2	Особенности географического положения стран Латинской Америки	Умение ориентироваться в картографическом пространстве по определению географического положения стран Латинской Америки	ВО	Б	Какие страны Латинской Америки не имеют выход к океану? а) Боливия б) Венесуэла в) Перу г) Парагвай	1

3	Особенности географического положения стран Южной Америки	Умение ориентироваться в картографическом пространстве по определению географического положения стран Южной Америки	ВО	Б	 <p>Знаешь ли ты столицу Эквадора?</p>	1
4	Страны Латинской, Северной и Южной Америки	Знание специфики устройства и правления стран Северной, Латинской и Южной Америки	ВО	Б	<p>Какой штат США является самым большим по площади территории?</p> <p>а) Калифорния; б) Техас; в) Нью – Мексико; г) Аляска.</p>	1
5	Субрегионы стран Северной, Латинской и Южной Америки	Знание классификации стран Северной, Латинской и Южной Америки по субрегионам	СО, ВО	Б	<p>Государство Парагвай относится к субрегиону Латинской Америки:</p> <p>1) Средняя Америка; 2) Андские страны; 3) страны бассейна Ла-Платы.</p>	1
6	Типология стран Северной, Латинской и Южной Америки	Умение выделять страны по уровню социально-экономического развития	СО,ВО	Б	<p>Назовите мелкие «страны-квартиросдатчики».</p> <p>А) Мальта, Кипр, Панама. Б) Ватикан, Куба, Мальта. В) Кипр, Панама, Исландия</p>	1

7	Страны Северной, Южной и Латинской Америки на политической карте мира	Умение приводить примеры стран по различным географическим признакам	СО,КО	Б	<p>Установите соответствие между страной и её столицей: к каждому элементу первого столбца подберите соответствующий элемент из второго и внесите в строку ответов выбранные цифры под соответствующими буквами</p> <table style="width: 100%; border: none;"> <tr> <td style="text-align: center;">СТРАНА</td> <td style="text-align: center;">СТОЛИЦА</td> </tr> <tr> <td>А) Перу</td> <td>1) Буэнос-Айрес</td> </tr> <tr> <td>Б) Канада</td> <td>2) Оттава</td> </tr> <tr> <td>В) Аргентина</td> <td>3) Лима</td> </tr> <tr> <td></td> <td>4) Монреаль</td> </tr> </table>	СТРАНА	СТОЛИЦА	А) Перу	1) Буэнос-Айрес	Б) Канада	2) Оттава	В) Аргентина	3) Лима		4) Монреаль	1
СТРАНА	СТОЛИЦА															
А) Перу	1) Буэнос-Айрес															
Б) Канада	2) Оттава															
В) Аргентина	3) Лима															
	4) Монреаль															
8	Природно-ресурсный потенциал стран Северной Америки	умение оценить и рассчитать ресурсообеспеченность стран	ВО	Б	<p>Где концентрируются рудные полезные ископаемые?</p> <p>А) северная часть равнин Б) горы Аппалачи В) полуостров Флорида Г) полуостров Аляска</p>	1										
9	Природно-ресурсный потенциал стран Латинской Америки и Южной Америки	умение оценить и рассчитать ресурсообеспеченность стран	ВО	Б	<p>Более половины земельной площади в Латинской Америке занято:</p> <p>1) лесами; 2) пастбищами; 3) обрабатываемыми землями; 4) пустынями и высокогорьями.</p>	1										
10	Население Стран Северной Америки	Знание / понимание основных особенностей населения	ВО	Б	<p>Какие языки являются государственными в Канаде?</p> <p>А) испанский и английский Б) испанский и французский В) французский и английский Г) английский и португальский</p>	1										

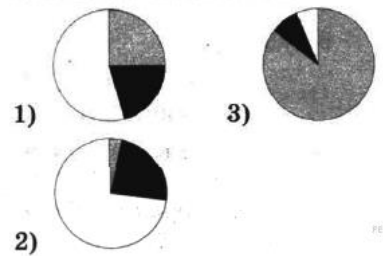
11	Население стран Южной и Латинской Америки	Умение выделять существенные признаки населения стран Азии	ВО	Б	Какие из названных городов образуют крупнейшие агломерации Латинской Америки и не являются морскими портами? а) Рио-де-Жанейро б) Лима в) Буэнос-Айрес г) Сан-Паулу д) Сантьяго	1
12	Хозяйство стран Северной Америки: промышленность	Умение выделять специализации стран	ВО	Б	Какое утверждение о Канаде является верным? А) Столица Канады - самый крупный город в стране Б) Канада выделяется, но объёмам выплавки цинка, меди, никеля В) На севере Канады развито пастбищное овцеводство Г) Канада является одной из крупнейших стран мира по численности населения	1
13	Хозяйство стран Северной Америки: сельское хозяйство	Умение выделять специализации стран	ВО	Б	Из перечисленных штатов назовите те, которые входят в «пшеничный пояс» а) Кентукки б) Индиана в) Небраска г) Миссури	1
14	Хозяйство стран Латинской Южной Америки:	Умение выделять специализации стран	ВО	Б	На какие страны Латинской Америки приходится 4/5 всей обрабатывающей промышленности региона? а) на Мексику, Аргентину и Чили	1

	промышленность				б) на Аргентину, Бразилию и Эквадор в) на Бразилию, Мексику и Венесуэлу г) на Аргентину, Бразилию и Мексику					
15	Хозяйство стран Латинской и Южной Америки: сельское хозяйство	Умение выделять специализации стран	ВО	Б	Найдите ошибку в перечне стран Латинской Америки, специализирующихся на экспорте кофе 1) Мексика; 2) Колумбия; 3) Куба; 4) Бразилия.	1				
16	Особенности стран субрегионов Америки	Умение выделять специализации стран субрегионов	СО	Б	Установите соответствие между странами Латинской Америки и их полезными ископаемыми. <table border="1" data-bbox="1279 635 1971 938"> <tr> <td>Страна:</td> <td>Полезное ископаемое:</td> </tr> <tr> <td>1. Венесуэла. 2. Чили. 3. Ямайка. 4. Боливия.</td> <td>А. Бокситы. Б. Оловянные руды. В. Медные руды. Г. Нефть.</td> </tr> </table>	Страна:	Полезное ископаемое:	1. Венесуэла. 2. Чили. 3. Ямайка. 4. Боливия.	А. Бокситы. Б. Оловянные руды. В. Медные руды. Г. Нефть.	2
Страна:	Полезное ископаемое:									
1. Венесуэла. 2. Чили. 3. Ямайка. 4. Боливия.	А. Бокситы. Б. Оловянные руды. В. Медные руды. Г. Нефть.									
17	Географическая характеристика стран Северной Америки	Знание географической специфики отдельных стран	ВО	Б	Какие из утверждений о США верны? Запишите цифры ответов в порядке возрастания порядкового номера, под которыми они указаны. 1) США по численности населения входят в первую пятерку стран мира 2) Большая часть электроэнергии в стране производится на ТЭС 3) США являются одним из крупных производителей и экспортеров кукурузы 4) Столица является самым крупным городом	2				

					в стране 5) В США находится национальный парк «Долина смерти»	
18	Географическая характеристика стран Латинской и Южной Америки	Знание географической специфики отдельных стран	ВО	Б	<p>Какие из утверждений о Бразилии верны? Запишите цифры ответов в порядке возрастания порядкового номера, под которыми они указаны.</p> <p>1) Бразилия является федеративной республикой. 2) Государственным языком Бразилии является испанский язык. 3) Главные промышленные центры Бразилии находятся во внутренних районах страны. 4) Бразилия — одна из ведущих стран мира по производству кофе. 5) Столица Бразилии — г. Бразилиа.</p>	2
19	Куба	Знание / понимание географических особенностей основных отраслей хозяйства, природы и населения	ВО	Б	<p>Кто преобладает в расовом составе Кубы?</p>  <p>1. Мулаты 2. Метисы</p>	1

					3. Негры 4. Китайцы	
20	Мексика	Знание / понимание географических особенностей основных отраслей хозяйства, природы и населения	ВО	Б	Как официально называется государство Мексика: а) Мексиканские Соединённые Штаты б) Объединенные мексиканские штаты в) Союз мексиканских штатов	1
21	Венесуэла, Аргентина	Знание / понимание географических особенностей основных отраслей хозяйства, природы и населения	ВО	Б	Какой город является столицей Кубы? 1. Сантьяго-де-Куба 2. Гавана 3. Варадеро	1
22	Бразилия	Знание / понимание географических особенностей основных отраслей хозяйства, природы и населения	ВО	Б	Какой город считается «экономической столицей» Бразилии? а) Бразилиа б) Рио- де- Жанейро в) Сан- Паулу г) Белу- Оризонти	1

23	Особенности стран Северной, Латинской и Южной Америки	Знание и понимание географических особенностей и их взаимосвязи	КО	П	<p>Прочитайте приведённый ниже текст, в котором пропущен ряд слов (аббревиатур). Выберите из предлагаемого списка слова (аббревиатуры), которые необходимо вставить на место пропусков.</p> <p>Географические особенности Бразилии</p> <p>Бразилия — это крупнейшая по площади и территории страна Латинской Америки. Она занимает первое место в своем регионе по _____ (А). Государственным языком в стране является _____ (Б). Страна очень богата разнообразными природными ресурсами. Большая часть электроэнергии вырабатывается на _____ (В). Кроме отраслей промышленности в стране хорошо развито и сельскохозяйственное производство.</p> <p>Выбирайте последовательно одно слово (аббревиатуры) за другим, мысленно вставляя на места пропусков слова (аббревиатур) из списка в нужной форме. Обратите внимание на то, что слов (аббревиатур) в списке больше, чем Вам потребуется для заполнения пропусков. Каждое слово (аббревиатура) может быть использовано только один раз.</p> <p>Список слов (аббревиатур):</p> <ol style="list-style-type: none">1) ТЭС;2) ГЭС;3) АЭС;4) испанский;	2
----	---	---	----	---	---	---

					<p>5) португальский; 6) английский; 7) численность населения; 8) плотность населения.</p>	
24	<p>Страны Европы, Зарубежной Азии, и стран Америки: география основных отраслей производственной и непроизводственной сфер</p>	<p>Умение определять и сравнивать по источникам географической информации тенденций развития социально-экономических объектов и процессов</p>	СО	Б	<p>Установите соответствие между страной и диаграммой, отражающей распределение ее экономически активного населения по секторам экономики: к каждой позиции, данной в первом столбце, подберите соответствующую позицию из второго столбца.</p> <p>■ – промышленность ■ – сельское хозяйство □ – сфера услуг</p> <p>СТРАНА</p> <p>А) Бельгия Б) Мексика В) Нигер</p> <p>РАСПРЕДЕЛЕНИЕ ЭКОНОМИЧЕСКИ АКТИВНОГО НАСЕЛЕНИЯ</p>  <p>1) 3)</p> <p>2)</p> <p>ИЛИ</p> <p>Установите соответствие между страной и статистическими данными, отражающими распределение её ВВП по секторам экономики: к каждой позиции, данной в первом столбце, подберите соответствующую позицию из второго столбца.</p>	1

					<p>СТРАНА</p> <p>РАСПРЕДЕЛЕНИЕ ВВП ПО СЕКТОРАМ ЭКОНОМИКИ</p> <p>А) Италия 1) Сфера услуг — 58 %.</p> <p>Б) Венесуэла Промышленность — 37 %.</p> <p>В) Бенин Сельское хозяйство — 5 %</p> <p>2) Сфера услуг — 51 %.</p> <p>Промышленность — 23 %.</p> <p>Сельское хозяйство — 26 %</p> <p>3) Сфера услуг — 74 %.</p> <p>Промышленность — 24 %.</p> <p>Сельское хозяйство — 2 %</p>																						
на листочке	25 Особенности населения стран Северной, Южной и Латинской Америки	Устанавливать причинно-следственные связи с использованием приобретенных знаний и умений в практической деятельности для объяснения разнообразных явлений	РО	П	<p>Используя данные таблицы, объясните, почему за последние 25 лет доля лиц старше 65 лет в возрастной структуре населения Мексики значительно увеличилась. Укажите две причины. Если Вы укажете более двух причин, оцениваться будут только две, указанные первыми.</p> <p>Демографические показатели Мексики</p> <table border="1"> <thead> <tr> <th>ПОКАЗАТЕЛЬ</th> <th>1985 г.</th> <th>2010 г.</th> </tr> </thead> <tbody> <tr> <td>Численность населения, млн человек</td> <td>76,7</td> <td>110,6</td> </tr> <tr> <td>Доля лиц старше 65 лет, %</td> <td>3</td> <td>6</td> </tr> <tr> <td>Рождаемость</td> <td>31</td> <td>19</td> </tr> <tr> <td>Смертность, %</td> <td>6</td> <td>6</td> </tr> <tr> <td>Сальдо миграции, %</td> <td>-3</td> <td>-4</td> </tr> <tr> <td>Средняя продолжительность</td> <td>69</td> <td>76</td> </tr> </tbody> </table>	ПОКАЗАТЕЛЬ	1985 г.	2010 г.	Численность населения, млн человек	76,7	110,6	Доля лиц старше 65 лет, %	3	6	Рождаемость	31	19	Смертность, %	6	6	Сальдо миграции, %	-3	-4	Средняя продолжительность	69	76	2
ПОКАЗАТЕЛЬ	1985 г.	2010 г.																									
Численность населения, млн человек	76,7	110,6																									
Доля лиц старше 65 лет, %	3	6																									
Рождаемость	31	19																									
Смертность, %	6	6																									
Сальдо миграции, %	-3	-4																									
Средняя продолжительность	69	76																									

					жизни, лет Доля городского населения, %	75	77																						
26 на листочке	Особенности социально-экономического развития Зарубежной Азии и Европы	Умение определять и сравнивать по источникам географической информации тенденций развития социально-экономических объектов и процессов	КО	П	Используя данные таблицы, приведенной ниже, сравните долю сельского хозяйства в ВВП и долю сельского хозяйства в общем объеме экспорта Австралии и Колумбии. Сделайте вывод о том, в какой из этих стран сельское хозяйство играет большую роль в экономике. Для обоснования своего ответа запишите необходимые числовые данные или вычисления. Социально-экономические показатели Развития Австралии и Колумбии в 2007 г.	<table border="1"> <thead> <tr> <th rowspan="2">Страна</th> <th colspan="6">Отраслевая структура ВВП, %</th> </tr> <tr> <th>Объем ВВП, млрд долл.</th> <th>Сельское хоз-во</th> <th>Сфера услуг</th> <th>Промышленность</th> <th>Общий объем экспорта, млрд долл.</th> <th>Объем сельскохозяйственного экспорта, млрд долл.</th> </tr> </thead> <tbody> <tr> <td>Австралия</td> <td>667</td> <td>4</td> <td>70</td> <td>26</td> <td>117</td> <td>20</td> </tr> </tbody> </table>			Страна	Отраслевая структура ВВП, %						Объем ВВП, млрд долл.	Сельское хоз-во	Сфера услуг	Промышленность	Общий объем экспорта, млрд долл.	Объем сельскохозяйственного экспорта, млрд долл.	Австралия	667	4	70	26	117	20	3
Страна	Отраслевая структура ВВП, %																												
	Объем ВВП, млрд долл.	Сельское хоз-во	Сфера услуг	Промышленность	Общий объем экспорта, млрд долл.	Объем сельскохозяйственного экспорта, млрд долл.																							
Австралия	667	4	70	26	117	20																							

					Колумбия 367 12 53 35 25 5	
27	Характеристика стран Северной, Южной и Латинской Америки	Умение работать с текстом и анализировать его	КО	П	Определите страну по ее краткому описанию. Эта страна — вторая по площади территории на материке, расположена в трех климатических поясах. Длительное время (в течение трех веков) она оставалась испанской колонией. Природные ресурсы разнообразны: имеются запасы нефти, природного газа, руд цветных металлов, плодородные степные почвы. Особенностью страны является высокий уровень ее урбанизации (83%). В столице проживает почти половина ее населения.	1
28 на листочке	Страны Северной, Латинской и Южной Америки	Умение строить логическое рассуждение, умозаключение и делать вывод	РО	П	Чем обусловлен высокий уровень урбанизации в странах Латинской Америки? С какими проблемами сталкиваются жители городов?	2

Блок содержания1 – прописывается тема, входящая в итоговую работу, тема может повторяться в нескольких номерах заданий

Проверяемые элементы содержания2 – описываются проверяемые знания и умения по каждому блоку содержания

Типы заданий3 – ВО – задания с выбором ответа (одиночный выбор, множественный выбор, точка на изображении); КО – задания с кратким ответом (ручной ввод числа, ручной ввод текста, перестановка букв, заполнение пропусков); СО – задания на соотнесение (сопоставление, указание порядка, истина/ложь); РО – задания с развернутым ответом (для итоговой работы по профильному предмету во второй части)

Уровень сложности задания4 – Б – базовый уровень; П – повышенный уровень

ОТВЕТЫ НА ПРИМЕРНЫЕ ВОПРОСЫ (САМОПРОВЕРКА)

№\№ вопроса	ОТВЕТ	Балл
1.	г	1
2.	аг	1
3.	Кито	1
4.	г	1
5	3	1
6.	а	1
7.	а3б2в1.	1
8.	а	1
9.	а	1
10.	в	1
11.	б	1
12.	б	1
13.	г	1
14.	г	1
15.	3	1
16.	1г2в3а4б	2
17.	1235.	2
18.	145.	2
19.	2	2
20.	А	1
21.	2	1
22	в	1
23.	А — 7 — по численности населения;	2

	Б — 5 — португальский; В — 2 — ГЭС.	
24	А) Бельгия — 2. Б) Мексика — 1. В) Нигер — 3	1
25.	1) Уменьшение рождаемости ИЛИ уменьшение доли детей. 2) Увеличение средней продолжительности жизни.	2
26.	Сельское хозяйство играет большую роль в экономике Колумбии. 1. Доля сельского хозяйства в ВВП Колумбии в три раза больше, чем в Австралии (4% - в Австралии, 12% - в Колумбии). 2. Кроме этого, доля сельского хозяйства в экспорте Колумбии — 0,2, а это больше, чем в Австралии — 0,17.	2
27.	Аргентина	1
28.	Латинская Америка относится к числу регионов с быстрым ростом населения (около 20%), что обуславливает молодость жителей в большинстве государств. Причем если в начале XX в. увеличение доли городского населения региона происходило в основном за счет притока иммигрантов из Европы, то во второй половине прошлого века оно было вызвано внутренними миграциями, связанными с индустриализацией и нерешенностью аграрного вопроса. Жители городов сталкиваются с проблемами неравенства доходов и бедности.	3
МАКСИМАЛЬНОЕ КОЛИЧЕСТВО БАЛЛОВ:37		