

Материалы  
для подготовки к тестированию История 9 класс М-3 (профильный уровень)

Тема: Россия в последнюю четверть XIX в. начало XX в.

Банк заданий

**Задание №1**

Установление хронологической последовательности

Укажите порядок следования всех 4 вариантов ответа:

- |    |                                      |
|----|--------------------------------------|
| 1) | издание нового Земского положения    |
| 2) | Тильзитский мир                      |
| 3) | вступление Александра III на престол |
| 4) | введение золотого рубля              |

**Задание №2**

Установление хронологической последовательности

Укажите порядок следования всех 4 вариантов ответа:

- |    |                             |
|----|-----------------------------|
| 1) | Парижский мирный договор    |
| 2) | Введение золотого рубля     |
| 3) | Второй съезд РСДРП          |
| 4) | заключение союза с Францией |

**Задание №3**

Установление хронологической последовательности

Укажите порядок следования всех 4 вариантов ответа:

- |    |   |
|----|---|
| 1) | Издание нового Университетского устава  |
| 2) | издание «Положения о мерах к охранению государства и общественного спокойствия» |
| 3) | Манифест об утверждении законосовещательной Государственной думы                |
| 4) | Манифест об освобождении крестьян   |

**Задание №4**

Установление хронологической последовательности

Укажите порядок следования всех 4 вариантов ответа:

- |    |   |
|----|---|
| 1) | «Кровавое воскресенье»                        |
| 2) | введение золотого рубля                       |
| 3) | восстание декабристов                         |
| 4) | поражение русского флота в Цусимском сражении |

**Задание №5**

Установление хронологической последовательности

Укажите порядок следования всех 4 вариантов ответа:

- |    |  |
|----|--|
| 1) | Закон о выборах в Государственную думу |
| 2) | «Кровавое воскресенье»                 |
| 3) | введение военных поселений             |
| 4) | Второй съезд РСДРП                     |

### Задание №6

Установите соответствие между событиями и датами:

Укажите соответствие для всех 3 вариантов ответа:

1)		Бородинское сражение	1)	9.01.1905
2)		Заключение союза с Францией	2)	26.08.1812
3)		Образование группы «Освобождение труда»	3)	1894
			4)	1883

### Задание №7

Выберите два правильных утверждения:

Экономический курс министров финансов Н. Бунге и И. Вышнеградского характеризуется

Выберите несколько из 6 вариантов ответа:

1)		повышением таможенных пошлин для ввозимых товаров
2)		увеличением подушной подати
3)		оздоровлением финансовой системы страны
4)		ограничением вывоза отечественных товаров за границу
5)		запретом привлечения иностранных инвестиций
6)		усиление контроля государства над предпринимательством

### Задание №8

Выберите два правильных утверждения:

Экономическое развитие России конца XIX века характеризуется

Выберите несколько из 6 вариантов ответа:

1)		появлением мануфактур
2)		складыванием внутреннего рынка
3)		значительным увеличением протяженности железных дорог
4)		началом международной торговли
5)		государственной защитой отечественного производителя
6)		широкой приватизацией

### Задание №9

Выберите из списка права и свободы, которые провозглашал Манифест «Об усовершенствовании государственного порядка» 17 октября 1905 г.

Выберите несколько из 6 вариантов ответа:

1)		отмена сословий
2)		свобода слова
3)		свобода совести
4)		равенство мужчин и женщин
5)		свобода собраний
6)		право на труд

### Задание №10

Выберите из списка места сухопутных сражений Русско-японской войны 1904-1905 гг.

Выберите несколько из 6 вариантов ответа:

1)	Цусимское сражение
2)	Мукден
3)	Ляоян
4)	Далянь
5)	Инчхон
6)	Тюренчен

### Задание №11

Какие три положения относятся к внутренней политике Александра III?

Выберите несколько из 6 вариантов ответа:

1)	увеличение представительства дворянства в земствах
2)	предоставление автономии Польше
3)	ликвидация мирового суда
4)	создание Крестьянского и Дворянского Поземельных банков
5)	предоставление автономии университетам
6)	разработка по поручению императора конституционных проектов

### Задание №12

Выберите из списка организации, в программе которых содержались марксистские идеи.

Выберите несколько из 6 вариантов ответа:

1)	Российская социал-демократическая партия
2)	«Народная воля»
3)	Конституционно-демократическая партия
4)	«Земля и воля»
5)	группа «Освобождение труда»
6)	«Союз борьбы за освобождение рабочего класса»

### Задание №13

Какие три из перечисленных положений характеризуют внутреннюю политику России 1880-х годов?

Выберите несколько из 6 вариантов ответа:

1)	возрастание роли реформаторов в правительстве
2)	свёртывание либеральных реформ
3)	ужесточение цензуры
4)	усиление принципа сословности в образовании
5)	рост крестьянского движения
6)	освобождение крестьян от крепостной зависимости

### Задание №14

Какие три из перечисленных событий связаны с революцией 1905—1907 гг.?

Выберите несколько из 6 вариантов ответа:

1)	Октябрьская политическая стачка
2)	созыв Учредительного собрания
3)	«Кровавое воскресенье»

4)		нота Милюкова
5)		созыв I Государственной думы
6)		режим «двоевластия»

#### **Задание №15**

Какие три из перечисленных реформ были осуществлены в царствование Николая II?

Выберите несколько из 6 вариантов ответа:

1)		реформа управления государственными крестьянами П. Д. Киселёва
2)		аграрная реформа П. А. Столыпина
3)		денежная реформа Е. Ф. Канкрин
4)		учреждение Государственной думы
5)		денежная реформа С. Ю. Витте
6)		создание Высшего совета народного хозяйства

#### **Задание №16**

Какие три условия были включены в Портсмутский договор между Россией и Японией (1905 г.)?

Выберите несколько из 6 вариантов ответа:

1)		выплата Японией крупной контрибуции России
2)		признание Кореи сферой японских интересов
3)		передача Японии права аренды Порт-Артура
4)		закрепление за Россией прав на Курильские острова
5)		передача Японии южной части Сахалина
6)		признание Маньчжурии сферой русских интересов

#### **Задание №17**

Выберите из списка три события, относящихся к русско-японской войне

Выберите несколько из 6 вариантов ответа:

1)		сражение в порту Чемульпо
2)		Брусилловский прорыв
3)		сражение на р. Халхин-Гол
4)		Цусимское сражение
5)		сражение в Синопской бухте
6)		оборона Порт-Артура

#### **Задание №18**

Что из перечисленного относится к итогам Первой российской революции 1905–1907 гг.?  
Выберите три верных ответа

Выберите несколько из 6 вариантов ответа:

1)		создание Государственной думы
2)		национализация всех помещичьих земель
3)		ликвидация сословий и гражданских чинов
4)		свержение монархии, установление республики
5)		разрешение создавать политические партии
6)		отмена выкупных платежей

#### **Задание №19**

Какие три из перечисленных событий относятся к периоду Первой российской революции 1905–1907 гг.?

Выберите несколько из 6 вариантов ответа:

1)	Декабрьское вооружённое восстание в Москве
2)	отречение Николая II
3)	убийство П. А. Столыпина
4)	Всероссийская октябрьская политическая стачка
5)	учреждение Совета Народных Комиссаров
6)	восстание на броненосце «Князь Потёмкин-Таврический»

### Задание №20

Какие три из перечисленных понятий связаны со Столыпинской аграрной реформой? Запишите в таблицу цифры, под которыми они указаны.

Выберите несколько из 6 вариантов ответа:

1)	отруб
2)	переселенческая политика
3)	хутор
4)	мировой посредник
5)	национализация
6)	вольные хлебопашцы

### Задание №21

Какие три из перечисленных положений могут быть отнесены к итогам революции 1905–1907 гг.?

Выберите несколько из 6 вариантов ответа:

1)	отмена выкупных платежей
2)	социализация земли
3)	свержение монархии
4)	создание Государственной Думы
5)	ликвидация сословий
6)	разрушение общины

### Задание №22

Какие приведённые характеристики соответствуют положению русского крестьянства 1890-х гг.? Выберите три ответа

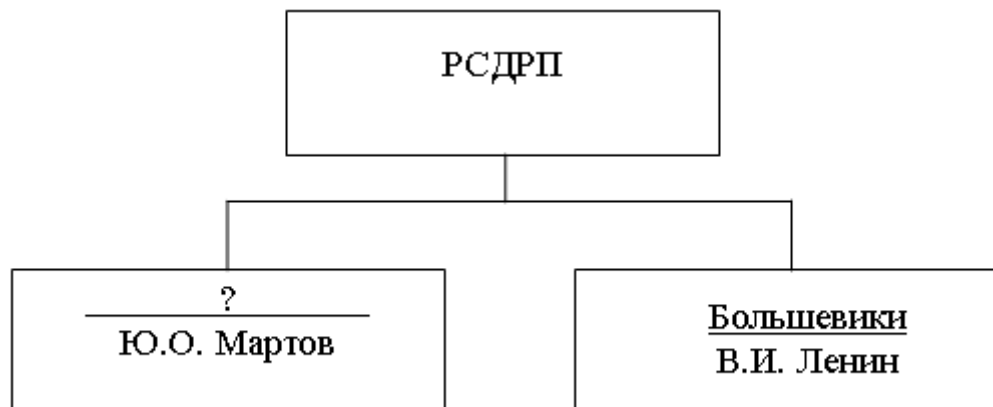
Выберите несколько из 6 вариантов ответа:

1)	существование Крестьянского поземельного банка, способствующего приобретению крестьянами земли
2)	уплата крестьянами подушной подати
3)	отбывание крестьянами барщины
4)	отсутствие у крестьян права приобретать недвижимость
5)	выплата крестьянами выкупных платежей
6)	существование крестьянской поземельной общины

### Задание №23

Запишите слово, пропущенное в схеме.

Ответ запишите со строчной буквы во мн.ч.



Запишите ответ:

1) Ответ:

### Задание №24

Запишите слово, пропущенное в схеме.

Ответ запишите со строчной буквы во мн.ч.



Запишите ответ:

1) Ответ:

### Задание №25

Запишите имя, пропущенное в генеалогической схеме.



Запишите ответ:

### Задание №26

Запишите слово, пропущенное в схеме.

Ответ запишите со строчной буквы без пробелов



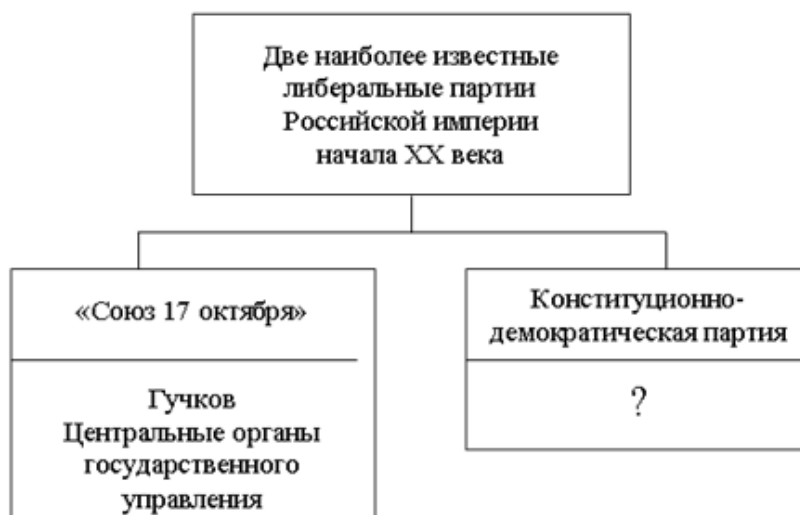
Запишите ответ:

1) Ответ:

### Задание №27

Запишите слово, пропущенное в схеме.

Ответ запишите со строчной буквы



Запишите ответ:

1) Ответ:

### Задание №28

Рассмотрите монету и выполните задание.

Событие, юбилею которого посвящена эта монета, произошло в годы правления



Выберите один из 4 вариантов ответа:

- |    |                |
|----|----------------|
| 1) | Николая I      |
| 2) | Александра II  |
| 3) | Александра III |
| 4) | Николая II     |

### Задание №29

Рассмотрите монету и выполните задание.



Укажите год, когда отмечался юбилей события, которому посвящена данная марка.



Выберите один из 4 вариантов ответа:

- |    |         |
|----|---------|
| 1) | 1948 г. |
| 2) | 1953 г. |
| 3) | 1957 г. |
| 4) | 1967 г. |

### Задание №30

Рассмотрите рисунок и выполните задание.

Рисунок посвящён событиям





Выберите один из 4 вариантов ответа:

1)	1861 г.
2)	1864 г.
3)	1905 г.
4)	1917 г.

### Задание №31

Используя данные таблицы, завершите представленные ниже суждения, соотнеся их начала и варианты завершения.

*Основные капиталы и прибыли российских железных дорог в 1904 г.*

Железные дороги	Московско-Киевская	Рязанско-Уральская	Юго-Восточная
Основные капиталы (в руб.)	8 812 904	6 621 071	19 696 000
Прибыль (в руб.)	2 204 705	7 253 987	12 462 611

<u>НАЧАЛО СУЖДЕНИЯ</u>	<u>ВАРИАНТЫ ЗАВЕРШЕНИЯ СУЖДЕНИЯ</u>
Наибольшую прибыль на 1 руб. основного капитала получала	была равна их основным капиталам
Наибольшим основным капиталом обладала	Московско-Киевская железная дорога
Суммарная прибыль представленных в таблице дорог	Рязанско-Уральская железная дорога
	была меньше их основных капиталов
	Юго-Восточная

Запишите число:

Не задан ответ!

### Задание №32

Используя данные таблицы, завершите представленные ниже суждения, соотнеся их начала и варианты завершения.

*Земельные владения представителей разных сословий в Российской империи в конце XIX – начале XX в. (в десятинах)*

Годы	Дворянство	Купечество	Крестьянство
1877 г.	73 076 789	9 789 883	5 787 570
1905 г.	52 103 861	12 687 754	12 671 069

<u>НАЧАЛО СУЖДЕНИЯ</u>	<u>ВАРИАНТЫ ЗАВЕРШЕНИЯ СУЖДЕНИЯ</u>
Наибольшими темпами в данный период росли земельные владения	сократились
В 1905 г. земельные владения крестьян были почти равны владениям	купечества
Земельные владения дворян к 1905 г.	крестьян
	выросли
	дворян

Запишите число:

### Задание №33

Используя данные таблицы, завершите представленные ниже суждения, соотнеся их начала и варианты завершения.

*Структура основных государственных расходов России и Германии за 1895 г. (% в бюджете)*

Статьи расходов	Военные	Народное просвещение	Юстиция
Россия	25,3	4,5	2,8
Германия	44,3	8,9	0,2

<u>НАЧАЛО СУЖДЕНИЯ</u>	<u>ВАРИАНТЫ ЗАВЕРШЕНИЯ СУЖДЕНИЯ</u>
Военные расходы составляли почти половину основных государственных расходов	в России
Доля расходов на просвещение в России	была почти в два раза меньше
Доля расходов на юстицию в России	в обеих странах
	в Германии
	была больше в 14 раз

Запишите число:

### Задание №34

Используя данные таблицы, завершите представленные ниже суждения, соотнесите их начала и варианты завершения. !!!!!

*Структура основных государственных доходов России и Англии за 1895 г. (% в бюджете)*

Виды доходов	Питейный доход	Таможенный доход	Подходный налог
Россия	24,0	14,5	–
Англия	25,5	22,0	18,0

Запишите число:

### Задание №35

Используя данные таблицы, завершите представленные ниже суждения, соотнесите их начала и варианты завершения.

*Выплавка чугуна в России во второй половине XIX в., млн пудов*

Годы	Урал	Юг	Остальные районы
1867 г.	11,0	0,005	5,92
1897 г.	41,0	46,0	26

<u>НАЧАЛО СУЖДЕНИЯ</u>	<u>ВАРИАНТЫ ЗАВЕРШЕНИЯ СУЖДЕНИЯ</u>
Наиболее быстрыми темпами в данный период росла выплавка чугуна	на Юге
Доля Урала в общем объеме производства чугуна к 1897 г.	выросла
В 1867 г. больше всего чугуна выплавляли	на Урале
	сократилась
	в остальных районах

Запишите число:

### Задание №36

Используя данные статистической таблицы, завершите представленные ниже суждения, соотнесите их начала и варианты завершения.

*Инвестиции различных стран в экономику России (млн руб.)*

Год	Франция	Англия	Германия
1880	31,4	30,1	29,8
1890	66,6	35,3	79,0

<u>НАЧАЛО СУЖДЕНИЯ</u>	<u>ВАРИАНТЫ ЗАВЕРШЕНИЯ СУЖДЕНИЯ</u>
К 1890 г. преобладающими в экономике России стали	увеличились
К концу XIX в. иностранные инвестиции в российскую экономику	германские инвестиции
Наиболее слабой динамикой в конце XIX в. характеризовались	английские инвестиции
	французские инвестиции
	сократились

Запишите число:

### Задание №37

Запишите термин, о котором идёт речь.

«Ежегодные погашения крестьянами части денежной суммы, выплаченной правительством за получение в собственность крестьянских наделов в ходе Крестьянской реформы 1861 г. Отменены в 1906–1907 гг.»

Запишите ответ:

1)

Ответ:

### Задание №38

Название земельного участка, выделяемого из общинной земли в ходе Столыпинской аграрной реформы в единоличную крестьянскую собственность, без переноса крестьянской усадьбы.

Запишите ответ:

1)

Ответ:

### Задание №39

Запишите термин, о котором идёт речь.

Становление и развитие в государстве органов законодательной власти как самостоятельного политического института, формирующегося путём выборов.

Запишите ответ:

1)

Ответ:

### Задание №40

Запишите термин, о котором идёт речь.

Коренной и резкий переворот в общественно-политических отношениях, насильственным путём приводящий к смене общественного строя.

Запишите ответ:

1)

Ответ:

### Задание №41

Запишите термин, о котором идёт речь.

Форма капиталистических монополий, при которой все объединяющиеся предприятия теряют свою коммерческую и производственную самостоятельность и подчиняются единому управлению.

Запишите ответ:

1)

Ответ:

### Задание №42

Запишите термин, о котором идёт речь.

Форма или стадия капитализма вызвавшая развитие картелей и монополий, способных контролировать, а также ограничивать действие рынка свободной конкуренции

Запишите ответ:

1)

Ответ:

### Задание №43

Запишите термин, о котором идёт речь.

Политическая система, опирающаяся на конституцию и конституционные методы правления.

Запишите ответ:

1)	Ответ:	
----	--------	--

#### Задание №44

Запишите термин, о котором идёт речь.

Процесс роста городов и удельного веса городского населения, а также повышение роли городов в жизни общества

Запишите ответ:

1)	Ответ:	
----	--------	--

#### Задание №45

Запишите термин, о котором идёт речь.

Единовременное прекращение рабочими труда на предприятии с предъявлением администрации определённых требований, касающихся условий труда

Запишите ответ:

1)	Ответ:	
----	--------	--

#### Задание №46

Запишите термин, о котором идёт речь.

Политическая система, при которой существует множество политических партий, борющихся за получение большинства мест в парламенте страны.

Запишите ответ:

1)	Ответ:	
----	--------	--

#### Задание №47

Запишите термин, о котором идёт речь.

Форма объединения фирм, компаний, банков, которые договариваются о размерах производства, рынках сбыта, ценах, сохраняя при этом производственную самостоятельность.

Запишите ответ:

1)	Ответ:	
----	--------	--

#### Задание №48

Запишите термин, о котором идёт речь.

Форма объединения предприятий, формально сохраняющих самостоятельность, но фактически подчинённых централизованному финансовому контролю и руководству.

Запишите ответ:

1)	Ответ:	
----	--------	--

#### Задание №49

Запишите термин, о котором идёт речь.

Правое крыло, выделившееся в 1903 году внутри РСДРП, с 1917 г. самостоятельная партия.

Запишите ответ:

1)	Ответ:	
----	--------	--

#### Задание №50

Запишите термин, о котором идёт речь.

Крупная политическая партия либерального направления в Российской империи, организованная в 1905 г, состоящая преимущественно из крупных помещиков и крупной торговой промышленной буржуазии.

Запишите ответ:

1)	Ответ:	
----	--------	--

### Задание №51

Запишите термин, о котором идёт речь.

Члены, возглавляемой В.И. Лениным фракции РСДРП, выделившиеся внутри партии в противовес меньшевикам.

Запишите ответ:

1) Ответ:

### Задание №52

Прочитайте четыре предложения. Два из них являются тезисами (положениями, которые требуется аргументировать). Другие два содержат факты, которые могут послужить для аргументации этих тезисов. Подберите для каждого из тезисов соответствующий ему факт. Запишите номера соответствующих предложений

- 1) Правом на свободу собраний и союзов, дарованными Манифестом 19 октября 1905 г. поспешили воспользоваться деятели общественного движения.
- 2) Во время революции оформились либеральные партии.
- 3) Происходит оформление политических партий.
- 4) В октябре 1905 г. состоялся учредительный съезд кадетов.

Ответ	Номер предложения, содержащего			
	Тезис 1	Факт 1	Тезис 2	Факт 2

Ответ запишите цифрами, например: 1421

Запишите число:

1) Ответ:

### Задание №53

Прочитайте четыре предложения. Два из них являются тезисами (положениями, которые требуется аргументировать). Другие два содержат факты, которые могут послужить для аргументации этих тезисов. Подберите для каждого из тезисов соответствующий ему факт. Запишите номера соответствующих предложений

- 1) В октябре 1904 г. развернулась кампания по празднованию 40-летия судебной реформы.
- 2) Кампания получила название – банкетной.
- 3) Министр финансов С.Ю. Витте считал первоочередными экономические реформы.
- 4) В ближайшем окружении императора существовали различные точки зрения на перспективы развития России.

Ответ	Номер предложения, содержащего			
	Тезис 1	Факт 1	Тезис 2	Факт 2

Ответ запишите цифрами, например: 1421

Запишите число:

1) Ответ:

### Задание №54

Прочитайте четыре предложения. Два из них являются тезисами (положениями, которые требуется аргументировать). Другие два содержат факты, которые могут послужить для аргументации этих тезисов. Подберите для каждого из тезисов соответствующий ему факт. Запишите номера соответствующих предложений

- 1) Александра III вполне справедливо называли миротворцем
- 2) Особенно ярко проявилась политика попечительства при Александре III по отношению к рабочим.
- 3) В России появилась система рабочего законодательства.

4) Для внешней политики Александра III были характерны сдержанность, осторожность, стремление избегать войн.

Ответ	Номер предложения, содержащего			
	Тезис 1	Факт 1	Тезис 2	Факт 2

Ответ запишите цифрами, например: 1421

Запишите число:

1) Ответ:

### Задание №55

Прочитайте четыре предложения. Два из них являются тезисами (положениями, которые требуется аргументировать). Другие два содержат факты, которые могут послужить для аргументации этих тезисов. Подберите для каждого из тезисов соответствующий ему факт. Запишите номера соответствующих предложений

- 1) На первое место Н. Х. Бунге ставил задачу реформирования налоговой системы.
- 2) Политика Александра III была направлена на борьбу с «губительными последствиями» либеральных реформ Александра II.
- 3) Н.Х Бунге ввёл налоги на наследство и заграничные паспорта.
- 4) В 1880-1890 –е гг. император проводит ряд консервативных мер, как бы перечёркивая либеральные реформы 1860-1870 х гг.

Ответ	Номер предложения, содержащего			
	Тезис 1	Факт 1	Тезис 2	Факт 2

Ответ запишите цифрами, например: 1421

Запишите число:

1) Ответ:

### Задание №56

Ниже приведён перечень терминов. Все они, за исключением одного, обозначают монополистические объединения промышленников.

- 1) *концерн*; 2) *синдикат*; 3) *трест*; 4) *курия*; 5) *картель*.

Найдите и запишите порядковый номер термина, «выпадающего» из данного ряда.

Запишите число:

1) Ответ:

### Задание №57

Ниже приведён перечень терминов. Все они, за исключением одного, характеризуют социально-экономическое развитие России в начале XX в.

- 1) *синдикат*; 2) *индустриализация*; 3) *акционерный банк*; 4) *монополия*; 5) *обязанные крестьяне*.

Запишите число:

1) Ответ:

### Задание №58

Найдите и запишите порядковый номер термина, «выпадающего» из данного ряда.

Ниже приведён перечень терминов. Все они, за исключением одного, являются названиями партий и фракций, участвовавших в работе Государственной думы в начале XX в.

- 1) *трудовики*; 2) *западники*; 3) *кадеты*; 4) *октябристы*; 5) *эсеры*.

Запишите число:

1) Ответ:

### Задание №59

Найдите и запишите порядковый номер термина, «выпадающего» из данного ряда.  
Ниже приведён перечень терминов. Все они, за исключением одного, обозначают сословия.  
1) дворянство; 2) казачество; 3) крестьянство; 4) земство; 5) купечество.

Запишите число:

1) Ответ:

### Задание №60

Ниже приведён перечень терминов. Все они, за исключением одного, относятся к периоду правления Александра III.

1) земские начальники; 2) выкупные платежи; 3) Крестьянский банк; 4) земства; 5) вольные хлебопашцы.

Запишите число:

1) Ответ:

### Задание №61

Ниже приведён перечень терминов. Все они, за исключением одного, характеризуют экономическое развитие Российской империи в период правления Николая II.

1) золотой стандарт; 2) иностранные инвестиции; 3) синдикат; 4) месячина; 5) многоукладность экономики.

Запишите число:

1) Ответ:

### Задание №62

Ниже приведён перечень терминов, названий. Все они, за исключением одного, обозначают представителей общественных движений.

1) первоапрельцы; 2) петрашевцы; 3) папанинцы; 4) чернопередельцы; 5) декабристы.

Запишите число:

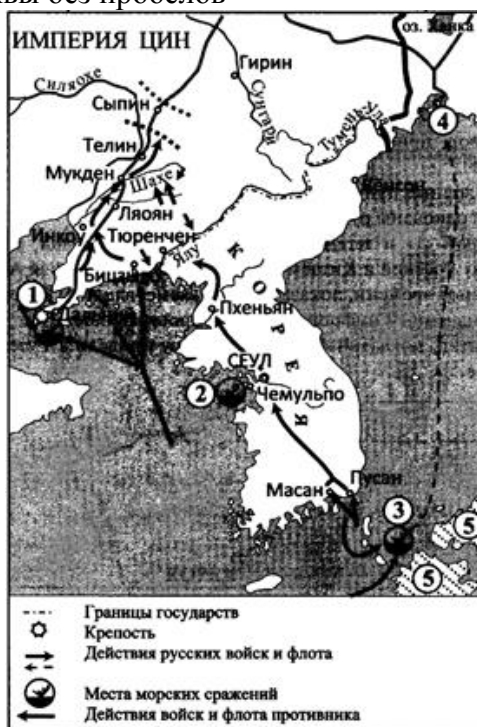
1) Ответ:

### Задание №63

Рассмотрите карту и выполните задания

Укажите имя правителя, в период правления которого происходили указанные события.

Ответ запишите со строчной буквы без пробелов





Запишите ответ:

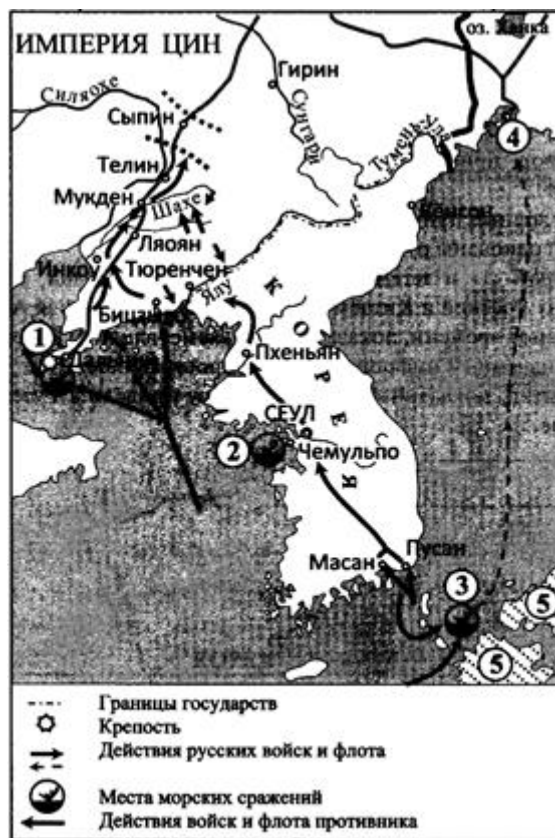
1)

Ответ:

### Задание №64

Рассмотрите карту и выполните задания.

Назовите страну, обозначенную на карте цифрой 5, с которой Россия вела войну.



Запишите ответ:

1)

Ответ:

### Задание №65

Прочитайте текст и запишите пропущенную в тексте фамилию.

«Чиновник проявил себя и как искусный дипломат — в 1905 году при его участии был заключен Портсмутский мирный договор между Россией и Японией. Документ был подписан \_\_\_\_\_, за что он получил прозвище «графа полусахалинского». В договоре не получили отражения главные японские требования, включая уплату огромной контрибуции, уступку всего Сахалина и передачу Японии пребывавших в нейтральных портах русских военных судов. Витте отказался выполнить эти требования и только по указанию из Петербурга согласился на передачу японцам половины острова».

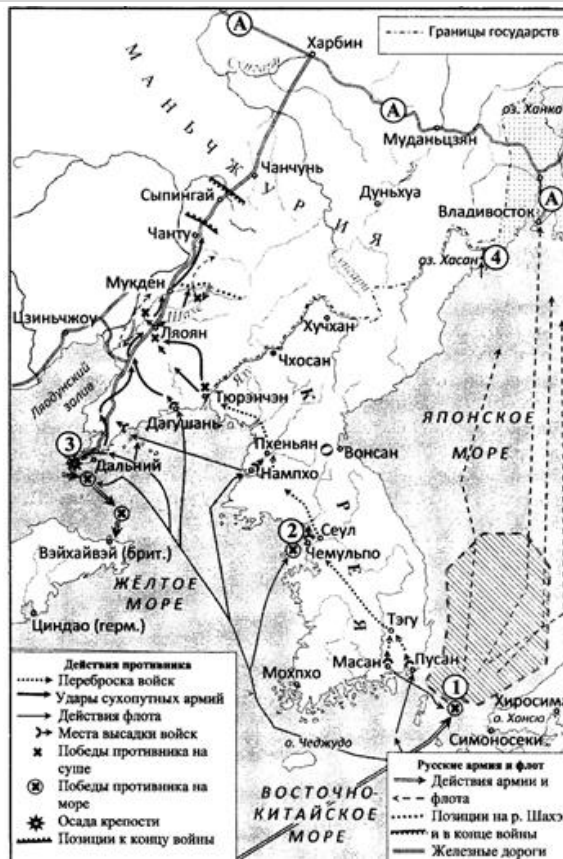
Запишите ответ:

1)

Ответ:

### Задание №66

Рассмотрите карту и выполните задания



Запишите число:

1)

Ответ:

### Задание №67

Назовите фамилию адмирала, командовавшего эскадрой, базировавшейся в пункте, обозначенной на схеме цифрой «3».



Запишите ответ:

1)

Ответ:

### Задание №68

*Прочитайте текст и запишите пропущенное в тексте географическое название.*

А все начиналось 17 февраля, когда японские войска подошли к \_\_\_\_\_. Куропаткин, получив сведения о том, что из-под Порт-Артура к Ойяме уже подходят дивизии Ноги с многочисленной артиллерией и что откладывать наступление до сосредоточения японцами всех сил нельзя, решил выступить немедленно и 21 февраля отдал следующее распоряжение: «Признавая подготовительные действия к наступательным операциям законченными, предлагаю армиям атаковать противника... Атаку начинает 2-я армия. Первым днем наступления назначаю 12 февраля (25 февраля н.ст.). Первоначальной целью наступления я ставлю оттеснение японских армий за Тайцзыхе с нанесением им поражения. Первоначальным предметом действий выбираю армию Оку. Способом для действий определяю охват левого фланга расположения армии Оку».

*Ответ запишите со строчной буквы.*

Запишите ответ:

1)

Ответ: