

География\_8 кл\_база\_Модуль 1.  
**БАНК ЗАДАНИЙ**

Группа: **Введение. ГП и его виды**

**Задание №1**

Вставить вместо пробелов слова

Заполните пропуски:

Природно-географическое положение-это положение страны относительно [            ],[            ].

**Задание №2**

Вставить вместо пробелов слова

Заполните пропуски:

Экономико-географическое положение - это положение страны относительно [            ] объектов, имеющих значение для развития ее крупных научных и финансовых центров, продовольственных и ресурсных баз, рынков сбыта, центров трудовых ресурсов и научно технических кадров , центров рекреации и тд

**Задание №3**

Вставить вместо пробелов слова

Заполните пропуски:

Эколого-географическое положение –это положение страны по отношению к[            ] очагам загрязнения.

**Задание №4**

Вставить вместо пробелов слова

Заполните пропуски:

Историко-географическое положение фиксирует изменения географического положения России и ее отдельных регионов на разных этапах [            ] развития страны.

Группа: **географическое положение России**

**Задание №5**

Россия расположена в

Выберите один из 4 вариантов ответа:

1)	Северном и Западном полушариях
2)	Северном и Восточном полушариях
3)	Северном, Восточном и Западном полушариях
4)	Северном полушарии

#### Задание №6

Укажите полушария, в которых расположена Россия.

Выберите один из 4 вариантов ответа:

1)	Северное, Восточное
2)	Северное, Западное
3)	Северное, Южное
4)	Северное, Западное, Восточное

#### Задание №7

В каком полушарии Россия не находится?

Выберите один из 4 вариантов ответа:

1)	в Северном
2)	в Южном
3)	в Западном
4)	в Восточном

#### Задание №8

Какая параллель пересекает Россию?

Выберите один из 4 вариантов ответа:

1)	экватор
2)	Северный тропик
3)	Северный полярный круг
4)	Южный полярный круг

Группа: предметные знания

#### Задание №9

Крайняя западная материковая точка

Выберите один из 4 вариантов ответа:

1)	коса в Балтийском море
2)	мыс Флигели
3)	мыс Челюскин
4)	Базардюзю

**Задание №10**

Крайняя южная материковая точка

Выберите один из 4 вариантов ответа:

1)		мыс Дежнева
2)		мыс Флигели
3)		мыс Челюскин
4)		Базардюзю

**Задание №11**

Крайняя северная материковая точка

Выберите один из 4 вариантов ответа:

1)		мыс Дежнева
2)		мыс Флигели
3)		мыс Челюскин
4)		Базардюзю

**Задание №12**

Крайняя восточная материковая точка

Выберите один из 4 вариантов ответа:

1)		мыс Дежнева
2)		мыс Флигели
3)		мыс Челюскин
4)		Базардюзю

Группа: **океаны и моря**

**Задание №13**

Какой океан не омывает берега России?

Выберите один из 4 вариантов ответа:

1)		Атлантический
2)		Индийский
3)		Северный Ледовитый
4)		Тихий

**Задание №14**

Какой океан омывает берега России на востоке?

Выберите один из 4 вариантов ответа:

1)		Атлантический
----	--	---------------

2)	Северный Ледовитый
3)	Тихий
4)	Индийский

**Задание №15**

Моря, омывающие Россию с севера

Выберите один из 3 вариантов ответа:

1)	Белое, Баренцево, Карское
2)	Берингово, Карское, Лаптевых
3)	Балтийское, Черное, Белое

**Задание №16**

По какой реке проходит условная граница между Европой и Азией?

Выберите один из 4 вариантов ответа:

1)	по Волге
2)	по Енисею
3)	по Эмбе
4)	по Дону

**Задание №17**

Государства, имеющие с Россией только морскую границу

Выберите один из 3 вариантов ответа:

1)	Норвегия и Япония
2)	Япония и Китай
3)	Япония и США

**Задание №18**

С какой страной граница России начинается с берега Баренцева моря?

Выберите один из 3 вариантов ответа:

1)	с Финляндией
2)	с Норвегией
3)	с Эстонией

**Задание №19**

Река, по которой проходит государственная граница России с Китаем

Выберите один из 4 вариантов ответа:		
1)		Амур
2)		Терек
3)		Волга
4)		Кур

Группа: **соответствие**

Задание №20			
Поставьте в соответствие страну и границу			
Укажите соответствие для всех 3 вариантов ответа:			
1)	Япония	1)	морская
2)	США	2)	сухопутная
3)	Монголия		

Задание №21			
Найдите соответствие между крайними точками России и их расположением:			
Укажите соответствие для всех 4 вариантов ответа:			
1)	северная	1)	мыс Дежнева
2)	южная	2)	мыс Челюскин
3)	западная	3)	гора Базардюзю
4)	восточная	4)	песчаная коса (Куршская) к западу от Калининграда

Группа: **вид и географические особенности границы**

Задание №22		
Какое из перечисленных морей, омывающих побережье России, является самым большим и глубоким?		
Выберите один из 4 вариантов ответа:		
1)		Балтийское
2)		Белое
3)		Берингово
4)		Чёрное

Задание №23	
Какие из перечисленных островов входят в состав территории Российской Федерации?	
Выберите один из 4 вариантов ответа:	

1)	архипелаг Шпицберген
2)	архипелаг Северная Земля
3)	Алеутские острова
4)	Марианские острова

**Задание №24**

Какие из перечисленных островов входят в состав территории Российской Федерации?

Выберите один из 4 вариантов ответа:

1)	Алеутские острова
2)	архипелаг Шпицберген
3)	Балеарские острова
4)	архипелаг Земля Франца-Иосифа

**Задание №25**

По акватории какого из перечисленных морей проходит морская Государственная граница Российской Федерации?

Выберите один из 4 вариантов ответа:

1)	Японское
2)	Средиземное
3)	Южно-Китайское
4)	Северное

**Задание №26**

По акватории какого из перечисленных морей проходит морская Государственная граница Российской Федерации?

Выберите один из 4 вариантов ответа:

1)	Белое
2)	Берингово
3)	Красное
4)	Северное

Группа: **границы государства**

**Задание №27**

На границе с какой из перечисленных стран находится крайняя западная точка территории России?

Выберите один из 4 вариантов ответа:

1)	Финляндия
2)	Украина
3)	Эстония
4)	Польша

**Задание №28**

Крайняя южная точка России расположена на территории

Выберите один из 4 вариантов ответа:

1)	Республики Дагестан
2)	Республики Алтай
3)	Краснодарского края
4)	Приморского края

**Задание №29**

С каким из перечисленных государств Россия имеет сухопутную границу?

Выберите один из 4 вариантов ответа:

1)	Узбекистан
2)	Афганистан
3)	Турция
4)	Азербайджан

**Задание №30**

На границе с какой из перечисленных стран находится крайняя западная точка территории России?

Выберите один из 4 вариантов ответа:

1)	Польша
2)	Финляндия
3)	КНДР
4)	Белоруссия

**Задание №31**

С какой страной СНГ Россия не имеет общей границы?

Выберите один из 4 вариантов ответа:

1)	с Украиной
2)	с Молдавией
3)	с Азербайджаном
4)	с Белоруссией

**Задание №32**

С какой страной Россия имеет самую протяженную границу?

Выберите один из 4 вариантов ответа:

1)		с Казахстаном
2)		с Китаем
3)		с Монголией
4)		с Украиной

**Задание №33**

С какой страной Россия не имеет общей границы?

Выберите один из 4 вариантов ответа:

1)		с Грузией
2)		с Арменией
3)		с Азербайджаном
4)		с Норвегией

**Задание №34**

Самая длинная граница России с

Выберите один из 4 вариантов ответа:

1)		Монголией
2)		Китаем
3)		Казахстаном
4)		Украиной

**Задание №35**

С какой из перечисленных стран Россия имеет сухопутную границу?

Выберите один из 4 вариантов ответа:

1)		Молдавия
2)		Венгрия
3)		Белоруссия
4)		Армения

Группа: классификация

**Задание №36**

заполните пропуски

Заполните пропуски:

Границы подразделяются по виду на сухопутные и [            ].



**Задание №37**

заполните пропуски

Заполните пропуски:

Границы подразделяются по виду на [ ] и морские.

**Задание №38**

заполните пропуски

Заполните пропуски:

Сухопутные границы бывают равнинные и [ ].

**Задание №39**

заполните пропуски

Заполните пропуски:

Сухопутные границы бывают [ ] и горные.

Группа: **сравнение по географическому положению****Задание №40**

С положением России по отношению к экватору более всего сходно географическое положение

Выберите один из 4 вариантов ответа:

1)		Канады
2)		США
3)		Кубы
4)		Китая

**Задание №41**

С положением России по отношению к экватору более всего сходно географическое положение

Выберите один из 4 вариантов ответа:

1)		Австралийского Союза
2)		США
3)		Канадой
4)		Китаем

Группа: **соседи 1 порядка****Задание №42**

Соседями России 1-го порядка являются

Выберите один из 4 вариантов ответа:

1)		Украина и Молдавия
2)		Молдавия и Белоруссия

3)	Белоруссия и Казахстан
4)	Казахстан и Узбекистан

**Задание №43**

Соседями России 1-го порядка являются

Выберите один из 4 вариантов ответа:

1)	Азербайджан и Словакия
2)	Молдавия и Белоруссия
3)	Белоруссия и Казахстан
4)	Казахстан и Узбекистан

**Задание №44**

Соседями России 1-го порядка являются

Выберите один из 4 вариантов ответа:

1)	Китай и КНДР
2)	Молдавия и Белоруссия
3)	Украина и Молдавия
4)	Казахстан и Узбекистан

**Задание №45**

Соседями России 1-го порядка являются

Выберите один из 4 вариантов ответа:

1)	Китай Монголия
2)	Молдавия и Армения
3)	Украина и Молдавия
4)	Казахстан и Таджикистан

Группа: соседи 2 порядка

**Задание №46**

Соседями России 2-го порядка являются

Выберите один из 4 вариантов ответа:

1)	Китай и Казахстан
2)	Молдавия и Белоруссия
3)	Украина и Молдавия
4)	Армения и Узбекистан

**Задание №47**

Соседями России 2-го порядка являются		
Выберите один из 4 вариантов ответа:		
1)		Казахстан и КНДР
2)		Молдавия и Белоруссия
3)		Грузия и Молдавия
4)		Армения и Кыргызстан

<b>Задание №48</b>		
Соседями России 2-го порядка являются		
Выберите один из 4 вариантов ответа:		
1)		Армения и Казахстан
2)		Молдавия и Белоруссия
3)		Польша и Молдавия
4)		Белоруссия и Финляндия

<b>Задание №49</b>		
Соседями России 2-го порядка являются		
Выберите один из 4 вариантов ответа:		
1)		Китай и Казахстан
2)		Молдавия и Норвегия
3)		Украина и Молдавия
4)		Армения и Узбекистан

Группа: **географическое положение. суждения**

<b>Задание №50</b>		
Верно ли утверждение		
А. Государственная территория России включает воздушное пространство над ее территориальными водами		
Б. территориальные воды России –это полоса вдоль ее морских берегов		
Выберите один из 4 вариантов ответа:		
1)		верно только А
2)		верно только Б
3)		оба верны
4)		оба неверны

<b>Задание №51</b>		
Верно ли утверждение		

А. Государственная территория России включает недра под территориальными водами

Б. Исключительная экономическая зона России –это полоса вдоль ее морских берегов шириной около 22 км

Выберите один из 4 вариантов ответа:

1)		верно только А
2)		верно только Б
3)		оба верны
4)		оба неверны

#### Задание №52

Верно ли утверждение

А. Государственная территория России включает воздушное пространство над ее территориальными водами

Б. Исключительная экономическая зона России –это полоса вдоль ее морских берегов шириной около 22 км

Выберите один из 4 вариантов ответа:

1)		верно только А
2)		верно только Б
3)		оба верны
4)		оба неверны

#### Задание №53

Верно ли утверждение

А. Государственная территория России включает экономическую зону в 200 миль

Б. территориальные воды России –это полоса вдоль ее морских берегов

Выберите один из 4 вариантов ответа:

1)		верно только А
2)		верно только Б
3)		оба верны
4)		оба неверны

Группа: утверждения о России

#### Задание №54

Какие утверждения о ГП России верны?

Выберите несколько из 4 вариантов ответа:		
1)		Территория России расположена в двух частях света
2)		Крайняя западная точка России имеет западную долготу
3)		территория России омывается водами четырех океанов
4)		Более половины территории страны относится к зоне Севера

<b>Задание №55</b>		
Какие утверждения о ГП России верны?		
Выберите несколько из 4 вариантов ответа:		
1)		Территория России расположена на одном материке
2)		Крайняя западная точка России имеет западную долготу
3)		территория России омывается водами четырех океанов
4)		Более половины территории страны относится к зоне Севера

<b>Задание №56</b>		
Какие утверждения о ГП России верны?		
Выберите несколько из 4 вариантов ответа:		
1)		Территория России расположена в двух частях света
2)		Крайняя западная точка России имеет западную долготу
3)		территория России омывается водами четырех океанов
4)		Россия занимает 1 место по площади

<b>Задание №57</b>		
Какие утверждения о ГП России верны?		
Выберите несколько из 4 вариантов ответа:		
1)		Россия занимает 6 место по площади
2)		Крайняя восточная точка России имеет западную долготу
3)		территория России омывается водами трех океанов
4)		Россия занимает 3 место по площади

Группа: **крайние точки**

<b>Задание №58</b>		
По две крайние материковые точки территория России имеет на		
Выберите один из 4 вариантов ответа:		
1)		юге и западе
2)		западе и востоке
3)		востоке и севере
4)		севере и юге

**Задание №59**

Какая из крайних точек территории России имеет западную долготу?

Выберите один из 4 вариантов ответа:

1)		северная
2)		южная
3)		западная
4)		восточная

**Задание №60**

Любая из точек на территории России имеет

Выберите один из 4 вариантов ответа:

1)		западную долготу
2)		восточную долготу
3)		северную широту
4)		южную широту

**Задание №61**

Ни одна точка на территории России НЕ имеет

Выберите один из 4 вариантов ответа:

1)		западной долготы
2)		восточной долготы
3)		северной широты
4)		южной широты

Группа: **часовые пояса**

**Задание №62**

К экватору ближе расположены:

Выберите один из 3 вариантов ответа:

1)		Индия
2)		Россия
3)		Великобритания

**Задание №63**

Наибольшее количество часовых поясов

Выберите один из 4 вариантов ответа:

1)		Китай
----	--	-------

2)	Россия
3)	Казахстан
4)	Украина

**Задание №64**

Сколько часовых поясов выделяется на нашей планете?

Выберите один из 4 вариантов ответа:

1)	24
2)	25
3)	23
4)	12

**Задание №65**

Сколько часовых поясов на территории России

Выберите один из 4 вариантов ответа:

1)	10
2)	11
3)	9
4)	24

**Задание №66**

Какова протяжённость часового пояса в градусах?

Выберите один из 4 вариантов ответа:

1)	20
2)	15
3)	10
4)	1

**Задание №67**

Линия перемены дат проходит по проливу

Выберите один из 4 вариантов ответа:

1)	Беринговому
2)	Кунаширскому
3)	Карские Ворота
4)	Татарскому

**Задание №68**

Время данного меридиана называют

Выберите один из 4 вариантов ответа:		
1)		местным
2)		поясным
3)		декретным
4)		летним

Задание №69		
Новые сутки начинаются на		
Выберите один из 4 вариантов ответа:		
1)		0° меридиане
2)		Северном полярном круге
3)		180° меридиане
4)		экваторе

Группа: **время**

Задание №70			
Установите соответствие между временем и особенностями отсчета			
Укажите соответствие для всех 3 вариантов ответа:			
1)	местное	1)	Время в пределах определённого часового пояса
2)	поясное	2)	Время, переведённое на 1 час вперёд по сравнению с декретным
3)	декретное	3)	Время на данном меридиане
		4)	Время, переведённое на 1 час вперёд по сравнению с поясным

Задание №71		
Верно ли утверждение		
В каждый момент суток одинаковое время бывает лишь в тех точках, расположенных на одном меридиане. Это время называют МЕСТНЫМ.		
Впишите со строчной буквы да или нет.		
Запишите ответ:		
1)	Ответ:	



**Задание №72**

Верно ли утверждение

ПОЯСНОЕ ВРЕМЯ – это время в границах страны.

Впишите со строчной буквы да или нет.

Запишите ответ:

1)

Ответ:

**Задание №73**

Верно ли утверждение

Границы часовых поясов не проходят строго по меридианам. При их проведении учитывают административное деление страны, чтобы та или иная административная единиц (область, республика, их столица) находилась в одном часовом поясе.

Впишите со строчной буквы да или нет.

Запишите ответ:

1)

Ответ:

**Задание №74**

Верно ли утверждение

Начало новых суток условно считают от 12 часового пояса. Через его середину проходит меридиан 180 градусов. Считающийся **ЛИНИЕЙ ПЕРЕМЕНЫ ДАТ**.

Впишите со строчной буквы да или нет.

Запишите ответ:

1)

Ответ:

**Задание №75**

Верно ли утверждение

В 1930 году стрелки часов на территории России были переведены на час вперед по сравнению с поясным временем. Это было сделано в соответствии с Декретом Совета Народных комиссаров. Это время получило название **ДЕКРЕТНОГО**.

Впишите со строчной буквы да или нет.

Запишите ответ:

1)

Ответ:

Группа: задачи на перемену дат и определение времени

**Задание №76**

Какого числа жителю Чукотки надо вылететь на Аляску, чтобы оказаться там 8 июня?

Выберите один из 4 вариантов ответа:

1)		9 июня
2)		8 июня
3)		7 июня
4)		10 июня

**Задание №77**

Если переехать из 3-го часового пояса в 10-й часовой пояс, то часы нужно перевести на

Выберите один из 3 вариантов ответа:

1)		7 ч назад
2)		7 ч вперед
3)		13 ч вперед

**Задание №78**

Если в V часовом поясе 23 часа 48 минут, то новые сутки уже наступили в часовых поясах

Выберите один из 4 вариантов ответа:

1)		со II по IV
2)		с IV по VI
3)		с VI по XI
4)		с V по X

Группа: определение времени

**Задание №79**

Расположите регионы России в той последовательности, в которой их жители встречают Новый год.

Укажите порядок следования всех 3 вариантов ответа:

1)		Свердловская область
2)		Амур-ская область
3)		Новгородская область

**Задание №80**

Расположите регионы России в той последовательности, в которой их жители встречают Новый год.

Укажите порядок следования всех 3 вариантов ответа:

1)		Тюменская область
2)		Республика Татарстан
3)		Амурская область

#### Задание №81

Расположите регионы России в той последовательности, в которой их жители встречают Новый год.

Укажите порядок следования всех 3 вариантов ответа:

1)		Магаданская область
2)		Ямало-Ненецкий АО
3)		Смоленская область

#### Задание №82

Расположите регионы России в той последовательности, в которой их жители встречают Новый год.

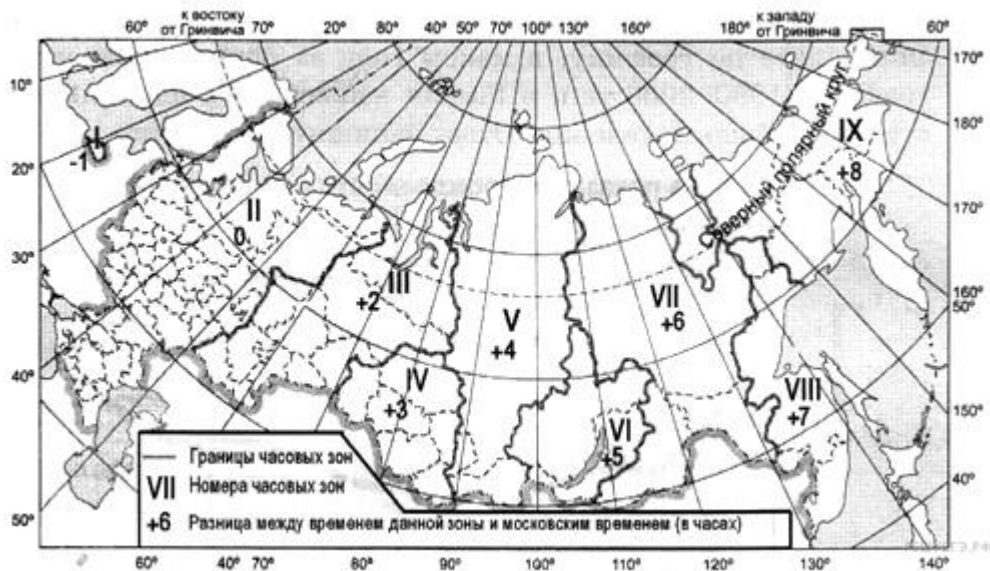
Укажите порядок следования всех 3 вариантов ответа:

1)		Хабаровский край
2)		Ненецкий АО
3)		Красноярский край

Группа: решение практической задачи

#### Задание №83

С помощью карты «Часовые зоны России» определите, сколько времени будет в Хабаровске (VIII часовая зона), когда в Тюмени (III часовая зона) 10 часов.



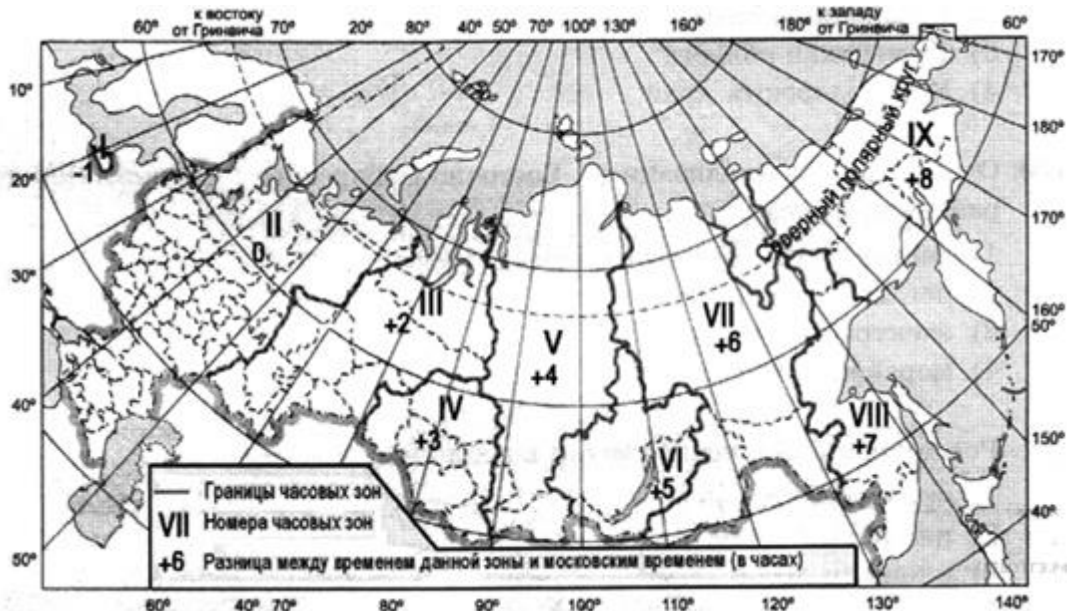
Запишите число:

1)

Ответ:

#### Задание №84

С помощью карты «Часовые зоны России» определите, сколько времени будет в Калининграде (I часовая зона) когда в Омске (IV часовая зона) полдень.



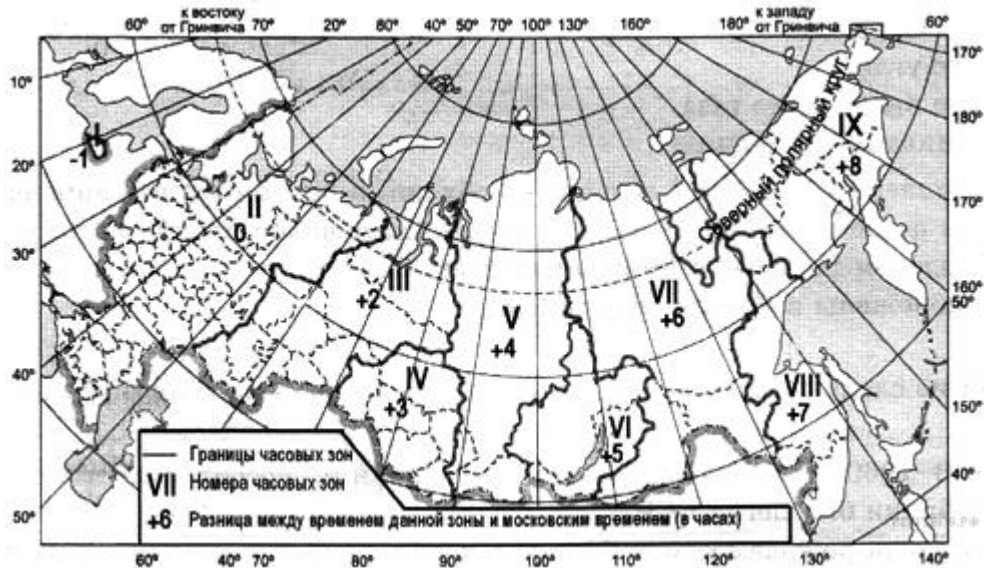
Запишите число:

1)

Ответ:

#### Задание №85

С помощью карты «Часовые зоны России» определите, сколько времени будет в Магадане (IX часовая зона), когда в Воронеже (II часовая зона) 10 часов.



Запишите число:

1)

Ответ:

#### Задание №86

Самолёт вылетел из Хабаровска (VIII часовая зона) в Красноярск (V часовая зона) в 13 часов по местному времени Хабаровска. Расчётное время полёта составляет 5 часов. Сколько времени будет в Красноярске, когда самолёт приземлится?



Запишите число:

1)

Ответ:

#### Задание №87

Самолёт вылетел из Хабаровска (VIII часовая зона) в Москву (II часовая зона) в 10 часов по местному времени Хабаровска. Расчётное время полёта составляет 8 часов. Сколько времени будет в Москве, когда самолёт приземлится?



Запишите число:

1) Ответ:

Группа: **политико-административное положение России**

#### Задание №88

Сколько субъектов выделяют в РФ?

Выберите один из 4 вариантов ответа:

1)	66
2)	77
3)	85
4)	99

#### Задание №89

Какой регион является самым крупным по площади?

Выберите один из 4 вариантов ответа:

1)	Тюменская область
2)	Магаданская область
3)	Республика Саха
4)	Еврейская автономная область

#### Задание №90

Какой новый субъект появился в 2005 году?

Выберите один из 4 вариантов ответа:

- |    |                     |
|----|---------------------|
| 1) | Пермский край       |
| 2) | Республика Саха     |
| 3) | Краснодарский край  |
| 4) | Магаданская область |

**Задание №91**

Сколько федеральных округов существует на территории РФ?

Выберите один из 4 вариантов ответа:

- |    |   |
|----|---|
| 1) | 5 |
| 2) | 6 |
| 3) | 7 |
| 4) | 8 |

**Задание №92**

Назовите город России – центр дальневосточного федерального округа:

Выберите один из 4 вариантов ответа:

- |    |                          |
|----|--------------------------|
| 1) | Магадан                  |
| 2) | Хабаровск                |
| 3) | Владивосток              |
| 4) | Петропавловск-Камчатский |

**Задание №93**

Меньше всего среди субъектов Российской Федерации:

Выберите один из 4 вариантов ответа:

- |    |                               |
|----|-------------------------------|
| 1) | автономных областей           |
| 2) | автономных округов            |
| 3) | городов федерального значения |
| 4) | краёв                         |

**Задание №94**

Укажите города, имеющие федеральный статус:	
Выберите один из 4 вариантов ответа:	
1)	Москва, Екатеринбург, Севастополь
2)	Москва, Нижний Новгород, Севастополь
3)	Москва, Санкт-Петербург, Севастополь
4)	Санкт-Петербург , Новосибирск

Группа: сопоставление

<b>Задание №95</b>			
Установите соответствие			
Субъект РФ    Море, к побережью которого он выходит			
Укажите соответствие для всех 3 вариантов ответа:			
1)	Магаданская область	1)	Балтийское
2)	Республика Карелия	2)	Охотское
3)	Ямало-Ненецкий АО	3)	Карское
		4)	Белое

<b>Задание №96</b>			
Установите соответствие			
Субъект РФ    Море, к побережью которого он выходит			
Укажите соответствие для всех 3 вариантов ответа:			
1)	Чукотский край	1)	Балтийское
2)	Республика Карелия	2)	Беренгово
3)	Ямало-Ненецкий АО	3)	Белое
		4)	Карское

<b>Задание №97</b>			
Установите соответствие			
Субъект РФ    Море, к побережью которого он выходит			
Укажите соответствие для всех 3 вариантов ответа:			



1)	Приморский край	1)	Балтийское
2)	Республика Карелия	2)	Японское
3)	Ямало-Ненецкий АО	3)	Карское
		4)	Белое

#### Задание №98

Установите соответствие

Субъект РФ    Море, к побережью которого он выходит

Укажите соответствие для всех 3 вариантов ответа:

1)	Магаданская область	1)	Белое
2)	Республика Карелия	2)	Охотское
3)	Ямало-Ненецкий АО	3)	Карское
		4)	Балтийское

Группа: **работа с текстом**

#### Задание №99

Выберите правильное словосочетание, которое нужно вставить в текст

Заполните пропуски:

Республика- форма государственного правления, при которой все органы государственной власти либо [избираются на определённый срок|избираются на длительный (не менее 10 лет) срок], либо формируются общенациональными представительными учреждениями (например парламентом), а граждане обладают личными и политическими правами

#### Задание №100

Выберите правильное словосочетание, которое нужно вставить в текст

Заполните пропуски:

Автономный округ- субъект Российской Федерации, сформированный по [национально-территориальному признаку|географическому положению].

#### Задание №101

Впишите полное официальное название субъекта РФ в соответствии с правилами орфографии через пробел

Заполните пропуски:

Автономная область- одна из форм территориальной или национально-территориальной автономии в государстве, пользующаяся чаще всего более широкой самостоятельностью в своих внутренних делах по сравнению с обычной административной областью. На территории РФ одна [ ]

#### Задание №102

Впишите название городов в соответствии с правилами орфографии

Заполните пропуски:

Город федерального значения — город, являющийся субъектом Российской Федерации. Согласно Конституции Российской Федерации (ст. 65), такой статус имеют три города: [ ], [ ] (оба непрерывно с 1931 года) и Севастополь (в 1948—1954, затем вновь с 2014 года). На них приходится 0,03 % территории страны, но 12,56 % её населения и около четверти ВВП.