

Материалы
для подготовки к тесту по истории 7 класс М-2 профильный уровень
по теме «Эпоха Ивана Грозного».

Тема	Содержание
Начало правления Ивана Грозного. Опричнина.	Правление Елены Глинской. Боярское правление. Венчание Ивана IV на царство. Московское восстание. Избранная рада. Реформы Ивана Грозного. Причины опричнины. Опричнина и опричники. Поход на Новгород и Псков. Борьба с Крымом. Итоги опричнины.
Внешняя политика России в XVI веке.	Присоединение Казанского, Астраханского ханств, присоединение Сибири к Русскому государству, налаживание экономических и политических связей с Англией, причины и начало Ливонской войны, окончание Ливонской войны.
Российское общество XVI в.: «служилые» и «тяглые».	Служилые люди, крестьяне, посадские люди, гости, духовенство, церковь и люди.

Понятия: Земский собор, **Избранная** рада, местничество, сословно- представительная монархия, стрельцы, засечная черта, ясак, опричнина, земщина, самодержавие, гости, тягло, Заповедные лета, урочные лета.

Персоналии:

Елена Глинская, Иван IV, А.Ф.Адашев, Сильвестр, митрополит Макарий, А.М.Курбский, Ермак Тимофеевич, Иван Кольцо, митрополит Филипп Колычев.

Даты: 1549 г, 1550 г, 1551 г, 1552 г, 1556 г, 1565-1572 гг, 1558-1583 гг, 1581 г, 1582 г, 1583 г, 1597 г.

Материал для подготовки:

В.В.Носков, Т.П.Андреевская **Всеобщая история 7 класс Москва** Вентана-Граф, 2014г.

История России 7 класс Под редакцией А.В.Торкунова Москва «Просвещение», 2016г.

Для того, чтобы получить допуск к тесту учащийся должен выполнить следующие виды работ:

- оформить лекционную тетрадь;
- работа с документом;
- картографический практикум (контурная карта);
- понятийный диктант;
- выступление на семинарском занятии;
- конспект для подготовки к семинарскому занятию.

Выполнение каждого вида работ подтверждается отметкой учителя в зачётном листе и допуском к итоговому тесту.

План работы по подготовке к семинару

«Эпоха Ивана Грозного в зеркале изобразительного искусства»:

1. Выберите 2-3 картины, изображающие время правления Ивана Грозного в соответствии с одной из тем:
 - ✓ Личность Ивана Грозного;
 - ✓ Реформы Избранной рады;
 - ✓ Внешняя политика Ивана Грозного;

2. Охарактеризовать картину (картины):
 - ✓ автор;
 - ✓ история создания
3. Объяснить, каким образом данные изображения связаны с выбранной темой
4. Привести дополнительные сведения по выбранной теме.
5. Сделать вывод.

Выбранные картины разместить на презентации для демонстрации аудитории и экспертам.

Требования к речи учащихся

Любое высказывание учащихся в устной и письменной форме (развернутый ответ на определенную тему, доклад, рецензия на ответ товарища, в т.ч. и по другим предметам, например, описание физического или химического опыта) следует оценивать, учитывая:

- 1) содержание высказывания;
- 2) логическое построение;
- 3) речевое оформление.

Учащиеся должны уметь:

- говорить и писать на тему, соблюдая ее границы;
 - отбирать наиболее существенные факты и сведения для раскрытия темы и основной мысли высказывания;
 - излагать материал логично и последовательно (устанавливать причинно-следственные связи между фактами и явлениями, делать необходимые обобщения и выводы);
 - правильно и точно пользоваться языковыми средствами для оформления высказывания;
 - строить высказывания в определенном стиле (научном, публицистическом, разговорном и др.) в зависимости от цели и ситуации общения (на уроке, конференции, собрании, экскурсии и т.д.);
 - отвечать достаточно громко, четко, с соблюдением логических ударений, пауз, правильной интонации, правил произношения;
 - оформлять любое письменное высказывание с соблюдением орфографических и пунктуационных норм, чисто и аккуратно.
- Речь учащихся должна быть выразительной, что достигается разнообразием словаря и грамматического строя, уместным использованием эмоционально окрашенных слов.

Литература для подготовки:

История России 7 класс Под редакцией А.В.Торкунова Москва «Просвещение», 2016г. Глава 1. Параграф 1-10

Банк заданий

Задание №1

В каком году была проведена реформа местного управления Избранной рады, которая отменила кормления и учредила должности губных старост?

Выберите один из 4 вариантов ответа:

1)		1549 г.
2)		1550 г.
3)		1556 г.
4)		1583 г.

Задание №2

В каком году Ливонский орден прекратил существование?

Выберите один из 4 вариантов ответа:

1)		1551 г.
2)		1558 г.
3)		1561г.
4)		1584 г.

Задание №3

В каком году начался поход Ермака, направленный на завоевание Сибири?

Выберите один из 4 вариантов ответа:

1)		1550 г.
2)		1560 г
3)		1581г.
4)		1594 г.

Задание №4

Укажите даты Ливонской войны

Выберите один из 4 вариантов ответа:

1)		1565-1572 гг
2)		1558- 1583 гг
3)		1566-1576 гг
4)		1567-1570 гг

Задание №5

Укажите дату заседания Стоглавого собора

Выберите один из 4 вариантов ответа:

1)		1551 г
2)		1552 г
3)		1556 г
4)		1571 г

Задание №6

Опричнина в Русском государстве была в

Выберите один из 4 вариантов ответа:

1)	1565-1572 гг
2)	1558-1583 гг
3)	1566-1576 гг
4)	1571-1573 гг

Задание №7

Первый Земский собор был созван в

Выберите один из 4 вариантов ответа:

1)	1538 г
2)	1548 г
3)	1549 г
4)	1551 г

Задание №8

Казанское ханство было присоединено к России в

Выберите один из 4 вариантов ответа:

1)	1547 г
2)	1550 г
3)	1551 г
4)	1552 г

Задание №9

Назовите годы правления Ивана IV, не включая время регентства его матери Елены Глинской.

Выберите один из 4 вариантов ответа:

1)	1533-1555 гг.
2)	1533-1565 гг.
3)	1538-1584 гг.
4)	1545-1576 гг.

Задание №10

В каком году было принято Уложение о службе, определившее порядок прохождения военной службы всеми землевладельцами — боярами и дворянами?

Выберите один из 4 вариантов ответа:

1)	1552 г.
2)	1554 г.
3)	1556 г.
4)	1560 г.

Задание №11

В каком году Иван IV венчался на царство?

Выберите один из 4 вариантов ответа:

1)	1530 г.
2)	1533 г.
3)	1547 г.
4)	1554 г.

Задание №12

Кто управлял страной в первые годы правления Ивана IV?

Выберите один из 4 вариантов ответа:

1)	Софья Палеолог
2)	Елена Глинская
3)	Соломония Соболева
4)	Наталья Нарышкина

Задание №13

Укажите церковного деятеля, который поддержал желание Ивана IV венчаться на царство.

Выберите один из 4 вариантов ответа:

1)	протопоп Аввакум
2)	митрополит Иларион
3)	патриарх Никон
4)	митрополит Макарий

Задание №14

Как звали военачальника из войска Ивана IV, под руководством которого были построены осадные сооружения и произведены подкопы под стены Казанского кремля?

Выберите один из 4 вариантов ответа:

1)	Иван Фёдоров
2)	Пётр Мстиславец
3)	Иван Выродков
4)	Никита Панин

Задание №15

Назовите полководца Речи Посполитой, под руководством которого была проведена осада Пскова.

Выберите один из 4 вариантов ответа:

1)		Стефан Баторий
2)		Филипп IV Красивый
3)		Андрей Курбский
4)		Сигизмунд III

Задание №16

Первым российским послом при английском дворе стал дьяк

Выберите один из 4 вариантов ответа:

1)		Иван Фёдоров
2)		Осип Непей
3)		Михаил Воротынский
4)		Андрей Курбский

Задание №17

Поход в Сибирь казаков под предводительством Ермака был организован на средства купцов

Выберите один из 4 вариантов ответа:

1)		Демидовых
2)		Курбских
3)		Строгановых
4)		Воротынских

Задание №18

Разрушительными для русских земель стали походы в 1569 и 1571 гг. крымского хана

1)		Темучина
2)		Девлет-Гирея
3)		Сулеймана Великолепного
4)		Тохтамышша

Задание №19

Почему для первых лет правления Ивана IV был назначен опекунский совет?

1)		Иван IV распорядился подыскать помощников для первых властных распоряжений
2)		опекунский совет был назначен по распоряжению вдовы Василия III Елены Глинской
3)		Иван IV вступил на престол в малолетнем возрасте
4)		создать опекунский совет потребовали государи Европы

Задание №20

Одним из главных соперников Елены Глинской в борьбе за власть в начале XVI в. был

Выберите один из 4 вариантов ответа:

1)	патриарх Никон
2)	удельный князь Андрей Старицкий
3)	польский король Сигизмунд
4)	брат Ивана IV Юрий

Задание №21

Какая реформа относится к регентству Елены Глинской?

Выберите один из 4 вариантов ответа:

1)	денежная
2)	военная
3)	судебная
4)	местного самоуправления

Задание №22

Что из перечисленного относится к церковной реформе Избранной рады?

Выберите один из 4 вариантов ответа:

1)	введение троеперстного крестного знамения
2)	начало установления единообразия церковных порядков
3)	отказ от признания местных святых общерусскими святыми
4)	введение латинского языка богослужения в православных церквях

Задание №23

Присоединение Казани и Астрахани привело к включению в состав Российского государства территории по течению реки

Выберите один из 4 вариантов ответа:

1)	Невы
2)	Яузы
3)	Волги
4)	Лены

Задание №24

Поводом для Ливонской войны стал отказ Ливонского ордена выплачивать дань за один из городов. Назовите этот город-

Выберите один из 4 вариантов ответа:		
1)		Новгород
2)		Псков
3)		Рига
4)		Юрьев

Задание №25

Какой город в ходе Ливонской войны пять месяцев осаждали войска противника под руководством Стефана Батория?

Выберите один из 4 вариантов ответа:		
1)		Смоленск
2)		Новгород
3)		Псков
4)		Ригу

Задание №26

Отметьте один из результатов присоединения Казани к Российскому государству.

Выберите один из 4 вариантов ответа:		
1)		возможность раздачи новых земель служилым людям
2)		распространение влияния Крымского ханства в России
3)		сокращение торговых путей для русских купцов
4)		потеря земельных владений государя

Задание №27

Хан Девлет-Гирей, совершивший набеги на русские земли в 1569 и 1571 гг., был главой

Выберите один из 4 вариантов ответа:		
1)		Османской империи
2)		Французского королевства
3)		Ногайской Орды
4)		Крымского ханства

Задание №28

В результате Ливонской войны

Выберите один из 4 вариантов ответа:		
--------------------------------------	--	--

1)		Россия потеряла завоевания в Прибалтике
2)		к России отходили территории Швеции
3)		Россия получила выход в Балтийское море
4)		Россия заключила союз с Крымским ханством

Задание №29

В каком государстве Западной Европы в 1554 г. была открыта Московская компания для торговли с Россией?

Выберите один из 4 вариантов ответа:

1)		Германия
2)		Франция
3)		Италия
4)		Англия

Задание №30

Ливонская война завершилась

Выберите один из 4 вариантов ответа:

1)		потерей Россией Новгорода и Пскова
2)		выходом России к берегам Балтийского моря
3)		приобретением Скандинавского полуострова Россией
4)		потерей Россией большей части территории побережья Финского залива

Задание №31

Что послужило поводом для Ливонской войны?

Выберите один из 4 вариантов ответа:

1)		расширение территории Ливонского ордена за счёт присоединения Новгорода
2)		вмешательство Франции в отношения Ливонского ордена и России
3)		стремление Ливонского ордена завоевать территории в Сибири
4)		отказ Ливонского ордена выплачивать дань за город Юрьев

Задание №32

После прекращения существования Ливонского ордена противниками России в Ливонской войне стали

Выберите один из 4 вариантов ответа:

1)		Литва и Польша
2)		Франция и Англия
3)		Франция и Литва
4)		Китай и Польша

Задание №33

Как называлась крепость, возведённая недалеко от Казани, ставшая центром сосредоточения русских войск и опорным пунктом для наступления на Казань?

Выберите один из 4 вариантов ответа:

1)		Хабаровск
2)		Мурманск
3)		Свияжск
4)		Павловский посад

Задание №34

Военная реформа, проведенная в годы правления Ивана IV:

Выберите один из 4 вариантов ответа:

1)		ликвидировала дворянское ополчение
2)		укрепила обороноспособность государства
3)		привела к созданию регулярной армии и флота
4)		позволила сбросить монголо-татарское иго

Задание №35

С чем связаны даты 1497 г. и 1550 г.?

Выберите один из 4 вариантов ответа:

1)		с созданием памятников культуры
2)		с принятием нового законодательства
3)		с крупными военными сражениями
4)		с изменениями в политическом управлении страны

Задание №36

Производство лекарств и квалифицированные лекари находились в ведении

Выберите один из 4 вариантов ответа:

1)		Посольского приказа
2)		Поместного приказа
3)		Пушкарского приказа
4)		Аптекарского приказа

Задание №37

Что на Руси называли Земским собором?		
Выберите один из 4 вариантов ответа:		
1)		орган городского самоуправления
2)		представителей династии Рюриковичей
3)		собрание представителей различных сословий
4)		собор Василия Блаженного в Москве
Задание №38		
Что можно отнести к итогам церковной реформы Избранной рады?		
Выберите один из 4 вариантов ответа:		
1)		переход богослужения в православной церкви на латинский язык
2)		введение патриаршества в Русской православной церкви
3)		признание местных святых общерусскими святыми
4)		подчинение Русской православной церкви папе римскому

Задание №39		
Отношениями с другими государствами ведал		
Выберите один из 4 вариантов ответа:		
1)		Челобитный приказ
2)		Посольский приказ
3)		Разрядный приказ
4)		Поместный приказ

Задание №40		
Что создает Иван IV для проведения политики террора?		
Выберите один из 4 вариантов ответа:		
1)		опричное войско
2)		стрелецкое войско
3)		дворянское ополчение
4)		Земский собор

Задание №41		
Что стало центром опричнины?		
Выберите один из 4 вариантов ответа:		
1)		Москва
2)		Соловецкий монастырь
3)		Старицкий удел
4)		Александровская слобода

Задание №42		
Что называют опричниной?		

Выберите один из 4 вариантов ответа:		
1)		политику реформ
2)		сбор налогов с населения
3)		территорию, расположенную на окраине государства
4)		политику, направленную на усиление центральной власти и борьбу с боярами
Задание №43		
Что в XVI в. называли Избранной радой?		
Выберите один из 4 вариантов ответа:		
1)		купеческое общество
2)		собрание представителей сословий
3)		приближенный к Ивану IV круг лиц
4)		представителей династии Рюриковичей
Задание №44		
Какое название получила часть территории Русского государства, не включенная Иваном IV в свой личный удел?		
Выберите один из 4 вариантов ответа:		
1)		опричнина
2)		засека
3)		земщина
4)		слобода
Задание №45		
Неофициальное правительство при Иване Грозном в первое десятилетие его царствования называлось		
Выберите один из 4 вариантов ответа:		
1)		Земский собор
2)		Избранная Рада
3)		Челобитный приказ
4)		Церковный собор
Задание №46		
Как назывался новый вид войска, учреждённый в середине XVI в. в России, создание которого стало попыткой организации регулярной армии в стране?		
Выберите один из 4 вариантов ответа:		
1)		гренадеры
2)		стрельцы
3)		рекруты
4)		пехотинцы

Задание №47

Назовите государственного деятеля, приближённого Ивана Грозного, члена Избранной рады, который отвечал за вопросы внешней политики государства в 1550-е гг.

Запишите ответ:

1)

Ответ:

Задание №48

Налог, уплачиваемый мехами

Запишите ответ:

1)

Ответ:

Задание №49

Новый свод законов, единый для всей страны- это

Запишите ответ:

1)

Ответ:

Задание №50

Политика, направленная на запугивание, нагнетание страха, подавление политического противника называется

Запишите ответ:

1)

Ответ:

Задание №51

монархическая форма правления в России, основанная на сильной, почти неограниченной власти царя называется

Запишите ответ:

1)

Ответ:

Задание №52

Как назывался документ, принятый при Иване IV в 1550 г., который определил основные положения жизни государства?

Запишите ответ:

1)

Ответ:

Задание №53

Укрепленная линия на южных границах России, состоявшая из небольших городков-крепостей, валов, частоколов, лесных завалов, называлась

Запишите ответ:

1)

Ответ:

Задание №54

Запишите термин, о котором идёт речь.

Сословно-представительное учреждение в России XVI-XVII вв., которое созывалось для решения важных государственных вопросов; впервые было создано в 1549 г. Иваном IV.

Запишите ответ:

1)	Ответ:	
Задание №55		
Что стало результатом создания новых органов управления в 40-50-х гг. XVI в.?		
Выберите один из 4 вариантов ответа:		
1)		усилилась центральная власть
2)		установилось единоличное правление Ивана IV
3)		усилилась феодальная раздробленность
4)		усилилось местничество
Задание №56		
Что стало итогом правления Ивана IV?		
Выберите один из 4 вариантов ответа:		
1)		установление сословно-представительной монархии
2)		хозяйственный подъем
3)		усиление обороноспособности страны
4)		усиление феодального угнетения крестьян
Задание №57		
Каковы были результаты Ливонской войны?		
Выберите один из 4 вариантов ответа:		
1)		территория Сибирского ханства отошла к России
2)		Россия лишалась выхода в Балтийское море
3)		Россия получила выход к Черному морю
4)		Россия приобретала обширные территории в Прибалтике
Задание №58		
Что стало результатом опричнины?		
Выберите один из 4 вариантов ответа:		
1)		усиление обороноспособности страны
2)		выход России к берегам Балтийского моря
3)		укрепление сословно-представительной монархии
4)		обострение социально-экономических и внешнеполитических противоречий
Задание №59		
Что стало результатом политики опричнины?		
Выберите один из 4 вариантов ответа:		
1)		усиление личной власти царя
2)		улучшение положения народных масс
3)		преодоление экономической отсталости России
4)		усиление обороноспособности страны

Задание №60

Укажите причины поражения России в Ливонской войне.

Выберите один из 4 вариантов ответа:

1)	неудачные реформы Избранной рады
2)	измена жителей Пскова
3)	отсутствие у России морского флота и союзников
4)	неожиданная смерть Ивана IV

Задание №61

Что стало причиной падения Избранной рады?

Выберите один из 4 вариантов ответа:

1)	неудачи в Ливонской войне
2)	измена митрополита Макария
3)	выступление против Избранной рады членов Земского собора
4)	стремление Ивана IV упрочить сословно-представительную монархию

Задание №62

Купцы Строгановы помогли организовать экспедицию Ермака потому что

Выберите один из 4 вариантов ответа:

1)	были недовольны политикой Ивана Грозного
2)	хотели помочь осажденным городам в Прибалтике
3)	были заинтересованы в развитии торговли с местным населением
4)	стремились помочь сибирскому хану

Задание №63

Главная причина охлаждения Ивана Грозного к своим соратникам заключалась

Выберите один из 4 вариантов ответа:

1)	в неудачах на Ливонской войне
2)	в реформах, проводимых " Избранной Радой"
3)	в их изменах
4)	в неудачной личной жизни царя

Задание №64

Присоединение Западной Сибири к Российскому государству привело

Выберите один из 4 вариантов ответа:

1)	к хозяйственному освоению этого края
2)	к включению этих территорий в состав опричнины
3)	к началу войны с местным населением
4)	к началу реформ Избранной Рады

Задание №65

В честь рождения Ивана IV было приказано построить

Выберите один из 4 вариантов ответа:

1)	Церковь Вознесения в Коломенском
2)	Храм Преображения Господня в селе Остров
3)	Храм Василия Блаженного в Москве
4)	Башню Симонова монастыря в Москве

Задание №66

Одним из результатов Ливонской войны было

Выберите один из 4 вариантов ответа:

1)	потеря Новгорода Русским государством
2)	потеря Россией крепостей Ям, Копорья, Ивангорода, Корелы
3)	возвращение Россией крепостей Ям, Ивангород, Корелы
4)	потеря Россией Пскова

Задание №67

Чем были вызваны реформы середины XVI в.?

Выберите один из 4 вариантов ответа:

1)	необходимостью свержения монголо-татарского ига
2)	слабостью центральной власти
3)	необходимостью ликвидировать помещичье земле владение
4)	стремлением тверского князя перейти под покровительство Литвы

Задание №68

Благодаря чему русские войска взяли укрепления Казани?

Выберите один из 4 вариантов ответа:

1)	инженерному таланту И. Выродкова
2)	начавшемуся землетрясению
3)	переходу на сторону Ивана IV астраханского хана
4)	помощи Ливонского ордена

Задание №69

Что было целью внешней политики Ивана IV?

Выберите один из 4 вариантов ответа:

1)	выход к берегам Атлантического океана
2)	ликвидация Османской империи
3)	обеспечение условий для развития внешней торговли
4)	возрождение «Великого шелкового торгового пути»

Задание №70

Что было целью внешней политики Ивана IV?

Выберите один из 4 вариантов ответа:

1)	ликвидация Византийской империи
2)	распространение православия в Западной Европе
3)	обеспечение безопасности Российского государства
4)	возрождение торгового пути «из варяг в греки»

Задание №71

Что стало результатом присоединения новых территорий к России во второй половине XVI в.?

Выберите один из 4 вариантов ответа:

1)	Россия вышла к берегам Черного моря
2)	русские купцы захватили в свои руки всю прибалтийскую торговлю
3)	исчезла угроза со стороны Польши
4)	в руках России оказался Волжский торговый путь

Задание №72

В честь взятия русскими войсками Казани Иван IV повелел возвести на Красной площади

Выберите один из 4 вариантов ответа:

1)	Храм Преображения Господня
2)	Церковь Вознесения
3)	Храм Василия Блаженного
4)	Башню Симонова монастыря

Задание №73

Что способствовало усилению обороноспособности Российского государства во второй половине XVI в.?

Выберите один из 4 вариантов ответа:

1)	присоединение Казанского и Астраханского ханства
2)	присоединение территории Крымского ханства
3)	введение всеобщей воинской повинности
4)	разгром Польско-Литовского государства

Задание №74

Что стало итогом правления Ивана IV?

1)	укрепление внешнеполитического положения России
2)	усиление режима неограниченной власти
3)	ускорение хозяйственного развития страны
4)	улучшение положения народных масс

Задание №75

Что стало причиной падения Избранной рады?

Выберите один из 4 вариантов ответа:

1)		народное восстание в Москве
2)		стремление Ивана IV к единовластию
3)		победа в Ливонской войне
4)		смерть А. Адашева и А. Курбского

Задание №76

К каким преобразованиям привела реформа местного управления Избранной рады?

Выберите один из 4 вариантов ответа:

1)		отмене кормлений
2)		учреждению губерний
3)		введению коллегий
4)		организации сословных органов местного самоуправления

Задание №77

Выберите из списка ТРИ города и поселения, построенные в Сибири в XVI-XVII вв. благодаря заселению края первопроходцами из России. Запишите **цифры**, под которыми они указаны.

Выберите несколько из 6 вариантов ответа:

1)		Тобольск
2)		Пекин
3)		Нарым
4)		Самарканд
5)		Тюмень
6)		Воронеж

Задание №78

Кто был противником России в Ливонской войне?

Выберите несколько из 5 вариантов ответа:

1)		Польша
2)		Литва
3)		Германия
4)		Швеция
5)		Дания

Задание №79

Кто был заинтересован в присоединении территорий на Востоке?

Выберите несколько из 5 вариантов ответа:		
1)		дворяне
2)		мусульмане-казанцы
3)		православные священники
4)		рыцари-ливонцы
5)		купцы

Задание №80

Назовите казацких атаманов, участвующих вместе с Ермаком Тимофеевичем в освоении Сибири

Выберите несколько из 5 вариантов ответа:		
1)		Иван Кольцо
2)		Алексей Адашев
3)		Филипп Колычев
4)		Богдан Брязга
5)		Андрей Курбский

Задание №81

Назовите людей, входящих в состав " Избранной Рады"

Выберите несколько из 5 вариантов ответа:		
1)		А. Курбский
2)		М. Скопин- Шуйский
3)		В. Шуйский
4)		Д. Пожарский
5)		А. Адашев

Задание №82

Выберите из списка ТРИ города и поселения, построенные в Сибири в XVI-XVII вв. в результате заселения края первопроходцами из России.

Выберите несколько из 6 вариантов ответа:		
1)		Саратов
2)		Калинград
3)		Тюмень
4)		Берёзов
5)		Чернигов
6)		Тобольск

Задание №83

Выберите из списка ТРИ имени членов Избранной рады — совета приближённых при царе.

Выберите несколько из 6 вариантов ответа:			
1)		А.Ф. Адашев	
2)		А.Д. Меншиков	
3)		А.М. Курбский	
4)		патриарх Никон	
5)		К.П. Победоносцев	
6)		священник Сильвестр	
Задание №84			
Выберите из списка ТРИ имени членов Избранной рады — совета приближённых при царе.			
Выберите несколько из 6 вариантов ответа:			
1)		А.М. Курбский	
2)		И.М. Висковатый	
3)		А.А. Чарторыйский	
4)		Г.А. Потёмкин	
5)		М.И. Воротынский	
6)		А.Ф. Ордин-Нащокин	
Задание №85			
Установите соответствие между событиями и датами.			
Укажите соответствие для всех 4 вариантов ответа:			
1)		начало Ливонской войны	1) 1552 г.
2)		подписание русско-шведского мира	2) 1556 г.
3)		присоединение Астрахани	3) 1558 г.
4)		присоединение Казани	4) 1583 г.
Задание №86			
Установите соответствие между определениями и терминами.			
Укажите соответствие для всех 4 вариантов ответа:			
1)		органы отраслевого управления в России в XVI-XVII вв	1) челобитные
2)		постоянное войско, организованное в середине XVI в. в России	2) местничество

3)		система назначения на службу в зависимости от знатности рода	3)	приказы
4)		индивидуальные или письменные жалобы, прошения государю	4)	стрельцы

Задание №87

Установите соответствие между названиями реформ и их содержанием с середины 1550-гг. .

Укажите соответствие для всех 3 вариантов ответа:

1)		Губная и земская реформы	1)	Создание органов местного самоуправления
2)		Созыв Земского собора	2)	Приведение к единообразию церковных обрядов
3)		Созыв Стоглавого собора	3)	Формирование сословно-представительной монархии

Задание №88

Установите соответствие между определениями и терминами.

Укажите соответствие для всех 4 вариантов ответа:

1)		система назначения на службу в зависимости от знатности рода	1)	«Стоглав»
2)		органы отраслевого управления в России в XVI-XVII вв.	2)	челобитная
3)		сборник решений Церковного собора середины XVI в.	3)	местничество
4)		индивидуальное или письменное прошение государю	4)	приказы

Задание №89

Установите соответствие между названиями реформ и их содержанием с середины 1550-гг.

Укажите соответствие для всех 3 вариантов ответа:

1)		Реформа местного управления	1)	Установление единого порядка несения военной службы
2)		Приказная реформа	2)	Создание центральных органов управления
3)		«Уложение о службе»	3)	Отмена системы кормлений

Задание №90

Установите соответствие между событиями и датами.

Укажите соответствие для всех 4 вариантов ответа:

1)		взятие Астрахани	1)	1552 г.
2)		начало Ливонской войны	2)	1556 г.
3)		подписание Люблинской унии, образование Речи Посполитой	3)	1558 г.
4)		взятие Казани	4)	1569г.

Задание №91

К какому полководцу обращается в письме Иван IV?

Ты с нами помирись, только если мы уступим тебе всю Ливонскую землю до последней пяди, что Велиж, Усвят и Озерище - все это уже у тебя, а Луки Великие, Заволочье и Холм беспрекословно оставлены нами при отступлении и что мы должны разрушить город Себеж да еще уплатить тебе четыреста тысяч золотых червонцев за твой убыток, что ты снаряжался, отправляясь воевать наши земли.

Выберите один из 4 вариантов ответа:

1)		Стефан Баторий
2)		Малюта Скуратов
3)		Ермак Тимофеевич
4)		Андрей Курбский

Задание №92

Когда произошли события, описанные в документе?

Царь... выступил на Казань в лютую зиму, но не сумел взять город сразу и отступил. Укрепив свое воинство... и изучив расположение города, в одно лето выстроили на подступах к Казани на реке Свияге... прекрасный новый город - Свияжск.

Выберите один из 4 вариантов ответа:

1)		1547 г.
2)		1552 г.
3)		1556 г.
4)		1558 г.

Задание №93

О событиях какого года идет речь в документе?

...Он вошел в Великий Новгород, во двор к архиепископу и отобрал у него все его имущество. Были сняты также самые большие колокола, а из церкви забрано все, что ему понравилось... Каждый день он... переезжал в другой монастырь, где снова давал простор своему озорству. Он приказывал истязать и монахов, и многие из них были убиты. Таких монастырей... было до 300, и ни один из них не был пощажён.

Выберите один из 4 вариантов ответа:

1)		1547 г.
2)		1556г.
3)		1565 г.
4)		1569 г.

Задание №94

О событиях какого года идет речь в документе?

Тоя же зимы, декабря в 3 день... царь... Иван Васильевич... с своею царицею и великою княгинею Марьею и с своими детьми... поехал с Москвы в село в Коломенское... взял же с собою... иконы и кресты, златом и камением драгим украшенные... и всю свою казну... Бояром и дворяном ближним и приказным лю- дем... повеле с собою ехать з женами и з детьми...

Выберите один из 4 вариантов ответа:

1)	1547 г.
2)	1556г.
3)	1564 г.
4)	1569г.

Задание №95

О каком приказе идет речь в отрывке из документа?

А в нем сидит думной дьяк, да два дьяка, подьячих 14 человек. А ведомы в том Приказе дела всех окрестных государств, и послов чужеземских принимают и отпуск им бывает; так же и Русских послов и посланников и гонцов посылают в которое государство прилунится, отпуск им бывает и с того Приказу.

Выберите один из 4 вариантов ответа:

1)	Разрядном
2)	Разбойном
3)	Поместном
4)	Посольском

Задание №96

О ком говорится в отрывке из сочинения Н.М. Карамзина?

Сей Герой погиб безвременно, но совершив главное дело: ибо Кучум, зарезав 49 сонных казаков, уже не мог отнять Сибирского ханства у великой державы, которая единожды навсегда признала оное своим достоянием... Величавая доблесть его не только в летописаниях, но и в святых храмах, где мы еще и ныне торжественно молимся за него и за дружину храбрых, которые вместе с ним пали на берегах Иртыша.

Выберите один из 4 вариантов ответа:

1)	о Стефане Батории
2)	о Малюте Скуратове
3)	о Ермаке Тимофеевиче
4)	об Андрее Курбском

Задание №97

Когда произошли события, описанные в документе?

Царь наш начал вспоминать о том, что они не платят дани в течение пятидесяти лет, которой были обязаны еще его деду. Лифляндцы не захотели ту дань платить. Из-за этого началась война... Воевали мы целый месяц и нигде сопротивления не встретили...

Выберите один из 4 вариантов ответа:

1)		1533-1584 гг.
2)		1552 г.
3)		1556 г
4)		1558-1564 гг.

Задание №98

О каком приказе идет речь в отрывке из документа?

И в том Приказе сидят околничей, да думной дьяк, да два дьяка. А ведомы в том Приказе всякие воинские дела, и города строением и крепостми и починкою и ружьем и служивыми людьми; так же ведомы бояре, околничие, и думные и ближние люди, и столники, и стряпчие, и дворяне Московские, и дьяки, и жилцы, и дворяне городовые, и дети боярские, и казаки и солдаты, всякою службою; и кого куды лучится послати на службы, в войну.

Выберите один из 4 вариантов ответа:

1)		Разрядном
2)		Разбойном
3)		Поместном
4)		Посольском

Задание №99

Расположить события в хронологической последовательности

Укажите порядок следования всех 5 вариантов ответа:

1)		Венчание на царство Ивана IV
2)		Правление Елены Глинской
3)		Московское восстание
4)		Оборона Пскова
5)		Первый созыв Земского собора

Задание №100

Расположите события в хронологической последовательности

Укажите порядок следования всех 5 вариантов ответа:

1)		Принятие нового судебника
2)		Венчание на царство Ивана IV
3)		Завершение процесса присоединения Сибири к России
4)		Опричнина
5)		Московское восстание

Задание №101

Продолжите логический ряд и укажите недостающее название:

1552 г. — Казанское ханство

1556 г. - Астраханское ханство

90-е годы XVI в. — _____

Запишите ответ:

1)	Ответ:	
----	--------	--

Задание №102

Продолжите логический ряд и укажите недостающее имя:
Иван IV — Андрей Курбский
Иван Шуйский-Стефан Баторий
Ермак-

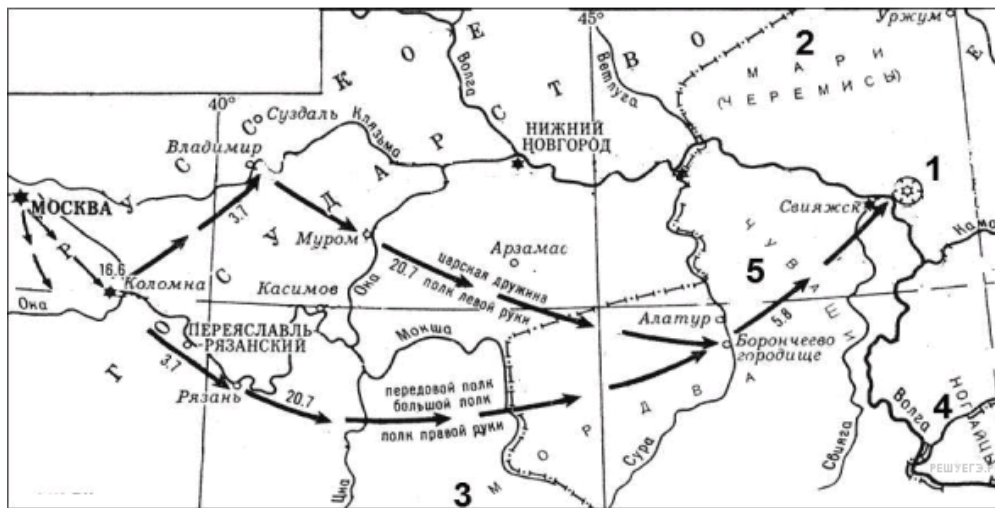
Запишите ответ:

1)

Ответ:

Задание №103

Рассмотрите карту схему и выполните задание.
Напишите год, когда произошли указанные на схеме события



Запишите число:

1)

Ответ:

Задание №104

Рассмотрите карту схему и выполните задание
Напишите год начала войны, события которой отображены на карте



Запишите число:

1)

Ответ:

Задание №105

Рассмотрите схему и выполните задание

Напишите цифру, которая обозначает «неофициальную столицу» государства, которая стала резиденцией царя Ивана IV после его отъезда из Москвы.



Запишите число:

1)

Ответ:

Задание №106

Рассмотрите схему и выполните задание

Напишите название города, обозначенного на схеме цифрой «3», который сыграл важнейшую роль в ходе Ливонской войны.



Запишите ответ:

1)

Ответ:

Задание №107

Рассмотрите карту схему и выполните задание

Какие суждения, относящиеся к событиям, обозначенным на схеме, являются верными? Выберите три суждения из шести предложенных.



Выберите несколько из 6 вариантов ответа:

1)		Россия победила в этой войне
2)		во время войны правительство сняло ограничения на право перехода крестьян к другому хозяину
3)		противником России в войне была Швеция
4)		во время войны образовалось новое государство Речь Посполитая
5)		в ходе войны произошло ужесточение внутренней политики
6)		война проходила в завершающий период образования единого Русского государства

Задание №108

Рассмотрите карту схему и выполните задание

Какие суждения, относящиеся к событиям, обозначенным на схеме, являются верными?
Выберите три суждения из шести предложенных



Выберите несколько из 6 вариантов ответа:		
1)		для завоевания столицы ханства была предпринята серия военных походов: второй из них увенчался успехом
2)		в 1559 году московский царь в третий раз осадил столицу ханства
3)		после взрыва городских стен заложены в тайно сделанных подкопах порохом, город был взят штурмом, значительная часть населения перебита, а сам город сгорел
4)		в результате событий, обозначенных на схеме, ханство прекратило своё существование, и Среднее Поволжье в значительной своей части было присоединено к России, в итоге возникли предпосылки для освоения русскими переселенцами Поволжья, дальнейшего продвижения на Урал и в Сибирь
5)		одним из последствий событий, обозначенных на схеме, было начало раздробленности Золотой Орды
6)		в память о взятии столицы и победе над ханством был построен Собор Василия Блаженного на Красной площади в Москве

Задание №109

Рассмотрите изображение и выполните задание
 Напишите имя царя, запечатленного на картинке



Запишите ответ:

1)	Ответ:	
----	--------	--

Задание №110

Рассмотрите изображение и выполните задание.
 Напишите имя и фамилию исторической деятельнице, изображенной на картинке.



Запишите ответ:

1)

Ответ:

Задание №11

Рассмотрите изображение и выполните задание

Напишите имя священника, запечатленного на иллюстрации, который входил в Избранную Раду.



Запишите ответ:

1)

Ответ:

Задание №12

Рассмотрите изображение и выполните задание

Какие суждения, относящиеся к событиям, обозначенным на картине, являются верными?
Выберите три суждения из шести предложенных



Выберите несколько из 6 вариантов ответа:

1)	Данные события произошли в начале XVI века
2)	Автор картины И. Репин
3)	Перед нами изображены события опричного погрома города Новгорода
4)	Данная картина носит название "Покорение Сибири Ермаком"
5)	На изображении виден факт проявления восточного направления внешней политики Ивана IV
6)	Автор этой картины В. Суриков

Задание №113

Рассмотрите изображение и выполните задание

Какие суждения, относящиеся к событиям, обозначенным на картине, являются верными?
Выберите три суждения из шести предложенных.



Выберите несколько из 6 вариантов ответа:

1)	Данное изображение показывает осаду русским войском города Кашлык
2)	Этот конфликт относится к концу XVI века
3)	Автором картины является В.С.Бодров
4)	Это изображение осады Казани русскими войсками
5)	Запечатленные события показывают фрагмент Ливонской войны
6)	Результатом этого сражения стало присоединение Казани к России

Задание №114

Рассмотрите изображение и выполните задание

Какие суждения, относящиеся к изображению, являются верными? Выберите три суждения из шести предложенных.



Выберите несколько из 6 вариантов ответа:


1)	На картине изображены опричники
----	---------------------------------

2)	Данные события относятся к 80-м годам XVI века
3)	Автор картины В.Суриков
4)	Одним из изображенных персонажей является представитель царской династии
5)	Это картина Михаила Авилова " Царевич Иван на прогулке"
6)	Изображенная прогулка на лошадях относится к 40- м годам XVI века

Задание №115

Рассмотрите изображение и выполните задание

Какие суждения, относящиеся к изображению, являются верными? Выберите три суждения из шести предложенных.





Выберите несколько из 6 вариантов ответа:

1)	На картине изображено венчание с женой Ивана IV
2)	Данное событие произошло в 1556 году
3)	На картине изображено венчание и принятие царского титула Иваном Грозным
4)	Инициатором данного события выступил митрополит Макарий
5)	Это событие произошло в 1547 году
6)	Данная церемония происходила в Архангельском соборе Кремля

Задание №116

Какие из храмов были созданы в тот век, когда в России правил царь, изображённый на портрете? В ответе запишите две цифры, под которыми они указаны.



Запишите число:

1)

Ответ:

Задание №117

Какие из данных памятников архитектуры были созданы при жизни персонажей, изображённых на картине? В ответе запишите две цифры, под которыми они указаны.



Запишите число:

1)	Ответ:	
----	--------	--

Письменные задания

1.1 Задание. Прочитайте отрывок из исторического источника и ответьте на вопросы:

Из книги А. А. Зимина и А. Л. Хорошкевича «Россия времени Ивана Грозного».

«К концу войны хозяйственная разруха резко усилилась. В некоторых районах Новгородской земли запустело 80-90% сёл и деревень. Тяготы возросших поборов, мор и голод приводили к вымиранию населения и к бегству крестьян на восточные и южные окраины. Правительство Грозного пыталось заботиться, прежде всего, о благополучии «воинского чина», т. е. военно-служилого люда. С 1581 г. начинается перепись населения с целью навести порядок в обложении его государственными податями. В районах, где проводилась перепись, крестьянам временно, в течение «заповедных лет», запрещалось уходить от господ. Так

подготавливалась отмена крестьянского выхода и окончательное утверждение крепостного права. Бегство крестьян и холопов продолжалось. На южных рубежах страны скапливался тот горячий элемент, который в начале XVII в. приведёт к грандиозному пожару крестьянской войны.

Введение «заповедных лет», этих предвестников окончательного торжества крепостничества, совпало с присоединением Сибири. Её огромные необжитые или слабо освоенные просторы манили беженцев из крепостнического центра России. Отлив населения снимал остроту классовых противоречий в центре, но создавал их очаги на окраинах»

1. *О последствиях какой войны идёт речь в документе?*
2. *На основе текста и знаний по истории назовите не менее двух мер, предпринимаемых правительством для преодоления хозяйственного кризиса.*
3. *Укажите, в интересах какого слоя населения проводились эти меры?*

1.2 Прочитайте отрывок из исторического источника и ответьте на вопросы:

«Припомню одно: бывало, мы играем в детские игры, а князь Иван Васильевич Шуйский сидит на лавке, опершись локтем о постель нашего отца и положив ногу на стул, а на нас и не взглянет, и уж совсем не как раб на господ. Сколько раз мне и поесть не давали вовремя. Все расхитили коварным образом...».

1. *Что это за документ, кто его автор, кому он адресован, когда приблизительно составлен?*
2. *О каком периоде русской истории вспоминает автор?*
3. *Как в отрывке проявляется мировоззрение автора?*

1.3 Прочитайте отрывок из исторического источника и ответьте на вопросы:

Из Никоновской летописи 1565 г.

(...) Тоя же зимы, декабря в 3 день, в неделю (1), царь и великий князь всеа Русии с своею царицею и великою княгинею Марьею (2) и с своими детми (...) поехал с Москвы в село в Коломенское. (...) Подъем же его не таков был, якоже прежде того ездил по монастырем молиться, или на которые свои потехи в объезды ездил: взял же с собою святость, иконы и кресты, златом и камением драгам украшенные, и суды (3) золотые и серебряные, и поставцы (4) все всяких судов, золотое и серебряное, и платие и денги и всю свою казну повеле взята с собою. Которым же бояром и дворяном ближним и приказным людем повеле с собою ехати, и тем многим повеле с собою ехати з женами и з детми, а дворяном и детем боярским выбором изо всех городов, которых прибрал государь быта с ним (5), велел тем всем ехати с собою с людьми и с коими, со всем служебным нарядом (6). Декабря 21 день, празновал у Троицы в Сергиеве монастыре, а от Троицы из Сергиева монастыря поехал в Слободу (7). А генваря в 3 день прислал царь и великий князь из Слободы ко отцу своему и богомолцу к Офонасию митрополиту всеа Русии с товарищи да список, а в нем писаны измены боярские и воеводские и всяких приказных людей, которые они измены делали и убытки государьству его до его государьского возрасту после отца его блаженные памяти великого государя царя и великого князя Василия Ивановича всеа Русии.

1. *О начале какого события повествуется в документе?*
2. *В каком году оно произошло?*
3. *Назовите не менее 2 мероприятий, проведённых властью в годы, когда в стране происходило это событие.*

Задание 2.1 Прочитайте отрывок из исторического источника и выполните задание к нему:

В исторической науке существуют дискуссионные проблемы, по которым высказываются различные, часто противоречивые точки зрения. Приведем одну из спорных точек зрения, существующих в исторической науке:

«Регентство Елены Глинской было очень успешным, поскольку за время своего правления она успела сделать много полезного для страны».

Используя исторические знания, приведите 3 аргумента, которыми можно подтвердить данную точку зрения или опровергнуть её. При изложении аргументов обязательно используйте исторические факты: даты, личности, события, понятия.

Задание 2.2 Прочитайте отрывок из исторического источника и выполните задание к нему:

В исторической науке существуют дискуссионные проблемы, по которым высказываются различные, часто противоречивые точки зрения. Приведем одну из спорных точек зрения, существующих в исторической науке.

«Избранная рада заменяла и оттесняла молодого Ивана IV, управляя страной вместо царя»

Используя исторические знания, приведите 3 аргумента, которыми можно подтвердить данную точку зрения или опровергнуть её. При изложении аргументов обязательно используйте исторические факты: даты, личности, события, понятия.

Задание 2.3 Прочитайте отрывок из исторического источника и выполните задание к нему:

В исторической науке существуют дискуссионные проблемы, по которым высказываются различные, часто противоречивые точки зрения. Приведем одну из спорных точек зрения, существующих в исторической науке.

«Опричная политика, сопровождавшаяся террором и произволом, ослабила Российское государство».

Используя исторические знания, приведите 3 аргумента, которыми можно подтвердить данную точку зрения или опровергнуть её. При изложении аргументов обязательно используйте исторические факты: даты, личности, события, понятия.

Задание 2.4 Прочитайте отрывок из исторического источника и выполните задание к нему:

В исторической науке существуют дискуссионные проблемы, по которым высказываются различные, часто противоречивые точки зрения. Приведем одну из спорных точек зрения, существующих в исторической науке.

«Иван IV сыграл в российской истории отрицательную роль».

Используя исторические знания, приведите 3 аргумента, которыми можно подтвердить данную точку зрения или опровергнуть её. При изложении аргументов обязательно используйте исторические факты: даты, личности, события, понятия.