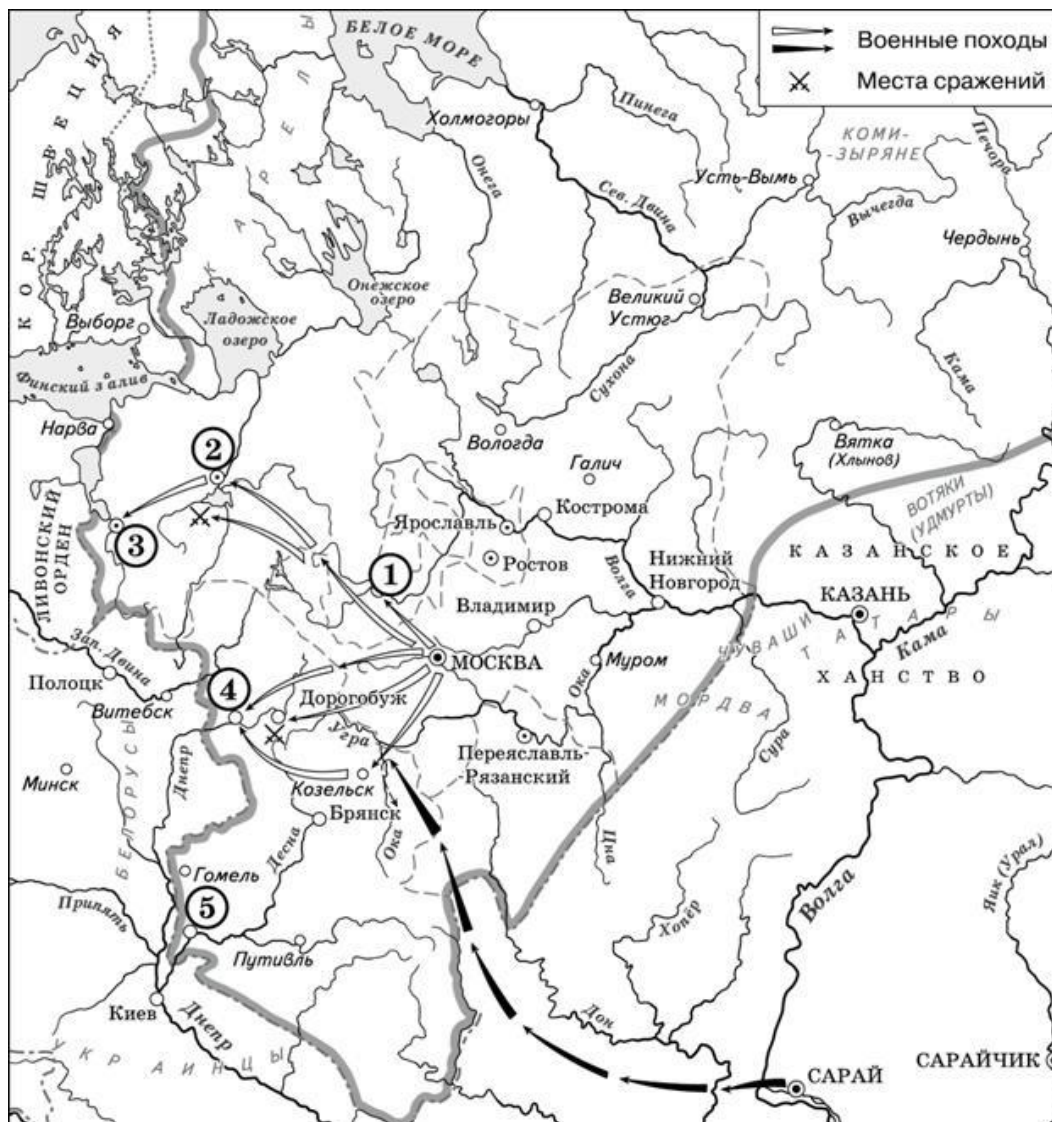


Материалы
для подготовки к зачету по истории 11 класс базовый уровень
Задания с картами- ФИПИ- ЕГЭ 2020

I. Рассмотрите схему и выполните задание



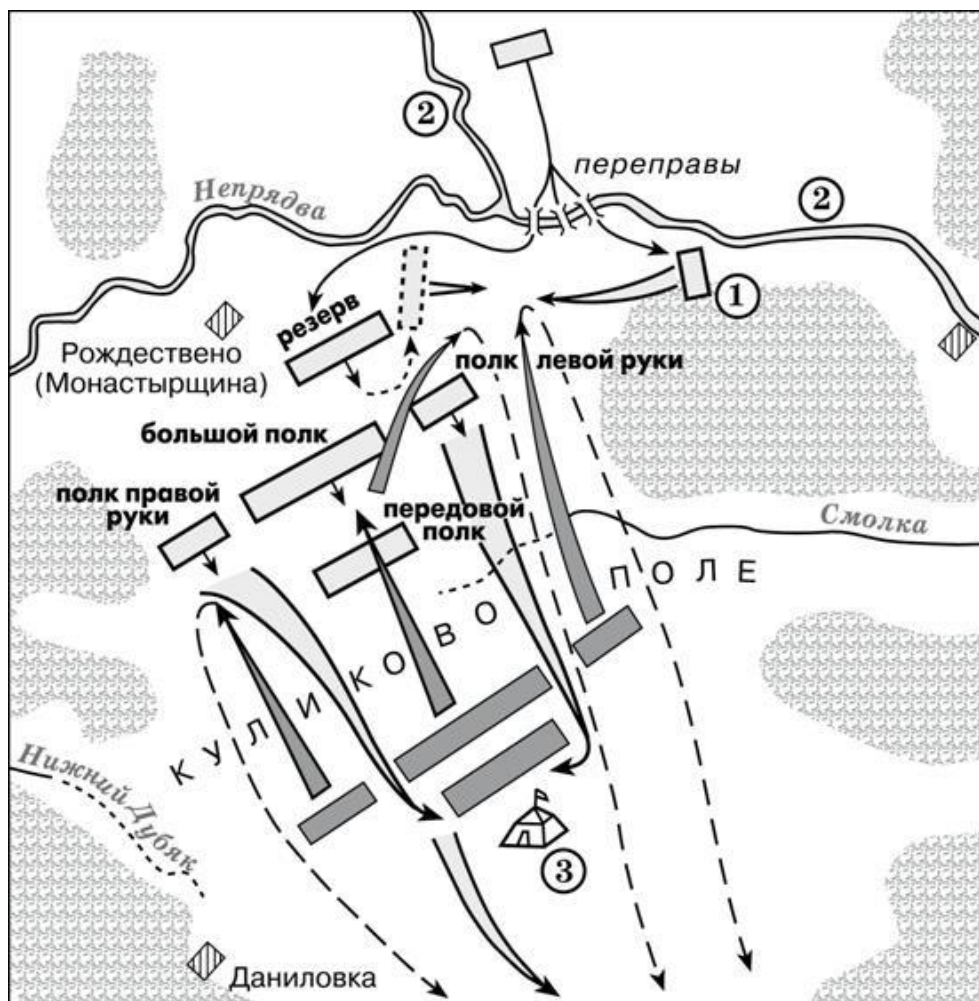
1. Назовите князя, в годы правления которого в состав единого Русского государства вошли города, обозначенные на схеме цифрами «1» и «2».
2. Укажите век, когда в состав единого Русского государства вошли города, обозначенные на схеме цифрами «3», «4» и «5» (ответ напишите словом).
3. Назовите князя, при котором Русское государство достигло границ, обозначенных на схеме жирной чертой.
4. Какие суждения, относящиеся к данной схеме, являются верными? Выберите три суждения из шести предложенных. Запишите в таблицу цифры, под которыми они указаны.

Ответ:

- 1) Города, обозначенные цифрами «4» и «5», были отвоёваны Русским государством у Великого княжества Литовского.

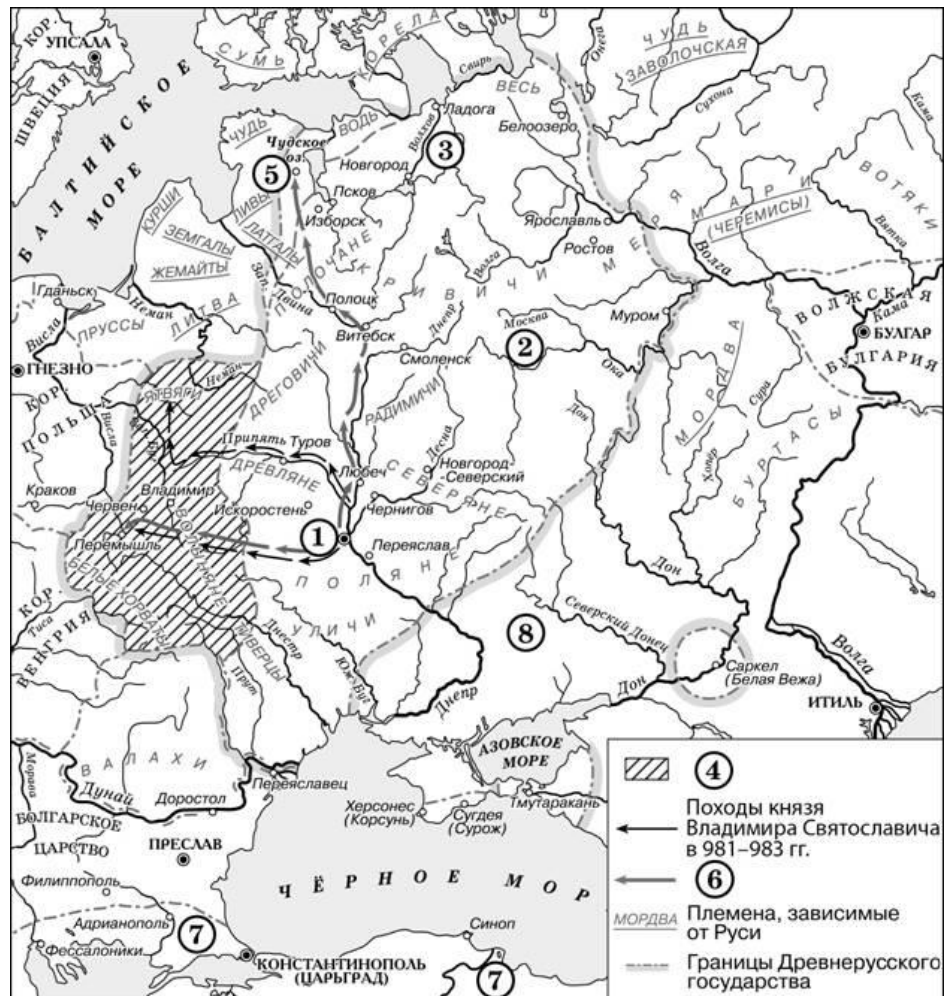
- 2) Следствием провала похода, обозначенного чёрными стрелками, стало освобождение Русского государства от ордынского ига.
- 3) Город, обозначенный цифрой «1», вошёл в состав единого Русского государства в 1478 г.

II. Рассмотрите схему и выполните задания.



1. Заполните пропуск в предложении: «Битва, представленная на схеме, состоялась в тысяча триста _____ году» (ответ напишите словом или словосочетанием).
2. Напишите название полка, обозначенного на схеме цифрой «1».
3. Назовите командующего русскими войсками в битве, представленной на схеме.
4. Какие суждения, относящиеся к битве, представленной на схеме, являются верными? Выберите три суждения из шести предложенных. Запишите в таблицу цифры, под которыми они указаны.
 - 1) Готовясь к этой битве, русские войска переправились через реку, обозначенную на схеме цифрой «2».
 - 2) По преданию, на эту битву русского князя благословил Сергей Радонежский.
 - 3) Цифрой «3» на схеме обозначен стан хана Ахмата.
 - 4) Основной удар ордынцы направили на русский полк правой руки и потеснили его к реке Нижний Дубяк.
 - 5) После победы в этой битве князь получил в народе прозвание (почётное имя), образованное от названия реки, которая обозначена на схеме цифрой «2».
 - 6) После этой битвы Русь никогда не платила дани Золотой Орде.



III. Рассмотрите схему и выполните задания.



1. Укажите название города, обозначенного на схеме цифрой «1».
2. Укажите название восточнославянского союза племен, территория которого обозначена на схеме цифрой «2».
3. Назовите князя, заключившего первый известный письменный договор с государством, обозначенным на карте цифрой «7».
4. Какие суждения, относящиеся к исторической ситуации, обозначенной на схеме, являются верными? Выберите три суждения из шести предложенных. Запишите в таблицу цифры, под которыми они указаны.
 - 1) Киевский князь Игорь погиб во время восстания восточнославянского племенного союза, название которого указано на данной схеме.
 - 2) Цифрой «3» на схеме обозначена территория восточнославянского племенного союза ильменских словен.
 - 3) Цифрой «6» в легенде схемы обозначены направления походов киевского князя Святослава.
 - 4) Город, обозначенный на схеме цифрой «5», расположен в том месте, где теперь находится Санкт-Петербург.
 - 5) С середины XI в. половецкие племена кочевали в районе, обозначенном на схеме цифрой «8».

- б) Территория, обозначенная в легенде схемы цифрой «4», вошла в состав Древнерусского государства при Владимире Мономахе.
- IV. Рассмотрите схему и выполните задания.



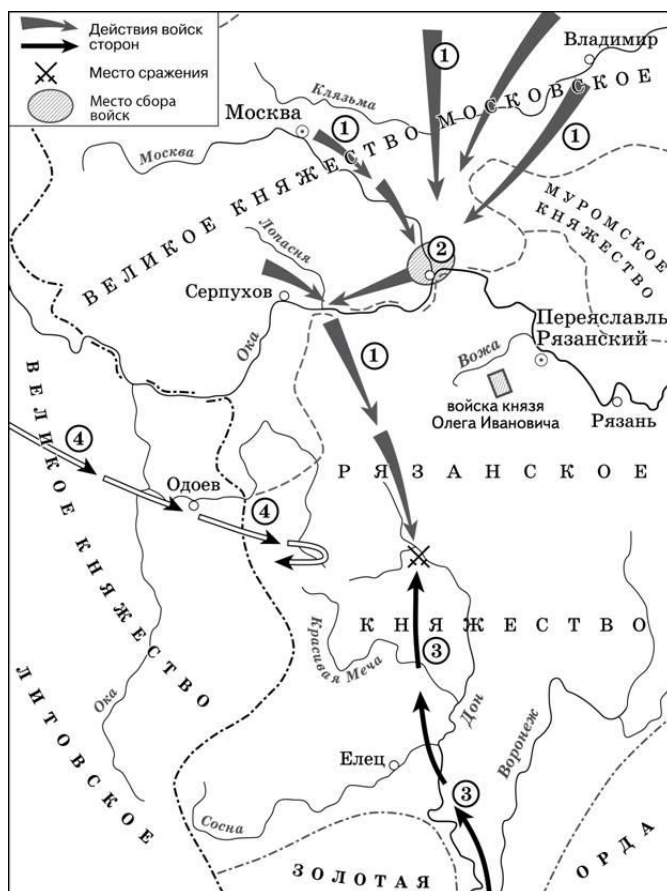
1. Назовите монарха, в период правления которого в состав Российского государства вошёл город, обозначенный на схеме цифрой «3».
2. Заполните пропуск в предложении: «Одна из крупнейших ярмарок России в XVII–XVIII вв. – _____ – обозначена на схеме цифрой "4"»
3. Заполните пропуск в предложении: «Цифрой "1" на схеме обозначен город _____, в непосредственной близости от которого были построены первые в России железодельные заводы».
4. Какие суждения, относящиеся к данной схеме, являются верными? Выберите три суждения из шести предложенных. Запишите в таблицу цифры, под которыми они указаны
 - 1) Крупными центрами кожевенного производства согласно схеме были Тверь, Калуга, Смоленск.
 - 2) Горизонтальной штриховкой  на схеме обозначены районы, специализировавшиеся на пушном промысле.
 - 3) Точечным узором  на схеме обозначен основной район производства льна и пеньки.
 - 4) Цифрой «6» на схеме обозначена река, название которой было изменено в результате крупного народного восстания, произошедшего в том же веке, в котором установились границы Европейской части России, обозначенные на схеме.

- 5) Цифрой «5» на схеме обозначен город, вошедший в состав Российского государства в период правления Ивана IV.
 - 6) Цифрой «2» на схеме обозначен Архангельск.
- V. Рассмотрите схему и выполните задания.



1. Укажите век, в котором происходили события, обозначенные на схеме. Ответ запишите словом.
2. Напишите имя князя, погибшего в месте, обозначенном на схеме цифрой «3».
3. Напишите название города, обозначенного на схеме цифрой «1».
4. Какие суждения, относящиеся к событиям, обозначенным на схеме, являются верными? Выберите три суждения из шести предложенных. Запишите в таблицу цифры, под которыми они указаны.
 - 1) Князь, походы которого обозначены на схеме, планировал перенести столицу Древнерусского государства.
 - 2) Последствием походов князя, обозначенных на схеме, стала раздробленность русских земель.
 - 3) В ходе одного из походов, обозначенных на схеме, произошло первое столкновение русских и монгольских войск.
 - 4) В городе, обозначенном на схеме цифрой «2», был заключён первый письменный договор Древнерусского государства.
 - 5) В ходе одного из походов, обозначенных на схеме, князем и его дружиной был разгромлен Хазарский каганат.
 - 6) Во время походов князя, которые обозначены на схеме, государством управляла его жена.

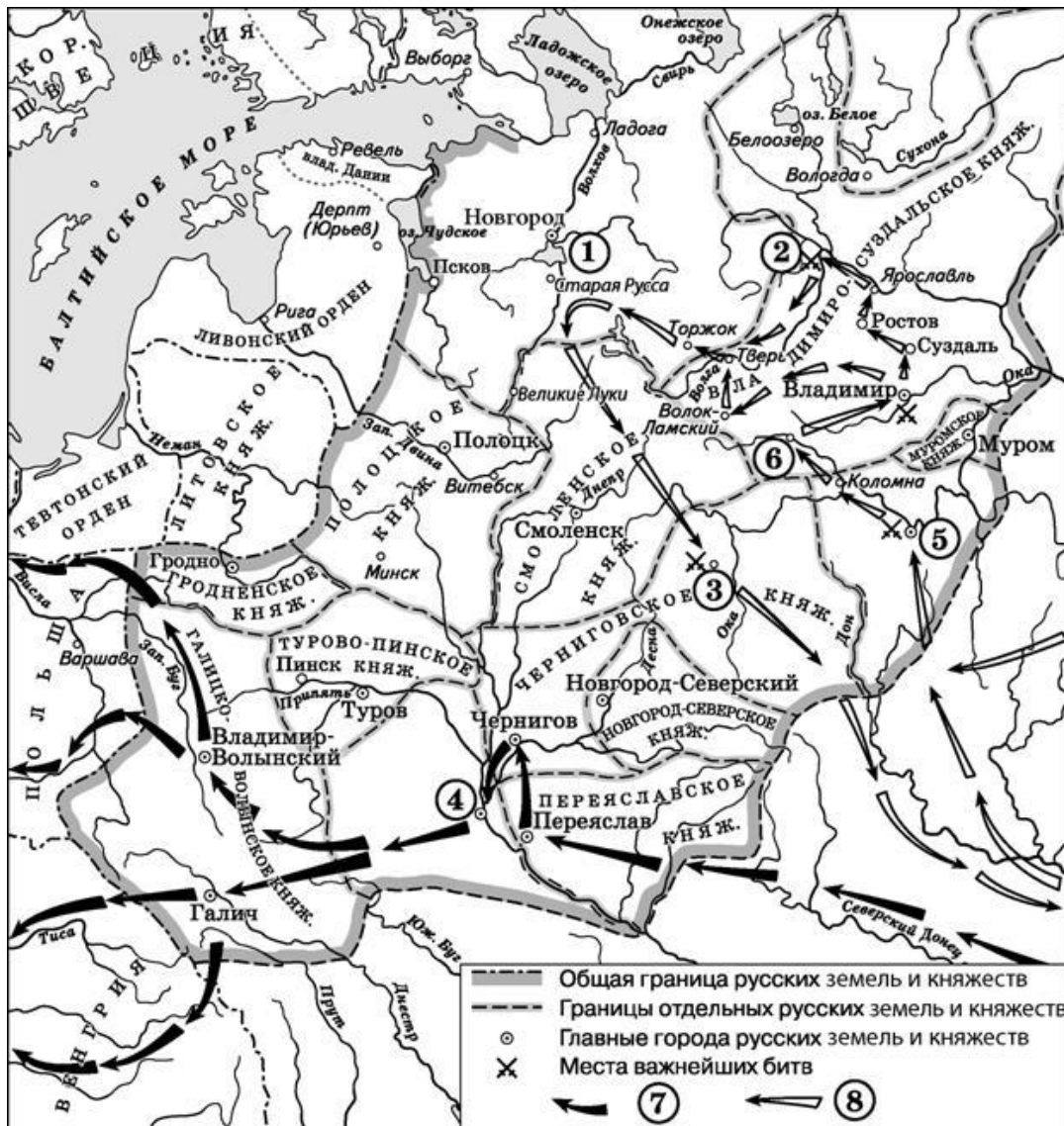
VI. Рассмотрите схему и выполните задания.



1. Укажите век, к которому относятся события, обозначенные на схеме. Ответ напишите словом.
2. Укажите название города, обозначенного на схеме цифрой «2».
3. Укажите полководца, возглавившего поход, направление которого обозначено на схеме цифрой «3».
4. Какие суждения, относящиеся к исторической ситуации, обозначенной на схеме, являются верными? Выберите три суждения из шести предложенных. Запишите в таблицу цифры, под которыми они указаны.

- 1) Действиями войск, направление движения которых обозначено на схеме цифрой «1», руководил князь – основатель династии московских князей.
- 2) Цифрой «4» на схеме обозначено направление движения войск под руководством литовского князя Ягайло.
- 3) В результате сражения, обозначенного на схеме, на Руси было окончательно ликвидировано ордынское владычество.
- 4) В сражении, обозначенном на схеме, на стороне русских войск принимали участие войска рязанского князя.
- 5) В период правления князя, руководившего действиями войск, обозначенных на схеме цифрой «1», были возведены белокаменные стены Московского Кремля.
- 6) На схеме обозначена река, по названию которой было дано прозвище московскому князю, руководившему действиями русских войск, обозначенных на схеме цифрой «1».

VII. Рассмотрите схему и выполните задания.



1. Укажите век, когда произошли события, обозначенные на схеме стрелками. Ответ запишите словом.
2. Укажите название города, обозначенного на схеме цифрой «3».
3. Назовите главнокомандующего, руководившего походом по направлению, обозначенному в легенде схемы цифрой «7».
4. Какие суждения, относящиеся к данной схеме, являются верными? Выберите три суждения из шести предложенных. Запишите в таблицу цифры, под которыми они указаны.
 - 1) Первое летописное упоминание о городе, обозначенном на схеме цифрой «6», относится к 1147 г.
 - 2) Цифрой «5» на схеме обозначена Рязань.
 - 3) Стрелками, обозначенными в легенде схемы цифрой «8», показаны действия монгольских войск.
 - 4) Цифрой «2» на схеме обозначена река Калка.

- 5) Боярин Евпатий Коловрат, прославившийся своей храбростью, был родом из города, обозначенного на схеме цифрой «4».
- 6) Цифрой «1» на схеме обозначен водный объект, по которому в годы Великой Отечественной войны проходила Дорога жизни.

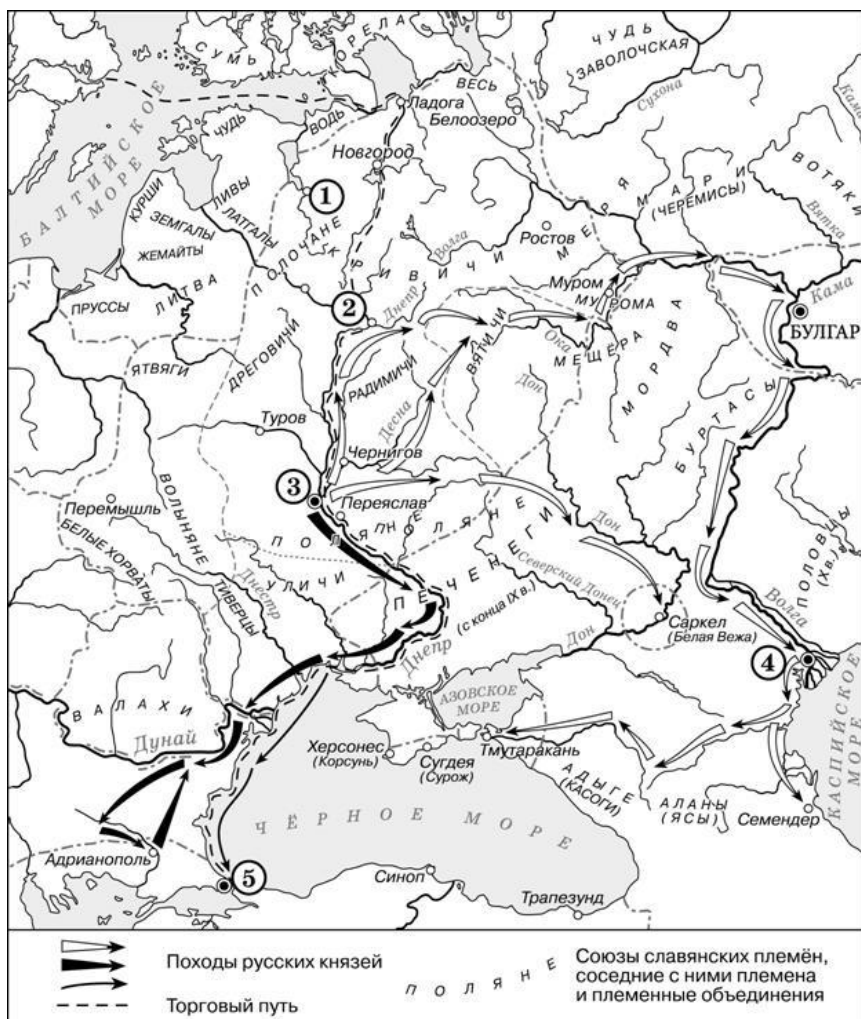
VIII. Рассмотрите схему и выполните задания.






1. Назовите военачальника, возглавившего поход по направлению, обозначенному в легенде схемы цифрой «4».
2. Назовите русского полководца, под руководством которого совершены походы, обозначенные на схеме.
3. Назовите государство, войска которого совершили поход, обозначенный в легенде схемы цифрой «5».
4. Какие суждения, относящиеся к данной схеме, являются верными? Выберите три суждения из шести предложенных. Запишите в таблицу цифры, под которыми они указаны.
- 1) В сражении, обозначенном на схеме цифрой «3», русские войска потерпели поражение.
- 2) Цифрой «2» на схеме обозначено сражение, произошедшее зимой.
- 3) В период, к которому относится схема, высшим органом управления в городе, обозначенном на схеме цифрой «1», являлось народное собрание.
- 4) Раньше других походов, обозначенных на схеме стрелками, произошёл поход войска, направление движения которого обозначено в легенде схемы цифрой «6».
- 5) На схеме обозначен и подписан город, который в XIV в. являлся основным в Северо-Восточной Руси соперником Москвы в борьбе за роль центра объединения русских земель.

- б) На схеме обозначено и подписано озеро, по которому в годы Великой Отечественной войны проходила Дорога жизни.

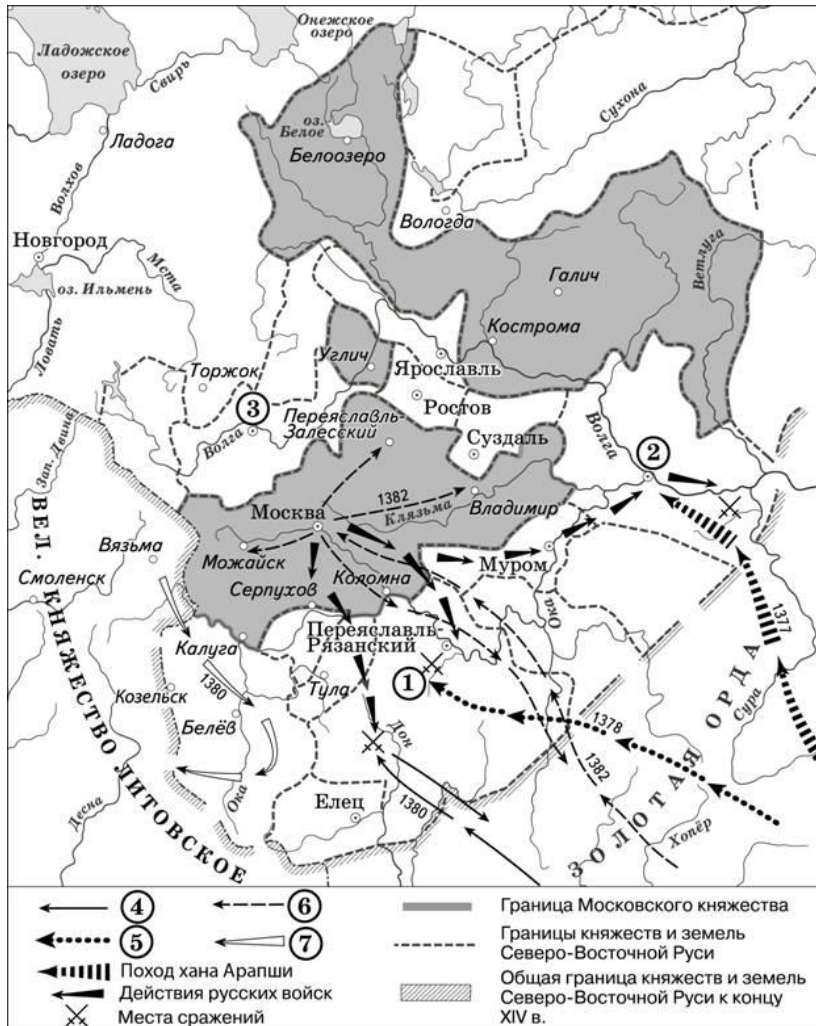
IX. Рассмотрите схему и выполните задания.



1. Заполните пропуск в предложении: «Киевский князь _____ в начале X в. совершил успешный поход по маршруту, обозначенному на схеме тонкими чёрными стрелками ».
2. Укажите название города, обозначенного на схеме цифрой «1».
3. Укажите название государства, столица которого обозначена цифрой «5», в период отражённых на схеме событий.
4. Какие суждения, относящиеся к исторической ситуации, обозначенной на схеме, являются верными? Выберите три суждения из шести предложенных. Запишите в таблицу цифры, под которыми они указаны.
 - 1) На схеме обозначен город, в котором согласно «Повести временных лет» было принято решение о приглашении варяжских князей.
 - 2) Цифрой «2» на схеме обозначен город – центр восточнославянского племенного союза ильменских словен.
 - 3) Походы, обозначенные на схеме широкими чёрными стрелками  и белыми стрелками , относятся к деятельности одного и того же киевского князя.
 - 4) Цифрой «4» на схеме обозначена столица Волжской Булгарии.

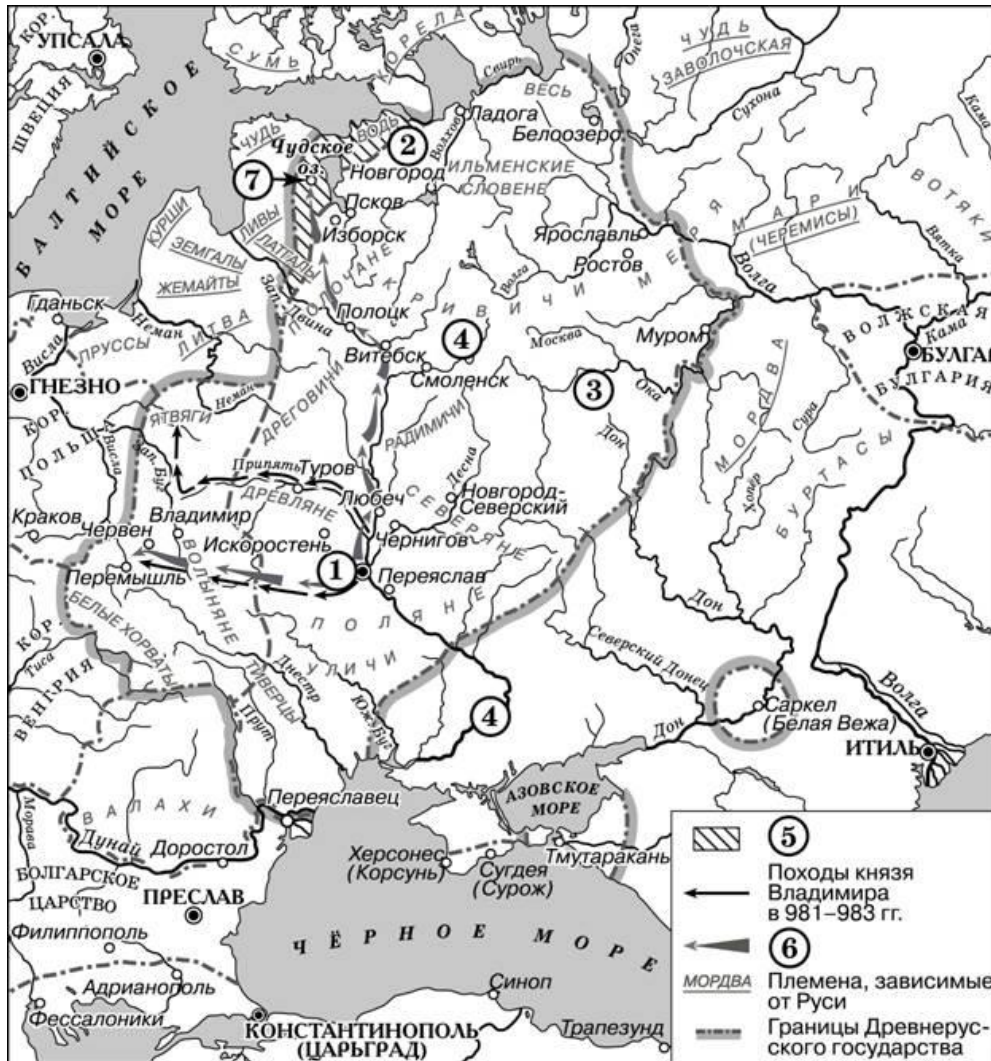
- 5) Торговый путь, обозначенный на схеме, известен в истории как путь «из варяг в греки».
- 6) Киевский князь Игорь погиб во время восстания восточнославянского племенного союза, центр которого обозначен на схеме цифрой «3».

X. Рассмотрите схему и выполните задания.



1. Заполните пропуск в предложении: «Город, обозначенный на схеме цифрой "3", вошёл в состав Московского княжества во второй половине _____ века». Ответ запишите словом.
2. Укажите название реки, на которой произошло сражение, обозначенное на схеме цифрой «1».
3. Назовите военачальника, поход которого обозначен в легенде схемы цифрой «4».
4. Какие суждения, относящиеся к схеме, являются верными? Выберите три суждения из шести предложенных. Запишите в таблицу цифры, под которыми они указаны.
 - 1) События, обозначенные на схеме стрелками, произошли в период, когда московский престол занимал Иван Калита.
 - 2) В результате набега, обозначенного в легенде схемы цифрой «6», русские земли были вынуждены возобновить ежегодную выплату дани Орде.
 - 3) Военный поход литовских войск, обозначенный в легенде схемы цифрой «7», возглавлял князь Гедимин.
 - 4) На схеме обозначен и подписан город – центр племенного союза полян.

- 5) Цифрой «2» на схеме обозначен город – центр формирования народного ополчения, освободившего Москву от польско-литовских интервентов в начале XVII в.
 - 6) На схеме обозначен и подписан город – центр земли, где в период, к которому относятся события, обозначенные на схеме стрелками, существовала республиканская форма правления.
- XI. Рассмотрите схему и выполните задания.



1. Назовите киевского князя, под руководством которого в XI в. состоялись походы, обозначенные в легенде схемы цифрой «б».
 2. Укажите название восточнославянского племенного союза, жившего в районе, обозначенном на схеме цифрой «3».
 3. Укажите название реки, дважды обозначенной на схеме цифрой «4».
 4. Какие суждения, относящиеся к исторической ситуации, обозначенной на схеме, являются верными? Выберите три суждения из шести предложенных. Запишите в таблицу цифры, под которыми они указаны.
- 1) Цифрой «1» на схеме обозначен город Киев.
 - 2) Киевский князь Игорь погиб в результате восстания восточнославянского племенного союза, территория расселения которого обозначена на схеме цифрой «2».
 - 3) Цифрой «7» на схеме обозначен город Юрьев.

- 4) Территория, обозначенная в легенде схемы цифрой «5», вошла в состав Древнерусского государства в X в.
- 5) На схеме обозначен и подписан город, где в 1097 г. состоялся съезд князей, на котором было принято решение «каждый да держит отчину свою».
- 6) На схеме обозначена и подписана река, на берегу которой в 1223 г. союзное русско-половецкое войско было разбито монгольским войском.