

ГЕОГРАФИЯ 10 КЛАСС СЭ
ПРИМЕРНЫЙ БАНК заданий Модуль 4 «Мировое хозяйство. НТР. МГРТ. ТЭК. Металлургия».

1	Мировое хозяйство, этапы его развития	сущностные признаки понятий	<p>1. Совокупность национальных хозяйств стран мира, между которыми существуют экономические связи, называется:</p> <p>2. Импорт - это:</p> <p>3. Отрасли хозяйства, ориентированные на экспорт и создавшие «лицо» страны в международном географическом разделении труда, называют....</p> <p>4. Специализация отдельных стран на производстве определенных видов продукции и услуг и обмена ими называется:</p> <p>5. Экспорт - это:</p> <p>6. Исторически сложившуюся совокупность национальных хозяйств всех стран мира, связанных между собой всемирными экономическими отношениями, называют</p> <p>7.Международная экономическая интеграция — это</p> <p>а) зона беспошлинной торговли</p> <p>б) зона свободного движения населения</p> <p>с) процесс развития особенно глубоких, устойчивых международных связей отдельных групп стран, основанный на проведении ими согласованной межгосударственной политики</p> <p>8. Высшая ступень международного географического разделения труда называется:</p> <p>а) отрасль специализации</p> <p>б) мировой торговлей</p> <p>с) международной экономической интеграцией</p> <p>д) мировым рынком</p> <p>е) индустриальной структурой экономики</p> <p>9.Международное географическое разделение труда выражается в специализации отдельных стран на...</p> <p>А)производстве всех видов продукции и услуг и в последующем обмене ими</p> <p>Б) производстве только одной продукции или услуге</p> <p>В)производстве определенных видов продукции и услуг и в последующем обмене ими.</p> <p>10. Отрасль мировой специализации – результат ...</p> <p>А) географического разделения труда</p> <p>Б) географического положения</p> <p>В) географического районирования</p> <p>11.Объективный процесс развития особенно глубоких и устойчивых взаимосвязей отдельных групп стран, основанный на проведении ими согласованной межгосударственной политики называется:</p> <p>А) международным экономическим сообществом</p> <p>Б) международной экономической интеграцией</p> <p>В) международным экономическим съездом.</p> <p>12. Как часто называют хозяйство стран мира?</p> <p>Природопользование</p> <p>Ресурсообеспеченность</p> <p>Экономика Нефтедобыча</p>
---	---------------------------------------	-----------------------------	---

2	Международное географическое разделение труда	Называть признаки географическое разделение труда	<p>1. Главным показателем участия страны в мировой торговле является</p> <ol style="list-style-type: none"> валовой внутренний продукт национальный доход внешнеторговый оборот товарная структура экспорта <p>2. "Информационный взрыв" характеризуется быстрым ростом:</p> <ol style="list-style-type: none"> Тиражей газет и журналов Количества гимназий и лицеев Объёма научных знаний и количества источников информации Научноёмких производств <p>3. Географическое разделение труда определяется</p> <ol style="list-style-type: none"> Специализацией стран и регионов на производстве определённой продукции Только географическим положением Типом страны Обменом товарами и услугами
3	Факторы МГРТ	Закрепление знаний	<p>1. Укажите факторы, способствующие географическому разделению труда</p> <ol style="list-style-type: none"> географическое положение и природные условия природные ресурсы и уровень развития экономики страны социально-экономические условия и исторические традиции все перечисленные факторы верны <p>2. Международное географическое разделение труда выражается в специализации отдельных стран на...</p> <ol style="list-style-type: none"> производстве всех видов продукции и услуг и в последующем обмене ими производстве только одной продукции или услуге производстве определенных видов продукции и услуг и в последующем обмене ими. <p>3. Отрасль мировой специализации – результат ...</p> <ol style="list-style-type: none"> географического разделения труда географического положения географического районирования
4	ТНК и МГРТ	Выделять характерные черты ТНК и МГРТ	<p>1. Главными признаками понятия МГРТ являются:</p> <p>специализация и обмен концентрация и кооперирование кооперирование и обмен концентрация и специализация</p> <p>2. Международная организация МАГАТЭ занимается вопросами:</p> <ol style="list-style-type: none"> экспорта нефти развития черной металлургии атомной энергетики угольной промышленности <p>3. Отрасль мировой специализации – результат ...</p> <ol style="list-style-type: none"> географического разделения труда

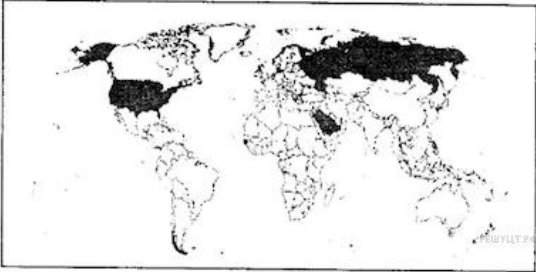

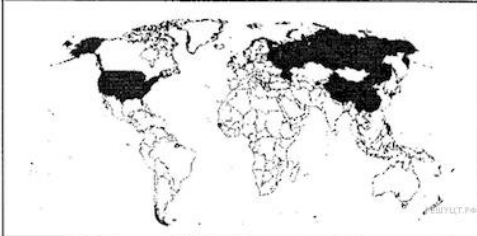
			<p>Б) географического положения</p> <p>В) географического районирования</p>
5	Интеграция	Умение различать типы международных интеграций	<p>1. Верно ли утверждение: "Из европейских государств в состав ОПЕК входят Великобритания и Норвегия"?</p> <p>верно неверно</p> <p>2. Верно ли утверждение, что ОПЕК отраслевая международная интеграция</p> <p>верно неверно</p> <p>3. Верно ли утверждение, что ЕС (Европейский Союз) отраслевая международная интеграция</p> <p>верно неверно</p>
6	международные интеграции	Называть страны, входящие в крупнейшие международные интеграции	<p>1. К числу региональных экономических сообществ относятся</p> <p>ЕЭС, АСЕАН, ОПЕК НАТО, СЭВ, ЕЭС ЕЭС, ЛААИ, АСЕАН СЭВ, ОПЕК, ЕЭС</p> <p>2. Выберите варианты по принципу «страна экономическая группировка»:</p> <p>Греция — Европейский союз Индия — АСЕАН Австрия — ОПЕК Аргентина — НАФТА</p> <p>3. Выберите региональные экономические группировки:</p> <p>АСЕАН ЛАИ НАФТА Европейский союз все перечисленные</p>
7	МГРТ	Умение сопоставлять страну и ее международную специализацию	<p>1. Установите соответствие между отраслью промышленности и страной, в которой она является отраслью международной специализации.</p> <p>Отрасль промышленности</p> <p>1) добыча нефти 2) черная металлургия 3) лесная и деревообрабатывающая</p> <p>Страна</p> <p>А) Австралия Б) Алжир В) Эфиопия Г) Финляндия</p>

			<p>2. Установите соответствие между отраслью промышленности и страной, в которой она является отраслью международной специализации.</p> <p>Отрасль промышленности</p> <ol style="list-style-type: none"> 1) добыча нефти 2) черная металлургия 3) лесная и деревообрабатывающая <p>Страна</p> <ol style="list-style-type: none"> А) Бразилия Б) Германия В) Катар <p>3. Установите соответствие между отраслью промышленности и страной, в которой она является отраслью международной специализации.</p> <p>Отрасль промышленности</p> <ol style="list-style-type: none"> 1) добыча нефти 2) черная металлургия 3) лесная и деревообрабатывающая <p>Страна</p> <ol style="list-style-type: none"> А) Венесуэла Б) Польша В) Финляндия
8	Интеграция	Состав международных интеграционных группировок письменно	<p>1. Цены на нефть, от которых в значительной степени зависит развитие экономики России, определяются согласованностью позиций стран ОПЕК. Назовите три (любые) страны, являющиеся членами ОПЕК.</p>
9	Мировое хозяйство	Умение находить критически оценивать предложенный текст	<p>1. Укажите ошибку в направлениях современного развития производства.</p> <ol style="list-style-type: none"> а) электронизация и автоматизация б) перестройка энергетического хозяйства при увеличении использования нефти и газа в) производство новых материалов и космизация г) ускоренное развитие биотехнологии <p>2. Выберите неверное утверждение:</p> <p>Под универсальностью НТР понимается охват этим процессом всех сфер и отраслей хозяйства</p> <ul style="list-style-type: none"> - Четыре составные части НТР: наука, управление, электронизация и химизация - Увеличение объема доменных печей — пример эволюционного развития техники и технологии - Примером комплексной автоматизации может служить использование роботов при производстве автомобилей <p>3. Выберите верное утверждение:</p>

			<p>a) Научно-техническая революция — это качественный скачок в развитии науки и техники</p> <p>b) Научно-техническая революция — это исторически сложившаяся совокупность национальных хозяйств</p> <p>c) все перечисленное</p>
10	НТР и мировое хозяйство	Умение выделять существенные признаки понятий	<p>Научно-техническая революция влияет:</p> <ol style="list-style-type: none"> 1) только на отраслевую структуру хозяйства; 2) только на территориальную структуру хозяйства; 3) на отраслевую и территориальную структуру хозяйства. <p>В эпоху НТР среди отраслей промышленности наиболее высокими темпами развиваются:</p> <ol style="list-style-type: none"> 1) машиностроение и черная металлургия; 2) черная металлургия и химия полимеров; 3) химия полимеров и машиностроение. <p>Новые факторы размещения производства в эпоху НТР — это:</p> <ol style="list-style-type: none"> 1) фактор наукоемкости и природно-ресурсный; 2) природно-ресурсный и экологический; 3) экологический и фактор наукоемкости.
11		Называть страны-лидеры по НИОКР	<p>1. Какие из утверждений о США верны? Запишите цифры ответов в порядке возрастания порядкового номера, под которыми они указаны.</p> <ol style="list-style-type: none"> 1) По форме государственного устройства страна является унитарным государством. 2) Столица США является самым крупным городом страны. 3) Страна является крупнейшей в Америке по численности населения. 4) Большая часть электроэнергии в стране производится на ТЭС. <p>2. Какие из утверждений о Японии верны? Запишите цифры ответов в порядке возрастания порядкового номера, под которыми они указаны.</p> <ol style="list-style-type: none"> 1) Япония по форме правления является республикой. 2) Япония является крупнейшим в мире импортёром нефти и природного газа 3) Большая часть населения страны проживает в мегалополисе Токайдо 4) В структуре ВВП Японии преобладает доля промышленности. 5) Самый крупный остров страны — о. Хонсю. <p>3. Какие утверждения о Канаде являются верными? Запишите цифры в порядке возрастания порядкового номера под которыми указаны верные утверждения.</p> <ol style="list-style-type: none"> 1) Государственные границы страны выходят к трём океанам.

			<p>2) Население страны равномерно распространено по территории страны.</p> <p>3) Это самая большая по площади страна на материке.</p> <p>4) Это самая большая по численности населения страна на материке.</p> <p>5) Отрасль специализации страны — производство алюминия.</p>
12	Факторы размещения	Определять условия и факторы размещения предприятий	<p>1. Выберите из списка центр мирового хозяйства с наименьшей долей в мировом ВВП:</p> <p>a) Северная Америка b) Индия c) Зарубежная Европа d) Япония e) Китай</p> <p>2. Выберите вариант, в котором указаны только высокоразвитые районы:</p> <p>a) Калифорнийский, Парижский, Токийский b) Лондонский, Канадский Север, Рурский c) Северная Австралия, Аляска, Восточная Сибирь d) Амазонский, Нью-Йоркский, Миланский</p>
13	Мировое хозяйство	Умение сопоставлять географическую составляющую и современные модели мирового хозяйства	<p>1. В конце 19 века главным центром мирового хозяйства была:</p> <p>А) Северная Америка Б) Азия В) Европа Г) Южная Америка</p> <p>2. Современное мировое хозяйство полицентрично, какой регион или страна не является центром современной мировой экономики?</p> <p>А) Европа Б) США В) страны СНГ Г) Япония Д) нефтедобывающие страны Е) страны центральной Африки.</p> <p>3. Новые индустриальные страны (НИС) включают четыре «азиатских тигра», это...</p> <p>А) Республика Корея, Тайвань, Гонконг и Сингапур Б) КНДР, Тайвань, Китай и Сингапур. В) Индия, Тайвань, Гонконг и Сингапур</p>
14	Интеграция	Знание мировых экономических группировок	<p>2. Выберите варианты по принципу «страна экономическая группировка»:</p> <p>a) Греция — Европейский союз b) Индия — АСЕАН c) Австрия — ОПЕК</p>

			<p>d) Аргентина — НАФТА e) все перечисленные</p> <p>3. Выберите региональные экономические группировки: a) АСЕАН b) ЛАИ c) НАФТА d) Европейский союз e) все перечисленные</p> <p>4. Международная организация МАГАТЭ занимается вопросами: экспорта нефти развития черной металлургии атомной энергетики угольной промышленности</p>
15	Топливная промышленность	Оценивать ресурсообеспеченность отдельных стран и регионов мира	<p>1. В Европе странами, ведущими добычу нефти, являются: a) Дания, b) Норвегия, c) Швейцария d) Франция, e) Португалия,</p> <p>2. Выберите три страны, являющиеся крупными экспортерами нефти. Напишите в ответ цифры, под которыми они указаны. 1) Куба 2) Польша 3) Россия 4) Венесуэла 5) Япония 6) Иран</p> <p>3. Выберите в приведенном списке три страны, являющиеся крупными производителями природного газа. 1) Иран 2) Канада 3) Дания 4) США 5) Финляндия 6) Республика Корея</p>
16	ТЭК	Обсуждать проблемы целесообразности строительства объектов письменно	<p>1. Новая приливная электростанция Новую приливную электростанцию компания «РУСГИДРО» планирует построить в морском заливе на севере Хабаровского края. Новая приливная электростанция (ПЭС) не только обеспечит энергией потребителей Хабаровского края, но и создаст возможность для экспорта электроэнергии в Китай. В Хабаровском крае, имеющем благоприятные условия для строительства приливных электростанций, уже работает одна ПЭС — Паужетская.</p> <p>1. Назовите море, в заливе которого планируют построить ПЭС.</p>

			<p>С какими странами граничит Приморский край? 2.Объясните, почему Хабаровский край имеет благоприятные природные условия для строительства приливных электростанций.</p>
17	<p>География топливной промышленности</p>	<p>Умение работать с картохемами</p>	<p>1.На карте цветом выделены три государства, которые в международном разделении труда являются ведущими по:</p>  <ol style="list-style-type: none"> 1) добыче нефти 2) поголовью овец и коз 3) протяженности железных дорог 4) тоннажу спускаемых на воду судов <p>2.На карте цветом выделены три государства, которые являются:</p>  <ol style="list-style-type: none"> 1) членами Организации стран — экспортеров нефти (ОПЕК) 2) ведущими странами-производителями станков 3) ведущими странами по объемам производства чугуна 4) ведущими странами по поголовью овец <p>3.На карте цветом выделены три государства, которые в международном разделении труда являются ведущими по:</p>  <ol style="list-style-type: none"> 1) добыче угля 2) выплавке стали 3) производству кукурузы 4) протяженности железных дорог

18	Энергетика мира	Знание разных типов электростанций.	<p>1. В энергобалансе какого государства вырабатывается больше всего электроэнергии на АЭС: Италия Германия Франция Россия</p> <p>2. В какой из перечисленных стран в структуре производства электроэнергии преобладают ТЭС? Саудовская Аравия Бразилия Швейцария Норвегия</p> <p>3. Выберите из предложенного списка три страны, в структуре электроэнергетики которых преобладают ГЭС. Польша Норвегия ЮАР Бразилия</p>								
19		Сопоставление	<p>1. Установите соответствие: 1. ГЭС а) Канада, Норвегия, Новая Зеландия, Бразилия, Танзания, Непал; 2. ТЭС б) Франция, Япония, Южная Корея, Швеция, Бельгия; 3. АЭС в) ЮАР, Германия, Австралия, США, Китай.</p> <p>1. Установите соответствие: 1. Страна занимает 10 место по производству электроэнергии, доля ГЭС – 93%. 2. Страна занимает 7 место по производству электроэнергии, доля АЭС – 77%. 3. Страна занимает 4 место по производству электроэнергии, доля ТЭС – 72%. А. Франция Б. Россия В. Бразилия</p> <p>3. Установите соответствие в структуре выработки электроэнергии в мире:</p> <table data-bbox="662 1512 1332 1657"> <tr> <td>1. ТЭС</td> <td>А. 17%</td> </tr> <tr> <td>2. ГЭС</td> <td>Б. 20%</td> </tr> <tr> <td>3. АЭС</td> <td>В. 62%</td> </tr> <tr> <td>4. Альтернативные электростанции</td> <td>Г. 1%</td> </tr> </table>	1. ТЭС	А. 17%	2. ГЭС	Б. 20%	3. АЭС	В. 62%	4. Альтернативные электростанции	Г. 1%
1. ТЭС	А. 17%										
2. ГЭС	Б. 20%										
3. АЭС	В. 62%										
4. Альтернативные электростанции	Г. 1%										
20	Энергетика мира	Приводить примеры стран с наибольшей долей производства электроэнергии	<p>1. Страны-импортёры электроэнергии: а) Канада, Австралия, Новая Зеландия б) Мексика, Украина, Венгрия с) Россия, Украина, Франция д) Италия, Нидерланды, США</p> <p>2. Больше всего электроэнергии на душу населения производится в: Норвегии США</p>								

			Россия Китай
21	ТЭК	Приводить примеры стран лидеров по топливным ресурсам	<p>1. Крупнейшими производителями нефти в мире являются страны:</p> <p>А) Западной Азии Б) Африки В) Латинской Америки</p> <p>2. Какие три из перечисленных стран являются крупными производителями и экспортерами каменного угля?</p> <p>1) Австралия 2) Канада 3) Алжир 4) США 5) Ливия 6) Франция</p> <p>3. Какие три из перечисленных стран являются крупными производителями и экспортерами нефти и природного газа?</p> <p>1) Мексика 2) Франция 3) Норвегия 4) Украина 5) Турция 6) Алжир</p>
22	География мировой черной металлургии	Выявлять сущность понятия – отрасль черная металлургия	<p>1. Современными тенденциями развития черной металлургии являются:</p> <p>а) ориентация на привозное сырье; б) развитие сети гигантских металлургических комбинатов; в) рост производства стали в развивающихся странах; г) создание мини-заводов, приближенных к потребителям металла; д) рост производства стали и чугуна в развитых странах.</p> <p>2. Какие слова верно характеризуют черную металлургию?</p> <p>а) экологически грязная отрасль; б) отрасль, дающая дорогую престижную продукцию; в) наукоемкая отрасль; г) отрасль, требующая большого количества природного сырья.</p> <p>3. Какие суждения верно характеризуют черную металлургию? 1)</p> <p>1) Металлургия обеспечивает хозяйство стран черными металлами: сталью, чугуном и ферросплавами 2) Основным исходным сырьем для получения черных металлов являются железная руда, марганец, коксующиеся угли и руды легирующих металлов 3) Основная продукция предприятий черной металлургии — сталь, цветной металлургии — алюминий, медь, цинк и свинец 4) Металлургия относится к группе «грязных» производств, поэтому предприятия этой отрасли выводятся из развитых стран в развивающиеся</p>

23	МГРТ	Устанавливать соответствие между отраслями хозяйства и странами по производству чугуна и стали	<p>Установите соответствие между отраслью промышленности и страной, в которой она является отраслью международной специализации.</p> <p>Отрасль промышленности</p> <ol style="list-style-type: none"> 1) добыча нефти 2) черная металлургия 3) лесная и деревообрабатывающая <p>Страна</p> <ol style="list-style-type: none"> А) Австралия Б) Алжир В) Эфиопия Г) Финляндия <p>Установите соответствие.</p> <p>Страна</p> <ol style="list-style-type: none"> 1. Чили. 2. Япония. 3. Куба. 4. США. <p>Отрасль международной специализации</p> <ol style="list-style-type: none"> А. Производство сахара. Б. Производство промышленных роботов. В. Производство программных продуктов. Г. Банковские услуги. Д. Медная промышленность <p>Установите соответствие:</p> <p>Страна</p> <ol style="list-style-type: none"> 1. Япония. 2. Россия. 3. Эфиопия. <p>Структура хозяйства</p> <ol style="list-style-type: none"> А. Аграрная. Б. Индустриальная. В. Постиндустриальная
24	ТЭЖ	Выявлять факторы размещения металлургических предприятий	<ol style="list-style-type: none"> 1. Сырьем и топливом для черной металлургии являются: 2. древесина и газ 3. железные руды и уголь 4. нефть и железные руды 5. уголь и нефть <p>2. Какой фактор наиболее важен для размещения предприятий черной металлургии полного цикла?</p> <ol style="list-style-type: none"> 1. потребительский 2. сырьевой 3. научный 4. экологический <p>3. Производство легких металлов приурочено к.. районам производства дешевой электроэнергии</p>

			<p>районам добычи руды К потребителю К транспортным магистралям</p>
25	География мировой цветной металлургии и производства благородных металлов	Классификация металлов	<p>Укажите ошибку в перечне тяжелых цветных металлов: медь никель алюминий цинк</p> <p>Укажите ошибку в перечне тяжелых цветных металлов: кобальт, свинец, титан, золото</p> <p>Укажите ошибку в перечне легких цветных металлов: магний, бериллий, платина, алюминий</p>
26		Знание главных центров металлургической промышленности	<p>1. Страны- лидеры в мире по запасам и добыче меди. Чили, Замбия, Перу. Иран, Замбия, Перу. Чили, Замбия, Австралия.</p> <p>2. Страны- лидеры в мире по запасам и добыче олова. Чили, Индонезия, Малайзия. Перу, Индонезия, Малайзия. Перу, Куба, Малайзия.</p> <p>3. Какая из перечисленных стран является крупным производителем алюминия? Гвинея, Афганистан, Вьетнам Ямайка, Россия, Китай Аргентина, Йемен, Куба</p>
27	Металлургия	Умение выстраивать схему процесса производства Письменно	<p>Составьте технологическую цепочку производства «чёрных металлов»</p> <p>Добыча руды – плавка стали – плавка чугуна – прокат. Добыча руды – обогащение – плавка чугуна – плавка стали – прокат Добыча руды - обогащение – плавка чернового металла – плавка рафинированного металла – прокат</p>
28	Практикоориентированные задания	Умение давать оценку на	<p>1. При оценке роли промышленности в экономике стран используют много показателей, среди которых доля городского населения, доля занятых в промышленности среди экономически активного населения и доля промышленности в ВВП страны.</p>

основе анализа статматериалов

письменно

Используя данные таблицы, сравните по каждому из этих показателей Кувейт и Монголию. Предположите, в экономике какой страны роль промышленности больше. Дайте развернутый ответ.

Социально-экономические показатели развития Кувейта и Монголии

Страна	Численность населения, тыс чел.	Городское население, %	Отраслевая структура ВВП, %		
			Сельское хоз-во	Сфера услуг	Промышленность
Кувейт	2789	98	0,3	51,4	47,3
Монголия	3086	57	21,2	49,3	29,5

В Кувейте больше доля промышленности в отраслевой структуре ВВП. Также уровень урбанизации в Кувейте выше, так как выше доля городского населения. Эти данные позволяют предположить, что роль промышленности в хозяйстве Кувейта больше, чем в Монголии.

29

письменно

1.Используя данные таблицы, приведённой ниже, сравните долю сельскохозяйственного населения (людей, занятых в сельском хозяйстве, и членов их семей, находящихся на их иждивении) в общей численности населения и долю сельского хозяйства в ВВП Кении и Бразилии. Сделайте вывод о том, в какой из этих стран сельское хозяйство играет большую роль в экономике. Для обоснования своего ответа запишите необходимые числовые данные или вычисления.

Социально-экономические показатели развития Кении и Бразилии в 2010 г.

Страна	Численность населения, млн чел.	Численность сельскохозяйственного населения, млн чел.	Отраслевая структура ВВП, %		
			Сельское хоз-во	Сфера услуг	Промышленность
Кения	43	28,6	19	64	17
Бразилия	194,9	21,1	6	67	27

30

Умение анализировать давать оценку разных территорий с точки зрения социально-экономических процессов

письменно

1. На уроке учащиеся анализировали статистические данные, приведённые ниже в таблице, в целях сравнения темпов роста ВВП в Японии и Германии в период с 2012 по 2015 г. Дмитрий указал, что в Японии, в отличие от Германии, ежегодно происходило увеличение объёмов промышленного производства.

Динамика объёмов промышленного производства (в % к предыдущему году)

Страна	2012 г.	2013 г.	2014 г.	2015 г.
1) Япония	98,8	100,8	101,6	100,6
2) Германия	100,9	100,4	101,6	101,5

			Правильный ли вывод сделал Дмитрий? Свой ответ обоснуйте.
--	--	--	--