

Материалы
для подготовки к тестированию по истории 10 класс М-4 (базовый уровень)

Тема: «Вторая мировая война»

Название темы	Содержание
Мир накануне Второй мировой войны. Первый период войны.	Расстановка политических сил. Тайные переговоры западных государств с агрессорами. Мероприятия СССР в присоединенных территориях. Начало войны, защита советских территорий. Подвиги и поражения. Московская битва и ее значение.
Великая Отечественная война советского народа. Единство фронта и тыла.	Основные этапы отечественной войны. Московская наступательная операция. 1942 год и его противоречивость. Сталинградская битва. Особенности. Частичный прорыв Ленинградской блокады. Коренной перелом в ходе войны. Тегеранская конференция. Партизанское движение. Тыл – фронту. Единение советских людей в борьбе за Победу. Завершение освобождения территории СССР. Освободительная миссия Красной Армии.
Завершение Второй мировой войны. Международные конференции. Итоги войны и расстановка политических сил в мире.	Белинская операция. Спасение Праги. Антигитлеровская коалиция: международные конференции. Советско-японская война. Расстановка политических сил в мире.

Понятия и термины:

Ленд-лиз, генеральный план «Ост», план «Барбаросса». ГКО, СМЕРШ, «остарбайтеры», коллаборационисты, «власовцы». Партизаны. Тегеранская конференция, Ялтинская конференция, Потсдамская конференция, «второй фронт», встреча союзников на Эльбе, депортация, Холокост, интернированные лица, военнопленные.

Персоналии:

Сталин И.В., Молотов В.М., Микоян А.И., Гастелло Н.Ф., Талалихин В.В., Покрышкин А.И., Кожедуб И.Н., Жуков Г.К., Рокоссовский К.К., Василевский А.М., Конев И.С., Чуйков В.И., Тимошенко С.К., Ковпак С.А., Ватутин Н.Ф., Баграмян И.Х., Сталин И.В., Молотов В.М., Микоян А.И., Матросов А.М., Космодемьянская З.А., Шостакович Д.Д., Симонов К.С., Русланова Л.А., Твардовский А.Т., Берггольц О.Ф., Зорге Р., Левитан Ю.Б. .

События/даты:

Конфликт на оз. Хасан –24 июля –11 августа 1938 г.
Конфликт на р. Халхин-Гол –11 мая –16 сентября 1939 г.
Советско-германский договор о ненападении –23 августа 1939 г.
Начало Второй мировой войны –1 сентября 1939 г.
Советско-финская («зимняя») война –30 ноября 1939 г. –13 марта 1940 г.
Великая Отечественная война –22 июня 1941 г. –9 мая 1945 г.
Битва за Москву –30 сентября 1941 г.–20 апреля 1942 г.
Блокада Ленинграда –8 сентября 1941 г.–27 января 1944 г.
Сталинградская битва –17 июля 1942г. –2 февраля 1943 г.
Курская битва –5 июля–23 августа 1943 г.
Открытие союзниками «второго фронта» в Европе – июнь 1944 г.

Наступательные операции советской армии 1944 -1945 гг.
Освобождение территории СССР от врага –1944 г.
Битва за Берлин –16 апреля–8 мая 1945 г.
2 сентября 1945 г. – капитуляция Японии. Окончание Второй мировой войны

Банк заданий

Задание №1

Советские войска перешли в контрнаступление под Москвой:

Выберите один из 4 вариантов ответа:

1)	7 ноября 1941 г.
2)	2-3 декабря 1941 г.
3)	5-6 декабря 1941 г.
4)	20 декабря 1941 г.

Задание №2

Тегеранская конференция состоялась:

Выберите один из 4 вариантов ответа:

1)	В конце февраля 1943 г.
2)	В сентябре 1943 г.
3)	В конце ноября - начале декабря 1943 г.
4)	В конце мая - начале июля 1944 г.

Задание №3

Вторая мировая война началась

Выберите один из 4 вариантов ответа:

1)	1 сентября 1939 г.
2)	23 февраля 1941г.
3)	22 июня 1941г.
4)	1 сентября 1941г.

Задание №4

Коренной перелом в ходе Великой Отечественной войны произошёл в:

Выберите один из 4 вариантов ответа:

1)	1942-1943 гг.
2)	1941-1942 гг.,
3)	1943-1944 гг.
4)	1944-1945 гг.

Задание №5

Парад Победы состоялся в Москве в 1945г.:

Выберите один из 4 вариантов ответа:

1)	8 мая
2)	9 мая
3)	24 июня
4)	2 сентября

Задание №6

Прорыв блокады Ленинграда произошел в:

Выберите один из 4 вариантов ответа:

1)	январе 1943 г.;
2)	июле 1943 г.;
3)	январе 1944 г.
4)	июле 1944 г.

Задание №7

СССР вступил в войну с Японией:

Выберите один из 4 вариантов ответа:

1)	5 апреля 1945 г.;
2)	2 сентября 1945 г.;
3)	9 августа 1945 г.
4)	17 августа 1945 г.

Задание №8

Знамя Победы над рейхстагом было водружено:

Выберите один из 4 вариантов ответа:

1)	30 апреля 1945 г.
2)	2 мая 1945 г.
3)	5 мая 1945 г.
4)	8 мая 1945 г.

Задание №9

Какая международная организация была создана в период между двумя мировыми войнами?

Выберите один из 4 вариантов ответа:

1)	Священный союз
2)	Организация Объединённых Наций
3)	Лига Наций
4)	Организация Варшавского договора

Задание №10

С какой страной в 1939–1940 гг. СССР вёл войну, получившую в истории название «зим-

няя», так как война пришлась в основном на зимние месяцы?

Выберите один из 4 вариантов ответа:

1)		с Германией
2)		с Румынией
3)		с Финляндией
4)		с Польшей

Задание №11

Какой город был захвачен врагом летом 1942 г. после героической 250-дневной обороны?

Выберите один из 4 вариантов ответа:

1)		Кронштадт
2)		Севастополь
3)		Новороссийск
4)		Мурманск

Задание №12

Государственный Комитет Оборона возглавил:

Выберите один из 4 вариантов ответа:

1)		С.К.Тимошенко
2)		Г.К.Жуков
3)		И.В.Сталин
4)		В.М.Молотов.

Задание №13

В ходе Сталинградской битвы

Выберите один из 4 вариантов ответа:

1)		состоялось крупнейшее танковое сражение у д. Прохоровка
2)		Красная армия вела тяжёлые бои на Зееловских высотах
3)		были освобождены г. Орёл и Белгород
4)		проходила оборона Дома Павлова

Задание №14

В ходе проведения Висло-Одерской наступательной операции (1945 г.) советские войска освободили большую часть

Выберите один из 4 вариантов ответа:

1)		Польши
2)		Венгрии
3)		Румынии
4)		Австрии

Задание №15

Какой вопрос обсуждался на Тегеранской конференции «Большой тройки» в 1943 г.?

Выберите один из 4 вариантов ответа:

1)		о распространении на СССР закона о ленд-лизе
2)		о подписании договоров о военной помощи с Польшей и Чехословакией
3)		о вхождении Литвы, Латвии и Эстонии в состав СССР
4)		об открытии Второго фронта в Европе

Задание №16

Чрезвычайный государственный орган СССР, сосредоточивший в годы Великой Отечественной войны всю полноту власти и координировавший действия фронта и тыла:

Выберите один из 4 вариантов ответа:

1)		Ставка Верховного Главнокомандования
2)		Государственный Комитет Оборона
3)		Совет Труда и Оборона
4)		Совет по эвакуации.

Задание №17

План операции «Тайфун» - это:

Выберите один из 4 вариантов ответа:

1)		План советского контрнаступления в битве за Москву
2)		План немецкого командования по захвату Москвы
3)		План немецкого командования по взятию Смоленска
4)		План советского контрнаступления под Ельней.

Задание №18

План контрнаступления советских войск под Сталинградом имел кодовое название:

Выберите один из 4 вариантов ответа:

1)		«Марс»
2)		«Цитадель»
3)		«Уран»
4)		«Искра».

Задание №19

Как назывался план физического истребления народов СССР и Восточной Европы,

объявленных “расово неполноценными”?

Выберите один из 4 вариантов ответа:

- | | |
|----|-------------------|
| 1) | план “Тайфун” |
| 2) | план “Ост” |
| 3) | план “Барбаросса” |
| 4) | план “Багратион” |

Задание №20

Самое крупное танковое сражение произошло:

Выберите один из 4 вариантов ответа:

- | | |
|----|---------------------------------------------|
| 1) | 18 декабря 1942 г. в районе г. Котельниково |
| 2) | 12 июля 1943 г. в районе п. Прохоровка |
| 3) | 17 августа 1943 г. на Сицилии |
| 4) | 23 февраля 1943 г. под Сталинградом |

Задание №21

Акт о безоговорочной капитуляции Японии был подписан:

Выберите один из 4 вариантов ответа:

- | | |
|----|---------------------------------------------------------|
| 1) | на борту американского крейсера «Миссури»; |
| 2) | в американском городе Портсмут; |
| 3) | на одном из военных кораблей в советском порту Находка; |
| 4) | в немецком городке Потс |

Задание №22

СССР и Германия, подписав Договор о ненападении и секретные протоколы к нему, договорились о:

Выберите один из 4 вариантов ответа:

- | | |
|----|--------------------------------------------|
| 1) | дате нападения Германии на Англию; |
| 2) | разделе сфер влияния в Восточной Европе; |
| 3) | разделе сфер влияния на Балканах и в Азии. |
| 4) | разделе сфер влияния на ДВ |

Задание №23

Верховным главнокомандующим советских войск 8 августа 1941 г. был назначен:

Выберите один из 4 вариантов ответа:

- | | |
|----|--------------------|
| 1) | Г.К. Жуков |
| 2) | И.В. Сталин |
| 3) | С.К. Тимошенко |
| 4) | К .К. Рокоссовский |

Задание №24

Выдающимся советским военачальником в годы Великой Отечественной войны был:

Выберите один из 4 вариантов ответа:

1)		В.К. Блюхер;
2)		И.С. Конев;
3)		М.Н. Тухачевский
4)		Л. Г. Корнилов

Задание №25

Бои за Мамаев курган велись в ходе

Выберите один из 4 вариантов ответа:

1)		битвы за Москву
2)		Сталинградской битвы
3)		Курской битвы
4)		освобождения Киева

Задание №26

В ходе Курской битвы

Выберите один из 4 вариантов ответа:

1)		состоялось крупнейшее танковое сражение у деревни Прохоровки
2)		велись бои за Мамаев курган
3)		был издан приказ № 227 «Ни шагу назад»
4)		была окружена и уничтожена 6-я немецкая армия фельдмаршала Паулюса

Задание №27

Политика, основанная на компромиссах и уступках агрессору в расчёте удержать его от агрессии

Выберите один из 4 вариантов ответа:

1)		изоляциялизм
2)		"дипломатия доллара"
3)		политика "умиротворения"
4)		политика "блестящей изоляции"

Задание №28

Совместные действия государств с целью поддержания международного мира и безопасности. предотвращения или подавления актов агрессора называется

Выберите один из 4 вариантов ответа:

1)		изоляциялизм
2)		политика "умиротворения"
3)		политика "большой дубинки"
4)		политика "коллективной безопасности"

Задание №29

Наступательная Белорусская операция, разработанная советским командованием, носила кодовое название:

Выберите один из 4 вариантов ответа:

1)	«Кутузов»
2)	«Полководец Румянцев»
3)	«Багратион»
4)	«Кольцо».

Задание №30

Новый порядок, устанавливаемый фашистами в государствах Европы, предполагал

Выберите один из 4 вариантов ответа:

1)	ликвидацию рыночных отношений
2)	быструю модернизацию промышленности
3)	фактическую ликвидацию суверенитета завоёванных государств
4)	создание на оккупированных странах культурно-национальных автономий

Задание №31

Новый порядок, устанавливаемый фашистами в государствах Европы, предполагал

Выберите один из 4 вариантов ответа:

1)	демилитаризацию экономики
2)	развитие местного самоуправления
3)	расовую дискриминацию и геноцид
4)	развитие общеевропейской интеграции

Задание №32

В ходе операции «Багратион» Красной армией был освобождён город

Выберите один из 4 вариантов ответа:

1)	Минск
2)	Кёнигсберг
3)	Будапешт
4)	Варшава

Задание №33

В 1939 г. СССР был исключён из Лиги Наций из-за

Выберите один из 4 вариантов ответа:

1)	отказа советского правительства признать Мюнхенское соглашение
2)	отказа поддержать Чехословакию ввремя Судетского кризиса
3)	оказания помощи республиканцам в ходе Гражданской войны в Испании

4)		войны против Финляндии

Задание №34

Подписывая Пакт о ненападении с Германией, СССР стремился

Выберите один из 4 вариантов ответа:

1)		предотвратить агрессию Германии в Западной Европе
2)		создать систему коллективной безопасности в Европе
3)		отстоять незыблемость границ в Восточной Европе
4)		отсрочить военное столкновение между СССР и Германией

Задание №35

Что из названного стало последствием подписания в 1939 г. пакта Молотова-Риббентропа?

Выберите один из 4 вариантов ответа:

1)		вступление СССР и Германии в Лигу Наций
2)		проведение Мюнхенской конференции и передача Германии Судетской области
3)		ропуск Коминтерна
4)		раздел между Германией и СССР сфер интересов в Восточной Европе

Задание №36

В ходе контрнаступления Красной армии под Москвой

Выберите один из 4 вариантов ответа:

1)		был освобождён г. Смоленск
2)		были освобождены г. Клин и г. Волоколамск
3)		были освобождены г. Орёл и г. Белгород
4)		состоялось крупнейшее танковое сражение у д. Прохоровки

Задание №37

Что из перечисленного явилось началом коренного перелома в ходе Великой Отечественной войны?

Выберите один из 4 вариантов ответа:

1)		полное снятие блокады Ленинграда
2)		битва за Днепр

3)		Сталинградская битва
4)		битва за Москву

Задание №38

Установите соответствие между событиями внешней политики и годами, когда они происходили

Укажите соответствие для всех 3 вариантов ответа:

1)		подписание Брестского мира с Германией	1)	1918 г.
2)		конфликт на озере Хасан	2)	1923 г.
3)		подписание советско-германского договора о ненападении	3)	1938 г.
			4)	1939 г.

Задание №39

Установите соответствие между событиями внешней политики и годами

Укажите соответствие для всех 3 вариантов ответа:

1)		подписание Брестского мира с Германией	1)	1918 г.
2)		вступление СССР в Лигу Наций	2)	1923 г.
3)		военный конфликт с Японией на реке Халхин-Гол	3)	1934 г.
			4)	1939 г.

Задание №40

Какие три из перечисленных территорий вошли в состав СССР по итогам Второй мировой войны? Соответствующие цифры запишите в ответ.

- 1) Кёнигсбергская (Калининградская) область
- 2) Уссурийский край
- 3) Нахичиваньская область
- 4) Южный Сахалин
- 5) Курильские острова
- 6) Приднестровье

Ответ запишите цифрами в порядке возрастания.

Запишите число:

1)	Ответ:	
----	--------	--

Задание №41

Какие три из перечисленных событий относятся к 1939—1940 гг.? Соответствующие цифры запишите в ответ.

- 1) советско-финляндская война

- 2) принятие СССР в Лигу Наций
 - 3) ввод советских войск в Эстонию
 - 4) дипломатическое признание СССР со стороны США
 - 5) участие советских представителей в Генуэзской конференции
 - 6) советско-англо-французские переговоры о совместной защите стран Восточной Европы
- Ответ запишите цифрами в порядке возрастания.*

Запишите число:

1)

Ответ:

Задание №42

Какие из перечисленных ниже событий относятся к 1930-м гг. ? Выберите три ответа и запишите в таблице цифры, под которыми они указаны.

- 1) заключение Рапалльского договора между РСФСР и Веймарской республикой
- 2) подписание Пакта о ненападении между СССР и Германией
- 3) разрыв дипломатических отношений между СССР и Великобританией
- 4) начало Гражданской войны в Испании
- 5) подписание Мюнхенского соглашения между Великобританией, Францией, Германией и Италией («Мюнхенский сговор»)
- 6) создание Организации Объединённых Наций

Ответ запишите цифрами в порядке возрастания.

Запишите число:

1)

Ответ:

Задание №43

Заполните пропуски в данных предложениях, используя приведённый ниже список пропущенных элементов: для каждого предложения, обозначенного буквой и содержащего пропуск, выберите номер нужного элемента.

А) Снабжением тыла и организацией народного хозяйства во время войны занималась такая организация, как _____.

Б) _____ занималась стратегическим планированием всех военных операций во время Великой Отечественной войны.

В) _____ руководил всем партизанским движением во время Великой Отечественной войны.

Пропущенные элементы:

- 1) Наркомат обороны
- 2) Государственный Комитет Обороны
- 3) Государственная комиссия по снабжению тыла
- 4) Центральный штаб партизанского движения
- 5) Ставка Верховного Главнокомандования
- 6) Президиум политбюро ЦК КПСС

Запишите в ответ цифры, расположив их в порядке, соответствующем буквам.

Запишите число:

1)

Ответ:

Задание №44

Прочитайте отрывок из воспоминаний маршала Г. К. Жукова и назовите город, вблизи которого разворачивались события, которые описывает автор.

«Сообщение с Большой землей могло осуществляться только через Ладожское озеро и по воздуху, под прикрытием нашей авиации. Начались бомбежки и варварские артиллерийские обстрелы города. Фашистские войска нажимали со всех сторон. Особенно крупная

группировка танковых и моторизованных соединений противника концентрировалась на подступах к Урицку, Пулковским высотам и Слуцку. Все говорило о том, что враг готовится к решительному штурму. Обстановка становилась день ото дня напряженнее».

Ответ запишите со строчной буквы.

Запишите ответ:

1)

Ответ:

Задание №45

Прочтите отрывок из выступления и укажите название страны, пропущенное в тексте.

«Нельзя ли было обойтись без войны? Мне кажется, что нельзя было. Невозможно было обойтись без войны. Война была необходима, так как мирные переговоры с _____ не дали результатов, а безопасность Ленинграда надо было обеспечить безусловно, ибо его безопасность есть безопасность нашего Отечества. Не только потому, что Ленинград представляет процентов 30-35 оборонной промышленности нашей страны, но и потому, что Ленинград есть вторая столица нашей страны. ...Ясно, что, коль скоро переговоры мирные не привели к результатам, надо было объявить войну, чтобы при помощи военной силы организовать, утвердить и закрепить безопасность Ленинграда и, стало быть, безопасность нашей страны».

Ответ запишите со строчной буквы.

Запишите ответ:

1)

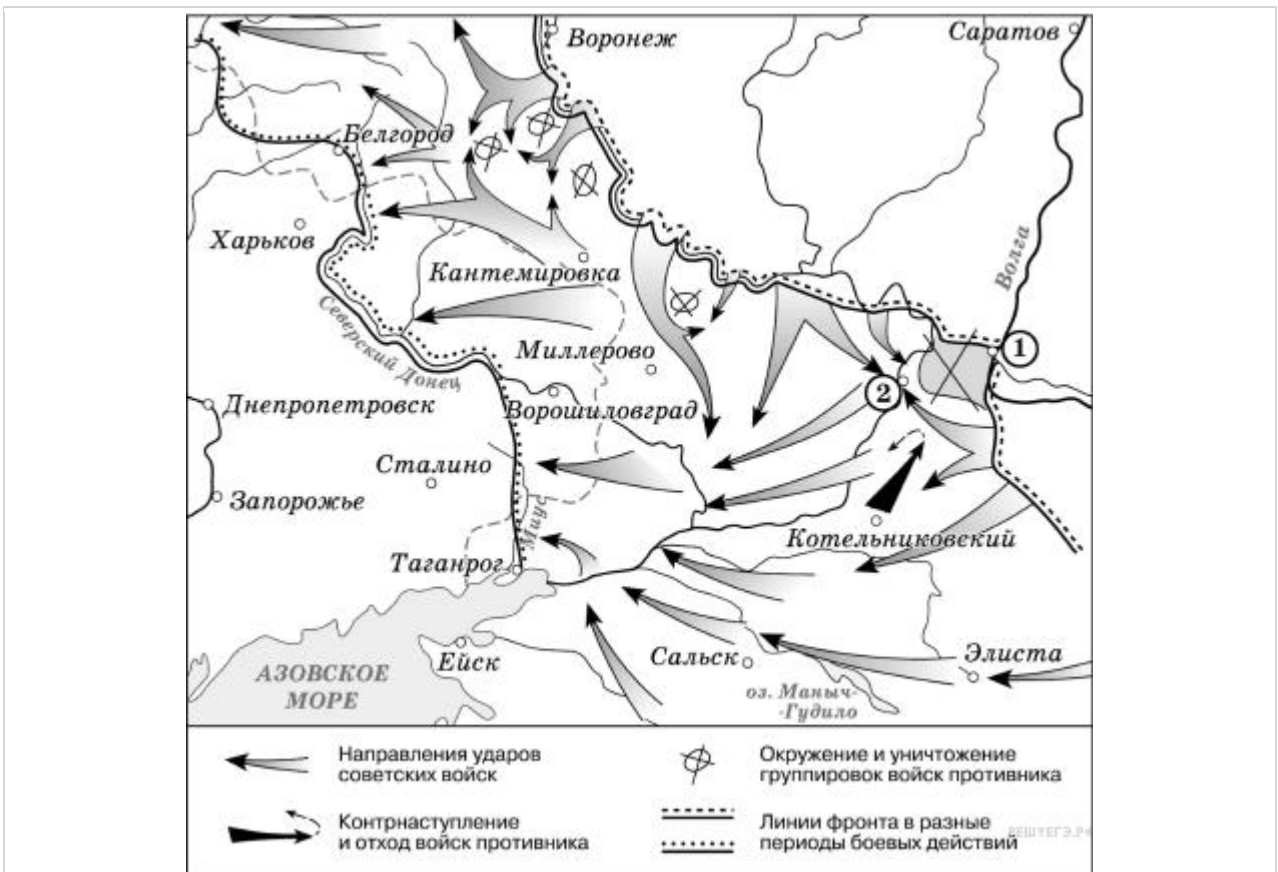
Ответ:

Задание №46

Рассмотрите схему событий одного из периодов Великой Отечественной войны и выполните задание

Укажите название города, обозначенного на схеме цифрой «1».

Ответ запишите со строчной буквы в им. п.



Запишите ответ:

1)	Ответ:	
----	--------	--

Задание №47

Рассмотрите схему событий одного из периодов Великой Отечественной войны и выполните задание

Укажите название города, обозначенного на схеме цифрой «2», в районе которого произошло соединение войск двух фронтов Красной армии.

Ответ запишите со строчной буквы в им. п., без пробелов и др. знаков препинания



Запишите ответ:

1)

Ответ:

Задание №48

Рассмотрите схему событий одного из периодов Великой Отечественной войны и выполните задание

Укажите название периода в ходе войны, начало которому положили события, обозначенные на схеме.

Ответ запишите со строчной буквы в им. п., без пробелов



Запишите ответ:

1)

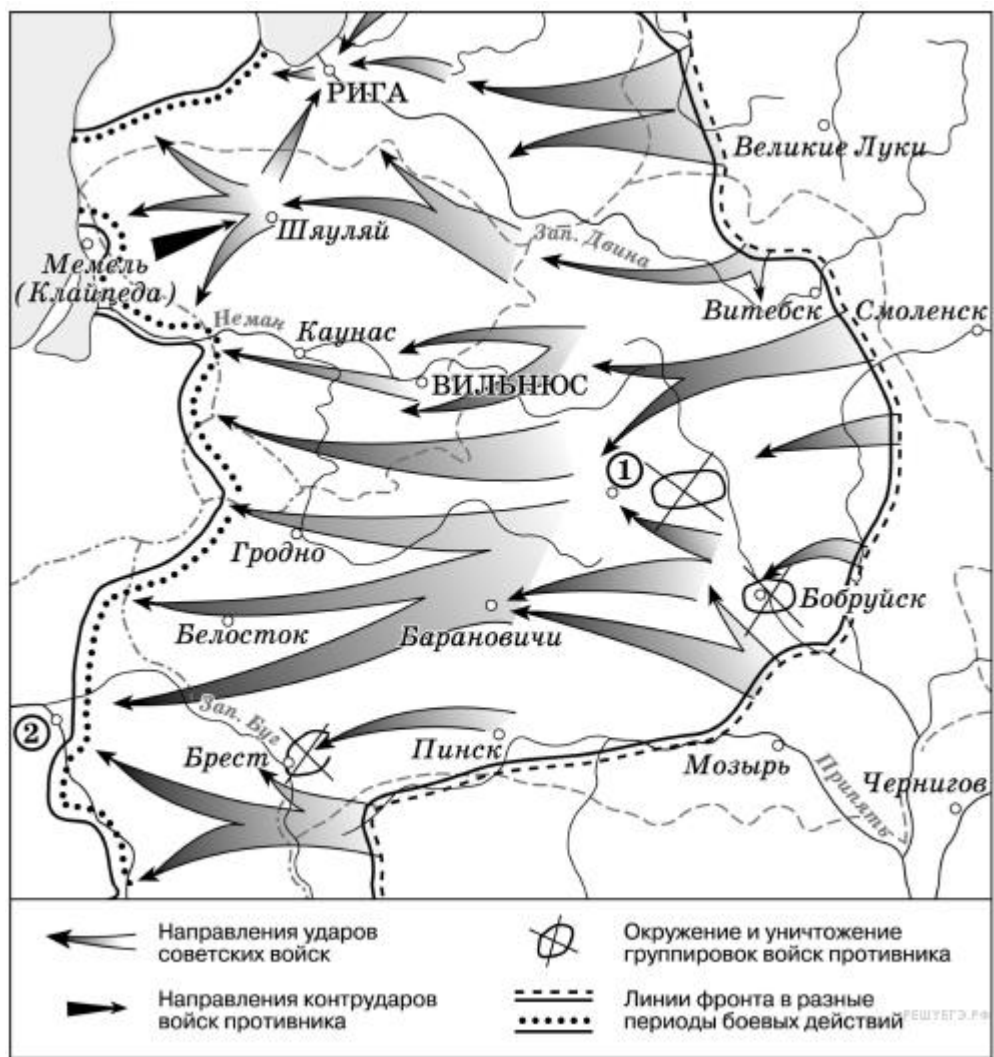
Ответ:

Задание №49

Рассмотрите схему событий одного из периодов Великой Отечественной войны и выполните задание

Продолжите фразу: «События, обозначенные на схеме стрелками, начались в тысяча девятьсот _____ году».

Ответ запишите со строчной буквы согласно текста, без пробелов (без предлога)



Запишите ответ:

1)

Ответ:

Задание №50

Рассмотрите схему событий одного из периодов Великой Отечественной войны и выполните задание

Укажите название города, обозначенного на схеме цифрой «1».

Ответ запишите со строчной буквы в им. п.



Запишите ответ:

1)

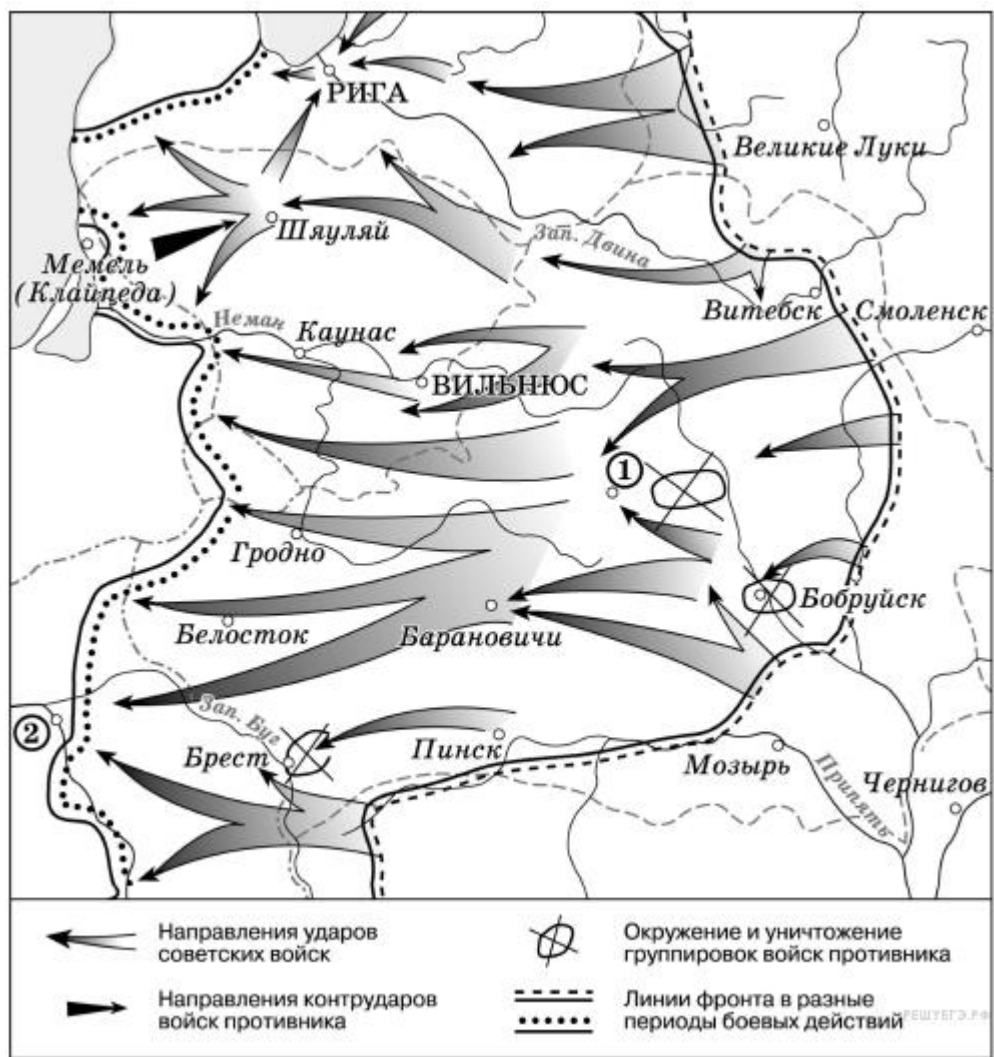
Ответ:

Задание №51

Рассмотрите схему событий одного из периодов Великой Отечественной войны и выполните задание

Укажите название столицы государства, обозначенной на схеме цифрой «2».

Ответ запишите со строчной буквы в им. п.



Запишите ответ:

1)

Ответ:

Задание №52

Рассмотрите схему и выполните задание

Назовите страну, против которой были направлены указанные на схеме военные действия СССР.

Ответ запишите со строчной буквы в им. п.,



Запишите ответ:

1)

Ответ:

Задание №53

Рассмотрите схему и выполните задание

Напишите фамилию руководителя СССР в период событий, указанных на схеме.

Ответ запишите со строчной буквы в им. п.,



Запишите ответ:

1)	Ответ:	
----	--------	--

Задание №54

Одна из причин кризиса Версальско-Вашингтонской системы в 30-е гг.

Выберите один из 4 вариантов ответа:

1)		мировой экономический кризис
2)		распад Османской империи
3)		создание Малой Антанты
4)		образование СССР

Задание №55

Одна из причин кризиса Версальско-Вашингтонской системы в 30-е гг.

Выберите один из 4 вариантов ответа:

1)		рост социальной напряжённости в странах Запада
2)		распад Австро - Венгерской империи
3)		приход к власти фашистов в Италии
4)		распространение идей кейсианства

Задание №56

О попытках создания системы коллективной безопасности в Европе в 30-е гг. свидетельствует(ют)

Выберите один из 4 вариантов ответа:

1)		создание Лиги Наций
2)		подписание Антикоминтерновского пакта
3)		переговоры о заключении англо-франкского-советского пакта
4)		подписание советско-германского пакта о ненападении

Задание №57

О проведении западными странами в 30-е гг. политики "умиротворения" свидетельствует

Выберите один из 4 вариантов ответа:

1)		создание Коминтерна
2)		подписание Мюнхенского пакта
3)		вступление СССР в Лигу Наций
4)		заключение советско-французского договора

Задание №58

В результате Мюнхенского соглашения к Германии была присоединена

Выберите один из 4 вариантов ответа:

1)		Польша
2)		Австрия
3)		Эфиопия
4)		Судетская область

Задание №59

В результате аншлюса Германия присоединила

Выберите один из 4 вариантов ответа:

1)	Австрию
2)	Албанию
3)	Польшу
4)	Судетскую область

Задание №60

Причиной провала советско-англо-французских переговоров в Москве 1939 г. стало

Выберите один из 4 вариантов ответа:

1)	начало "холодной войны"
2)	вторжение германских войск на территорию Польши
3)	выступление США с требованием прекращения переговоров
4)	недоверие, которое питали политические лидеры этих стран друг к другу

Задание №61

результат подписания пакта Риббентропа - Молотова и секретных протоколов к нему

Выберите один из 4 вариантов ответа:

1)	создание системы коллективной безопасности
2)	урегулирование вопроса о репарациях и долгах
3)	разделение Восточной Европы на сферы влияния
4)	перенесение Гитлером срока начала Второй мировой войны

Задание №62

Итог военных действий к лету 1941 г

Выберите один из 4 вариантов ответа:

1)	вступление в войну США
2)	уничтожение военно-морского флота Великобритании
3)	установление контроля Германии над значительной частью Европы
4)	восстановление демократических режимов в Восточной Европе

Задание №63

Итог военных действий к лету 1941 г.

Выберите один из 4 вариантов ответа:

1)	создание антигитлеровской коалиции
2)	ослабление военного могущества вермахта
3)	вторжение германских войск на территорию Англии
4)	развитие общеевропейской интеграции

Задание №64

На третьем этапе Второй мировой войны, в отличие от начального

Выберите один из 4 вариантов ответа:

1)		стратегическая инициатива перешла в руки антигитлеровской коалиции
2)		основные военные действия велись за Британские острова
3)		война со стороны антигитлеровской коалиции носила освободительный характер
4)		военно-техническое превосходство было на стороне Антикоминтерновского пакта

Задание №65

На втором этапе Второй мировой войны, в отличие от начального

Выберите один из 4 вариантов ответа:

1)		стратегическая инициатива перешла в руки Антикоминтерновского пакта
2)		основные военные действия разворачивались на Восточном фронте
3)		война со стороны участников Антикоминтерновского пакта носила захватнический характер
4)		военные действия вышли за пределы Европы

Задание №66

В ходе Второй мировой войны в отличие о Первой

Выберите один из 4 вариантов ответа:

1)		сложились два противоборствующих блока
2)		военные действия проходили на двух континентах
3)		в военных действиях принимали участие танки и авиация
4)		взаимодействовали государства с различным общественно-политическим строем

Задание №67

В ходе Второй мировой войны в отличие о Первой

Выберите один из 4 вариантов ответа:

1)		военные действия велись на Восточном и Западном фронтах
2)		военные действия носили позиционный характер
3)		огромную роль сыграло Движение сопротивления и партизанское движение
4)		государственный механизм и экономика были перестроены на военный лад

Задание №68

Результатом второй мировой войны стала ликвидация

Выберите один из 4 вариантов ответа:

1)		фашизма
2)		колониализма
3)		военных союзов
4)		коммунистических движений

Задание №69

Итогом второй мировой войны стало усиление влияния

Выберите один из 4 вариантов ответа:

1)	нацизма
2)	реваншизма
3)	колониализма
4)	коммунистических партий

Примерное задание на формирование функциональной грамотности

Прочтите отрывок из мемуаров Г.К. Жукова и кратко ответьте на вопросы 1-2. Ответы предполагают использование информации из источника, а также применение исторических знаний по курсу истории соответствующего периода.

«В воздух взметнулись тысячи разноцветных ракет. По этому сигналу вспыхнули 140 прожекторов, расположенных через каждые 200 метров. Более 100 миллиардов свечей освещали поле боя, ослепляя противника и выхватывая из темноты объекты атаки для наших танков и пехоты. Это была картина огромной впечатляющей силы...

Гитлеровские войска были буквально потоплены в сплошном море огня и металла. Сплошная стена пыли и дыма висела в воздухе, и местами даже мощные лучи зенитных прожекторов не могли её пробить.

Наша авиация шла над полем боя волнами... Однако противник, придя в себя, начал оказывать противодействие со стороны Зееловских высот своей артиллерией, миномётами... появилась группа бомбардировщиков... И чем ближе подходили наши войска к Зееловским высотам, тем сильнее нарастало сопротивление врага...

20 апреля, на пятый день операции, дальнобойная артиллерия открыла огонь... Начался исторический штурм...»

- 1. О какой военной операции вспоминает маршал? В каком году она осуществлялась?*
- 2. Используя текст и знания по курсу истории, назовите не менее двух особенностей этой операции. Кто из советских военачальников отличился в этом сражении?*