

**Модуль 3: Послевоенное переустройство мира. Россия в годы «великих потрясений».**

1. Пролог Гражданской войны.
2. Основные политико-государственные силы в годы Гражданской войны 1918-1920 гг.
3. Основные военно-политические события Гражданской войны и военной интервенции в России.
4. Советское государство в годы новой экономической политики (НЭП).
5. Борьба за выбор путей развития.
6. Сталинская модернизация страны и ее особенности.
7. Политическая система 1930 гг.

**Понятия и термины:**

двоевластие, Советская власть, Учредительное собрание, ВКП(б), диктатура пролетариата, ВЦИК Советов, Совнарком, ВСНХ, ВЧК, политика «военного коммунизма», Декрет о земле, Декрет о мире, рабочий контроль, левозэсеровский мятеж, продразвёрстка, продотряды, комбед, мешочники, ревком, война, «красные», «белые», «зелёные», РККА, Реввоенсовет, Добровольческая армия, КОМУЧ, карточная система, субботник, «чёрный рынок», спекуляция, отделение церкви от государства, первая волна эмиграции, «Окна РОСТА».

«Деклассирование» пролетариата, нэп, нэпман, «бывшие» люди, «червонец», демуниципализация, ГОЭЛРО, продналог, хозрасчёт, концессия, «ножницы цен», «военная тревога», индустриальная модернизация,

пятилетка, коммуна, кооперация, наркомат, кулаки, бедняки, середняки, номенклатура, ликбез, рабфак, комсомол, пионер, Коминтерн, Пролеткульт, социальные лифты, обновленчество, отходничество, «комчванство», Союз воинствующих безбожников, эмансипация женщин, Академия наук, Комакадемия. «Великий перелом», сталинская диктатура, культ личности, индустриализация, коллективизация, культурная революция, урбанизация, колхоз, совхоз, МТС, трудодень, "вредители", раскулачивание, спецпоселенцы, ОСОАВИАХИМ, враг народа, ударники, стахановцы, "спецеедство», массовые репрессии, ГУЛАГ, "зимняя война", освоение Арктики, социалистический реализм, коммунальный быт, барак, карточная система снабжения, паспортная система.

**Персоналии:**

Керенский А.Ф., Ленин В.И., Николай II, Родзянко М.В., Корнилов Л.Г., Дзержинский Ф.Э., Свердлов Я.М., Троцкий Л.Д., Деникин А.И., Колчак А.В., Врангель П.Н., Тухачевский М.Н., Будённый С.М., Фрунзе М.В., Чапаев В.И., Ворошилов К.Е., Котовский Г.И., Блюхер В.К., Малевич К.С., Мейерхольд В.Э., Маяковский В.В.

Антонов А.С., Сокольников Г.Я., Сталин И.В., Орджоникидзе Г.К., Зиновьев Г.Е., Каменев Л.Б., Бухарин Н.И., Калинин М.И., Г.В.Чичерин, Я.М. Свердлов, Г.М. Кржижановский, М.Н.Покровский, А.М.Горький, Д.Бедный, В.Е. Татлин, В.И.

Мухина, В.В. Маяковский, М.А. Булгаков, С.А. Есенин, В.И. Вернадский, А.Ф. Иоффе, П.Л.Капица, И.М. Губкин, В.Е. Мейерхольд, С.М.Эйзенштейн, А.Д. Довженко, А.В. Щусев, М.А.Шолохов. Стаханов А.Г., Блюхер В.К., Молотов В.М., Жуков Г.К., Литвинов М.М., Сталин И.В., Каганович Л.М., Ежов Н.И., Берия Л.П., Киров. С.М., Яковлев А.С., Туполев, А.Н., Поликарпов Н.Н., Шмидт О.Ю., Чкалов В.П., Микоян А.И., Горький А.М., Булгаков М.А., Эренбург И., Фадеев А.А., Ахматова А.А., Твардовский А.Т., Шостакович Д.А., Прокофьев С.С., Дунаевский И.О., Эйзенштейн С.М., Пудовкин В.И., Александров Г.В.

**События/даты:**

Октябрьская социалистическая революция –25-26 октября (7 -8 ноября) 1917 г.

Учредительное собрание –5-6 января 1918 г.

Создание СНК -конец октября 1917 г.

Создание ВЧК при СНК -декабрь 1917 г.

Принятие Декларации прав народов России -ноябрь 1917 г.

Создание Высшего совета народного хозяйства (ВСНХ) -декабрь 1917.  
 Принятие первой в отечественной истории конституции -Конституции РСФСР –июль 1918 г.  
 Создание регулярной Красной Армии (РККА) –январь 1918 г.  
 Решение Исполкома Петроградского Совета об объявлении 23 февраля 1918 г. Днем защиты социалистического Отечества.  
 Подписание Брестского мира с Германией –3 марта 1918 г.  
 Первый этап Гражданской войны –апрель-май –ноябрь 1918 г.  
 Второй этап Гражданской войны –декабрь 1918 –март 1920 г.  
 Третий этап Гражданской войны –апрель-ноябрь 1920 г.  
 Принятие плана ГОЭЛРО –1920 г.  
 Переход к нэпу –14 марта 1921 г.  
 Голод 1921 г.  
 Договор в Рапалло –16 апреля 1922 г.  
 Создание СССР и принятие Конституции СССР –30 декабря 1922 г.  
 Создание Госплана -август 1923 г.  
 Финансовая реформа Сокольникова –1922 - 1924 гг.  
 В.И.Ленин во главе страны -октябрь 1917 --январь 1924 гг.  
 И.В. Сталин во главе СССР -1924 -март 1953 гг.  
 Начало разработки ежегодных народнохозяйственных планов –1927 г.  
 Свёртывание нэпа –1928-1929 г.  
 Шахтинский процесс –1928 г.  
 Принятие первого пятилетнего плана (на октябрь 1928 –октябрь 1933 гг.) –май 1929г. Год «великого перелома» -1929 г.  
 Конфликт на КВЖД –12 октября –22 декабря 1929 г.  
 Первая пятилетка –1928-1932 гг.  
 Вторая пятилетка –1932-1937 гг.  
 Переход к сплошной коллективизации сельского хозяйства–1929 г.  
 Ликвидация массовой безработицы, закрытие бирж труда –1930 г.  
 Карточная система снабжения населения –1930-1935 г.  
 Введение паспортной системы –1932 г.  
 Голод 1932-1933 гг.  
 Принятие новой Конституции СССР –1936 г.  
 Первые выборы в Верховный Совет –1938 г.  
 Массовые репрессии –1937-1938 гг.

#### Банк заданий

#### Задание №1

Какие три органа власти были созданы в 1917 г.?

Выберите несколько из 6 вариантов ответа:

1)	Всероссийский съезд Советов
2)	Верховная распорядительная комиссия
3)	Государственная Дума
4)	Верховный Совет
5)	Всероссийская Чрезвычайная Комиссия (ВЧК)
6)	Совет Народных Комиссаров (СНК)

### Задание №2

Какие три из перечисленных событий относятся к периоду Гражданской войны?

Выберите несколько из 6 вариантов ответа:

- |    |  |
|----|--|
| 1) | мятеж Чехословацкого корпуса                         |
| 2) | убийство П.А. Столыпина                              |
| 3) | создание Реввоенсовета республики                    |
| 4) | создание Временного правительства                    |
| 5) | восстание на броненосце «Князь Потёмкин-Таврический» |
| 6) | разгром Врангеля в Крыму                             |

### Задание №3

Какие три из перечисленных явлений относятся к «военному коммунизму»?

Выберите несколько из 6 вариантов ответа:

- |    |  |
|----|--|
| 1) | аренда мелких и средних предприятий    |
| 2) | продразвёрстка                         |
| 3) | всеобщая трудовая повинность           |
| 4) | концессии иностранным предпринимателям |
| 5) | бесплатные коммунальные услуги         |
| 6) | широкое кооперативное движение         |

### Задание №4

Что из названного относится к первым мероприятиям Советской власти? Укажите три мероприятия.

Выберите несколько из 6 вариантов ответа:

- |    |                                      |
|----|--------------------------------------|
| 1) | заключение коалиции с кадетами       |
| 2) | «красногвардейская атака на капитал» |
| 3) | восстановление крестьянской общины   |
| 4) | отмена сословных привилегий          |
| 5) | принятие первого пятилетнего плана   |
| 6) | отделение церкви от государства      |

### Задание №5

Какие три из перечисленных положений относятся к политике «военного коммунизма»? Соответствующие цифры запишите в ответ.

Выберите несколько из 6 вариантов ответа:

- |    |   |
|----|---|
| 1) | привлечение иностранного капитала в форме концессий |
| 2) | принудительная трудовая повинность                  |
| 3) | введение продналога                                 |
| 4) | запрет частного предпринимательства                 |
| 5) | денежная реформа                                    |
| 6) | продразвёрстка                                      |

### Задание №6

Какие три из перечисленных положений относятся к политике «военного коммунизма»? Соответствующие цифры запишите в ответ.

Выберите несколько из 6 вариантов ответа:

1)	введение конвертируемости рубля
2)	денационализация государственных предприятий
3)	рост бесплатных услуг населению
4)	отмена частной собственности
5)	ограничение торговли
6)	усиление роли мелкой буржуазии

### Задание №7

Какие три из перечисленных событий относятся к политической истории СССР 1930-х гг.?

Выберите несколько из 6 вариантов ответа:

1)	судебный процесс над Г. Е. Зиновьевым и Л. Б. Каменевым
2)	убийство С. М. Кирова
3)	назначение И. В. Сталина генеральным секретарем ЦК РКП (б)
4)	казнь царской семьи
5)	издание «Краткого курса истории ВКП(б)»
6)	убийство П. А. Столыпина

### Задание №8

Какие три из перечисленных положений характеризуют политический режим 1930-х гг.?

Выберите несколько из 6 вариантов ответа:

1)	политика гласности
2)	многопартийность
3)	сращивание партийного и государственного аппаратов
4)	сосредоточение власти в руках партийного вождя
5)	запрет на создание внутрипартийных групп и платформ
6)	альтернативные выборы

### Задание №9

Что из названного было построено в годы первых пятилеток? Укажите три элемента.

Выберите несколько из 6 вариантов ответа:

1)	Шатурская электростанция
2)	Сталинградский тракторный завод
3)	Земо-Авчальская ГЭС
4)	Магнитогорский металлургический комбинат
5)	Путиловский завод в Ленинграде
6)	Турксиб

### Задание №10

Какие три из перечисленных черт характеризуют внутривнутриполитическое положение в СССР во второй половине 1930-х гг.?

1)	запрет на совмещение партийных и государственных постов
2)	репрессии против представителей «ленинской гвардии»
3)	отсутствие в стране реальной свободы слова
4)	захват военными господствующими позициями в руководстве страной
5)	широкие внутрипартийные дискуссии о путях дальнейшего развития экономики
6)	установление культа личности партийного вождя

### Задание №11

Какие три из перечисленных положений относятся к новой экономической политике (1921–1929 гг.)?

Выберите несколько из 6 вариантов ответа:

- |    |   |
|----|---|
| 1) | утверждение частной собственности на землю          |
| 2) | введение хозрасчета на государственных предприятиях |
| 3) | денационализация тяжёлой промышленности             |
| 4) | появление кредитно-банковской системы и бирж        |
| 5) | отмена государственной монополии внешней торговли   |
| 6) | введение концессий                                  |

### Задание №12

Какие три из перечисленных положений легли в 1922 г. в основу Договора об образовании Союза Советских Социалистических Республик?

Выберите несколько из 6 вариантов ответа:

- |    |   |
|----|---|
| 1) | законодательное закрепление преимуществ русской нации в союзном государстве       |
| 2) | отказ от разработки общей союзной Конституции                                     |
| 3) | передача полномочий по обороне страны союзному центру                             |
| 4) | равенство всех союзных республик  |
| 5) | сохранение за республиками полной самостоятельности в проведении внешней политики |
| 6) | существование единой денежной единицы   |

### Задание №13

Какие три промышленных объекта были построены в годы первых пятилеток?

Выберите несколько из 6 вариантов ответа:

- |    |  |
|----|--|
| 1) | Днепрогэс                                |
| 2) | Харьковский тракторный завод             |
| 3) | Волжский автомобильный завод             |
| 4) | Путиловский завод                        |
| 5) | Магнитогорский металлургический комбинат |
| 6) | Транссибирская железная магистраль       |

### Задание №14

Какие приведённые положения соответствуют новой экономической политике? Выберите три ответа

Выберите несколько из 6 вариантов ответа:

- |    |  |
|----|--|
| 1) | массовая коллективизация сельского хозяйства     |
| 2) | замена продразвёрстки продналогом                |
| 3) | установление продовольственной диктатуры         |
| 4) | денационализация мелкой и средней промышленности |
| 5) | существование бирж труда                         |
| 6) | приватизация железнодорожного транспорта         |

### Задание №15

Какие из перечисленных ниже событий относятся к 1930-м гг. ? Выберите три ответа, под которыми они указаны.

Выберите несколько из 6 вариантов ответа:

1)	заклучение Рапалльского договора между РСФСР и Веймарской республикой
2)	подписание Пакта о ненападении между СССР и Германией
3)	разрыв дипломатических отношений между СССР и Великобританией
4)	начало Гражданской войны в Испании
5)	подписание Мюнхенского соглашения между Великобританией, Францией, Германией и Италией («Мюнхенский сговор»)
6)	создание Организации Объединённых Наций

### Задание №16

Какие из положений характеризуют политический режим в СССР конца 1930-х гг.? Выберите три ответа, под которыми они указаны.

Выберите несколько из 6 вариантов ответа:

1)	сращивание партийного и государственного аппарата
2)	сосредоточение власти в руках партийного вождя
3)	неравенство избирательных прав крестьян и рабочих
4)	безальтернативный характер выборов
5)	политика гласности
6)	свободные дискуссии в партии о путях дальнейшего экономического развития

### Задание №17

Что из перечисленного характеризует экономическую систему СССР конца 1930-х гг.? Выберите три ответа, под которыми они указаны.

Выберите несколько из 6 вариантов ответа:

1)	аренда частными предпринимателями мелких и средних предприятий
2)	преобладание в аграрном секторе коллективных хозяйств
3)	большая роль иностранного капитала в тяжёлой промышленности
4)	разработка пятилетних планов развития народного хозяйства
5)	государственное регулирование цен
6)	приоритетное развитие производства товаров народного потребления в сравнении с изготовлением средств производства

### Задание №18

Что из перечисленного относится к периоду новой экономической политики (нэп) в СССР? Выберите три ответа, под которыми они указаны.

Выберите несколько из 6 вариантов ответа:

1)	борьба с «космополитизмом»
2)	создание Госплана
3)	сплошная коллективизация
4)	открытие бирж труда
5)	стахановское движение
6)	финансовая реформа Г. Я. Сокольникова

### Задание №19

Прочтите отрывок из Декларации.

«Ставя своей основной задачей уничтожение всякой эксплуатации человека человеком, полное устранение деления общества на классы, беспощадное подавление эксплуататоров, установление социалистической организации общества и победу социализма во всех странах, III Всероссийский съезд Советов рабочих, солдатских и крестьянских депутатов постановляет далее:

1) В осуществление социализации земли частная собственность на землю отменяется и весь земельный фонд объявляется общенародным достоянием и передаётся трудящимся без всякого выкупа, на началах уравнительного землепользования.

Все леса, недра и воды общегосударственного значения, а равно и весь живой и мёртвый инвентарь, образцовые поместья и сельскохозяйственные предприятия объявляются национальным достоянием.

2) Как первый шаг к полному переходу фабрик, заводов, рудников, железных дорог и прочих средств производства и транспорта в собственность Советской Рабоче-Крестьянской Республики подтверждается советский закон о рабочем контроле и о Высшем совете народного хозяйства в целях обеспечения власти трудящихся над эксплуататорами.

Как первый удар международному банковскому, финансовому капиталу III съезд Советов рассматривает советский закон об аннулировании (уничтожении) займов, заключённых правительствами царя, помещиков и буржуазии, выражая уверенность, что Советская власть пойдёт твёрдо по этому пути вплоть до полной победы международного рабочего восстания против ига капитала».

Используя отрывок и знания по истории, выберите в приведённом списке три верных суждения.

Выберите несколько из 6 вариантов ответа:

1)	Данная Декларация – первый программный документ по аграрному вопросу, принятый на съездах Советов.
2)	Рабочий контроль на предприятиях уже действовал до принятия данной Декларации.
3)	Согласно данной Декларации Советская Россия готова выплачивать долги царского правительства.
4)	В период принятия данной Декларации Председателем Совнаркома был В. И. Ленин.
5)	Данная Декларация была принята после роспуска Учредительного собрания.
6)	Через три года после принятия данной Декларации большевистское правительство приступило к проведению сплошной коллективизации.

### Задание №20

Прочтите отрывок из статьи политического деятеля.

«Советская власть, в полном соответствии со своими основными целями, покровительствует кооперации, торговой и производственной. До самого последнего времени, однако, производственная кооперация в деревне (колхозы) занимала очень небольшое место в сельском хозяйстве. <...>

Между тем за самый последний период ... [она] приняла, совершенно неожиданно для руководства, грандиозный размах. Достаточно сказать, что по плану коллективное хозяйство должно было охватить к концу пятилетия

около 20 % крестьянских хозяйств. Между тем ... [кооперация в деревне] захватила уже сейчас, т. е. в начале второго года, более 40 %. При сохранении этого темпа колхозы охватят всё крестьянство в течение ближайшего года-двух. Казалось бы, гигантский успех? На самом деле — гигантская опасность.

<...> Коллективное хозяйство есть, прежде всего, крупное хозяйство. Рациональные размеры хозяйства определяются, однако, характером применяемых им средств и методов производства. Из крестьянских сох и

крестьянских кляч, хотя бы и объединённых, нельзя создать крупного сельского хозяйства, как из суммы рыбацких лодок нельзя сделать парохода. [Кооперация] сельского хозяйства может быть только результатом его механизации. Отсюда вытекает, что общий объём индустриализации страны предопределяет допустимый размах ... [кооперации] сельского хозяйства.

На деле эти два процесса оказались, однако, в настоящее время совершенно разорваны. Как ни быстро идёт развитие советской индустрии, но она всё же является и долго ещё останется чрезвычайно отсталой».

Выберите несколько из 6 вариантов ответа:

1)	Статья была написана в начале 1920-х гг.
2)	Политика, об осуществлении которой идёт речь в отрывке, предполагала отмену продразвёрстки.
3)	Автор обращает внимание на неожиданные для руководства государства низкие темпы осуществления кооперации в деревне.
4)	Автор выражает обеспокоенность темпами изменения доли колхозов в структуре сельского хозяйства.
5)	Автор выражает убеждённость в том, что ключевым фактором, способным обеспечить успех описанного движения за кооперацию в сельском хозяйстве, является механизация.
6)	Одной из задач политики, об особенностях осуществления которой идёт речь в отрывке, являлось установление социалистических производственных отношений в деревне.

### Задание №21

Прочтите отрывок из Декларации.

«Ставя своей основной задачей уничтожение всякой эксплуатации человека человеком, полное устранение деления общества на классы, беспощадное подавление эксплуататоров, установление социалистической организации общества и победу социализма во всех странах, III Всероссийский съезд Советов рабочих, солдатских и крестьянских депутатов постановляет далее:

1) В осуществление социализации земли частная собственность на землю отменяется и весь земельный фонд объявляется общенародным достоянием и передаётся трудящимся без всякого выкупа, на началах уравнительного землепользования.

Все леса, недра и воды общегосударственного значения, а равно и весь живой и мёртвый инвентарь, образцовые поместья и сельскохозяйственные предприятия объявляются национальным достоянием.

2) Как первый шаг к полному переходу фабрик, заводов, рудников, железных дорог и прочих средств производства и транспорта в собственность Советской Рабоче-Крестьянской Республики подтверждается советский закон о рабочем контроле и о Высшем совете народного хозяйства в целях обеспечения власти трудящихся над эксплуататорами.

Как первый удар международному банковскому, финансовому капиталу III съезд Советов рассматривает советский закон об аннулировании (уничтожении) займов, заключённых правительствами царя, помещиков и буржуазии, выражая уверенность, что Советская власть пойдёт твёрдо по этому пути вплоть до полной победы международного рабочего восстания против ига капитала».

Используя отрывок и знания по истории, выберите в приведённом списке три верных суждения.

1)	Данная Декларация – первый программный документ по аграрному вопросу, принятый на съездах Советов.
2)	Рабочий контроль на предприятиях уже действовал до принятия данной Декларации
3)	Согласно данной Декларации Советская Россия готова выплачивать долги царского правительства.
4)	В период принятия данной Декларации Председателем Совнаркома был В. И. Ленин.
5)	Данная Декларация была принята после роспуска Учредительного собрания.
6)	Через три года после принятия данной Декларации большевистское правительство приступило к проведению сплошной коллективизации.



### Задание №22

Прочтите отрывок из воспоминаний военачальника и политического деятеля.

«Действия повстанческих отрядов вносили подчас весьма серьёзные осложнения в стратегию всех борющихся сторон, ослабляя попеременно то одну, то другую, внося хаос в тылу и отвлекая войска с фронта. Объективно повстанчество являлось фактором положительным для нас на территории, занятой врагом, и тотчас же становилось ярко отрицательным, когда территория попадала в наши руки. Поэтому с повстанчеством вели борьбу все три режима — петлюровский, советский и добровольческий. Даже факты добровольного перехода к нам некоторых повстанческих банд являлись только тяжёлой обузой, дискредитируя власть и армию. "Наибольшее зло, — писал мне генерал Драгомиров, — это атаманы, перешедшие на нашу сторону, вроде Струка. Это типичный разбойник, которому суждена, несомненно, виселица. Принимать их к нам и сохранять их отряды — это только порочить наше дело. При первой возможности его отряд буду расформировывать".

Вместе с тем генерал Драгомиров считал необходимым поставить борьбу с бандитизмом на первый план, ибо "ни о каком гражданском правопорядке невозможно говорить, пока мы не сумеем обеспечить самое элементарное спокойствие и безопасность личную и имущественную...".

Атаманство приносило с собой элементы дезорганизации и разложения; махновщина, кроме того, была наиболее антагонистична идее Белого движения».

Используя отрывок и знания по истории, выберите в приведённом списке три верных суждения.

Выберите несколько из 6 вариантов ответа:

1)		Ситуация, описанная в отрывке, может относиться к 1917 г.
2)		Автор воспоминаний является представителем Белого движения
3)		Упомянутая в тексте махновщина — это анархистское движение в Украине
4)		Автор воспоминаний считает эффективным использование в борьбе с противником повстанческих отрядов, перешедших на его сторону
5)		Автор воспоминаний выражает в данном отрывке несогласие с генералом Драгомировым
6)		Автор воспоминаний считает, что повстанческое движение может при определённых условиях помочь в борьбе с противником

### Задание №23

Установите соответствие между фамилиями политических деятелей и их деятельностью.

1)	А. В. Луначарский	1)	лидер антибольшевистского движения на Дону
2)	А. В. Колчак	2)	председатель СНК
3)	В. И. Ленин	3)	нарком просвещения
4)	А. М. Каледин	4)	лидер «левых коммунистов»
		5)	«верховный правитель России»

### Задание №24

Установите соответствие между фамилиями советских руководителей и их должностями в годы Гражданской войны.

1)	В. И. Ленин	1)	председатель Революционного военного совета
2)	И. В. Сталин	2)	нарком просвещения
3)	Л. Д. Троцкий	3)	председатель Совета народных комиссаров
4)	А. В. Луначарский	4)	нарком по делам национальностей
		5)	нарком внутренних дел

### Задание №25

Установите соответствие между фамилиями военачальников и их деятельностью в период Гражданской войны.

Укажите соответствие для всех 4 вариантов ответа:

1)		С. М. Будённый	1)	командующий войсками белых, наступавшими на Петроград
2)		А. В. Колчак	2)	командующий Первой конной армией красных
3)		Н. Н. Юденич	3)	адмирал, руководитель белых, принявший титул Верховный правитель России
4)		М. Н. Тухачевский	4)	командующий войсками Западного фронта, наступавшими на Варшаву в ходе советско-польской войны
			5)	руководитель анархистской армии на Украине

### Задание №26

Установите соответствие между фамилиями военачальников и их деятельностью: к каждой позиции первого столбца подберите соответствующую позицию второго столбца.

Укажите соответствие для всех 4 вариантов ответа:

1)		А. И. Деникин	1)	председатель Реввоенсовета РСФСР
2)		Л. Д. Троцкий	2)	командующий Добровольческой армии белых
3)		Н. Н. Юденич	3)	командующий белогвардейскими войсками на северо-западе России, наступавшими на Петроград
4)		М. В. Фрунзе	4)	командир Первой конной армии красных
			5)	командующий Южным фронтом Красной армии, руководивший штурмом Перекопа

### Задание №27

Установите соответствие между событиями Гражданской войны и годами, когда они происходили

Укажите соответствие для всех 3 вариантов ответа:

1)		разгром войск Врангеля	1)	1918 г.
2)		разгром войск Колчака	2)	1919 г.
3)		начало восстания Чехословацкого корпуса	3)	1920 г.
			4)	1921 г.

### Задание №28

Установите соответствие между событиями, происходившими в период революции и Гражданской войны, и годами

Укажите соответствие для всех 3 вариантов ответа:

1)		Кронштадтское восстание	1)	1917 г.
2)		введение восьмичасового рабочего дня	2)	1918 г.
3)		создание комитетов бедноты	3)	1920 г.
			4)	1921 г.

### Задание №29

Установите соответствие между советскими политическими деятелями и государственными постами, которые они занимали

Укажите соответствие для всех 3 вариантов ответа:

1)		Л. Д. Троцкий	1)	Председатель Совета Народных Комиссаров
2)		В. И. Ленин	2)	народный комиссар по делам национальностей
3)		М. И. Калинин	3)	народный комиссар по военным и морским делам
			4)	Председатель Всероссийского Центрального исполнительного комитета

### Задание №30

Установите соответствие между аббревиатурами органов государственной власти 1918—1930-х гг. и их определениями

Укажите соответствие для всех 4 вариантов ответа:

1)		ГУЛАГ	1)	орган по борьбе с контрреволюцией и саботажем
2)		ВЧК	2)	орган по управлению экономикой страны
3)		СНК	3)	орган по управлению исправительными учреждениями СССР высший судебный орган СССР
4)		ВСНХ	4)	высший судебный орган СССР
			5)	высший орган исполнительной власти СССР
			6)	орган власти по проведению реабилитации

### Задание №31

Установите соответствие между процессами (явлениями, событиями) и фактами, относящимися к этим процессам (явлениям, событиям):

Укажите соответствие для всех 4 вариантов ответа:

1)		опричнина	1)	отмена крепостного права в 1861 г.
2)		коллективизация	2)	Соловецкое восстание
3)		феодалная война второй четверти XV в.	3)	массовый голод в некоторых районах СССР в 1932–1933 гг.
4)		Великие реформы	4)	правление Елены Глинской
			5)	карательный поход Ивана IV на Новгород
			6)	приход к власти Василия II

### Задание №32

Установите соответствие

Укажите соответствие для всех 4 вариантов ответа:

1)		политика "военного коммунизма"	1)	введение в оборот золотого червонца
2)		НЭП	2)	вхождение в состав СССР Узбекской ССР
3)		коллективизация	3)	пятилетний план
4)		индустриализация	4)	введение трудовых книжек
			5)	голод на Украине, в Поволжье, в Западной Сибири, на Кубани

### Задание №33

Установите соответствие

Укажите соответствие для всех 5 вариантов ответа:

1)		принцип социалистического реализма в литературе и искусстве	1)	С.В. Лебедев, А.И. Иоффе
2)		демократизация культуры	2)	Е. Вахтангов
3)		наука, техника	3)	АХРР
4)		живопись	4)	"Рабочий и колхозница"
5)		театр	5)	П.Н. Врангель
			6)	А. Серафимович, А. Фадеев

### Задание №34

Прочтите отрывок из ноты английского министра иностранных дел и напишите название периода в отечественной истории, к которому она относится.

«Придя за последнее время к убеждению, что военная борьба на Юге России не может быть продолжена до бесконечности, и, убедившись в том, что продолжение её будет сопровождаться лишь новыми потерями жизней и вызовет сильную задержку в восстановлении спокойствия и благоденствия России, я употребил всё своё влияние на генерала Деникина, чтобы уговорить его бросить борьбу, обещав ему, что если он поступит так, я употреблю все усилия, чтобы заключить мир между его силами и властями, обеспечив неприкосновенность всех его соратников, а также населения Крыма. Генерал Деникин, наконец, последовал этому совету и покинул Россию, передав командование генералу Врангелю...»

Запишите ответ:

1) Ответ: \_\_\_\_\_

### Задание №35

Вооруженная борьба между социальными группами, характеризующаяся такими понятиями как «красный террор», «белый террор» называется \_\_\_\_\_ войной.

Запишите ответ:

1) Ответ: \_\_\_\_\_

### Задание №36

Запишите термин, о котором идёт речь.

«Военное, политическое или экономическое вмешательство одного или нескольких государств во внутренние дела другой страны, нарушающее её суверенитет».

Запишите ответ:

1) Ответ: \_\_\_\_\_

### Задание №37

Запишите термин, о котором идёт речь.

«Высший нормативный акт государства. Впервые в истории России принят в качестве Основного закона в 1918 г.»

Запишите ответ:

1) Ответ:

### Задание №38

Запишите термин, о котором идёт речь.

«Переселение части населения государства в другие страны в результате военного поражения, по политическим или экономическим причинам. Наиболее массовым в России было после Октябрьской революции 1917 г. и Гражданской войны».

Запишите ответ:

1) Ответ:

### Задание №39

Запишите термин, о котором идёт речь.

«Сокращённое название созданной в 1919 г. международной организации, объединявшей усилия коммунистических партий разных стран по подготовке мировой революции».

Запишите ответ:

1) Ответ:

### Задание №40

Запишите термин, о котором идёт речь.

Молодёжная организация, созданная в Советской России в 1918 г. с целью поддержки курса и осуществления политики правящей партии большевиков, подготовки кадрового резерва для партии.

Запишите ответ:

1) Ответ:

### Задание №41

Запишите термин, о котором идёт речь.

«Коренное качественное изменение, резкий скачкообразный переход от одного качественного состояния общества к другому».

Запишите ответ:

1) Ответ:

### Задание №42

Напишите пропущенное понятие (термин).

Социально-экономическая политика большевиков в годы Гражданской войны называлась \_\_\_\_\_.

Запишите ответ:

1) Ответ:

### Задание №43

Напишите пропущенное понятие (название):

"буферное" государство, образованное на Дальнем Востоке, созданное по инициативе руководства РСФСР на заключительных этапах Гражданской войны - \_\_\_\_\_.

Запишите ответ:

1) Ответ:

#### Задание №44

Напишите пропущенное понятие (название):

Одним из направлений политики "военного коммунизма" в социальной сфере было \_\_\_\_\_ заработной платы.

Ответ запишите с маленькой буквы

Запишите ответ:

1) Ответ:

#### Задание №45

Напишите пропущенное понятие (название):

\_\_\_\_\_ труда- принудительная мобилизация трудовых ресурсов, создание трудовых армий.

Запишите ответ:

1) Ответ:

#### Задание №46

Напишите пропущенное понятие (название):

Привлечение иностранного капитала (посредством \_\_\_\_\_ - договоров о сдаче на определенных условиях принадлежащих государству предприятий, земли и т.д.

Запишите ответ:

1) Ответ:

#### Задание №47

Напишите пропущенное понятие (название):

После окончания Гражданской войны продовольственная разверстка была заменена \_\_\_\_\_.

Запишите ответ:

1) Ответ:

#### Задание №48

Напишите пропущенное понятие (название):

\_\_\_\_\_ - термин, применяемый для обозначения политики и практики возвеличивания политической роли и абсолютизации общественного значения личности определенного человека.

Запишите ответ:

1) Ответ:

#### Задание №49

Расположите в хронологической последовательности следующие события.

Укажите порядок следования всех 4 вариантов ответа:

- |    |                                |
|----|--------------------------------|
| 1) | заклучение Брестского мира     |
| 2) | поход А. И. Деникина на Москву |
| 3) | II Всероссийский съезд Советов |
| 4) | разгром войск Врангеля в Крыму |

#### Задание №50

Расположите в хронологическом порядке следующие события.

Укажите порядок следования всех 4 вариантов ответа:

1)		введение большевистским правительством продразвёрстки
2)		апрельский кризис Временного правительства
3)		отречение Николая II от престола
4)		провозглашение России республикой

### Задание №51

Установите хронологическую последовательность

Укажите порядок следования всех 5 вариантов ответа:

1)		расстрел 26 бакинских комиссаров
2)		Советско-польская война
3)		расстрел царской семьи
4)		восстановление советской власти в Сибири и на Дальнем Востоке
5)		выступление Чехословацкого корпуса

### Задание №52

Установите последовательность событий

Укажите порядок следования всех 5 вариантов ответа:

1)		наступление Красной армии в Прибалтики, установление советского режима
2)		разгром армии Колчака
3)		формирование Добровольческой армии
4)		Кронштадтское восстание
5)		переворот под руководством адмирала Колчака в Омске

### Задание №53

Установите последовательность событий

Укажите порядок следования всех 5 вариантов ответа:

1)		НЭП
2)		создание ГУЛАГа
3)		введение политики "военного коммунизма"
4)		"Шахтинское дело"
5)		образование СССР

### Задание №54

Установите последовательность событий

Укажите порядок следования всех 5 вариантов ответа:

1)		принятие СССР в Лигу Наций
2)		пакт о ненападении между Германией и СССР
3)		начало индустриализации в СССР
4)		вооруженный конфликт между СССР и Японией на озере Хасан
5)		начало коллективизации в СССР

### Задание №55

Ниже приведён список терминов. Все они, за исключением двух, относятся к событиям, явлениям периода Гражданской войны.

Выберите несколько из 6 вариантов ответа:

1)		интервенция
2)		продовольственная диктатура
3)		«железный занавес»
4)		антоновщина
5)		белое движение
6)		холодная война

### Задание №56

Ниже приведен перечень терминов. Все они, за исключением двух, относятся к событиям 1917-1921 гг. Найдите и запишите термины, относящиеся к другому историческому периоду.

Выберите несколько из 6 вариантов ответа:

1)		Совнарком
2)		рабочий контроль
3)		коллективизация
4)		военный коммунизм
5)		индустриализация
6)		продразверстка

### Задание №57

Ниже приведён список терминов. Все они, за исключением двух, относятся к событиям, явлениям периода Гражданской войны.

Выберите несколько из 6 вариантов ответа:

1)		интервенция
2)		продовольственная диктатура
3)		«железный занавес»
4)		антоновщина
5)		белое движение
6)		холодная война

### Задание №58

Ниже приведён список терминов. Все они, за исключением двух, относятся к событиям, явлениям периода образования СССР.

Выберите несколько из 5 вариантов ответа:

1)		махновцы
2)		автономизация
3)		суверенитет
4)		коллективизация
5)		республика

### Задание №59

Ниже приведён список терминов. Все они, за исключением двух, относятся к событиям, явлениям периода индустриализации в ССР.

Выберите несколько из 5 вариантов ответа:



1)	нэпман
2)	трудоу энтузиазм
3)	"красный террор"
4)	продразверстка
5)	внеэкономическое принуждение

### Задание №60

Ниже приведён список терминов. Все они, за исключением двух, относятся к событиям, явлениям периода коллективизации в ССР.

Выберите несколько из 5 вариантов ответа:

1)	колхоз
2)	ударничество
3)	МТС
4)	многопартийность
5)	коммуна

### Задание №61

Ниже приведён список терминов. Все они, за исключением двух, относятся к событиям, явлениям периода внешней политики СССР в 1920-1930 гг. в ССР.

Выберите один из 5 вариантов ответа:

1)	международная изоляция
2)	Коммунистический Интернационал
3)	ВРК
4)	Лига Наций
5)	двоевластие

### Задание №62

Установите соответствие между фамилиями политических деятелей и их деятельностью.

Укажите соответствие для всех 4 вариантов ответа:

1)	А. В. Луначарский	1)	лидер антибольшевистского движения на Дону
2)	А. В. Колчак	2)	председатель СНК
3)	В. И. Ленин	3)	нарком просвещения
4)	А. М. Каледин	4)	лидер «левых коммунистов»
		5)	«верховный правитель России»

### Задание №63

Установите соответствие между государственными деятелями и должностями, которые они занимали.

Укажите соответствие для всех 4 вариантов ответа:

1)	Г. В. Чичерин	1)	Председатель Реввоенсовета Республики
2)	М. М. Литвинов	2)	Фактический руководитель советской делегации на Генуэзской конференции
3)	В. М. Молотов	3)	Председатель ВЦИК

4)		Л. Д. Троцкий	4)	Нарком иностранных дел, при котором СССР стал членом Лиги Наций
			5)	Нарком иностранных дел, подписавший советско-германский договор о ненападении

#### Задание №64

Установите соответствие между фамилиями советских руководителей и их должностями в годы Гражданской войны

Укажите соответствие для всех 4 вариантов ответа:

1)		В. И. Ленин	1)	председатель Революционного военного совета
2)		И. В. Сталин	2)	нарком просвещения
3)		Л. Д. Троцкий	3)	председатель Совета народных комиссаров
4)		А. В. Луначарский	4)	нарком по делам национальностей
			5)	нарком внутренних дел

#### Задание №65

Установите соответствие между участниками Гражданской войны в России и их деятельностью:

Укажите соответствие для всех 4 вариантов ответа:

1)		М. В. Фрунзе	1)	возглавлял Реввоенсовет РСФСР
2)		П. Н. Врангель	2)	руководил армией белых в Крыму
3)		Л. Г. Корнилов	3)	возглавлял белые войска в Сибири, получил титул Верховного правителя России
4)		Л. Д. Троцкий	4)	осуществлял операцию против белых в Крыму
			5)	возглавлял Добровольческую армию во время «Ледового похода» и штурма Екатеринодара

#### Задание №66

Установите соответствие между фамилиями военачальников и их деятельностью в период Гражданской войны:

Укажите соответствие для всех 4 вариантов ответа:

1)		С. М. Будённый	1)	командующий войсками белых, наступавшими на Петроград
2)		А. В. Колчак	2)	командующий Первой конной армией красных
3)		Н. Н. Юденич	3)	адмирал, руководитель белых, принявший титул Верховный правитель России
4)		М. Н. Тухачевский	4)	командующий войсками Западного фронта, наступавшими на Варшаву в ходе советско-польской войны
			5)	руководитель анархистской армии на Украине

### Задание №67

Установите соответствие между фамилиями военачальников и их деятельностью в период Гражданской войны:

Укажите соответствие для всех 4 вариантов ответа:

1)	А. И. Деникин	1)	председатель Реввоенсовета РСФСР
2)	Л. Д. Троцкий	2)	командующий Добровольческой армии белых
3)	Н. Н. Юденич	3)	командующий белогвардейскими войсками на северо-западе России, наступавшими на Петроград
4)	М. В. Фрунзе	4)	командир Первой конной армии красных
		5)	командующий Южным фронтом Красной армии, руководивший штурмом Перекопа

### Задание №68

Установите соответствие между фамилиями советских государственных и партийных деятелей и их ролью в событиях 1920–1930-х гг.:

Укажите соответствие для всех 4 вариантов ответа:

1)	Н. И. Ежов	1)	член Политбюро ЦК ВКП(б), выступивший в экономической дискуссии конца 1920-х гг. за продолжение новой экономической политики, расстрелян в годы «Большого террора»
2)	Л. Д. Троцкий	2)	председатель Реввоенсовета, один из соперников И.В. Сталина в борьбе за власть, сосланный в 1929 г. в Среднюю Азию, а оттуда за границу
3)	С. М. Киров	3)	народный комиссар внутренних дел в разгар «Большого террора»
4)	Н. И. Бухарин	4)	нарком иностранных дел, выступавший за создание системы коллективной безопасности в середине 1930-х гг.
		5)	руководитель ленинградской партийной организации, убийство которого в 1934 г. стало поводом для массовых репрессий

### Задание №69

Заполните пустые ячейки таблицы, используя представленные в приведённом ниже списке данные. Для каждой ячейки, обозначенной буквами, выберите номер нужного элемента.

Событие	Дата	Участники(-и)
Захват большевиками власти	(А)	В. И. Ленин, Л. Д. Троцкий
штурм Перекопа	(Б)	(В)
(Г)	август 1917 г.	А. М. Крымов
советско-польская война	(Д)	(Е)

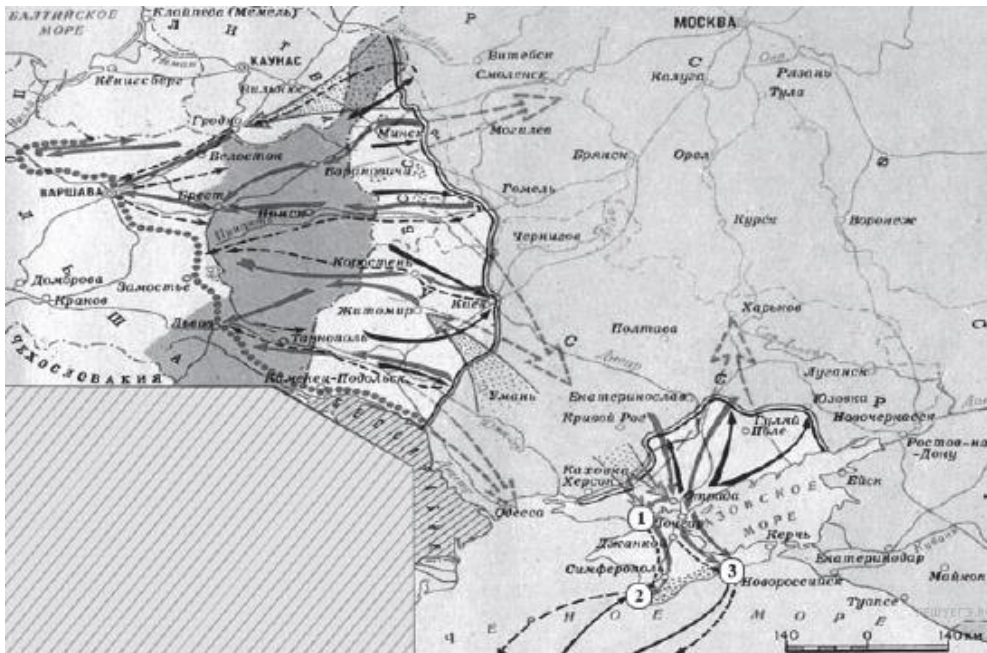
Заполните пропуски:

А) [1919-1921 г.|октябрь 1917 г.|ноябрь 1920 г.|корниловский мятеж|разгон Учредительного собрания|М. В. Фрунзе|А. В. Колчак|Ю. Пилсудский|Г. В. Плеханов]

### Задание №70

Рассмотрите схему и выполните задание

Напишите название периода отечественной истории, события которого изображены на карте.



Запишите ответ:

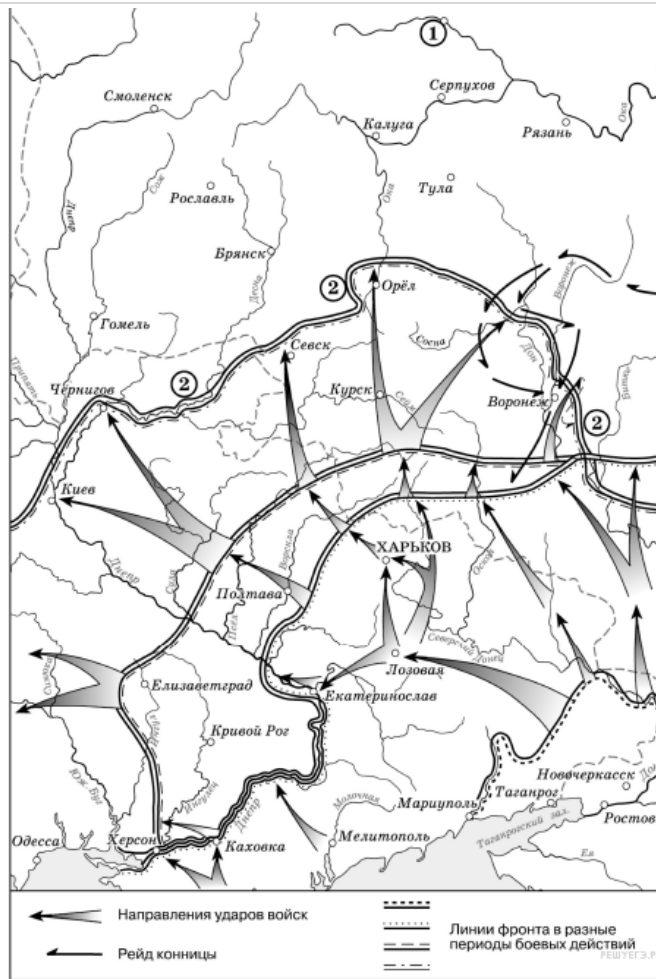
1)

Ответ:

### Задание №71

Рассмотрите схему действий белогвардейцев в ходе одного из периодов Гражданской войны в России и выполните задание.

Укажите фамилию главнокомандующего белогвардейскими войсками, достигшими линии, обозначенной на схеме цифрой «2».



Запишите ответ:

1)

Ответ:

### Задание №72

Рассмотрите изображение и выполните задание

Какие суждения о данной карикатуре являются верными? Выберите два суждения из пяти предложенных.



Выберите несколько из 5 вариантов ответа:

1)

Данная карикатура отражает взгляды большевиков на события Гражданской войны в России.

2)	Карикатура высмеивает нейтралитет стран Запада по отношению к событиям в России.
3)	Один из военачальников, чьи фамилии указаны на карикатуре, был провозглашён Верховным правителем России.
4)	Россия никогда не входила в военный блок, название которого указано на карикатуре.
5)	Все военачальники, фамилии, которых указаны погибли в годы Гражданской войны

### Задание №73

Какие суждения о данном изображении являются верными? Выберите два суждения из пяти предложенных.



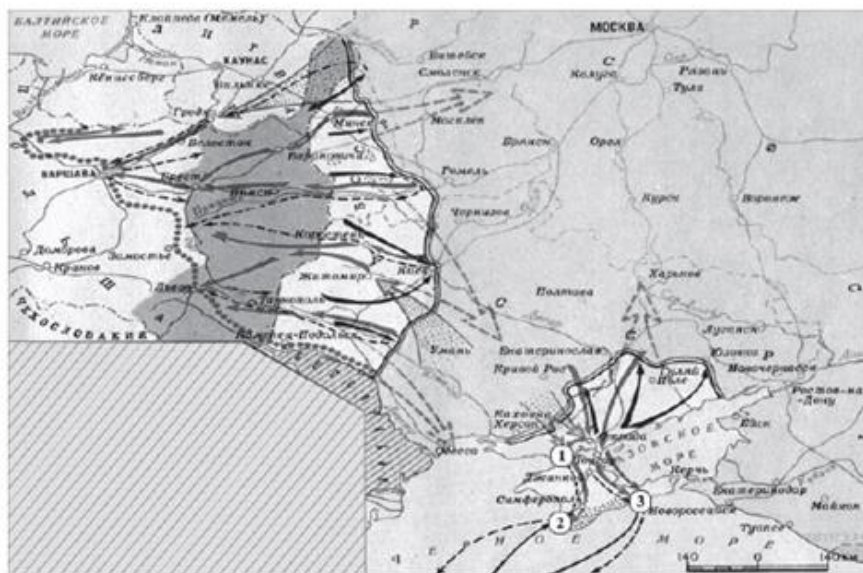
Выберите несколько из 5 вариантов ответа:

1)	На почтовой марке изображено событие, произошедшее в 1914 г.
2)	Изображённое на марке выступление В. И. Ленина произошло на II Всероссийском съезде Советов.
3)	Марка была выпущена в период руководства И.В. Сталина.
4)	Марка была выпущена в столетний юбилей со дня рождения В. И. Ленина.
5)	Одним из результатов события, изображённого на марке, было создание Совета Народных Комиссаров.

### Задание №74

Рассмотрите схему и выполните задание.

Какие суждения, относящиеся к событиям, обозначенным на карте, являются верными? Выберите три суждения из шести предложенных.



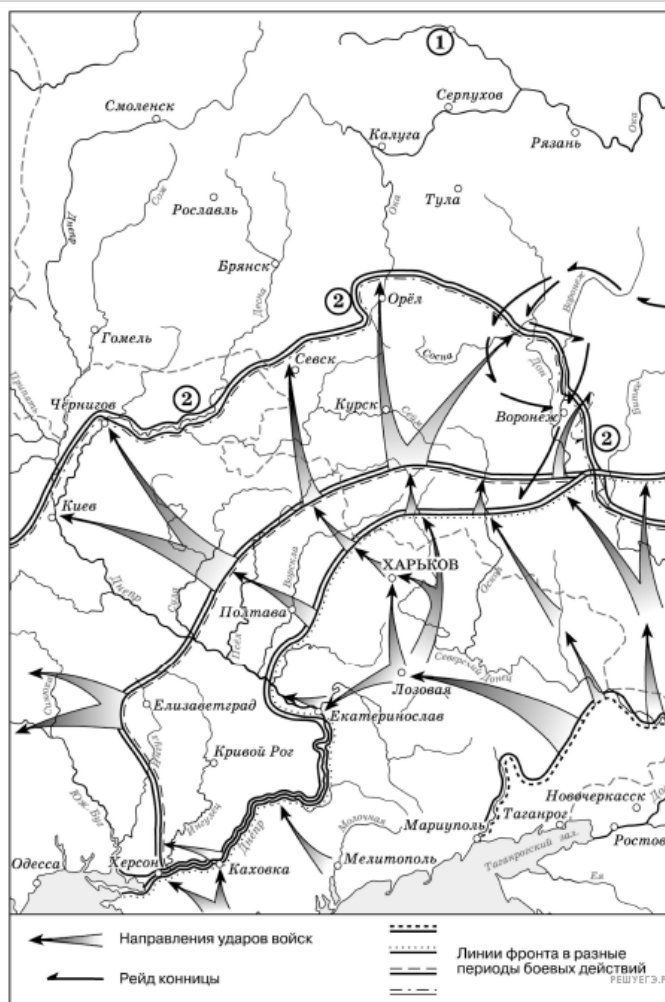
Выберите несколько из 6 вариантов ответа:

1)	На карте изображены события завершающего этапа войны
2)	Красной армии оказывали помощь союзники по Первой мировой войне.
3)	К периоду войны, обозначенному на карте, относится переход через залив Сиваш.
4)	На западе Красная армия воюет против войск генерала Н. Юденича
5)	Война завершилась подписанием Брестского мира.
6)	Войсками Красной армии на юге командовал М. В. Фрунзе.

### Задание №75

Рассмотрите схему действий белогвардейцев в ходе одного из периодов Гражданской войны в России и выполните задание.

Выберите три суждения из шести предложенных.



Выберите несколько из 6 вариантов ответа:

1)	Значительный урон тылам белогвардейских войск, действия которых обозначены на схеме, наносила армия Н. И. Махно.
2)	После разгрома белогвардейских войск, действия которых обозначены на схеме, их командующий эмигрировал из России.
3)	В период событий, обозначенных на схеме, большевики проводили новую экономическую политику.
4)	Главнокомандующий Белой армией, действия которой обозначены на схеме, имел титул Верховного правителя России.
5)	Белогвардейская армия, действия которой обозначены на схеме, получала оружие и боеприпасы от стран Антанты.
6)	В ходе последующих событий, произошедших сразу после обозначенных на схеме, белым удалось захватить г. Тулу.

### Задание №76

Какие из изображений относятся к тому же периоду, что и картина? В ответе запишите две цифры, под которыми они указаны.





Ответ запишите в виде цифр, без пробелов и запятых

1)



2)



3)



4)



Запишите число:

1)

Ответ:

### Задание №77

Какие из памятников, представленных ниже, были созданы в тот период, когда страной руководил деятель, положивший начало изображённым на марке процессам? В ответе запишите две цифры, под которыми они указаны.





Запишите число:

1)

Ответ:

### Задание №78

Какие из перечисленных объектов построены в годы руководства СССР политического деятеля, изображённого на карикатуре. В ответе запишите две цифры, под которыми они указаны.





Запишите число:

1)

Ответ:

### Задание №79

Укажите изображения, на которых представлены объекты, построенные в период руководства страной политического деятеля, при котором состоялась обозначенная на марке экспедиция. В ответе запишите две цифры, под которыми они указаны.



Запишите число:

1)

Ответ: