

Материалы

для подготовки к тестированию по экономике 10 2 класса М-2
по теме «Спрос. Предложение».

| Тема | Содержание |
|-----------------------------------|--|
| 1. Рынок. Спрос и его содержание. | Рынок. Спрос и его содержание. Величина спроса. Эластичность спроса |
| 2. Объем предложения | Объем предложения. Равновесная цена. Эластичность предложения. |

Понятия.

Тема 1:

- давать определение понятию «рынок».
- рыночный механизм.
- функции рынка
- давать определение понятий «спрос».
- давать определение понятий «величина спроса».
- формулировать закон спроса.
- уметь графически отображать кривую спроса.
- неценовые факторы спроса.
- эластичность спроса

Тема 2

- давать определение понятию «предложения».
- давать определение понятию «величина предложения».
- формулировать закон предложения
- уметь графически отображать кривую предложения.
- неценовые факторы предложения.
- равновесная цена.
- эластичность предложения.

Для того, чтобы получить допуск к тесту учащийся должен выполнить следующие виды работ:

- оформить лекционную тетрадь, выполнение подтверждается отметкой учителя и допуском к итоговому тесту.

Банк заданий

Задание №1

Запишите слово, пропущенное в таблице.

ОСНОВНЫЕ ФУНКЦИИ РЫНКА

| ФУНКЦИИ РЫНКА | ХАРАКТЕРИСТИКА |
|----------------|---|
| Информационная | Предоставление участникам рынка сведений о ценах на товары и услуги и потребностях рынка |
| ... | Соединение продавца и потребителя, спроса и предложения |
| Санирующая | Выявление неэффективных, убыточных предприятий и побуждение их к банкротству и реструктуризации |

Ответ запишите со строчной буквы согласно тексту.

Запишите ответ:

1)

Ответ:

Задание №2

Запишите слово, пропущенное в таблице.

| ФУНКЦИИ РЫНКА | ХАРАКТЕРИСТИКА |
|----------------|--|
| Информационная | Рынок предоставляет информацию о ценах, дефицитах и избытке товара |
| Регулирующая | С помощью рыночного механизма экономика перераспределяет свои ресурсы в пользу того или иного товара |
| ... | Рынок связывает воедино производителей и потребителей |

Ответ запишите со строчной буквы согласно тексту.

Запишите ответ:

1) Ответ:

Задание №3

Запишите слово, пропущенное в таблице.

| ЭКОНОМИЧЕСКИЕ ЯВЛЕНИЯ | ХАРАКТЕРИСТИКИ |
|-----------------------|---|
| Спрос | Сложившаяся на рынке в определённый период времени зависимость объёма товара определённого вида, который потребители готовы приобрести, от цен, по которым эти товары могут быть проданы производителями/продавцами |
| ... | Сложившаяся на рынке в определённый период времени зависимость объёма товара определённого вида, который производители/продавцы готовы продать, от цен, по которым этот товар может быть продан |

Ответ запишите со строчной буквы согласно тексту.

Запишите ответ:

1) Ответ:

Задание №4

Выберите понятие, которое является обобщающим для всех остальных понятий представленного ниже ряда. Запишите это слово (словосочетание).

Рынок сырья, рынок земли, рынок ресурсов, рынок труда, рынок оборудования.

Запишите ответ:

1) Ответ:

Задание №5

Ниже приведен ряд терминов. Все они, за исключением двух, относятся к понятию «рынок».

- 1) спрос
- 2) директивное планирование
- 3) предложение
- 4) равновесная цена
- 5) потребитель
- 6) дефицит

Найдите два термина, «выпадающих» из общего ряда, и запишите в ответ цифры, под которыми они указаны.

Ответ запишите в порядке возрастания без пробелов и запятых.

Запишите число:

| | | |
|----|--------|--|
| 1) | Ответ: | |
|----|--------|--|

Задание №6

Ниже приведен ряд терминов. Все они, за исключением двух, являются характеристикой факторов формирования предложения.

- 1) количество потребителей
- 2) уровень налогов
- 3) цены на сырье и комплектующие
- 4) количество продавцов на рынке
- 5) доходы потребителей
- 6) уровень технологий
- 7) рост производительности труда

Найдите два термина, «выпадающих» из общего ряда, и запишите в ответ цифры, под которыми они указаны.

Ответ запишите в порядке возрастания без пробелов и запятых.

Запишите число:

| | | |
|----|--------|--|
| 1) | Ответ: | |
|----|--------|--|

Задание №7

Установите соответствие между объектами продажи и рынками, на которых они продаются:

Укажите соответствие для всех 5 вариантов ответа:

| | | | |
|----|-------------------------|----|--------------------------------------|
| 1) | Программное обеспечение | 1) | Рынок финансовых услуг |
| 2) | Потребительские кредиты | 2) | Рынок ценных бумаг |
| 3) | Приватизационный чек | 3) | Рынок интеллектуальной собственности |
| 4) | Валюта | | |
| 5) | Депозитный сертификат | | |

Задание №8

Ценовая эластичность спроса будет выше:

Выберите один из 4 вариантов ответа:

| | |
|----|---|
| 1) | На товары первой необходимости, чем на предметы роскоши. |
| 2) | В тех случаях, когда потребители используют данный товар с наибольшей пользой для себя. |
| 3) | Чем больше альтернативные издержки производства товаров. |
| 4) | Чем менее необходим товар потребителю. |

Задание №9

Сокращение предложения товара ведет к увеличению:

Выберите один из 4 вариантов ответа:

| | |
|----|--|
| 1) | Спроса на взаимодополняемые товары. |
| 2) | Общей выручки продавца, если спрос на товар является эластичным по цене. |
| 3) | Общей выручки продавца, если спрос на товар является неэластичным по доходу. |
| 4) | Спроса на взаимозаменяемые товары. |

Задание №10

Цена на хлеб возросла с 3000 рублей до 3600 рублей. При этом величина спроса снизилась на 20%. Можно сказать, что в среднем в данном интервале цен спрос ...

Выберите один из 4 вариантов ответа:

| | |
|----|---|
| 1) | эластичен по цене |
| 2) | не эластичен по цене |
| 3) | имеет эластичность, равную единице |
| 4) | данных недостаточно, чтобы сделать какие-то выводы об эластичности спроса |

Задание №11

Если однопроцентное сокращение цены на товар приводит к двухпроцентному увеличению объема спроса на него, то этот спрос:

Выберите один из 4 вариантов ответа:

| | |
|----|------------------------|
| 1) | Неэластичный |
| 2) | Эластичный |
| 3) | Единичной эластичности |
| 4) | Абсолютно неэластичный |

Задание №12

Если цена товара выросла с 1,5 долл. до 2 долл., а объем спроса сократился с 1000 до 900 единиц, то коэффициент ценовой эластичности равен:

Выберите один из 5 вариантов ответа:

| | |
|----|------|
| 1) | 3,00 |
| 2) | 2,71 |
| 3) | 0,37 |
| 4) | 0,33 |
| 5) | 1,5 |

Задание №13

Какое из следующих утверждений не относится к характеристике эластичного спроса на товар?

Выберите один из 4 вариантов ответа:

| | |
|----|---|
| 1) | Коэффициент ценовой эластичности меньше единицы |
| 2) | Общая выручка продавца сокращается, если цена растет |
| 3) | Покупатели относительно чутко реагируют на изменения цены |
| 4) | Относительное изменение объема спроса больше, чем относительное изменение цены. |

Задание №14

Какое из следующих утверждений не относится к характеристике неэластичного спроса на товар?

Выберите один из 4 вариантов ответа:

| | |
|----|---|
| 1) | Имеется большое число товаров-заменителей |
| 2) | Покупатели расходуют на его покупку незначительную долю своего дохода |
| 3) | Данный товар является для потребителей товаром первой необходимости |
| 4) | Период времени, в течение которого предъявляется спрос, является очень коротким |

Задание №15

Если уменьшение цены на 5% приводит к снижению объема предложения на 8%, то данное предложение:

Выберите один из 4 вариантов ответа:

| | |
|----|------------------------|
| 1) | Неэластично |
| 2) | Единичной эластичности |
| 3) | Эластично |
| 4) | Абсолютно эластично |

Задание №16

Если предложение товара неэластично, а спрос на него сокращается, то общая выручка продавца:

Выберите один из 4 вариантов ответа:

| | |
|----|--|
| 1) | Растет |
| 2) | Сокращается |
| 3) | Сокращается в том случае, если спрос является эластичным |
| 4) | Сокращается в том случае, если спрос является неэластичным |

Задание №17

Эластичность предложения зависит главным образом от:

Выберите один из 4 вариантов ответа:

| | |
|----|--|
| 1) | Числа товаров-заменителей данного продукта |
| 2) | Периода времени, в течение которого продавцы могут приспособиться к изменениям цен |
| 3) | Того, является ли данный товар предметом первой необходимости или роскоши |
| 4) | Того, относится ли данный товар к предметам длительного пользования или текущего потребления |

Задание №18

Коэффициент ценовой эластичности спроса равен:

Выберите один из 4 вариантов ответа:

| | |
|----|--|
| 1) | Уменьшению цены, деленному на увеличение объема спроса |
| 2) | Изменению общей выручки (в %), деленному на увеличение объема спроса (в %) |
| 3) | Уменьшению общей выручки (в %), деленному на увеличение цены (в %) |
| 4) | Изменению объема спроса (в %), деленному на изменение цены (в %) |

Задание №19

Кривая абсолютно неэластичного спроса представляет собой:

Выберите один из 4 вариантов ответа:

| | |
|----|---------------------------------------|
| 1) | Вертикальную линию |
| 2) | Горизонтальную линию |
| 3) | Кривую линию |
| 4) | Прямую линию с отрицательным наклоном |

Задание №20

В случае, если, несмотря на изменения цены товара, общая выручка не изменяется, коэффициент ценовой эластичности:

Выберите один из 4 вариантов ответа:

| | |
|----|----------|
| 1) | Больше 1 |
| 2) | Меньше 1 |
| 3) | Равен 0 |
| 4) | Равен 1 |

Задание №21

Неэластичный спрос означает, что:

Выберите один из 4 вариантов ответа:

| | |
|----|---|
| 1) | Рост цены на 1% приводит к сокращению величины спроса менее, чем на 1%. |
| 2) | Рост цены на 1% приводит к сокращению величины спроса более, чем на 1%. |
| 3) | Любое изменение цены не приводит к изменению общей выручки. |
| 4) | Рост цены на 1% не влияет на величину спроса. |

Задание №22

Если любое количество товара продается по одинаковой цене, то спрос на этот товар является:

Выберите один из 4 вариантов ответа:

| | |
|----|------------------------|
| 1) | Абсолютно неэластичным |
| 2) | Абсолютно эластичным |
| 3) | Эластичным |
| 4) | Неэластичным |

Задание №23

Какое из указанных ниже значений коэффициента эластичности по доходу относится к товарам первой необходимости?

Выберите один из 4 вариантов ответа:

| | |
|----|-----------------------|
| 1) | Меньше 0 |
| 2) | Больше 0, но меньше 1 |
| 3) | Больше 1 |
| 4) | 1 |

Задание №24

Если цена товара неэластичного спроса выросла с 7 до 8 долл., то выручка:

Выберите один из 4 вариантов ответа:

| | |
|----|-----------------------|
| 1) | Сократилась |
| 2) | Выросла |
| 3) | Осталась неизменной |
| 4) | Абсолютно неэластична |

Задание №25

Фирма производит и продает два товара - А и Б. А- имеет много заменителей; Б -занимает значительную долю в расходах потребителей. Увеличение цены на каждый товар приведет к:

Выберите один из 4 вариантов ответа:

| | |
|----|--|
| 1) | Увеличению выручки от продажи товара А и сокращению выручки от продажи товара Б. |
| 2) | Увеличению выручки от продажи товара А и товара Б. |
| 3) | Сокращению выручки от продажи товара А и увеличению выручки от продажи товара Б. |
| 4) | Сокращению выручки от продажи товара А и товара Б. |

Задание №26

Ценовая эластичность спроса будет расти с увеличением продолжительности периода, в течение которого предъявляется спрос, так как:

Выберите один из 4 вариантов ответа:

| | |
|----|--|
| 1) | Доходы потребителей увеличатся. |
| 2) | Произойдет сдвиг вправо кривой спроса. |
| 3) | Вырастет общий уровень цен. |
| 4) | Потребители смогут приобрести товары-заменители. |

Задание №27

Если спрос на сельскохозяйственную продукцию неэластичен, то при хорошем урожае доходы фермеров:

Выберите один из 4 вариантов ответа:

| | |
|----|--|
| 1) | Вырастут, так как увеличится объем продаваемой продукции. |
| 2) | Сократятся, так как относительное снижение цен окажется большим, чем относительное |

| | | |
|----|--|--|
| | | увеличение объема продаж. |
| 3) | | Вырастут, так как произойдет увеличение цен на продукцию, вызванное повышением спроса. |
| 4) | | Останутся неизменными, так как относительное увеличение объема продаж будет равно относительному снижению цен. |

Задание №28

Допустим, что предложение товара X абсолютно неэластично. Если спрос на этот товар вырастет, то равновесная цена:

Выберите один из 4 вариантов ответа:

| | | |
|----|--|--|
| 1) | | Уменьшится, а равновесное количество вырастет. |
| 2) | | И равновесное количество уменьшатся. |
| 3) | | Увеличится, а равновесное количество уменьшится. |
| 4) | | Увеличится, а равновесное количество останется неизменным. |

Задание №29

Производитель товара X снизил цену на свой товар на 5%, в результате чего объем продаж вырос на 4%. Спрос на товар X является:

Выберите один из 4 вариантов ответа:

| | | |
|----|--|--------------------------------|
| 1) | | Эластичным |
| 2) | | Неэластичным |
| 3) | | Спросом единичной эластичности |
| 4) | | Абсолютно эластичным |

Задание №30

Товар можно отнести к товарам низкого качества, если:

Выберите один из 4 вариантов ответа:

| | | |
|----|--|--|
| 1) | | Эластичность его спроса по доходу равна -0,5. |
| 2) | | Ценовая эластичность его спроса равна 1,3. |
| 3) | | Перекрестная эластичность его спроса равна -0,7. |
| 4) | | Эластичность его спроса по доходу равна 1,3. |

Задание №31

Владелец кафе, испытывающий сильную конкуренцию, опасается повысить цены даже на 2%, утверждая, что потеряет при этом половину своих постоянных клиентов. Если это действительно так, то спрос в данном случае ...

Выберите один из 4 вариантов ответа:

| | | |
|----|--|------------------------------|
| 1) | | имеет высокую эластичность |
| 2) | | имеет единичную эластичность |
| 3) | | имеет низкую эластичность |
| 4) | | абсолютно неэластичен |

Задание №32

Какое из приведенных ниже утверждений НЕ является верным?

Выберите один из 4 вариантов ответа:

| | | |
|----|--|---|
| 1) | | При параллельном сдвиге кривой спроса влево величина коэффициента эластичности спроса по цене вырастет для каждой цены (по абсолютному значению). |
| 2) | | При параллельном сдвиге кривой предложения влево величина коэффициента эластичности предложения по цене вырастет для каждой цены. |
| 3) | | Появление у товара заменителей всегда способствует снижению эластичности спроса на этот товар. |
| 4) | | Появление на рынке новых покупателей скажется на эластичности спроса на этот товар. |

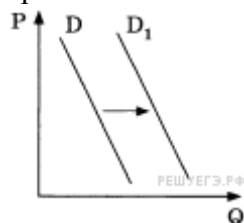
Задание №33

На графике отражена ситуация на рынке легковых автомобилей: кривая спроса переместилась из положения D в положение D_1 (на графике P — цена товара, Q — объём спроса).

Какие из перечисленных факторов могут вызвать такое изменение? Запишите цифры, под которыми они указаны.

- 1) совершенствование технологии производства автомобилей Q
- 2) уменьшение издержек производителей автомобилей
- 3) сокращение объёма услуг общественного транспорта
- 4) увеличение доходов населения
- 5) снижение цен на бензин и дизельное топливо

Ответ запишите в порядке возрастания без пробелов и запятых.



Запишите число:

1) Ответ:

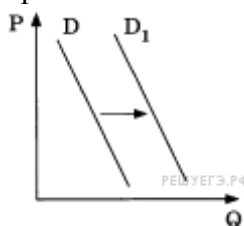
Задание №34

На графике отражено изменение спроса на витаминные добавки к пище на соответствующем рынке: кривая спроса переместилась из положения D в положение D_1 (на графике P — цена товара, Q — количество товара).

Какие из перечисленных факторов могут вызвать такое изменение? Запишите цифры, под которыми они указаны.

- 1) снижение доходов потребителей
- 2) активная пропаганда здорового образа жизни Q
- 3) увеличение таможенных пошлин на импортные лекарства и витаминные добавки к пище
- 4) повышение цен на свежие овощи и фрукты
- 5) открытие нескольких платных поликлиник

Ответ запишите в порядке возрастания без пробелов и запятых.



Запишите число:

1) Ответ:

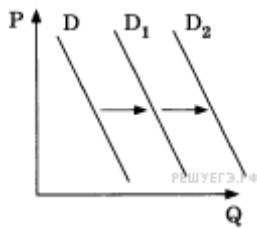
Задание №35

На графике отражена ситуация на рынке косметологических и парикмахерских услуг: кривая спроса переместилась из положения D в положение D_1 , а затем — D_2 (на графике P — цена товара, Q — количество товара).

Какие из перечисленных факторов могут вызвать такое изменение? Запишите цифры, под которыми они указаны.

- 1) открытие большого числа салонов шаговой доступности с невысокими ценами
- 2) снижение доходов потребителей
- 3) повышение налогообложения предприятий малого бизнеса
- 4) интенсивная реклама косметических товаров для домашнего пользования
- 5) мода на посещение салонов красоты

Ответ запишите в порядке возрастания без пробелов и запятых.



Запишите число:

1)

Ответ:

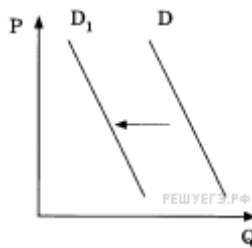
Задание №36

На графике отражена ситуация на рынке парикмахерских услуг: кривая спроса переместилась из положения D в положение D_1 (на графике P — цена товара, Q — количество товара).

Какие из перечисленных факторов могут вызвать такое изменение? Запишите цифры, под которыми они указаны.

- 1) увеличение количества недорогих салонов красоты
- 2) увеличение доходности салонов красоты
- 3) мода на сложные причёски у женщин
- 4) появление в продаже эффективных средств для самостоятельного ухода за волосами
- 5) снижение доходов населения

Ответ запишите в порядке возрастания без пробелов и запятых.



Запишите число:

1)

Ответ:

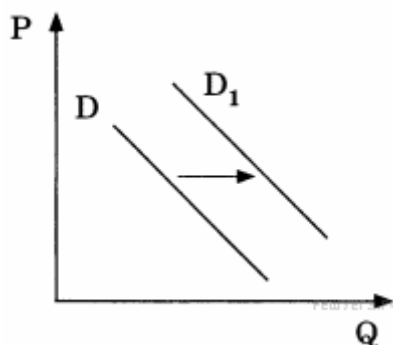
Задание №37

На графике отражено изменение спроса на легковые автомобили на соответствующем рынке: кривая спроса переместилась из положения D в положение D_1 (на графике P — цена товара, Q — количество товара).

Какие из перечисленных факторов могут вызвать такое изменение? Запишите цифры, под которыми они указаны.

- 1) совершенствование технологии производства автомобилей
- 2) уменьшение издержек производителей автомобилей
- 3) сокращение объёма услуг общественного транспорта
- 4) увеличение доходов населения
- 5) мода дарить автомобиль на совершеннолетие сына или дочери

Ответ запишите в порядке возрастания без пробелов и запятых.



Запишите число:

1)

Ответ:

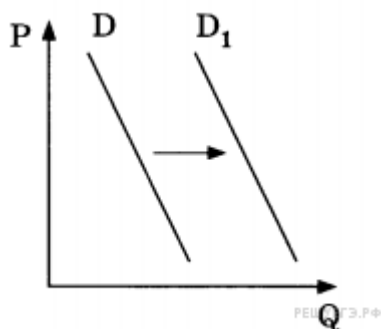
Задание №38

На графике изображено изменение спроса на школьную форму на соответствующем рынке: кривая спроса переместилась из положения D в положение D_1 (на графике P — цена товара, Q — количество товара).

Какие из перечисленных факторов могут вызвать такое изменение? Запишите цифры, под которыми они указаны.

- 1) снижение доходов потребителей
- 2) принятие закона об обязательной школьной форме
- 3) увеличение таможенных пошлин на импортные ткани
- 4) повышение цен на энергоносители
- 5) скорое начало учебного года в школах

Ответ запишите в порядке возрастания без пробелов и запятых.



Запишите число:

1) Ответ:

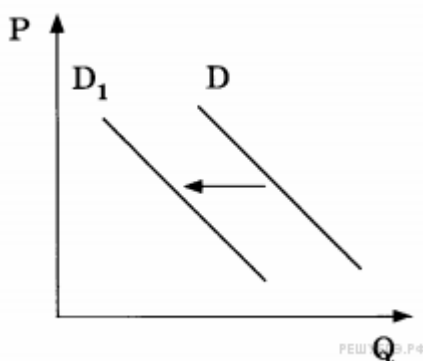
Задание №39

На графике изображено изменение спроса на услуги работающих на коммерческой основе центров детского творчества на соответствующем рынке: кривая спроса переместилась из положения D в положение D_1 (на графике P — цена товара, Q — количество товара).

Какие из перечисленных факторов могут вызвать такое изменение? Запишите цифры, под которыми они указаны.

- 1) увеличение количества кружков и секций в школах
- 2) открытие новых игровых развлекательных центров и аквапарков
- 3) укрупнение организаций дополнительного образования
- 4) повышение популярности художественного образования детей
- 5) сокращение доли детей в структуре населения

Ответ запишите в порядке возрастания без пробелов и запятых.



Запишите число:

1) Ответ:

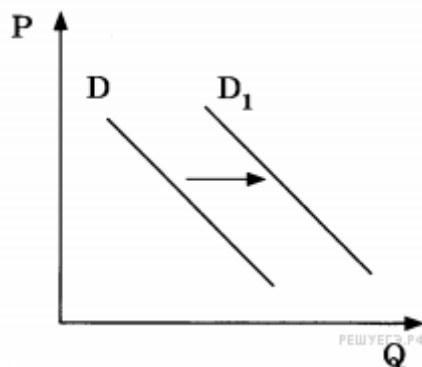
Задание №40

На графике изображено изменение спроса на недорогую кухонную мебель на соответствующем рынке: кривая спроса переместилась из положения D в положение D_1 (на графике P — цена товара, Q — количество товара).

Какие из перечисленных факторов могут вызвать такое изменение? Запишите цифры, под которыми они указаны.

- 1) совершенствование технологии производства кухонной мебели
- 2) уменьшение издержек производителей кухонной мебели
- 3) снижение налогов с небольших мебельных производств
- 4) увеличение объёмов строительства нового муниципального жилья
- 5) мода на недорогие экологичные кухонные гарнитуры

Ответ запишите в порядке возрастания без пробелов и запятых.



1) Ответ:

Задание №41

Найдите в списке неценовые факторы спроса и запишите цифры, под которыми они указаны.

- 1) цены на сопряженные товары
- 2) количество продавцов на рынке
- 3) уровень доходов потребителей
- 4) предписания моды
- 5) ставки налогов на производителя
- 6) импортные таможенные пошлины

Ответ запишите в порядке возрастания без пробелов и запятых.

Запишите число:

1) Ответ:

Задание №42

Найдите в приведённом ниже списке факторы, влияющие на повышение спроса на потребительские товары. Запишите цифры, под которыми они указаны.

- 1) рост цен на товары
- 2) повышение налога на добавленную стоимость
- 3) снижение производства товаров
- 4) интенсивная реклама товаров
- 5) доступность потребительских кредитов
- 6) увеличение доходов семей

Ответ запишите в порядке возрастания без пробелов и запятых.

Запишите число:

1) Ответ:

Задание №43

Выберите верные суждения об отличительных чертах рационального поведения потребителя и запишите цифры, под которыми они указаны. Цифры укажите в порядке возрастания.

- 1) Действия потребителя являются взвешенными на основе полезности оценки для него того или иного товара.
- 2) Спрос потребителя на товары, зависит от того, какие товары покупают окружающие его люди.
- 3) При рациональном выборе благ возможности потребителя не ограничены ценами благ и его доходом.
- 4) Рациональным поведением потребителя считается продуманное поведение, предполагающее сопоставление результатов действия с затратами.
- 5) Одним из этапов рационального поведения потребителя является оценка возможных вариантов покупки.

Ответ запишите в порядке возрастания без пробелов и запятых.

Запишите число:

1) Ответ:

Задание №44

Найдите в приведённом ниже списке факторы, которые могут способствовать повышению спроса на новую модель телевизора, выпущенную фирмой А. Запишите цифры, под которыми они указаны.

- 1) банки предоставляют потребительские кредиты на выгодных для клиентов условиях
- 2) налог на добавленную стоимость вырос
- 3) производитель сократил выпуск других моделей телевизоров
- 4) производитель активно рекламирует новую модель телевизора
- 5) цены на новую модель телевизора выше, чем на старую модель
- 6) доходы семей постепенно сокращаются

Ответ запишите в порядке возрастания без пробелов и запятых.

Запишите число:

1) Ответ:

Задание №45

Установите соответствие между примерами и сферами экономической жизни, которые этими примерами иллюстрируются:

Укажите соответствие для всех 5 вариантов ответа:

| | | | | |
|----|--|--|----|--------------------|
| 1) | | использование в быту отопления | 1) | сфера производства |
| 2) | | оказание страховых услуг | 2) | сфера потребления |
| 3) | | изготовление продуктов массового спроса | | |
| 4) | | получение благ, находящихся в семейной собственности | | |
| 5) | | пользование общественными благами | | |

Задание №46

Установите соответствие между факторами спроса и предложения и их примерами:

Укажите соответствие для всех 5 вариантов ответа:

| | | | | |
|----|--|------------------------------|----|--------------------|
| 1) | | уровень доходов населения | 1) | фактор спроса |
| 2) | | цены на сырье | 2) | фактор предложения |
| 3) | | технология производства | | |
| 4) | | потребительские предпочтения | | |
| 5) | | число продавцов на рынке | | |

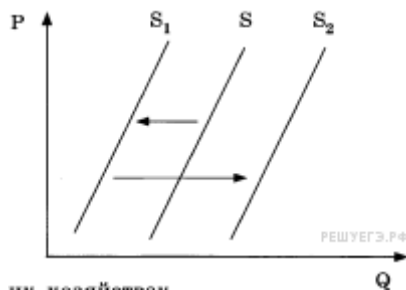
Задание №47

На графике отражена ситуация на рынке молочных продуктов: кривая предложения переместилась из положения S_0 в положение S_1 , а затем — в положение S_2 (на графике P — цена товара, Q — количество товара).

Какие из перечисленных факторов могут вызвать такое изменение? Запишите цифры, под которыми они указаны.

- 1) интенсивная реклама молочных продуктов Q
- 2) эпидемическое заболевание скота B фермерских хозяйствах
- 3) временное снижение цен, уровень которых впоследствии восстановился
- 4) снижение налогов с фермерских хозяйств
- 5) увеличение после сезонного спада закупок молочных продуктов крупными торговыми сетями

Ответ запишите в порядке возрастания без пробелов и запятых.



Запишите число:

1)

Ответ:

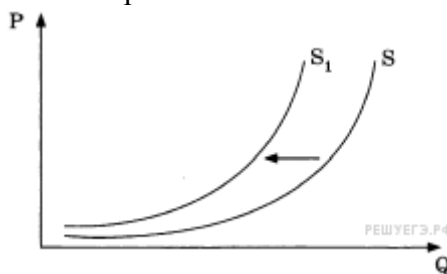
Задание №48

На графике отражены изменения предложения пшеницы на соответствующем рынке: кривая предложения переместилась из положения S в положение S_1 (на графике P — цена товара, Q — количество товара).

Какие из перечисленных факторов могут вызвать такое изменение? Запишите цифры, под которыми они указаны.

- 1) снижение спроса на зерно на мировом рынке
- 2) снижение цен на сельскохозяйственную технику
- 3) засуха и неурожай зерна
- 4) открытие нескольких хлебобулочных комбинатов
- 5) культивирование высокопродуктивных сортов пшеницы

Ответ запишите в порядке возрастания без пробелов и запятых.



Запишите число:

1)

Ответ:

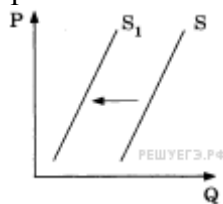
Задание №49

На графике отражена ситуация на рынке мяса и мясных продуктов: кривая предложения переместилась из положения S в положение S_1 (на графике P — цена товара, Q — количество товара).

Какие из перечисленных факторов могут вызвать такое изменение? Запишите цифры, под которыми они указаны.

- 1) рост числа производителей мясных продуктов
- 2) увеличение доходов потребителей
- 3) снижение налогов с производителей мясных продуктов
- 4) известие об эпидемическом заболевании животных
- 5) сокращение поголовья скота в фермерских хозяйствах

Ответ запишите в порядке возрастания без пробелов и запятых.



Запишите число:

1)

Ответ:

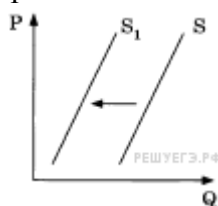
Задание №50

На графике отражено изменение предложения овощей на соответствующем рынке: кривая предложения переместилась из положения S в положение S_1 (на графике P — цена товара, Q — количество товара).

Какие из перечисленных факторов могут вызвать такое изменение? Запишите цифры, под которыми они указаны.

- 1) повышение цен на сельскохозяйственную технику
- 2) снижение затрат на транспортные услуги
- 3) увеличение доходов фермерских хозяйств
- 4) низкий урожай овощей
- 5) реализация программ государственной поддержки фермерских хозяйств

Ответ запишите в порядке возрастания без пробелов и запятых.



Запишите число:

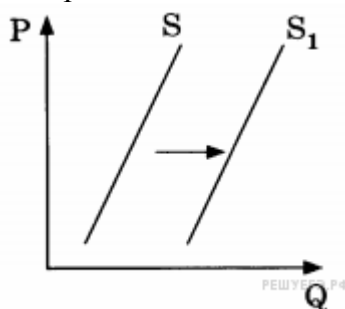
1) Ответ:

Задание №51

На графике изображено изменение положения на рынке свежих фруктов: кривая предложения переместилась из положения S в положение S_1 (на графике P — цена товара, Q — количество товара). Какие из перечисленных факторов могут вызвать такое изменение? Запишите цифры, под которыми они указаны.

- 1) рост таможенных пошлин на импорт фруктов
- 2) повышение тарифов на грузовые перевозки
- 3) снижение доходов потребителей
- 4) высокий урожай фруктов
- 5) мода на здоровое питание

Ответ запишите в порядке возрастания без пробелов и запятых.



Запишите число:

1) Ответ:

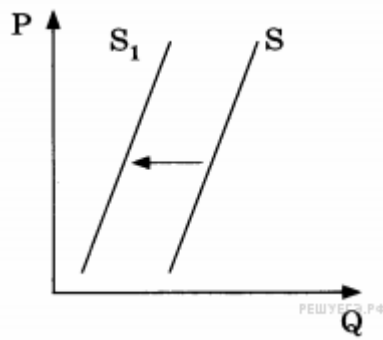
Задание №52

На графике отражено изменение предложения бананов на соответствующем рынке страны, не выращивающей бананы: кривая предложения переместилась из положения S в положение S_1 (на графике P — цена товара, Q — количество товара).

Какие из перечисленных факторов могут вызвать такое изменение? Запишите цифры, под которыми они указаны.

- 1) увеличение таможенных пошлин на импорт бананов
- 2) предоставление льготных кредитов продавцам бананов
- 3) уменьшение цен на энергоносители
- 4) увеличение доходов потребителей
- 5) низкий урожай бананов

Ответ запишите в порядке возрастания без пробелов и запятых.



Запишите число:

1) Ответ:

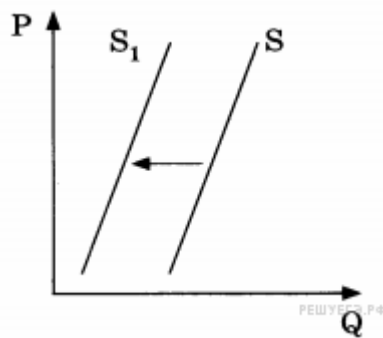
Задание №53

На графике отражено изменение предложения моркови и лука на соответствующем рынке: кривая предложения переместилась из положения S в положение S_1 (на графике P — цена товара, Q — количество товара).

Какие из перечисленных факторов могут вызвать такое изменение? Запишите цифры, под которыми они указаны.

- 1) увеличение доходов производителей моркови и лука
- 2) гибель урожая в результате неблагоприятных погодных условий
- 3) уменьшение платы за аренду земельных участков
- 4) снижение цен на дизельное топливо и бензин
- 5) повышение цен на посадочные материалы

Ответ запишите в порядке возрастания без пробелов и запятых.



Запишите число:

1) Ответ:

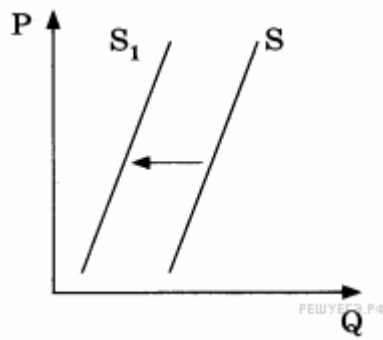
Задание №54

На графике отражено изменение предложения фотоплёнки на соответствующем рынке: кривая предложения переместилась из положения S в положение S_1 (на графике P — цена товара, Q — количество товара).

Какие из перечисленных факторов могут вызвать такое изменение? Запишите цифры, под которыми они указаны.

- 1) увеличение доходов производителей
- 2) увеличение числа владельцев фотоаппаратов
- 3) снижение налога на прибыль производителей
- 4) доступность цифровой любительской фототехники
- 5) серьёзное удорожание услуг проявки плёнки и печати фотографий

Ответ запишите в порядке возрастания без пробелов и запятых.



Запишите число:

1) Ответ:

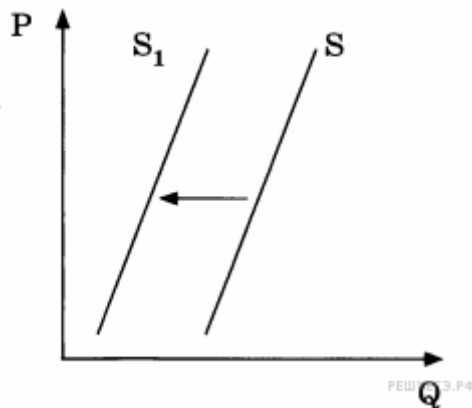
Задание №55

На графике изображено изменение предложения тропических фруктов на соответствующем рынке: кривая предложения переместилась из положения S в положение S_1 (на графике P — цена товара, Q — количество товара).

Какие из перечисленных факторов могут вызвать такое изменение? Запишите цифры, под которыми они указаны.

- 1) уменьшение затрат производителей фруктов
- 2) повышение доходов потребителей
- 3) повышение пошлин на импорт фруктов
- 4) неурожай тропических фруктов
- 5) мода на употребление соков из тропических фруктов

Ответ запишите в порядке возрастания без пробелов и запятых.



Запишите число:

1) Ответ:

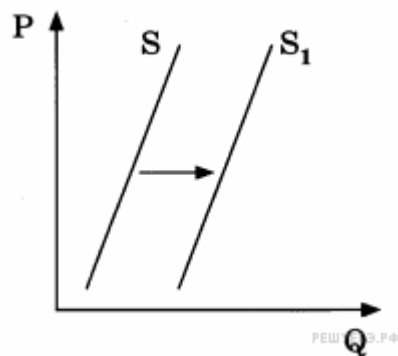
Задание №56

На графике отражена ситуация на рынке ветеринарных услуг: кривая предложения переместилась из положения S в положение S_1 (на графике P — цена товара, Q — количество товара).

Какие из перечисленных факторов могут вызвать такое изменение? Запишите цифры, под которыми они указаны.

- 1) Всё больше людей заводят домашних животных.
- 2) Доходы населения стабильно снижаются.
- 3) Цены на специальное питание для животных постоянно растут.
- 4) Различные аксессуары для животных стали дешевле.
- 5) Открылось несколько новых ветеринарных клиник.

Ответ запишите в порядке возрастания без пробелов и запятых.



Запишите число:

1) Ответ:

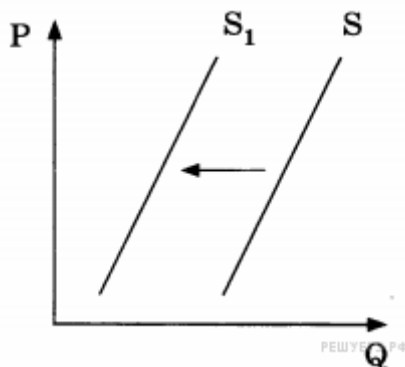
Задание №57

На графике отражено изменение предложения местных сезонных ягод на соответствующем рынке: кривая предложения переместилась из положения S в положение S_1 (на графике P — цена товара, Q — количество товара).

Какие из перечисленных факторов могли вызвать такое изменение?

- 1) уменьшение издержек производителей сезонных ягод
- 2) повышение доходов потребителей
- 3) снижение пошлин на ввозимые сезонные ягоды и фрукты
- 4) низкий урожай местных сезонных ягод
- 5) уменьшение стоимости электроэнергии и водоснабжения

Ответ запишите в порядке возрастания без пробелов и запятых.



Запишите число:

1) Ответ:

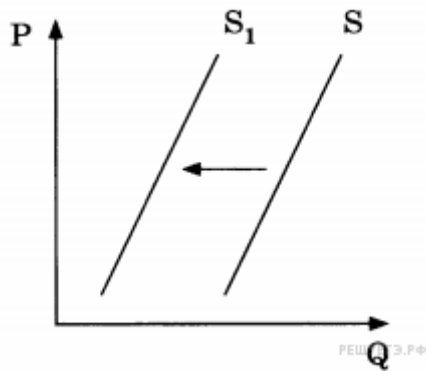
Задание №58

На графике отражено изменение предложения гречневой крупы на соответствующем рынке: кривая предложения переместилась из положения S в положение S_1 (на графике P — цена товара, Q — количество товара).

Какие из перечисленных факторов могли вызвать такое изменение?

- 1) увеличение доходов потребителей
- 2) засуха и гибель урожая
- 3) предоставление льготных кредитов производителям
- 4) повышение цен на энергоносители
- 5) увеличение посадочных площадей

Ответ запишите в порядке возрастания без пробелов и запятых.



Запишите число:

1)

Ответ:

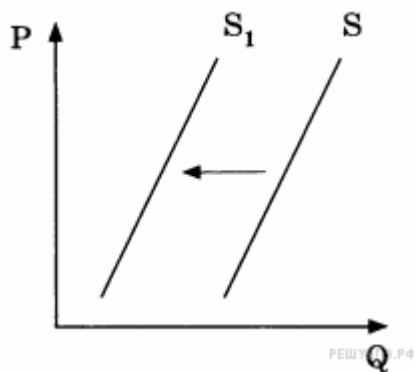
Задание №59

На графике отражена ситуация на рынке кондитерских изделий: кривая предложения переместилась из положения S в положение S_1 (на графике P — цена товара, Q — количество товара).

Какие из перечисленных факторов могли вызвать такое изменение?

- 1) неурожай какао-бобов
- 2) увеличение доходов потребителей
- 3) выдача льготных кредитов кондитерским предприятиям
- 4) повышение акцизов на сахар и какао-бобы
- 5) закрытие ряда кондитерских фабрик

Ответ запишите в порядке возрастания без пробелов и запятых.



Запишите число:

1)

Ответ: