

КГАОУ Краевой центр образования

История России IX-XV в.в.

**Сборник практических заданий
для углублённого изучения
истории
6 класс**

**Автор- составитель:
Карамышева Н.М.,
учитель истории и обществознания**

Хабаровск

2018 г.



Дорогие ребята!

Вашему вниманию предлагается практикум для углубленного изучения истории России X-XV вв. Задания разделены на 3 темы:

- История Руси IX-нач. XII века.
- Русь Удельная XIII- XIV веков.
- Русь в период формирования единого централизованного государства. в XIV-XV вв.

Каждая тема представлена заданиями повышенного и высокого уровней. Для успешного решения вам понадобится знание хронологии событий, умение извлекать информацию из источников разного типа: письменных, иллюстративных, картографических, а также умение сопоставлять историю нашей страны и зарубежных стран. При работе над заданиями необходимо опираться как на материал учебника «История России» под редакцией академика РАН А.В.Торкунова, так и на интернет-ресурсы, указанные на странице [Теоретический материал](#).

В вашем распоряжении- 1 месяц, постарайтесь выполнять задания максимально самостоятельно, не переписывая решения друг у друга.

Кроме того, в конце практикума размещены приложения, которые помогут подготовиться к зачётам по Историко- географической номенклатуре и устной аргументации высказывания по цитате историка.

Желаем успехов в освоении истории!

Содержание

Теоретический материал	стр.3
История Руси IX-нач. XII века	стр.4
Русь Удельная XIII- XIV веков.	стр.18.
Русь в период формирования единого централизованного государства. в XIV-XV вв	стр. 25
<i>Приложение 1.</i> Лист контроля	стр.36
<i>Приложение 2.</i> Хронология: необходимый минимум	стр. 38
<i>Приложение 3.</i> Историко-географическая номенклатура	стр.39
<i>Приложение 4.</i> Историки спорят	стр. 40

Теоретический материал

Произведения учёных – историков:

www.magister.msk.ru/library/history/history1.htm:

1. Н.М. Карамзин История государства Российского
2. С.М. Соловьев История России с древнейших времен
3. Н.И. Костомаров Русская история в жизнеописаниях ее главнейших деятелей
4. В.О. Ключевский Курс русской истории
5. С.Ф. Платонов Полный курс лекций по русской истории

Исторические источники:

1. Повесть временных лет (с переводом) Электронные публикации Института русской литературы (Пушкинского Дома) РАН
<http://lib.pushkinskiydom.ru/Default.aspx?tabid=4869>
2. Задонщина»-
http://historydoc.edu.ru/catalog.asp?cat_ob_no=12190&ob_no=12573
3. Сказание о Мамаевом побоище. Кон. XIV — нач. XV в.-
http://historydoc.edu.ru/catalog.asp?cat_ob_no=12190&ob_no=12574
4. Духовная грамота (вторая) великого князя Дмитрия Ивановича-
http://www.hist.msu.ru/ER/Etext/DG/dmi_2.htm
5. Духовная грамота (первая) великого князя Василия I Дмитриевича
http://www.hist.msu.ru/ER/Etext/DG/vas1_1.htm

Хронология- <http://history.sgu.ru/>

Иллюстративный материал:

1. История России в живописи- <http://turambar.ru/istorija-rossii-v-zhivopisi.html>
2. Российская история в зеркале изобразительного искусства-
<http://history.sgu.ru/>
3. Царский титулярник- <http://medal-sss.ru>
4. Россия. Гербы российских городов- <http://bibliotekar.ru/gerb/index.htm>
5. Древнерусское храмовое зодчество. Краткий обзор-
http://temples.ru/old_russian.php

Картография

Подборка карт Древней Руси 9-14 веков. История России.-
<http://statehistory.ru/3893/Podborka-kart-Drevney-Rusi-9-14-vekov/>

Русь в IX-1 первой половине XII в.

Повышенный уровень сложности.

1. Прочтите отрывок из исторического источника и назовите его автора.

«В год 6370 (862). Изгнали варяг за море, и не дали им дани, и начали сами собой владеть, и не было среди них правды, и встал род на род, и была у них усобица, и стали воевать друг с другом. И сказали себе: «Поищем себе князя, который бы владел нами и судил по праву». И пошли за море к варягам, к руси. Те варяги назывались русью, как другие называются шведы, а иные норманны и англты, а еще иные готландцы, — вот так и эти. Сказали руси чудь, словене, кривичи и весь: «Земля наша велика и обильна, а порядка в ней нет. Приходите княжить и владеть нами».

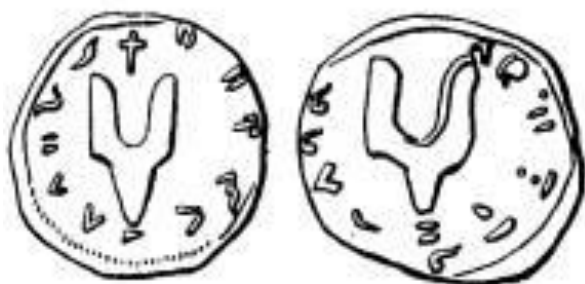
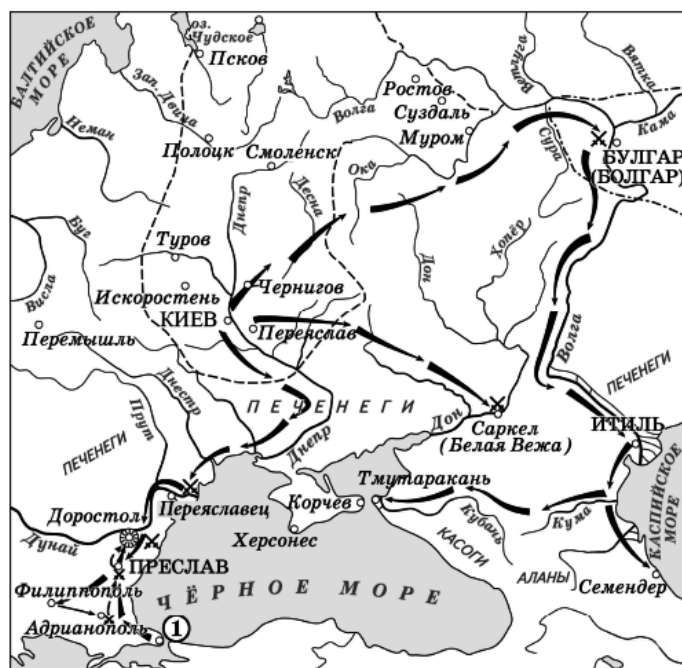
Ответ _____

2. Прочтите отрывок из исторического источника и назовите имя князя(княгини), в правление которого произошло описанное событие

«Русские же, посовещавшись, вышли против греков с оружием, и в жестоком сражении едва одолели греки. Русские же к вечеру возвратились к дружине своей и ночью, сев в ладьи, отплыли. Феофан же встретил их в ладьях с огнем и стал трубами пускать огонь на ладьи русских. И было видно страшное чудо. Русские же, увидев пламя, бросились в воду морскую, стремясь спастись, и так оставшиеся возвратились домой. И, придя в землю свою, поведали - каждый своим - о происшедшем и о ладейном огне. "Будто молнию небесную, - говорили они, - имеют у себя греки и, пуская ее, пожгли нас; оттого и не одолели их".»

Ответ _____

3. Рассмотрите изображения. С именем какого правителя они связаны?



Ответ _____

4. Определите, когда произошло указанное событие;

Ярославу сушу в Новѣгородѣ и урокомъ дающе 2000 гривенъ от года до года Киеву, а тысящу Новѣгородѣ *гридемь* раздаваху. И тако *дааху* вси посадницѣ новѣгородьстии, а Ярославъ поча сего не даяти Киеву, отцю своему. И рче Володимирь: «Теребите путь и мосты мостите» — хотяше бо ити на Ярослава, на сына своего, но разболѣся.

Ответ _____

5. Какие города были основаны Ярославом Мудрым?

- а) Смоленск, Ярославль
- б) Вышгород, Любеч
- в) Любеч, Чернигов
- г) Вышгород, Ярославль
- д) Юрьев, Ярославль

6. Назовите фамилию историка, которому принадлежит данное высказывание.

<...> Сей Князь, похитив Единовластие, благоразумным и счастливым для народа правлением загладил вину свою; выслав мятежных Варягов

из России, употребил лучших из них в ее пользу; смирил бунты своих данников, отражал набеги хищных соседей, победил сильного Мечислава и славный храбростью народ Ятвяжский; расширил пределы Государства на Западе; мужеством дружины своей утвердил венец на слабой главе Восточных Императоров; старался просветить Россию: населил пустыни, основал новые города; любил советоваться с мудрыми Боярами о полезных уставах земских; завел училища и призывал из Греции не только Иереев, но и художников; наконец, был нежным отцом народа бедного. Горестию последних минут своих он заплатил за важную ошибку в Политике, за назначение особенных Уделов для сыновей. <...>

Ответ _____

7. Ознакомьтесь с приведенными ниже высказываниями, известными нам из «Повети временных лет», и укажите автора (им необязательно является конкретный человек), год и обстоятельства их появления.

Высказывание	Автор	Год	Обстоятельства появления
1) «Хочу на вас идти»			
2) «Да будет это мать городам русским»			
3) «Нам некуда уже деться, хотим мы или не хотим - должны сражаться. Так не посрамим земли Русской, но ляжем здесь костьми, ибо мертвым не ведом позор. Если же побежим - позор нам будет. Так не побежим же, но станем крепко, а я пойду впереди вас: если моя голова ляжет, то о своих сами позаботьтесь»			
4) «Как же ты хочешь взять меня в жены, когда сам крестил меня и назвал			

дочерью. А христианский закон этого не допускает – ты сам знаешь»			
5)«Отроки Свенельда изоделись оружием и одеждой, а мы наги»			
6)«Земля наша велика и обильна, а порядка в ней нет. Приходите княжить и владеть нами»			
7)«Вот уже иду к вам, приготовьте меды многие в городе, где убили мужа моего, да поплачусь на могиле его и сотворю тризну по своему муже»			

8. По какому принципу образованы ряды:

- А) 907,911,944,971-
- Б) Днепр, Ловать, Ильмень, Нево-
- Г) Дажьбог, Хорс, Ярило-
- Д) 1093,1096,1103,1111-

9. Перед Вами текст, содержащий также и ошибочные утверждения. Вам предстоит обнаружить и исправить эти ошибки.

«В следующий год (944), оставив Игоря в Новгороде, она [Ольга] поехала в область Новгородскую; учредила по Луге и Мсте государственные дани; разделила землю на дистрикты; сделала без сомнения всё нужнейшее для государственного блага по тогдашнему гражданственному состоянию России и везде оставила знаки своей попечительной мудрости».

Карамзин Н.М.

История государства Российского

10. Перед Вами текст из исторического источника, проанализируйте его и ответьте на вопросы к документу

Из воспоминаний современника событий

«{Князь} беспрепятственно спустился из Новгорода по Днепру, без особенного труда захватил по дороге Смоленск и Любеч и без борьбы завладел Киевом, погубивши своих земляков Аскольда с Диром. Утвердившись в Киеве, он начал рубить вокруг него новые города для защиты Киевской земли от набегов из степи, а потом с соединёнными силами разных племён предпринял новый поход на Царьград, кончившийся также заключением торгового договора. {Князя}... дружно поддерживали в этих походах все племена, заинтересованные во внешней торговле, преимущественно обитавшие по речной линии Днепра – Волхова, т.е. обыватели больших торговых городов Руси. По крайней мере, в летописном рассказе о походе {князя} читаем, что кроме подвластных {ему} племён в деле участвовали и племена неподвластные, добровольно к нему присоединившиеся, отдалённые дулебы и хорваты, жившие в области Верхнего Днестра и обоих Бугов по северо-восточным склонам и предгорьям Карпат. Охрана страны от степных кочевников и далёкие военные походы на Царьград для поддержания торговых сношений, очевидно, вызывали общее и дружное содействие... Этот общий интерес и соединил прибрежные торговые города под властью князя киевского, руководителя в этом деле по положению, какое создавалось для него двояким значением Киева.

1. О каком князе идёт речь? В каком году он захватил Киев?
2. На основе текста укажите не менее трёх проблем, решаемых данным князем в годы его правления.
3. Какая религия была основной у восточнославянских племён в то время? Назовите не менее трёх имён восточнославянских богов того времени.

11. Перед Вами текст из работы Н.М. Карамзина «История государства Российского» проанализируйте его и ответьте на вопросы к документу.

«Самовластие в России утвердилось с общего согласия граждан: так повествует наш летописец – и рассеянные племена славянские основали государство... Отечество наше, слабое, разделённое на малые

области, обязано величием своим счастливому введению монархической власти.

Варяги... правили ими без угнетения и насилия, брали дань легкую и наблюдали справедливость. Господствуя на морях, варяги, или норманны, должны были быть образованнее славян или финнов, могли сообщить им некоторые выгоды новой промышленности и торговли, благодетельные для народа. Бояре славянские, недовольные властью завоевателей, которая уничтожала их собственную, выгнали их; но распрями личными обратили свободу в несчастье... и ввергнули отечество в бездну зол междоусобия. Тогда граждане вспомнили, может быть, о выгодном и спокойном правлении норманнском: нужда в благоустройстве и тишине велела забыть народную гордость; и славяне, убеждённые - так говорит предание - советом новгородского старейшины Гостомысла, потребовали властителей от варягов.

Братья, именем Рюрик, Синеус и Трувор, знаменитые или родом или делами, согласились принять власть над людьми, которые, умея сражаться за вольность, не умели ею пользоваться».

1. Какой исторический факт описан в документе? Как историки определяют его роль? Назовите век, к которому он относится.
2. Как Н.М. Карамзин объясняет роль варягов в истории России? Укажите любые три положения.
3. Используя текст документа и знания по истории, раскройте содержание норманнской и антинорманнской точек зрения, которые существуют в исторической науке. К какой точке зрения можно отнести взгляды Н.М. Карамзина?

12. Заполните пронумерованные пропуски в тексте. Вставляемые понятия (имена, даты, термины) занесите под соответствующими порядковыми номерами в таблицу. ВСЕ ВСТАВКИ ДОЛЖНЫ БЫТЬ В СООТВЕТСТВУЮЩЕМ ТЕКСТУ РОДЕ, ЧИСЛЕ, ПАДЕЖЕ, СЛОВСОЧЕТАНИЯ пишутся с пробелами.

Ответы занесите в таблицу:

1		7	
2		8	
3		9	
4		10	

5		11	
6		12	

Принятие (1- религия) имело большое значение для дальнейшего развития Руси. Оно укрепляло (2-форма социальной власти) и (3-способ организации территорий государства) Киевской Руси. Оно имело большое международное значение, заключавшееся в том, что Русь, отвергнув «примитивное» (4- религия), становилась теперь равной другим странам, связи с которыми значительно расширились.

Во главе Русской православной церкви был поставлен (5- церковный чин), назначаемый константинопольским (6 –церковный чин); отдельные области Руси возглавляли (7- церковный чин), которым подчинялись в городах и селах (8 –церковный чин). Все население страны было обязано платить налог в пользу церкви — (9- налог). Впоследствии размер этого налога изменился, а его название осталось прежним. (10- церковные учреждения) (первый из них Киево-Печерский, основанный в первой половине XI в., получил название от пещер — пещер, в которых первоначально селились (11- члены религиозной общины) вскоре превратились в крупнейших земельных собственников, оказавших огромное влияние на ход исторического развития страны. В руках церкви был (12- государственный орган), ведавший делами об антирелигиозных преступлениях, нарушениях нравственных и семейных норм.

Высокий уровень сложности

1. Соотнесите события отечественной и всемирной истории, распределив их в соответствии с веком, в котором они происходили. Ответ оформите таблицей.

- | | | |
|--|--|--|
| <p>1. Основание Киево-Печерского монастыря</p> <p>2. Языческая реформа.</p> <p>3. Княжение Аскольда и Дира в Киеве.</p> <p>4. Сражение при Ливене.</p> | <p>А. Образование Священной Римской империи</p> <p>Б. Первый крестовый поход</p> <p>В. Возникновение государства Корё</p> <p>Г. Разделение христианской церкви на Западную и Восточную</p> <p>Д. Захват Парижа норманнами</p> <p>Е. Раздел империи Карла</p> | |
| <p>5. Первый торговый договор Руси с Византией.</p> <p>6. Объединение Новгорода и</p> | | |

История России IX-XV в.в.

Киева

Великого

Ответ :

	IX	X	XI
События отечественной истории			
Событие всемирной истории			

2. Прочтите документ и выполните задания к нему.

«Когда же поляне жили отдельно по горам этим, тут был путь (1) _____ и из Грек по Днепру, а в верховьях Днепра- волок



до (2) _____, а по ней можно войти в (3) _____, озеро великое; из этого же озера вытекает (4) _____ и впадает в озеро великое (5) _____, и устье того озера впадает в море (6) _____. И по тому морю можно плыть до Рима, а от Рима можно приплыть по тому же морю к (7) _____, а от (8) можно приплыть в Понтийское море, в которое впадает Днепр река. Днепр же вытекает из Оковского леса и течёт на юг, а (9) _____ из того же леса течёт на север, и впадает в море Варяжское. Из того же леса течёт Волга на восток, и впадает семьюдесятью устьями в море Хвалиское. Так и из Руси можно плыть по Волге в (10) _____ и в Хвалисы, и дальше на восток пройти в удел Сима, а по Двине - в землю Варягов, а от Варяг до Рима, от Рима же и до племени Хама. А Днепр впадает устьем в Понтийское море; это море зовётся Русским, - по берегам его учил, как говорят, святой Андрей, брат Петра»

- 1) Назовите документ, из которого взят отрывок, и его автора.
- 2) Вставьте пропущенные слова.
- 3) Напишите названия географических объектов, указанных на карте буквами.
- 4) Что послужило причиной называть описанный маршрут ключевым для формирования Киевской Руси как государства?

3. Перед Вами отрывки из стихотворных произведений, повествующие о событиях, относящихся к истории Киевской Руси. Ознакомьтесь с ними и выполните задания.

А. Но князь не внял
моленьям сим -
И угнетенных племя
Решилося сразиться с ним
И сбросить ига бремя.

"Погибель хищнику, друзья!
Пускай падет он мертвой!
Его сразит стрела моя,
Иль все мы будем жертвой!"

Б. "Идем, друзья!" - рек
князь _____ России
Геройским племенам -
И шел по суше к Византии,
Как в море по волнам.

В в трепет гордой Византии
И в память всем векам
Прибил свой щит с гербом
России

-
.....князь твердил в
лесах..

Отважные восстали

И с дикой яростью в сердцах

На <...> напали.

Дружина хищников легла

Без славы и без чести.

К. Рылеев

В. <...> — вопили древляне
С волосами желтыми, как
мед

Выцарапывая в раскаленной
бане

Окровавленными ногтями
ход.

И за дальними морями
чужими

Не уставала звенеть,
То же звонкое вызванивая
имя,

Варяжская сталь в
византийскую медь.

Н.Гумилёв

К царьградским воротам.

К. Рылеев

Г. Но вот однажды, после
многих сеч

Послы хазар нежданно
появились,

Всем киевлянам в ноги
поклонились

И хитро повели такую речь:
“Славяне, скоро можете
полечь

Вы все, так не дерзайте
биться с нами,

А лучше дань свою отдайте
сами”

В ответ хазары получили
меч.

Не помогло хазарам их
коварство.

Минули годы, день пришел
и час,

Четыре слова – “Я иду на
вас” –

Концом их стали. И хазары
сами

Склонились под
славянскими мечами,

Д. Прими же нас, княже, под
руку свою
И правь справедливо и
равно,
Будь нашим владыкой в суде
и в бою,
Достойным своей
родословной!..

Князь щиплет в раздумье
седеющий ус:
Ну что же, бояре,
размыслим,
Каков будет даден,
варяжская Русь,
Ответ наш на зов
Гостомысла?..

В.Балашов

И землю, и свободу потеряв.

М.Домов

Е. "Он был волком, не
овечкой! –
Степи молвил предводитель,
–
Золотой покроей насечкой
Кость, где разума обитель.
Знаменитый сок Дуная
Наливая в глубь главы,
Стану пить я, вспоминая
Светлых клич: "Иду на вы!"

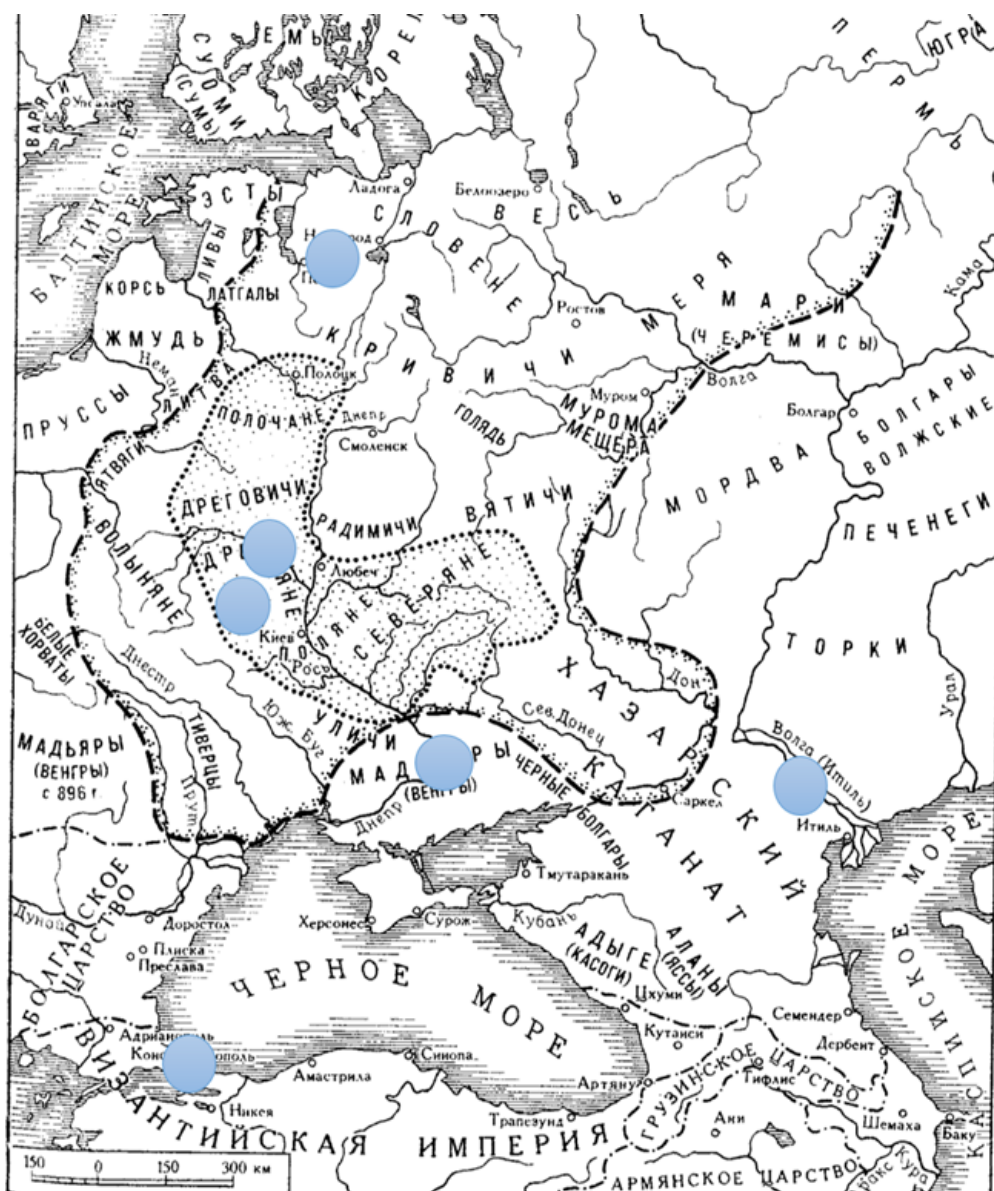
В.Хлебников

1. Определите, о ком идёт речь в каждом отрывке, в каком году произошло событие и в чём оно состояло.
2. Расположите отрывки в хронологической последовательности.

Ответ оформите в виде таблицы.

Буква	Год	Имя	Событие

3. Отметьте на карте, данной ниже, места, где происходили описываемые события (впишите соответствующие буквы в кружки).



4. Перед Вами - фрагменты произведений русских историков конца XIX- начала XX века, повествующих о событиях российской истории. Определите хронологическую последовательность событий, запишите их даты и имя историка- автора цитаты. Ответ оформите таблицей.

Номер фрагмента	Дата	Событие	Имя историка

- 1) Владимир стал уговаривать Святополка идти весною на поганых; Святополк сказал об этом дружине, дружина отвечала: "Не время теперь отнимать поселян от поля", после чего Святополк послал сказать Владимиру: "Надобно нам где-нибудь собраться и подумать с дружиною"; согласились съехаться в Долобске (при озере того же имени), выше Киева, на левой стороне Днепра; съехались и сели в одном шатре - Святополк с своею дружиною, а Владимир с своею; долго сидели молча, наконец, Владимир начал: "Брат! Ты старший, начни же говорить, как бы нам промыслить о Русской земле?" Святополк отвечал: "Лучше ты, братец, говори первый!" Владимир сказал на это: "Как мне говорить? Против меня будет и твоя и моя дружина, скажут: хочет погубить поселян и пашни; но дивлюсь я одному, как вы поселян жалеете и лошадей их, а того не подумаете, что станет поселянин весною пахать на лошади, и приедет половчин, ударит его самого стрелою, возьмет и лошадь, и жену, и детей, да и гумно зажжет; об этом вы не подумаете!"
- 2) Владимир мог бы сесть на престоле родителя своего; но сей чувствительный, миролюбивый Князь уступил оный Изяславу сыну и, сказав: "Отец его был старее и княжил в столице прежде моего отца; не хочу кровопролития и войны междоусобной", объявил Святополка Государем Российским; сам отправился в Чернигов, а брат его, Ростислав, в Переяславль.
- 3) Провидение наказало вероломных: там, где отец их одержал славную победу над Святополком и Печенегами, на берегах Альты, чрез несколько месяцев Изяслав и братья его в ночном сражении были наголову разбиты свирепыми Половцами. Великий Князь и Всеволод ушли в Киев, а Святослав в Чернигов. Воины первого, стыдясь своего бегства, требовали Веча; собрались на торговой площади, в Киевском Подоле, и прислали сказать Изяславу, чтобы он дал им оружие и коней для вторичной битвы с Половцами. Великий Князь, оскорбленный сим своевольством, не хотел исполнить их желания. Сделался мятеж, и недовольные, обвиняя во всем главного Воеводу Изяслава, именем Коснячка, окружили дом его.
- 4) Мономах, получив письмо от сына, написал к Олегу: "Пишу к тебе, потому что принудил меня к тому сын твой крестный: прислал ко мне мужа своего и грамоту, пишет: уладимся и

помиримся, а братцу моему суд пришел; не будем за него местники, но положимся во всем на бога: они станут на суд перед богом, а мы Русской земли не погубим. Увидав такое смирение сына своего, я умилился и утрашился бога, подумал: сын мой в юности своей и в безумии так смиряется, на бога все возлагает, а я что делаю? Грешный я человек, грешнее всех людей! Послушался я сына своего, написал к тебе грамоту: примешь ли ее добром или с поруганьем - увижу по твоей грамоте. Я первый написал к тебе, ожидая от тебя смиренья и покаянья. Господь наш не человек, а бог всей вселенной, что хочет - все творит в мгновенье ока; а претерпел же хуленья, и плеванья, и ударенья, и на смерть отдался, владея животом и смертью; а мы что люди грешные?

- 5) Олег и Борис с половцами бросились на северскую землю. Всеволод вышел против них из Чернигова и был разбит. Олег легко овладел Черниговым; черниговцы приняли его сами, так как знали его издавна: вероятно, он и родился в Чернигове. Когда после того Всеволод вместе с киевским князем Изяславом хотел отнять Чернигов у Олега, черниговцы показали себя преданными Олегу, и после того, как Всеволод и Изяслав успели овладеть стенами окольного города и сожгли строения, находившиеся в черте, образуемой этим окольным городом, жители не сдавались, ушли во внутренний город, так называемый "большой", и защищались в нем до последних сил. Олега с ними в городе не было: упорство, с которым тогда стояли за него черниговцы, не поддерживалось его присутствием или стараниями, и, вероятно, происходило от искренней привязанности к нему черниговцев. Владимир был тогда с отцом. Услышавши, что Олег с Борисом идет против них на выручку Чернигова и ведет с собой половцев, князя оставили осаду и пошли навстречу врагам. Битва произошла на Нежатиной Ниве близ села этого имени. Борис был убит, Олег бежал. Но их победители дорого заплатили за свою победу. Киевский князь Изяслав был убит в этой сече.
- 6) Не так удачны были дела Мономаха с Грецией. Он отдал свою дочь за Леона, сына византийского императора Диогена, но вслед за тем в Византии произошел переворот. Диоген был низвергнут Алексеем Комнином. Леон с помощью тестя хотел приобрести себе независимую область в греческих владениях на Дунае, но был умерщвлен убийцами, подосланными Комнином. Леон

оставил сына, для которого Мономах хотел приобрести то же самое владение в Греции, которого добивался Леон, и сначала воевода Владимиров Войтишич, посадил было Владимировых посадников в греческих дунайских городах, но греки прогнали их, а в 1122 году Владимир помирился с преемником Алексея, Иоанном Комнином и отдал за него свою внучку, дочь Мстислава.

Ответ:

Русь удельная в XIII- XIV вв.

Повышенный уровень сложности.

1. Опираясь на материалы учебника «История России» и «История средних веков», составьте синхронистическую таблицу:

История России и мира в XIII-XIV вв.

Век	Дата	Личности	Событие	Дата	Личности	Событие
1 пол. XIII в.						

2. Ознакомьтесь с фрагментом известного исторического источника, определите, в каком году произошли описанные в нём события

«И вот князь великий Дмитрий Иванович и брат его Владимир Андреевич, помолясь богу и пречистой его матери, укрепив ум свой силой, закалив сердца свои мужеством, преисполнившись ратного духа, урядили свои храбрые полки в Русской земле, помянув великого прадеда своего — князя Владимира Киевского.Звенит слава по всей земле Русской: в Москве кони ржут, трубы трубят в Коломне, бубны бьют в Серпухове, встали стяги русские на берегу великого Дона. Звонят колокола вечевые в Великом Новгороде, собрались мужи новгородские у святой Софии, и так говорят: «Неужто нам, братья, не поспеть на подмогу к великому князю Дмитрию Ивановичу?» И как только слова эти промолвили, уже как орлы слетелись. Нет, то не орлы слетелись — выехали посадники из Великого Новгорода, а с ними семь тысяч войска, на помощь к великому князю Дмитрию Ивановичу и брату его, князю Владимиру Андреевичу.»....

Ответ: _____

3. Прочтите отрывок из исторического источника и определите, кто из исторических деятелей был современником события, указанного в тексте.

«Уже те соколы и кречеты и белозерские ястребы за быстро перелетели и ринулись на несметные стаи гусиные и лебединые. То ведь были не соколы и не кречеты, — то налетели русские князья на силу татарскую. Затрещали копья каленые, зазвенели доспехи золоченые, застучали щиты червленые, загремели мечи булатные о шлемы хиновские.

Черна земля под копытами, костями татарскими поля засеяны, и кровью их земля полита. Могучие рати сошлись тут и потоптали холмы и луга, и замутили реки, потоки и озера.

Кликнуло Диво в Русской земле, велит послушать грозным землям. Понеслась слава к Железным Воротам, и к Ворнавичу, к Риму и к Кафе по морю, и к Тырнову, а оттуда к Царьграду на похвалу князьям русским: Русь великая одолела рать татарскую.....»

- А. Чингисхан, Карл Великий,
- Б. Сергей Радонежский, Андрей Боголюбский
- В. Карл Мартелл, Фома Аквинский,
- Г. Владимир Андреевич Серпуховской, Мамай
- Д. Дмитрий Донской, Сергей Радонежский,
- Е. Тамерлан, Ольгерд
- Ж. В.А. Серпуховской, Батый,
- З. Тохтамыш, Сергей Радонежский

Ответ: _____

4. Прочтите отрывок из исторического источника и выберите верные утверждения:

«А сам князь великий по всей Русской земле быстрых гонцов разослал со своими грамотами по всем городам: «Будьте же все готовы идти на мою службу, на битву с безбожными агарянами, татарами; соединимся все в Коломне на Успение святой Богородицы. И пришли к нему князья белозерские, готовы они к бою, и прекрасно снаряжено войско их: князь Федор Семенович, князь Семен Михайлович, князь Андрей Кемский, князь Глеб Каргопольский и андомские князья; пришли и ярославские князья со своими полками: князь Андрей Ярославский, князь Роман Прозоровский, князь Лев Курбский, князь Дмитрий

Ростовский и прочие многие князья. Когда же настал, месяца сентября в восьмой день, великий праздник Рождества святой Богородицы, на рассвете в пятницу, когда всходило солнце и туманное утро было, начали христианские стяги развеяться и трубы боевые во множестве звучать.»

А. Описанные события происходили в 1238 году

Б. Великий князь, упомянутый в тексте-это сын Ивана Калиты

В. Проигравший в этом сражении темник погиб в борьбе с Тохтамышем

Г. Событие положило конец ордынскому игу на Руси.

Д. Агаряне, упомянутые в тексте- это устаревшее наименование мусульман.

Е. Великий праздник Рождества святой Богородицы отмечается христианами 10 сентября.

Ж. Двоюродный брат великого князя, упомянутого в тексте за подвиги, совершённые в ходе данного события получил прозвище «Храбрый»

З. В честь погибших на поле боя в Москве князем построена каменная церковь «Всех Святых на Кулишках»

5. Перед Вами отрывки из различных источников, относящихся к истории Древнерусского государства XIV века. Расположите их в хронологическом порядке и укажите, к каким событиям относится каждый из них (с точностью до года).

А. Пересвета-чернеца, из брянских бояр, призвали на поле брани. И сказал Пересвет-чернец великому князю: «Лучше нам порубленными быть, чем в плен попасть к поганым татарам!» Поскакивает Пересвет на своем борзом коне, золоченым доспехом сверкая, а уже многие лежат посечены у Дона великого на берегу.

Подобало в то время старому помолодеть, а молодому плечи свои развернуть. И говорит чернец Ослябя своему брату Пересвету-чернецу: «Брат Пересвет, вижу на теле твоём раны тяжкие, уже катиться, брат, твоей голове с плеч на траву ковыль, и моему сыну Якову лежать на зеленой ковыль-траве за веру христианскую, за землю Русскую».

Б. И собралось великое войско, и пошли они за реку И пришла к ним весть о том, что царевич Арапша на Волчьей Воде. Они же повели себя беспечно, не помышляя об опасности: одни — доспехи свои на телеги сложили, а другие — держали их во вьюках, у иных сулицы оставались не насаженными на древко, а щиты и копья не приготовлены к бою были. А ездили все, расстегнув застежки и одежды с плеч спустив, разопрев от жары, ибо стояло знойное время. А если находили по зажитьям мед или пиво, то пили без меры, и напивались допьяна, и ездили пьяными. А старейшины, и князья их, и бояре старшие, и вельможи, и воеводы, те все разъехались, чтобы поохотиться, утеху себе устроили, словно они дома у себя были.

В. Великий же князь, услышав об этом, собрал много воинов и пошел навстречу врагу с войском большим и грозным. И, переправившись через Оку, вошел в землю Рязанскую и встретился с татарами у реки, и остановились обе силы, а между ними была река.

По прошествии немногих дней татары переправились на эту сторону реки, и, нахлестывая коней своих и закричав на своем языке, пошли рысью, и ударили на наших. А наши ринулись на них: с одной стороны Тимофей окольниковый, а с другой стороны — князь Даниил Пронский, а князь великий ударил в лоб татарам. Татары же сразу побросали копья свои и побежали за реку, а наши стали преследовать их, рубя и коля, и великое множество перебили их, а многие из них в реке утонули. И вот имена убитых князей их: Хазибей, Коверга, Карабулук, Костров, Бегичка.

Ответ: _____

6. Перед вами отрывки из русских средневековых источников.

А. Определите, как можно назвать данный вид источников.

В. Определите авторство каждого документа, укажите дату создания каждого документа.

С. Дайте исторический комментарий к подчёркнутым фрагментам.

1. Завещаю сыновьям своим отчину свою Москву (1), а раздел учредить им такой. Дал я сыну старшему Семёну (2): Можайск, со всеми волостями, Коломну со всеми Коломенскими волостями. Даю сыну моему Ивану: Звенигород, Кремичну, Рузу. Я дал сыну своему Андрею: Лопасню, Северскую.

2. Приказываю отчину свою Москву детям своим, князю Василью (3), князю Юрью, князю Андрею, князю Петру. А сына своего, князя Василья, благословляю на стариший путь в городе и в станех моего. А се даю сыну своему, князю Юрью, Звенигород со всеми волостми, и с тамгою, и с мыты, и с бортью, и с селы, и со всеми пошлинами. А переменит Бог Орду, дети мои не имут давати выхода в Орду (4), и который сын мой возмет дань на своем уделе, то тому и есть.

Высокий уровень сложности.

1. Рассмотрите представленные иллюстрации, отрывки из сочинений историков, карты. Выберите те элементы содержания, которые относятся к одной личности. Назовите этого исторического деятеля.

Ответ оформите в таблице.

Личность	Выдержка из сочинения историка	Карта	Портрет	Иллюстрация

А. «Молодость (умер 39 лет), исключительные обстоятельства, с 11 лет посадившие его на боевого коня, четырехсторонняя борьба с Тверью, Литвою, Рязанью и Ордой, наполнившая шумом и тревогами его 30-летнее княжение, и более всего великое побоище на Дону положили на него яркий отблеск Александра Невского, и летопись с заметным подъемом духа говорит о нем, что он был «крепок и мужествен и взором дивен зело». О Ключевский


Б. «...Перейдя волок и достигнув Днепра, продвигаясь вниз по Днепру, утверждает в земле днепровских кривичей и северян, присоединяет к своим владениям их города Смоленск и Любеч и присоединил их к своему владению, сажает там своих наместников с дружинами, достаточными для удержания за собой нового владения....» Глищенко А.С.

В. «...По счету летописца, преемник Олегов..., княжил 33 года и только пять преданий записано в летописи о делах этого князя...В летописи сказано, что ...остался по смерти отца младенцем; в предании о занятии Киева является также младенцем, которого не могли даже вывести, а вынесли на руках; вырос, говорит

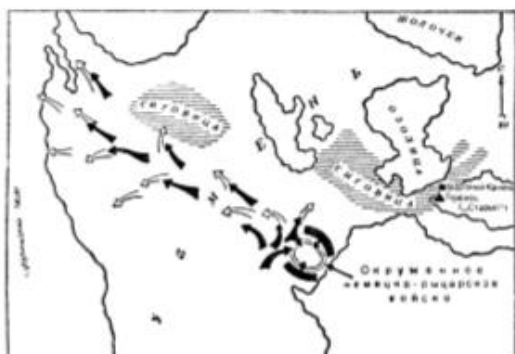
летописец, ...и привели ему жену из Пскова именем Ольгу...»
Глищенко А.С.

Г. «...Привозникли первые русские монастыри. В 1030 году
основал монастыри Святого Георгия: Юрьев монастырь в Новгороде и
Киево-Печерский монастырь в Киеве.. Собрав епископов, он сам
назначил митрополитом Илариона, впервые без участия
константинопольского патриарха. Иларион стал первым русским
митрополитом. Развернулась интенсивная работа по переводу
византийских и иных книг на церковнославянский и древнерусский
языки...» Соловьёв С.М.

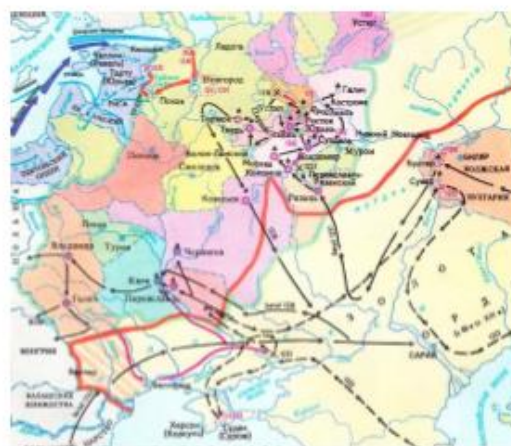
1.



2.



3.



4.



I.



II




III.



IV.



а.



б.









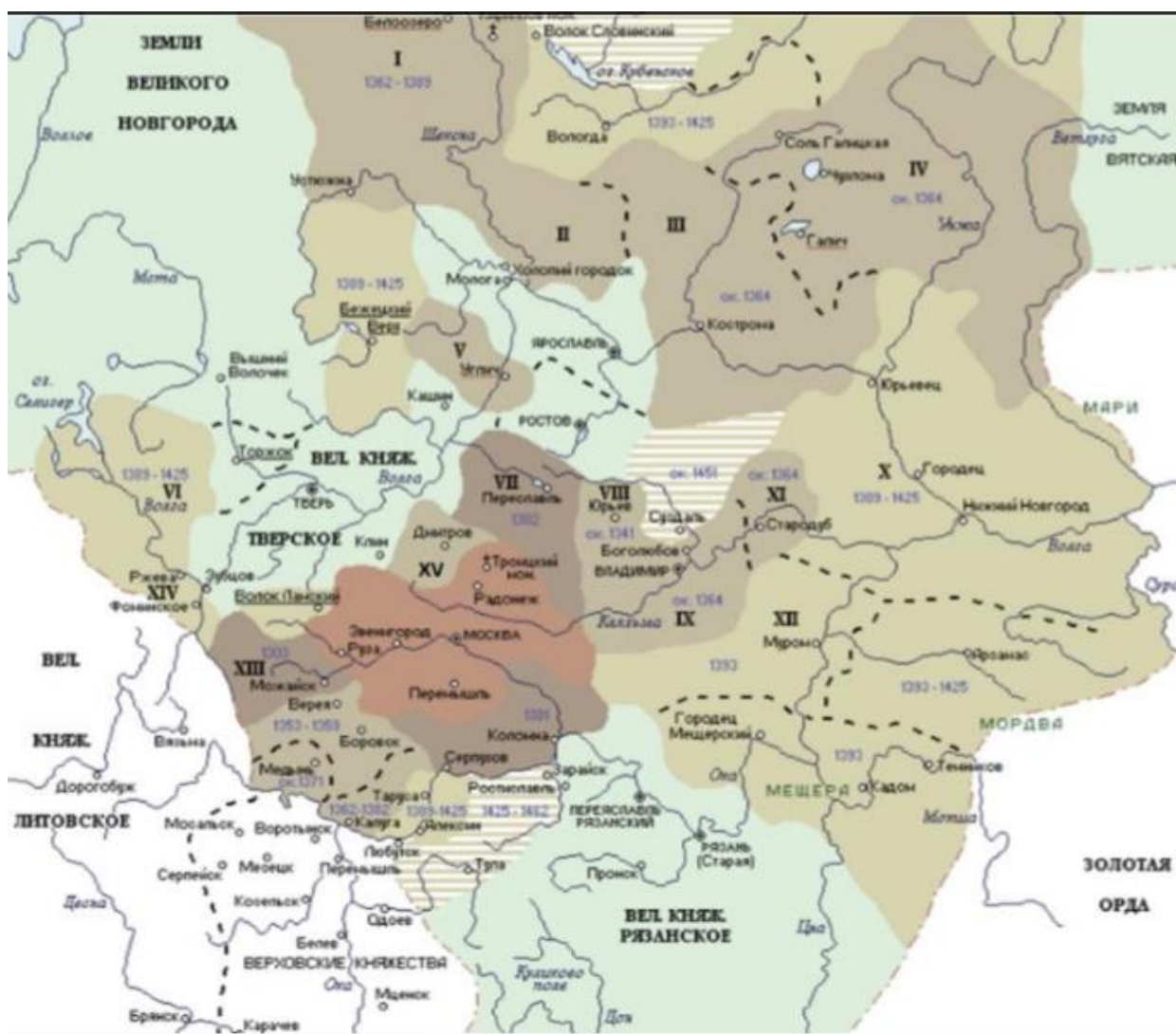
в.



г.

2. Соотнесите гербы с княжествами (арабские цифры), вошедшими в состав Московского княжества при Дмитрии Донском (римские цифры) и выдержками из исторических источников с описанием этих гербов. Ответ внесите в таблицу (буквы).

					
1	2	3	4	5	6



А. «.....в нем две стерляди желтые, над рыбами месяц с крестом, месяц белый, крест желтый, поле лазоревое».

Из подлинного описания герба 1781 г.

Б. «Въ верхней части щита гербъ Московскій. Въ нижней четыре Княжескія короны, въ горностаевомъ поле, въ память бывшаго въ ономъ городе знаменитаго четырехъ Россійскихъ князей, съезда».

В. Из Высочайшего указа императрицы Екатерины II от 20 (31) декабря 1781 года

Д. В память по реке Волге путешествия Её императорского величества и представляется в сем гербе: в голубом поле галера под Императорским штандартом, на гребле плывущая по реке, натуральными цветами в подошве щита изображенной.» Из решения Геральдмейстерской конторы

Е. «Городъ _____ имѣеть старый гербъ. Въ красномъ полѣ стоящій на заднихъ лапахъ левъ, имѣющій на головѣ желѣзную корону, держитъ въ передней правой лапѣ длинный серебряный крестъ. Сіе внесено и во всѣ вновь сочиненные гербы въ верхней части щита, въ означеніе того, что тѣ города принадлежатъ Володимірскому Намѣстничеству». — ПСЗРИ, 1781, Закон № 1520

Ж. "В серебряном поле на зеленой, окантованной лазурью, земле червлёный (красный) старый дуб, справа не имеющий листьев, слева с зелеными листьями.» — ПСЗРИ, 1782 З. "В червленом поле воинская арматура с выходящим из нее крестом Иоанна Крестителя".

- ПСЗРИ, 1799, Закон №1488

**Русь в период формирования
единого централизованного государства в XIV-XV вв.**

Повышенный уровень.

1. Опираясь на материалы учебника «История России» и «История средних веков», составьте синхронистическую таблицу:

История России и мира в XV вв.

Век	Дата	Личности	Событие	Дата	Личности	Событие
1 пол. XIII в.						

2. Выберите из приведённого списка имена исторических личностей, чья деятельность относится к XV веку.

- 1) Жанна д'Арк
- 2) Вильгельм Завоеватель
- 3) Всеволод Большое Гнездо
- 4) Андрей Рублёв
- 5) Сергей Радонежский
- 6) Иоганн Гутенберг

3. Расположите события в хронологической последовательности. Ответы внесите в таблицу в бланке работы.

- А) нормандское завоевание Англии
- Б) образование Хазарского каганата
- В) созыв Генеральных штатов во Франции
- Г) Ледовое побоище
- Д) завершение Реконквисты на Пиренейском полуострове
- Е) поход Тамерлана на Золотую Орду.

4. Определите хронологический порядок событий. Занесите буквенные обозначения событий в хронологическом порядке в приведенную таблицу.

- А) возведение церкви Спаса (Преображения Господня) на Нередице;
- Б) написание А. Рублевым иконы «Троица»;
- В) создание «Повести о разорении Рязани Батыем»;
- Г) создание «Повести временных лет»;
- Д) распространение шатровых храмов на Руси;
- Е) создание «Хождения за три моря».

5. В каком году, согласно летосчислению от сотворения мира, был издан документ, отрывок из которого дан ниже?

«А христианам отказываться из волости, и с села в село, один срок в году ... Дворы пожилые платят в полех за двор рубль, а в лесех полтина. А которой христианин поживет за ким год, да пойдет прочь, и он платит четверть двора, а два года поживет да поидеть прочь, и он полдвора платит; а три годы поживет, а пойдет прочь, и он платит три четверти двора; а четыре года поживет, и он весь двор платит».

- 1) 7005 г.

2) 7046 г.

3) 7059 г.

4) 7105 г.

6. Определите пропущенные в тексте названия, слова, имена, даты, обозначенные порядковыми номерами. При необходимости при порядковых номерах даются пояснения о характере требуемой вставки. Необходимые вставки впишите под соответствующими номерами в помещенную ниже таблицу.

Еще летом (1) года стало ясно, что Иван III, управившись с Казанью, разворачивает свою военно-политическую мощь на северо-запад, в сторону (2 - город). Заручившись поддержкой (3 - город), он готовится к новому удару по «северной Флоренции»... Средоточием антимосковских настроений был тогда расположенный на Неревском конце дом посадника (4 – фамилия). Сам хозяин к этому времени уже отошел в лучший мир. Делами заправляла его вдова — властная и энергичная (5 – имя). Под ее рукой находились взрослые сыновья Дмитрий и Федор — такие же непримиримые враги Москвы, как и их мать. Вокруг них сплотилась та часть (6 – правящий в городе социальный слой), которая понимала, что на сей раз речь идет не о каких-то частых уступках великому князю Московскому, а о самом существовании республики. Не желавшие покориться надвигавшейся московской диктатуре (равно как и терять свои исконные права и привилегии) видели единственный выход в том, чтобы обратиться за помощью к другому монарху — королю (7 – страна) – (8 – имя). Получив грамоту великого князя тот в весьма высокомерном тоне призывал нареченного (9 – церковный сан) Феофила в Москву на поставление, патриоты «начаша нелепаа, и развращеннаа глаголати и на вече приходящи кричати: „Не хотим за великого князя Московского, ни зватися отчиною его“».

7. Прочитайте фрагменты, содержащие характеристики князей, данные им известными русскими историками. Рассмотрите иллюстрации, относящиеся к правлению этих князей, и выполните предложенные ниже задания.

Характеристики:

А) «Важные следствия деятельности князя обнаруживаются в его духовном

завещании; в нем встречаем неслыханное прежде распоряжение: московский князь благословляет старшего своего сына Василия великим княжением Владимирским, которое зовут своей отчиной. Он уже не боится соперников

для своего сына ни из Твери, ни из Суздаля...» (С.М. Соловьев)

Б) «Но справедливо хваля князя за государственное благоденствие, простим ли ему смерть Александра Тверского, хотя она и могла утвердить власть Великокняжескую? Правила нравственности и добродетели святее всех иных и служат основанием истинной Политики. Суд Истории, единственный для Государей – кроме суда Небесного, – не извиняет и самого счастливого злодейства» (Н.М. Карамзин)

В) «Государь представляется нам основателем того истинно государственного

строения, которому отныне подчинилась вся Русская земля и которым она обязана своим последующим величием. И если от Владимира Святого до Петра I кто из русских государей достоин наименования Великого, то это именно он» (Д.И. Иловайский)



1



2




3

Соотнесите характеристики князей и иллюстрации. Под буквенным обозначением характеристики напишите имя князя. Назовите, кто был отцом каждого из князей. Ответы внесите в таблицу.

Высказывание	Иллюстрация	Имя князя	Имя его отца

Высокий уровень сложности:

- 1. Внимательно рассмотрите изображения храмов и гербов и выполните задания. Ответы внесите в таблицу в бланке работы.**



1. Соотнесите фотографии храмов и гербы городов, в которых они находятся.
2. Назовите имена великих князей, чья власть распространялась на города, в которых построены данные храмы, в годы их постройки.
3. Укажите, в каком из представленных храмов сохранились фрески Феофана Грека. Назовите этот храм.

2. Перед вами фрагменты из путеводителей по Москве. Вставьте пропущенные в них имена и названия. Ответ внесите в таблицу под соответствующими порядковыми номерами.

А. «Легенда связывает строительство храма ___1___ в дворцовом селе ___ с рождением ___3___, долгожданного наследника великого князя Василия Ивановича. Он стал первым каменным шатровым храмом в России».

Б. «В летописи под 1556 г. говорится о том, что «царь англичан на Москве двором пожаловал», передав им здание, принадлежавшее ранее московскому гостю по прозвищу Юшка. Здание было выгодно расположено рядом с главной торговой площадью на улице __4__, одной из трех основных улиц __5__, строительством стен которого руководил итальянец Петрок Малый».

В. «__6__ монастырь почитается древнейшей на Москве-реке обителью. Он был основан в конце XIII века родоначальником династии московских князей __7__ младшим сыном князя Александра Невского в честь своего небесного покровителя. Перед смертью князь постригся в монахи и был похоронен в основанном им монастыре».

Г. «Это одна из самых древних улиц Москвы. Еще XII-XIII вв. здесь проходила часть дороги из Киева в Ростов Великий, Суздаль и Кострому. Название улицы связано с событиями 1395 г., когда на русские земли пришел среднеазиатский завоеватель __8__. Великий князь Московский, восемнадцатилетний __9__ стал с войском на пути хана на берегу Оки за Коломной в готовности дать ему бой. А для вселения в ратников уверенности в победе князь попросил митрополита Киприана привезти из Владимира в Москву Владимирскую икону Божией Матери. 26 августа москвичи торжественно встречали на Кучковом поле икону, и в этот же день хан дал приказ своему огромному войску двигаться за пределы русских владений. В честь избавления Москвы великий князь принял решение построить на месте встречи иконы Владимирской Божией Матери мужской монастырь, чтоб прославлять ее чудодейственную силу. А в память этого события и по названию основанного монастыря улица стала называться __10__».

Д. «В 1514 году после большой военной победы - взятия __11__ - великий князь Василий III дал обет построить в память об этом событии монастырь. С самого своего основания __12__ монастырь занял одно из первостепенных мест среди других московских обителей. Государи московские чтили и украшали его. Новая обитель с первых же дней заняла особое положение: здесь постригались (и не всегда добровольно) в монахи представительницы знатных боярских и княжеских родов, родственницы и жены русских царей».

№	Вставка	№	Вставка
1		7	
2		8	
3		9	
4		10	

5		11	
6		12	

3. Внимательно прочтите фрагменты источников и выполните задания.

А) «...Пришёл Неврюй и Котья и Олабуха храбры на землю Суздальскую со многими воинами на великого князя I)_____ и перешли бродом Клязьму в канун Бориса дня под Владимиром. Князь же I)_____ встретил их со своими полками и была сеча велика, и победили погании. А князь I)_____ и со княгинею бежа в Свиязскую (Шведскую) землю. ...[враги] же пленили град Переславль, княгиню Ярославлю нашли и убили, а детей схватили и увели в полон, и воеводу Жидислава убили, и людей много полонили, и зла много сотворив, отошли ».

Б) «...II)_____ же выехал вперёд и врезался в полки ... [вражеские]. Был он ранен в грудь. Но из-за молодости и храбрости не чувствовал раны в теле своём. Было ему 17 лет, и был он силён. ...[враги] бежали, а II)_____ избивал их со своим полком. И Олег Курский крепко бился. Тогда выступили Ярун и другие полки половецкие, желая биться. Но вскоре побежали половцы перед ... [врагами] и во время бегства потоптали станы князей русских, а князья не успели ополчиться против них. И пришли в смятение все полки русские. И была сеча лютая и злая из-за наших грехов.

II)_____ же увидел, что предстоит более жестокий бой с татарами, и обратил коня своего вспять и бежал от устремления противников. И захотел воды испить и тут почувствовал рану на теле своём. Во время брани он не заметил её из-за силы мужества своего и юного возраста своего, ибо был он дерзок и храбр. От головы до ног его не было в нём порока. И были побеждены все князья русские, как никогда не бывало от начала Русской земли...».

В) «Святейшему во Христе отцу Григорию божьей милостью святой римской церкви верховному понтифику Б[ела] той же милостью короля III)_____ [изъявляет своё] во всём насколько должное, настолько и благочестивое почтение. ... [И чтобы] ваше святейшество было лучше осведомлено, мы вам достоверно сообщаем о несчастном и горестном уделе, доставшемся нам и ...[нашему] королевству от свирепствующего подобно жестокому зверю татарского войска. Ибо недавно, во время близкое к празднику Воскресения Господня, в великой силе и в большом числе они пришли в III)_____, и всех, кого только смогли отыскать, не обращая внимания на пол и возраст, убили остриём

меча, церкви и освященные божественным именем места осквернили огнем, убийством людей и другими своими преступлениями, хвастая, что всех и главным образом христиан покорят своему господину. Просим мы и умоляем, пусть прозорливость вашего святейшества, ради помощи христианскому народу, даст нам и венгерскому королевству совет и явит спасительную помощь. Своим усердием вы сможете предотвратить гибель всего мира, и пусть из-за небольшого промедления не разорвет волк агнца на куски, и не случится это с тем, кому вы стараетесь помочь».

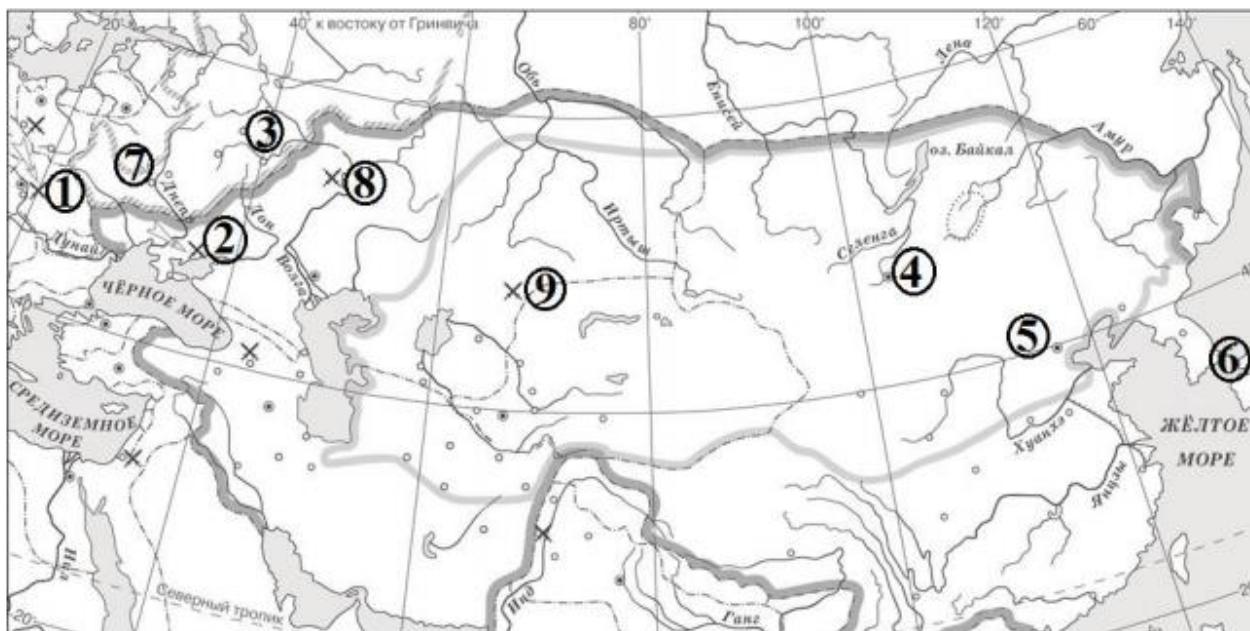
Г) «Затем, в год Овцы, IV) _____ выступил в поход против народа Китад. После занятия Фу-чжоу и переправы через Хунегенский перевал он занял Сюнь-дэ-фу и выслал далее передовой отряд под командою Чжебе (Джэбэ) и Гунгунека. Достигнув Чабчияла (Цзюй-юн-гуань), который оказался сильно укрепленным, Чжебе (Джэбэ) отступил с намерением вызвать этим способом выступление неприятеля и дать ему бой. Заметив его отступление, Китадское войско на самом деле двинулось его преследовать, выступив из крепости и запрудив до самой горы всю долину реки. Между тем Чжебе (Джэбэ), дойдя до Сюнь-дэ-фуского мыса, повернул обратно и стремительной лавиной обрушился на рассыпавшегося в беспорядке неприятеля. В это время на Китадцев вслед за Чжебе (Джэбэ) ударил с главными силами IV) _____ и погнал их. Он разбил самые лучшие части неприятельского войска, состоявшие из Хара-Китадцев, Чжурчедов и Чжуинцев. Тут до самого Чабчияла пошло такое истребление, что кости трещали словно сухие сучья. Когда Чжебе (Джэбэ) взял крепость Чабчиял и перешел перевал, IV) _____ расположился лагерем в Шиradeке (совр. Нань-коу). Он осадил Чжунду (совр. Пекан или Бей-пин – «Северная столица»), а для осады других городов послал особые отряды».

Д) «В год 6748. Пришел Батый к V) _____ с большой силой, с многим множеством воинов своих, и окружили они город, ... и был город в великой осаде. ... И нельзя было голоса слышать от скрипения телег его, от рева множества верблюдов его, ржания стад коней его, и была вся земля Русская наполнена воинами. Поставил ... [враг] пороки около города, у Ляшских ворот. Тут вплотную подступали заросшие лесом овраги. Пороки непрестанно били день и ночь и пробивали стены. Вышли горожане на остатки стены, и было видно, как тут ломались копыя, разлетались в щепки щиты, стрелы помрачили свет. Горожане были побеждены, и Дмитр ранен, а ... [враги] взошли на стены и там засели. Но в тот же день и ночь горожане построили другие стены около церкви святой Богородицы.

На другой день ... начали приступ, был большой бой между ними и защитниками. Люди укрылись в церкви, влезли на церковные своды вместе со своим добром, и от тяжести рухнули вместе с ними стены церковные. Так город был захвачен воинами. Дмитра вывели раненым и не убили его мужества его ради».

Задание 3. 1.

Установите соответствие между буквенными обозначениями приведенных выше фрагментов источников и цифровыми обозначениями на карте мест, где произошли описываемые во фрагментах события. Обратите внимание, что цифровых обозначений на карте больше, чем фрагментов.



Ответ:

А	Б	В	Г	Д

3.2. Установите хронологическую последовательность событий, о которых идёт речь в приведённых отрывках, распределив в соответствующем порядке буквенные обозначения фрагментах источников.

--	--	--	--

3.3. Заполните пропуски в текстах. Вставляемые элементы ответа (имена, даты, термины, названия географических объектов) занесите под соответствующими порядковыми номерами в таблицу. **ВСЕ СЛОВА ДЛЯ ВСТАВОК**

ДОЛЖНЫ БЫТЬ ЗАПИСАНЫ В ИМЕНИТЕЛЬНОМ ПАДЕЖЕ, словосочетания пишутся с пробелами. Обратите внимание на то, что элементы ответа не повторяются.

Ответ:

№	Вставка
I	
II	
III	
IV	
V	

Приложение 1

Лист контроля 4 семестр

Тема работы	Форма активности	Отметка
Историческое время	Практикум	
Киевские князья X- нач.XII века	Практикум	
Средневековая Русь на исторической карте	Зачёт (устно+письменно)	
Полицентризм на Руси: Великий Новгород	Практикум	
Историки спорят..	Аргументация позиции по цитате (устно)	
Древнерусская литература как исторический источник	Практикум	
Читательская конференция «Иван III Велики- Государь всея Руси»	Устное выступление	
«История России IX-XV в.в.» ,	Домашний практикум	

Хронология: необходимый минимум

- VI-IX вв. — расселение славян по территории Восточной Европы
- 860 – поход Руси на Константинополь
- 862 – «призвание» Рюрика
- 882 – захват Олегом Киева
- 907 – поход Олега на Константинополь
- 911 – договор Руси с Византией
- 941 – поход Игоря на Константинополь
- 944 – договор Руси с Византией
- 964-972 – походы Святослава
- 978/980-1015 – княжение Владимира Святославича в Киеве
- 988 – крещение Руси
- 1015-1026 – усобицы между сыновьями Владимира
- 1016-1018 и 1019-1054 – княжение Ярослава Мудрого
- XI в. – Правда Русская (Краткая редакция)
- 1068 – восстание в Киеве
- 1097 – Любечский съезд
- 1113 – восстание в Киеве, «Устав» Владимира Мономаха
- 1113-1125 – княжение в Киеве Владимира Мономаха
- 1125-1132 – княжение в Киеве Мстислава Великого
- 1130-е – завершение разделения Руси на земли
- Начало XII в. – «Повесть временных лет»
- XII в. – Правда Русская (Пространная редакция)
- 1147 – первое упоминание Москвы
- 1185 – поход Игоря Святославича на половцев
- 1199 – объединение Галицкой и Волынской земли
- 1223 – битва на р. Калке
- 1237-1241 – завоевание Руси Монгольской империей
- 1240, 15 июля – Невская битва
- 1242, 5 апреля – Ледовое побоище
- 1242-1243 – образование Золотой Орды
- 1325-1340 – княжение Ивана Калиты.
- 1327 – антиордынское восстание в Твери
- 1359-1389 – княжение Дмитрия Донского
- 1378, 11 августа – битва на р. Воже
- 1380, 8 сентября – Куликовская битва
- 1382 – разорение Москвы Тохтамышем
- 1383-1389 – закрепление великого княжения Владимирского за московским княжеским домом
- 1389 – 1425 – княжение Василия I
- 1395 – разгром Золотой Орды Тимуром

- 1410, 15 июля – Грюнвальдская битва
- 1425-1453 – междоусобная война в Московском княжестве
- 1425-1462 – княжение Василия II
- 1448 – установление автокефалии Русской церкви
- 1462-1505 – княжение Ивана III
- 1472 – прекращение выплаты дани в Орду
- 1478 – присоединение Новгородской земли к Москве
- 1480 – «стояние» на р. Угре
- 1485 – присоединение Тверского великого княжества к Москве
- 1487-1503 – присоединение Чернигово-Северской и части Смоленской земель
- 1497 – принятие общерусского Судебника

Приложение 3

Историко- географическая номенклатура:

Для успешной сдачи зачёта учащийся должен **знать, уметь показывать на тематической карте и наносить на контурную карту** следующие историко- географические объекты:

Моря: Варяжское, Русское, Хвалынское

Озёра: Ладожское, Онежское, Ильмень, Чудское

Реки: Днепр, Нева, Волхов, Ловать, Западная Двина, Волга, Ока, Дон, Северная Двина

Племенные союзы: поляне, уличи, тиверцы, древляне, дреговичи, радимичи, вятичи, полочане, кривичи, словене ильменские

Торговые пути: из варяг в греки, из варяг в персы

Города: Новгород, Псков, Ростов, Смоленск, Киев, Тмутаракань, Чернигов, Рязань, Владимир- Волынский, Владимир- на-Клязьме, Москва, Торжок, Ярославль, Коломна

Княжества в XII-XIII вв.: Киевское, Галицкое, Волынское, Переяславское, Рязанское, Черниговское, Полоцкое, Владимиро-Суздальское, Новгородская земля, Смоленское

Княжества Северо- Восточной Руси XIV-XV вв.: территория Московского княжества в период правления Ивана Калиты, Дмитрия Донского, Василия I, Ивана III, Василия III

События: походы Олега на Византию, походы Святослава Игоревича, разгром печенегов под Киевом в 1036 г., Поход Игоря Святославича на половцев в 1185 г, битва на Калке 1223 г., зимний поход Батыя 1237-1238

г., битва на р. Сить 1238 г., битва на р. Нева 1240 г., Ледовое побоище 1242 г., Куликовская битва 1380 г., поход Ивана III на Новгород 1478 г., стояние на р. Угре 1480 г.

Приложение 4

Историки спорят...

Для успешной подготовки к устной аргументации необходимо:

1. Внимательно прочесть высказывание историка.
2. Объяснить смысл высказывания.
3. Доказать позицию автора 2 фактами из истории
4. Опровергнуть позицию автора 2 фактами.
5. Сделайте вывод.

Темы для аргументации:

«Оказав значительное влияние на становление княжеской власти, развитие культуры, варяги не принесли на Русь государственности» И.Я Фроянов

«Святослав славу своих побед уважал более государственного блага» Н.М.Карамзин

"Сей князь, названный церковию равноапостольным, заслужил и в истории имя Великого. Довольно, что Владимир, приняв веру спасителя, освятился ею в сердце своем и стал иным человеком. Главное право его на вечную славу и благодарность потомства состоит, конечно, в том, что он поставил россиян на путь истинной веры; но имя Великого принадлежит ему и за дела государственные.» Н.М.Карамзин

«Княжение Ярослава важно еще в других отношениях: подобно отцу Владимиру, Ярослав не был князем только в значении вождя дружины, который стремится в дальние стороны за завоеваниями, славою и добычею; Ярослав, как видно, был более князем-нарядником страны.» С.М.Соловьёв

«Владимир Мономах, князь деятельный, сильный волей, выделявшийся здравым умом посреди своей братии князей русских» Н.И. Костомаров.

«Боголюбский, мужественный, трезвый и прозванный за его ум *вторым Соломоном*, был, конечно, одним из мудрейших князей Российских в рассуждении Политики, или той науки, которая утверждает могущество государственное. Он явно стремился к спасительному единовластию» Н.М.Карамзин

«Московское государство родилось на поле Куликовом, а не в скопидомских сундуках Ивана Калиты» В.О. Ключевский

«Обеспечив себе если не покровительство, то, во всяком случае, признание ордынского хана, Калита использовал его для укрепления на Руси своей власти, которую в дальнейшем московские князья употребили против Орды» Л.В. Черепнин

«Иван III входил в круг наиболее значительных европейских монархов, живших на рубеже XV-XVI вв. Он оставался сыном своего времени, жестоким и подчас коварным правителем. Но когда речь шла о государственных интересах, он умел подниматься над многими предрассудками...» А.А. Зимин

Пример:

«Говорить о прочной государственной организации в эту эпоху (IX-X вв.) еще трудно. Нет даже государственной территории в полном смысле слова. Покоренные племена отпадают при первой же возможности, и их приходится покорять сызнова»

С.В. Бахрушин

1. Советский историк Сергей Владимирович Бахрушин считал, что Киевскую Русь IX-X веков трудно назвать сформировавшимся централизованным государством, так как племена, завоёванные первыми русскими князьями, постоянно восставали и поэтому такого важного признака государства, как постоянная территория, у Киевской Руси не было.

2. Это мнение подтверждается следующими фактами:

- Славянское племя вятичей первым покорил князь Святослав в 966 г., затем они восстали и в 981 г. С ними воевал Владимир I, но ещё и Владимиру Мономаху в 80-е годы XI века придется дважды воевать с вятичским вождем Ходотой и его сыном.
- Кроме того, не существовало единой армии, денежной системы.

3. Но в опровержение можно сказать, что:

- Киев признавался административным центром всего государства, именно за княжение в этом городе боролись князья династии Рюриковичей: Владимир, Ярослав Мудрый.
- Ещё при княгине Ольге сложилась единая система налогообложения: уроки и погосты.

4. Таким образом, я считаю, что Киевскую Русь можно назвать централизованным государством, так как основные признаки (система управления, территория, суверенитет) к XII веку уже сформировались.

Автор- составитель: Карамышева Н.М.