

3. Юго-Западная Азия

В. Регион богат железными и марганцевыми рудами

Г. В регионе сохранились наиболее значительные лесные ресурсы

Д. В регионе наиболее значительны ресурсы пресной воды

Е. Регион располагает наиболее значительными пастбищами

14. Главная причина отсталости развивающихся стран Зарубежной Азии заключается ...

А) в природно-климатических особенностях

Б) в последствиях зависимости от стран-метрополий

В) в этнических особенностях населения

Г) в удаленности от стран-метрополий

15. Почему для развивающихся стран Зарубежной Азии характерна безработица?

А) Мало рабочих мест в промышленности.

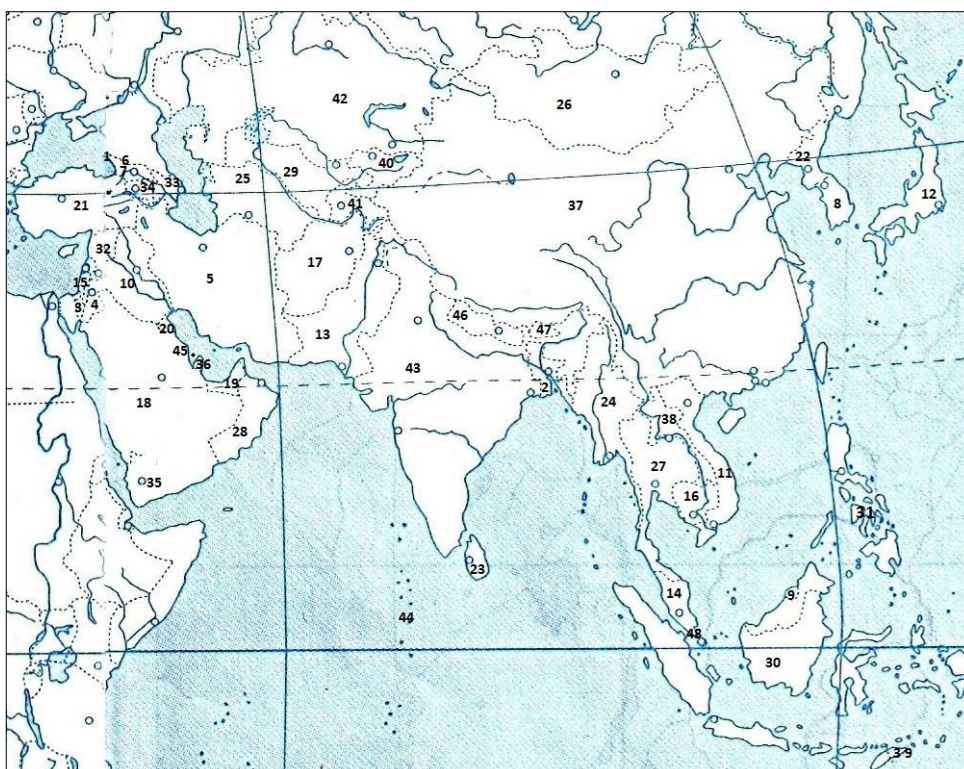
Б) Постоянный приток населения из сельской местности.

В) Несоответствие квалификации работников потребностям новых производств.

Г) Превышение естественного прироста трудовых ресурсов над количеством вновь создаваемых рабочих мест.

16. Определите, какими цифрами на карте обозначены:

А) Сирия Б) Бутан В) Сингапур Г) Абхазия



17. Определите, какими цифрами на карте обозначены:
А) Кувейт Б) Мальдивы В) Таиланд Г) Восточный Тимор

18. 75% рельефа территории Азии занимают?
А) равнины и низменности В) плато и плоскогорья С) равнины и горы
D) горы и нагорья Е) возвышенности и низменности

19. Подчеркните внутриконтинентальные страны в Зарубежной Азии:

Лаос, Узбекистан, Туркмения, Монголия, Афганистан, Бутан.

Лаос, Пакистан, Узбекистан, Туркмения, Иран, Монголия, Афганистан, Бутан, Бахрейн, Бруней.

20. Перечислите государства, по территории которых протекает река Меконг.

Китай, Мьянма, Лаос, Таиланд, Камбоджа, Вьетнам.

21. Почему развивающихся стран Зарубежной Азии избрали в качестве пути решения продовольственной проблемы «зеленую революцию»?

А) Ограниченность неиспользуемых земельных ресурсов не позволяет решить продовольственную проблему экстенсивным путем.

Б) Такова политика развивающихся государств в аграрной сфере.

В) Развивающиеся страны экспериментировали в сфере развития аграрного производства.

Г) Эта политика была навязана извне.

Характеристика субрегионов: Юго-Западная Азия

1. Только одно государство района не имеет выхода к морю. Назовите его.

2. Назовите крупнейшую монархию района и ее столицу.

3. Один из городов района является священным городом трех религий: христианства, ислама и иудаизма. Что это за город?

4. В нефтедобывающих странах Ближнего Востока иностранные рабочие составляют большую часть занятых. Сколько, по-вашему, их в Объединенных Арабских эмиратах?

5. Какая страна в районе имеет наивысший ежегодный национальный доход на одного жителя?

6. В странах района хорошо развито ремесленное и кустарное производство. Какие товары предлагают к продаже ремесленники и кустари?

1) Ковры, изделия из кожи,

2) ювелирные изделия, резьба: по металлу, дереву, слоновой кости;

3) плетение: циновок, корзин, посуды;

4) вышивка,

5) чеканка,

б) холодное оружие

7. Одно из государств района располагается в двух частях света. Столицей его ранее был город в одной части света, а теперь — город в другой. Назовите страну и ее столицу.

8. Какой транспорт наиболее развит в Саудовской Аравии?

9. Какой водный путь резко повысил геополитическую роль района

10. Только одно государство района со всех сторон окружено водой. Назовите его.

11. Назовите крупнейшую республику района и ее столицу

12. Один из городов района так знаменит, что именно на него указывает нижний конец полумесяца, венчающего любую мечеть мира. Что это за город?

13. В нефтедобывающих странах Ближнего Востока большую часть экспортной выручки дает продажа сырой нефти. Какова доля выручки за нефтяной экспорт в Саудовской Аравии?

14. Какая страна в районе имеет наинизший ежегодный национальный доход на одного жителя?

15. Какой транспорт наиболее развит в Израиле?

16. Какая сухопутная магистраль резко повысил геополитическую роль района?

17. Крупнейшее в мире месторождение нефти Гавар расположено в стране:

А) Кувейт В) Ирак С) Саудовская Аравия D) Иран E) Бахрейн

18. Самое низкое место поверхности суши Земли?

А) Красное море В) Мертвое море С) Желтое море
D) Каспийское море E) Средиземное море

19. Укажите страны Азии, входящие в ОПЕК:

А) Китай, Япония, Иран, Ирак. В) Китай, Индия, Кувейт, Алжир.
С) Иран, Ирак, Пакистан, Афганистан D) Япония, Монголия, Катар, ОАЭ.

E) Иран, Ирак, Кувейт, Катар, ОАЭ.

20. Турция занимает первое место в мире по сбору:

А) пшеницы В) цитрусовых С) орехов фундук D) винограда E) оливок

21. Укажите страну переселенческого капитализма:

А) Иран В) Израиль С) Афганистан D) Кувейт E) Саудовская Аравия

22. Страны-экспортеры нефти объединены в международную организацию:

А) АСЕАН В) АТЭС С) ЕЭС D) ОПЕК E) ОАГ

23. В предложенном перечне подчеркните многомиллионный народ, не имеющий своего государства, территория самопровозглашенного государства этого народа захватывает территории четырех соседних стран;

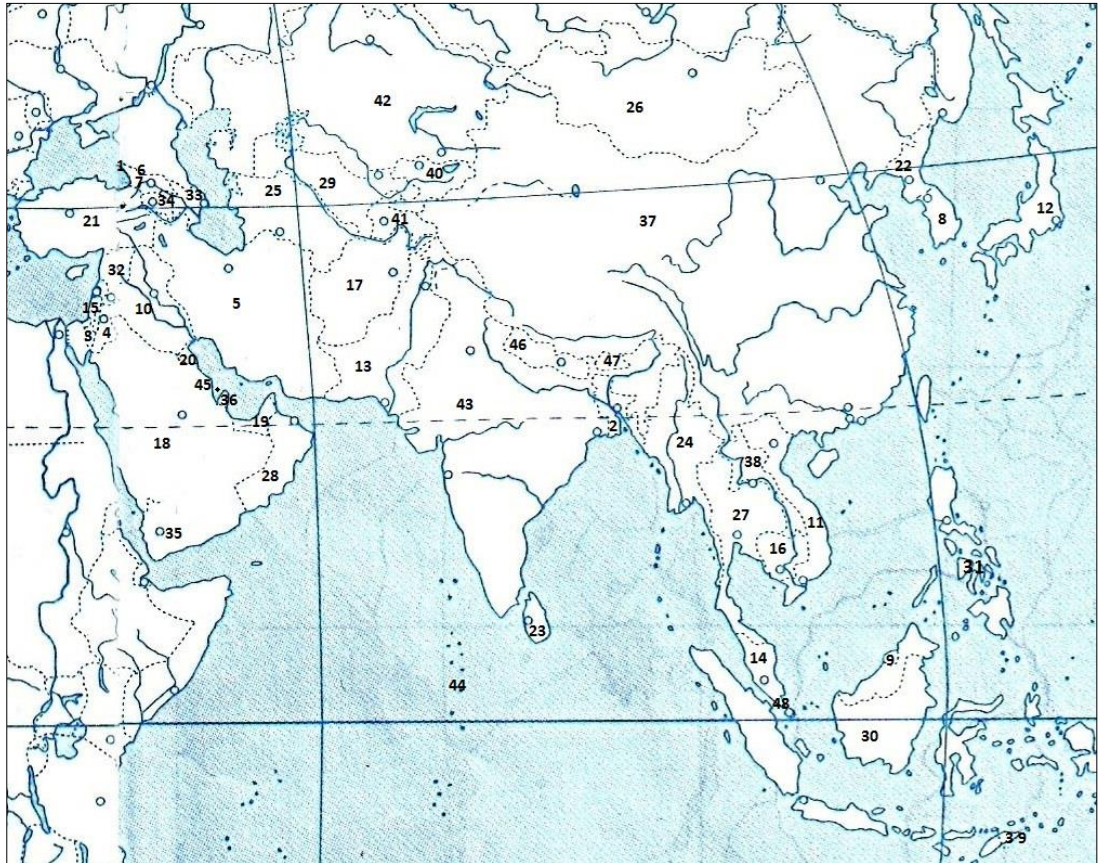
этот народ относится к иранской группе индоевропейской семьи и большинство исповедует ислам:

- 1) ассирийцы,
- 2) баски,
- 3) пуштуны,

- 4) осетины,
- 5) курды.

Характеристика субрегионов: Южная, Центральная Азия

1. В каком году была провозглашена независимость Индии:
А) 1914 г. В) 1947 г. С) 1961 г. D) 1975 г. E) 1981 г.
2. Какая из указанных стран является федеративной?
А) Непал В) Китай С) Монголия D) Япония E) Малайзия
3. Какие из указанных стран Азии не имеют прямого выхода к морю?
А) Оман, Ливан, Кувейт В) Иран, Ирак, Сирия С) Китай, Индия, Япония
D) Пакистан, Бутан, Малайзия E) Афганистан, Монголия, Непал
4. По форме государственного устройства Индия это:
А) унитарная республика В) федеративная республика
С) конституционная монархия D) федеративная монархия E) джамахирия
5. Какой город является самым крупным промышленным центром на севере Индии?
А) Мумбай В) Агра С) Ченнай D) Дели E) Колката
6. Какие страны относятся к группе отсталых стран:
А) Израиль, Пакистан В) Камбоджа, Тайвань С) Индонезия, Непал
D) Малайзия, Тайвань E) Афганистан,
7. Крупнейшие бассейны угля в Азии расположены в странах:
А) Китай, Афганистан В) Китай, Индия С) Саудовская Аравия, Кувейт
D) Иордания, Индия E) Япония, Китай
8. Какими цифрами отмечены страны: Афганистан, Монголия, Казахстан



- 9.** Для населения Индии характерно
 А) женщины по численности превосходят мужчин.
 Б) естественный прирост в последние годы неуклонно снижается.
 В) этническое и религиозное однообразие.
- 10.** Что характерно для Азии
 А) здесь расположена половина крупнейших городов мира.
 Б) здесь самая маленькая доля горожан.
 В) большинство населения – сельские жители
- 11.** Большинство населения Азии это
 А) женщины Б) мужчины В) по 50 % каждого пола
- 12.** Для Зарубежной Азии характерно:
 А) является крупнейшим производителем риса, хлопка и чая.
 Б) выделяется крупнейшими запасами нефти и природного газа.
 В) две страны региона входят в «мировую десятку» по площади территории.
- 13.** Для Зарубежной Азии не характерно
 А) то, что в период колониальной раздела мира все страны утратили независимость.
 Б) только здесь сохранились абсолютные монархии.
 В) нет стран, где большинство населения исповедует христианство.
- 14.** Составьте рейтинг по доходам ВВП на душу населения
 1.ОАЭ 2. Япония 3.Вьетнам 4. Турция
1. Вставьте словосочетание:

Азию часто называют _____, так как именно здесь самая низкая доля горожан.

15. Крупнейшими лесными ресурсами в З.А. обладает:

а) Сингапур б) Индонезия в) Малайзия

17. Самое экологически чистое государство Зарубежной Азии?

а) Сингапур б) Индия в) Сычуань

Характеристика субрегионов: Восточная Азия, Юго-Восточная Азия

1. Международная организация АСЕАН представляет государства региона:

А) Юго - Восточная Азия В) Восточная Азия С) Юго-Западная Азия

Д) Центральная и Восточная Азия Е) Южная Азия

2. Какова основная причина, способствовавшая быстрому росту экономики новых индустриальных стран (НИС)?

А) Крупные месторождения полезных ископаемых В) Дешевая электрическая энергия

С) развитый транспорт Д) выгодное экономико-географическое положение

Е) "Мягкие" экологические законы

3. Наиболее высокую плотность населения имеют страны:

А) Бангладеш, Монголия В) Сингапур, Бангладеш С) Сингапур, Монголия

Д) Япония, Саудовская Аравия Е) Китай, Саудовская Аравия

4. Какое из указанных государств является конституционной монархией?

А) Саудовская Аравия. В) Кувейт С) Бруней Д) ОАЭ
Е) Япония.

5. Специализацией Японии в мировом хозяйстве является:

А) выращивание чая, риса, хлопка, джута. В) тяжелое машиностроение

С) Роботостроение, электротехника Д) Сельскохозяйственное машиностроение

Е) военная техника, цветная металлургия

6. Укажите центры судостроения Японии:

А) Иокогама, Кобэ В) Хиросима, Токио С) Нагасаки, Нагоя

Д) Токио, Осака Е) Фукуока, Осака

7. Определите, какие части Китая плотно заселены:

А) Южное побережье и Центральные районы. В) Синьцзян, Тибет.

С) Великая Китайская равнина, Восточное и Юго-восточное побережье

D) Внутренние районы и Манчжурия

E) Население расселено по территории страны равномерно.

8. Крупнейшей агломерацией Китая является:

A) Пекин B) Урумчи C) Аньшань D) Тяньцзинь E) Шанхай

9. Укажите страну Азии, имеющую самую высокую среднюю продолжительность жизни:

A) Индия B) Китай C) Афганистан D) Япония E) Бруней

10. В какой части Китая сосредоточены особые экономические районы?

A) в Западном Китае B) в Восточном и Южном Китае C) в Северном Китае

D) в Юго-Восточном Китае E) Северо-Восточном и Северном Китае

11. Господствующая религия в Индии:

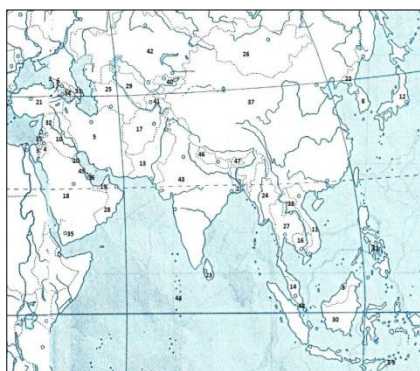
A) христианство B) сикхизм C) индуизм D) буддизм E) ислам

12. Укажите главные реки Индии?

A) Ганг, Инд B) Ганг, Ассам C) Савитри, Инд

D) Брахмапутра, Карманаша E) Годовари, Дамодар

13. Какими цифрами отмечены страны: Вьетнам, Филиппины, Индонезия



14. О какой стране Азии идет речь.

Она протянулась узкой полосой в 1700 км вдоль морского побережья, покрыта тропическими лесами, специализируется на производстве риса; главные районы рисосеяния — в дельтах крупнейших рек, крупные города размещены на крайнем севере и юге. Вьетнам

15. Укажите наиболее плотно населенную часть Китая:

A) северная B) восточная C) южная D) западная

16. Установите соответствие между регионами Зарубежной Азии и структурой экспорта, для которых она характерна.

A. Сухофрукты, орехи, шкурки каракуля, финики и кофе

Б. Джут, чай, копра, тропические фрукты

В. Пряности, сырьё для производства натурального каучука

Г. пальмовое масло, кора хинного дерева

1. Южная Азия
1. Юго-Западная Азия ,
3. Юго-Восточная Азия

17. Китай занимает первое место в мире по производству:

- А) электроэнергии и стали В) хлопчатобумажных тканей и минеральных удобрений
- Б) стали и хлопчатобумажных тканей Г) минеральных удобрений и электроэнергии

18. В Японии химия органического синтеза специализируется на производстве заменителей натуральных продуктов, потому что

- А) заменители обладают «заданными» свойствами
- Б) это позволяет уменьшить зависимость от импорта сырья
- В) заменители обходятся дешевле
- Г) на заменители натурального сырья большой спрос на мировом рынке

19. Мегалополис Токайдо расположен в Японии на:

- А) севере страны В) западном побережье
- Б) юге страны Г) восточном побережье

20. В Японии практически отсутствуют виды транспорта:

- А) железнодорожный и автомобильный В) трубопроводный и речной
- Б) автомобильный и трубопроводный Г) речной и железнодорожный

21. Укажите самый крупный город (городскую агломерацию) Индии:

- А) Дели Б) Калькутта В) Мумбаи Г) Ченнаи

22. Площадь территории Азии

- а. 27 млн.км² б. 30 млн.км в. 17 млн.км

23. Монголия простирается с запада на восток

а. 2,4 тыс.км

б. 5 тыс.км

в. 1,6 тыс.км

24. Самое большое по площади гос-во, не имеющее выхода к морю

а. Казахстан в. Турция

б. Монголия

25. Найди правильный ответ

а. в колониях Азии проживает 10% населения

б. в заруб. Азии преобладают республики

в. в складчатых областях преобладают осадочные п/и