

Задания на сайт.

11 класс. Профиль.

Модуль 1. Политическая карта мира.

Тема	Знать	Уметь
География как наука.	Предмет изучения и задачи современной географии. Предмет изучения экономической и социальной географии. Современный комплекс географических наук, его специфика и место в системе научных дисциплин, роль в решении современных научных и практических задач. Современные направления в географии. Структура и содержание курса «Экономическая и социальная география мира».	Называть структуру экономической и социальной географии. Выяснять роль географической науки в решении практических социальноэкономических задач страны и мира. Характеризовать наиболее яркие научные направления мировой и российской (советской) экономической и социальной географии. Объяснять состав современного комплекса географических наук, его специфику и место в системе научных дисциплин, роль в решении современных научных и практических задач.

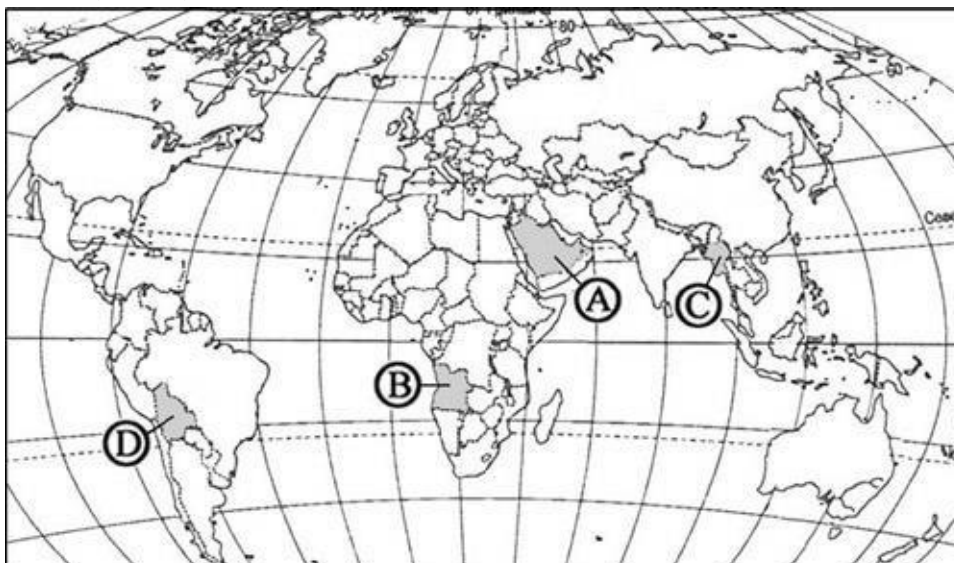
<p>Методы географии</p>	<p>Методы (общегеографические: традиционные и современные, частные) Различные источники географической информации.</p>	<p>Выделять методы географических исследований, оптимальные для конкретных целей науки, соответствующие определённым периодам становления географии как науки. Составлять перечень источников географической информации. Группировать карты учебника и атласа по разным признакам (по охвату территории, масштабу, содержанию). Различать географические описания и характеристики, приводить примеры из дополнительной литературы. Приводить примеры использования частных методов экономической и социальной географии для решения</p>
		<p>практических задач экономики</p>

<p>Политическая карта мира</p>	<p>Классификация стран мира. Примеры группировок стран мира (по численности населения, по величине территории, по национальному составу, по особенностям географического положения)</p>	<p>Группировать страны мира по различным признакам. Приводить примеры крупнейших стран мира по численности населения, величине территории, национальному составу, особенностям географического положения. Сравнивать географическое положение стран мира, устанавливать сходство и различия. Называть крупные по численности населения и площади государства мира. Определять существенные признаки понятий: «унитарное государство», «федеративное государство», «монархия», «республика». Называть и показывать на политической карте мира страны с различными формами правления и административно-территориального устройства. Различать признаки монархии, республики, федерации, унитарного государства</p>
---------------------------------------	---	---

Тема. Политическая карта мира

A1. Какой буквой на политической карте мира обозначено государство Ангола?

- 1)A 2)B 3)C 4)D



A2. Какое из перечисленных государств по форме правления является республикой?

- 1) Швеция 2) Франция 3) Таиланд 4) Испания

A3. Государство Таиланд расположено?

- 1) Африке 2) Азии 3) Латинской Америке 4) Океании

A4. Выберите строку, где перечислены внутриконтинентальные страны Азии?

- 1) Бутан, Непал, Мьянма, Пакистан
2) Нигер, Эфиопия, Лесото
3) Туркмения, Непал, Афганистан

A5. Какая из перечисленных стран имеет федеративное устройство?

- 1) Япония 2) Китай 3) Индия 4) Индонезия

A6. Какая страна расположена в Северной Африке?

- 1) Кения 2) Танзания 3) Тунис 4) Сомали

A7. Какая из перечисленных стран относится к развивающимся странам?

- 1) ЮАР 2) Польша 3) Китай 4) Канада

A8. К новым индустриальным странам относится?

- 1) Малайзия 2) Непал 3) Вьетнам 4) Иран

A9. В какой из перечисленных стран ВВП на душу населения наибольший?

- 1) Норвегия 2) Украина 3) Индия 4) Нигерия

A.10. С какой из перечисленных стран граничит Россия?

- 1) Эстония 2) Словакия 3) Молдавия 4) Венгрия

A11. Какая из перечисленных стран является членом ОПЕК?

- 1) Индия 2) Нигерия 3) Эфиопия 4) Россия

A12. Какая из перечисленных стран не относится к региону „Ближний Восток„

- 1) Кипр 2) Иран 3) Израиль 4) ОАЭ

A14.Какая страна расположена в Центральной Америке?

- 1)Венесуэла 2)Панама 3)Перу 4)Эквадор

A15.Какая из перечисленных стран является членом НАТО?

- 1)Аргентина 2)Норвегия 3)Швеция 4)Швейцария

B1. Установите соответствие между типом страны и страной, относящейся к данному типу

ТИПЫ СТРАН

- 1) наименее развитые
2) Нефте экспортирующие
3) «переселенческого» типа

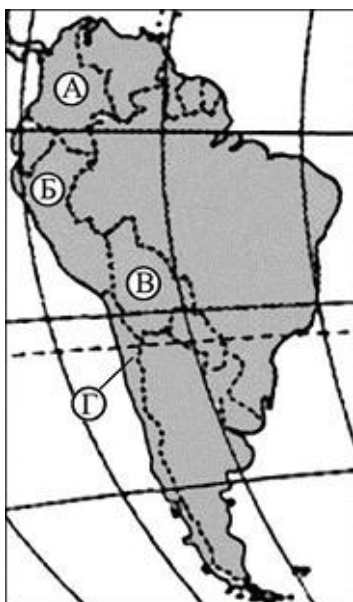
СТРАНА

- А) Австралия
Б) Сомали
В) Катар
Г) Болгария

Запишите в таблицу буквы выбранных ответов, а затем получившуюся последовательность букв перенесите в бланк ответов без пропусков и знаков препинания.

1	2	3	4
---	---	---	---

B2. Установите соответствие между страной и буквой, которой она обозначена на карте Южной Америки.



СТРАНА

- 1) Колумбия А) А
2) Чили Б) Б
3) Боливия В) В

БУКВА

Г) Г

Запишите в таблицу буквы, соответствующие выбранным ответам.

1	2	3
---	---	---

В3 Установите соответствие между страной и ее столицей.

СТРАНА

- А) Словакия
- Б) Швейцария
- В) Словения

СТОЛИЦА

- 1) Братислава
- 2) Женева
- 3) Любляна
- 4) Берн

В4. Выберите из предложенного списка три страны, которые в прошлом были колониями Великобритании.

- А) Индонезия
- Б) Ангола
- В) Мьянма
- Г) Мали
- Д) Пакистан
- Е) Индия

Буквы, соответствующие выбранным ответам, запишите в алфавитном порядке без пропусков и знаков препинания.

Ответ: _____.

С1. Определите, к какой стране относится следующее описание:

"Эта страна, относящаяся к странам переселенческого капитализма входит в состав Британского содружества, имеет две границы с одной и той же страной, обладает разнообразными природными ресурсами и имеет два государственных языка".

С2. Определите страну по ее краткому описанию.

Это государство с самой маленькой площадью территории и минимальным числом жителей, уникальное по форме правления. Здесь имеется свое правительство, банк, гвардия, законы. Сфера деятельности этого государства – весь мир.

Тема 2. Политическая карта мира (продолжение)

- 1** Расположите страны в порядке возрастания в них уровня урбанизации: а) Китай, б) Бельгия в) Эфиопия, г) Австралия
- 2** Выберите из списка три страны, обладающие наиболее крупным по тоннажу морским торговым флотом
а) Либерия, б) Япония, в) Великобритания, г) Греция, д) Польша, е) Панама.
- 3.** Выберите страну, которая в прошлом была колонией Франции:
а) Пакистан; б) Вьетнам; в) Индонезия; г) Сомали.
- 4.** Какая из стран является государством с федеративным административно-территориальным устройством?
а) Италия; б) Греция; в) Швеция; г) Швейцария.
- 5.** Выберите вариант, в котором указаны страны, где находятся крупнейшие в Африке городские агломерации: а) Алжир, ЮАР;
б) Судан, Конго;
в) Кения, Камерун;
г) Нигерия, Египет.
- 6.** Выберите неверные утверждения:
а) в Италии туристов привлекают достопримечательности, приморские и горные рекреационные зоны;
б) в результате проведения региональной политики в Рурском промышленном районе улучшится экологическая ситуация;
в) экономические реформы в странах Восточной Европы приведут к резкому увеличению доли занятых в сельском хозяйстве;
г) экологическая ситуация в восточной части западной Европы значительно хуже, чем в западной.
- 7.** Выберите вариант, в котором верно указано направление сдвига производительных сил, осуществляемого в результате региональной политики:
а) Венесуэла — на запад;
б) Аргентина — к заливу Ла-Плата;
в) Бразилия — к заливу Гуанабара;
г) Мексика — к границе с США.
- 8.** Определите страну по её краткому описанию

Эта островная страна, по форме правления является конституционной монархией. Однородное по национальному составу, население этой страны отличается большой численностью: она входит в первую десятку крупнейших по числу жителей стран мира. Эта страна обладает очень крупным и самым современным морским торговым флотом, так как 9/10 используемого сырья и топлива импортируются.

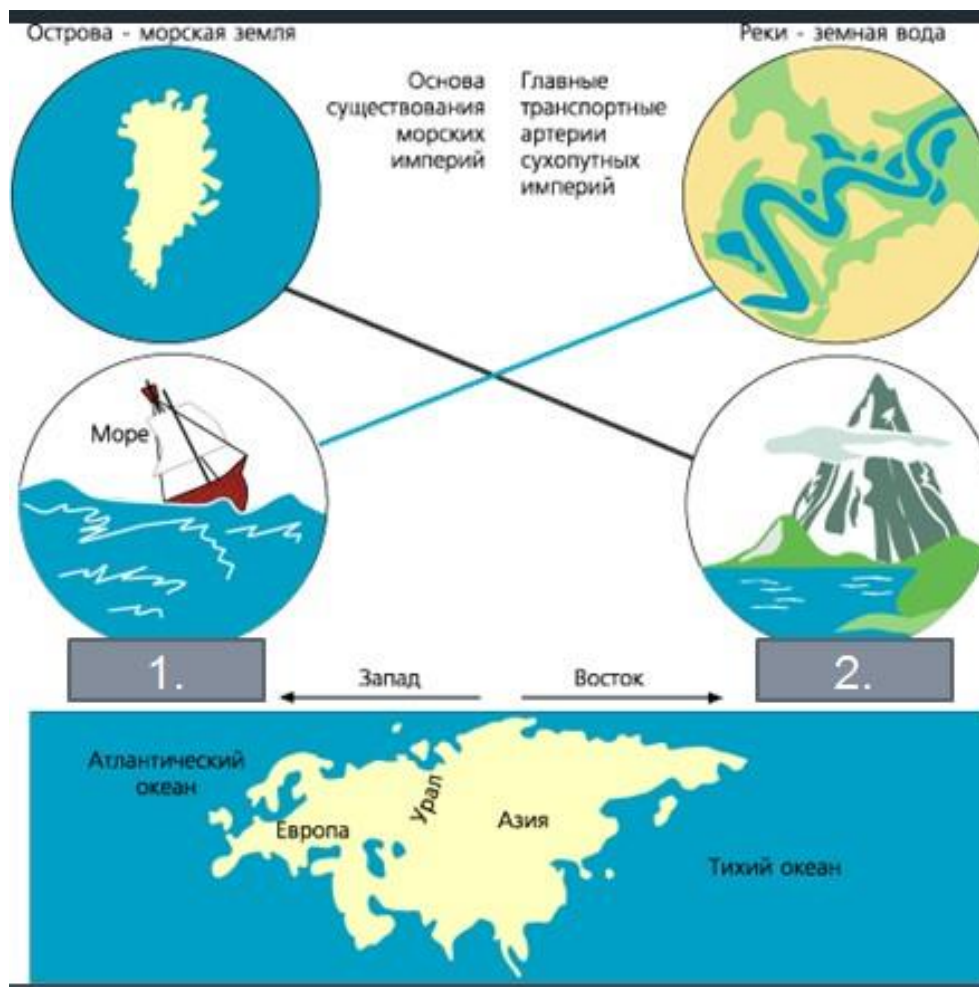
9. Определите страну по ее краткому описанию.

Эта страна по форме правления — республика. Она занимает южную часть полуострова. По степени вовлеченности в мировую экономику занимает одно из первых мест. Отраслями международной специализации являются производство электронной и бытовой техники, автомобилестроение. Несмотря на ограниченность ресурсной базы (в стране имеются лишь небольшие запасы каменного угля), развиты черная металлургия, судостроение, нефтехимическая промышленность. Страна хорошо обеспечена трудовыми ресурсами.

10. Установите соответствие между каждым из показателей, характеризующим отдельные виды транспорта, и страной

<i>Показатель транспорта</i>	<i>Страны</i>
1) наибольший тоннаж торгового флота	а) Швейцария
2) наибольшая густота автомобильных дорог	б) Панама
3) наибольшая протяженность газопровода	в) Бразилия
	г) Россия

11. Согласно Закону Фундаментального Дуализма, географическое устройство планеты и особенности исторического развития цивилизаций сформировали разновидности обществ: 1. _____, 2.



12. Основателем геополитики считают

- Фридриха Ратцеля
- Фридриха Энгельса
- Х. Маккиндер

13. Вставьте пропущенное слово:

Спикмен в своей теории хартленд-римленд сформулировал вывод: «Кто контролирует римленд, тот контролирует _____; Кто контролирует _____, тот контролирует весь мир»

14. Какой критерий является лишним: Ключевые базовые критерии:

- Экономическая мощь
- Военная мощь
- Ресурсный потенциал
- Демографический потенциал