

Задания на сайт.  
11 класс. Профиль.  
Модуль 1. Политическая карта мира.

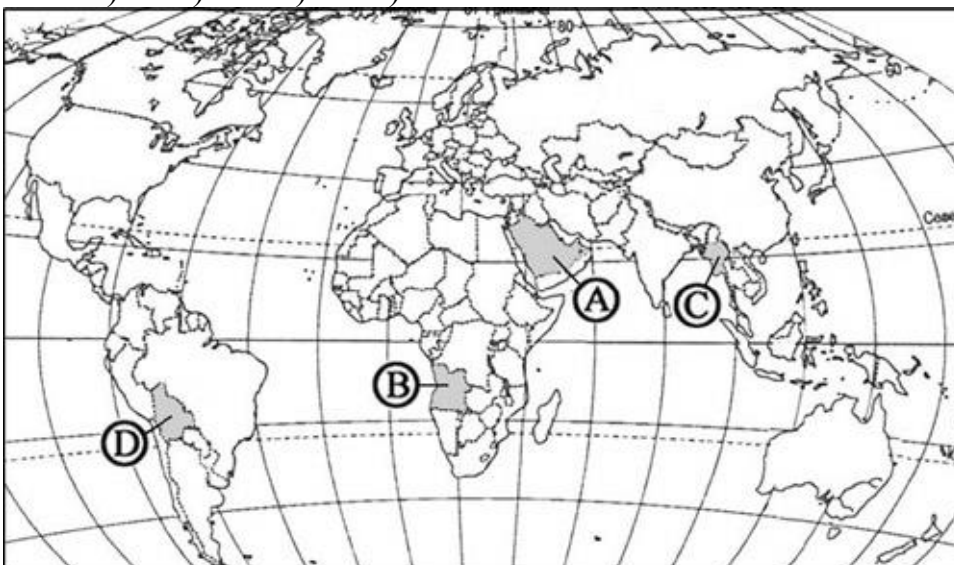
<b>Тема</b>	<b>Знать</b>	<b>Уметь</b>
<b>География как наука.</b>	<p>Предмет изучения и задачи современной географии. Предмет изучения экономической и социальной географии.</p> <p>Современный комплекс географических наук, его специфика и место в системе научных дисциплин, роль в решении современных научных и практических задач.</p> <p>Современные направления в географии. Структура и содержание курса «Экономическая и социальная география мира».</p>	<p>Называть структуру экономической и социальной географии. Выяснять роль географической науки в решении практических социально-экономических задач страны и мира. Характеризовать наиболее яркие научные направления мировой и российской (советской) экономической и социальной географии. Объяснять состав современного комплекса географических наук, его специфику и место в системе научных дисциплин, роль в решении современных научных и практических задач.</p>
<b>Методы географии</b>	<p>Методы (общегеографические: традиционные и современные, частные)</p> <p>Различные источники географической информации.</p>	<p>Выделять методы географических исследований, оптимальные для конкретных целей науки, соответствующие определённым периодам становления географии как науки. Составлять перечень источников географической информации. Группировать карты учебника и атласа по разным признакам (по охвату территории, масштабу, содержанию). Различать географические описания и характеристики, приводить примеры из дополнительной литературы.</p> <p>Приводить примеры использования частных методов экономической и социальной географии для решения</p>

		практических задач экономики
<b>Политическая карта мира</b>	Классификация стран мира. Примеры группировок стран мира (по численности населения, по величине территории, по национальному составу, по особенностям географического положения)	<b>Группировать</b> страны мира по различным признакам. <b>Приводить примеры</b> крупнейших стран мира по численности населения, величине территории, национальному составу, особенностям географического положения. <b>Сравнивать</b> географическое положение стран мира, устанавливать сходство и различия. <b>Называть</b> крупные по численности населения и площади государства мира. <b>Определять</b> существенные признаки понятий: «унитарное государство», «федеративное государство», «монархия», «республика». <b>Называть и показывать</b> на политической карте мира страны с различными формами правления и административно-территориального устройства. <b>Различать</b> признаки монархии, республики, федерации, унитарного государства

### Тема. Политическая карта мира

**A1.** Какой буквой на политической карте мира обозначено государство Ангола?

- 1) А 2) В 3) С 4) D



**A2.** Какое из перечисленных государств по форме правления является республикой?

- 1) Швеция 2) Франция 3) Таиланд 4) Испания

**A3.** Государство Таиланд расположено?

- 1) Африке 2) Азии 3) Латинской Америке 4) Океании

**A4.** Выберите строку, где перечислены внутриконтинентальные страны Азии?

- 1) Бутан, Непал, Мьянма, Пакистан  
2) Нигер, Эфиопия, Лесото  
3) Туркмения, Непал, Афганистан

**A5.** Какая из перечисленных стран имеет федеративное устройство?

- 1) Япония 2) Китай 3) Индия 4) Индонезия

**A6.** Какая страна расположена в Северной Африке?

- 1) Кения 2) Танзания 3) Тунис 4) Сомали

**A7.** Какая из перечисленных стран относится к развивающимся странам?

- 1) ЮАР 2) Польша 3) Китай 4) Канада

**A8.** К новым индустриальным странам относится?

- 1) Малайзия 2) Непал 3) Вьетнам 4) Иран

**A9.** В какой из перечисленных стран ВВП на душу населения наибольший?

- 1) Норвегия 2) Украина 3) Индия 4) Нигерия

**A.10.** С какой из перечисленных стран граничит Россия?

- 1) Эстония 2) Словакия 3) Молдавия 4) Венгрия

**A11.** Какая из перечисленных стран является членом ОПЕК?

- 1) Индия 2) Нигерия 3) Эфиопия 4) Россия

**A12.** Какая из перечисленных стран не относится к региону „Ближний Восток“,

- 1) Кипр 2) Иран 3) Израиль 4) ОАЭ

**A14.** Какая страна расположена в Центральной Америке?

- 1) Венесуэла 2) Панама 3) Перу 4) Эквадор

**A15.** Какая из перечисленных стран является членом НАТО?

- 1) Аргентина 2) Норвегия 3) Швеция 4) Швейцария

**В1.** Установите соответствие между типом страны и страной, относящейся к данному типу

**ТИПЫ СТРАН**

- 1) наименее развитые
- 2) Нефте экспортирующие
- 3) «переселенческого» типа

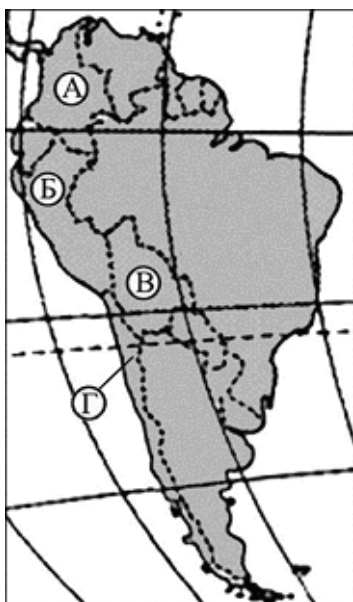
**СТРАНА**

- А) Австралия
- Б) Сомали
- В) Катар
- Г) Болгария

Запишите в таблицу буквы выбранных ответов, а затем получившуюся последовательность букв перенесите в бланк ответов без пропусков и знаков препинания.

1	2	3	4
---	---	---	---

**В2.** Установите соответствие между страной и буквой, которой она обозначена на карте Южной Америки.



**СТРАНА**

- 1) Колумбия
- 2) Чили
- 3) Боливия

**БУКВА**

- А) А
- Б) Б
- В) В
- Г) Г

Запишите в таблицу буквы, соответствующие выбранным ответам.

1	2	3
---	---	---

**В3** Установите соответствие между страной и ее столицей.

## СТРАНА

- А) Словакия
- Б) Швейцария
- В) Словения

## СТОЛИЦА

- 1) Братислава
- 2) Женева
- 3) Любляна
- 4) Берн

**В4.** Выберите из предложенного списка три страны, которые в прошлом были колониями Великобритании.

- А) Индонезия
- Б) Ангола
- В) Мьянма
- Г) Мали
- Д) Пакистан
- Е) Индия

Буквы, соответствующие выбранным ответам, запишите в алфавитном порядке без пропусков и знаков препинания.

Ответ: \_\_\_\_\_.

**С1.** Определите, к какой стране относится следующее описание:

"Эта страна, относящаяся к странам переселенческого капитализма входит в состав Британского содружества, имеет две границы с одной и той же страной, обладает разнообразными природными ресурсами и имеет два государственных языка".

**С2.** Определите страну по ее краткому описанию.

Это государство с самой маленькой площадью территории и минимальным числом жителей, уникальное по форме правления. Здесь имеется свое правительство, банк, гвардия, законы. Сфера деятельности этого государства – весь мир.

## **Модуль 2. Политическая карта мира (продолжение)**

**1** Расположите страны в порядке возрастания в них уровня урбанизации:

- а) Китай, б) Бельгия в) Эфиопия, г) Австралия

**2** Выберите из списка три страны, обладающие наиболее крупным по тоннажу морским торговым флотом

- а) Либерия, б) Япония, в) Великобритания, г) Греция, д) Польша, е) Панама.

**3.** Выберите страну, которая в прошлом была колонией Франции:

- а) Пакистан; б) Вьетнам; в) Индонезия; г) Сомали.

**4.** Какая из стран является государством с федеративным административно-территориальным устройством?

а) Италия; б) Греция; в) Швеция; г) Швейцария.

**5.** Выберите вариант, в котором указаны страны, где находятся крупнейшие в Африке городские агломерации:

а) Алжир, ЮАР;

б) Судан, Конго;

в) Кения, Камерун;

г) Нигерия, Египет.

**6.** Выберите неверные утверждения:

а) в Италии туристов привлекают достопримечательности, приморские и горные рекреационные зоны;

б) в результате проведения региональной политики в Рурском промышленном районе улучшится экологическая ситуация;

в) экономические реформы в странах Восточной Европы приведут к резкому увеличению доли занятых в сельском хозяйстве;

г) экологическая ситуация в восточной части западной Европы значительно хуже, чем в западной.

**7.** Выберите вариант, в котором верно указано направление сдвига производительных сил, осуществляемого в результате региональной политики:

а) Венесуэла — на запад;

б) Аргентина — к заливу Ла-Плата;

в) Бразилия — к заливу Гуанабара;

г) Мексика — к границе с США.

**8.** Определите страну по её краткому описанию

Эта островная страна, по форме правления является конституционной монархией. Однородное по национальному составу, население этой страны отличается большой численностью: она входит в первую десятку крупнейших по числу жителей стран мира. Эта страна обладает очень крупным и самым современным морским торговым флотом, так как 9/10 используемого сырья и топлива импортируются.

**9.** Определите страну по её краткому описанию.

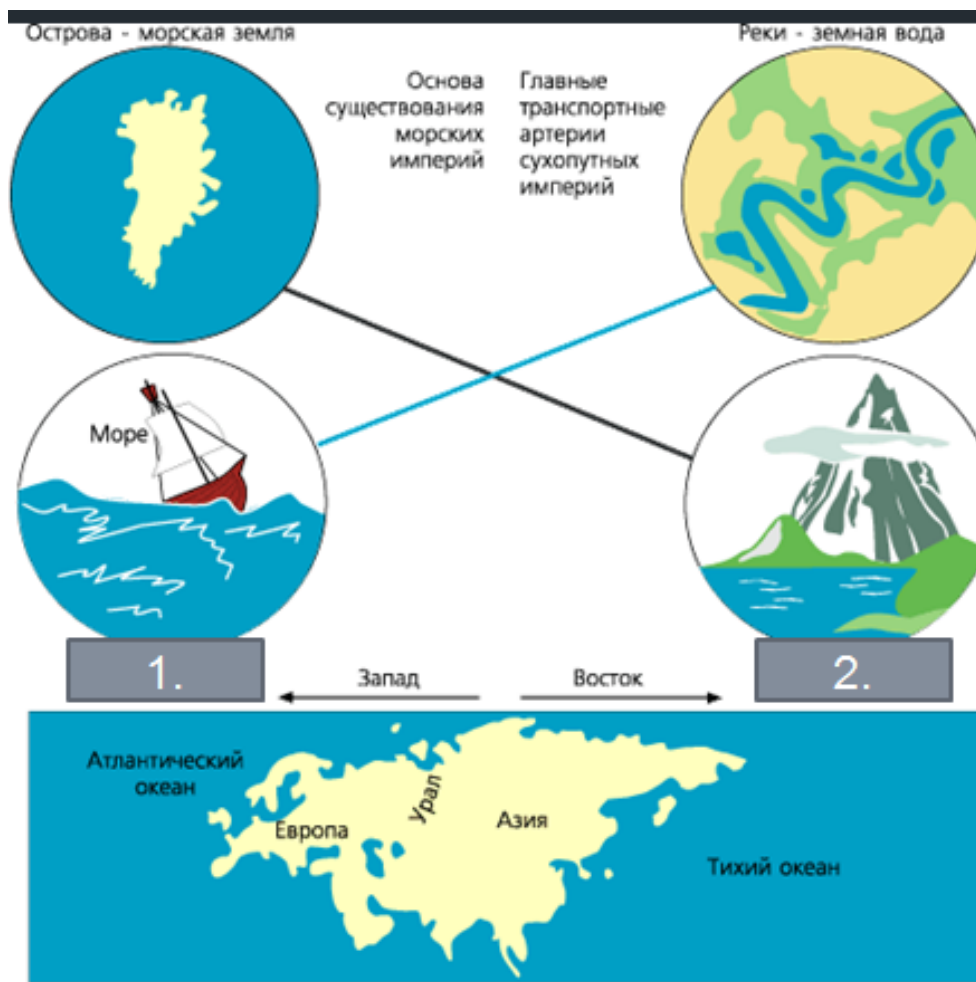
Эта страна по форме правления — республика. Она занимает южную часть полуострова. По степени вовлеченности в мировую экономику занимает одно из первых мест. Отраслями международной специализации являются производство электронной и бытовой техники, автомобилестроение. Несмотря на ограниченность ресурсной базы (в стране имеются лишь небольшие запасы каменного угля), развиты черная металлургия, судостроение, нефтехимическая промышленность. Страна хорошо обеспечена трудовыми ресурсами.

**10.** Установите соответствие между каждым из показателей, характеризующим отдельные виды транспорта, и страной

<i>Показатель транспорта</i>	<i>Страны</i>
------------------------------	---------------

1) наибольший тоннаж торгового флота	а) Швейцария
2) наибольшая густота автомобильных дорог	б) Панама
3) наибольшая протяженность газопровода	в) Бразилия
	г) Россия

11. Согласно Закону Фундаментального Дуализма, географическое устройство планеты и особенности исторического развития цивилизаций сформировали разновидности обществ: 1. \_\_\_\_\_, 2. \_\_\_\_\_



12. Основателем геополитики считают

- Фридриха Ратцеля
- Фридриха Энгельса
- Х. Маккиндер

13. Вставьте пропущенное слово:

Спикмен в своей теории хартленд-римленд сформулировал вывод:

«Кто контролирует римленд, тот контролирует \_\_\_\_\_»;

Кто контролирует \_\_\_\_\_, тот контролирует весь мир»

14. Какой критерий является лишним:

Ключевые базовые критерии:

— Экономическая мощь

— Военная мощь

— Ресурсный потенциал

— Демографический потенциал