

Материалы на сайт
География 10 класс (профиль). Модуль 1.
География как наука. Методы географии. Политическая карта мира.
Итоговый тест

Тема	Знать	Уметь
География как наука.	Предмет изучения и задачи современной географии. Предмет изучения экономической и социальной географии. Современный комплекс географических наук, его специфика и место в системе научных дисциплин, роль в решении современных научных и практических задач. Современные направления в географии. Структура и содержание курса «Экономическая и социальная география мира».	Называть структуру экономической и социальной географии. Выяснять роль географической науки в решении практических социально-экономических задач страны и мира. Характеризовать наиболее яркие научные направления мировой и российской (советской) экономической и социальной географии. Объяснять состав современного комплекса географических наук, его специфику и место в системе научных дисциплин, роль в решении современных научных и практических задач.
Методы географии	Методы (общегеографические: традиционные и современные, частные) Различные источники географической информации.	Выделять методы географических исследований, оптимальные для конкретных целей науки, соответствующие определённым периодам становления географии как науки. Составлять перечень источников географической информации. Группировать карты учебника и атласа по разным признакам (по охвату территории, масштабу, содержанию). Различать географические описания и характеристики, приводить примеры из дополнительной литературы. Приводить примеры использования частных методов экономической и

		социальной географии для решения практических задач экономики
Политическая карта мира	Классификация стран мира. Примеры группировок стран мира (по численности населения, по величине территории, по национальному составу, по особенностям географического положения)	Группировать страны мира по различным признакам. Приводить примеры крупнейших стран мира по численности населения, величине территории, национальному составу, особенностям географического положения. Сравнивать географическое положение стран мира, устанавливать сходство и различия. Называть крупные по численности населения и площади государства мира. Определять существенные признаки понятий: «унитарное государство», «федеративное государство», «монархия», «республика». Называть и показывать на политической карте мира страны с различными формами правления и административно-территориального устройства. Различать признаки монархии, республики, федерации, унитарного государства

10 класс. Социально-экономический профиль. Модуль 1. География как наука. Методы географии

1. Термин «география» впервые применил древнегреческий географ, математик и философ

- 1) Аристотель 2) Эратосфен 3) Пифагор
4) Птолемей.

2. Наука о рельефе, формах поверхности суши и морского дна называется:

- 1) геоэкология 2) гидрология 3) геоморфология 4) гляциология

3. Какой метод географии позволяет вести визуальные наблюдения над состоянием земной поверхности с летательных аппаратов?

- 1) картографический 3) аэрокосмический
2) статистический 4) экспедиционный

4. Объектом изучения географии является:

- 1) человек 2) пространство 3) карты 4) модели.

5. Наука, изучающая население и его динамику, называется:

- 1) демография 2) геополитика 3) этнология 4) геоэкономика.

6. Какой метод географической науки, предполагает условное разделение территории на части, по заданным признакам?

- 1) моделирование 2) картографический 3) районирование 4) статистический.

7. Область отношений, возникающих в процессе взаимодействия индивидов, общностей, социальных групп и выбор подходящих форм деятельности, это пространство:

- 1) технобиопочвенное 2) техносоциальное 3) техноморфогенное 4) техногидрогенное

8. Какой из процессов геотехнопространства относится к социально-экономическим?

- 1) денудация 2) аккумуляция 3) интеграция 4) дегидратация

9. Современная география находится на стыке наук:

- 1) исторических и естественных; 3) общественных и математических;
2) математических и естественных; 4) естественных и общественных.

10. Наука о закономерностях распространения организмов и их сообществ на Земле, называется

- 1) биогеография 2) фенология 3) геоморфология 4) геохимия

11. Какой метод географической науки предполагает применение современных информационных технологий, электронных карт, сетевых ресурсов?

- 1) статистический 2) картографический 3) метод ГИС 4) экспедиционный.

12. Термин «География», в переводе с греческого, означает:

- 1) изучение Земли; 3) изображение Земли; 2) описание Земли; 4) измерение Земли.

13. Наука, изучающая все виды природных вод географической оболочки, называется:

- 1) геология 2) фенология 3) гидрология 4) геоэкология

14. Какой метод географии предполагает обязательное применение карт для научного и практического познания изображенных на них явлений.

- 1) статистический 2) исторический 3) аэрокосмический 4) картографический.

15. «Изолированное государство»-это:

— Название работы И. Тюнена

— Колониальный анклав

— Территория, не имеющая связей с соседними странами

16. География имеет право называться самостоятельной наукой, потому что

- Имеет объект исследования
- Имеет предмет исследования
- Имеет методы исследования
- Все вместе перечисленное

17. Вставьте пропущенные слова:

По классификации И. Канта к сущностным наукам относятся _____ *математика, физика* _____, к временным (хронологическим) _____ *история* _____, к _____ *пространственным* _____ география

18. Определите верно ли утверждение: Теоретические открытия в географии начались раньше реальных открытий

Верно неверно

19. Прономеруйте методы географических исследований в хронологическом порядке:

- 5. Создание теоретических моделей
- 3. Картографический
- 2. Экспедиционный
- 1. Описательный
- 4. Статистический
- 6. Создание геоинформационных систем

20. Закон высотной поясности был открыт:

- А. Гумбольдом
- И. Тюненом
- В. Докучаевым
- К. Марксом

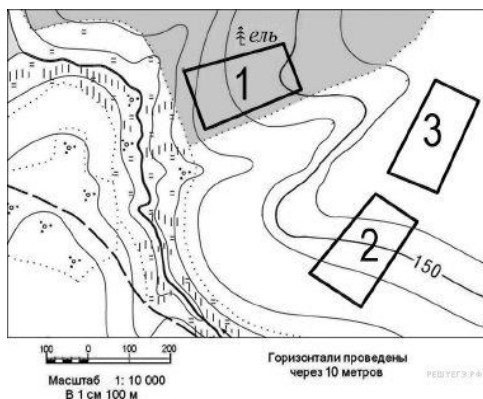
На умения работать с картой, статистическим материалом:

Задание С1. Используя данные таблицы, приведенной ниже, сравните долю сельского хозяйства в ВВП и долю сельского хозяйства в общем объеме экспорта Австралии и Колумбии. Сделайте вывод о том, в какой из этих стран сельское хозяйство играет большую роль в экономике. Для обоснования своего ответа запишите необходимые числовые данные или вычисления.

Социально-экономические показатели развития Австралии и Колумбии в 2007 г.

Страна	Объем ВВП, млрд долл.	Отраслевая структура ВВП, %			Общий объем экспорта, млрд долл.	Объем сельскохозяйственного экспорта, млрд долл.
		Сельское хоз-во	Сфера услуг	Промышленность		
Австралия	667	4	70	26	117	20
Колумбия	367	12	53	35	25	5

Задание С2 Определите, в пределах какого из участков, обозначенных на фрагменте карты цифрами, существует наибольшая опасность развития водной эрозии почвенного слоя. Для обоснования вашего ответа приведите два довода.

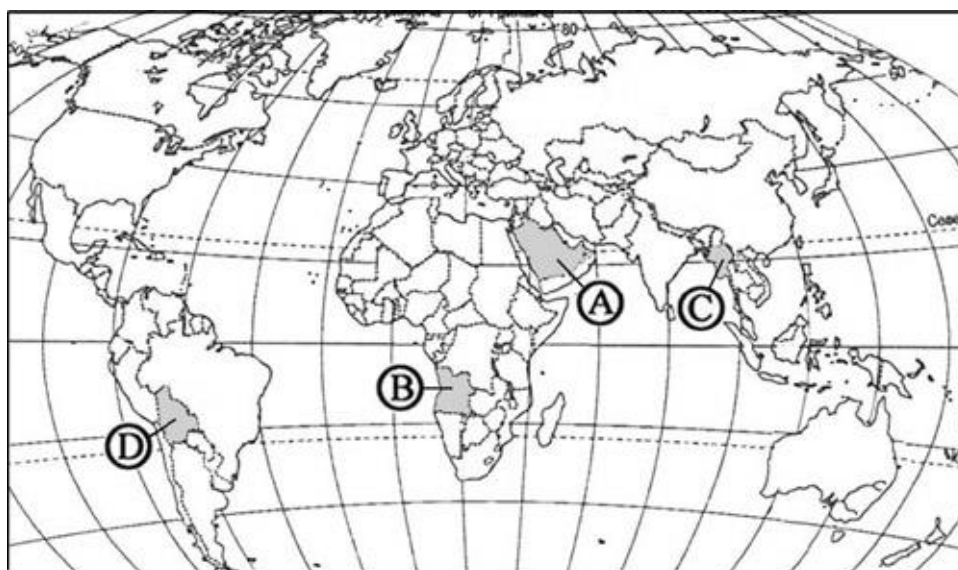


10 КЛАСС База. Модуль 1. МИНИТЕСТ 1 Политическая карта мира

Тема: „Политическая карта мира,,

A1. Какой буквой на политической карте мира обозначено государство Ангола?

- 1) А 2) В 3) С 4) D



A2. Какое из перечисленных государств по форме правления является республикой?

- 1) Швеция 2) Франция 3) Таиланд 4) Испания

A3. Государство Таиланд расположено?

- 1) Африке 2) Азии 3) Латинской Америке 4) Океании

A4. Выберите строку, где перечислены внутриконтинентальные страны Азии?

- 1) Бутан, Непал, Мьянма, Пакистан
- 2) Нигер, Эфиопия, Лесото
- 3) Туркмения, Непал, Афганистан

A5.Какая из перечисленных стран имеет федеративное устройство?

- 1)Япония 2)Китай 3)Индия 4)Индонезия

A6.Какая страна расположена в Северной Африке?

- 1)Кения 2)Танзания 3)Тунис 4)Сомали

A7.Какая из перечисленных стран относится к развивающимся странам?

- 1)ЮАР 2)Польша 3)Китай 4)Канада

A8.К новым индустриальным странам относится?

- 1)Малайзия 2)Непал 3)Вьетнам 4)Иран

A9.В какой из перечисленных стран ВВП на душу населения наибольший?

- 1)Норвегия 2)Украина 3)Индия 4)Нигерия

A.10. С какой из перечисленных стран граничит Россия?

- 1)Эстония 2)Словакия 3)Молдавия 4)Венгрия

A11.Какая из перечисленных стран является членом ОПЕК?

- 1)Индия 2)Нигерия 3)Эфиопия 4)Россия

A12.Какая из перечисленных стран не относится к региону „Ближний Восток„,

- 1)Кипр 2)Иран 3)Израиль 4)ОАЭ

A14.Какая страна расположена в Центральной Америке?

- 1)Венесуэла 2)Панама 3)Перу 4)Эквадор

A15.Какая из перечисленных стран является членом НАТО?

- 1)Аргентина 2)Норвегия 3)Швеция 4)Швейцария

B1. Установите соответствие между типом страны и страной, относящейся к данному типу

ТИПЫ СТРАН

- 1) наименее развитые
- 2) нефтеэкспортирующие
- 3) «переселенческого» типа

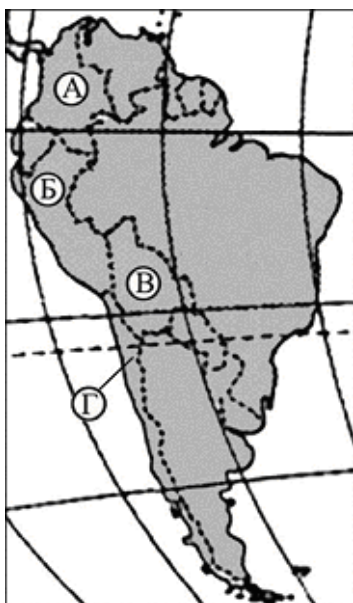
СТРАНА

- А) Австралия
- Б) Сомали
- В) Катар
- Г) Болгария

Запишите в таблицу буквы выбранных ответов, а затем получившуюся последовательность букв перенесите в бланк ответов без пропусков и знаков препинания.

1	2	3	4

В2. Установите соответствие между страной и буквой, которой она обозначена на карте Южной Америки.



СТРАНА	БУКВА
1) Колумбия	А) А
2) Чили	Б) Б
3) Боливия	В) В
	Г) Г

Запишите в таблицу буквы, соответствующие выбранным ответам.

1	2	3

В3 Установите соответствие между страной и ее столицей.

СТРАНА	СТОЛИЦА
А) Словакия	1) Братислава
Б) Швейцария	2) Женева
В) Словения	3) Любляна
	4) Берн

В4. Выберите из предложенного списка три страны, которые в прошлом были колониями Великобритании.

- А) Индонезия
- Б) Ангола
- В) Мьянма
- Г) Мали
- Д) Пакистан
- Е) Индия

Буквы, соответствующие выбранным ответам, запишите в алфавитном порядке без пропусков и знаков препинания.

Ответ: _____.

С1. Определите, к какой стране относится следующее описание:

"Эта страна, относящаяся к странам переселенческого капитализма входит в состав Британского содружества, имеет две границы с одной и той же страной, обладает разнообразными природными ресурсами и имеет два государственных языка".

С2. Определите страну по ее краткому описанию.

Это государство с самой маленькой площадью территории и минимальным числом жителей, уникальное по форме правления. Здесь имеется свое правительство, банк, гвардия, законы. Сфера деятельности этого государства – весь мир.