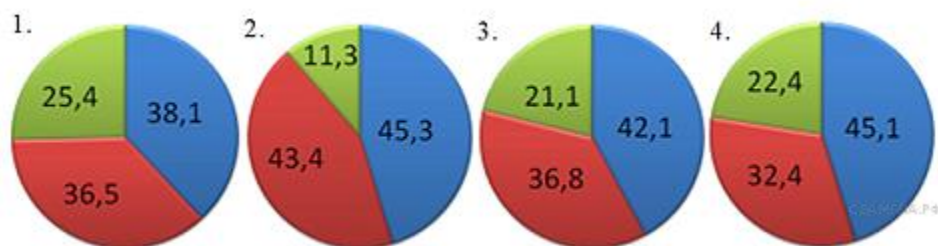


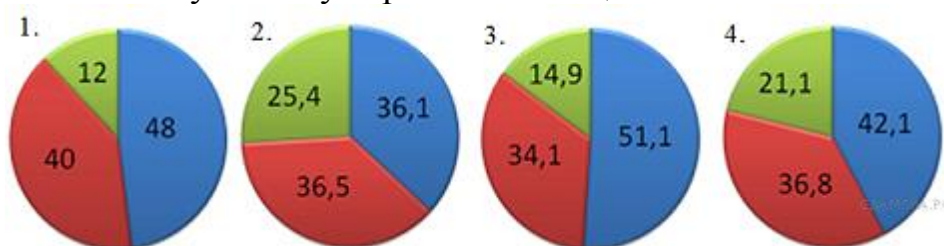
Решение задач

Вычисление массовой доли химического элемента в веществе

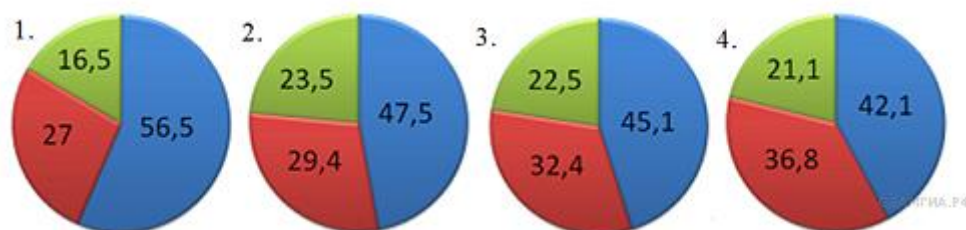
1. На какой диаграмме распределение массовых долей элементов соответствует количественному составу сульфита натрия?



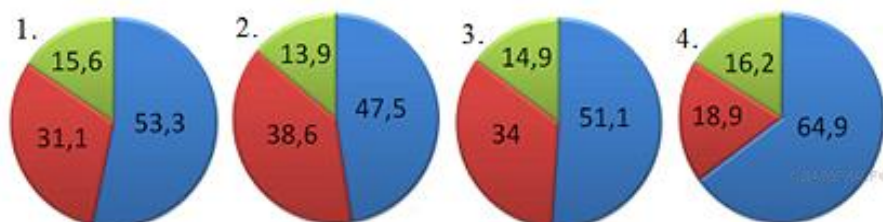
2. На какой диаграмме распределение массовых долей элементов соответствует количественному составу карбоната кальция?



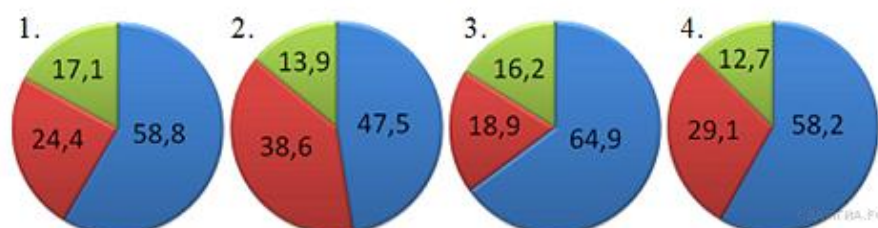
3. На какой диаграмме распределение массовых долей элементов соответствует количественному составу сульфата железа(II)?



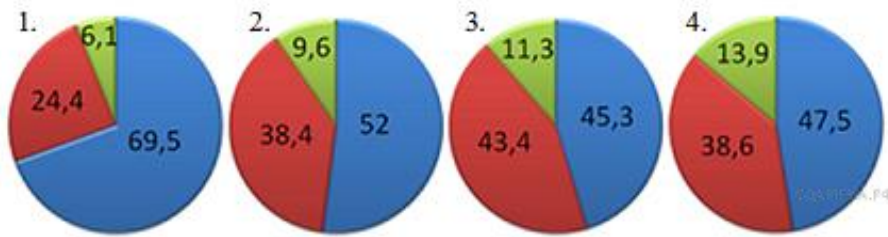
4. На какой диаграмме распределение массовых долей элементов соответствует количественному составу карбоната лития?



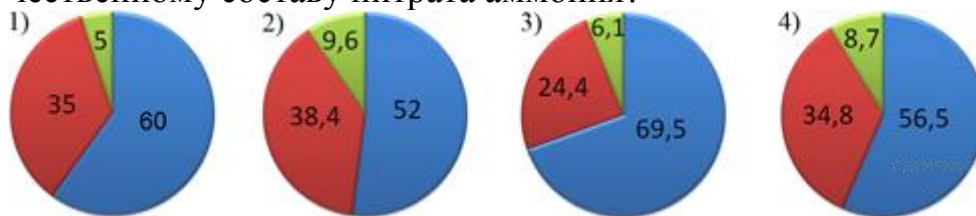
5. На какой диаграмме распределение массовых долей элементов соответствует количественному составу нитрата кальция?



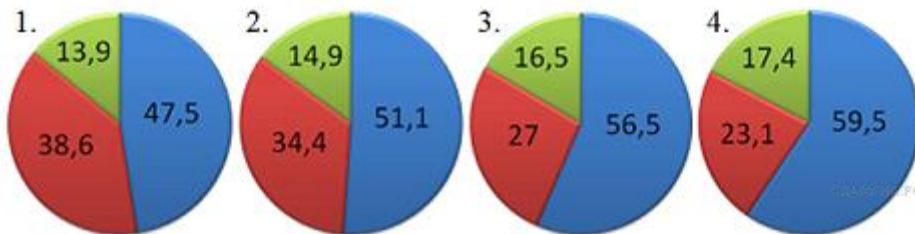
6.. На какой диаграмме распределение массовых долей элементов соответствует количественному составу карбоната цинка?



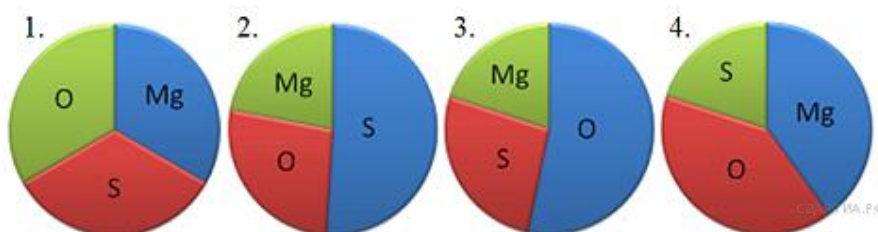
7. На какой диаграмме распределение массовых долей элементов соответствует количественному составу нитрата аммония?



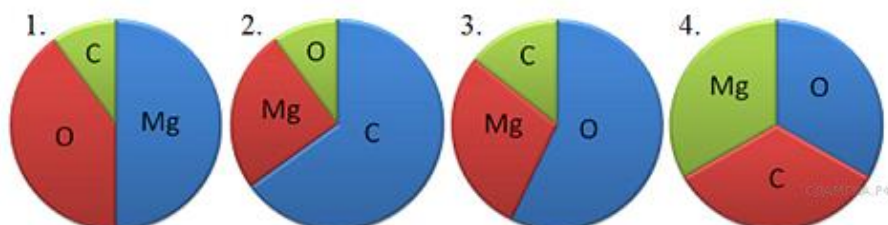
8. На какой диаграмме распределение массовых долей элементов соответствует количественному составу нитрата калия?



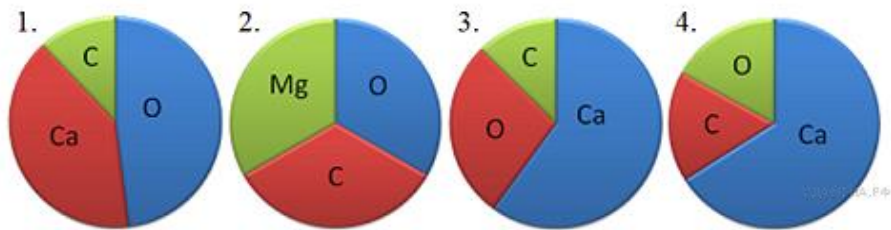
9. На какой диаграмме распределение массовых долей элементов соответствует $MgSO_4$?



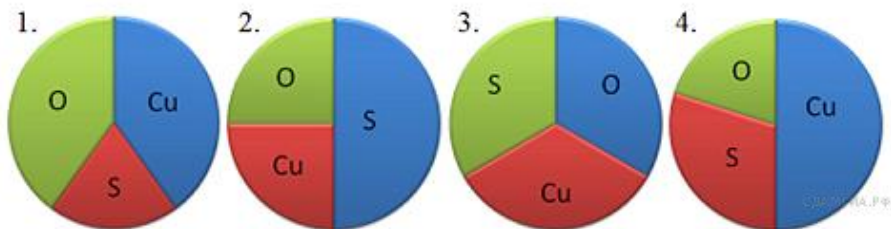
10. На какой диаграмме распределение массовых долей элементов соответствует $MgCO_3$?



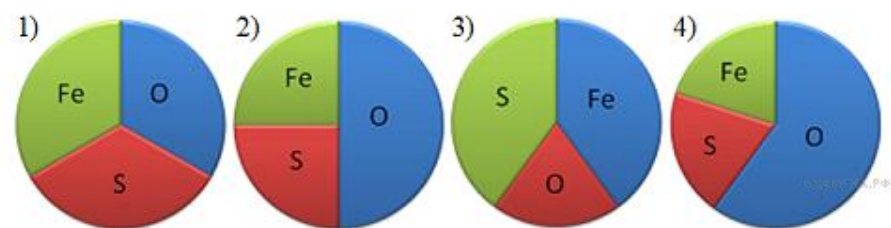
11. На какой диаграмме распределение массовых долей элементов соответствует $CaCO_3$?



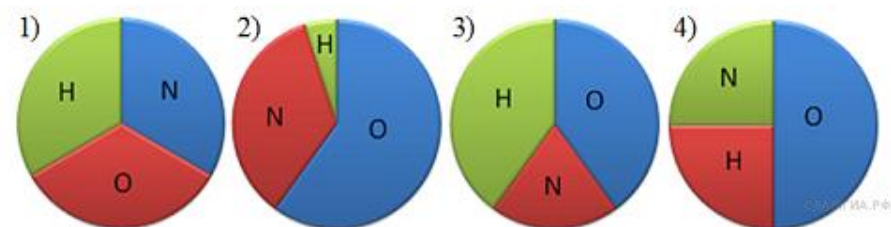
12. На какой диаграмме распределение массовых долей элементов соответствует CuSO_4 ?



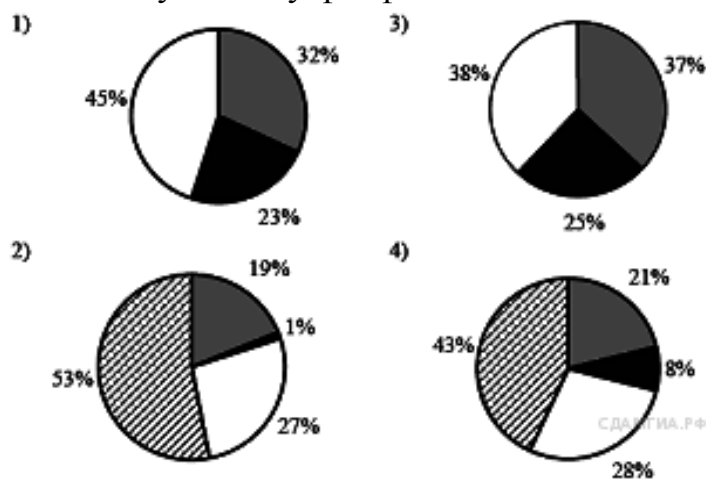
13. На какой диаграмме распределение массовых долей элементов соответствует $\text{Fe}_2(\text{SO}_4)_3$?



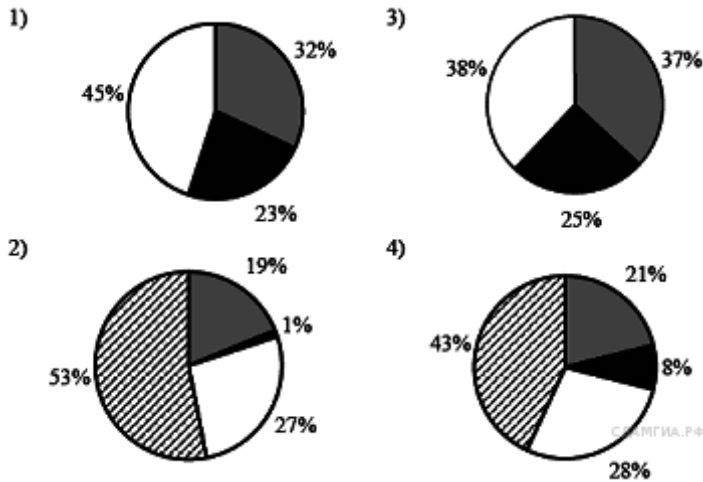
14. какой диаграмме распределение массовых долей элементов соответствует NH_4NO_3 ?



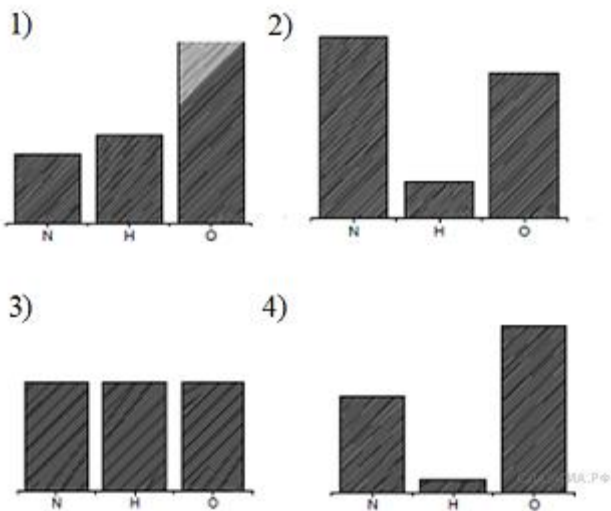
15. На какой диаграмме распределение массовых долей элементов отвечает количественному составу фосфата аммония?



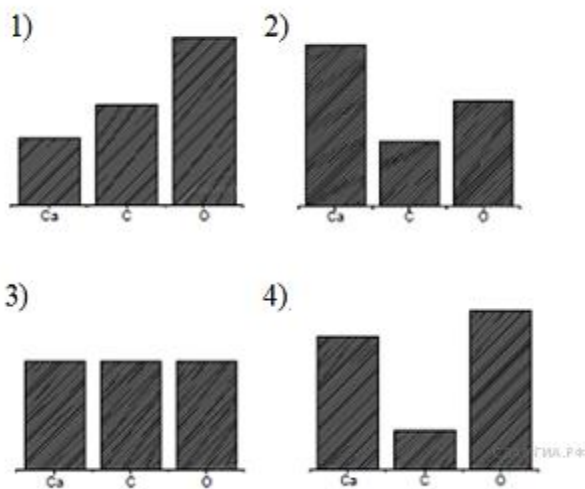
16. На какой диаграмме распределение массовых долей элементов отвечает количественному составу фосфата аммония?



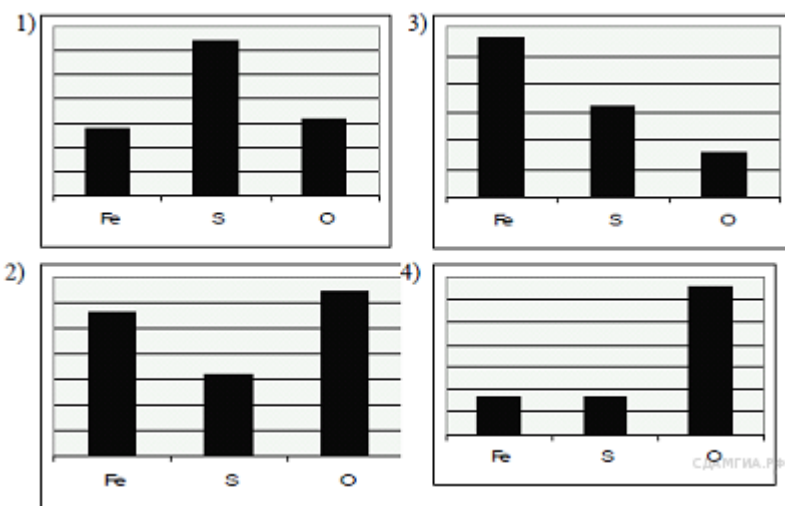
17. На какой диаграмме распределение массовых долей элементов соответствует NH_4NO_3 ?



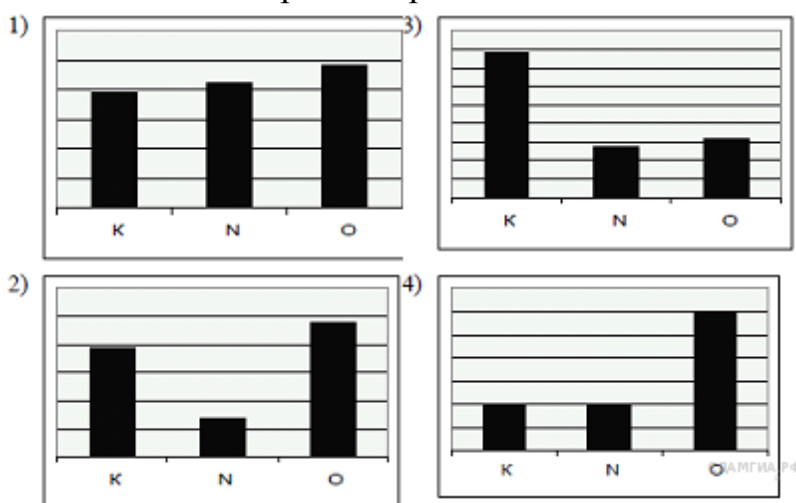
18. На какой диаграмме распределение массовых долей элементов соответствует CaCO_3 ?



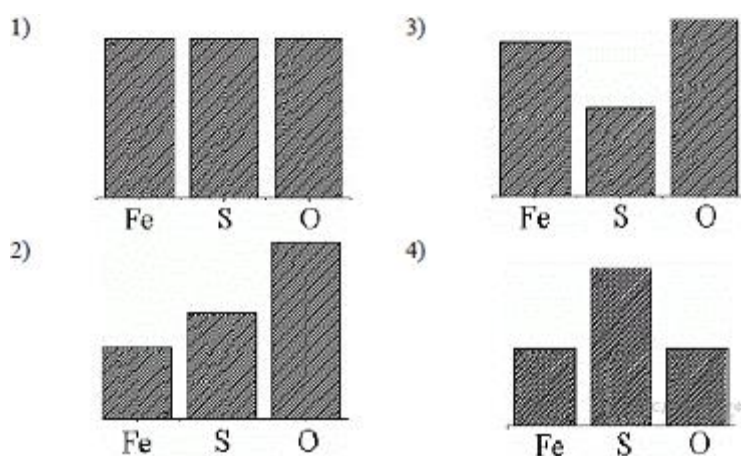
19. На какой диаграмме правильно показаны массовые доли элементов в FeSO_4 ?



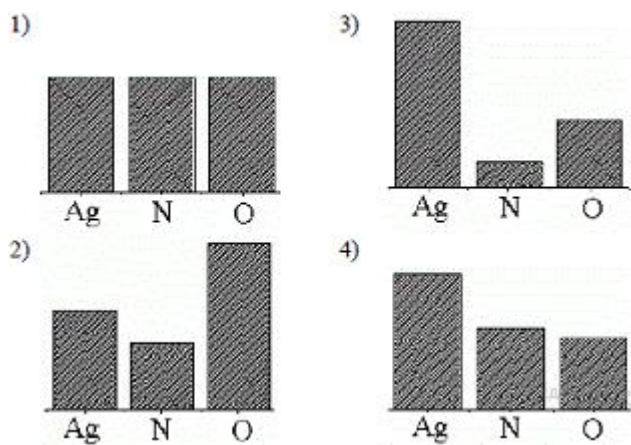
20. На какой диаграмме правильно показаны массовые доли элементов в KNO_3 ?



21. На какой диаграмме распределение массовых долей элементов соответствует FeSO_4 ?



21. На какой диаграмме распределение массовых долей элементов соответствует AgNO_3 ?



22. На какой диаграмме распределение массовых долей элементов отвечает количественному составу фосфата аммония?

