

МАТЕРИАЛЫ

по географии 8 класс (социально-экономический уровень)

Составитель: Остроухова Ю.В.

ТЕМА	Предметные результаты	
Численность и воспроизводство населения	Причины демографического кризиса. Особенности воспроизводства российского населения. Региональные различия естественного прироста. Роль внешних миграций в динамике населения страны. Прогнозы изменения численности населения России. Своеобразие половозрастной пирамиды в России и определяющие его факторы. Сокращение средней продолжительности жизни россиян.	<ol style="list-style-type: none">на основе анализа атласа приводить примерыоперировать понятиямивыполнять простейший анализ карт по темеприменять формулы при вычислениях, когда все данные имеются в условияхраспознавать объекты на картеизвлекать, интерпретировать и преобразовывать информацию, представленную в таблице
Этнический и языковой состав населения России	Россия — многонациональное государство. Многонациональность как специфический фактор формирования и развития России. Межнациональные проблемы. Языковой состав населения. Языковые семьи и группы. Многоконфессиональность. География религий	
Культурно-исторические особенности народов России. География основных религий.	Особенности религиозного состава населения России	
Особенности урбанизации в России. Городское и сельское население страны	Особенности урбанизации в России. Концентрация населения в крупнейших городах и обострение в них социально-экономических и экологических проблем. Городские агломерации. Малые города и проблемы их возрождения. Сельская местность. Географические особенности расселения сельского населения. Современные социальные проблемы села.	
Миграции населения	Внешние и внутренние миграции: причины, порождающие их. Основные направления миграционных потоков на разных этапах развития страны	

Размещение населения России	Их обусловленность природными, историческими и социально-экономическими факторами. Зоны расселения.	
Трудовые ресурсы	Экономически активное население и трудовые ресурсы, их роль в развитии и размещении хозяйства. Неравномерность распределения трудоспособного населения по территории страны. Занятость, изменения структуры занятости населения. Проблемы безработицы.	

МОДУЛЬ 4

Банк вопросов

1 Численность и воспроизводство населения

1. Знание и понимание о численности и воспроизводстве населения

1. Современная численность населения РФ по сравнению с началом 20 века
 - а) уменьшилась б) увеличилась в) не изменилась
2. Разница между рождаемостью и смертностью, это
 - а) естественный прирост б) механический прирост в) промилле
3. По данным переписи численность населения РФ равна
 - а) 145 млн. чел. б) 137 млн. чел. в) 154 млн. чел.
4. Демографический взрыв - это
 1. резкое снижение численности населения
 2. увеличение численности населения за счёт внешних миграций
 3. резкое увеличение численности населения
 4. уменьшение численности населения за счёт эмиграции
5. Как называется наука о населении
 1. историография
 2. демография
 3. этнография
 4. томография
6. Естественный прирост населения - это
 - А) отношение рождаемости к смертности
 - Б) разница между рождаемостью и смертностью
 - В) разница между числом въехавших и выехавших из страны
 - Г) отношение въехавших в страну к числу родившихся за год
7. К показателям естественного движения населения относится
 1. миграционная подвижность
 2. уровень развития здравоохранения

3. доля городского населения
 4. рождаемость
8. Современная демографическая ситуация в России характеризуется
 - А) высоким естественным приростом
 - Б) низким естественным приростом
 - В) нулевым естественным приростом
 - Г) отрицательным естественным приростом
 9. Постоянное возобновление и смена поколений за счёт процессов рождаемости и смертности называется
 - 1) воспроизводством населения
 - 2) естественным приростом
 - 3) механическим приростом
 - 4) демографическим взрывом
 10. Современный тип воспроизводства населения в России характеризуется
 - 1) низкой рождаемостью, низкой смертностью, низким естественным приростом
 - 2) низкой рождаемостью, высокой смертностью, низким естественным приростом
 - 3) высокой рождаемостью, низкой смертностью, высоким естественным приростом
 - 4) высокой рождаемостью, высокой смертностью, высоким естественным приростом
 11. Средняя ожидаемая продолжительность жизни в России
 - 1) выше, чем в Германии и Японии
 - 2) выше, чем в Германии, но ниже, чем в Японии
 - 3) ниже, чем в Германии, но выше, чем в Японии
 - 4) ниже, чем в Германии и Японии
 12. Что такое рождаемость?
 - а) число родившихся на 100 жителей за год
 - б) число родившихся на 1000 жителей за год
 - в) резкое увеличение прироста населения
 - г) разница между числом родившихся и числом умерших
 14. При современном типе воспроизводства характерны:
 - а) высокая нерегулируемая рождаемость и снижение смертности
 - б) высокая нерегулируемая рождаемость и низкая продолжительность жизни
 - в) регулируемая невысокая рождаемость и снижение смертности
 - г) регулируемая невысокая рождаемость и низкая продолжительность жизни

2. Выполнять простейший анализ карта по теме

1. В какой из республик РФ наблюдается высокий естественный прирост
 - А) Карелия
 - Б) Якутия
 - В) Дагестан
 - Г) Коми
2. Соотношение мужчин и женщин в России
 - А. одинаково
 - Б. мужчин больше, чем женщин

В. женщин больше, чем мужчин

3. Наибольшая доля детей в возрастной структуре населения характерна для
 - 1) Европейского Севера
 - 2) Европейского Юга
 - 3) Северо-Западной России
 - 4) Центральной России

4. В какой из перечисленных республик доля детей в возрасте до 15 лет в возрастной структуре населения наибольшая?
 - 1) Карелия
 - 2) Коми
 - 3) Дагестан
 - 4) Мордовия

5. Какой из перечисленных городов России имеют наибольшую численность населения?
 - 1) Новосибирск
 - 2) Томск
 - 3) Петрозаводск
 - 4) Ставрополь

6. Какой из перечисленных городов России имеют наибольшую численность населения?
 - 1) Комсомольск-на-Амуре
 - 2) Белгород
 - 3) Волгоград
 - 4) Оренбург

7. Какой из перечисленных городов России имеют наибольшую численность населения?
 - 1) Ижевск
 - 2) Оренбург
 - 3) Магнитогорск
 - 4) Омск

8. Какой из перечисленных городов России имеют наибольшую численность населения?
 - 1) Екатеринбург
 - 2) Томск
 - 3) Кемерово
 - 4) Тюмень

9. Какой из перечисленных городов России имеют наибольшую численность населения?
 - 1) Челябинск
 - 2) Нижний Тагил
 - 3) Тюмень
 - 4) Астрахань

10. Какой из перечисленных городов России имеют наибольшую численность населения?
 - 1) Самара
 - 2) Мурманск
 - 3) Ижевск
 - 4) Хабаровск

3. Извлекать, интерпретировать и преобразовывать информацию, представленную в таблице

1. На численность населения субъектов Российской Федерации заметное влияние оказывают как естественное движение населения, так и миграции. Проанализировав данные таблицы, определите величину миграционного прироста (убыли) населения Пермского края в 2011 г. Запишите решение задачи.

Численность и естественный прирост населения Пермского края

Показатель	2010 г.	2011 г.	2012 г.
Численность постоянного населения на 1 января, человек	2 641 016	2 633 550	2 631 073
Среднегодовая численность населения, человек	2 637 570	2 632 312	2 633 176
Естественный прирост населения, человек, значение показателя за год	-3067	-1670	1478

2. На численность населения субъектов Российской Федерации заметное влияние оказывают как естественное движение населения, так и миграции. Проанализировав данные таблицы, определите величину миграционного прироста (убыли) населения Курской области в 2013 г. Запишите решение задачи.

Численность и естественный прирост населения Курской области

Показатель	2012 г.	2013 г.	2014 г.
Численность постоянного населения на 1 января, человек	1 121 563	1 119 170	1 118 915
Среднегодовая численность населения, человек	1 120 366	1 119 089	1 118 147
Естественный прирост населения, человек, значение показателя за год	-5225	-5021	-5439

3. На численность населения субъектов Российской Федерации заметное влияние оказывают как естественное движение населения, так и миграции. Проанализировав данные таблицы, определите величину миграционного прироста (убыли) населения Омской области в 2009 г. Запишите решение задачи.

Численность и естественный прирост населения Омской области

Показатель	2008 г.	2009 г.	2010 г.
Численность постоянного населения на 1 января, человек	2 017 997	2 014 135	2 012 092
Среднегодовая численность населения, человек	2 016 066	2 013 113	нет данных
Естественный прирост населения, человек, значение показателя за год	-3769	-1703	-1301

человек, значение показателя за год

4. На численность населения субъектов Российской Федерации заметное влияние оказывают как естественное движение населения, так и миграции. Проанализировав данные таблицы, определите величину миграционного прироста (убыли) населения Томской области в 2009 г. Запишите решение задачи.

Численность и естественный прирост населения Томской области			
Показатель	2008 г.	2009 г.	2010 г.
Численность постоянного населения на 1 января, человек	1 034 985	1 038 508	1 043 759
Среднегодовая численность населения, человек	1 036 747	1 041 134	нет данных
Естественный прирост населения, человек, значение показателя за год	-45	332	430

5. На численность населения субъектов Российской Федерации заметное влияние оказывают как естественное движение населения, так и миграции. Проанализировав данные таблицы, определите величину миграционного прироста (убыли) населения Иркутской области в 2009 г. Запишите решение задачи.

Численность и естественный прирост населения Иркутской области			
Показатель	2008 г.	2009 г.	2010 г.
Численность постоянного населения на 1 января, человек	2 507 676	2 505 577	2 502 691
Среднегодовая численность населения, человек	2 506 626	2 504 134	нет данных
Естественный прирост населения, человек, значение показателя за год	2189	3175	1830

2. Этнический и языковой состав населения России

1. Распознавать и читать объекты на карте

- Какой народ не имеет своего национально-территориального образования
 - аварцы
 - якуты
 - долганы
- В азиатской части России проживают
 - карелы
 - коми
 - чуваши
 - буряты

3. Какой из народов компактно проживает в европейской части России?
- 1) тувинцы
 - 2) хакасы
 - 3) калмыки
 - 4) буряты
4. Какой из народов компактно проживает на территории Европейского Севера?
- 1) коряки и чукчи
 - 2) эвенки и буряты
 - 3) коми и карелы
 - 4) хакасы и тувинцы
5. Районы компактного проживания какого из народов Севера находятся и в европейской, и в азиатской частях страны?
- 1) чукчи
 - 2) ненцы
 - 3) саамы (лопари)
 - 4) якуты
6. Какой из народов относится к коренному населению Северного Кавказа?
- 1) карелы
 - 2) калмыки
 - 3) кабардинцы
 - 4) тувинцы
7. Укажите народы, говорящие на языках финно-угорской группы
1. удмурты, карелы, коми
 2. чувашы, татары, башкирцы
 3. чеченцы, карачаевцы, аварцы
8. Какой из перечисленных народов относится к числу коренных народов Европейского Севера России?
- 1) коми
 - 2) башкиры
 - 3) чувашы
 - 4) удмурты
9. К традиционным занятиям какого из перечисленных народов России относится оленеводство?
- 1) ненцы
 - 2) чувашы
 - 3) башкиры
 - 4) кабардинцы
10. Чум — конический шатёр, обтянутый покрывалами, сшитыми из оленьих шкур. Чум приспособлен к кочевому образу жизни в суровых климатических условиях. У какого из перечисленных народов чум является традиционным жилищем?
- 1) марийцы
 - 2) башкиры
 - 3) эвены
 - 4) калмыки

2. Знание /понимание о этническом и языковом составе населения России

1. К индоевропейской языковой семье относятся
- а) казахи
 - б) русские
 - в) якуты

2. К славянской языковой группе народов относятся
А) буряты Б) русские
В) алтайцы Г) якуты
3. К народам Северного Кавказа относятся
1. башкиры
2. чеченцы
3. карелы
4. удмурты
4. Наименьшим по численности народом являются
1. татары
2. русские
3. ненцы
4. чувашы
5. На языках какой языковой семьи разговаривает большая часть населения России?
1) алтайской
2) индоевропейской
3) уральской
4) кавказской
6. Количество языков, на которых разговаривают около 160 народов, проживающих на территории России,
1) 50 3) 150
2) 100 4) 200
7. Народ, по названию которого называется республика.
а) титульный
б) главный
в) алтайский
г) коренной
8. К традиционным занятиям какого из перечисленных народов России относятся резьба по кости морского зверя и рыболовство?
1) татары
2) чукчи
3) буряты
4) карачаевцы
9. К традиционным занятиям какого из перечисленных народов России относится пастбищное животноводство (овцеводство, коневодство и верблюдоводство)?
1) карелы
2) марийцы
3) коми
4) калмыки
10. К малым народностям России, исповедующим языческие верования, относятся
А. Карелы В. Мордва
Б. Эвенки Г. Буряты
11. Государственный язык России относится к языковой семье
А. Северокавказской В. Уральско-юкагирекая,

Б. Индоевропейской

Г. Алтайской

3. Овладение процедурами простейшего чтения и анализа карт

1. Установите соответствие

Соотношение русского и коренного населения	Республики
1. Преобладает русское население	А) Дагестан
2. Преобладает коренное население	Б) Карелия
3. Примерно равное соотношение коренного и русского населения	В) Татарстан

2. Установите соответствие

Языковая семья	Входящие в неё
1. Индоевропейская	А) Татары, чувашы, башкиры, якуты
2. Алтайская	Б) Ингуши, аварцы, черкесы
3. Уральская	В) Русские, белорусы, украинцы
	Г) Удмурты, мордва, карелы, коми

3. Распределите народы, проживающие на территории Росс в порядке уменьшения их численности.

А) Башкир

Б) Чувашы

В) Татары

Г) Русские

4. Установите соответствие между народом России и языковой семьей, к которой этот народ относится

НАРОД

ЯЗЫКОВАЯ СЕМЬЯ

1) башкиры

А) индоевропейская

2) кабардинцы

Б) алтайская

3) карелы

В) северо-кавказская

Г) уральская

5. Установите соответствие между народом России и языковой семьей, к которой этот народ относится.

НАРОД	ЯЗЫКОВАЯ СЕМЬЯ
1) ингуши	А) алтайская
2) коми	Б) индоевропейская
3) буряты	В) уральско-юкагирская
	Г) северокавказская

3. География основных религий

1. Знание /понимание о географии религий населения России

1. Исповедуют православие
а) русские б) дагестанцы в) татары
2. Наибольшее число детей традиционно характерно для семей, члены которых исповедуют
1) христианство 3) иудаизм
2) ислам 4) буддизм
3. Религия, занимающая ведущее место по количеству верующих в России
А) ислам
Б) православие
В) буддизм
Г) шаманизм
4. Большую часть (9/ю) верующих нашей страны составляют приверженцы
1) христианства 3) индуизма
2) ислама 4) буддизма
5. Какая религия в России имеет сплошной ареал распространения
А- ислам Б- традиционные верования
В- буддизм Г- православие

2. Распознавать и читать объекты на карте

1. Народ, живущий в европейской части России, исповедующий буддизм
1) чуваша
2) калмыки
3) татары
4) буряты
2. Значительная часть верующих исповедует ислам в
А) Карелия
Б) Чечне
В) Калмыкии
Г) Якутии
3. В среднем течении какой реки проживают народы, большинство верующего населения

3. Укажите три народа, большинство верующих которых исповедуют буддизм. Запишите в таблицу цифры, под которыми указаны эти народы.

1) калмыки	4) тувинцы
2) буряты	5) чувашаи
3) марийцы	6) якуты

4. Укажите три народа, большинство верующих которых исповедуют ислам. Запишите в таблицу цифры, под которыми указаны эти народы.

- 1) калмыки
- 2) татары
- 3) марийцы
- 4) башкиры
- 5) чувашаи
- 6) кабардинцы

5. Установите соответствие между религией и народом России, большинство верующих которого исповедует её.

РЕЛИГИЯ	НАРОД
1) иудаизм	А) тувинцы
2) буддизм	Б) карелы
3) ислам	В) евреи
	Г) кабардинцы

4. Городское и сельское население страны

1. Знание /понимание о городском и сельском населении России

1. Процесс роста доли городского населения, повышения роли городов и распространения городского образа жизни- это

- | | |
|----------------|--------------|
| А) урбанизация | Б) миграция |
| В) эмансипация | Г) адаптация |

2. В России к категории городов могут быть отнесены пункты с населением не менее

- | | |
|--------------------|--------------------|
| А) 7 тыс. человек | Б) 3 тыс. человек |
| В) 12 тыс. человек | Г) 30 тыс. человек |

3. Крупнейшим городом из перечисленных является

- а) Оренбург
- б) Сургут
- в) Магадан

4. Соотношение городского и сельского населения в России составляет

- | | |
|----------------|----------------|
| 1) 25% : 75% | 3) 73 % : 27 % |
| 2) 50 % : 50 % | 4) 87 % : 13 % |

5. Почти половина населения России проживает в городах

- | | |
|------------|---------------|
| 1) малых | 3) больших |
| 2) средних | 4) крупнейших |

6. Какой город является наукоградом?

- а) Москва
- б) Санкт-Петербург
- в) Красноград
- г) Зеленоград

7. Какой статус имеет город Сочи

- А- наукоград
- Б- город – курорт
- В- специализированный туристический центр
- Г- закрытое административно- территориальное образование

8. Какой показатель является главным признаком урбанизации

- А- рост количества городов с населением более 1 млн. человек
- Б- рост численности городского населения
- В- появление мегалополисов
- Г- уменьшение количества сельских населенных пунктов

9. Центры огромных скоплений городов

- а) город-миллионер
- б) городская агломерация
- в) мегаполис
- г) городское поселение

2. Распознавать и читать объекты на карте

1. Укажите город-порт

- а) Ухта
- б) Мурманск
- в) Екатеринбург

2. Выберите субъект РФ с самой высокой долей городского населения

- А) Калмыкия
- Б) Московская область
- В) Магаданская область
- Г) Мурманская область

3. Крупнейшей городской агломерацией России является

- А) Московская
- Б) Самарская
- В) Нижегородская
- Г) Новосибирская

4. Какой из перечисленных городов является наиболее крупным по численности своего населения?

- 1) Владивосток
- 2) Красноярск
- 3) Новосибирск
- 4) Благовещенск

5. Самым восточным городом-миллионником в России является

- 1) Новосибирск
- 2) Казань
- 3) Санкт-Петербург
- 4) Владивосток

6. Самым северным городом-миллионником в России является

- 1) Санкт-Петербург
- 2) Нижний Новгород
- 3) Нижний Новгород

1. урбанизация
2. миграция
3. рекреация
4. эмансипация

5. В каком из утверждений содержится информация о механическом движении населения России?

- 1) Средняя плотность населения России ниже, чем в большинстве стран мира.
- 2) С начала 1990-х годов многие жители северных и восточных районов стали переселяться в районы Центра и Юга.
- 3) Большинство сельских поселений России не одиночного, а многодворного типа
- 4) В России всего 164 больших города, но в них проживает почти половина населения страны.

6. Механическое движение населения.

- а) эмиграция
- б) иммиграция
- в) миграция
- г) агломерация

7. Какое утверждение верно?

- 1) Миграция населения может вызвать демографический взрыв.
 - 2) Миграция населения может привести к депопуляции.
- а) оба верны
 - б) оба неверны
 - в) 1 - верно, 2 – неверно
 - г) 1 - неверно, 2 – верно

8. Какое утверждение верно?

1. Миграцию вызывает освоение районов, богатых природными ресурсами.
2. Миграцию вызывает безработица, нищета, дискриминация в оплате труда и др.

- а) оба верны
- б) оба неверны
- в) 1 - верно, 2 – неверно
- г) 1 - неверно, 2 - верно

9. В каком из высказываний содержится информация о миграциях населения? По данным Всероссийской переписи населения 2010 г., численность постоянного населения России составляла 142,9 млн человек.

1. В 2010 г. в России из городов в сельские населённые пункты прибыло 546 582 человека, что на 62 511 человек меньше, чем в 2009 г.
2. По данным Всероссийской переписи населения 2010 г., численность женщин превышала численность мужчин на 10,8 млн человек, или на 16,2%.
3. В 2010 г. население России проживало в 2386 городских населённых пунктах (городах и посёлках городского типа) и 134 тыс. сельских населённых пунктах.

10. Примером внутренних миграций населения России является:

- а) отъезд специалистов на стажировку за рубеж
- б) переезд семей военнослужащих из Забайкалья в Псков
- в) приезд в Россию русских беженцев из Таджикистана

г) возвращение на родину потомков русских эмигрантов

11. Выберите регион, в котором наблюдается миграционный прирост населения

- А) Республика Саха (Якутия)
- Б) Московская область
- В) Магаданская область
- Г) Хабаровский край

12. Выберите регион, в котором наблюдается миграционный отток населения

- А) Московская область
- Б) Краснодарский край
- В) Магаданская область
- Г) Ленинградская область

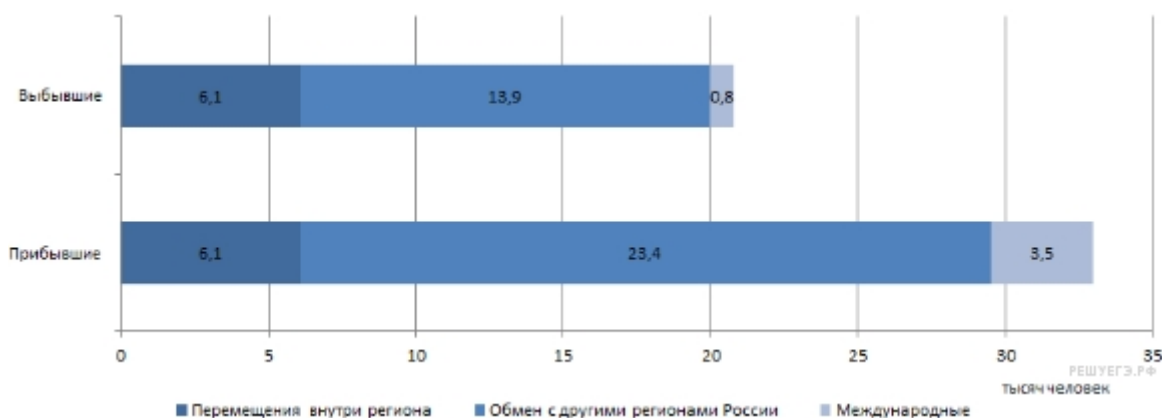
13. Массовый отток населения характерен для

- 1. Краснодарского края
- 2. Ростовской области
- 3) Мурманской области
- 4) Республики Татарстан

2. Извлекать, интерпретировать и преобразовывать информацию, представленную в диаграммах

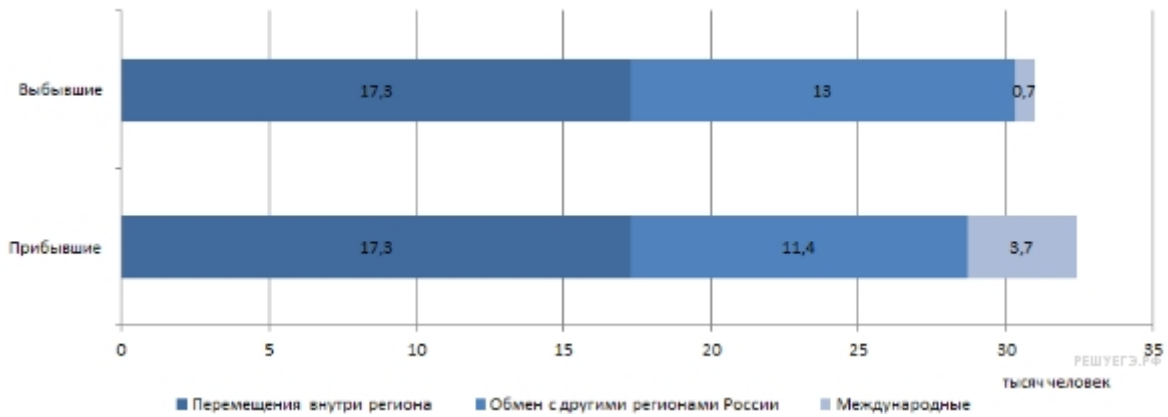
1. Используя данные диаграммы, определите величину миграционного прироста населения Ленинградской области в 2006 г. Ответ запишите цифрами.

Распределение числа мигрантов в Ленинградской области по основным потокам передвижения в 2006 г.



2. Используя данные диаграммы, определите величину абсолютного миграционного прироста населения Воронежской области в 2006 г. Данные диаграммы — в промилле. Ответ запишите цифрами.

Распределение числа мигрантов в Воронежской области по основным потокам передвижения в 2006 г.



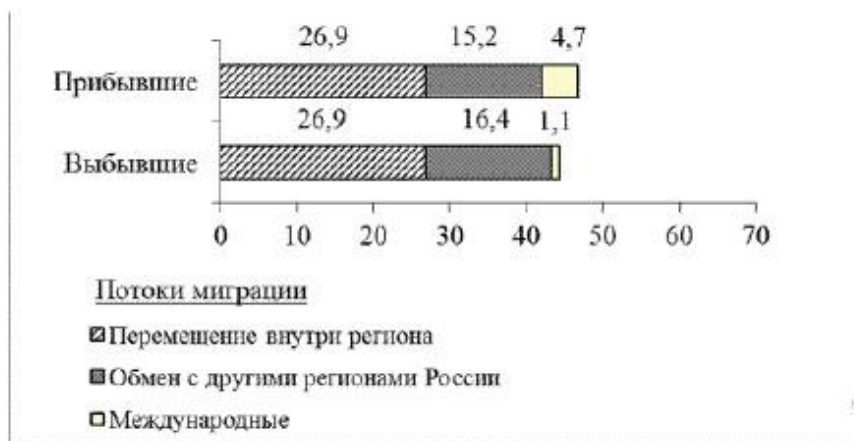
3. Используя данные диаграмм, определите величину миграционного прироста населения Приморского края в 2010 г. Ответ запишите цифрами.

Распределение числа мигрантов по основным потокам передвижения, 2010 г. (тыс. человек)



4. Используя данные диаграмм, определите величину миграционного прироста населения Челябинской области в 2010 г. Ответ запишите цифрами.

**Распределение числа мигрантов по основным потокам передвижения,
2010 г. (тыс. человек)**



5. Используя данные диаграмм, определите величину миграционного прироста населения Ханты-Мансийского АО в 2010 г. Ответ запишите цифрами.



6. Размещение населения России

1. Знание /понимание о размещении населения России

- Укажите природную зону, где будут располагаться самые крупные села и деревни
 - степь
 - тундра
 - тайга
- Средняя плотность населения в России составляет (чел. на 1 км²)

1) 0,5	3) 48
2) 8,5	4) 23
- В каких странах средняя плотность населения ниже, чем в России?

1) США и Канада	3) Австралия и Бразилия
2) Канада и Австралия	4) Бразилия и Китай
- Для какой части территории РФ характерна наиболее низкая плотность населения?
 - северо-западной

2. северо-восточной
 3. юго-западной
 4. юго-восточной
5. Основная зона расселения и хозяйственного освоения территории России соответствует районам со следующими природными условиями для жизни человека
1. наиболее благоприятными
 2. наиболее благоприятными и неблагоприятными
 3. благоприятными и неблагоприятными
 4. неблагоприятными и неблагоприятными
6. Выберите верное утверждение:
- а) В России низкая плотность населения
 - б) в России большая часть территории имеет плотность 50 чел./кв. км
 - в) большая часть населения России проживает в европейской части России

2. Распознавать и читать объекты на карте

1. В каком из субъектов РФ плотность населения наибольшая
 - а) Московская обл.
 - б) Свердловская обл.
 - в) Чукотка
2. Укажите субъект федерации, через который проходит главная полоса расселения
 - а) Свердловская обл.
 - б) Ненецкий АО
 - в) Бурятия
3. Укажите регион, через который проходит Главная полоса расселения
 - А) Европейский Север
 - Б) Центральная Россия
 - В) Север Дальнего Востока
 - Г) Север Восточной Сибири
4. Наименьшая плотность населения в области
 - А) Ростовской
 - Б) Владимирской
 - В) Магаданской
 - Г) Московской
5. Какая из перечисленных областей характеризуется самой высокой плотностью населения?
 - 1) Белгородская
 - 2) Мурманская
 - 3) Амурская
 - 4) Вологодская
6. Какой из городов расположен в пределах главной полосы расселения?
 - 1) Архангельск
 - 2) Омск
 - 3) Якутск
 - 4) Петропавловск-Камчатский
7. В каком из перечисленных регионов России средняя плотность населения наибольшая?

- 1) Магаданская область
 - 2) Краснодарский край
 - 3) Архангельская область
 - 4) Республика Карелия
8. В каком из перечисленных регионов России средняя плотность населения наибольшая?
- 1) Ростовская область
 - 2) Мурманская область
 - 3) Республика Коми
 - 4) Магаданская область
9. В каком из перечисленных регионов России средняя плотность населения наибольшая?
- 1) Красноярский край
 - 2) Хабаровский край
 - 3) Самарская область
 - 4) Республика Бурятия
10. В какой из перечисленных областей средняя плотность населения наименьшая?
- 1) Мурманская
 - 2) Свердловская
 - 3) Новосибирская
 - 4) Кемеровская
11. В какой из перечисленных областей средняя плотность населения наименьшая?
- 1) Архангельская
 - 2) Нижегородская
 - 3) Новосибирская
 - 4) Саратовская
12. В каком из перечисленных регионов России средняя плотность населения наибольшая?
- 1) Забайкальский край
 - 2) Ямало-Ненецкий АО
 - 3) Республика Карелия
 - 4) Ставропольский край

7. Трудовые ресурсы

1. Знание /понимание о трудовых ресурсах России

1. Какое определение рынка труда соответствует действительности
 - 1) соотношение спроса на рабочую силу и её предложения
 - 2) неработающее трудоспособное население
 - 3) набор работников на вновь открывающееся предприятие
 - 4) биржа труда (бюро по трудоустройству)
2. В какой из перечисленных возрастных групп населения России численность женского населения наиболее сильно преобладает над мужским?
 - 1) 30~40 лет
 - 2) 40-50 лет
 - 3) 50—60 лет
 - 4) 60-70 лет

3. Часть населения страны, включающая занятых в хозяйстве и безработных, называется
- 1) экономически активным населением
 - 2) населением трудоспособного возраста.
 - 3) трудовыми ресурсами
 - 4) трудовым потенциалом
4. От чего не зависит уровень безработицы в стране (в регионе)?
- а) уровня зарплаты
 - б) уровня естественного прироста
 - в) структуры хозяйства
 - г) количества трудоспособного населения
5. Рынок труда - это ...
- а) спрос на рабочую силу
 - в) соотношение спроса на рабочую силу и её предложения
 - б) предложение рабочей силы
 - г) цена на рабочую силу
6. Какие утверждения верны?
1. Полная занятость и отсутствие безработицы - это благо для граждан и основная обязанность государства.
 2. Полная занятость - это один из главных тормозов изменения структуры хозяйства.
- а) оба верны
 - б) оба неверны
 - в) 1 - верно, 2 – неверно
 - г) 1 - неверно, 2 – верно
7. Трудовыми ресурсами называется ...
- а) всё население в трудоспособном возрасте;
 - б) экономически активное население;
 - в) население способное работать в хозяйстве страны;
 - г) все мужчины в возрасте от 16 до 59 лет.
8. Максимальная безработица в России наблюдается в районах
- А- высокого естественного прироста населения
 - Б- преобладания женского населения над мужским
 - В- добычи полезных ископаемых
 - Г- пограничных со странами НАТО
9. Укажите трудоспособный возраст в России
- А.от 16 до 54 лет; от 16 до 59 лет
 - Б. от 18 до 55 лет; от 18 до 60 лет

