

Материалы
для подготовки к тесту по истории 7 класс М-4
Тема: «Россия при первых Романовых».
профильный уровень

Тема	Содержание
Россия при первых Романовых: изменения в государственном управлении.	Первые Романовы. Изменение положения Земских соборов, Боярской думы. Приказная система при Алексее Михайловиче. Местное управление в XVII веке. Реформа армии. Соборное уложение 1649 года.
«Бунташный век».	Причины народных выступлений. Соляной бунт. Восстания в Пскове и Новгороде. Медный бунт. Восстание Степана Разина.
Внешняя политика России в XVII в.	«Посольский обычай». Противостояние России и Речи Посполитой в XVII веке. Борьба со Швецией. Россия и страны исламского мира. Отношения России с Китаем.

Понятия: Бюрократия, воевода, драгуны, полки нового строя, рейтары, Соборное уложение, поход за «зипунами», коалиция, ратификация, голытьба, реестровые казаки

Персоналии: А.С.Матвеев, М.Б.Шеин, А.Л. Ордин-Нащокин, И.А.Хованский, Г.Г.Ромодановский, В.В. Голицын.

Даты: 1613-1645 гг, 1645-1676 гг, 1617г, 1618 г, 1632-1634 гг, 1654-1667 гг, 1656-1661 гг, 1676-1681 гг, 1689 г, 1649 г, 1648-1653 гг, 1653-1655 гг, 1666-1667 гг.

Материал для подготовки:

История России 7 класс под редакцией А.В.Торкунова Москва «Просвещение», 2017г. Часть 2.

Семинар:

Освоение Сибири и Дальнего Востока в XVII в.

1. Семен Дежнев
2. Василий Поярков
3. Ерофей Хабаров
4. Осада Албазинского острога
5. Нерчинский договор
6. Владимир Атласов

При подготовке необходимо составить план выступления, презентацию, 5 вопросов теста для закрепления информации.

Требования к выступлению:

1. информационная насыщенность,
2. трёхчастная структура: задача выступления- вступление факты, доказывающие точку зрения заключение- вывод
3. наличие презентации (не более 5 слайдов, сочетание текста и визуального ряда)
Текст выступления не должен дублировать текст презентации.
4. речевая грамотность.

Для того, чтобы получить допуск к тесту учащийся должен выполнить следующие виды работ:

- оформить лекционную тетрадь;

- работа с документом;
- картографический практикум (контурная карта);
- понятийный диктант;
- выступление на семинарском занятии;
- конспект для подготовки к семинарскому занятию

Выполнение каждого вида работ подтверждается отметкой учителя в зачётном листе и допуском к итоговому тесту.

Банк заданий

Задание №1	
Установите хронологическую последовательность	
Укажите порядок следования всех 4 вариантов ответа:	
1)	принятие Соборного уложения
2)	"Вечный мир" с Речью Посполитой
3)	подписание Деулинского перемирия
4)	поход В.Пояркова на Амур

Задание №2	
Установите хронологическую последовательность.	
Укажите порядок следования всех 4 вариантов ответа:	
1)	Подписание Нерчинского договора с Китаем
2)	заключение Столбовского мирного договора
3)	заключение Поляновского мирного договора
4)	заключение Бахчисарайского мирного договора

Задание №3			
Соотнесите события XVII века и их даты.			
Укажите соответствие для всех 4 вариантов ответа:			
1)	Соборное уложение, свод законов Российского государства	1)	1652 г.
2)	Соляной бунт	2)	1670 г.
3)	Начало 2 этапа восстания С.Разина	3)	1648 г.
4)	Медный бунт	4)	1649 г.
		5)	1662 г.

Задание №4			
Соотнесите события и их даты			
Укажите соответствие для всех 4 вариантов ответа:			
1)	Русско- польская война	1)	1632-1634 гг
2)	Русско- турецкая война	2)	1656-1661 гг
3)	Русско- шведская война	3)	1633-1648 гг
4)	Восстание под предводительством С.Разина	4)	1676-1681 г.

		5)	1670-1671 гг
--	--	----	--------------

Задание №5

Соотнесите события и их даты

Укажите соответствие для всех 4 вариантов ответа:

1)	Деулинское перемирие	1)	1618 г.
2)	Андрусовское перемирие	2)	1686 г.
3)	"Вечный мир" с Речью Посполитой	3)	1667 г.
4)	Кардисский мирный договор	4)	1661г.
		5)	1632 г.

Задание №6

Соотнесите имена монархов и даты их правления

Укажите соответствие для всех 4 вариантов ответа:

1)	Михаил Романова	1)	1598-1605 г.г.
2)	Алексей Михайлович	2)	1613-1645 гг
3)	Федор Алексеевич	3)	1645-1676 гг.
4)	Борис Годунов	4)	1610-1613 г.г
		5)	1676-1682 г.г.

Задание №7

Установите соответствие между событиями и датами.

Укажите соответствие для всех 4 вариантов ответа:

1)	принятие Соборного Уложения	1)	1648 г
2)	Медный бунт	2)	1649 г
3)	первый этап восстания Степана Разина	3)	1662 г
4)	Соляной бунт	4)	1667-1669 г

Задание №8

Установите соответствие между событиями и датами.

Укажите соответствие для всех 4 вариантов ответа:

1)	Соляной бунт	1)	1648 г
2)	Взятие Царицына войсками Степана Разина	2)	1649 г
3)	принятие Соборного уложения	3)	1662 г
4)	Медный бунт	4)	1670 г

Задание №9

Отец Михаила Романова, фактически соправитель своего сына после возвращения из польского плена, был

Выберите один из 4 вариантов ответа:

- | | |
|----|------------------------------------|
| 1) | патриархом |
| 2) | председателем Государственной думы |
| 3) | главой Земского собора |
| 4) | главой Посольского приказа |

Задание №10

Какое прозвание было у царя Алексея Михайловича

Выберите один из 4 вариантов ответа:

- | | |
|----|----------------|
| 1) | Благословенный |
| 2) | Смиренный |
| 3) | Великий |
| 4) | Тишайший |

Задание №11

Кто был фактическим соправителем первого царя из династии Романовых Михаила

Выберите один из 4 вариантов ответа:

- | | |
|----|-------------------------------|
| 1) | патриарх Никон |
| 2) | патриарх Филарет |
| 3) | польский король Сигизмунд III |
| 4) | Василий Иванович Шуйский |

Задание №12

Вторую жену царя Алексея Михайловича, мать будущего императора Петра I, звали

Выберите один из 4 вариантов ответа:

- | | |
|----|---------------------|
| 1) | Анастасия Романовна |
| 2) | Мария Милославская |
| 3) | Наталья Нарышкина |
| 4) | Софья Романова |

Задание №13

Во время Соляного бунта государь Алексей Михайлович был вынужден отдать на расправу народу главу Земского приказа

Выберите один из 4 вариантов ответа:

- | | |
|----|------------------|
| 1) | Л.Плещеева |
| 2) | Б.Морозова |
| 3) | В.Никитина |
| 4) | А.Ордин-Нащокина |

Задание №14

Укажите соратника Степана Разина по восстанию, атамана донских казаков	
Выберите один из 4 вариантов ответа:	
1)	Филарет Романов
2)	Василий Ус
3)	Афанасий Никитин
4)	Василий Татищев

Задание №15	
Отметьте государственного деятеля, который возглавлял посольский приказ в первой половине 1670-х годов и занимался вопросами внешней политики Российского государства	
Выберите один из 4 вариантов ответа:	
1)	Борис Морозов
2)	Артамон Матвеев
3)	Леонтий Плещеев
4)	Ерофей Хабаров

Задание №16	
Как сложилась судьба боярина Б Морозова в ходе Соляного бунта	
Выберите один из 4 вариантов ответа:	
1)	он был отдан народу и казнен
2)	он стал регентом при царе
3)	он уехал за границу
4)	он был временно выслан из Москвы

Задание №17	
О каком историческом деятеле говорил Н.И.Костомаров: «Человек с твердым характером, тотчас захватил в свои руки власть и имел большое влияние, не только на духовные, но и на светские дела»	
Выберите один из 4 вариантов ответа:	
1)	Ф.Мстиславский
2)	Филарет
3)	Гермоген
4)	Д.Пожарский

Задание №18	
Новой военно-административной единицей, объединявшей несколько уездов в XVII веке, стали	
Выберите один из 4 вариантов ответа:	

1)	разряды
2)	губернии
3)	области
4)	края

Задание №19

Как назывались документы, которые удостоверяли назначение лица дипломатическим представителем в другую страну

Выберите один из 4 вариантов ответа:

1)	паспорта
2)	верительные грамоты
3)	удостоверения личности
4)	секретные депеши

Задание №20

Как назывался изданный в 1672 году справочник, который содержал перечень титулов российских и иностранных правящих особ и крупных политических деятелей

Выберите один из 4 вариантов ответа:

1)	Титулярный перечень
2)	Табель о рангах
3)	Царский титулярник
4)	Чиновничий титулярник

Задание №21

Глава военного и гражданского управления в городе- это

Выберите один из 4 вариантов ответа:

1)	драгун
2)	рейтар
3)	воевода
4)	посадник

Задание №22

Совещательный орган власти при царе- это

Выберите один из 4 вариантов ответа:

1)	Боярская дума
2)	приказ
3)	Земский собор
4)	Воевода

Задание №23

Как называлось привилегированное сословие- землевладельцы, дворяне- в Речи Посполитой

Выберите один из 4 вариантов ответа:	
1)	казаки
2)	рядовые
3)	шляхта
4)	голытьба

Задание №24	
Коалиция-это	
Выберите один из 4 вариантов ответа:	
1)	союз нескольких держав для противодействия какому-либо государству
2)	окончательное утверждение международного договора высшим органом государства или его главой
3)	незаконное присвоение себе чужого имени, звания с целью обмана
4)	индивидуальное или письменное прошение

Задание №25	
Налог, предусматривающий сбор 1/5 части всех доходов с пользу государственной казны, собирався с 1613 г. в третье воскресенье после Пасхи	
Ответ запишите со строчной буквы в им. п.	

Задание №26	
Новшеством в формировании армии XVII века стало появление особых отрядов, которые называли	
Выберите один из 4 вариантов ответа:	
1)	иностранными отрядами
2)	иностранными полками
3)	полками нового строя
4)	личной кавалерией государя

Задание №27	
Соборное уложение в отношении помещичьих крестьян вводило	
Выберите один из 4 вариантов ответа:	
1)	отмену урочных лет
2)	определение срока розыска беглых крестьян
3)	право крестьян жаловаться на своих хозяев в случае их произвола
4)	определение размера барщины и оброка

Задание №28	
Понятие " государственное преступление", введенное в Соборном уложении фиксировало нарушение прав такой категории населения, как	
Выберите один из 4 вариантов ответа:	
1)	жителей города

2)	государственных служащих
3)	военных всех разрядов
4)	государя и церковных служащих

Задание №29

Соборное уложение в отношении крепостных крестьян ввело такое новшество, как

Выберите один из 4 вариантов ответа:

1)	строго определенный размер оброка
2)	количество дней, которые крестьянин должен был отрабатывать на барщине
3)	бессрочный розыск беглых крестьян
4)	освобождение от всех повинностей в случае государственной награды

Задание №30

Первый этап народного выступления под предводительством Степана Разина историки называют

Выберите один из 4 вариантов ответа:

1)	охота на волков
2)	поход за золотом
3)	поход за зипунами
4)	переход через Альпы

Задание №31

Главными административными единицами в XVII веке, численность которых была выше 250, были

Выберите один из 4 вариантов ответа:

1)	губернии
2)	уезды
3)	края
4)	округа

Задание №32

А.С.Матвеев, возглавлявший Посольский приказ, главной задачей российской внешней политики считал

Выберите один из 4 вариантов ответа:

1)	открытие Северной Америки
2)	отправление экспедиции к Австралии
3)	присоединение к России Правобережной Украины
4)	завоевание выхода к Каспийскому морю

Задание №33

Назовите категорию населения, которая чаще других участвовала в бунтах, восстаниях

Выберите один из 4 вариантов ответа:

1)	бояре
2)	дворяне
3)	священники
4)	крестьяне

Задание №34

Укажите государство, которое распространяло свое влияние на территорию Восточной Европы, являлось общим врагом для России и Речи Посполитой в XVII веке

Выберите один из 4 вариантов ответа:

1)	Китай
2)	Османская империя
3)	Монгольская империя
4)	Япония

Задание №35

" Повесть об Азовском осадном сидении" посвящена

Выберите один из 4 вариантов ответа:

1)	передаче крепости Азов от Османской империи России
2)	захвату донскими казаками крепости Азов
3)	безуспешной попытке донских казаков войти в крепость Азов
4)	присоединению к территории России побережья Азовского моря

Задание №36

История какой битвы связана с русско-турецкой войной 1676-1681 годов

Выберите один из 4 вариантов ответа:

1)	осада Чигирина
2)	битва под Нарвой
3)	взятие Белгорода
4)	осада Измаила

Задание №37

Первый российско-китайский договор, который установил границы между державами был подписан в

Выберите один из 4 вариантов ответа:

1)	Москве
2)	Хабаровске
3)	Владивостоке
4)	Нерчинске

Задание №38

Против какого государства князь Василий Голицын возглавил военные походы в 1687 и 1689 годах

Выберите один из 4 вариантов ответа:

- | | |
|----|-------------------|
| 1) | Османской империи |
| 2) | Китая |
| 3) | Крымского ханства |
| 4) | Японии |

Задание №39

Какой приказ, ранее не существовавший приказ, был создан в первые недели царствования Михаила Романова?

Выберите один из 4 вариантов ответа:

- | | |
|----|------------------|
| 1) | Поместный приказ |
| 2) | Разрядный приказ |
| 3) | Разбойный приказ |
| 4) | Казачий приказ |

Задание №40

Одним из первых мероприятий по успокоению страны после Смуты было:

Выберите один из 4 вариантов ответа:

- | | |
|----|--|
| 1) | борьба с казацкой вольницей |
| 2) | введение подушной подати |
| 3) | организация деятельности Земских соборов |
| 4) | отмена кормлений |

Задание №41

Главной внешнеполитической задачей Московского государства в начале царствования Михаила Федоровича было:

Выберите один из 4 вариантов ответа:

- | | |
|----|---|
| 1) | завоевание выхода к Чёрному морю |
| 2) | борьба с Крымским ханством и Османской империей |
| 3) | возвращение Новгорода и Смоленска |
| 4) | налаживание торговых связей с Ганзейским союзом |

Задание №42

События внешней политики на западном направлении в 1617-1618 г.г. связаны с

Выберите один из 4 вариантов ответа:	
1)	Союзом России и Швеции
2)	Претензией Сигизмунда Шна престол
3)	Походом королевича Владислава на Москву
4)	Союзом с Речью Посполитой

Задание №43

Анастасия Романовна Юрьева, ставшая 3 февраля 1547 года женой Ивана IV Михаилу Романову является

Выберите один из 4 вариантов ответа:

1)	тёткой по материнской линии
2)	двоюродной бабушкой
3)	сестрой отца
4)	тёткой по линии отца

Задание №44

Поводом к ссылке сыновей Никиты Романовича в годы правления Б.Годунова было

Выберите один из 4 вариантов ответа:

1)	«дело о латинстве»
2)	обвинения в связях с Крымским ханством
3)	«дело о корнях»
4)	подозрения в связях с английскими купцами

Задание №45

Какое обстоятельство стало решающим для избрания Михаила Романова на царство?

Выберите один из 4 вариантов ответа:

1)	родственники Михаила пострадали от деяний Б.Годунова
2)	кандидатура Романова была предложена Боярской думой
3)	Романовы имели широкие связи с иностранными государствами
4)	Романовы имели близкородственные связи с родом Рюриковичей

Задание №46

Причиной Соляного бунта было

Выберите один из 4 вариантов ответа:

1)	объявление войны с Турцией
2)	введение дополнительного косвенного налога

3)	недовольство отменой местничества
4)	стремление усилить власть воспитателя царя Б.Морозова

Задание №47

Начало Соляного бунта связано с

Выберите один из 4 вариантов ответа:

1)	жалобой москвичей на притеснение чиновников, введение новых налогов
2)	началом русско-турецкой войны
3)	отменой местничества
4)	отменой специального соляного налога

Задание №48

Причиной Медного бунта послужило (-а)

Выберите один из 4 вариантов ответа:

1)	введение бумажных денег вместо медных
2)	отмена хождения медных денег
3)	начало чеканки медных монет вместо серебряных
4)	введение расчетов векселями вместо медных монет

Задание №49

Городские восстания в середине XVII века стали причиной созыва Земского собора и принятия

Выберите один из 4 вариантов ответа:

1)	Судебника
2)	Конституции
3)	Соборного уложения
4)	Наказа

Задание №50

С началом Медного бунта связано(-ы)

Выберите один из 4 вариантов ответа:

1)	обращение делегации горожан к царю в селе Коломенском
2)	подписание письменного воззвания к царю и Земским соборам
3)	призывы собрать народное ополчение
4)	многочисленные челобитные царю на произвол чиновников

Задание №51

Причина проведения денежной реформы середины XVII века, которая привела к Медному бунту

Выберите один из 4 вариантов ответа:

1)	истощение государственной казны
----	---------------------------------

2)	обогащение казны за счет торговли со странами Востока
3)	пополнение казны за счет ввоза золота из Африки
4)	принятие Новоторгового устава

Задание №52

Укажите один из итогов Медного бунта

Выберите один из 4 вариантов ответа:

1)	прекращение хождения медных денег
2)	введение исключительно медных монет в обиход
3)	переход на европейскую валюту
4)	переход на бумажные деньги

Задание №53

Причиной русско-польской войны 1632-1634 годов стало (-л)

Выберите один из 4 вариантов ответа:

1)	прекращение созывов Земских соборов
2)	отказ России от уплаты дани
3)	стремление Польши вернуть на российский престол Лжедмитрия I
4)	стремление России вернуть Смоленские земли

Задание №54

Одним из результатов Смоленской войны 1632- 1634 годов было (-л)

Выберите один из 4 вариантов ответа:

1)	получение Россией выхода в Балтийское море
2)	вхождение Белоруссии и Левобережной Украины в состав России
3)	соглашение Польши на существование Запорожской Сечи
4)	отказ короля Владислава от претензий на российский престол

Задание №55

Что из перечисленного было результатом народных волнений в Москве в 1662 г.?

Выберите один из 4 вариантов ответа:

1)	введение подворной подати
2)	прекращение войны с Речью Посполитой
3)	введение бессрочного сыска крестьян
4)	прекращение чеканки медных денег

Задание №56

Что из перечисленного стало одним из результатов Смоленской войны?

Выберите один из 4 вариантов ответа:

- | | |
|----|--|
| 1) | потеря Россией Смоленска |
| 2) | потеря Россией Черниговской и Северской земель |
| 3) | отказ короля Владислава IV от притязаний на российский престол |
| 4) | потеря Россией побережья Балтийского моря |

Задание №57

Ниже приведён перечень терминов. Все они, за исключением одного, непосредственно связаны с системой управления в России в XVII в. Укажите порядковый номер термина, выпадающего из данного ряда.

1. приказы
2. воеводы
3. Боярская дума
4. местничество
5. Избранная рада

Ответ запишите цифрой.

Задание №58

Ниже приведён перечень терминов. Все они, за исключением одного, обозначают социальные группы, существовавшие в России в XVII в. Укажите порядковый номер термина, выпадающего из данного ряда.

1. бояре
2. холопы
3. ремесленники
4. поляне
5. священники

Задание №59

Установите соответствие между определениями и терминами.

Укажите соответствие для всех 4 вариантов ответа:

1)	органы отраслевого управления в XV-XVII веках	1)	Боярская дума
2)	глава Русской православной церкви	2)	воевода
3)	совещательный орган власти при царе	3)	приказы
4)	глава военного и гражданского управления в городе	4)	патриарх

Задание №60

Установите соответствие между историческими терминами и их определениями.

Укажите соответствие для всех 4 вариантов ответа:

1)	воевода	1)	союз нескольких держав для противодействия какому-либо государству
2)	верительная грамота	2)	окончательное утверждение международного договора высшим органом государства или его главой
3)	коалиция	3)	должностное лицо, возглавлявшее в XVII веке военное и гражданское управление в уездах и городах
4)	ратификация	4)	документ, удостоверяющий назначение лица дипломатическим представителем в другой стране

Задание №61

Установите соответствие между войной и мирным договором, заключённым по её окончанию

Укажите соответствие для всех 5 вариантов ответа:

1)	Русско-шведская война 1612-1617	1)	Деулинское перемирие
2)	Русско-польская война 1654-1667	2)	Поляновский мирный договор
3)	Русско-польская война 1609-1618	3)	Андрусовское перемирие
4)	Русско-турецкая война 1676-1681	4)	Столбовский мир
5)	Русско-польская война 1632-1634	5)	Бахчисарайский мирный договор

Задание №62

Соотнесите перемирия и факты, связанные с ними

Укажите соответствие для всех 5 вариантов ответа:

1)	Потеряны Ям, Копорье	1)	Деулинское перемирие
2)	1617 г.	2)	Столбовский мир
3)	Потеряны Смоленск, Чернигов		
4)	1618г.		
5)	перемирие на четырнадцать с половиной лет		

Задание №63

Установите соответствие между названием приказа и его функциями

Укажите соответствие для всех 4 вариантов ответа:

1)	Разрядный приказ	1)	распределение земель среди дворян
----	------------------	----	-----------------------------------

2)	Приказ тайных дел	2)	распределение дворян и бояр на царскую службу
3)	Поместный приказ	3)	вопросы внешней политики
4)	Посольский приказ	4)	контроль за всеми государственными учреждениями

Задание №64

Установите соответствие между событиями (процессами, явлениями) и участниками этих событий (процессов, явлений).

СОБЫТИЯ (ПРОЦЕССЫ, ЯВЛЕНИЯ)	УЧАСТНИКИ
А) подавление восстания под предводительством С.Т. Разина	1) А. Вениус
Б) основание одной из первых мануфактур в России В) походы на Амур	2) Е.П. Хабаров 3) И.А. Хованский 4) Ю.Н. Барятинский

Задание №65

Установите соответствие между событиями (процессами, явлениями) и участниками этих событий (процессов, явлений).

СОБЫТИЯ (ПРОЦЕССЫ, ЯВЛЕНИЯ)	УЧАСТНИКИ
А) подготовка Соборного уложения	1) И.А. Хованский
Б) восстание под предводительством С.Т. Разина В) русско-шведская война 1656—1658 гг.	2) И.Е. Выговский 3) Ф. Шелудяк 4) Н.И. Одоевский

Задание №66

Выберите из списка ТРИ причины народных выступлений XVII века.

Выберите несколько из 6 вариантов ответа:

1)	повышение налогов
2)	созыв Земских соборов
3)	изгнание интервентов из России
4)	бюрократическая волокита в государственном аппарате
5)	взятки чиновников

б)	предоставление льгот городскому населению
----	---

Задание №67

Выберите из списка ТРИ причины народных выступлений XVII века.

Выберите несколько из 6 вариантов ответа:

1)	частые войны
2)	закрепощение крестьян
3)	предоставление льгот священнослужителям
4)	развитие торговли
5)	покровительство властей ремесленникам
6)	усиление налогового гнета

Задание №68

Посольский приказ отвечал за

Выберите несколько из 5 вариантов ответа:

1)	вопросы внешней политики
2)	дворцовое хозяйство и имущество царя
3)	сохранность драгоценностей и вещей царской семьи
4)	освобождение военнопленных за выкуп
5)	распределение дворян и бояр на царскую службу

Задание №69

Поместный приказ отвечал за

Выберите несколько из 5 вариантов ответа:

1)	земельные пожалования дворянам и боярам
2)	многочисленные царские конюшни
3)	почтовую связь
4)	каменное строительство в городах
5)	сбор налогов с поместий и вотчин

Задание №70

Соборное уложение 1649 года впервые утвердило (л)

Выберите несколько из 5 вариантов ответа:

1)	полное право феодала на землю и зависимых крестьян
2)	пятилетний срок розыска беглых крестьян
3)	право крестьян на переход от одного хозяина к другому в Юрьев день
4)	бессрочный розыск беглых крестьян
5)	равномерное распределение земли между крестьянами

Задание №71

Выберите фамилии, связанные родословной с родом Романовых:

Выберите несколько из 6 вариантов ответа:

1)	Кошкины
2)	Троекуровы
3)	Захарьины
4)	Глинские
5)	Стародубские
6)	Юрьевы

Задание №72

Известно, что после согласия принять престол, Михаил Романов не торопился в Москву из Костромы. Каковы причины его промедления?

Выберите несколько из 6 вариантов ответа:

1)	в Москве не было подготовлено безопасного и подходящего царскому чину жилья, а также запасов в царских житницах
2)	Михаил заезжал в монастыри и подолгу оставался там н богомолье
3)	И.Заруцкий поднял мятеж в пользу Ивана «ворёнка»
4)	Михаил опасался измены со стороны бояр
5)	Он ждал освобождения отца Филарета из польского плена
6)	Он был обеспокоен шведской экспансией на северо- востоке страны и задержался в Ярославле, чтобы отдать военные распоряжения

Задание №73

27 февраля 1617 года был подписан первый в царствование Михаила Федоровича договор о вечном мире. Главная цель — возвращение Великого Новгорода с уездом — была достигнута. Вместе с ним возвращались города:

Выберите несколько из 6 вариантов ответа:

1)	Копорье
2)	Старая Русса
3)	Ивангород
4)	Порхов
5)	Ладога
6)	Ям

Задание №74

Назовите источники пополнения царской казны в первые годы правления Михаила Романова:

Выберите несколько из 6 вариантов ответа:

1)	добровольные пожертвования и подарки царской семье
2)	поступавшие в казну старые деньги переделывались «для прибыли» на новые, более легкие по весу
3)	подушная подать
4)	сбор «пятины»

5)	подворовый сбор
6)	купеческие пошлины

Задание №75

Мероприятия в церковной сфере, происходившие в период патриаршества Филарета:

Выберите несколько из 6 вариантов ответа:

1)	Исправление церковных книг
2)	Обращение в православие населения Казанского царства
3)	Борьба с «латинством»
4)	Борьба с ересью «нестяжателей»
5)	Развитие церковного книгопечатания
6)	Заключение унии с Папой римским

Задание №76

Прочитайте отрывок из сочинения историка и укажите название, дважды пропущенное в тексте.

...Король Ян Собеский, деятельный враг турок, очень рассчитывал на русскую помощь и очень желал привлечь Москву к союзу против Османской империи. Но Москва, с самой _____ находясь только в перемирии, соглашалась подать помощь лишь по заключении вечного мира. Ян Собеский согласился на вечный мир, по которому навеки уступил Москве всё, что она завоевала у _____ в XVII в. (важнее всего Киев). Этот мир был очень крупной дипломатической победой, которой Москва обязана была В.В. Голицыну.

Выберите один из 4 вариантов ответа:

1)	Швеция
2)	Речь Посполитая
3)	Дания
4)	Священная Римская империя

Задание №77

Прочитайте отрывок из сочинения историка и укажите событие, о котором идёт речь.

Долготерпение общества, наконец, истошилось, и... разразился мятеж. Восстала не только чернь, но и служилые люди. Мятеж был направлен против Морозова, Плещеева и Траханиотова. Но, конечно, эти лица были только теми каплями, которые переполнили народное терпение, — их деятельность была только искрой, которая зажгла готовый горючий материал... Одной из главных причин народного раздражения была «московская волокита» и злоупотребления приказных людей, чиновников центрального и областного управления. Эта причина коренилась не только в злой воле, не в одной деморализации московской администрации, а преимущественно в несовершенстве самого московского законодательства.

Выберите один из 4 вариантов ответа:

1)	Медный бунт
----	-------------

2)	Псковское восстание 1650 г.
3)	Соляной бунт
4)	восстание под предводительством С.Т. Разина

Задание №78

Об осаде какого города повествует В.Козляков в книге «Михаил Фёдорович»? «Посланный им десант сумел захватить часть стены: «взыдоша на стену града и башню угольную». Но в то время, когда войско стало переправляться на плотках к этому месту, осажденным удалось подложить порох и взорвать башню вместе с теми, кто ее удерживал. «Повесть о приходе свейского краля с немцами под град _____» описала урон, нанесенный шведам этим взрывом: «И в реку их вметаху; инии же на плотках в реке потоплены быша». Развивая свой успех, защитники города даже попытались организовать ответную вылазку. Королю пришлось остановить штурм, а вскоре, 17 октября, он бесславно оставил осаду : «пошел с великим стыдом, многих у него людей побили, а иные с нужи померли и побрели врозь»

Выберите один из 4 вариантов ответа:

1)	Смоленск
2)	Новгород
3)	Псков
4)	Чернигов

Задание №79

Прочитайте текст, в котором каждое предложение пронумеровано. Данный текст содержит две ошибки. Укажите номера предложений, в которых есть фрагменты, содержащие ошибки.

(1) Алексей Михайлович был третьим царём из дома Романовых. (2) В первые годы царствования Алексея Михайловича властью фактически распоряжался боярин Г.Г. Ромодановский («дядька», воспитатель царя). (3) В первое десятилетие царствования Алексея Михайловича в Москве произошёл Соляной бунт. (4) Во время бунта погибли приближённые царя Л.С. Плещеев и П.Т. Траханиотов. (5) Правительство вынуждено было пойти на уступки. (6) Во исполнение пожеланий дворянства и торговых людей в сентябре 1649 г. Земский собор утвердил свод законов — Соборное уложение.

Ответ запишите в порядке возрастания без пробелов.

Задание №80

Прочитайте текст, в котором каждое предложение пронумеровано. Данный текст содержит две ошибки. Укажите номера предложений, в которых есть фрагменты, содержащие ошибки

(1) Подписав «Вечный мир» с Речью Посполитой, Россия стала союзницей антитурецкой коалиции. (2) Эта коалиция называлась Священной лигой и состояла из Священной Римской империи, Венеции и Речи Посполитой, боровшихся с Османской империей и её вассалом — Крымским ханством. (3) В мае 1687 г. русская армия, насчитывавшая примерно 100 тысяч солдат и возглавляемая князем В.В. Голицыным, выступила из Левобережной Украины вместе с донскими и запорожскими казаками и двинулась в сторону Крыма. (4) Когда русская армия переправлялась через Конские воды, враги

подожгли степь, лишив русских лошадей пастбищ, что сделало невозможным продолжение похода. (5) В 1791 г. русское войско, увеличенное до 150 тысяч человек, вновь направилось на юг и подошло к Перекопу. (6) Однако возглавлявший поход А.Л. Ордин-Нашокин отказался брать Перекоп, так как в нём было всего три колодца с пресной водой, чего не хватило бы для армии, и решил вернуться.

Ответ запишите в порядке возрастания без пробелов.

Задание №81

Рассмотрите схему и выполните задание. Напишите имя отчество правителя России, при котором заштрихованная территория вошла в состав России.

Ответ запишите со строчной буквы без пробелов.



Задание №82

Рассмотрите карту выполните задание. Напишите название города, обозначенного на схеме цифрой «1».

Ответ запишите с заглавной буквы.




Задание №83

Напишите название государства, обозначенного на схеме цифрой «1». Ответ запишите словом со строчной буквы.



Задание №84


Какой район на карте обозначен штриховкой  ?



Выберите один из 4 вариантов ответа:

- 1) товарного производства хлеба
- 2) товарного производства льна и конопли
- 3) пушного промысла
- 4) кочевого скотоводства

Задание №85

Какой район на карте обозначен штриховкой  ?



Выберите один из 4 вариантов ответа:

- 1) товарного производства хлеба
- 2) товарного производства льна и конопли
- 3) пушного промысла
- 4) кочевого скотоводства

Задание №86

Укажите век, когда произошли события, обозначенные на схеме. Ответ запишите словом.



Задание №87

Рассмотрите схему и выполните задания. Какие суждения, относящиеся к событиям, связанным с присоединением указанных территорий, являются верными? Выберите три суждения из шести предложенных.

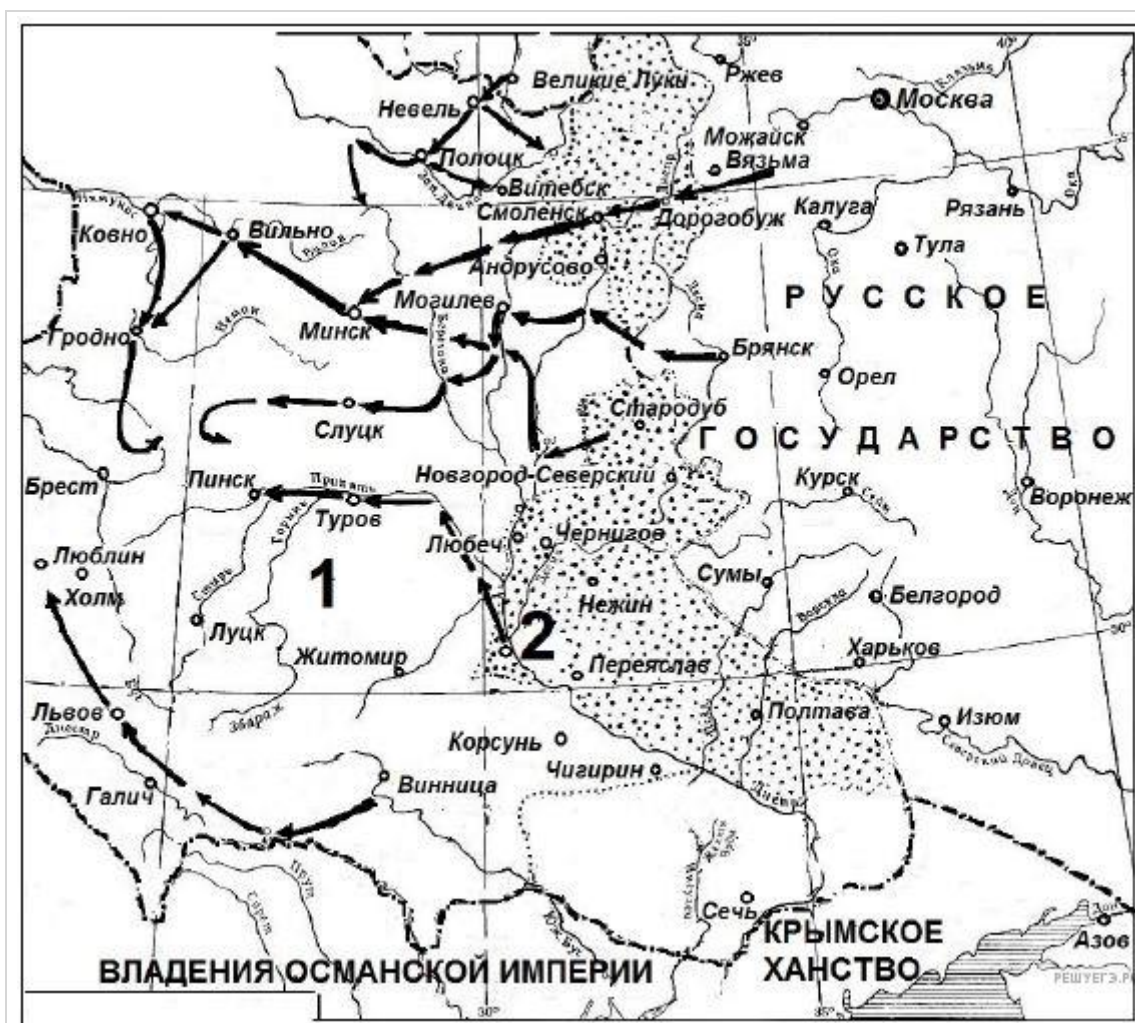


Выберите несколько из 6 вариантов ответа:

- | | |
|----|---|
| 1) | Присоединение данных территорий относится к XVII в. |
| 2) | Присоединению данных территорий способствовало восстание местных жителей против прежней власти. |
| 3) | До присоединения к России данные территории принадлежали Османской империи. |
| 4) | Указанные территории при присоединении получили автономные права. |
| 5) | Договор о признании данных территорий за Россией был заключён в Смоленске. |
| 6) | Война, которую Россия вела за эти территории, получила название Смоленской. |

Задание №88

Какие суждения, относящиеся к событиям, обозначенным на схеме, являются верными? Выберите три суждения из шести предложенных.



Выберите несколько из 6 вариантов ответа:

- | | |
|----|--|
| 1) | В тот же период, к которому относятся события войны, отображенные на схеме, Россия воевала со Швецией. |
| 2) | Современником войны, события которой отображены на схеме, был патриарх Филарет. |
| 3) | В царствование правителя Русского государства, при котором произошла война, события которой отображены на схеме, был завоёван выход в Балтийское море. |
| 4) | По условиям перемирия, завершившего данную войну, Россия должна была вернуть через два года противнику город, обозначенный на схеме цифрой «2». |
| 5) | Перемирие, завершившее войну, события которой отображены на схеме, было заключено в селении Андрусово. |
| 6) | Во время войны, события которой отображены на схеме, произошло сражение при деревне Лесной. |

Задание №89

Рассмотрите изображение и выполните задание

Какие суждения о данном изображении являются верными? Выберите два суждения из пяти предложенных.



Выберите несколько из 5 вариантов ответа:

- | | |
|----|--|
| 1) | На картине изображен И.И. Болотников |
| 2) | Этот человек возглавил самое крупное народное выступление в XVII веке |
| 3) | Изображенным человеком является С.Т. Разин |
| 4) | Это изображение посвящено русско-турецкой войне 1676-1681 годов |
| 5) | Главной причиной народного выступления, руководитель которого изображен на картине, была церковная реформа патриарха Никона. |

Задание №90

Рассмотрите изображение и выполните задание. Какие суждения о произведении русского искусства, изображённом на фотографии, являются верными? Выберите два суждения из пяти предложенных.



Выберите несколько из 5 вариантов ответа:

- | | |
|----|--|
| 1) | на фотографии изображен портрет (парсуна) царя Алексея Михайловича |
| 2) | портрет хранится в Золотых кладовых Эрмитажа |
| 3) | парсуна создана в XVII в. |
| 4) | данная форма живописи получила активное развитие в России XVIII в. |
| 5) | в руках царя, изображённого на портрете, скипетр, на его голове — держава. |

Задание №91

Рассмотрите картину Э.Э.Лиснера и укажите верные суждения.

Выберите два суждения из пяти предложенных.



Выберите несколько из 5 вариантов ответа:

- | | |
|----|--|
| 1) | Действие картины происходит на территории Московского кремля |
| 2) | Храм, изображённый в центральной части картины, построен в XVII в. |
| 3) | На картине изображён момент подавления восстания |
| 4) | Одной из причин бунта стала казнь С.Разина |
| 5) | На картине изображены события Медного бунта |

Часть С

Задание № 1. Анализ документа. Атрибуция документа. Прочитайте текст и выполните задание к нему.

Из сочинения историка.

«В Московском государстве не было собственных золотых и серебряных рудников, и драгоценные металлы ввозились из-за границы. На Денежном дворе из иностранных монет чеканили русскую монету: копейки, деньги и полушки... Затяжная война с Речью Посполитой из-за Украины потребовала огромных расходов. Усиление налогового гнёта приводило к снижению и без того невысокого уровня благосостояния населения. Чтобы найти деньги на продолжение войны, было решено выпускать медные деньги по цене серебряных. Налоги собирались серебром, а жалованье раздавалось медью.

Мелкая медная монета поначалу действительно имела хождение наравне с серебряными копейками. Однако вскоре выпуск ничем не обеспеченных медных денег, которые

чеканились в Москве, Новгороде и Пскове, стал чрезмерным. Рост цен вследствие злоупотреблений властей переполнил чашу терпения населения. Летом в Москве начался Медный бунт, в котором приняли участие посадские люди и стрельцы».

1. Назовите царя, к правлению которого относятся описанные события.
2. Укажите годы его царствования.
3. Назовите последствия события, описанного в документе.

Критерии оценивания:

Ответ на 1 вопрос- 1 балл

Ответ на 2 вопроса – 2 балла

Ответ на 3 вопроса- 3 балла

Максимальное количество баллов- 3.

Задание № 2. Анализ документа. Проанализируйте документ и выполните задание к нему.

Отрывок из челобитной.

«В прошлом, в 1641 году обратились с просьбой к государю царю и великому князю всея Руси дворяне и дети боярские из разных городов всей землей.

Убегают от них старинные их крестьяне в разные города в большие поместья и в вотчины в патриаршие, и в митрополичьи, и в архиепископские, и вразных монастырей, и в государевы дворцовые села, и в чёрные волости, и поселяются у бояр, и у окольных, и у других столичных чинов людей на льготных условиях. И те помещики, и вотчинники и монастыри тем их беглым крестьянам на пустых местах (новые) слободы строят, а их поместья и вотчины от того пустеют. И те их беглые крестьяне, прожив за теми людьми урочные годы и надеясь на этих "сильных" людей, приходя них (в прежние места), и оставшихся крестьян подговаривают уходить и даже дома их поджигают и разоряют; да (новые владельцы) с тех их беглых крестьян берут записи о ссудах и займах, чтобы надёжнее их закрепить за собой.

...А если они и узнают, у кого живут их беглые крестьяне, то и тогда они не могут добиться их выдачи в урочные годы по суду, потому что суда добиться не могут; а если кто начнет судиться, то пока дело дойдет до решения, проходит многое время, ведь бояре и окольные редко сами сидят и занимаются делами в приказах... А (тогда) урочные года проходят, то им по делу о выдаче тех крестьянах отказывают уже и без всякого суда.

Да им же (дворянам и детям боярским) указано на патриарших и на епископских управителей, и на монастыри в обидах подавать иски в суд на три сроки: на Троицын да на Семёнов день, да на рождество Христово, а им в те сроки в Москву приезжать невозможно, потому что они в то время находятся на службе. А на местах, в городах на патриарших и на епископских слуг подавать иски не разрешают, а те у них крестьян вывозят и землей их завладевают насильно и крестьянам их всякие обиды делают, а от суда уходят, потому что иски надо подавать только в указанные сроки».

1. Почему дворяне были недовольны существовавшим законом об «урочных летах»?
2. Используя текст, приведите не менее двух причин.

Критерии оценивания:

Ответ на вопрос № 1 – 1 балл

Ответ на вопрос № 2:

- приведена 1 причина- 0 балл

- приведено 2 причины – 2 балла

Максимальное количество баллов- 3