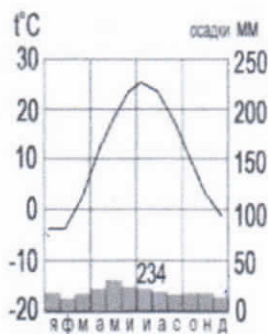


7 класс

Тестовый тур

1. Наука, изучающая природу земной поверхности, называется
а) лимнология, б) биология, в) физическая география, г) геология. +
2. Модель, уменьшенная копия Земли, - это:
а) аэрофотоснимок, б) план местности, в) глобус, г) географическая карта. +
3. Антарктиду открыл:
а) Юрий Лисянский, б) Иван Крузенштерн, в) Фаддей Беллинсгаузен, г) Руаль Амундсен. —
4. Самым верхним слоем материковой земной коры является:
а) базальтовый б) осадочный в) гранитный г) кварцевый +
5. Горная порода метаморфического происхождения – это:
а) глина, б) мрамор, в) известняк, г) гранит +
6. Используя данные климатограммы, определите верное утверждение:



- а) Среднегодовое количество атмосферных осадков составляет менее 200 мм
- б) Температуры воздуха в декабре выше, чем в мае;
- в) Максимальное количество атмосферных осадков приходится на сентябрь
- в) В течение всего года температура воздуха не опускалась ниже -5°C ; +
7. По радио передали: «Влажность воздуха в городе составляет 55%». О чем идет речь?
а) об абсолютной влажности,
 б) об относительной влажности, +
в) абсолютной и относительной влажности,
г) о повышении давления.
8. Самый жаркий материк - это
 а) Африка б) Австралия в) Южная Америка г) Антарктида +
9. Самый крупный масштаб – это:
 а) 1:10 000 +
б) 1:25 000
в) 1:40 000
г) 1:250 000
10. Материки, которые пересекаются экватором, - это:
 а) Африка и Южная Америка б) Антарктида и Евразия в) Евразия и Африка г) Южная Америка и Евразия +
11. Корабль, на котором было совершено первое кругосветное путешествие – это:
— а) «Золотая лань» б) «Надежда» в) «Санта-Мария» г) «Виктория»
12. Выберите верную пару:
+ а) Гималаи - Эверест, б) Альпы – Белуха,
в) Кавказ - Народная, г) Анды – Эверест.
13. Самый глубокий океан:
+ а) Северный Ледовитый б) Тихий в) Атлантический г) Индийский
14. Страна-рекордсмен по численности населения мира:

- а) Индия б) Россия в) США **г) Китай** +

15. Какой из указанных островов самый крупный?

- а) Сахалин б) Мадагаскар, **в) Гренландия,** г) Шри-Ланка

195




Аналитический тур

Задание №1. Прочитайте отрывок, ответьте на предложенные вопросы:

Зимой материк бывает более холодный и, следовательно, давление над ним более высокое, чем над океаном. И воздушные массы, как известно, перемещаются из областей с высоким давлением в области с пониженным давлением. В переводе с арабского языка это ветер называется «Сезон».

1. О каком ветре идет речь? *муссоны* +
 2. В каких районах страны мы можем наблюдать эти ветры? *в умеренно-широтных* —
 3. В чем проявляется их влияние на климат? *в изменении температуры* —

Задание №2. Заполнить таблицу. Соотнести: название прибора (барометр, гигрометр, осадкомер, флюгер, эхолот); единица измерения (балл, метр, миллиметр, миллиметр ртутного столба, процент). Укажите что определяют приведенные в таблице приборы.

Фотография прибора	Название прибора	Единицы измерения	Что определяет?
	<i>Осадкомер</i>	<i>метры</i>	<i>кол-во осадков</i>
	<i>Барометр</i>	<i>миллиметр ртутного столба</i>	<i>атмосферное давление</i>
	термометр <i>Гигрометр</i>	градусы С (F), Кельвин миллиметр ртутного столба	<i>влажность воздуха</i>

	<i>анемометр</i>	<i>манкинетр</i>	<i>парависный ветр</i>
	+	-	+
	<i>эхолог</i>	<i>Земл</i>	<i>Шму 250</i>
	+	-	-

5,58

Задание №3. Выберите из перечисленных названий стран те страны, название которых совпадают с названиями их столиц.

Китай, Алжир, Индия, Великобритания, Панама, США, Франция, Тунис, Бразилия, Польша.

0,58

Укажите страну, по территории которой проложен канал, соединяющий два океана.

Назовите эти океаны *Тихий и Индийский*

0,58

Задание №4. Этот мореплаватель португалец по происхождению, но сменил подданство на испанское. Его экспедиция совершила первое кругосветное плавание. В 1519-1521 гг. он руководил испанской экспедицией по поиску западного пути к Молуккским островам. Первым пересёк Тихий океан, достиг Филиппинских островов, где погиб в схватке с местными жителями. Плавание завершил другой капитан, его помощник, который, затем на своём фамильном гербе изобразивший Землю и подписавший: «Я тот, кто тебя обогнул».

Кто эти путешественники?

Фернан Магелан

10

Какие географические объекты носят имя первого мореплывателя?

Магеланов пролив

10

20

Задание №5. Третью часть материка занимают пустыни, одна из них является крупнейшей в мире, её площадь около 8 млн км².

Назовите пустыню. *Сахара*

18

О каком материке идёт речь? *Африка*

10

28

Перечислите ещё 5 пустынь этого материка

Что такое эрги и гамалы?

Сумма: 25,58

