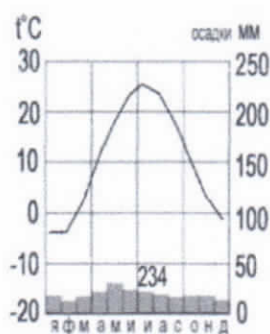


## Тестовый тур

1. Наука, изучающая природу земной поверхности, называется  
а) лимнология, б) биология,  в) физическая география,  г) геология.
2. Модель, уменьшенная копия Земли, - это:  
а) аэрофотоснимок, б) план местности,  в) глобус, г) географическая карта.
3. Антарктиду открыл:  
а) Юрий Лисянский,  б) Иван Крузенштерн, в) Фаддей Беллинсгаузен, г) Руаль Амундсен.
4. Самым верхним слоем материковой земной коры является:  
а) базальтовый  б) осадочный в) гранитный г) кварцевый
5. Горная порода метаморфического происхождения – это:  
а) глина,  б) мрамор, в) известняк, г) гранит
6. Используя данные климатограммы, определите верное утверждение:



- а) Среднегодовое количество атмосферных осадков составляет менее 200 мм
- б) Температуры воздуха в декабре выше, чем в мае;
- в) Максимальное количество атмосферных осадков приходится на сентябрь
- г) В течение всего года температура воздуха не опускалась ниже  $-5^{\circ}\text{C}$ ;
7. По радио передали: «Влажность воздуха в городе составляет 55%». О чем идет речь?  
а) об абсолютной влажности,  
 б) об относительной влажности,  
в) абсолютной и относительной влажности,  
г) о повышении давления.
8. Самый жаркий материк - это  
 а) Африка б) Австралия в) Южная Америка, г) Антарктида
9. Самый крупный масштаб – это:  
 а) 1:10 000  
б) 1:25 000  
в) 1:40 000  
г) 1:250 000
10. Материки, которые пересекаются экватором, - это:  
 а) Африка и Южная Америка б) Антарктида и Евразия в) Евразия и Африка г) Южная Америка и Евразия
11. Корабль, на котором было совершено первое кругосветное путешествие – это:  
а) «Золотая лань» б) «Надежда»  в) «Санта-Мария» г) «Виктория»
12. Выберите верную пару:  
 а) Гималаи - Эверест, б) Альпы – Белуха,  
в) Кавказ - Народная, г) Анды – Эверест.
13. Самый глубокий океан:  
а) Северный Ледовитый  б) Тихий в) Атлантический г) Индийский
14. Страна-рекордсмен по численности населения мира:

- а) Индия б) Россия в) США **г) Китай**

15. Какой из указанных островов самый крупный?

- а) Сахалин б) Мадагаскар, **в) Гренландия**, г) Шри-Ланка




Аналитический тур

Задание №1. Прочитайте отрывок, ответьте на предложенные вопросы:

Зимой материк бывает более холодный и, следовательно, давление над ним более высокое, чем над океаном. И воздушные массы, как известно, перемещаются из областей с высоким давлением в области с пониженным давлением. В переводе с арабского языка это ветер называется «Сезон».

1. О каком ветре идет речь? *сеусанонь*  
 2. В каких районах страны мы можем наблюдать эти ветры? *дальний восток / Св. Завань, Восточный и т.д.*  
 3. В чем проявляется их влияние на климат? *Зима - сухая, холоднее / лето - влажнее*

Задание №2. Заполнить таблицу. Соотнести: название прибора (барометр, гигрометр, осадкомер, флюгер, эхолот); единица измерения (балл, метр, миллиметр, миллиметр ртутного столба, процент). Укажите что определяют приведенные в таблице приборы.

| Фотография прибора  | Название прибора               | Единицы измерения  | Что определяет?                                     |
|---|--------------------------------|--|---|
|   | <i>0,5</i><br><i>осадкомер</i> | <i>0,5</i><br><i>мм</i><br><i>миллиметр.</i>   | <i>0,5</i><br><i>кол-во</i><br><i>осадков.</i>      |
|  | <i>0,5</i><br><i>барометр</i>  | <i>0,5</i><br><i>миллиметр</i><br><i>рт. ст.</i><br><i>миллиметр</i><br><i>ртутного</i><br><i>столба</i> | <i>0,5</i><br><i>атмосферное</i><br><i>давление</i> |
|  | <i>0,5</i><br><i>термометр</i> | <i>0,5</i><br><i>градусы</i>   | <i>0,5</i><br><i>влажность</i>                      |

|   |                  |             |  |
|---|------------------|-------------|--|
|   | 0,5<br>анемометр | 0<br>метр   | 0,5<br>направление<br>и силу ветра                   |
|  | 0,5<br>эхолот    | 0<br>дальн. | 0<br>силу<br>звучащего<br>сейсмический<br>активности |

**Задание №3.** Выберите из перечисленных названий стран те страны, название которых совпадают с названиями их столиц. Панама Флоренция

Китай, Алжир, Индия, Великобритания, Панама, США, Франция, Тунис, Бразилия, Польша.

Укажите страну, по территории которой проложен канал, соединяющий два океана. Панамы  
 Назовите эти океаны Тихий океан и Атлантический океан.

**Задание №4.** Этот мореплавец португалец по происхождению, но сменил подданство на испанское. Его экспедиция совершила первое кругосветное плавание. В 1519-1521 гг. он руководил испанской экспедицией по поиску западного пути к Молуккским островам. Первым пересёк Тихий океан, достиг Филиппинских островов, где погиб в схватке с местными жителями. Плавание завершил другой капитан, его помощник, который, затем на своём фамильном гербе изобразивший Землю и подписавший: «Я тот, кто тебя обогнул».

Кто эти путешественники? Фернан Магелан 1 б.

Какие географические объекты носят имя первого мореплавателя?

Магеланов пролив 1 б.

**Задание №5.** Третью часть материка занимают пустыни, одна из них является крупнейшей в мире, её площадь около 8 млн км<sup>2</sup>.

Назовите пустыню. Сахара 1 б.

О каком материке идёт речь? Африка 1 б.

Перечислите ещё 5 пустынь этого материка Калахари 2 б.

Что такое эрги и гамады?

