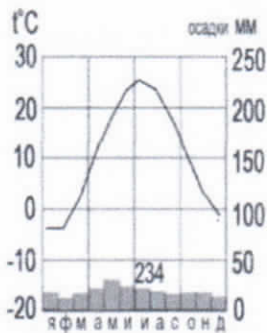


Школьный этап Всероссийской олимпиады школьников по географии

7 класс

Тестовый тур

1. Наука, изучающая природу земной поверхности, называется
а) лимнология, б) биология, в) физическая география, **г) геология.**
2. Модель, уменьшенная копия Земли, - это:
а) аэрофотоснимок, б) план местности, **в) глобус,** г) географическая карта.
3. Антарктиду открыл:
а) Юрий Лисянский, б) Иван Крузенштерн, **в) Фаддей Беллинсгаузен,** г) Руаль Амундсен.
4. Самым верхним слоем материковой земной коры является:
а) базальтовый **б) осадочный** в) гранитный г) кварцевый
5. Горная порода метаморфического происхождения - это:
а) глина, б) мрамор, в) известняк, **г) гранит**
6. Используя данные климатограммы, определите верное утверждение:



- а) Среднегодовое количество атмосферных осадков составляет менее 200 мм
б) Температуры воздуха в декабре выше, чем в мае;
в) Максимальное количество атмосферных осадков приходится на сентябрь
г) В течение всего года температура воздуха не опускалась ниже -5°C ;
7. По радио передали: «Влажность воздуха в городе составляет 55%». О чем идет речь?
а) об абсолютной влажности,
б) об относительной влажности,
в) абсолютной и относительной влажности,
г) о повышении давления.
8. Самый жаркий материк - это
а) Африка б) Австралия в) Южная Америка г) Антарктида
9. Самый крупный масштаб - это:
а) 1:10 000
б) 1:25 000
в) 1:40 000
г) 1:250 000
10. Материки, которые пересекаются экватором, - это:
а) Африка и Южная Америка б) Антарктида и Евразия в) Евразия и Африка г) Южная Америка и Евразия
11. Корабль, на котором было совершено первое кругосветное путешествие - это:
а) «Золотая лань» б) «Надежда» в) «Санта-Мария» **г) «Виктория»**
12. Выберите верную пару:
а) Гималаи - Эверест, б) Альпы - Белуха,
в) Кавказ - Народная, г) Анды - Эверест.
13. Самый глубокий океан:
а) Северный Ледовитый **б) Тихий** в) Атлантический г) Индийский
14. Страна-рекордсмен по численности населения мира:

а) Индия б) Россия в) США г) Китай +

15. Какой из указанных островов самый крупный?

а) Сахалин б) Мадагаскар, в) Гренландия, г) Шри-Ланка +




Аналитический тур



Задание №1. Прочитайте отрывок, ответьте на предложенные вопросы:

Зимой материк бывает более холодный и, следовательно, давление над ним более высокое, чем над океаном. И воздушные массы, как известно, перемещаются из областей с высоким давлением в области с пониженным давлением. В переводе с арабского языка это ветер называется «Сезон».

- 05
1. О каком ветре идет речь?
 2. В каких районах страны мы можем наблюдать эти ветры? северная
 3. В чем проявляется их влияние на климат?

Задание №2. Заполнить таблицу. Соотнести: название прибора (барометр, гигрометр, осадкомер, флюгер, эхолот); единица измерения (балл, метр, миллиметр, миллиметр ртутного столба, процент). Укажите что определяют приведенные в таблице приборы.

Фотография прибора	Название прибора	Единицы измерения	Что определяет?
	осадкомер	метр	определяет осадков
	Барометр	миллиметр	определяет давление
	гигрометр	миллиметр ртутного столба	определяет температуру

	<p>сплюгер 9,25</p>	<p>балл 9,25</p>	<p>определение ветра 9,25</p>
	<p>эхолог + 9,25</p>	<p>процент 10</p>	<p>определение пространства длина по глубине 10</p>

Задание №3. Выберите из перечисленных названий стран те страны, название которых совпадают с названиями их столиц.

Китай, Алжир, Индия, Великобритания, Панама, США, Франция, Тунис, Бразилия, Польша.

Укажите страну, по территории которой проложен канал, соединяющий два океана.

Назовите эти океаны Тихий, Атлантический, Индийский

Задание №4. Этот мореплаватель португалец по происхождению, но сменил подданство на испанское. Его экспедиция совершила первое кругосветное плавание. В 1519-1521 гг. он руководил испанской экспедицией по поиску западного пути к Молуккским островам. Первым пересёк Тихий океан, достиг Филиппинских островов, где погиб в схватке с местными жителями. Плавание завершил другой капитан, его помощник, который, затем на своём фамильном гербе изобразивший Землю и подписавший: «Я тот, кто тебя обогнул».

Кто эти путешественники? Магелан, 10

Какие географические объекты носят имя первого мореплователя?

10 Против

Задание №5. Третью часть материка занимают пустыни, одна из них является крупнейшей в мире, её площадь около 8 млн км².

Назовите пустыню. Сахара + 10

О каком материке идёт речь? Африка 10

Перечислите ещё 5 пустынь этого материка Атлас, Карахари, Замбези, Эриотское нагорье, н-ов Сомали, Аравийский н-ов.

Что такое эрги и гамады?

23 Ташта

