

**МАТЕРИАЛЫ по географии 7 класс. М3. Африка и Австралия.
(базовый уровень)**

ТЕМА	Знать	Уметь
Африка	Географическое положение, его влияние на природу материка. Общая характеристика природы. История открытия. Состав и размещение населения. Общие представления о рельефе, истории его формирования. Особенности климата и ее внутренних вод и органического мира.	Анализировать информацию. Описывать взаимосвязь органического мира и факторов неживой природы. Умение работать с различным типом карт, анализировать климатограммы. Умение определять расстояния по карте
Австралия	Географическое положение, его влияние на природу материка. Общая характеристика природы. История открытия. Состав и размещение населения. Общие представления о рельефе, истории его формирования. Особенности климата и ее внутренних вод и органического мира.	Анализировать информацию. Устанавливать причинно-следственные связи между природными компонентами. Объяснять эндемичность органического мира

1. Географическое положение.

1. Площадь Африки составляет

- а) 30,3 тыс. км²
- б) 30,3 млн. км²
- в) 303 млн

2. Крайней северной точкой материка является мыс

- а) Рас-Хафун
- б) Рас-Энгела
- в) Альмади

3. Расставьте правильно крайние точки материка

- | | |
|-------------------------|-------------------------------|
| 1 крайний северный мыс | А.) м. Альмади |
| 2 крайний восточный мыс | Б). м. Игольный |
| 3 крайний южный мыс | В). м. Рас-Энгела (Бен-Секка) |
| 4 крайний западный мыс | Г). м. Рас-Хафун |

4. Большая часть территории Африки находи

- а) экватором и северным тропиком
- б) экватором и южным тропиком

в) северным и южным тропиками

5. По размерам территории Африка уступает

- а) Евразии
- б) Северной Америке
- в) Южной Америке

6. Крайней восточной точкой материка является мыс

- а) Рас-Энгела
- б) Рас-Хафун
- в) Игольный

7. В отличие от других материков Африка пересекается

- а) южным полярным кругом
- б) нулевым меридианом

8. По размерам территории Африка уступает только:

- а. Евразия
- б. Северной Америки
- в. Северной Америке и Евразии
- г. Южной Америке

9. Особенности географического положения Африки. Найдите соответствия:

- | | |
|--|------------------|
| 1 Океан, омывающий западное побережье | а. Мозамбикский |
| 2 Крайний южный мыс материка | б. Аденский |
| 3 Канал, соединяющий Красное море со Средиземным | в. Атлантический |
| 4 Залив на востоке | г. Канарские |
| 5 Остров у северо-западного побережья | д. Сомали |
| 6 Пролив, отделяющий остров Мадагаскар | е. Игольный |
| 7 Крупный полуостров материка | ж. Суэцкий |

2. История открытий

1. Африканцы называли его миссионером, путешественником и другом человечества.

Его сердце навсегда осталось в Африке

- а. Н.И. Вавилов
- б. В.В. Юнкер
- в. Давид Ливингстон?
- г. Васко да Гама

2. Обогнул Южную Африку, открыл морской путь в Индию

- а) Васко да Гама
- б) Давид Ливингстон
- в) В.В. Юнкер

3. Пересек Южную Африку с запада на восток, исследовал реку Замбези

- а) Васко да Гама
- б) Давид Ливингстон
- в) Н.И. Вавилов

4. Португальский мореплаватель, открывший для европейцев морской путь в Индию вокруг африканского побережья:

- а. Н.И. Вавилов
- б. В.В. Юнкер
- в. Давид Левингстон
- г. Васко да Гама

5. С каким из этих двух материков связаны открытия, совершенные путешественниками и исследователями, изображёнными ниже? Укажите название материка.



Генрих Барт

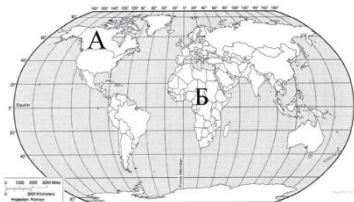


Генри Стенли



Давид Ливингстон

6. Подпишите на карте названия океанов, которые омывают берега материка, названного вами.



3. Рельеф.

1. Горы Атлас расположены
 - а) на древней платформе
 - б) в области новой складчатости
 - в) в области древней складчатости
2. В рельефе Африки преобладают
 - а) низменности
 - б) возвышенности и плоскогорья
 - в) горы
3. Какая вершина Африки выше
 - а) г. Кения
 - б) г. Тубкаль
4. В основании большей части материка лежит
 - а) область древнейшей складчатости
 - б) область новой складчатости
 - в) древняя платформа
5. Приподняты на высоту более 1000 м
 - а) Северная и Южная Африка
 - б) Южная и Восточная Африка
 - в) Северная и Западная Африка
6. Наиболее высокими горами являются
 - а) Капские
 - б) Драконовы

4. Климат

1. Соотнесите местоположение африканских территорий

- | | |
|-------------------------------|--|
| 1 горы на северо-западе | а.) восточно-африканское плоскогорье
б.) Сахара |
| 2 самая большая пустыня мира | |
| 3 залив Атлантического океана | |

4 суровая каменистая пустыня на юго-западе 5 район, где много потухших и действующих вулканов 6 высочайшая вершина материка	в.) Килиманджаро г.) Намиб д.) Атлас е.) Гвинейский
--	--

2. В каких из названных регионов выпадает менее 100 мм осадков в год?

- | | |
|-------------------------------------|--------------------|
| а. Капские горы | д. Намиб |
| б. Восточно-Африканское плоскогорье | е. Нагорье Ахаггар |
| в. Сахара | ж. Калахари |
| г. Мадагаскар | з. Горы Атлас |

3. Почему Африка- самый жаркий материк Земли?

- Африку омывает самый теплый океан Земли- Индийский
- Большая часть материка находится между тропиками
- Здесь расположены крупнейшие пустыни мира
- Здесь зарождаются раскаленные ветры — песчаные ураганы- самум.

4. О каком климатическом поясе идет речь?

«Заканчивается теплая, но сухая зима. Дождливое время наступает внезапно, саванна заливаается огромными потоками воды, болота переполняются водой, а все низины превращаются в озера»

- экваториальный
- тропический
- умеренный
- субэкваториальный

5. На большей части Африки среднегодовая t° воздуха

- от 10 до 20° С
- ниже 10° С
- выше 20° С

6. Максимальное количество осадков выпадает

- на Эфиопском нагорье
- на юго-западных склонах горы Камерун
- в бассейне реки Конго

7. Самая высокая t° на Земле (+58° С) зарегистрирована в

- Триполи
- Каире
- Алжире

8. Образование береговой пустыни Намиб связано

- с горным рельефом на побережье
- с влиянием Антарктиды
- с холодным Бенгельским течением

9. Установите соответствие

Климатический пояс

Особенности климата

- | | |
|-------------------|--|
| 1. Экваториальный | а) смена ТВМ и УВМ, жаркое сухое лето и влажная зима |
| 2. Тропический | б) жаркий и влажный в течение всего года |
| 3. Субтропический | в) жаркий, сухой, господство ТВМ |

10. Установите соответствие

Климатический пояс

Особенности климата

- | | |
|----------------------|---|
| 1. Экваториальный | а) 2 сезона: сухая зима и влажное лето, смена ЭВМ и ТВМ |
| 2. Субэкваториальный | б) постоянство, высокие t° , большая влажность |

3. Тропический

в) жаркий, сухой, большая суточная амплитуда

11. Пассатная циркуляция воздуха определяет влажность в Африке

1. обильные осадки во впадине Конго и побережье Гвинейского залива
2. Выпадение осадков зимой на северном побережье Африки
3. достаточное увлажнение на юго-востоке материка

5. Внутренние воды и природные зоны

1. Установите соответствие

Природная зона

Растения, животные

1. Экваториальные леса
2. Саванны
3. Пустыни

- а) алоэ, молочай, шакалы, гиены
- б) пальмы, эбеновое дерево, окапи, шимпанзе
- в) травы, зонтичные акации, зебры

2. Самая длинная река Африки

- а) Конго
- б) Нил
- в) Нигер

3. Выберите правильные характеристики для рек Африки, установив соответствия:

- | | |
|---|------------|
| 1 Река дважды пересекает экватор | а. Конго |
| 2 Самая длинная в Африке | б. Нил |
| 3 Река образует большую дельту | в. Замбези |
| 4 На реке находится один из крупнейших в мире водопадов | г. Нигер |
| 5 Название реки переводится как «черная» | |
| 6 Река- вторая в мире по многоводности | |
| 7 На реке построена Асуанская плотина | |
| 8 Принадлежит бассейну Индийского океана | |
| 9 Протекает через озеро Виктория | |
| 10 Река северных широт, ее устье в Гвинейском заливе | |

4. Расположите африканские озера с севера на юг

- | | |
|--------------|----------------|
| А.) Виктория | в.) Чад |
| б.) Ньяса | г.) Танганьика |

5. Установите соответствие:

- | | |
|---------------------------------------|--------------|
| 1 Сильнейший ветер пустыни | а. Чад |
| 2 Бессточное озеро | б. Вади |
| 3 Жители влажных экваториальных лесов | в. самум |
| 4 Национальный парк | г. пигмеи |
| 5 Сухие русла рек | д. Виктория |
| 6 Водопад на реке Замбези | е. туареги |
| 7 Жители пустыни | ж. Серенгети |

6. Самое длинное из пресноводных озер мира

- а) Виктория
- б) Ньяса
- в) Танганьика

7. Природная зона, занимающая 40% площади материка

- а) экваториальные леса
- б) саванны
- в) пустыни

8. Саванны в Африке занимают огромные пространства — около 40% площади. Нигде в мире нет такого скопления крупных и разнообразных животных. Из списка выберите животных саванн:

- а. леопард
- б. лев
- в. зебра
- г. термиты
- д. жираф
- е. слон
- ж. мартышки
- з. горилла
- и. носорг
- к. птица марабу

9. Выберите группу типичных растений экваториального леса Африки:

- а. эвкалипт, баобаб, акация, колбасное дерево,
- б. финиковая пальма, агавы, хлебное дерево,
- в. фикус, масличная пальма, красное дерево, банан.

10. Наиболее изменены хозяйственной деятельностью человека

- а) пустыни
- б) экваториальные леса

11. Самая полноводная река Африки

- а) Замбези
- б) Конго
- в) Нил

12. Самое большое по площади озеро

- а) Виктория
- б) Чад
- в) Танганьика

13. Самое губительное стихийное бедствие для Африки

- а) засухи
- б) наводнения

14. Сопоставь

Природная зона

- 1. Экваториальные леса
- 2. Саванны
- 3. Пустыни

Растения и животные

- а) травы, баобабы, жирафы, слоны
- б) пальмы, фикусы, лианы, гориллы, окапи
- в) колючие кустарники, ящерицы

15. Определи природную зону по фото



1.



2.



3.

6. Население. Страны

1. Какое государство Африки расположено на двух материках?

- а. Конго
- б. Египет
- в. Марокко
- г. Сомали.

2. Распределите африканские государства по регионам:

- | | |
|---------------------------------|------------|
| 1 Восточная Африка | а. Египет |
| 2 Южная Африка | б. Чад |
| 3 Северная Африка | в. Ливия |
| 4 Западная и Центральная Африка | г. Нигерия |
| | д. Алжир |
| | е. ЮАР |
| | ж. Эфиопия |
| | з. Ангола |
| | и. Намибия |
| | к. Конго |
| | л. Судан |

3. Самая крупная страна по населению

- а) Египет
- б) Нигерия
- в) ЮАР

4. Арабы, египтяне, ливийцы относятся к расе

- а) европеоидной
- б) экваториальной

5. Самая большая по площади страна Африки

- а) Алжир
- б) Египет

в) Чад

6. **Пигмеи, нилоты, тутси относятся к расе**

- а) европеоидной
- б) экваториальной

7. **О какой стране идет речь?**

«Эта страна западной Африки самая густонаселенная. Основой ее экономики является нефть. Страна богата также железной рудой, рудами цветных металлов. Южная часть государства расположена на болотистой равнине Гвинейского залива. Главная артерия страны- река Нигер. К северу леса редуют, уступая место высокотравным саваннам, их сменяют пустыни»

- а. Нигерия б. Конго в. Ангола

8. **О какой стране идет речь? Выберите из списка столицу данной страны.**

Это древнейшее государство относится к региону Восточной Африки. Находится на нагорье, в полосе разломов. Здесь часты землетрясения, кратеры потухших вулканов полуразрушены и заняты озерами. Страна сельскохозяйственная, особое место среди цитрусовых, гранатов, зерновых и других культур занимает выращивание и сбор кофе.

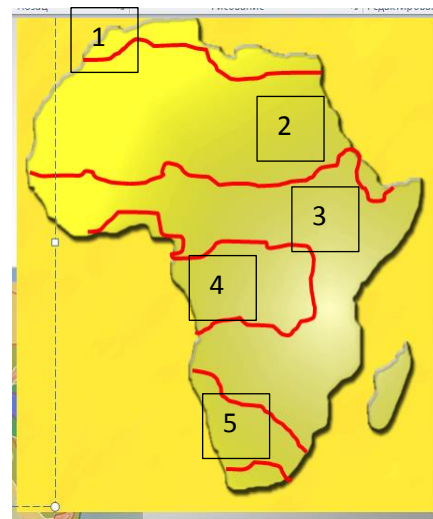
- 1 Каир
- 2 Аддис-Абеба
- 3 Киншаса

7. Умение определять расстояния по карте

1. **Определите с помощью масштаба** протяженность Африки по нулевому (Гринвичскому) меридиану
2. **Определите с помощью масштаба** протяженность Африки по северному тропику
3. **Определите с помощью масштаба** протяженность Африки по северному тропику

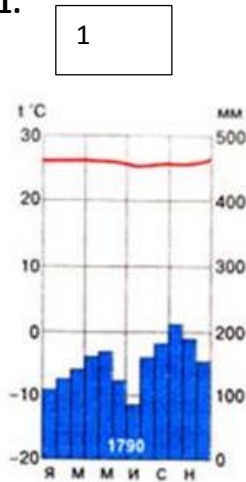
8. Работа с климатической картой, климатограммами

1. По климатической карте Африки определите **количество осадков**, выпадающих на
 - Экваторе
 - Северном тропике
 - В Драконовых горах
2. Используя климатическую карту Африки, назовите
 - Max t° Либревиля
 - Min t° Либревиля
 - Среднюю t° января г. Триполи
 - Среднюю t° июля г. Триполи
3. Назови климатические пояса, соответствующие цифрам
 - 1 и 4
 - 2и 5
 - 1и 3

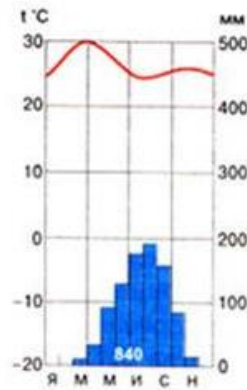


4. Определи климатический пояс и тип климата по диаграмме

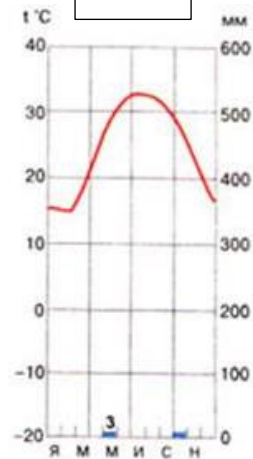
1.



2



3



5. Определи тип климата Африки по описанию:

- «В течение всего года выпадают обильные осадки и нет смены времён года. Здесь постоянный климат. Днём поверхность сильно нагревается, а после полудня идут ливневые дожди. К вечеру опять наступает ясная погода» _____
- «Для этого типа климата характерны два сезона- сухая жаркая зима и влажное жаркое лето» _____
- «Средние температуры зимой не ниже 10 °С, летом 30-35 °С. Осадков выпадает менее 100мм в год. Бывают года, когда осадков не выпадает совсем» _____

9. Австралия

1. Укажите ошибочный вариант ответа. Австралия-самый:

1. маленький материк
2. сухой материк
3. высокий материк
4. низкий материк

2. Какой город является столицей Австралийского Союза?

1. Сидней
2. Мельбурн
3. Аделаида
4. Канберра

3. Укажите ошибочное утверждение.

1. Австралию омывает на западе Индийский океан, а на востоке- Тихий.
2. Австралию омывают Тихий и Атлантический океаны.
3. У северо-западных берегов Австралии находится самый большой в мире коралловый риф.
4. Австралия расположена в Южном полушарии.

4. Кто открыл Австралию?

1. голландцы
2. англичане
3. испанцы
4. русские

5.Какая страна в XIX в. объявила Австралию своей колонией?

- 1.Голландия
- 2.Англия
- 3.Испания
- 4.Германия

6. Укажите правильное утверждение.

- 1.Австралия- единственный материк, на котором нет действующих вулканов.
2. На востоке Австралии находятся высокие и молодые горы.
- 3.Самая низкая часть Австралии находится на севере.
4. На территории Австралии много действующих вулканов и часты землетрясения

7.Какие животные изображены на гербе Австралии?

- 1.кенгуру и страус эму
2. коала и кенгуру
- 3.страус эму и утконос
- 4.собака динго и ехидна

8.Какой город Австралии самый крупный?

- 1.Сидней
- 2.Канберра
- 3.Перт
- 4.Мельбурн

9.Какая параллель пересекает Австралию посередине?

- 1.экватор
- 2.Северный тропик
- 3.Южный тропик
- 4.Южный полярный круг

10.Кто открыл Австралию?

1. А. Тасман
2. Дж. Кук
3. Ф. Магеллан
4. Х. Колумб

11.Кто с конца XVIII в. заселял и осваивал Австралию?

1. голландцы
2. англичане
3. испанцы
4. португальцы

12.В каком климатическом поясе находится большая часть Австралии?

1. в экваториальном
2. в субэкваториальном
3. в тропическом
4. в субтропическом

13.Какие животные изображены на гербе Австралии?

1. кенгуру и страус эму
2. коала и кенгуру
3. страус эму и утконос
4. собака динго и ехидна

14.Какой город Австралии самый крупный?

1. Сидней

2. Канберра
3. Перт
4. Мельбурн

15. Какая параллель пересекает Австралию посередине?

1. экватор
2. Северный тропик
3. Южный тропик

16. Кто открыл Австралию?

1. А. Тасман
2. Дж. Кук
3. Ф. Магеллан
4. Х. Колумб

17. Кто с конца XVIII в. заселял и осваивал Австралию?

1. голландцы
2. англичане
3. испанцы
4. португальцы

18. В каком климатическом поясе находится большая часть Австралии?

1. в экваториальном
2. в субэкваториальном
3. в тропическом
4. в субтропическом

19. С каким из этих двух материков связаны открытия, совершенные путешественниками и исследователями, изображёнными ниже? Укажите название материка.

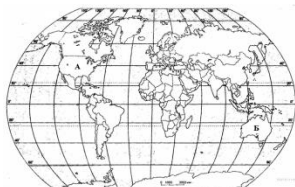


Абель Тасман



Джеймс Кук

Подпишите на карте названия океанов, которые омывают берега материка, названного вами.



20. Эндемики Австралии. Подпишите фото.

